

نام خانوادگی :	اداره کل آموزش و پرورش استان مازندران	نام :	بسمه تعالی
نام پدر :	اداره آموزش و پرورش شهرستان بهشهر	نام خانوادگی :	تاریخ امتحان : ۱۹ / ۱۰ / ۱۴۰۱
نام کلاس :	مدرسه غیردولتی خوارزمی	نام پدر :	ساعت شروع : ۸/۳۰ صبح
نام دبیر : افضلی	نوبت: دی ماه ۱۴۰۱	نام کلاس :	مدت امتحان : ۶۰ دقیقه
بایه: دوازدهم انسانی	تعداد کل سؤالات : ۱۰	بایه: دوازدهم انسانی	صفحه ۱
<b>سؤالات امتحان داخلی درس : جغرافیا</b>			

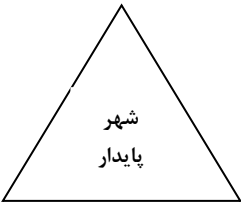
ردیف	سؤال	بارم نمره
۱	<b>درست یا نادرست بودن جملات زیر را مشخص کنید.</b> الف) منظوراز موقعیت ، مکان اصلی و دقیق سکونتگاه و محل استقرار آن روی زمین است. ب) برای مقابله با آسیب های اجتماعی در شهرها و تأمین امنیت باید علل و ریشه های آسیب ها شناسایی شود. ج) داشتن وسایل و شبکه پیشرفته حمل و نقل از عوامل قدرت ملی یک کشور محسوب می شود.	۰/۷۵
۲	<b>جاهای خالی را با کلمات کلیدی پر کنید.</b> الف) سلسله مراتب سکونتگاهها یعنی رتبه بندی آن ها بر حسب ..... ب) درآمد ، بیکاری ، مسکن نامناسب و حاشیه نشینی به ..... منجر می شود. ج) از نتایج افزایش سفر و تعداد خودروها ایجاد ..... دربرخی مسیرهاست. د) جغرافیای حمل و نقل شاخه ای از ..... محسوب می شود.	۱
۳	<b>صحیح ترین گزینه را علامت برنید.</b> ۱- مهم ترین ملاک تفاوت شهر و روستا ..... است. الف) میزان جمعیت (ب) فعالیت اقتصادی (ج) فرهنگ و مناسبات اجتماعی (د) وسعت و فضای سکونت و فعالیت ۲- طراحی صفحات خورشیدی برای تأمین برق خیابان ها مربوط به کدام یک از عناوین برنامه ریزی شهری است؟ الف) کاربری اراضی شهری (ب) آمایش سرزمین (ج) مبلمان شهری (د) هوشمند سازی ۳- کدام گزینه مزیت حمل و نقل ریلی نسبت به جاده ای را بیان می کند؟ الف) انعطاف پذیری بیشتر (ب) امنیت بیشتر (ج) احداث پایانه ارزانتر (د) احداث مسیر برای آن راحت تر ۴- هاملت یعنی سکونتگاهی که ..... الف) صندوق پست ندارد (ب) مدرسه ابتدایی دارد (ج) کلیسا ندارد (د) جمعیت بین ۱۰۰ تا ۱۵۰ نفر دارد	۱

۴	<b>سوالات جور گردنی :</b> موارد سمت راست را به موارد سمت چپ انطباق دهید ( یک کلمه اضافی است )	۱										
	<table border="1"> <tr> <td>الف) آماده کردن و آراستن</td> <td>۱- GIS</td> </tr> <tr> <td>ب) خط مخصوص عبور نابینایان</td> <td>۲- رمپ</td> </tr> <tr> <td>ج) فناوری اطلاعات و ارتباطات</td> <td>۳- آمایش</td> </tr> <tr> <td>د) عبور ویلچر در پارکها</td> <td>۴- بساواپی</td> </tr> <tr> <td></td> <td>۵- ICT</td> </tr> </table>	الف) آماده کردن و آراستن	۱- GIS	ب) خط مخصوص عبور نابینایان	۲- رمپ	ج) فناوری اطلاعات و ارتباطات	۳- آمایش	د) عبور ویلچر در پارکها	۴- بساواپی		۵- ICT	
الف) آماده کردن و آراستن	۱- GIS											
ب) خط مخصوص عبور نابینایان	۲- رمپ											
ج) فناوری اطلاعات و ارتباطات	۳- آمایش											
د) عبور ویلچر در پارکها	۴- بساواپی											
	۵- ICT											


نمره ورقه	با عدد	نمره تجدید نظر	با عدد
	با حروف		با حروف
نام و نام خانوادگی دبیر : مریم افضلی	تاریخ و امضاء	نام و نام خانوادگی دبیر :	تاریخ و امضاء

ردیف	سؤال	صفحه ۲	بارم نمره
۵	<p><b>تعیین کنید کدام یک از عوامل زیر موقعیت مناسب و کدام موقعیت نامناسب یک سکونتگاه را نشان می دهد؟</b></p> <p>الف ( مجاورت یک سکونتگاه با کوه آتشفشان : .....</p> <p>ب ( دسترسی یک شهر به شبکه ارتباطی خط آهن : .....</p> <p>ج ( مجاورت یک شهر با روستاهای پر جمعیت : .....</p> <p>د ( وجود گسل های فعال در مجاورت یک سکونتگاه : .....</p>		۱
۶	<p><b>اصطلاحات زیر را تعریف کنید.</b></p> <p>۱- شهرگرایی</p> <p>۲- وندالیم شهری</p> <p>۳- کاربری زمین</p>		۱/۵
۷	<p><b>به سؤالات زیر پاسخ کوتاه دهید.</b></p> <p>الف ( یکی از مهم ترین ارکان یک شهر پایدار و سالم چیست ؟</p> <p>ب ( کاربرد مهم کشتی های رو - رو ( RO - RO ) چیست ؟</p>		۱
۸	<p><b>در مورد مگالاپلس ها به سؤالات زیر پاسخ دهید.</b></p> <p>الف ( مگالاپلس ها در کجا و به چه شکل هایی توسعه می یابند؟</p> <p>ب ( دو نمونه از اولین مگالاپلس های جهان کدامند ؟</p> <p>ج ( برخی مگالاپلس را منطقه ..... نامیده اند.</p> <p>د ( مهم ترین ویژگی مگالاپلس را بنویسید. ( ۲ مورد )</p>		<p>۱</p> <p>۰/۵</p> <p>۰/۲۵</p> <p>۰/۵</p>
۹	<p><b>در مورد شهر هوشمند به سؤالات زیر پاسخ دهید.</b></p> <p>الف ( شهر هوشمند به چه شهری گفته می شود؟</p> <p>ب ( دو نمونه از موارد هوشمند سازی در شهرها را بیان کنید.</p>		۲
۱۰	<p><b>به سؤالات پاسخ کامل دهید.</b></p> <p>الف ( پیامدهای منفی گسترش انقلاب سبز را بنویسید.</p>		۰/۷۵

نام خانوادگی :	بسمه تعالی
نام پدر :	اداره کل آموزش و پرورش استان مازندران
نام کلاس :	اداره آموزش و پرورش شهرستان بهشهر
نام دبیر : افضلی	مدرسه غیردولتی خوارزمی
پایه: دوازدهم انسانی	نوبت: دی ماه ۱۴۰۱
تاریخ امتحان : ۱۹ / ۱۰ / ۱۴۰۱	سؤالات امتحان داخلی درس : <b>جغرافیا</b>
ساعت شروع : ۸/۳۰ صبح	تعداد کل سؤالات : ۱۰
مدت امتحان : ۶۰ دقیقه	صفحه ۳

ردیف	سؤال	بارم نمره
ادامه سؤال ۱۰	ب ( عواملی که موجب گسترش و تحول صنعت حمل و نقل شده را بنویسید.	۰/۷۵
	ج ( کاربردهای سامانه اطلاعات جغرافیایی ( GIS ) را بنویسید. ( ذکر ۳ مورد )	۱/۵
	د ( مزایای خطوط لوله را بنویسید.	۱/۵
	ه ( کشتی کروز از کدام نوع کشتی است ؟ و چه کاربردهایی دارد؟ توضیح دهید.	۱
	و ( علل وجود مشکلات روستاییان برای کشت تجاری و سود آور را بنویسید. ( ذکر ۲ مورد )	۱
	ی ( در تصویر روبه رو سه رکن اصلی شهر پایدار را بنویسید.	۰/۷۵
		
	ن ( تحلیل کنید درآمد حاصل از فروش نفت ، چگونه موجب رشد سریع شهرنشینی ایران از سال ۱۳۳۵ گردید؟	۱
جمع نمرات		۲۰
موفق باشید افضلی		

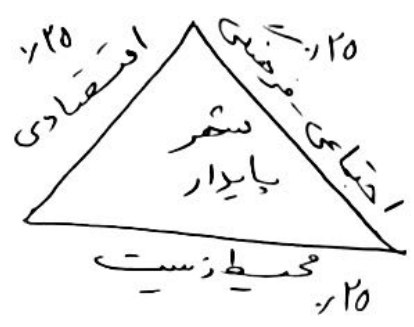
ردیف	پاسخ	بارم نمره
۱-	الف) غلط ۲۵ ب) صحیح ۲۵ ج) غلط ۲۵	۷۵ ✓
۲-	الف) اهمیت ۲۵ ب) فقر شهری ۲۵ ج) طرح ترافیکی ۲۵ د) دانش جغرافیا ۲۵	۱
۳-	۱- ب) فعالیت اقتصادی ۲۵ ۲- ج) ملباس شهری ۲۵ ۳- ب) امنیت بیشتر ۲۵ ۴- ج) نوسان زیاد ۲۵	۱
۴-	الف) ۳۱ ماس ۲۵ ب) ۴۱ سیاه پویش ۲۵ ج) ۵۱ ICT ۲۵ د) ۲۱ رمب ۲۵	۱
۵-	الف) نامناسب ۲۵ ب) مناسب ۲۵ ج) مناسب ۲۵ د) نامناسب ۲۵	۱
۶-	۱- خسارت وارد کردن به اموال عمومی، بناها و آثار فرهنگی بی از احترامات آتشی ۲۵ ۲- جلوگیری استغاده از زمین ۲۵	۱۱۵
۷-	الف) ب) حداقل رساندن آلودگی و تخریب محیط زیست ۲۵ ب) ۱- حل خودروهای صادراتی لاکسورهای سازنده به سایر کشورهاست ۲۵	۱۰
۸-	الف) ۱- در امتداد راه ارتباطی ۲۵ - ۱- خطی ۲۵ ۲- خوشه ای ۲۵ ب) ۱- مگالوپلیس زاین - شمال شرق ایالات متحده آمریکا ۲۵ ج) ۱- آنتر شهری ۲۵ ۲- ( ) تمرکز و انبوهی جمعیت شهری - تمرکز موسسات مالی و پولی ۲۵	۲۱۵
۹-	الف) ۱- شهری بردن برای امور مختلف مانند حمل و نقل ۲۵ مدیریت ترافیک مدیریت پسماند ۲۵ از فناوری اطلاعات ICT استفاده می شود ۲۵	۲
۱۰-	ب) ۱- ساختمان های شهری را به حصارها منبسط کرده است ۲۵ سوزی و تخریب را اطلاع رسانی در نواحی شلوغ حصارها می تواند تصادمات و جرم های خیابانی را به اطلاع پلیس و اورژانس برساند ۲۵ الف) ۱- فناوری های مربوط به انقلاب شهرگز است ۲- موجب گسترش بسیار می شود ۲۵ ۳- همگن سازی توانایی های مهارت دارند ۲۵ ماسک زدن ۲۵ ب) ۱- افزایش جمعیت و تقاضا برای حمل و نقل ۲- گسترش تجارت و اقتصادها ۲۵ ۳- تخریب های علمی و فناوری در تولید و سایر حمل و نقل ۲۵ ج) ۱- برنامه ریزی و مدیریت شهرها و روستاها - نابری زمین - مدیریت منابع طبیعی ۲۵	۷۵ ✓



۱۰- انتقال حجم عظیمی از مایعات به طور متباینه روزی است که بسیار مقرون به صدمه است  
 ۱- انتقال مواد از طریق لوله کمتر گسسته است آسیب می رساند.

۱۵- گسسته های مسافری - گسسته های تفریحی گردشگری هستند که مسافران را مدت کمتری در آب گردش می دهند و دوباره به مبدأ بر می گردانند. سفر با گسسته های تفریحی روزی است که گسسته های کمرون مائیکل های خرد طبقه، رستوران، سینما، استخر، زمین بازی را دارند.

۹- نداشتن مالکیت زمین کشور زمین نداشتن سرمایه لازم.



۱۱- از آنجایی بودجه کشور ما متکی به درآمد حاصل از فروش نفت است و این درآمد در دست دولت ذخیره می شود، دولت با استفاده از درآمد نفتی بهترین سرمایه گذاری ها، توسعه کارخانه ها و تجهیزات و زیرساخت ها را به کشورها اختصاص دادند.

بایستگ  
 افضلی

۲۰