

مبحث: گفتار ۱ فصل ۱ زیست یازدهم

سری: شماره ۱

زمان: ۱۵ دقیقه

۱) کدام گزینه، عبارت زیر را به طور مناسب کامل می‌کند؟

«در غشای نورون، دریچهٔ گروهی از کانال‌های دریچه‌دار در سمت غشای یاخته قرار دارد. به طور حتم، هرگاه این کانال‌ها باشند،»

- ۱) خارجی - باز - بار الکتریکی دو سوی غشای یاختهٔ عصبی متفاوت است.
- ۲) داخلی - باز - اختلاف پتانسیل دو سوی غشای یاخته به صفر نزدیک می‌شود.
- ۳) داخلی - بسته - یون‌های پتاسیم برخلاف شیب غلظت خود، از یاخته خارج می‌شوند.
- ۴) خارجی - بسته - یون‌های سدیم از طریق انتشار تسهیل‌شده به درون یاخته وارد می‌شوند.

۲) کدام گزینه در رابطه با همهٔ سلول‌های بافت عصبی انسان سالم صادق است؟

- ۱) توانایی ایجاد پتانسیل عمل در غشای خود را دارند.
- ۲) برای ثبت نوار مغزی مورد استفاده قرار می‌گیرند.
- ۳) در غشای خود دارای پروتئین‌های کانالی هستند.
- ۴) توانایی انتقال پیام عصبی را دارند.

۳) در صورت نقص در تولید مولکول‌های پر انرژی ATP در سلول عصبی حرکتی، کدام مورد قطعاً رخ می‌دهد؟

- ۱) عدم خروج یون‌های پتاسیم از سلول عصبی
- ۲) خروج بیش از حد ناقل‌های عصبی از سلول پیش‌سیناپسی
- ۳) اختلال در جابه‌جایی هر نوع یون از طریق غشا
- ۴) تغییر میزان اختلاف پتانسیل استراحت دو سوی غشای نورون

۴) در شرایط طبیعی، هر یاختهٔ بافت عصبی انسان

- ۱) در شرایطی می‌تواند به‌طور ناگهانی غلظت یون‌ها را در دو سوی غشای خود تغییر دهد.
- ۲) توانایی حفظ هم‌ایستایی مایع اطراف خود را دارد.
- ۳) در برش عرضی خود دارای بخش‌های میلیون‌دار است.
- ۴) در پی مصرف گلوکز، توانایی تولید ATP مورد نیاز خود و مصرف آن را دارد.

۵) کدام گزینه عبارت زیر را به درستی کامل می‌کند؟

«در ابتدای پتانسیل عمل، همزمان با ورود فراوان یون‌های سدیم به درون نورون

- ۱) هیچ یون پتاسیمی از نورون خارج نمی‌شود.
- ۲) پمپ‌های سدیم - پتاسیمی، ATP مصرف نمی‌کنند.
- ۳) یون‌های بار مثبت سدیمی می‌توانند از نورون خارج شوند.
- ۴) یون‌های پتاسیم نمی‌توانند به نورون وارد شوند.

۶) هر زمان میزان اختلاف پتانسیل دو سوی غشای یاختهٔ عصبی حسی 30 میلی‌ولت باشد،

- ۱) کانال‌های دریچه‌دار سدیمی همانند کانال‌های دریچه‌دار پتاسیمی، برای لحظه‌ای بسته هستند.
- ۲) یون‌های پتاسیم در جهت شیب غلظت و در خلاف شیب غلظت، در حال جابه‌جاشدن هستند.
- ۳) بلافاصله، پتانسیل درون نورون در محل پتانسیل عمل نسبت به بیرون آن شروع به کاهش یافتن می‌کند.
- ۴) بیشترین اختلاف پتانسیل الکتریکی ممکن بین دو سوی غشای یاختهٔ عصبی حسی دیده می‌شود.

۷) هر نورونی که دارد، قطعاً دارد.

- ۱) آکسون میلیون‌دار - دندریت حاوی میلیون
- ۲) آکسون فاقد میلیون - دندریت حاوی میلیون
- ۳) دندریت میلیون‌دار - آکسون حاوی میلیون
- ۴) دندریت فاقد میلیون - آکسون حاوی میلیون

۸ کدام گزینه، عبارت زیر را به طور صحیح تکمیل می کند؟

«هر نوع مولکول مرتبط با انتقال پیام که در فضای سیناپسی وجود دارد،»

- ۱ در پی اتصال به گیرنده خود در یاخته هدف، باعث تغییر در پتانسیل الکتریکی غشای نورون می شود.
- ۲ به کمک مصرف انرژی *ATP* در جسم یاخته ای نورون (های) پس سیناپسی ساخته شده است.
- ۳ در تسهیل انتقال پیام عصبی بین یاخته های پیش سیناپسی و پس سیناپسی نقش دارند.
- ۴ بروز تغییر در میزان طبیعی آن ها، از دلایل بیماری و اختلال در کار دستگاه عصبی است.

۹ چند مورد عبارت زیر را به طور نادرست تکمیل می کند؟

«در نورون حرکتی عضله دو سر بازو، هرگاه یون های سدیم از طریق کانال های پروتئینی به درون سلول وارد می شوند،»

(الف) پتانسیل الکتریکی درون سلول نسبت به بیرون در حال افزایش است.

(ب) پیام عصبی در طول غشای سلول های اصلی بافت عصبی هدایت می شود.

(ج) میزان یون های سدیم ورودی به سلول بیشتر از میزان پتاسیم خروجی از سلول می باشد.

(د) قطعاً نوعی مولکول ناقل عصبی در محل سیناپس به گیرنده های سطح این سلول متصل شده است.

- ۱ ۴ مورد
- ۲ ۳ مورد
- ۳ ۲ مورد
- ۴ ۱ مورد

۱۰ هر یاخته بافت عصبی که دارای ژن (های) لازم برای ساخت غلاف میلین می باشد،

- ۱ فاقد توانایی هدایت پیام عصبی است.
- ۲ قابلیت تولید و مصرف *ATP* را دارد.
- ۳ مولکول های ناقل عصبی را طی برون رانی ترشح می کند.
- ۴ دارای زوائد رشته مانند در اطراف خود می باشد.

۱۱ کدام گزینه، جمله زیر را به طور صحیح تکمیل می کند؟

«در زمانی که یاخته عصبی در پتانسیل آرامش قرار دارد، مصرف انرژی زیستی از غشای یاخته به صورت می گیرد.»

- ۱ انتشار یون های پتاسیم، با- میان یاخته
- ۲ آزادسازی ناقل عصبی، با- مایع بین یاخته ای
- ۳ جابه جایی یون های سدیم و پتاسیم، با- میان یاخته
- ۴ انتقال یون های سدیم، با- مایع بین یاخته ای

۱۲ در یک یاخته عصبی، در پتانسیل ممکن نیست

- ۱ آرامش - غلظت یون سدیم درون یاخته از بیرون یاخته بیش تر باشد.
- ۲ آرامش - ورود و خروج یون های سدیم به طور هم زمان مشاهده شود.
- ۳ عمل - کانال های دریچه دار سدیمی و پتاسیمی هر دو هم زمان بسته باشند.
- ۴ عمل - کانال های دریچه دار پتاسیمی در اختلاف پتانسیل ۲۵- میلی ولت باز باشند.

۱۳ یاخته ی عصبی می تواند داشته باشد.

- ۱ رابط بر خلاف یاخته ی عصبی حرکتی - چندین دارینه ی متصل به جسم یاخته ای
- ۲ رابط بر خلاف یاخته ی عصبی حرکتی - آسه با انشعابات فراوان در انتهای خود
- ۳ حسی همانند یاخته ی عصبی رابط - رشته های میلین دار در طرفین جسم یاخته ای
- ۴ حرکتی بر خلاف یاخته ی عصبی حسی - در انتقال پیام عصبی به یک یاخته ی غیرعصبی نقش

۱۴ یاخته عصبی یاخته عصبی می تواند

- ۱ حرکتی، همانند_حسی_ دارای آسه با انشعابات در انتهای خود باشد.
- ۲ رابط، برخلاف_ حرکتی_ چندین دارینه متصل به جسم یاخته ای داشته باشد.
- ۳ حسی، برخلاف_ رابط_ پیام های عصبی را به یک یاخته غیرعصبی انتقال دهد.
- ۴ حرکتی، همانند_حسی_ دارای رشته های میلین دار در طرفین جسم یاخته ای باشد.

۱۵ کدام گزینه در رابطه با هر یاخته ای که در ایجاد نوار مغزی نقش دارد، صحیح است؟

- ۱ دارای دارینه بلند و یک آسه کوتاه پیرامون جسم یاخته ای خود است.
- ۲ اطلاعات لازم برای رشد و نمو را در دِنای خود ذخیره می کند.
- ۳ پیام عصبی را در طول رشته های خود منتقل می کند.
- ۴ توسط غلافی از جنس غشای یاخته ای عایق بندی شده است.

پاسخنامه تشریحی

۱) در غشای یاخته‌های عصبی پروتئین‌های کانالی به نام کانال‌های نشستی سدیمی و کانال‌های نشستی پتاسیمی وجود دارد که همواره (چه در پتانسیل عمل و چه در پتانسیل آرامش) یون‌های سدیم و پتاسیم را در جهت شیب غلظت خود و به روش انتشار تسهیل‌شده به ترتیب به درون یاخته و خارج یاخته منتقل می‌کنند. بررسی سایر گزینه‌ها:

گزینه ۱: در پیچه کانال‌های دریچه‌دار سدیمی در سمت خارجی غشای یاخته قرار دارد. هنگام باز بودن کانال‌های دریچه‌دار سدیمی، زمانی که اختلاف پتانسیل دو سوی غشا به صفر می‌رسد، بار الکتریکی دو سوی غشای یاخته با هم یکسان بوده و تفاوتی ندارد.

گزینه ۲: در پیچه کانال‌های دریچه‌دار پتاسیمی در سمت داخلی غشای یاخته قرار دارد. هنگامی که دریچه این کانال‌ها باز می‌باشد، ابتدا اختلاف پتانسیل دو سوی غشا به صفر نزدیک شده و سپس از آن فاصله گرفته تا به پتانسیل آرامش (۷۰ میلی‌ولت) برسد.

گزینه ۳: یون‌های پتاسیم از طریق پمپ سدیم - پتاسیم و با استفاده از انرژی مولکول‌های ATP در خلاف جهت شیب غلظت خود به درون یاخته وارد می‌شوند.

۲) سلول‌های بافت عصبی شامل نورون‌ها و یاخته‌های پشتیبان هستند.

همه یاخته‌ها در غشای خود دارای کانال‌هایی برای عبور مواد هستند.

بررسی سایر گزینه‌ها:

گزینه ۱. یاخته‌های پشتیبان توانایی ایجاد پتانسیل عمل را ندارند.

گزینه ۲. برای ثبت نوار مغزی فقط از نورون‌ها استفاده می‌شود.

گزینه ۴. یاخته‌های پشتیبان توانایی انتقال پیام عصبی را ندارند.

۳) یکی از عوامل در حفظ پتانسیل استراحت غشا، پمپ سدیم - پتاسیم است. در صورت نقص در تولید ATP فعالیت این پمپ دچار اختلال می‌شود. بررسی سایر گزینه‌ها:

گزینه ۱. یون‌های پتاسیم کانال‌های نشستی و دریچه‌دار خارج می‌شود. کانال‌ها نیازی به مصرف ATP ندارند.

گزینه ۲. خروج ناقل‌های عصبی از طریق آگزوسیتوز و همراه با مصرف ATP انجام می‌شود.

گزینه ۳. جابه‌جایی همه یون‌ها نیاز به مصرف ATP ندارد.

۴) یاخته‌های بافت عصبی شامل نورون‌ها و نوروگلیاهاست.

بررسی گزینه‌ها:

گزینه ۱: نوروگلیاها قادر به تغییر ناگهانی غلظت یون‌ها در دو سوی غشای خود نیستند.

گزینه ۲: وظیفه حفظ هم‌ایستایی مایع اطراف در بافت عصبی بر عهده عده‌ای از نوروگلیاهاست نه نورون‌ها. البته همه یاخته‌ها قادر به حفظ هم‌ایستایی محیط درون خود هستند.

گزینه ۳: عده‌ای از یاخته‌های عصبی در اطراف رشته‌های خود دارای غلاف میلین هستند.

گزینه ۴: همه یاخته‌های بافت عصبی، توانایی تولید ATP مورد نیاز خود و مصرف آن هستند.

۵) بررسی گزینه‌ها:

گزینه ۱: کانال‌های نشستی پتاسیمی همیشه باز هستند و پتاسیم از این کانال‌ها به خارج نورون می‌رود.

گزینه ۲: پمپ‌های سدیم پتاسیم همیشه فعال هستند. پس همیشه ATP مصرف می‌کنند.

گزینه ۳: پمپ سدیم پتاسیم، همیشه سدیم را از نورون خارج می‌کند.

گزینه ۴: یون‌های پتاسیم همیشه از طریق پمپ وارد نورون می‌شود.

۶) اختلاف پتانسیل غشا در سه نقطه به ۳۰ میلی‌ولت می‌رسد. یک بار در قله نمودار، یک بار در مرحله بالارو و یک بار نیز در مرحله پایین‌رو نمودار پتانسیل عمل.

بررسی گزینه‌ها:

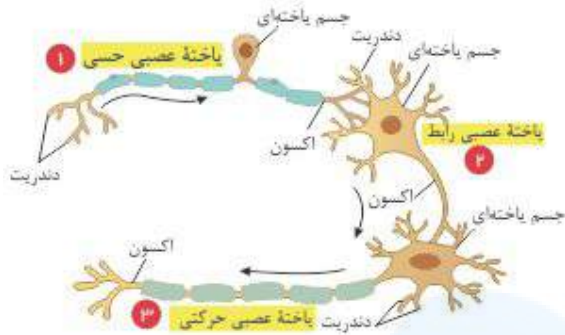
گزینه ۱: در قله نمودار هر دو کانال دریچه‌دار بسته هستند. اما در بخش بالارو کانال دریچه‌دار سدیمی و در بخش پایین‌رو کانال دریچه‌دار پتاسیمی باز است.

گزینه ۲: در یک پتانسیل عمل، کانال‌های نشستی و پمپ سدیم پتاسیم فعال هستند و یون‌های پتاسیم را موافق و مخالف شیب غلظت جابه‌جا می‌کنند.

گزینه ۳: فقط پس از قله نمودار پتانسیل داخل نسبت به بیرون غشا شروع به کاهش می‌کنند.

گزینه ۴: بیشترین اختلاف پتانسیل بین دو سوی غشا نورون هنگام پتانسیل آرامش دیده می‌شود.

۷) به شکل سه نوع نورون دقت نمایید:



۸ در فضای سیناپسی، علاوه بر ناقل عصبی، آنزیم‌هایی نیز وجود دارند که این آنزیم‌ها در تجزیه ناقل عصبی نقش دارند. اگر مقدار ناقل عصبی تغییر کند، باعث بروز بیماری در دستگاه عصبی می‌شود. همچنین تغییر در میزان این آنزیم‌ها نیز می‌تواند باعث اختلال در فعالیت دستگاه عصبی شود.

۹ دقت کنید در زمان استراحت، مرحله بالارو پتانسیل عمل و مرحله پایین‌رو پتانسیل عمل، یون‌های سدیم از طریق کانال همیشه باز (نشستی) به درون سلول وارد می‌شود.

بررسی موارد:

مورد الف) این مورد برای استراحت و مرحله پایین‌رو صحیح نیست.

مورد ب) برای حالت استراحت صحیح نیست.

مورد ج) برای حالت استراحت و پایین‌رو صحیح نیست، زیرا در این حالت میزان پتاسیم خروجی از سلول بیشتر است.

مورد د) برای زمان استراحت صادق نیست.

۱۰ هر دو نوع یاخته بافت عصبی، ژن‌های لازم برای ساخت غلاف میلین را دارند و هر دو نوع این یاخته‌ها زنده هستند و توانایی تولید و مصرف ATP را دارند.

۱۱ در پتانسیل آرامش، پروتئین انتقال‌دهنده سدیم-پتاسیم با مصرف ATP یون‌های سدیم را از میان یاخته به مایع بین‌یاخته‌ای وارد می‌کند.

بررسی سایر گزینه‌ها:

گزینه ۱: دقت کنید انتشار، انرژی مصرف نمی‌کند.

گزینه ۲: توجه کنید آزاد شدن ناقل عصبی در حین رسیدن پتانسیل عمل به پایانه آکسون صورت می‌گیرد نه پتانسیل آرامش.

گزینه ۳: دقت کنید یون‌های سدیم با مصرف انرژی از یاخته خارج می‌شود.

۱۲ ۱. غلظت یون سدیم بیرون یاخته همواره از غلظت آن درون یاخته بیش تر است.

۲. در حالت آرامش، کانال‌های نشستی به طور هم زمان یون‌های سدیم و پتاسیم را به ترتیب وارد و خارج می‌کنند.

۳. هنگام پتانسیل عمل، در قله نمودار، قبل از باز شدن کانال‌های دریچه دار پتاسیمی، کانال‌های دریچه دار سدیمی بسته می‌شوند. بنابراین در زمانی در قله نمودار هر دو کانال بسته هستند.

۴. در یک پتانسیل عمل، در بخش پایین رو نمودار، در اختلاف پتانسیل ۲۵ - میلی‌ولت، کانال‌های دریچه دار پتاسیمی باز هستند.

۱۳ یاخته‌ی عصبی حرکتی پیام عصبی را به یاخته‌های مختلف بدن از جمله غدد و ماهیچه‌ها انتقال می‌دهد اما یاخته‌ی عصبی حسی پیام عصبی را به دستگاه عصبی مرکزی انتقال می‌دهد.

بررسی سایر گزینه‌ها:

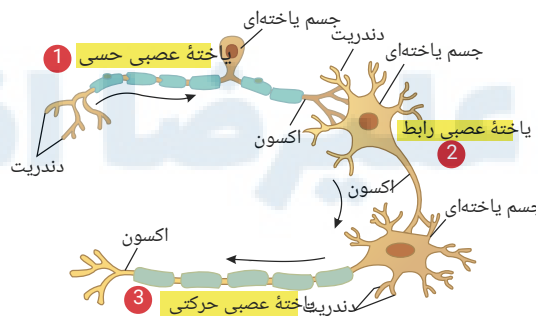
۱) هر دو یاخته رابط و حرکتی می‌توانند دارای چندین دارینه باشند.

۲) هر دو یاخته رابط و حرکتی می‌توانند دارای آسه با انشعابات فراوان در انتهای خود باشند (منظور پایانه آکسونی).

۳) فقط در یاخته عصبی حسی، می‌تواند رشته‌های عصبی دارای غلاف میلین در دو طرف جسم یاخته‌ای قرار داشته باشد.

۱۴ ۱ ۲ ۳ ۴

طبق شکل مقابل



گزینه ۱: هر یک از یاخته‌های عصبی حسی، حرکتی و رابط می‌توانند دارای انشعابات در انتهای آسه خود باشند. (پایانه آکسون)

گزینه ۲: هر دو نوع یاخته‌های عصبی رابط و حرکتی می‌توانند چندین دارینه متصل به جسم یاخته‌ای خود داشته باشند.

گزینه ۳: یاخته‌های عصبی حسی و رابط نمی‌توانند پیام عصبی را به یاخته‌های غیر عصبی منتقل کنند. اما یاخته‌های حرکتی هنگام ارتباط با یاخته‌های ماهیچه‌ای و غدد، پیام عصبی را به یاخته‌های غیر عصبی منتقل می‌کنند.

گزینه ۴: یاخته‌های عصبی حرکتی، در اطراف جسم یاخته‌ای خود، رشته‌های میلین دار ندارند. (دندریت‌ها کوتاه و بدون میلین هستند).

۱۵ ۱ ۲ ۳ ۴ نوار مغزی، جریان الکتریکی ثبت شده یاخته‌های عصبی است.

گزینه ۱: همه یاخته‌های عصبی، دارینه بلند و یک آسه کوتاه در اطراف جسم سلولی خود ندارند، مثلا یاخته‌های حرکتی در انعکاس عقب کشیدن دست دارای چندین دارینه کوتاه در اطراف جسم یاخته‌ای و یک آسه بلند هستند.

گزینه ۲: در همه یاخته‌های عصبی، اطلاعات لازم برای رشد و نمو در دناى هسته وجود دارد.

گزینه ۳: پیام عصبی در طول رشته عصبی هدایت می‌شود نه انتقال.

گزینه ۴: بسیاری از یاخته‌های عصبی دارای غلاف میلین در اطراف رشته‌های عصبی خود هستند نه همه آنها. غلاف میلین از جنس غشای یاخته‌ای است.



مرکز مشاوره تحصیلی

علیرضا افشار

مبحث: گفتار ۱ فصل ۱ زیست یازدهم

سری: شماره ۲

زمان: ۱۵ دقیقه

۱ در غشای یاخته‌های عصبی، مولکول‌های پروتئینی وجود دارند که در طی پتانسیل آرامش، یونها را از عرض غشا عبور می‌دهند و فعالیت آنها موجب می‌شود برآیند بار مثبت درون غشا کاهش یابد. دربارهٔ این مولکول‌ها، کدام گزینه صحیح است؟

- ۱ همهٔ این پروتئین‌ها، برای فعالیت خود به انرژی مولکول *ATP* نیاز دارند.
- ۲ تنها گروهی از این پروتئین‌ها، مقدار یون‌های سدیم درون یاخته را تغییر می‌دهند.
- ۳ تنها گروهی از این پروتئین‌ها از لحاظ برآیندی، تعداد یون‌های مثبت بیشتری را از سلول خارج می‌کنند.
- ۴ همهٔ این پروتئین‌ها، در تغییر غلظت یون‌های پتاسیم موجود در اطراف یاخته مؤثر هستند.

۲ چند مورد عبارت زیر را به درستی کامل می‌کند؟

«در بخش منحنی پتانسیل عمل یاخته‌های عصبی، یون‌های سدیم یون‌های پتاسیم، می‌توانند از طریق جابه‌جا شود.»

(الف) نزولی - همانند - پمپ سدیم - پتاسیم
 (ب) صعودی - برخلاف - کانال‌های یونی بدون دریچه
 (ج) نزولی - همانند - فراوان‌ترین مولکول‌های غشا
 (د) صعودی - برخلاف - کانال‌های یونی دریچه‌دار

- ۱ ۱
- ۲ ۲
- ۳ ۳
- ۴ ۴

۳ کدام عبارت در رابطه با غشای یک یاختهٔ عصبی و فعالیت عصبی آن، به درستی بیان شده است؟

- ۱ هنگامی که یاختهٔ عصبی فعالیت عصبی ندارد، مقدار یون‌ها در دو سوی غشای آن یکسان است.
- ۲ اختلاف پتانسیل دو سوی غشا، حاصل مصرف انرژی زیستی توسط همهٔ پروتئین‌های غشایی است.
- ۳ ممکن است نفوذپذیری غشا به نوعی یون وارد شده به یاخته، بیشتر از سایر یون‌ها باشد.
- ۴ برای هدایت پیام عصبی، همزمان در تمام طول آسه، تغییر نفوذپذیری رخ می‌دهد.

۴ چند مورد عبارت را به نادرستی تکمیل می‌کند؟

«در بافت عصبی انسان، یاخته‌هایی که به تعداد بیشتری وجود دارند، یاخته‌هایی که به تعداد کمتری وجود دارند،»

(الف) برخلاف - قادر به هدایت پیام عصبی در طول خود هستند.
 (ب) همانند - دارای انواع متعدد و گوناگونی هستند.
 (ج) برخلاف - می‌توانند به دور همهٔ بخش‌های یاخته‌های عصبی بیچند.
 (د) همانند - اکسیژن و مواد مغذی را از محیط زندگی خود دریافت می‌کنند.

- ۱ ۱ مورد
- ۲ ۲ مورد
- ۳ ۳ مورد
- ۴ ۴ مورد

۵ کدام گزینه عبارت زیر را به نادرستی تکمیل می‌کند؟

«هر مولکول پروتئینی غشا که در حالت یک یاختهٔ عصبی حسی،»

- ۱ پتانسیل آرامش - یون‌های سدیم یا پتاسیم را جابه‌جا می‌کند، از انرژی موجود در مولکول‌های *ATP* برای فعالیت خود استفاده می‌کند.
- ۲ پتانسیل آرامش - یون‌های سدیم و پتاسیم را برخلاف شیب غلظت آنها جابه‌جا می‌کند، میزان فسفات آزاد سیتوپلاسم را افزایش می‌دهد.
- ۳ پتانسیل عمل - یون‌های دارای بار مثبت را در جهت شیب غلظت جابه‌جا می‌کند، از انرژی موجود در مولکول‌های *ATP* استفاده نمی‌کند.
- ۴ پتانسیل آرامش - در هر بار فعالیت سه یون بار مثبت سدیم و دو یون بار مثبت پتاسیم جابه‌جا می‌کند، در طی فعالیت نورو ن همواره فعال است.

- ۶ کدام موارد، عبارت مقابل را به طور نادرست تکمیل می‌کند؟ «هر مولکول ناقل عصبی در بافت عصبی»
- الف) به گیرنده خود در سطح نورون پس‌سیناپسی متصل می‌شود.
 ب) با مصرف انرژی زیستی از بخش‌های مختلف آکسون آزاد می‌شود.
 ج) می‌تواند در بخش ماده سفید دستگاه عصبی مرکزی یافت شود.
 د) باعث بازشدن کانال‌های پروتئینی سلول پس‌سیناپسی می‌شود.

۴ ج - د

۳ الف - ب - ج

۲ الف - د

۱ ب - ج

- ۷ در دندریت یک نورون تحریک نشده در حالت آرامش
 ۱ اختلاف پتانسیل دو سوی غشا، صفر میلی‌ولت می‌باشد.
 ۲ یون‌های Na^+ از طریق کانال‌های نشتی فقط از یاخته خارج می‌شوند.
 ۳ نسبت به پایان پتانسیل عمل، در زمان تحریک، پمپ سدیم - پتاسیم انرژی زیستی کمتری مصرف می‌کند.
 ۴ اختلاف پتانسیل دو سوی غشا، به صورت اختلاف پتانسیل بیرون یاخته نسبت به درون یاخته مطرح می‌شود.

- ۸ در ارتباط با سیناپس‌ها نمی‌توان گفت که
 ۱ گیرنده در یاخته دریافت‌کننده پیام، کانالی است که با اتصال ناقل عصبی به آن باز می‌شود.
 ۲ پس از انتقال پیام، مولکول‌های ناقل باقی‌مانده، باید از فضای سیناپسی تخلیه شوند.
 ۳ هرگاه ناقل عصبی به گیرنده یاخته پس‌سیناپسی اتصال یابد، سبب تحریک یاخته پس‌سیناپسی می‌شود.
 ۴ چندین ریزکیسه حاوی ناقل عصبی به پایانه آکسون برای انتقال پیام می‌آیند.

- ۹ چند مورد، جمله زیر را به نادرستی کامل می‌کند؟
 «در مغز انسان سالم، همواره با رسیدن پیام عصبی به پایانه آکسون یک نورون،»
 الف) همه کانال‌هایی که توانایی عبور سدیم را دارند، جهت ورود یون سدیم به داخل یاخته پیش‌سیناپس، باز می‌شوند.
 ب) غلاف میلین مانع عبور یون‌های سدیم و پتاسیم از غشای پایانه آکسون می‌شود.
 ج) مولکول‌های ناقل عصبی وارد ریزکیسه‌های غشایی واقع در انتهای آکسون می‌شوند.
 د) همه گیرنده‌های سدیمی یاخته پس‌سیناپسی، موجب ورود یون‌های سدیم به داخل یاخته می‌شوند.

۴ مورد

۳ مورد

۲ مورد

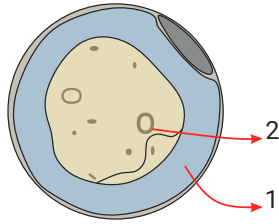
۱ مورد

- ۱۰ کدام گزینه، عبارت زیر را به طور صحیح تکمیل می‌کند؟
 «هر نوع مولکول آزادشده مرتبط با انتقال پیام از یاخته‌های موجود در فضای سیناپسی،»
 ۱ در پی اتصال به گیرنده خود در یاخته هدف، باعث تغییر در پتانسیل الکتریکی غشای نورون می‌شود.
 ۲ به کمک مصرف ATP در جسم یاخته‌ای نورون(های) پس‌سیناپسی ساخته شده‌است.
 ۳ در تسهیل انتقال پیام عصبی بین یاخته‌های پیش‌سیناپسی و پس‌سیناپسی نقش دارند.
 ۴ تغییر در میزان طبیعی آن‌ها، از دلایل بیماری و اختلال در کار دستگاه عصبی است.

- ۱۱ در قسمتی از غشای رشته عصبی که همه کانال‌های دریچه دار سدیمی و پتاسیمی بسته می‌باشند، امکان ندارد
 ۱ پتانسیل الکتریکی داخل یاخته مثبت تر از خارج آن باشد.
 ۲ یون‌های سدیم از داخل یاخته به خارج آن منتشر شوند.
 ۳ یاخته‌های پشتیبان در آن قسمت فعالیت داشته باشند.
 ۴ میزان فعالیت پمپ سدیم - پتاسیم در حداکثر مقدار خود باشد.

- ۱۲ کدام گزینه جمله زیر را به نادرستی کامل می‌نماید؟
 « در یاخته عصبی در حالت آرامش »
 ۱ یون‌های سدیم و پتاسیم از غشای یاخته عبور می‌کنند.
 ۲ نفوذپذیری غشا نسبت به یون پتاسیم بیش تر از یون سدیم است.
 ۳ از کانال‌های نشتی، یون‌های پتاسیم نمی‌توانند در جهت شیب غلظت عبور کنند.
 ۴ عملکرد پمپ سدیم - پتاسیم در منفی کردن داخل یاخته نسبت به خارج آن نقش دارد.

۱۳) با توجه به شکل بخش برخلاف یاخته (با تغییر)



- ۱) «۱» دارای بخش «۲»، پتانسیل آرامش دو سوی غشای خود را با کمک انواعی از پروتئین‌ها حفظ می‌کند.
- ۲) «۲» دارای بخش «۱»، می‌تواند متعلق به بافت عصبی باشد.
- ۳) «۲» ماهیچه اسکلتی، دارای هسته‌ای مجاور غشا می‌باشد.
- ۴) «۱» عصبی رابط، توانایی تغییر ناگهانی اختلاف پتانسیل دو سوی غشای خود را ندارد.

۱۴) زمانی که اختلاف پتانسیل دو سوی غشای نورون 70^- میلی ولت است، زمانی که اختلاف پتانسیل دو سوی غشا 30^+ میلی ولت می‌باشد، قطعا

- ۱) همانند برخی از کانال‌های دریچه‌دار سدیمی یا پتاسیمی در حال جابه‌جایی یون‌ها هستند.
- ۲) برخلاف پمپ سدیم-پتاسیم در حال فعالیت است.
- ۳) همانند یون‌های پتاسیم در جهت شیب غلظت جابه‌جا می‌شوند.
- ۴) برخلاف غلظت یون‌های پتاسیم در داخل یاخته بیشتر از خارج است.

۱۵) چند مورد عبارت زیر را به درستی کامل می‌کند؟

« در طی ثبت فعالیت یاخته‌های عصبی به دنبال قطعاً »

- الف) افزایش اختلاف پتانسیل نورون در حال استراحت - پیام عصبی در یاخته تولید و هدایت می‌شود.
- ب) باز شدن کانال‌های دریچه‌دار در قله منحنی - میزان یون پتاسیم بیرون یاخته از درون بیشتر می‌شود.
- پ) فعالیت ناقل سدیم غشایی - یون‌های مؤثر در انعقاد خون با صرف انرژی به یاخته وارد می‌شوند.
- ت) بیشترین تجمع یون‌ها در درون یاخته - کاهش اختلاف پتانسیل دو سوی غشا یاخته قابل مشاهده است.

۴ ۴

۳ ۳

۲ ۲

۱ ۱

مرکز مشاوره تحصیلی

علیرضا افشار

پاسخنامه تشریحی

۱) کانال‌های نشتی و پمپ سدیم - پتاسیم در طی پتانسیل آرامش یون‌های با بار مثبت را در عرض غشا جابه‌جا می‌کنند. کانال‌های نشتی می‌توانند به صورت مشترک هم یون‌های سدیم را به درون سلول وارد کنند و هم یون‌های پتاسیم را از سلول خارج کنند. از آنجا که نفوذپذیری غشای یاخته‌های عصبی نسبت به یون پتاسیم بیشتر است، در نتیجه برآیند تعداد یون بار مثبتی که از طریق کانال‌های نشتی از سلول خارج می‌شود، بیشتر از تعداد یون بار مثبتی است که از طریق کانال نشتی به سلول وارد می‌شود. همچنین پمپ سدیم پتاسیم، سه یون سدیم را از سلول خارج می‌کند و دو یون پتاسیم را به سلول وارد می‌کند. بررسی گزینه‌ها:

گزینه ۱: دقت کنید این مورد فقط برای پمپ سدیم - پتاسیم صحیح است.

گزینه ۲: هر دوی این پروتئین‌ها مقدار یون‌های سدیم درون یاخته را تغییر می‌دهند.

گزینه ۳: طبق توضیحات ذکر شده این مورد برای هر دوی این پروتئین‌ها صادق است.

گزینه ۴: طبق توضیحات ذکر شده هم کانال‌های نشتی و هم پمپ سدیم - پتاسیم، باعث تغییر در میزان پتاسیم خارج سلولی می‌شوند.

توجه: کانال‌های نشتی در غشای یاخته‌های عصبی می‌توانند هر دو نوع یون سدیم و پتاسیم را جابه‌جا کنند. در واقع این کانال‌ها مشترک هستند. علت نفوذپذیری بیشتر غشا نسبت به پتاسیم، نفوذپذیری بیشتر این کانال‌های نشتی به یون پتاسیم است.

۲) بررسی موارد:

مورد الف. درست. پمپ سدیم - پتاسیم همیشه فعال است و یون‌های سدیم و پتاسیم را جابه‌جا می‌کند.

مورد ب. نادرست. کانال‌های بدون دریچه و یا نشتی در همه مراحل پتانسیل عمل فعال بوده و یون‌های سدیم و پتاسیم را جابه‌جا می‌کنند.

مورد ج. نادرست. فسفولیپیدها فراوان‌ترین مولکول‌های غشا هستند. این مولکول‌ها آب‌گریزند و انتقال یون‌ها از طریق آن‌ها انجام نمی‌شود.

مورد د. درست. در بخش صعودی نمودار کانال‌های دریچه‌دار سدیمی باز و کانال‌های دریچه‌دار پتاسیمی بسته هستند.

۳) در حالت آرامش نفوذپذیری غشا نسبت به پتاسیم بیشتر از سدیم است. پتاسیم توسط پمپ سدیم پتاسیم وارد سلول می‌شود. بررسی سایر گزینه‌ها:

گزینه ۱. در حالت آرامش که یاخته عصبی فعالیت ندارد، غلظت سدیم مایع بین سلولی بیشتر از درون یاخته و غلظت پتاسیم درون یاخته بیشتر از مایع بین سلولی است.

گزینه ۲. همه پروتئین‌های غشایی ATP مصرف نمی‌کنند. از جمله کانال‌های نشتی و دریچه‌دار.

گزینه ۴. پیام عصبی به صورت نقطه به نقطه پیش می‌رود نه به صورت همزمان.

۴) یاخته‌های پشتیبان بیشترین تعداد یاخته‌های بافت عصبی و نورون‌ها کم‌ترین تعداد یاخته‌های بافت عصبی را تشکیل می‌دهند. بررسی موارد:

الف) نادرست. یاخته‌های پشتیبان قادر به ایجاد پیام عصبی نیستند، برخلاف نورون‌ها.

ب) درست. هر دو نوع یاخته دارای انواع گوناگون هستند. انواع نوروگلیا وظایف مختلفی انجام می‌دهند. نورون‌ها نیز شامل یاخته‌های حسی، حرکتی و رابطی می‌باشند.

ج) نادرست. گروهی از یاخته‌های نوروگلیا که غلاف میلین را تشکیل می‌دهند، نمی‌توانند به دور جسم یاخته‌ای بیچند. هم‌چنین برخی رشته‌های عصبی غلاف میلین ندارند.

د) درست. همه یاخته‌های زنده برای تأمین انرژی مورد نیاز خود به اکسیژن و مواد غذایی احتیاج دارند.

۵) بررسی گزینه‌ها:

گزینه ۱: کانال‌های نشتی سدیم یا پتاسیم را جابه‌جا می‌کنند؛ اما ATP مصرف نمی‌کنند.

گزینه ۲: پمپ سدیم پتاسیم یون‌های سدیم و پتاسیم را خلاف شیب غلظت جابه‌جا می‌کنند. این پمپ با هیدرولیز ATP میزان ADP و P را افزایش می‌دهد.

گزینه ۳: در پتانسیل عمل، کانال‌های نشتی و دریچه‌دار یون‌های مثبت را جابه‌جا می‌کنند؛ ولی هیچ‌کدام از انرژی ATP استفاده نمی‌کنند.

گزینه ۴: در پتانسیل آرامش پمپ‌های سدیم پتاسیم سه یون سدیم و دو یون پتاسیم را جابه‌جا می‌کنند. این پمپ‌ها همیشه فعال هستند.

۶) همه مولکول‌های ناقل عصبی (چه مهارتی و چه تحریکی) باعث تغییر اختلاف پتانسیل الکتریکی دو سوی غشای سلول پس‌سیناپسی می‌شوند و این مورد از طریق باز شدن گروهی از پروتئین‌های کانالی سلول انجام می‌شود. بررسی مواد نادرست:

مورد الف) دقت کنید ممکن است سلول پس‌سیناپسی، نورون نباشد.

مورد ب) ناقل عصبی فقط از پایانه آکسونی آزاد می‌شود.

مورد ج) برخی مولکول‌های ناقل عصبی ممکن است خارج از دستگاه عصبی مرکزی باشند، مانند سیناپس‌هایی که با ماهیچه‌های اسکلتی ایجاد می‌شود.

۷) بررسی گزینه‌ها:

گزینه ۱: در یک نورون در حالت آرامش، اختلاف پتانسیل ۲ سوی غشاء در حدود $-70mV$ می‌باشد.

گزینه ۲: در حالت آرامش، کانال‌های نشتی، یون‌های Na^+ را وارد یاخته و یون‌های K^+ را از یاخته خارج می‌کنند.

گزینه ۳: فعالیت پمپ سدیم - پتاسیم در پایان پتانسیل عمل بیشتر از پتانسیل آرامش نورون تحریک نشده است. بنابراین در پایان پتانسیل عمل انرژی بیشتری مصرف می‌کند.

گزینه ۴: اختلاف پتانسیل دو سوی غشا در حالت آرامش و عمل براساس اختلاف پتانسیل درون یاخته نسبت به بیرون یاخته سنجیده می‌شود.

۸) براساس این‌که ناقل عصبی تحریک‌کننده یا بازدارنده باشد، یاخته پس‌سیناپسی تحریک، یا فعالیت آن مهار می‌شود. پس لزوماً نمی‌توان گفت سبب تحریک یاخته پس‌سیناپسی می‌شود. بررسی موارد:

۹) همه موارد نادرست است. ۱ ۲ ۳ ۴

بررسی موارد:

مورد الف) کانال‌های سدیمی در غشای نورون دو نوع هستند: کانال‌های نشتی که همیشه بازند و کانال‌های دریچه‌دار که در زمان پتانسیل عمل باز می‌شوند. مورد ب) پایانه آکسونی غلاف میلین ندارد و ضمناً نورون رابط فاقد میلین است. مورد ج) می‌تواند ناقل عصبی در جسم یاخته‌های عصبی تولید و درون ریزکیسه‌ها ذخیره شود؛ سپس در طول آکسون هدایت‌شده تا به پایانه آکسونی برسد. مورد د) که ناقل عصبی ممکن است یاخته پس‌سیناپسی را تحریک یا مهار کند. ورود یون‌های سدیم به داخل یاخته، باعث تحریک یاخته می‌شود.

۱۰) در فضای سیناپسی، علاوه بر ناقل عصبی، آنزیم‌هایی نیز آزاد می‌شوند که این آنزیم‌ها در تجزیه ناقل عصبی نقش دارند. آنزیم‌ها از یاخته‌ها ترشح می‌شوند. اگر مقدار ناقل عصبی تغییر کند، باعث بروز بیماری در دستگاه عصبی می‌شود. همچنین تغییر در میزان این آنزیم‌ها نیز می‌تواند باعث اختلال در فعالیت دستگاه عصبی شود. ناقل‌های عصبی با مصرف انرژی جسم یاخته‌ای، یاخته‌های پیش‌سیناپسی ساخته می‌شود و به گیرنده خود در غشای یاخته پس‌سیناپسی متصل می‌شوند.

۱۱) قسمت‌هایی از رشته عصبی که در حالت آرامش و یا در قله نمودار پتانسیل عمل باشند، هر دو کانال دریچه‌دار سدیمی و پتاسیمی بسته هستند.

۱. در قله نمودار پتانسیل عمل، پتانسیل الکتریکی داخل یاخته مثبت تر از بیرون است.

۲. غلظت یون‌های سدیم بیرون یاخته همیشه از درون آن بیش تر است. پس هیچگاه سدیم از درون به بیرون یاخته منتشر نمی‌شود.

۳. یاخته‌های پشتیبان در هر کجا نورون‌ها وجود داشته باشند می‌توانند نقش دفاع یا پشتیبانی را ایفا کنند.

۴. پس از پایان پتانسیل عمل و در پی بسته شدن کانال‌های دریچه دار پتاسیمی، فعالیت پمپ سدیم پتاسیم به حداکثر خود می‌رسد.

۱۲) ۱. در یک یاخته عصبی در حالت آرامش، یون‌های سدیم و پتاسیم از طریق کانال‌های نشتی غشا جابه جا می‌شوند.

۲. در حالت آرامش، نفوذپذیری غشا نسبت به یون پتاسیم بیش تر از یون سدیم است. در واقع یون پتاسیم خارج شده از سلول بیش از یون‌های سدیم وارد شده وارد شده به سلول از طریق کانال‌های نشتی است.

۳. در حالت آرامش کانال‌های نشتی، یون‌های پتاسیم را در جهت شیب غلظت جابه جا می‌کنند.

۴. پمپ سدیم پتاسیم با هر بار فعالیت خود، ۳ یون سدیم با بار مثبت به خارج و ۲ یون پتاسیم با بار مثبت وارد سلول می‌کند. این عمل باعث می‌شود در هر بار فعالیت پمپ یک بار مثبت به بیرون یاخته اضافه شود. در نتیجه تعداد بار مثبت بیرون افزایش می‌یابد.

۱۳) بخش ۱، در شکل مقابل، نورولگیا و بخش ۲، بخشی از نورون است.

گزینه ۱: در نورون پتانسیل آرامش در دو سوی غشای نورون توسط پروتئین‌هایی حفظ می‌شود.

گزینه ۲: هر دو نوع یاخته مربوط به بافت عصبی است.

گزینه ۳: در نورون، هسته در بخش مرکزی جسم یاخته‌ای قرار دارد. اما در یاخته‌های ماهیچه اسکلتی، هسته‌ها در مجاور غشا هستند.

گزینه ۴: یاخته‌های پشتیبان بر خلاف نورون‌های رابط توانایی تغییر پتانسیل ناگهانی دو سوی غشا خود و یا ایجاد پتانسیل عمل را ندارند.

۱۴) گزینه ۱: در اختلاف پتانسیل ۷۰- میلی ولت، کانال‌های دریچه‌دار سدیمی و پتاسیمی بسته هستند.

گزینه ۲: پمپ‌های سدیم و پتاسیم همیشه فعال هستند.

گزینه ۳: کانال‌های همیشه باز سدیمی و پتاسیمی همیشه فعال هستند. و در نتیجه یون‌های سدیم و پتاسیم را در جهت شیب غلظت جابجا می‌کنند.

گزینه ۴: همواره غلظت یون‌های پتاسیم در داخل یاخته بیش تر از بیرون آن است.

۱۵) تنها مورد چهارم به درستی بیان شده است. ۱ ۲ ۳ ۴

بررسی موارد:

مورد الف) در هنگام پتانسیل عمل، از ۷۰- تا صفر، اختلاف پتانسیل بین دو سوی غشای نورون که به اندازه ۷۰ است، کاهش می‌یابد. بنابراین اگر نورونی در حال استراحت باشد، با تحریک شدن آن و ایجاد پیام عصبی، اختلاف پتانسیل دو سوی غشا کاهش می‌یابد.

حال افزایش اختلاف پتانسیل نورون در حال استراحت به معنای مهار شدن نورون است که تولید پیام عصبی را در پی نخواهد داشت.

مورد ب) در نوک قله منحنی، در مدت زمان بسیار کوتاهی هر دو نوع کانال‌های دریچه‌دار بسته می‌شوند و پس از آن کانال‌های دریچه‌دار پتاسیمی باز شده و پتاسیم به بیرون یاخته سرازیر می‌شود. اما توجه کنید که در تمامی شرایط و در هر قسمتی از منحنی، همواره میزان سدیم در بیرون و میزان پتاسیم در درون یاخته بیشتر می‌باشد.

مورد پ) فعالیت پمپ‌های غشایی موجب می‌شود یون سدیم به بیرون و یون پتاسیم به درون یاخته با صرف انرژی زیستی آورده شوند. در طی فرآیند انعقاد خون، از عوامل مورد نیاز برای ایجاد لخته خون ویتامین K می‌باشد؛ نه یون پتاسیم.

مورد ت) بیشترین تجمع یون‌ها درون یاخته در قله منحنی و پس از باز شدن کانال‌های دریچه‌دار سدیمی رخ داده است. بلافاصله پس از قله منحنی، اختلاف پتانسیل دو سوی غشای نورون کاهش و به سمت صفر میل می‌کند.

مبحث: گفتار ۱ فصل ۱ زیست یازدهم

سری: شماره ۳

زمان: ۱۵ دقیقه

۱) کدام گزینه عبارت زیر را به نادرستی تکمیل می‌کند؟

«هر نوع از پروتئین‌های غشایی در یاختهٔ عصبی حرکتی که در مرحلهٔ نمودار پتانسیل عمل، موجب اختلاف غلظت یون سدیم بین دو سوی غشا شود»

- ۱) صعودی - کاهش - در جهت حفظ پتانسیل آرامش و ممانعت از تغییر پتانسیل عمل نقش دارد.
- ۲) صعودی - افزایش - در پایان پتانسیل عمل در بازگرداندن شیب غلظت یون‌های سدیم و پتاسیم به حالت آرامش نقش دارد.
- ۳) نزولی - کاهش - یون‌ها را بدون مصرف انرژی زیستی در جهت شیب غلظت جابه‌جا می‌کند.
- ۴) نزولی - افزایش - در هر زمان یون‌هایی را با صرف انرژی زیستی درخلاف جهت شیب غلظت جابه‌جا می‌کند.

۲) در یک نقطهٔ خاص از غشای یک نورون، در پی بخشی از مراحل فعالیت این یاخته که مشاهده می‌شود، فعالیت منجر به خواهد شد.

- ۱) بیشترین میزان مصرف ATP توسط پمپ سدیم پتاسیم - پمپ سدیم پتاسیم - ایجاد اختلاف پتانسیل آرامش
- ۲) بیشترین تعداد یون‌های بار مثبت در سیتوپلاسم - گروهی از کانال‌های یونی - کاهش اختلاف پتانسیل دو سوی غشا
- ۳) بیشترین غلظت یون‌های پتاسیم در مایع اطراف یاختهٔ عصبی - کانال‌های نشتی - ورود یون‌های پتاسیم به سیتوپلاسم
- ۴) کمترین مقدار اختلاف پتانسیل الکتریکی در دو سوی غشا - بیشتر پمپ سدیم پتاسیم - غلظت یون‌های سدیم در یاخته

۳) چند مورد، عبارت زیر را به درستی تکمیل می‌کند؟

«هر یاختهٔ بافت عصبی که در مراکز نظارت بر فعالیت‌های بدن وجود دارد،
الف) دارای یک آکسون خروجی از جسم یاخته‌ای است.
ب) در پی اتصال به ناقل‌های عصبی تحریکی، پیام عصبی تولید می‌کند.
ج) در ساختار غشای یاخته‌ای خود، پروتئین‌های انتقال‌دهندهٔ یون‌ها را دارد.
د) در ساختار خود، دارای بخش‌هایی با توانایی هدایت پیام عصبی می‌باشد.»

- ۱) مورد
- ۲) ۲ مورد
- ۳) ۳ مورد
- ۴) ۴ مورد

۴) کدام عبارت به نادرستی بیان شده است؟

- ۱) افزایش بیش از حد فعالیت آنزیم‌های تجزیه‌کنندهٔ مولکول‌های ناقل عصبی، می‌تواند باعث ایجاد بیماری در دستگاه عصبی شود.
- ۲) به دنبال تولید مولکول‌های ناقل عصبی توسط ریزکیسه‌های درون یاختهٔ پیش‌همایه‌ای، ریزکیسه‌ها در طول آسه هدایت می‌شوند.
- ۳) آزادسازی ناقل عصبی از یاختهٔ پیش‌همایه‌ای و اتصال به گیرنده‌اش، همواره سبب تغییر اختلاف پتانسیل دو سوی غشای یاختهٔ پس‌همایه‌ای می‌شود.
- ۴) یاختهٔ پیش‌همایه‌ای ممکن است در سطح غشای سلولی خود، دارای گیرنده‌های کانالی پروتئینی برای مولکول‌های ناقل عصبی باشد.

۵) در دستگاه عصبی انسان، یاختهٔ عصبی می‌تواند داشته باشد.

- ۱) رابط همانند یاختهٔ عصبی حرکتی - چندین دندریت متصل به جسم یاخته‌ای
- ۲) رابط برخلاف یاختهٔ عصبی حسی - آکسونی با انشعابات فراوان در انتهای خود
- ۳) حرکتی همانند یاختهٔ عصبی رابط - همواره رشته‌های میلین‌دار در اطراف جسم سلولی
- ۴) حسی برخلاف یاختهٔ عصبی حرکتی - در انتقال پیام عصبی به یک یاختهٔ غیرعصبی نقش

۶ بین نوعی یاختهٔ عصبی و یاختهٔ دیگری، سیناپس تشکیل شده است. انرژی ذخیره شده درون مولکول‌های ATP به‌طور قطع صرف خواهد شد.

- ۱ ورود یون‌های سدیم به یاختهٔ غدد پس‌سیناپسی
- ۲ اتصال مولکول ناقل عصبی به گیرندهٔ ویژه‌اش
- ۳ بازشدن دریچهٔ کانال‌های پروتئینی غشا
- ۴ برقراری حالت آرامش در غشای سلول عصبی

۷ نمی‌توان گفت،

- ۱ در همهٔ نورون‌های حسی، بخش دندریتی بلندتر از بخش آکسونی است.
- ۲ در حالت آرامش نورون، یون‌های پتاسیم هم از غشا خارج می‌شوند و هم داخل می‌شوند.
- ۳ هدایت پیام عصبی در رشته‌های عصبی میلین‌دار از رشته‌های بدون میلین هم‌قطر سریع‌تر است.
- ۴ تعداد کانال‌های نشستی پتاسیمی نسبت به کانال‌های نشستی سدیمی در غشا بیشتر است.

۸ کدام عبارت، دربارهٔ هر ناقل عصبی تحریک‌کنندهٔ ماهیچه‌های بدن انسان درست است؟

- ۱ پس از انتقال پیام، توسط آنزیم‌هایی تجزیه می‌گردد.
- ۲ در پایانهٔ آکسون یاختهٔ پیش‌سیناپسی تولید می‌گردد.
- ۳ به جایگاه ویژهٔ خود در درون یاختهٔ پس‌سیناپسی متصل می‌شود.
- ۴ از طریق تأثیر بر نوعی پروتئین کانالی، باعث بازشدن آن می‌گردد.

۹ در یک یاختهٔ عصبی رابط هنگامی که یون‌های سدیم از طریق پروتئین‌های غشایی به درون یاخته وارد می‌شوند، به‌طور حتم

- ۱ پتانسیل بار الکتریکی درون یاخته نسبت به بیرون مثبت‌تر می‌شود.
- ۲ اختلاف پتانسیل الکتریکی دو سوی غشا به‌طور ناگهانی تغییر می‌کند.
- ۳ یون‌های پتاسیم با صرف انرژی مولکول وارد یاخته می‌شوند.
- ۴ شیب غلظت یون‌های سدیم و پتاسیم با حالت آرامش متفاوت است.

۱۰ کدام گزینه، در رابطه با فراوان‌ترین یاخته‌های زندهٔ موجود در بافت عصبی درست است؟

- ۱ این یاخته‌ها سبب افزایش سرعت انتقال پیام می‌شوند.
- ۲ یون‌های مختلف توانایی عبور از غشای آن‌ها را دارند.
- ۳ تولید پیام عصبی در این یاخته‌ها، وابسته به جابه‌جایی یون سدیم و پتاسیم است.
- ۴ در تولید پیام عصبی در این یاخته‌ها، بازشدن کانال‌های دریچه‌دار سدیمی مقدم بر کانال‌های دریچه‌دار پتاسیمی است.

۱۱ در طی پتانسیل عمل در یک نقطه از یاخته عصبی حرکتی، بلافاصله پس از کانال‌های دریچه‌دار ، قطعاً

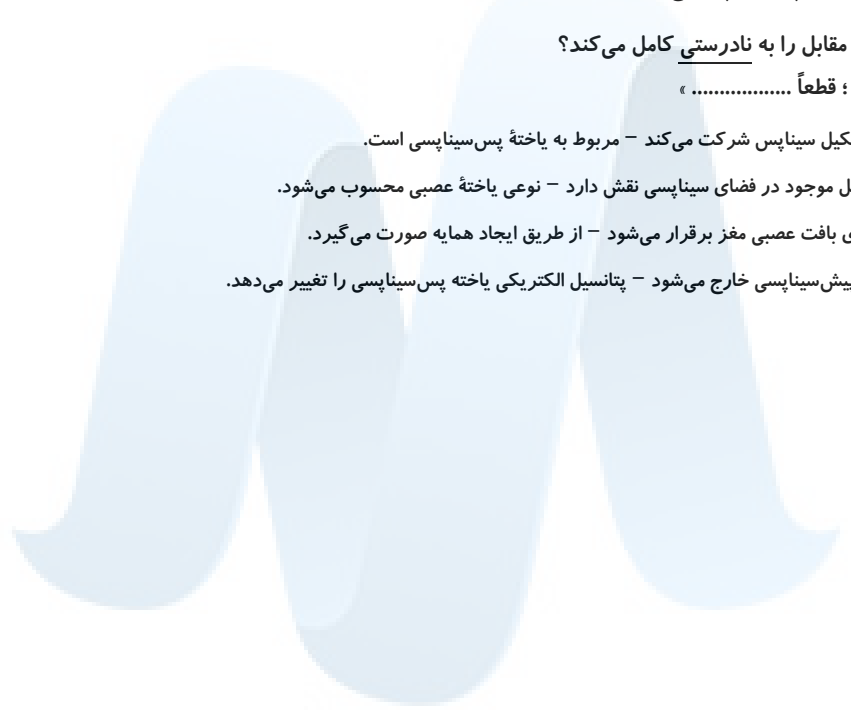
- ۱ باز شدن - سدیمی - مقدار اختلاف پتانسیل دو سوی غشا افزایش می‌یابد.
- ۲ بسته شدن - سدیمی - ورود یون‌های سدیم در جهت شیب غلظت به درون یاخته متوقف می‌شود.
- ۳ بسته شدن - پتاسیمی - فعالیت پروتئین تجزیه‌کنندهٔ ATP در غشا جهت جابه‌جایی یون‌های سدیم و پتاسیم بیشتر می‌شود.
- ۴ باز شدن - پتاسیمی - افزایش تبادل غیرفعال گروهی از یون‌های مثبت، باعث برقراری حالت آرامش می‌شود.

۱۲ ، بدین ترتیب انتقال پیام عصبی از یک نورون به یاخته پس‌سیناپسی رخ می‌دهد.

- ۱ به دنبال ادغام وزیکول‌ها با غشای یاخته‌ای، پتانسیل عمل به پایانهٔ آکسونی می‌رسد.
- ۲ هم‌زمان با رسیدن پتانسیل عمل به پایانهٔ آکسونی، ناقل‌های عصبی از طریق کانال‌های یونی به فضای سیناپسی آزاد می‌شوند.
- ۳ هم‌زمان با رسیدن پتانسیل عمل به پایانهٔ آکسونی، وزیکول‌های حاوی ناقل‌های عصبی به فضای سیناپسی وارد می‌شوند.
- ۴ به دنبال آزاد شدن ناقل‌های عصبی به فضای سیناپسی، گیرنده‌های سطح یاخته پس‌سیناپسی تغییر شکل فضایی می‌دهند.

۱۳ در دستگاه عصبی انسان، به دنبال اینکه عصبی به می‌رسند، قطعاً می‌شوند.

- ۱ پیام‌های - نورون‌های پس‌سیناپسی - ناقل‌های عصبی، فقط بازجذب
- ۲ ناقل‌های - یاخته‌های پس‌سیناپسی - یاخته‌های پس‌سیناپسی، تحریر
- ۳ پیام‌های - پایانه‌های آکسونی - ریز کیسه‌های حاوی ناقل‌های عصبی به فضای سیناپسی، وارد
- ۴ ناقل‌های - یاخته‌های پس‌سیناپسی - این یاخته‌ها دچار تغییر در اختلاف پتانسیل الکتریکی در دو سوی غشای خود

۱۴) به هنگام ثبت منحنی پتانسیل الکتریکی دو سوی غشا یاختهٔ عصبی،


- ۱) هر زمانی که پتانسیل بیرون غشا نسبت به درون منفی باشد، یاختهٔ عصبی به طریقی تحریک شده است.
- ۲) پس از رسیدن اختلاف پتانسیل دو سوی غشا به ۷۰، پمپ‌های غشایی شروع به افزودن بر میزان فسفات آزاد میان‌یاخته می‌کنند.
- ۳) کانال‌های بدون دریچهٔ غشا یاخته نیز می‌توانند یون‌های مثبت و منفی را بدون مصرف انرژی جابجا کنند.
- ۴) با فعالیت بیشتر پمپ‌های سدیم - پتاسیم، خروج گروهی از یون‌ها منجر به رسیدن یاخته به پتانسیل آرامش می‌شود.

۱۵) کدام گزینه عبارت مقابل را به نادرستی کامل می‌کند؟

«می‌توان گفت ؛ قطعاً»

- ۱) جسم یاخته‌ای که در تشکیل سیناپس شرکت می‌کند - مربوط به یاختهٔ پس‌سیناپسی است.
- ۲) یاخته‌ای که در جذب ناقل موجود در فضای سیناپسی نقش دارد - نوعی یاختهٔ عصبی محسوب می‌شود.
- ۳) ارتباطی که بین یاخته‌های بافت عصبی مغز برقرار می‌شود - از طریق ایجاد همایه صورت می‌گیرد.
- ۴) ناقل عصبی که از یاختهٔ پیش‌سیناپسی خارج می‌شود - پتانسیل الکتریکی یاخته پس‌سیناپسی را تغییر می‌دهد.

مرکز مشاوره تحصیلی

علیرضا افشار

پاسخنامه تشریحی

۱) انتقال فعال موجب افزایش اختلاف غلظت یون‌ها بین دو سوی غشا می‌شود و انتشار تسهیل شده موجب کاهش اختلاف غلظت یون‌ها بین دو سوی غشاء می‌شود. کانال‌های دریچه‌دار سدیمی و کانال‌های نشتی در غشای یاخته موجب کاهش اختلاف غلظت یون سدیم می‌شود. کانال‌های دریچه‌دار سدیمی و کانال‌های نشتی در مرحله صعودی پتانسیل عمل موجب می‌شوند که اختلاف غلظت سدیم در دو سمت غشای یاخته کم شود. علاوه بر کانال‌های نشتی، پمپ سدیم - پتاسیم نیز در حفظ پتانسیل عمل و ممانعت از تغییر پتانسیل عمل نقش دارد. در هر بار فعالیت پمپ سدیم - پتاسیم، مقدار بار مثبت درون یاخته کاهش می‌یابد. بررسی سایر گزینه‌ها:

گزینه‌های ۲ و ۴: تنها پمپ سدیم - پتاسیم می‌تواند موجب افزایش اختلاف غلظت یون سدیم به دو سوی غشا یاخته شود. پمپ سدیم - پتاسیم در مرحله پس از پتانسیل عمل در بازگرداندن شیب غلظت یون‌های سدیم و پتاسیم به حالت آرامش نقش دارد. پمپ سدیم - پتاسیم همواره فعالیت دارد و دو نوع یون سدیم و پتاسیم را در خلاف جهت شیب غلظت با صرف انرژی جابه‌جا می‌کند.

گزینه ۳: در مرحله نزولی پتانسیل عمل تنها کانال‌های نشتی موجب کاهش اختلاف غلظت بین دو سوی غشا می‌شوند. کانال‌های نشتی همواره در حال فعالیت‌اند و بدون مصرف انرژی ATP یون‌ها را در جهت شیب غلظت جابه‌جا می‌کنند.

۲) بیشترین میزان سدیم یاخته زمانی است که کانال‌های دریچه‌دار سدیمی باز می‌شوند و سدیم از مایع بین‌سلولی وارد یاخته می‌شود. در پی این عمل کانال‌های دریچه‌دار پتاسیمی باز و ابتدا اختلاف پتانسیل غشا کاهش می‌یابد. بررسی سایر گزینه‌ها:

گزینه ۱: ایجاد اختلاف پتانسیل آرامش مربوط به کانال‌های دریچه‌دار پتاسیمی است.

گزینه ۳: کانال‌های نشتی در تمام مراحل فعالیت یاخته عصبی، پتاسیم را از یاخته خارج می‌کنند.

گزینه ۴: فعالیت پمپ سدیم پتاسیم سبب کاهش غلظت یون‌های سدیم درون یاخته می‌شود.

۳) مراکز نظارت بر فعالیت‌های بدن مغز و نخاع هستند. یاخته‌های بافت عصبی شامل انواع نورون و نوروگلیا است. بررسی موارد:

(الف) نادرست، نوروگلیاها آکسون ندارند.

(ب) نادرست، در نوروگلیا پیام عصبی تولید نمی‌شود.

(ج) درست، در ساختار غشای همه یاخته‌ها، پروتئین‌های انتقال یون وجود دارد.

(د) نادرست، یاخته‌های پشتیبان هدایت پیام عصبی ندارند.

۴) بررسی گزینه‌ها:

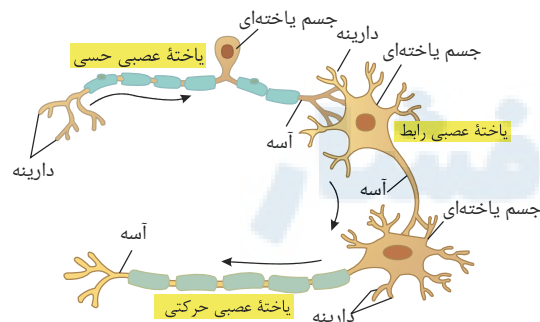
گزینه ۱: افزایش بیش از حد فعالیت آنزیم‌های تجزیه‌کننده ناقل‌های عصبی، سبب تغییر در میزان ناقل‌های عصبی می‌شود. تغییر در میزان ناقل‌های عصبی از دلایل بیماری‌ها و اختلال در کار دستگاه عصبی است.

گزینه ۲: ناقل‌های عصبی ابتدا در یاخته‌های عصبی پیش‌سیناپسی تولید و سپس در ریزکیسه‌ها ذخیره می‌شوند و سپس در طول آسه هدایت می‌شوند. ناقل‌های عصبی توسط ریزکیسه ساخته نمی‌شوند.

گزینه ۳: ناقل عصبی از نوع تحریکی و یا مهارتی از یاخته پیش‌سیناپسی آزاد و پس از اتصال به گیرنده‌اش در یاخته پس‌سیناپسی سبب تغییر در اختلاف پتانسیل دو سوی غشای یاخته می‌شود.

گزینه ۴: یاخته پیش‌سیناپسی می‌تواند یک نورون باشد. در سطح غشا سلولی نورون گیرنده‌های، کانالی پروتئینی برای ناقل عصبی وجود دارد.

۵) ۱ ۲ ۳ ۴ ۵



بررسی گزینه‌ها:

گزینه ۱: یاخته رابط و حرکتی هر دو می‌توانند دارای چندین دندریت متصل به جسم یاخته‌ای باشند.

گزینه ۲: یاخته رابط و حسی هر دو می‌توانند دارای آکسونی با انشعابات فراوان در انتهای خود باشند.

گزینه ۳: طبق شکل فوق، نورون حرکتی و رابط دارای رشته‌های دندریت بدون میلین هستند. در نورون رابط آکسون نیز بدون میلین است. اما به‌طور کلی هر سه نوع نورون می‌توانند میلین دار و یا بدون میلین باشند.

گزینه ۴: یاخته حسی نمی تواند به یاخته غیرعصبی پیام منتقل کند اما یاخته حرکتی می تواند به یاخته ماهیچه ای و غدد پیام منتقل کند.

۶ پمپ سدیم - پتاسیم در برقراری حالت آرامش در سلول عصبی نقش دارد. این پمپ پروتئینی برای انتقال یون های سدیم و پتاسیم در دو سوی غشا، به طور قطع *ATP* مصرف می کند.

۷ در بعضی نورون های حسی بخش آکسونی بلندتر از بخش دندریتی می باشد. به عنوان نمونه، نورون های حسی که به عنوان گیرنده حس بویایی در سقف حفره بینی حضور دارند، آکسون شان بلندتر از دندریت شان است.
بررسی سایر گزینه ها:

گزینه ۲: در حالت آرامش پتاسیم ها هم خارج می شوند (از طریق کانال های نشتی پتاسیم) و هم داخل می شوند (از طریق پمپ سدیم - پتاسیم).
گزینه ۳: کاملاً صحیح است.

گزینه ۴: دلیل نفوذپذیری بیشتر غشا به پتاسیم نسبت به سدیم همین است.

۸ ناقل های عصبی حرکتی و یا مهارتی هستند. ناقل های عصبی حرکتی پس از رسیدن به یاخته های پس سیناپسی، سبب باز شدن کانال های پروتئینی شده و ناقل عصبی سبب تغییر نفوذپذیری غشای یاخته پس سیناپسی می شود.
بررسی سایر گزینه ها:

گزینه ۱: پس از انتقال پیام، مولکول های ناقل باقی مانده، باید از فضای سیناپسی تخلیه شوند تا از انتقال بیش از حد پیام جلوگیری و امکان انتقال پیام های جدید فراهم شود. این کار با جذب دوباره ناقل به یاخته پیش سیناپسی انجام می شود، همچنین آنزیم هایی ناقل عصبی را تجزیه می کنند.

گزینه ۲: ناقل عصبی در یاخته های عصبی ساخته و درون ریزکیسه ها ذخیره می شود.

گزینه ۳: گیرنده ناقل های عصبی در غشا و سطح یاخته پیش سیناپسی قرار دارد.

۹ در تمام مدت پتانسیل آرامش و پتانسیل عمل، یون های سدیم از طریق کانال های نشتی سدیم، به درون یاخته وارد می شوند. در تمام این مدت، پمپ سدیم - پتاسیم نیز با صرف انرژی *ATP*، یون های پتاسیم را وارد یاخته و یون های سدیم را از یاخته خارج می کند.
بررسی سایر موارد:

مورد ۱: درحین پتانسیل آرامش و بخشی از پتانسیل عمل که کانال های دریچه دار پتاسیمی باز هستند، یون های سدیم از طریق کانال های نشتی وارد یاخته می شوند؛ درحالی که بار الکتریکی درون یاخته مثبت تر نمی شود.

مورد ۲: درحین پتانسیل آرامش اختلاف پتانسیل دو سوی غشا به طور ناگهانی تغییر نمی کند.

مورد ۴: درحین پتانسیل آرامش، شیب غلظت های یون های سدیم و پتاسیم با حالت آرامش متفاوت نیست.

۱۰ فراوان ترین یاخته های بافت عصبی، یاخته های پشتیبان هستند. برخی از این یاخته ها سبب افزایش سرعت هدایت (نه انتقال) پیام می شوند. این یاخته ها همانند سایر یاخته های زنده در غشای خود دارای کانال های پروتئینی هستند که یون ها را عبور می دهند.

۱۱ در انتهای قسمت پایین رو نمودار پتاسیم عمل، کانال های دریچه دار پتاسیمی بسته می شوند، در ادامه این قسمت فعالیت بیشتر پمپ سدیم - پتاسیم را شاهد هستیم.
بررسی سایر گزینه ها:

۱) در شروع پتانسیل عمل، کانال های دریچه دار سدیمی باز می شوند و با ورود یون سدیم به درون یاخته، مقدار اختلاف پتانسیل دو سوی غشا ابتدا کاهش می یابد.

۲) در انتهای قسمت بالا رو نمودار پتانسیل عمل، کانال های دریچه دار سدیمی بسته می شوند، در حالی که انتقال یون های سدیم در جهت شیب غلظت به درون یاخته به واسطه کانال های نشتی ادامه می یابد.

۴) در ابتدای قسمت نزولی نمودار پتانسیل عمل، کانال های دریچه دار پتاسیمی باز می شوند؛ اما در انتها پتانسیل عمل با بسته شدن کانال های دریچه دار پتاسیمی، پتانسیل غشا به حالت استراحت برمی گردد، سپس با فعالیت بیشتر پمپ ها نورون به حالت آرامش می رسد.

۱۲ ۱. ابتدا پتانسیل عمل به پایانه آکسونی می رسد و سپس وزیکول ها با غشای یاخته ای ادغام می شوند.

۲. با رسیدن پتانسیل عمل به پایانه آکسونی، وزیکول های حاوی ناقل عصبی به سمت غشا یاخته ای حرکت می کنند و با غشا ادغام می شوند. سپس ناقل عصبی به فضای سیناپسی آزاد می شوند (برون رانی). ناقل ها از طریق کانال های یونی عبور نمی کنند.

۳. ناقل عصبی به تنهایی وارد فضای سیناپسی می شود نه همراه با وزیکول.

۴. وقتی ناقل های عصبی به فضای سیناپسی وارد می شوند، به گیرنده های سطح یاخته ها متصل می شوند و در آن ها تغییر شکل فضایی ایجاد می کنند. این تغییر شکل سبب تغییر دریچه این کانال ها می شود.

۱۳ گزینه ۱: ناقل های عصبی باقی مانده در فضای سیناپسی ممکن است جذب یاخته پیش سیناپسی شوند و یا توسط آنزیم هایی در فضای سیناپسی تجزیه شوند.
گزینه ۲: اگر ناقل های عصبی از نوع مهارتی باشند، نورون بعدی را مهار می کنند.

گزینه ۳: پس از رسیدن پیام عصبی به پایانه آکسونی، آنچه وارد فضای سیناپسی می شود، ناقل های عصبی است نه ریزکیسه ها.

گزینه ۴: ناقل های عصبی از نوع حرکتی و یا مهارتی قطعاً یاخته پس سیناپسی را دچار تغییر پتانسیل الکتریکی می کنند.

۱۴ پس از شروع پتانسیل عمل، از عدد صفر تا +۳۰ در سمت بالارو و از عدد ۰ تا -۳۰ در سمت پایین رو نمودار، پتانسیل بیرون غشا نسبت به درون منفی است. برای رسیدن به چنین پتانسیلی قطعاً تحریک شدن یاخته لازم است تا پتانسیل عمل در یاخته حاصل شود.
بررسی سایر گزینه ها:

گزینه ۲: پمپ های سدیم پتاسیم موجود در غشا می توانند همواره با مصرف انرژی یون های سدیم را به خارج و پتاسیم را به داخل یاخته وارد کنند؛ بنابراین همواره فعال هستند و نمی توان برای فعالیت آنها زمانی را مانند آغاز پتانسیل آرامش بعد از پتانسیل عمل مشخص کرد. با مصرف *ATP*، به میزان فسفات آزاد درون سلول افزوده می شود.

گزینه ۳: یون های سدیم و پتاسیم که می توانند از عرض غشا یاخته عبور کنند، همگی یون های مثبت هستند و هیچ یون منفی جابه جا نمی شود.

گزینه (۴): فعالیت بیشتر پمپ‌های سدیم - پتاسیم پس از پایان پتانسیل عمل و در آغاز پتانسیل آرامش رخ می‌دهد؛ با آغاز پتانسیل آرامش فعالیت بیشتر این پمپ باعث می‌شود تا آرایش یونها به حالت اولیه بازگردد، نه اینکه پتانسیل دو سوی غشا به حالت آرامش بازگردد.

گزینه (۱۵) ۱ ۲ ۳ ۴ ۱۵
یاخته‌های تشکیل دهنده بافت عصبی شامل یاخته‌های عصبی و پشتیبان هستند. ارتباط زیستی که بین یاخته‌های عصبی و غیرعصبی در یک بافت عصبی پدید می‌آید، بدون ایجاد همایه است. بررسی سایر گزینه‌ها:

گزینه (۱): یاخته پیش سیناپسی با پایانه آکسونی خود در تشکیل همایه شرکت می‌کند؛ بنابراین اگر دندریت یا جسم یاخته‌ای از سلولی در تشکیل سیناپس شرکت کند، قطعاً مربوط به یاخته پس سیناپسی است.

گزینه (۲): ناقل موجود در فضای سیناپسی، جذب یاخته پیش سیناپسی می‌شود؛ این یاخته قطعاً یک یاخته عصبی است.

گزینه (۴): انتقال دهنده عصبی قطعاً پتانسیل الکتریکی یاخته پس سیناپسی را تغییر می‌دهد؛ این تغییر اختلاف پتانسیل می‌تواند به صورت تحریک یا مهارشدن یاخته پس سیناپسی باشد.

مرکز مشاوره تحصیلی

علیرضا افشار

مبحث: گفتار ۲ فصل ۱ زیست یازدهم

سری: شماره ۱

زمان: ۱۵ دقیقه

۱) کدام گزینه، عبارت زیر را به درستی تکمیل می‌کند؟

«از وظایف بخش‌های اصلی مغز یک انسان سالم می‌تواند باشد.»

- ۱) ایجاد حافظه کوتاه‌مدت و تبدیل آن به حافظه بلندمدت
- ۲) پردازش اولیه و تقویت اطلاعات حسی
- ۳) تنظیم ترشح بزاق و اشک
- ۴) تنظیم دمای بدن

۲) کدام گزینه در ارتباط با پرده میانی مننژ در یک انسان سالم و بالغ درست بیان شده است؟

- ۱) در مقایسه با دو پرده دیگر مننژ، ضخامت کمتری دارد.
- ۲) در همه انواع شیارهای قشر مغز دیده می‌شود.
- ۳) در تماس با مایعی ضربه‌گیر قرار می‌گیرد.
- ۴) در مغز تنها در سطح بالایی خود رشته‌های ریزی دارد.

۳) در مسیر انعکاس عقب کشیدن دست در برخورد با جسم داغ، سیناپس فعال در نخاع وجود دارد و

- ۱) ۵- ناقل‌های عصبی آزادشده در این سیناپس‌ها درون ریشه پستی نخاع تولید شده‌اند.
- ۲) ۴- در سیناپس بین نورون حرکتی و ماهیچه پشت بازو، ناقل عصبی آزاد شده از نوع مهارتی است.
- ۳) ۴- در یکی از آن‌ها، اتصال ناقل‌های عصبی تحریکی به کانال‌های دریچه‌دار سدیمی یاخته پس سیناپسی مشاهده نمی‌شود.
- ۴) ۵- یاخته عصبی که فاقد دندریت و آکسون میلین‌دار است، می‌تواند سیناپس تحریکی و مهارتی تشکیل دهد.

۴) در پلاناریا ملخ

- ۱) برخلاف- سامانه‌ای با قابلیت دفع مواد زائد نیتروژن‌دار از بدن وجود دارد.
- ۲) همانند- مغزی با چندین گره عصبی به هم‌جوش خورده مشاهده می‌شود.
- ۳) برخلاف- رشته‌های عصبی در دستگاه عصبی مرکزی جانور مشاهده نمی‌شود.
- ۴) همانند- یاخته‌های مغز جانور در حفظ هم‌ایستایی پیکر جانور نقش دارند.

۵) کدام گزینه، عبارت زیر را به نادرستی تکمیل می‌کند؟

«از اثرات مصرف الکل در انسان بالغ، می‌توان به اشاره کرد.»

- ۱) بلندمدت - افزایش میزان برخی مواد گوارش نیافته در مدفوع انسان
- ۲) کوتاه‌مدت - اثرگذاری بر بخشی از مغز در نزدیکی مرکز (های) تنظیم تنفس
- ۳) بلندمدت - مرگ گروهی از یاخته‌های ماهیچه قلب در پی عدم اکسیژن‌رسانی به آنها
- ۴) کوتاه‌مدت - کاهش مصرف انرژی زیستی در همه یاخته‌های دارای گیرنده برای مولکول‌های ناقل عصبی

۶) در دستگاه عصبی پلاناریا

- ۱) رشته‌های جانبی همانند رشته‌های بین طناب‌ها بخش محیطی دستگاه عصبی را تشکیل می‌دهند.
- ۲) رشته‌های بین طناب‌ها همانند طناب‌های عصبی، مربوط به بخش مرکزی دستگاه عصبی هستند.
- ۳) مغز تجمع جسم یاخته‌های عصبی است که در دو جفت گره در سر جانور قرار دارند.
- ۴) فعالیت ماهیچه‌های هر بند از بدن توسط گره موجود در همان بند تنظیم می‌شود.

۷) در مسیر انعکاس عقب کشیدن دست انسان پس از برخورد با جسم داغ، در سیناپس ناقل عصبی تحریکی سبب بازشدن کانال‌های دریچه‌دار سدیمی یاخته پس سیناپسی می‌شود.

- ۱) نورون حسی با نورون حرکتی ماهیچه سه سر بازو
- ۲) نورون حسی با نورون حرکتی ماهیچه دو سر بازو
- ۳) نورون رابط با نورون حرکتی ماهیچه دو سر بازو
- ۴) نورون رابط با نورون حرکتی ماهیچه سه سر بازو

۸ در ارتباط با انعکاس عقب کشیدن دست انسان در برخورد با جسم داغ، کدام گزینه عبارت زیر را نادرست تکمیل می کند؟ (با تغییر) «نورونی که پیام عصبی را به نخاع نزدیک می کند نورون هایی که پیام عصبی را از نخاع دور می کنند،»

- ۱ همانند - می توانند تحت تأثیر فعالیت یاخته های پشتیبان، عملکرد خود را سریع تر کنند.
- ۲ همانند - می تواند با نورون های رابط سیناپس داشته باشد.
- ۳ برخلاف - می تواند هم در دستگاه عصبی مرکزی و هم در دستگاه عصبی محیطی حضور داشته باشد.
- ۴ برخلاف - هر کدام با بیش از یک سلول عصبی رابط در ماده خاکستری نخاع، سیناپس برقرار می کند.

۹ کدام گزینه در ارتباط با پرده های مننژ، صحیح است؟

- ۱ ضخیم ترین پرده مننژ را نمی توانیم در فضای بین دو پرده در برگیرنده مویرگ ها خونی مغز مشاهده کنیم.
- ۲ نازک ترین پرده مننژ فقط در تماس مستقیم با بخش خاکستری دستگاه مرکزی است.
- ۳ می توان مایع محافظت کننده در برابر ضربه را در فضای بین پرده های مننژ مشاهده کرد.
- ۴ پرده داخلی مننژ، دربرگیرنده بافت پوششی تک لایه با یاخته های دارای منافذ یاخته ای است.

۱۰ در انسان سالم، بخشی از ساقه مغز که قطعاً است.

- ۱ در مجاورت مرکز تنظیم تعادل بدن قرار دارد - محل ورود همه پیام های حسی به مغز
- ۲ در تنظیم ضربان قلب مؤثر می باشد - محل تقویت پیام های حسی بدن
- ۳ به طور مستقیم فعالیت عضله دیافراگم را کنترل می کند - با نورون های حرکتی در ارتباط
- ۴ در نزدیک ترین فاصله با تالاموس ها قرار دارد - در تنظیم فعالیت تنفسی، دارای نقش

۱۱ در تشریح بخش های درونی مغز گوسفند در عقب اپی فیز بلافاصله ساختاری وجود دارد که معادل بخشی از مغز انسان است که

- ۱ متعلق به بخشی از ساقه مغز است که یاخته های آن در فعالیت های شنوایی و بینایی نقش دارند.
- ۲ در تنظیم ترشح بزاق و اشک نقش دارند.
- ۳ فشار خون و زنبش قلب را تنظیم می کند.
- ۴ مرکز تنظیم وضعیت بدن و تعادل است.

۱۲ تحریک اعصاب (با تغییر)

- ۱ پیکری، همواره تحت تأثیر قشر چین خورده مغز می باشد.
- ۲ پیکری، می تواند در انقباض غیرارادی گروهی از یاخته های ماهیچه ای دخالت داشته باشد.
- ۳ پاراسمپاتیک، در انقباض ماهیچه اصلی موثر در تنفس نقش دارد.
- ۴ سمپاتیک، جریان خون فقط به سمت ماهیچه اسکلتی افزایش می دهد.

۱۳ در تشریح مغز گوسفند، قابل مشاهده است.

- ۱ مرکز تنظیم حرکات و حفظ تعادل بدن، فقط در سطح پشتی
- ۲ بخشی که برش آن برای مشاهده بطن چهارم لازم است، فقط در سطح پشتی
- ۳ انواع روابط بین نیمکره های مخ، پس از ایجاد برش در ساختار مغز
- ۴ لوب های متصل به دستگاه لیمبیک در سطح شکمی برخلاف پشتی

۱۴ کدام گزینه عبارت زیر را به درستی کامل می کند؟

«هر مرکز مغزی در انسان که در نقش دارد؛»

- ۱ تنظیم تنفس - تنظیم فعالیت گره پيشاهنگ را نیز صورت می دهد.
- ۲ تنظیم حرکات بدن - از دو نیمکره مرتبط با یکدیگر تشکیل شده است.
- ۳ حافظه - در یادگیری فرآیندهای مختلف نیز وظیفه ای برعهده دارد.
- ۴ یادگیری - در تماس مستقیم با درونی ترین لایه مننژ قرار گرفته است.

۱۵ کدام گزینه عبارت زیر را به نادرستی کامل می کند؟

« می توان گفت بخشی از دستگاه عصبی مرکزی است که»

- ۱ مخ - گروهی از پیام های پردازش شده در آن از نهنج خارج شده اند.
- ۲ بصل النخاع - رسیدن ماده غذایی به حلق را طی بلعیدن تنظیم می کند.
- ۳ هیپوکامپ - در اثر مصرف نوشیدنی های الکلی تحت تأثیر قرار می گیرد.
- ۴ نخاع - در ورود بخشی از پیام های پردازش شده در قشر مخ نقش دارد.

پاسخنامه تشریحی

۱) بخش‌های اصلی مغز در یک فرد سالم عبارتند از مخ، مخچه و ساقه مغز. تنظیم ترشح اشک و بزاق مربوط به پل مغزی از ساقه مغز می‌باشد. بررسی سایر گزینه‌ها:

گزینه ۱) مربوط به هیپوکامپ (اسبک مغز) که یکی از اجزای لیمبیک (سامانه کناره‌ای) می‌باشد.

گزینه ۲) مربوط به تالاموس‌ها (نهنج) می‌باشد.

گزینه ۴) این مورد مربوط به هیپوتالاموس (زیر نهنج) می‌باشد.

۲) فضای بین پرده‌های منژ را مایع مغزی - نخاعی پر می‌کند که نقش ضربه‌گیری دارد. پس پرده میانی منژ در تماس با مایعی ضربه‌گیر قرار می‌گیرد. بررسی سایر گزینه‌ها:

گزینه ۱) داخلی‌ترین پرده منژ در مقایسه با سایرین ضخامت کمتری دارد.

گزینه ۲) پرده میانی منژ در شیارهای عمیق قشر مغز دیده می‌شود، ولی در شیارهای باریک و کم‌عمق میان چین‌خوردگی‌های قشر مخ دیده نمی‌شود!

گزینه ۴) در سطح زیرین پرده میانی منژ در مغز، رشته‌های ریزی مشاهده می‌شوند.

۳) در مسیر این انعکاس مجموعاً ۵ سیناپس فعال وجود دارد که ۴ تا از آنها درون نخاع قرار دارد. از این ۴ سیناپس، ۳ تا تحریکی و یکی مهارتی است. در سیناپس‌های مهارتی، کانال‌های دریچه‌دار سدیمی باز شده و در نتیجه در یاخته پس‌سیناپسی پتانسیل عمل ایجاد نمی‌شود. بررسی سایر گزینه‌ها:

گزینه‌های ۱، ۲ و ۴: گفتمیم که در این انعکاس ۴ سیناپس فعال درون نخاع وجود دارد.

گزینه ۲) سیناپس بین نورون حرکتی و ماهیچه پشت بازو غیرفعال است و هیچ نوع ناقل عصبی آزاد نمی‌شود.

۴) بررسی سایر گزینه‌ها:

همه موجودات زنده توانایی هم‌ایستایی پیکر خود را دارند. دستگاه عصبی در حفظ هم‌ایستایی نقش دارد.

گزینه ۱) هر دو جاندار دارای سامانه دفع مواد زائد نیتروژن دار هستند. پلاناریا دارای پروتوفریدی و ملخ دارای لوله‌های مالپیگی است.

گزینه ۲) مغز پلاناریا دارای دو گره و مغز ملخ از چندین گره به هم جوش خورده تشکیل شده است.

گزینه ۳) رشته‌های بین طناب‌ها در دستگاه عصبی پلاناریا جزء دستگاه عصبی مرکزی محسوب می‌شوند.

۵) بررسی سایر گزینه‌ها:

گزینه ۱) از اثرات بلند مدت الکل، مشکلات کبدی است. مشکلات کبدی می‌تواند باعث کاهش تولید صفرا شود و از این طریق سبب اختلال در جذب و گوارش چربی‌ها شود. در نتیجه در مدفوع فرد مواد گوارش نیافته از جمله چربی‌ها وجود دارد.

گزینه ۲) از اثرات کوتاه‌مدت الکل ایجاد ناهماهنگی در حرکات بدن است که می‌تواند به دلیل تأثیر الکل بر مخچه باشد. مخچه در نزدیکی بصل‌النخاع و پل مغز از مراکز تنظیم تنفس هستند.

گزینه ۳) از اثرات بلندمدت الکل سکنه قلبی است که در اثر عدم اکسیژن‌رسانی به گروهی از یاخته‌های قلبی و مرگ آنها می‌باشد.

گزینه ۴) از اثرات کوتاه‌مدت الکل تأثیر بر فعالیت ناقل‌های عصبی تحریک‌کننده و بازدارنده است. این ناقل‌ها فعالیت نورون پس‌سیناپسی را کاهش و یا افزایش می‌دهند. در صورت افزایش فعالیت نورون، مصرف انرژی زیستی افزایش می‌یابد.

۶) دو طناب عصبی، متصل به مغز که در طول بدن کشیده شده‌اند، با رشته‌هایی به هم متصل‌اند و ساختار نردبان‌مانندی را ایجاد می‌کنند. این مجموعه بخش مرکزی دستگاه عصبی جانور است. بررسی سایر گزینه‌ها:

گزینه ۱) رشته‌های جانبی متصل به آن نیز، بخش محیطی دستگاه عصبی را تشکیل می‌دهند.

گزینه ۳) در پلاناریا دو گره عصبی (یک جفت نه دو جفت) در سر جانور، مغز را تشکیل داده‌اند. هر گره مجموعه‌ای از جسم یاخته‌ای عصبی است.

گزینه ۴) در حشرات فعالیت ماهیچه‌های هر بند از بدن، توسط گره موجود در همان بند تنظیم می‌شود.

۷) سیناپس‌ها در مسیر انعکاس عقب کشیدن دست در برخورد با جسم داغ،

۱) نورون حسی با دو نورون رابط: تحریکی

۳) نورون رابط با نورون حرکتی ماهیچه دو سر بازو: تحریکی

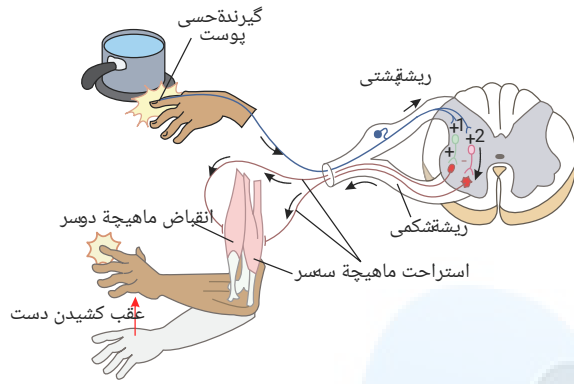
۴) نورون رابط با نورون حرکتی ماهیچه سه سر بازو: مهارتی

۵) نورون حرکتی با عضله اسکلتی دو سر بازو: تحریکی

۸) ۱ ۲ ۳ ۴

نورون‌هایی که پیام عصبی را به نخاع نزدیک می‌کنند، نورون‌های حسی و نورون‌هایی که پیام عصبی را از نخاع دور می‌کنند، نورون‌های حرکتی می‌باشند. هم نورون‌های حسی و هم نورون‌های حرکتی می‌توانند هم در بخش مرکزی و هم در بخش محیطی دستگاه عصبی یافت شوند.

بررسی سایر گزینه‌ها:



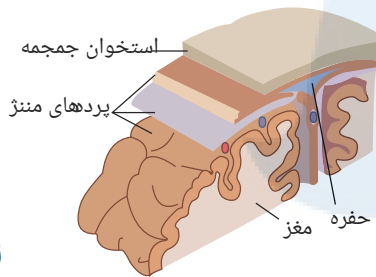
گزینه ۱) هم نورون‌های حسی و هم نورون‌های حرکتی می‌توانند میلیون‌ها بار باشد و هدایت پیام عصبی (یکی از عملکردهای نورون) در رشته‌های عصبی میلیون‌ها بار از رشته‌های عصبی بدون میلین هم قطر سریع‌تر است. غلاف میلین را یاخته‌های پشتیبان بافت عصبی می‌سازد.

گزینه ۲) با توجه به شکل هم نورون حسی و هم نورون حرکتی می‌توانند با نورون رابط سیناپس داشته باشند.

گزینه ۴) در انعکاس عقب کشیدن دست در برخورد با جسم داغ، نورون حسی با دو نورون رابط سیناپس دارد.

۱ ۲ ۳ ۴ ۹

۱. در شیار بین دو نیمکره مغز، ضخیم‌ترین پرده مغز بین دو لایه نازک و داخلی مغز قرار دارد. در لایه داخلی مغز، مویرگ‌های خونی وجود دارند.



۲. نازک‌ترین و یا داخلی‌ترین پرده مغز، در مغز در تماس مستقیم با ماده خاکستری و در نخاع در تماس مستقیم با ماده سفید قرار دارد. از طرفی در مغز و نخاع از سمت دیگر با مایع مغزی نخاعی در تماس است.

۳. مایع مغزی نخاعی که مایع محافظت‌کننده در برابر ضربه است، در فضای بین پرده‌های مننژ قرار دارد.

۴. در پرده داخلی مننژ مویرگ‌های خونی وجود دارد که از بافت پوششی تک لایه تشکیل شده است. مویرگ‌های خونی مغز، از نوع مویرگ‌های پیوسته و بدون منفذ هستند.

۱۰. ۱. بخشی از ساقه مغز که در مجاورت مخچه یا مرکز تنظیم تعادل بدن قرار دارد، پل مغزی و بصل‌النخاع است. همه پیام‌های حسی از طریق این دو و به طور کلی ساقه مغز وارد مغز نمی‌شوند. مثلاً پیام‌های بویایی و بینایی به طور مستقیم و بدون گذر از ساقه مغز وارد مغز می‌شوند.

۲. بخشی از ساقه مغز که در تنظیم ضربان قلب مؤثر است، بصل‌النخاع است. بصل‌النخاع در تقویت پیام‌های حسی مؤثر نیست.

۳. بصل‌النخاع به طور مستقیم در تنظیم فعالیت عضله دیافراگم نقش دارد. از بصل‌النخاع نورون‌های حرکتی به لوله گوارش، دستگاه تنفس و گردش خون وارد می‌شود.

۴. مغز میانی بخشی از ساقه مغز است که نزدیک‌ترین فاصله را با تالاموس دارد. این بخش در فعالیت تنفسی نقشی ندارد.

۱۱. ۱ ۲ ۳ ۴ ۱۱ در عقب اپی‌فیز، برجستگی‌های چهارگانه قرار دارند.

۱. برجستگی‌های چهارگانه بخشی از مغز میانی هستند که در فعالیت‌های بینایی و شنوایی نقش دارند.

۲. تنظیم ترشح بزاق و اشک مربوط به پل مغزی است.

۳. فشار خون و زنبق قلب به بصل‌النخاع و هیپوتالاموس مربوط می‌شود.

۴. مرکز تنظیم وضعیت و تعادل، مخچه است.

۱۲. ۱ ۲ ۳ ۴ ۱۲ گزینه ۱: در انعکاس عقب کشیدن دست، تحریک نورون‌های حرکتی پیکری توسط نورون‌های رابط نخاع انجام می‌شود.

گزینه ۲: در انعکاس‌هایی مانند انعکاس عقب کشیدن دست، اعصاب پیکری سبب انقباض گروهی از یاخته‌های ماهیچه‌ای به صورت غیرارادی می‌شوند.

گزینه ۳: ماهیچه دیافراگم که در تنفس عادی نقش اصلی را دارد، هم چنین ماهیچه‌های بین دنده‌ای از نوع ماهیچه مخطط هستند و در نتیجه تحت تأثیر اعصاب پیکری قرار دارد.

گزینه ۴: اعصاب سمپاتیک جریان خون به سمت ماهیچه‌های اسکلتی و قلبی را افزایش می‌دهد.

۱۳. ۱ ۲ ۳ ۴ ۱۳ بخشی از مغز که با برش آن می‌توان درخت زندگی و بطن چهارم را مشاهده کرد، کرینه مخچه است که این رابط بین دو نیمکره مخچه تنها در سطح پشتی نمای مغز قابل مشاهده است.

بررسی سایر گزینه‌ها:

با مقایسه شکل‌های تشریح در هر دو بخش پشتی و شکمی مشاهده می‌شود:

نیمکره‌های مخ، مخچه (مرکز تنظیم حرکات و حفظ تعادل بدن)، نخاع و لوب‌های بویایی (لوب‌های متصل به دستگاه لیمبیک) در هر دو سطح پشتی و شکمی قابل مشاهده هستند.

در هنگام تشریح با انگشتان شست می‌توان به آرامی دو نیمکره را از محل شیار بین آنها یکدیگر فاصله داد و با جدا کردن بقایای پرده‌های مننژ از بین دو نیمکره، نوار سفید رنگ رابط بین‌ه‌ای را

مشاهده کرد (بدون ایجاد هیچ برشی). در حالی که نیمکره‌های مخ از هم فاصله دارند، با ایجاد برشی کم عمق بوسیله نوک چاقوی جراحی در جلوی رابط پینه‌ای، به رابط سه گوش می‌رسیم.

۱۴) از مراکز مغزی، هیپوکامپ در حافظه نقش ایفا می‌کند. این مرکز علاوه بر حافظه در یادگیری فرآیندهای مختلف نیز نقش دارد. بررسی سایر گزینه‌ها:

گزینه (۱): بصل‌النخاع و پل مغزی در تنظیم تنفس انسان نقش دارند. از این میان تنها بصل‌النخاع است که در تنظیم زنش‌های قلب وظیفه‌ای برعهده دارد. گزینه (۲): از مراکز مغزی، مخچه و مغز میانی در تنظیم حرکات بدن نقش دارند که در این میان فقط مخچه است که از دو نیمکره تشکیل شده است و مغز میانی بخشی از ساقه مغز به شمار می‌رود.

گزینه (۴): قشر مخ و سامانه لیمبیک هر دو در فرآیند یادگیری نقش ایفا می‌کنند؛ از بین این دو تنها قشر مخ است که می‌تواند در تماس مستقیم با درونی‌ترین لایه مننژ قرار گیرد.

۱۵) رسیدن ماده غذایی جویده شده بوسیله زبان بزرگ به انتهای حلق، بخش ارادی عمل بلع را بیان می‌کند. در نتیجه انجام شدن آن تحت کنترل بصل‌النخاع (مرکز بلع) صورت نمی‌گیرد. این مرکز بخش‌های غیرارادی بلع را کنترل می‌کند. بررسی سایر گزینه‌ها:

گزینه (۱): محل پردازش اولیه و تقویت اطلاعات حسی است. اغلب پیام‌های حسی در تالاموس گرد هم می‌آیند تا به بخش‌های مربوط در قشر مخ، جهت پردازش نهایی فرستاده شوند.

گزینه (۳): الکل با تأثیر بر مراکز مغزی که در حافظه نقش دارند، منجر به اختلال در آن می‌گردد.

گزینه (۴): گروهی از پیام‌های وارد شده به مغز از طریق نخاع و گروهی دیگر مستقیماً از طریق اعصاب مغزی و بدون دخالت نخاع وارد مغز می‌شوند.

مرکز مشاوره تحصیلی

علیرضا افشار

مبحث: گفتار ۲ فصل ۱ زیست یازدهم

سری: شماره ۲

زمان: ۱۵ دقیقه

۱) کدام گزینه عبارت مقابل را به درستی تکمیل می‌کند؟ «هر جانور دارای قطعاً»

- ۱) موهای حسی بر روی پاهای خود - دارای طناب‌های عصبی شکمی است.
- ۲) طناب عصبی پشتی - دارای ایمنی اختصاصی و غیراختصاصی می‌باشد.
- ۳) اسکلت آب ایستایی - دارای تقسیم‌بندی مرکزی و محیطی در ساختار عصبی خود است.
- ۴) پرده‌های صماخ - دارای اسکلتی است که مشابه آن در همه جانوران دارای خط جانبی دیده می‌شود.

۲) بخشی از دستگاه عصبی مرکزی در تبدیل حافظه کوتاه‌مدت به بلندمدت نقش دارد. کدام گزینه درباره این بخش صحیح می‌باشد؟

- ۱) در تماس مستقیم با محل تمام آکسون‌های گیرنده‌های سقف حفره بینی قرار دارد.
- ۲) در به یاد آوردن خاطرات مربوط به حافظه کوتاه‌مدت و بلندمدت نیز نقش اصلی را دارد.
- ۳) بخشی از سامانه‌ای است که با محل پردازش نهایی اطلاعات حسی بدن ارتباط دارد.
- ۴) در صورت آسیب آن، فرد نمی‌تواند اطلاعات جدید را حتی برای لحظاتی بسیار کوتاه به خاطر بسپارد.

۳) در مورد بخش‌های اصلی مغز انسان، کدام گزینه می‌تواند عبارت زیر را به درستی تکمیل کند؟

«بخشی که در بخش قرار دارد، می‌تواند در نقش داشته باشد.»

- ۱) بالای - تنظیم‌کننده تنفس و ترشح بزاق - جمع‌آوری و پردازش اغلب پیام‌های حسی ورودی به مغز
- ۲) جلوی - هماهنگ‌کننده حرکات بدن - تنظیم میزان فعالیت یاخته‌های میوکارد برخلاف تنظیم فشار خون
- ۳) عقب - دخیل در تنظیم ترشح اشک - هماهنگی فعالیت‌های ماهیچه‌ها به کمک مغز و نخاع
- ۴) پایین - تقویت‌کننده اطلاعات حسی - کنترل میزان نیاز بدن برای آب ورودی به بدن

۴) در رابطه با بخشی از یاخته عصبی که بیشتر اطلاعات لازم برای زندگی یاخته درون اندامک(های) آن قرار دارد، کدام عبارت صحیح است؟

- ۱) ممکن است در محل همایه، پیام عصبی را از پایانه آکسونی یاخته عصبی پیش سیناپسی دریافت کند.
- ۲) بخش هدایت‌کننده پیام به آن، دارای بخش(های) ویژه‌ای جهت خروج مولکول‌های ناقل عصبی است.
- ۳) هدایت پیام عصبی بلافاصله بعد از خروج از جسم یاخته‌ای، قطعاً به صورت جهشی ادامه می‌یابد.
- ۴) بخش‌های خارج شده از آن، توانایی هدایت پیام به تمام بخش‌های یاخته عصبی را دارند.

۵) کدام گزینه در رابطه با عوامل محافظت‌کننده از دستگاه عصبی مرکزی انسان سالم و بالغ، نادرست است؟

- ۱) فقط بخشی از ستون مهره‌ها در حفاظت از طناب عصبی پشتی انسان نقش مستقیم دارند.
- ۲) در داخلی‌ترین پرده مننژ، مویرگ‌های خونی پیوسته با یاخته‌های به هم چسبیده مشاهده می‌شود.
- ۳) گروهی از عوامل محافظت‌کننده از مغز و نخاع، دارای رشته‌های پروتئینی نازک و ضخیم در ساختار خود هستند.
- ۴) داخلی‌ترین پرده مننژ فقط در تماس با بخشی از دستگاه عصبی مرکزی است که فقط شامل جسم یاخته‌ای نورون‌ها است.

۶) در صورتی که مغز گوسفند را طوری در ظرف تشریح قرار دهیم که سطح پشتی آن را ببینیم، کدام عبارت درباره تالاموسها نادرست است؟

- ۱) در مجاورت بطن سوم قرار دارد.
- ۲) توسط رابطی به یکدیگر متصل شده‌اند.
- ۳) در سطح پایین‌تری نسبت به بطن‌های جانبی ۱ و ۲ قرار دارد.
- ۴) برای رؤیت آنها برش از رابط سه گوش، ضروری نیست.

۷ کدام عبارت، در ارتباط با شبکه‌های مویرگی در مغز گوسفند که مایع محافظت‌کنندهٔ دستگاه عصبی مرکزی در برابر ضربه را ترشح می‌کنند، نادرست است؟

- ۱ در بالای محل پردازش اولیهٔ اغلب پیام‌های حسی مشاهده می‌شوند.
- ۲ مولکول‌های مورفین می‌توانند از آن‌ها عبور کرده و به مغز وارد شوند.
- ۳ در بین همهٔ یاخته‌های پوششی به هم چسبیدهٔ آنها همانند سایر مویرگ‌های مغزی، منافذ اندکی وجود دارد.
- ۴ در دو طرف رابط‌هایی که دو نیمکرهٔ مخ را به هم متصل می‌کنند، قرار دارند.

۸ در مسیر انعکاس عقب کشیدن دست انسان پس از برخورد با جسم داغ، هر یاختهٔ عصبی که قطعاً

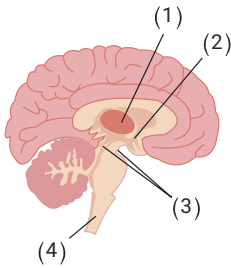
- ۱ بخش (هایی) از آن در مادهٔ خاکستری نخاع قابل مشاهده باشد - آکسونی بلندتر از دندریت (ها) دارد.
- ۲ فعالیت هدایت پیام در آن توسط نورون پیش از خود تحریک شود - پتانسیل الکتریکی یاختهٔ بعد از خود را تغییر می‌دهد.
- ۳ بخشی از آن در ریشهٔ شکمی عصب نخاعی دیده شود - موجب انقباض یکی از ماهیچه‌های بازو می‌شود.
- ۴ با یاختهٔ عصبی رابط در نخاع سیناپس دارد - دارای دندریت (های) پوشیده شده با غلاف میلین است.

۹ کدام گزینه عبارت زیر را به‌درستی تکمیل می‌کند؟ (با تغییر)

«هر بخشی از مغز انسان سالم و بالغ که در نقش دارد

- ۱ احساسات مختلف - بخشی از قشر مخ است.
- ۲ تنظیم فشارخون و ضربان قلب - از یک‌سو به نخاع و از یک‌سو به مرکز تنظیم تعادل بدن متصل است.
- ۳ پردازش نهایی پیام‌های عصبی - بخشی از نیمکره‌های مخ است.
- ۴ حرکات بدن - از دو نیمکرهٔ راست و چپ تشکیل شده است که توسط حداقل یک رابط با هم مرتبط هستند.

۱۰ با توجه به شکل مقابل که مربوط به بخش‌هایی از مغز است، کدام گزینه نادرست است؟



- ۱ بخش ۲، محل حضور گیرنده‌های حساس به غلظت مواد حل شده در خوناب می‌باشد.
- ۲ بخش ۱، در انتقال اغلب پیام‌های حسی به قشر مخ موثر می‌باشد.
- ۳ بخش ۴، همهٔ پیام‌های حسی بدن را به مغز ارسال می‌کند.
- ۴ بخش ۳، در فعالیت‌های شنوایی و بینایی بدن نقش دارد.

۱۱

در انسان هر یک از بخش‌های ساقهٔ مغز که ، نمی‌تواند باشد. (با تغییر)

- ۱ ماهیچه میان بند را کنترل می‌کند - با اعصاب حرکتی، در ارتباط
- ۲ در تنظیم ضربان قلب موثر است - در تقویت پیام‌های حسی بدن نقش داشته
- ۳ در جلوی مرکز تنظیم تعادل بدن قرار دارد - محل ورود گروهی از پیام‌های حسی به مغز
- ۴ به محل پردازش اولیهٔ اغلب اطلاعات حسی نزدیک‌تر است - در فعالیت‌های حرکتی نقش داشته باشد

۱۲ در اعتیاد به الکل ممکن نیست،

- ۱ مشکلات کبدی و قلبی و انواعی از سرطان‌ها به وجود بیاید.
- ۲ آزاد شدن ناقلین عصبی تحریک‌کننده تحت تأثیر قرار بگیرد.
- ۳ زمان فعالیت دستگاه عصبی و واکنش به محرک‌ها تغییر کند.
- ۴ با هر بار مصرف موجب افزایش هوشیاری و فعالیت‌های بدن شود.

۱۳) کدام گزینه عبارت زیر را همواره به درستی کامل می‌کند؟

«در محافظت از دستگاه عصبی مرکزی انسان،»

- ۱) مویرگ‌های تغذیه کننده، فاقد هر گونه منفذی در ساختار خود هستند.
- ۲) مایع مغزی - نخاعی در تماس مستقیم با استخوان‌های محافظتی قرار می‌گیرد.
- ۳) داخلی‌ترین پرده مننژ در مجاورت بخش‌های میلین‌دار قرار گرفته است.
- ۴) در شیار بین دو نیمکره مخ هر سه پرده مننژ قابل مشاهده هستند.

۱۴) بزرگ‌ترین لوب مخ بوده و با لوب دیگر مرزی مشترک دارد.

- ۱) پیشانی - دو
- ۲) آهیانه - سه
- ۳) پیشانی - سه
- ۴) آهیانه - دو

۱۵) کدام گزینه عبارت زیر را به نادرستی کامل می‌کند؟

«در انعکاس عقب کشیدن دست، هر یاخته‌ای که با سیناپس تشکیل می‌دهد؛»

- ۱) نورون حسی - جسم یاخته‌ای خود را در ماده خاکستری نخاع قرار داده است.
- ۲) ماهیچه دو سر بازو - تعداد فراوانی رشته حامل پیام به جسم سلولی خود دارد.
- ۳) نورون حرکتی - فقط در بخش مرکزی دستگاه عصبی قابل مشاهده است.
- ۴) نورون‌های رابط - در تمامی زوائد بیرون زده از جسم یاخته‌ای خود گره رانویه دارد.

مرکز مشاوره تحصیلی

علیرضا افشار

پاسخنامه تشریحی

۱) گزینه ۱: مهره داران دارای طناب عصبی پشتی و ایمنی اختصاصی و غیر اختصاصی هستند. بررسی سایر گزینه‌ها:

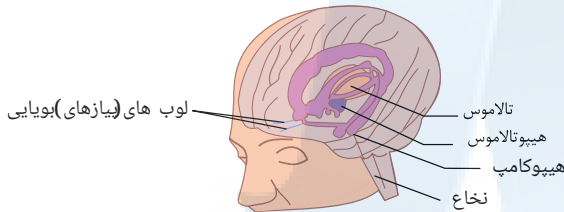
گزینه ۲: حشرات دارای موهای حسی بر روی پاهای خود می‌باشند. حشرات فقط یک طناب عصبی دارند.

گزینه ۳: عروس دریایی و هیدر دارای اسکلت آب ایستایی هستند، اما به دلیل داشتن شبکه عصبی، در ساختار عصبی خود تقسیم‌بندی مرکزی و محیطی ندارند.

گزینه ۴: جیرجیرک دارای پرده صماخ است، اما اسکلتی مشابه ماهی‌ها ندارد. ماهی‌ها دارای خط جانبی و اسکلت درونی هستند.

۲) گزینه ۱: هیپوکامپ بخشی از سامانه لیمبیک است. سامانه لیمبیک با قشر مخ، تالاموس و هیپوتالاموس ارتباط دارد. (درستی گزینه ۳) تالاموس محل تقویت اطلاعات حسی است و اغلب اطلاعات حسی بدن وارد تالاموس می‌شوند. قشر مخ محل پردازش نهایی اطلاعات در مغز می‌باشد. بررسی سایر گزینه‌ها:

گزینه ۲: آکسون یاخته‌های گیرنده بویایی در سقف حفره بینی بعد از خروج از بینی و ورود به مغز، وارد لوب بویایی می‌شود. همان‌طور که در شکل زیر می‌بینید، هیپوکامپ تماس مستقیم با لوب‌های بویایی ندارد. (نادرست)



گزینه ۳: به یاد آوردن خاطرات ثبت شده در حافظه بلندمدت، وظیفه هیپوکامپ نیست و افرادی که دچار آسیب هیپوکامپ می‌شوند در به یاد آوردن خاطرات قبل از آسیب، مشکل چندانی ندارند. (نادرست)

گزینه ۴: افرادی که دچار آسیب به هیپوکامپ شده‌اند، اطلاعات جدید را حداکثر فقط چند دقیقه می‌توانند در ذهن خود نگه دارند. (نادرست).

۳) گزینه ۱: دقت کنید در صورت سؤال به بخش‌های اصلی مغز اشاره کرده است. بخش‌های اصلی مغز شامل مخ، مخچه و ساقه مغز است. بخش اصلی مغز که در شنوایی و بینایی نقش دارد، مغز میانی است. در عقب پل مغزی (تنظیم ترشح اشک)، مخچه قرار دارد که با دریافت پیوسته پیام از مغز، نخاع و گوش‌ها فعالیت ماهیچه‌های بدن را هماهنگ می‌کند. بررسی سایر گزینه‌ها:

گزینه ۲: پل مغزی مسئول تنظیم تنفس و ترشح بزاق می‌باشد که جزء ساقه مغز است. جمع‌آوری و پردازش اغلب پیام‌های حسی ورودی به مغز برعهده تالاموس است. تالاموس جزء بخش‌های اصلی مغز نیست.

گزینه ۳: هماهنگ کننده حرکات بدن، مخچه است. جلوی مخچه، پل مغزی و بصل‌النخاع قرار دارد. بصل‌النخاع در تنظیم زنبق قلب (فعالیت یاخته‌های میوکاردا) و تنظیم فشارخون نقش دارد.

گزینه ۴: بخش تقویت کننده پیام‌های حسی، تالاموس است. هیپوتالاموس پایین تر از تالاموس قرار دارد و در تنظیم تشنگی نقش دارد، اما جزء بخش‌های اصلی مغز نیست.

۴) گزینه ۱: منظور از بخش مورد نظر جسم سلولی است. در جسم سلولی هسته قرار دارد که اطلاعات لازم برای زندگی یاخته در مولکول‌های دنا آن وجود دارد. پیام عصبی از پایانه آکسونی یاخته پیش سیناپسی می‌تواند به جسم یاخته‌ای پس سیناپسی منتقل شود. بررسی سایر گزینه‌ها:

گزینه ۲: بخش‌های هدایت کننده پیام به جسم یاخته‌ای، دندریت‌ها هستند. دندریت‌ها محل خروج مولکول‌های ناقل عصبی نیستند.

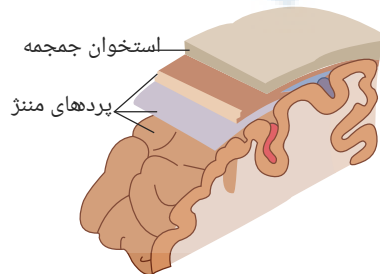
گزینه ۳: اگر آکسون یاخته عصبی بدون میلین باشد، هدایت پیام عصبی پس از جسم یاخته‌ای جهشی نیست.

گزینه ۴: بخش‌های خارج شده از جسم یاخته‌ای، دندریت و آکسون هستند. دندریت توانایی هدایت پیام به جسم یاخته‌ای را دارد و آکسون پیام را به سمت پایانه آکسون هدایت می‌کند.

۵) بررسی گزینه‌ها:

گزینه ۱: طناب عصبی پشتی یعنی نخاع از شروع و تا دومین مهره کمر ادامه دارد. مهره‌های انتهایی کمر در حفاظت از نخاع نقش مستقیم ندارد.

گزینه ۲: طبق شکل مقابل، در داخلی ترین پرده مننژ رگ خونی وجود دارد. مویرگ‌های خونی دستگاه عصبی مرکزی پیوسته هستند. یاخته‌های پوششی این مویرگ‌ها به هم چسبیده و بین آنها منفذی وجود ندارد.



گزینه ۳: استخوان و پرده‌های مننژ گروهی از عوامل محافظت‌کننده از مغز و هر دو از جنس بافت پیوندی هستند و در بافت پیوندی رشته‌های پروتئینی کلاژن ضخیم و ارتجاعی نازک وجود دارد.

گزینه ۴: در نخاع داخلی‌ترین پرده مننژ در تماس با ماده سفید و در مغز در تماس با ماده خاکستری است. در ماده سفید رشته‌های عصبی میلین‌دار و ماده خاکستری رشته‌های عصبی بدون میلین وجود دارد.

۶ ۱ ۲ ۳ ۴ به کمک چاقوی جراحی در رابط سه گوش، برش طولی ایجاد می‌کنیم تا در زیر آن تالاموس‌ها را ببینیم. بررسی سایر گزینه‌ها:

گزینه ۱: در عقب تالاموس‌ها، بطن سوم قرار دارد.

گزینه ۲: دو تالاموس با یک رابط به هم متصل شده‌اند.

گزینه ۳: تالاموس‌ها در سطح پایین تری نسبت به بطن‌های جانبی قرار دارند.

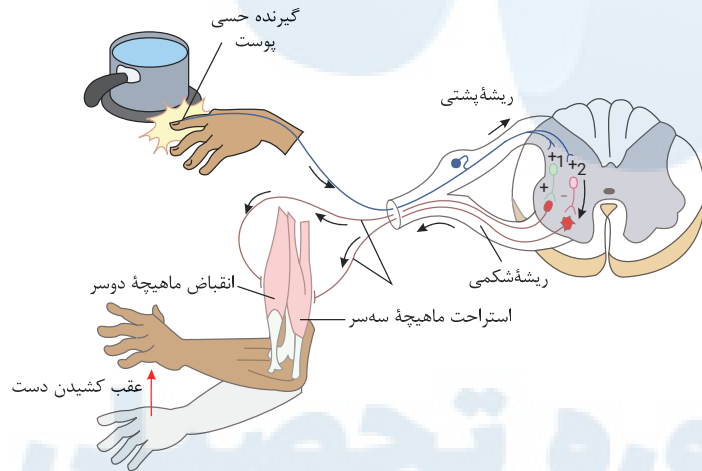
۷ ۱ ۲ ۳ ۴ شبکه‌های مویرگی که درون فضای بطن‌های ۱ و ۲ قرار دارند، مایع محافظت‌کننده دستگاه عصبی مرکزی در برابر ضربه (مایع مغزی نخاعی) را ترشح می‌کنند. مویرگ‌های مغز ممکن است هیچ منفذی نداشته باشند. بررسی سایر گزینه‌ها:

گزینه ۱: پس از ایجاد برش در رابط سه گوش، در زیر آن تالاموس‌ها که محل پردازش اولیه اغلب پیام‌های حسی هستند، دیده می‌شوند. بنابراین این مویرگ‌ها در بالای تالاموس‌ها قرار دارند.

گزینه ۲: از آنجا که مواد اعتیادآور می‌توانند وارد بافت مغز شده و بر روی آن اثر بگذارند، می‌توان گفت مواد اعتیادآوری مثل مورفین می‌توانند از مویرگ‌های مغزی عبور کنند.

گزینه ۴: بطن‌های ۱ و ۲ در دو طرف رابط‌های سه گوش و پینه‌ای قرار دارند. بنابراین می‌توان گفت این مویرگ‌ها که در فضای بطن‌های ۱ و ۲ قرار دارند نیز در دو طرف رابط‌های سه گوش و پینه‌ای قرار دارند.

۸ ۱ ۲ ۳ ۴ با توجه به شکل که انعکاس عقب کشیدن دست پس از برخورد با جسم داغ را نشان می‌دهد، دو یاخته عصبی رابط و یاخته عصبی حرکتی مربوط به ماهیچه دو سر بازو، پس از تحریک توسط یاخته عصبی پیش از خود، پیام عصبی تولید می‌کنند. این یاخته‌های عصبی می‌توانند موجب تغییر پتانسیل الکتریکی یاخته‌های پس از خود شوند.



۹ ۱ ۲ ۳ ۴ بررسی گزینه‌ها:

گزینه ۱: سامانه کناره‌ای (لیمبیک) با قشر مخ، تالاموس و هیپوتالاموس ارتباط دارد و در احساساتی مانند ترس، خشم، لذت و نیز حافظه نقش دارد. سامانه لیمبیک بخشی از قشر مخ نیست.

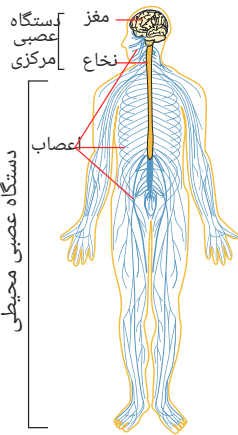
گزینه ۲: بصل‌النخاع و هیپوتالاموس در تنظیم اعمالی مثل فشارخون و ضربان قلب نقش دارند. این گزینه درباره هیپوتالاموس صحیح نیست.

گزینه ۳: قشر مخ بخشی از نیمکره‌های مخ است. این بخش جایگاه پردازش نهایی اطلاعات ورودی به مغز است که نتیجه آن یادگیری، تفکر و عملکرد هوشمندانه است.

گزینه ۴: مخ، مخچه و مغز میانی در حرکات بدن نقش دارند. مغز میانی نیمکره راست و چپ ندارد.

۱۰ ۱ ۲ ۳ ۴ بخش‌های ۱ تا ۴ به ترتیب تالاموس (نهنج)، هیپوتالاموس (زیر نهنج) مغز میانی و نخاع می‌باشند.

گروهی از پیام‌های حسی بدن از راه نخاع به مغز منتقل می‌شوند. دقت کنید پیام‌های بینایی، بویایی، شنوایی، چشایی مستقیماً (بدون عبور از نخاع) به مغز ارسال می‌شود. با توجه به شکل مقابل:



بررسی سایر گزینه ها:

- ۱) تنظیم آب تحت تنظیم عوامل مختلفی مثل هورمون ها قرار دارد. اگر غلظت مواد حل شده در خون از یک حد مشخص فراتر رود، گیرنده های اسمزی در زیر نهج تحریک می شوند.
- ۲) تالاموس محل پردازش اولیه و تقویت پیام های حسی است. اغلب پیام های حسی در تالاموس گرد هم می آیند تا به بخش های مربوط در قشر مخ، جهت پردازش نهایی فرستاده شوند.
- ۴) مغز میانی در بالای پل مغزی قرار دارد و نورون های آن در فعالیت های مختلف از جمله شنوایی، بینایی و حرکت نقش دارند.

۱۱) گزینه ۱: بصل النخاع بخشی از ساقه مغز و مرکز اصلی تنظیم تنفس است و در فعالیت ماهیچه دیافراگم (میان بند) مؤثر است. بصل النخاع از طریق نورون حرکتی پیکری با ماهیچه دیافراگم ارتباط دارد.

گزینه ۲: بصل النخاع در تنظیم ضربان قلب نقش دارد اما در تقویت پیام های حسی نقشی ندارد.

گزینه ۳: پل مغزی و بصل النخاع در جلوی مخچه (مرکز تنظیم تعادل) قرار دارد. ساقه مغز در بالای نخاع قرار دارد و محل ورود اطلاعات حسی از نخاع به نیمکره های مغز است.

گزینه ۴: مغز میانی نزدیک ترین بخش ساقه مغز به تالاموس هاست. مغز میانی در حرکات، نقش دارند.

۱۲) گزینه ۱: مشکلات کبدی، سکتة قلبی و انواع سرطان از پیامدهای مصرف بلند مدت الکل است.

گزینه ۲: الکل، بر فعالیت انواعی از ناقل های عصبی تحریک کننده و باز دارنده تاثیر می گذارد.

گزینه ۳: الکل، زمان واکنش فرد به محرک های محیطی را افزایش می دهد.

گزینه ۴: الکل، میزان هوشیاری و فعالیت بدن را کاهش می دهد.

۱۳) بررسی سایر گزینه ها:

گزینه ۱: مویرگ های دستگاه عصبی مرکزی از نوع پیوسته می باشد؛ اما توجه کنید که تنها مویرگ های مغز ممکن است هیچ منفذی نداشته باشند. مویرگ های نخاع دارای منافذی در طول خود هستند.

گزینه ۲: مایع مغزی نخاعی فضای بین پرده های مننژ را پر می کند و نقش ضربه گیری را ایفا می کنند. در حالیکه استخوان های محافظتی در بخش خارجی این پرده ها قابل مشاهده اند و هرگز در تماس مستقیم با هم قرار نمی گیرند.

گزینه ۳: در مغز انسان، بخش خاکستری، بخش سفید را احاطه کرده است و این موضوع در مورد نخاع کاملاً برعکس می باشد. در نتیجه تنها در مغز است که داخلی ترین پرده مننژ در تماس با بخش های بدون میلین (خاکستری) می باشد.

۱۴) بزرگ ترین لوب مخ، لوب پیشانی است و با دو لوب دیگر مرز مشترک دارد.

۱۵) در انعکاس عقب کشیدن دست، یاخته های عصبی رابط و ماهیچه اسکلتی با نورون حرکتی سیناپس تشکیل می دهند. بخش دوم این گزینه تنها در مورد یاخته عصبی رابط صحیح است.

بررسی سایر گزینه ها:

گزینه ۱: نورون رابط با نورون حسی سیناپس تشکیل می دهد. جسم یاخته ای نورون رابط در ماده خاکستری نخاع قرار گرفته است.

گزینه ۲: نورون حرکتی با ماهیچه دو سر بازو سیناپس تشکیل می دهد. نورون حرکتی دارای چندین دندریت می باشد.

گزینه ۴: فقط نورون حسی است که با نورون های رابط سیناپس تشکیل می دهد. نورون حسی دارای میلین در دندریت و آکسون خود است.

علیرضا افشار

مبحث: گفتار ۲ فصل ۱ زیست یازدهم

سری: شماره ۳

زمان: ۱۵ دقیقه

۱ بخشی از ساقه مغز انسان که بلافاصله در بالای نخاع قرار گرفته است،

۱ در تنظیم فعالیت‌های مختلف از جمله تنفس، ترشح براق و اشک نقش دارد.

۲ در شرایطی خاص می‌تواند به تنهایی مواد مغذی و اکسیژن بدن را تأمین نماید.

۳ در نتیجه تحریک گیرنده‌های اسمزی فعال شده و هورمون ضدادراری ترشح می‌کند.

۴ در صورت کشش بیش از حد دیواره نایژه‌ها می‌تواند فرآیند دم را متوقف سازد.

۲ کدام گزینه، عبارت مقابل را به درستی تکمیل می‌کند؟ «در ارتباط با بروز اعتیاد به در یک فرد، می‌توان گفت»

۱ الکل - مصرف به مقدار اندک بدن را تحت تأثیر قرار نمی‌دهد.

۲ کوکائین - آسیب ایجاد شده در لوب‌های پیشانی بعد از ترک کمترین میزان بهبود را خواهند داشت.

۳ الکل - با مصرف آن فعالیت ناقل‌های عصبی بازدارنده تغییری نمی‌کند.

۴ کوکائین - در پی قطع مصرف، آسیب‌های ایجاد شده کاملاً بهبود می‌یابند.

۳ در بخش ریشه مربوط به اعصاب نخاعی، ممکن است

۱ شکمی - مولکول‌های ناقل عصبی، مانع تولید پیام عصبی در دندریت شوند.

۲ پستی - یاخته غیرعصبی و هر یک از بخش‌های یاخته عصبی دیده شود.

۳ شکمی - اجسام یاخته‌ای چندین نورون حرکتی در بخشی تجمع یابند.

۴ کدام عبارت در مورد بخش‌های پیشین مغز یک انسان بالغ، درست بیان شده است؟

۱ در فرد مصرف‌کننده کوکائین، آسیب کمتری پیدا می‌کند.

۲ سدخونی - مغزی مانع از ورود هر میکروب به این بخش می‌شود.

۳ ضخامت بخش خاکستری در تمام سطح خارجی آن یکسان است.

۵ در انعکاس عقب کشیدن دست در پی برخورد با جسم داغ در بدن انسان، هر نورونی که با دو نورون دیگر همزمان سیناپس برقرار می‌کند

۱ به‌طور کامل در ماده خاکستری نخاع قرار دارد.

۲ از هر پایانه آسه خود ناقل عصبی مهاری آزاد می‌کند.

۳ دارای توانایی هدایت جهشی پیام در تمام طول خود است.

۴ باعث تغییر پتانسیل الکتریکی نورون پس‌سیناپسی می‌گردد.

۶ هر لوبی که در یکی از نیمکره‌های مخ انسان با مخچه دارای مرز مشترک است،

۱ از نمای بالا قابل مشاهده است.

۲ تنها با دو لوب دیگر مخ مرز مشترک دارد.

۳ قطعاً با لوب آهیانه مرز مشترک دارد.

۷ در تشریح مغز گوسفند، تنها در سطح مغز دیده می‌شود و این ساختار بلافاصله در مجاورت قرار دارد.

۱ مغز میانی - شکمی - بصل‌النخاع

۲ نیمکره مخچه - پستی - بطن چهارم

۳ کیاسمای بینایی - شکمی - نیمکره مخ

۴ لوب بویایی - پستی - غده ایپی فیز

۸ کدام یک از گزینه‌های زیر در رابطه با مرکز عصبی که در تنظیم گرسنگی در بدن انسان سالم و بالغ نقش دارد، صحیح می‌باشد؟

۱ معادل قسمت (هایی) از مغز گوسفند است که دو بخش آن به کمک رابط (هایی) به هم متصل‌اند.

۲ با ترشح هورمون‌های آزادکننده و مهارکننده سبب تنظیم ترشح انسولین می‌شود.

۳ تنها بخشی از مغز می‌باشد که در تنظیم خواب نقش دارد.

۴ آسیب به آن می‌تواند سبب اختلال در هم‌ایستایی بدن شود.

۹ کدام گزینه، جمله زیر را به نادرستی تکمیل می کند؟

«در هنگام تشریح مغز گوسفند، درحالتی که مغز به سمت بالا قرار دارد، می باشد.»

- ۱ لوب های بویایی - بطن چهارم پایین تر از برجستگی های چهارگانه
 ۲ سطح پشتی - بطن های ۱ و ۲ در دو طرف رابط نیم کره های مخ
 ۳ لوب های بویایی - غده رومغزی در پایین اجسام مخطط
 ۴ سطح پشتی - نهنج ها جلوی اپی فیز و پشت بطن سوم

۱۰ چند مورد در ارتباط با ساقه مغز صحیح اند؟

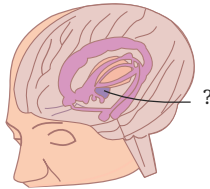
- الف) در تنظیم تنفس می تواند نقش داشته باشد.
 ب) بخشی از آن دارای ۴ برجستگی است.
 ج) در بخش میانی خود دارای مغز میانی است.
 د) در گوسفند، دارای بخشی است که بین مخچه و اپی فیز قرار دارد.

- ۱ ۴ ۲ ۳ ۳ ۲ ۴ ۱

۱۱ ساختار عصبی در به صورت است. این جانور، برخلاف

- ۱ هیدر - شبکه ای از یاخته های عصبی جهت تحریک یاخته های ماهیچه ای پیکر خود - ملخ، فاقد دهان و ساختار تنفسی ویژه است.
 ۲ پلاناریا - مغز و ساختار نردبان ماندی در پیکر جانور - کرم کدو، مواد مغذی را از سطح بدن خود جذب می کند.
 ۳ پلاناریا - تقسیم بندی بخش محیطی و مرکزی - حشرات، دارای حفره گوارشی منشعب است.
 ۴ پروانه موناک - چند گره عصبی به هم جوش خورده در مغز و طناب عصبی شکمی - کرم خاکی، دارای حلق است.

۱۲ با توجه به شکل مقابل، کدام مورد در رابطه با بخش مشخص شده با علامت «؟» به درستی بیان شده است؟



- ۱ در احساساتی مثل لذت و ترس نقش اصلی را ایفا می کند
 ۲ در تشکیل حافظه و یادگیری نقش دارد.
 ۳ محل پردازش اولیه و تقویت اغلب اطلاعات حسی است.
 ۴ تعداد ضربان قلب و فشار خون را تنظیم می کند.

۱۳ کدام گزینه عبارت زیر را به درستی کامل می کند؟

« می توان گفت می تواند »

- ۱ هر مرکز مغزی با قشری چین خورده - پردازش نهایی اطلاعات مختلف بدن را انجام دهد.
 ۲ کوچک ترین لوب مغزی - در تماس مستقیم با مرکز تنظیم تعادل بدن قرار داشته باشد.
 ۳ پایین ترین بخش ساقه مغز - توسط یاخته های دستگاه پیکری، تنفس غیرارادی را تنظیم کند.
 ۴ بالاترین غده درون ریز مغزی - در تماس مستقیم با بخشی از مغز میانی قرار گیرد.

۱۴ گروهی از اعصاب محیطی دستگاه عصبی انسان در انقباض یاخته های ماهیچه شعاعی لایه میانی چشم انسان نقش دارند؛ کدام عبارت در مورد این

گروه از اعصاب به درستی بیان شده است؟

- ۱ در انقباض همه عضلات داخل کره چشم انسان نقش دارند.
 ۲ انقباض غیرارادی تارهای ماهیچه ای تند و کند را تنظیم می کنند.
 ۳ در شرایطی حالت آرامش در بدن غالب است، این یاخته ها را به انقباض درمی آورند.
 ۴ فقط شامل نورون هایی هستند که تعداد زیادی دندربیت کوتاه از جسم یاخته ای آن ها خارج شده است.

۱۵) در صورت تزریق بنزودیازپین‌ها (داروهای مهارکننده اعصاب سمپاتیک) به بدن فردی سالم، وقوع برخلاف در بدن وی دور از انتظار است.

- ۱) افزایش بازجذب سدیم از ادرار - افزایش تجزیه گلیکوژن ذخیره‌ای در یاخته‌های کبدی
- ۲) فعال شدن بخش قشری غده فوق کلیه - کاهش حرکات گوارشی محل اصلی جذب مواد غذایی
- ۳) انقباض یاخته‌های ماهیچه شعاعی عنبیه - افزایش فاصله دو موج متوالی در الکتروکاردیوگرام
- ۴) افزایش خون‌رسانی به یاخته‌های ماهیچه اسکلتی - افزایش میزان حجم هوای مرده



مرکز مشاوره تحصیلی

علیرضا افشار

پاسخنامه تشریحی

۱) بصل النخاع بخشی از ساقه مغز است که بلافاصله در بالای نخاع قرار دارد. (به نخاع چسبیده است) مرکز اصلی تنظیم تنفس در بصل النخاع قرار دارد. در سال دهم خوانده‌اید که اگر شش‌ها بیش از حد پُر شوند، آنگاه ماهیچه‌های صاف دیواره نایژه‌ها و نایژک‌ها بیش از حد کشیده می‌شوند که در این صورت پیامی به بصل النخاع ارسال می‌شود و فرآیند دم را متوقف می‌سازد.

بررسی سایر گزینه‌ها:

گزینه ۱: بصل النخاع، مرکز اصلی تنظیم تنفس است. پل مغزی بخشی از مغز است که در تنظیم فعالیت‌ها مختلف از جمله تنفس، ترشح بزاق و اشک نقش دارد. پل مغزی در بالای بصل النخاع قرار دارد و نزدیک‌ترین بخش به نخاع نمی‌باشد.

گزینه ۲: بصل النخاع با همکاری پل مغزی در شرایط خاص می‌تواند نیاز بدن به مواد مغذی و اکسیژن را تأمین کند.

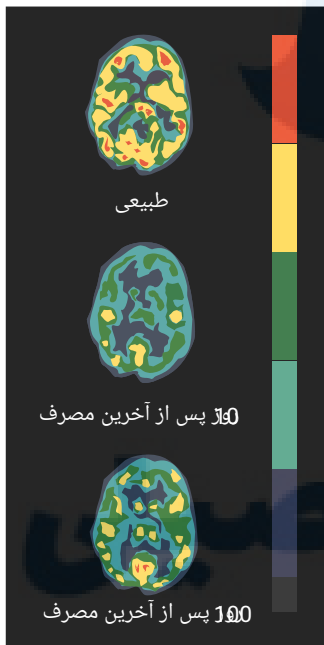
گزینه ۳: مرکز احساس تشنگی در زیرنهنج (هیپوتالاموس) واقع شده است، نه بصل النخاع.

۲) در اعتیاد به کوکائین اغلب قسمت‌های مغز آسیب می‌بینند، اما کمترین میزان بهبود متوجه قسمت‌های جلویی مغز و در قسمت لوب‌های پیشانی است. بررسی سایر گزینه‌ها:

گزینه ۱: حتی مصرف مقدار اندک الکل نیز بدن را تحت تأثیر قرار می‌دهد.

گزینه ۳: الکل علاوه بر دوپامین، بر فعالیت انواعی از ناقل‌های عصبی تحریک‌کننده و بازدارنده تأثیر می‌گذارد.

گزینه ۴: با توجه به شکل زیر، حتی پس از گذشت ۱۰۰ روز از آخرین مصرف کوکائین فعالیت مغز به حالت عادی و اولیه بازمی‌گردد.



۳) در ریشه پستی بخش‌هایی از یاخته عصبی حسی دیده می‌شود. همچنین یاخته‌های پشتیبان در کنار نوروگلیاها وجود دارند. بررسی سایر گزینه‌ها:

گزینه ۱: در ریشه شکمی دندریت وجود ندارد.

گزینه ۳: اجسام یاخته‌ای نورون‌های حرکتی در ماده خاکستری نخاع قرار دارد و آکسون آنها وارد ریشه شکمی می‌شوند.

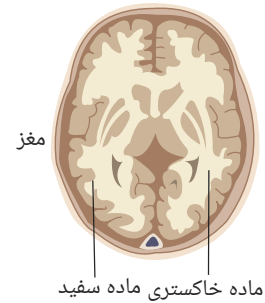
گزینه ۴: رشته‌های عصبی که به غدد وارد می‌شوند، رشته‌های حرکتی هستند. در ریشه پستی نورون حرکتی وجود ندارد و بخش‌هایی از نورون‌های حسی وجود دارد.

۴) پرده‌های مننژ در اطراف همه بخش‌های دستگاه عصبی مرکزی قرار دارند و از آن حفاظت می‌کنند. در بین پرده‌های مننژ مایع مغزی- نخاعی قرار دارد و مانند یک ضربه‌گیر عمل می‌کند. بررسی سایر گزینه‌ها:

گزینه ۱: طبق شکل پایین آسیب بخش پیشین مغز در اثر مصرف کوکائین بیش از سایر مناطق است.

گزینه ۲: بسیاری از میکروب‌ها از سدخونی مغزی عبور نمی‌کنند. اما عده‌ای می‌توانند عبور کنند.

گزینه ۳: طبق شکل پایین ضخامت بخش خاکستری در تمام سطح خارجی یکسان نیست.



۵) نورون حسی با دو نورون دیگر (نورون رابط یک و نورون رابط ۲) همزمان سیناپس برقرار می‌کند. ناقل عصبی پس از رسیدن به یاختهٔ پس‌سیناپسی پتانسیل آن را تغییر می‌دهند که این تغییر در جهت تحریک سلول پس‌سیناپسی می‌باشد.

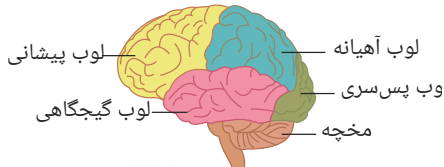
بررسی سایر گزینه‌ها:

گزینهٔ (۱): فقط بخش انتهایی آکسون و پایانهٔ آکسون نورون حسی (نه همان نورون حسی) در بخش مادهٔ خاکستری نخاع قرار دارد.

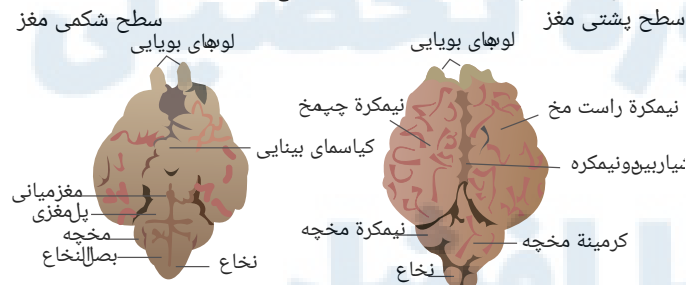
گزینهٔ (۲): هر دو سیناپس آن از نوع تحریکی است.

گزینهٔ (۳): جسم یاخته‌ای و پایانهٔ آکسونی دارای میلین نیستند و بنابراین در تمام طول خود هدایت جهشی ندارند.

۶) با توجه به شکل، لوب‌های پس‌سری و گیجگاهی با مخچه دارای مرز مشترک هستند و هر دو با لوب آهیانه نیز مرز مشترک دارند.



۷) با توجه به شکل روبه‌رو می‌بینید که کیاسمای بینایی تنها در بخش شکمی مغز دیده می‌شود که در مجاورت نیمکره‌های مخ قرار دارد.



بررسی سایر گزینه‌ها:

گزینهٔ (۱): مغز میانی تنها در بخش شکمی دیده می‌شود، اما در بخش پایینی خود، بلافاصله در مجاورت پل مغزی است، نه بصل‌النخاع.

گزینه‌های ۲، ۳ و ۴: نیمکره‌های مخچه و لوب‌های بویایی هم در سطح پشتی و هم در سطح شکمی مغز گوسفند دیده می‌شوند.

۸) هیپوتالاموس دمای بدن، تعداد ضربان قلب، فشار خون، تشنگی، گرسنگی و خواب را تنظیم می‌کند.

بررسی گزینه‌ها:

گزینهٔ (۱) برای هیپوتالاموس صادق نیست. دقت کنید نیمکره‌های مخ نیز توسط رابط‌هایی به هم متصل شده‌اند.

گزینهٔ (۲) تنظیم ترشح انسولین تحت کنترل هورمون‌های آزادکننده و مهارکنندهٔ هیپوتالاموسی نمی‌باشد.

گزینهٔ (۳) غدهٔ رومغزی (پی‌پی‌تی) با ترشح هورمون ملاتونین می‌تواند در تنظیم ریتم‌های شبانه‌روزی نقش داشته باشد.

گزینهٔ (۴) آسیب به هیپوتالاموس می‌تواند سبب اختلال در تنظیم آب بدن فرد و اختلال در هم‌ایستایی شود.

۹) ۱ ۲ ۳ ۴ نهنج‌ها (تالاموس‌ها) جلوی اپی‌فیز و بطن سوم قرار دارند.
بررسی سایر گزینه‌ها:

گزینه‌های ۱ و ۳: در صورتی که سطح شکمی یا پشتی رو به سمت ما باشد و لوب‌های بویایی به سمت بالا قرار داشته باشند، در این حالت، بطن چهارم پایین‌تر از برجستگی‌های چهارگانه و غده رومغزی در پایین اجسام مخطط قرار دارد.

گزینه ۲: بطن‌های ۱ و ۲ (بطن‌های جانبی) در دو طرف رابط‌های نیم‌کره‌های مخ قرار دارند.

۱۰) ۱ ۲ ۳ ۴ الف. درست. پل مغزی و بصل‌النخاع از بخش‌های ساقه مغز محسوب می‌شوند و در تنظیم تنفس نقش دارند.

ب. درست. منظور از این گزینه، برجستگی‌های چهارگانه است که جز مغز میانی و مغز میانی نیز جز بخشی از ساقه مغز است.

ج. نادرست. پل مغزی در بخش میانی ساقه مغز قرار دارد. مغز میانی بالاتر از پل مغزی واقع است. مغز میانی بالاترین بخش ساقه مغز است.

د. درست. برجستگی‌های چهارگانه بین اپی‌فیز و مخچه قرار دارند و بخشی از ساقه مغز محسوب می‌شوند.

۱۱) ۱ ۲ ۳ ۴ گزینه ۱: هیدر دارای شبکه عصبی است. هیدر دارای دهان است، اما ساختار تنفسی ویژه‌ای ندارد.

گزینه ۲: پلاناریا دارای مغز و ساختار نردبان ماند در پیکر خود است. پلاناریا کرم پهن آرازدی است و غذا را از راه دهان وارد بدن خود می‌کند اما کرم کدو فاقد دهان و دستگاه گوارش است و مواد مغذی را از سطح بدن جذب می‌کند.

گزینه ۳: در دستگاه عصبی پلاناریا تقسیم‌بندی مرکزی و محیطی وجود دارد. پلاناریا دارای حفره گوارشی منشعب است برخلاف حشرات که لوله گوارشی دارند.

گزینه ۴: پروانه مونارک یک حشره است. در حشرات مغز از چند گره به هم جوش خورده تشکیل شده است و یک طناب عصبی شکمی دارد. کرم خاکی دارای حلق است.

۱۲) ۱ ۲ ۳ ۴ بخش مشخص شده با علامت سوال، هیپوتالاموس می‌باشد که در زیر تالاموس‌ها قرار دارد و دمای بدن، تعداد ضربان قلب، فشار خون، تشنگی، گرسنگی و خواب را تنظیم می‌کند.

بررسی سایر گزینه‌ها:

گزینه ۱: نقش اصلی در احساساتی مثل لذت و ترس را، سامانه لیمبیک ایفا می‌کند.

گزینه ۲: تالاموس‌ها، محل پردازش اولیه و تقویت اغلب اطلاعات حسی می‌باشند.

گزینه ۳: هیپوکامپ (اسبک) محل تشکیل حافظه و یادگیری است.

۱۳) ۱ ۲ ۳ ۴ پایین‌ترین قسمت ساقه مغز، بصل‌النخاع می‌باشد. بصل‌النخاع از طریق کنترل حرکات دیافراگم به صورت غیرارادی می‌تواند تنفس غیرارادی را کنترل کند؛ اما توجه کنید که دیافراگم ماهیچه‌ای ارادی است و کنترل آن به وسیله نورون‌های حرکتی دستگاه عصبی پیکری انجام می‌شود. این کنترل در واقع مثالی از حرکات غیرارادی در دستگاه عصبی پیکری است.

بررسی سایر گزینه‌ها:

گزینه ۱: مراکز از مغز که دارای قشر چین‌خورده هستند، مخ و مخچه هستند. می‌دانیم که پردازش نهایی اطلاعات مختلف بدن بر عهده قشر مخ است و در این موضوع مخچه دخالتی ندارد.

گزینه ۲: کوچک‌ترین لوب مخ، لوب پس‌سری، اما کوچک‌ترین لوب مغزی، لوب‌های بویایی هستند. این لوب پس‌سری است که با مرکز تنظیم تعادل بدن (مخچه) در تماس مستقیم است.

گزینه ۴: بالاترین غده مغزی هیپوتالاموس است؛ غده اپی‌فیز برخلاف هیپوتالاموس با بخشی از مغز میانی (برجستگی‌های چهارگانه) در تماس قرار می‌گیرد.

۱۴) ۱ ۲ ۳ ۴ اعصاب محیطی خودمختار در انقباض یاخته‌های ماهیچه‌ای صاف عنبیه نقش دارند. عضلات داخل کره چشم انسان شامل ماهیچه مژکی، ماهیچه‌های عنبیه و عضلات صاف دیواره رگ‌های خونی هستند که همگی از نوع صاف و غیرارادی هستند.

بررسی سایر گزینه‌ها:

گزینه ۲: تارهای ماهیچه‌ای تند و کند، انواع یاخته‌های ماهیچه اسکلتی هستند. انقباض غیرارادی یاخته‌های ماهیچه اسکلتی توسط اعصاب پیکری صورت می‌گیرد.

گزینه ۳: با فعال شدن بخش پاراسمپاتیک دستگاه خودمختار، انقباض یاخته‌های ماهیچه حلقوی موجب تنگ شدن سوراخ مردمک می‌شود.

گزینه ۴: در اعصاب مرتبط با نخاع، علاوه بر بخش حرکتی، بخش حسی (شامل نورون‌های حسی که تنها یک دندرت دارند) نیز قابل مشاهده است.

۱۵) ۱ ۲ ۳ ۴ با مهار شدن اعصاب سمپاتیک بدن فردی، حالت آرامش در بدن وی حاکم می‌شود. در این صورت با انقباض ماهیچه حلقوی عنبیه سوراخ مردمک تنگ می‌شود.

تعداد زنبش‌های قلب کم شده و در نتیجه فاصله دو موج متوالی در الکتروکاردیوگرام افزایش می‌یابد.

بررسی سایر گزینه‌ها:

گزینه ۱: با فعال شدن اعصاب پاراسمپاتیک، میزان قند خون و تجزیه گلیکوژن یاخته‌های کبدی کاهش می‌یابد.

گزینه ۲: در حالت آرامش میزان فعالیت‌های گوارشی فرد افزایش می‌یابد.

گزینه ۴: به دلیل تنگ شدن نایژه‌ها و نایزک‌ها میزان حجم هوای مرده کاسته می‌شود.



مبحث: گفتار ۱ فصل ۲ زیست یازدهم

سری: شماره ۱

زمان: ۱۲ دقیقه

۱ کدام مورد می‌تواند جمله زیر را تکمیل کند؟ «گیرنده‌های فشار در پوست»

- ۱ دارای پوشش چند لایه‌ای از یاخته‌هایی است که فضای بین یاخته‌ای آنها بسیار کم است.
- ۲ نمی‌تواند در بین یاخته‌های چربی مشاهده شود.
- ۳ اگر در معرض محرک ثابت قرار گیرند، پیام کمتری به مغز ارسال می‌کنند.
- ۴ نسبت به بقیه گیرنده‌ها به بافت پوششی سطح پوست، نزدیک‌ترند.

۲ کدام عبارت در مورد گیرنده‌های حواس پیکری نادرست است؟

- ۱ در نوعی گیرنده حس پوست با انتهای دندریت آزاد، می‌تواند سازش ایجاد نشود.
- ۲ گیرنده دمایی در دیواره بزرگ سیاهرگ زیرین جزء گیرنده‌های حس پیکری است.
- ۳ انتهای دندریت گیرنده فشار در پوست توسط بافت پوششی چند لایه‌ای پوشانده شده است.
- ۴ این گیرنده‌ها می‌توانند اطلاعات حسی را به دستگاه عصبی مرکزی ارسال کنند.

۳ چند عبارت درست است؟

- الف) هر گیرنده حس که در دیواره سرخرگ‌ها یافت می‌شود در تولید ایجاد احساس درد دخالت دارد.
- ب) در زمان سازش گیرنده‌های حس، پیامی به مغز ارسال نمی‌شود.
- ج) سازش گیرنده‌ها، فرصت کافی برای پردازش اطلاعات مهم‌تر را به مغز می‌دهد.
- د) گیرنده‌های وضعیت موجود در ماهیچه اسکلتی در حالت سکون نقشی در درک وضعیت قسمت‌های مختلف بدن نسبت به هم ندارند.

- ۱ ۱
- ۲ ۲
- ۳ ۳
- ۴ ۴

۴ چند مورد از موارد زیر به درستی بیان نشده‌اند؟

- الف) گیرنده‌های دمایی و گیرنده‌های حساس به کاهش اکسیژن در دیواره رگی حاوی خون تیره یافت می‌شوند.
- ب) پتانسیل عمل ایجاد شده در پوشش پیوندی گیرنده فشار به دستگاه عصبی مرکزی ارسال می‌شود.
- ج) سازش هر گیرنده قطعاً با عدم ارسال پیام عصبی همراه است.
- د) گیرنده‌های حس پیکری فقط در پوست، ماهیچه‌های اسکلتی و زردپی‌های بدن انسان وجود دارند.

- ۱ ۴
- ۲ ۳
- ۳ ۲
- ۴ ۱

۵ مکان کدام گیرنده، نادرست است؟

- ۱ گیرنده شیمیایی در برخی سرخرگ‌ها
- ۲ گیرنده‌های درد در دیواره سرخرگ‌ها
- ۳ گیرنده حس وضعیت در پوست
- ۴ گیرنده مکانیکی در کپسول پوشاننده مفصل

۶ می‌توان گفت (با تغییر)

- ۱ اغلب جانوران گیرنده‌های دریافت کننده محرک‌هایی را دارند که انسان فقط به کمک ابزار می‌تواند آنها را دریافت کند.
- ۲ به طور معمول تماس ساعت یا عینک را با پوست خود احساس نمی‌کنیم.
- ۳ در برخی سیاهرگ‌های بزرگ، گیرنده‌های دمایی وجود دارد که به تغییرات دمای درون بدن حساس‌اند.
- ۴ هر گیرنده حس، بخشی از یک یاخته می‌باشد که اثر محرک را دریافت می‌کند.

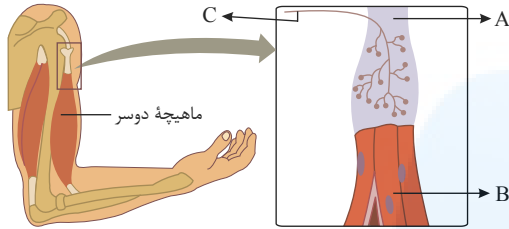


۷ نقش هر گیرنده حسی

- ۱ دریافت اطلاعات از محیط فرد است.
- ۲ دریافت و ارسال اطلاعات به دستگاه عصبی مرکزی است.
- ۳ دریافت اثر محرک و تبدیل قطعی آن به پیام عصبی است.
- ۴ با دیگر انواع گیرنده های حسی یکسان است، ولی نوع محرکی که دریافت می کنند با هم متفاوت است.

۸ کدام گزینه با توجه به شکل مقابل، صحیح است؟

- ۱ انتهای دارینه یاخته عصبی C، توسط پوششی از جنس بافت پیوندی احاطه شده است.
- ۲ پیام عصبی رشته عصبی بخش C، از طریق ریشه پشتی به درون نخاع وارد می شود.
- ۳ همه نورون های مرتبط با بخش B، جزء بخش حسی دستگاه عصبی محیطی محسوب می شوند.
- ۴ بخش A در فضای بین یاخته ای اندک خود دارای انواعی از رشته های پروتئینی به ویژه کلاژن می باشد.



۹ کدام گزینه عبارت زیر را به نادرستی تکمیل می کند؟

«گیرنده های درد در نتیجه

- ۱ سازش پذیر نیستند - هنگامی که آسیب بافتی رخ می دهد، فرد از آن آگاه می شود.
- ۲ در اثر تخریب بافت تحریک می شوند - فرد را برای انجام واکنشی مناسب آگاه می کنند.
- ۳ انتهای دندریت آزاد هستند - درون پوششی از بافت پیوندی قرار ندارند.
- ۴ سازوکار حفاظتی دارند - تنها پس از تخریب یاخته های بدن تحریک می شوند.

۱۰ در انسان

- ۱ هر نوع گیرنده شیمیایی، قطعا از حواس پیکری محسوب می شود.
- ۲ هر نوع گیرنده دمايي، قطعا از حواس ویژه محسوب می شود.
- ۳ هر نوع گیرنده مکانیکی، قطعا از حواس پیکری محسوب می شود.
- ۴ هر نوع گیرنده نوری، قطعا از حواس ویژه محسوب می شود.

۱۱ همواره پدیده سازش گیرنده ها در انسان،

- ۱ به بی اثر شدن محرک اثر گذار با گذشت زمان می انجامد.
- ۲ موجب تغییر نوع پاسخ گیرنده به محرک تکرار شونده می شود.
- ۳ با غیر فعال شدن پروتئین های غشایی گیرنده محرک همراه است.
- ۴ به کاهش مصرف انرژی در یاخته های مغزی کمک می کند.

۱۲ در رابطه با گیرنده ای که در تصویر مقابل می بینید کدام گزینه نادرست است؟

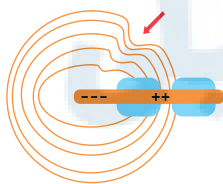
- ۱ هنگام حرکت، مغز را از چگونگی قرار گیری قسمت های مختلف بدن نسبت به هم مطلع می کند.
- ۲ با ایجاد سازش باعث می شود مغز اطلاعات مهم تری را پردازش کند.
- ۳ محرک این گیرنده، می تواند سبب تحریک گیرنده های درد شود.
- ۴ محل قرار گیری آن ها در پوست می تواند بین بافت سنگ فرشی چند لایه و بافت چربی باشد.

۱۳ هر گیرنده حواس پیکری

- ۱ بخشی از یک یاخته است که ممکن است دارای پوشش باشد.
- ۲ تحت تاثیر ارتعاش می تواند پیام عصبی ایجاد کند.
- ۳ می تواند اثر نوعی ماده با PH پایین را به مغز گزارش دهد.
- ۴ را می توان در اندام پوشش دهنده سطح بدن یافت.

۱۴ چند مورد عبارت روبه رو را به درستی تکمیل می کند؟ «برخی از گیرنده های مکانیکی ممکن است

- * با تغییرات طول ماهیچه تحریک شوند.
- * با ارتعاش تحریک شوند.
- * با تغییر فشار خون تحریک شوند.
- * در کپسول پوشاننده مفصل واقع شده باشند.



۱۵) در پوست انسان، گیرنده‌های درد

- ① تنها با ضربه‌های مکانیکی شدید تحریک می‌شوند.
- ② با محرک‌های شدید متفاوتی تحریک می‌شوند.

- ③ دندریت‌های محصور در بافت پیوندی دارند.
- ④ دندریت‌های قرار گرفته در عمق پوست دارند.

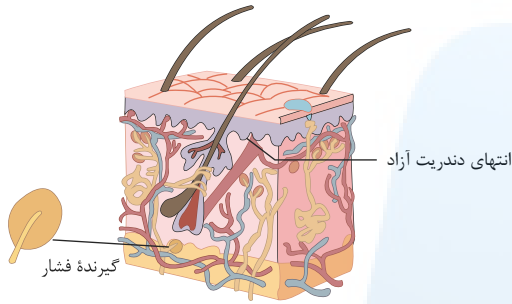


مرکز مشاوره تحصیلی
علیرضا افشار

پاسخنامه تشریحی

۱) بررسی گزینه‌ها:

گزینه ۱: توسط پوشش چند لایه پیوندی احاطه شده‌اند. یاخته‌های بافت پیوندی دارای فضای بین یاخته‌ای بیشتر از یاخته‌های پوششی هستند.
گزینه ۲: طبق شکل مقابل گیرنده‌های فشار در بین بافت چربی در زیر پوست وجود دارند.



گزینه ۳: گیرنده فشار دارای توانایی سازش پذیری است.

گزینه ۴: گیرنده‌های مکانیکی فشار در پوست انسان از عمقی‌ترین گیرنده‌ها هستند.

۲) در انتهای دندریت گیرنده فشار بافت پیوندی چند لایه وجود دارد نه پوششی چند لایه.
بررسی سایر گزینه‌ها:

گزینه ۱: در گیرنده درد که انتهای آزاد دارد، سازش ایجاد نمی‌شود.

گزینه ۲: گیرنده دمایی، تماس، درد و حس وضعیت جزء گیرنده‌های حسی پیکری محسوب می‌شوند.

گزینه ۴: گیرنده‌های حواس پیکری اطلاعات حسی را به مغز و نخاع ارسال می‌کنند.

۳) مورد «الف» نادرست، در دیواره سرخرگ‌ها گیرنده‌های دیگری به جز درد نیز یافت می‌شود. برای مثال گیرنده‌های مکانیکی برای فشار خون و گیرنده‌های شیمیایی حساس به کمبود اکسیژن.
مورد «ب» نادرست، در پدیده سازش، گیرنده‌ها اطلاعات کمتری به مغز می‌فرستند.

مورد «ج» درست، سازش گیرنده‌ها، فرصت کافی برای پردازش اطلاعات مهم تر را به مغز می‌دهد.

مورد «د» نادرست، گیرنده‌های مکانیکی حس وضعیت موجب می‌شود که مغز از چگونگی قرارگیری قسمت‌های مختلف بدن نسبت به هم، هنگام سکون و حرکت اطلاع یابد.

۴) همه موارد نادرست می‌باشند.

الف) گیرنده‌ی دمایی درون سیاهرگ‌های بزرگ ولی گیرنده‌ی حساس به کاهش اکسیژن در دیواره‌ی آئورت با خون روشن یافت می‌شود (گیرنده‌ی حساس به کاهش اکسیژن در آئورت مربوط به فعالیت ۱ می‌باشد).

ب) در پوشش پیوندی در گیرنده‌ی فشار تغییر پتانسیل الکتریکی رخ نمی‌دهد، فقط رشته‌ی دندریت را تحت فشار قرار می‌دهد، کانال‌های یونی در غشاء گیرنده باز می‌شود.

ج) در سازش گیرنده‌ها یا پیام عصبی کمتری ایجاد می‌شود و یا اصلاً پیامی ارسال نمی‌شود.

د) کلمه‌ی فقط صحیح نیست مثلاً گیرنده‌ی درد و دما درون رگ‌هایی مثل سرخرگ و سیاهرگ هم وجود دارند.

۵) گیرنده‌های حس وضعیت درون ماهیچه‌های اسکلتی، زردپی‌ها و کپسول پوشاننده مفصل‌ها قرار دارند.

در پوست گیرنده‌های تماسی، گیرنده‌های دمایی و گیرنده‌های درد وجود دارد.

بررسی سایر گزینه‌ها:

۱) گیرنده‌های حساس به کمبود اکسیژن در برخی از سرخرگ‌ها مانند سرخرگ آئورت و سرخرگ‌های گردن وجود دارد که این گیرنده‌ها، شیمیایی هستند.

۲) گیرنده‌ی درد می‌تواند در دیواره سرخرگ‌ها باشد.

۴) گیرنده‌ی حس وضعیت در کپسول پوشاننده مفصل از نوع مکانیکی است.

۶) در بدن انسان علاوه بر پوست، برخی سیاهرگ‌های بزرگ هم گیرنده‌ی دمایی دارند که تغییرات دمای درون بدن را به مغز ارسال می‌کنند.
بررسی سایر گزینه‌ها:

گزینه ۱: برخی جانوران اطلاعاتی را دریافت می‌کنند که ما بدون استفاده از ابزار مناسب آن‌ها را درک نمی‌کنیم.

گزینه ۲: گاهی (نه همیشه) تماس ساعت یا عینک را با پوست خود احساس نمی‌کنیم.

گزینه ۴: گیرنده‌ی حسی یاخته یا بخشی از یک یاخته می‌باشند که اثر محرک را دریافت می‌کنند.

۷) بررسی گزینه‌ها:

گزینه ۱: بعضی گیرنده‌های حسی اطلاعاتی را از درون بدن برای دستگاه عصبی مرکزی، جمع‌آوری می‌کنند. مانند گیرنده‌هایی که کشش ماهیچه‌ها و یا دمای درون بدن را به دستگاه عصبی مرکزی اطلاع می‌دهند.

گزینه ۲: همه گیرنده‌های حسی کار دریافت اثر محرک را انجام می‌دهند و می‌توانند این اثر محرک را به پیام عصبی تبدیل نمایند اما فقط برخی از گیرنده‌های حسی کار انتقال پیام عصبی به

دستگاه عصبی مرکزی را به عهده دارند.

گزینه (۳): گیرنده‌های حسی دریافت کننده اثر محرک از محیط داخل یا خارج بدن هستند. گیرنده‌ها اثر محرک را به پیام عصبی تبدیل می‌کنند.

گزینه (۴): گیرنده‌های حسی بر اساس "نوع محرکی" که دریافت می‌کنند، به پنج نوع مختلف تقسیم بندی می‌شوند اما همگی اثر محرک را دریافت و می‌توانند آن را به پیام عصبی تبدیل نمایند.

۸ (۱) (۲) (۳) (۴) بررسی گزینه‌ها:

گزینه (۱): انتهای دارینهٔ یاختهٔ عصبی C ، توسط پوشش پیوندی احاطه نشده است.

گزینه (۲): رشتهٔ عصبی C یک رشتهٔ حسی دست است. پیام عصبی این رشته توسط ریشهٔ پشتی وارد نخاع می‌شود.

گزینه (۳): بخش B ماهیچهٔ اسکلتی است، پیام نورون‌های حرکتی نیز به این بخش وارد می‌شود.

گزینه (۴): بخش A زردپی است. زردپی بافت پیوندی رشته‌ای است. در فضای بین‌باخته‌ای بافت‌های پیوندی، رشته‌های کلاژن وجود دارد؛ اما فضای بین‌باخته‌ای اندک نیست.

۹ (۱) (۲) (۳) (۴) درد یک سازوکار حفاظتی می‌باشد. هرگاه یاخته‌ها در «معرض» تخریب قرار بگیرند، نه اینکه لزوماً تخریب شوند، این گیرنده‌ها تحریک می‌شوند در نتیجه

تحریک گیرنده درد الزاماً پس از تخریب صورت نگیرد. مثلاً نشستن طولانی مدت ممکن است موجب آسیب دیدن پوست در محل نشیمن گاه شود. بنابراین فرد به طور ناخودآگاه تغییر وضعیت می‌دهد، در غیر این صورت، پوست در نقاط تحت فشار تحریک می‌شود.

بررسی سایر گزینه‌ها:

۱ و ۲) گیرنده‌های درد سازش پذیر نیستند و می‌توانند فرد را از آسیب بافتی آگاه کنند. در نتیجه این پدیده کمک می‌کند که مادامی که محرک آسیب‌رسان وجود دارد، فرد از وجود محرک اطلاع داشته باشد.

۳) گیرنده‌های حسی درد انتهای دندریت آزاد هستند و درون پوششی از بافت پیوندی قرار ندارند.

۱۰ (۱) (۲) (۳) (۴) بررسی گزینه‌ها:

گزینه (۱): گیرنده‌های شیمیایی در زبان و بینی از حواس ویژه، و گیرنده‌های شیمیایی برای مثال تعیین میزان غلظت اکسیژن خون از نوع حس پیکری است.

گزینه (۲): گیرنده‌های نوری در انسان در چشم قرار دارند، و از حواس ویژه محسوب می‌شوند.

گزینه (۳): گیرنده‌های مکانیکی شنوایی و تعادل از انواع حس ویژه، و گیرنده‌های مکانیکی در پوست و ماهیچه و رگ‌ها، از نوع حواس پیکری هستند.

گزینه (۴): گیرنده‌های دمایی از انواع گیرنده‌های پیکری هستند.

۱۱ (۱) (۲) (۳) (۴) پدیدهٔ سازش گیرنده‌ها باعث می‌شود مغز دائماً به اطلاعات تکراری پاسخ ندهد و در مصرف انرژی صرفه‌جویی کند.

بررسی سایر گزینه‌ها:

گزینه‌های «۱» و «۳»: وقتی گیرنده‌ها مدتی در معرض محرک ثابتی قرار گیرند، پیام عصبی کمتری ایجاد می‌کنند، یا اصلاً پیامی ارسال نمی‌کنند.

گزینه «۲»: در سازش گیرنده‌ها، شدت پاسخ‌دهی به محرک تغییر می‌کند نه نوع آن.

۱۲ (۱) (۲) (۳) (۴) گیرندهٔ مورد سوال گیرنده فشار است.

گزینه ۱- گیرندهٔ حس وضعیت سبب آگاه کردن مغز از چگونگی قرارگیری قسمت‌های مختلف بدن نسبت به هم می‌شود.

گزینه ۲- گیرنده‌های فشار پوست جز گیرنده‌هایی هستند که اگر مدتی در معرض محرک ثابتی قرار گیرند، سازش می‌پذیرند و به مغز فرصت می‌دهند اطلاعات مهم تری را پردازش کنند.

گزینه ۳- محرک گیرندهٔ مورد نظر فشار است. نقاطی از پوست که تحت فشار قرار می‌گیرند به دلیل احتمال آسیب پوست گیرنده‌های درد را تحریک می‌کنند.

گزینه ۴- گیرنده‌های فشار می‌توانند بین بافت سنگ فرشی چندلایه و بافت چربی قرار بگیرند.

۱۳ (۱) (۲) (۳) (۴) گزینه ۱- گیرنده‌های حواس پیکری، انتهای دندریت آزاد، مانند گیرنده‌های درد، یا انتهای دندریت‌هایی درون پوششی از بافت پیوندی مانند گیرنده‌های فشار در پوست اند.

گزینه ۲- حواس پیکری شامل گیرنده‌های تماسی، دمایی، حس وضعیت و درد هستند. گیرنده‌های تماسی به ارتعاش حساس اند. اما گیرندهٔ دمایی به ارتعاش پاسخ نمی‌دهد.

گزینه ۳- ماده با PH پایین یعنی اسید. گیرنده‌های درد با اسیدلاکتیک تحریک شده و وجود این ماده را به مغز گزارش می‌دهند. اما هر گیرندهٔ حواس پیکری چنین توانایی ندارد.

گزینه ۴- اندام پوشش دهندهٔ سطح بدن پوست است. گیرنده‌های حس وضعیت در پوست وجود ندارند.

۱۴ (۱) (۲) (۳) (۴) هر ۴ گزینه درست می‌باشند.

- گیرنده‌های وضعیت درون ماهیچه با تغییر طول ماهیچه تحریک می‌شوند.

- گیرنده‌های مژک‌دار بخش حلزونی گوش درونی با ارتعاش تحریک می‌شوند.

- گیرنده‌های فشار در دیوارهٔ سرخرگ‌های گردش عمومی به تغییر فشار خون حساس‌اند.

- در کپسول پوشانندهٔ مفصل گیرندهٔ حس وضعیت وجود دارند که مکانیکی‌اند.

۱۵ (۱) (۲) (۳) (۴) گیرنده درد، سطحی‌ترین گیرنده و فاقد پوشش است. گیرنده‌های درد به آسیب بافتی پاسخ می‌دهند مانند عوامل مکانیکی، سرما یا گرمای شدید- و برخی مواد

شیمیایی

مبحث: گفتار ۱ فصل ۲ زیست یازدهم

سری: شماره ۲

زمان: ۱۲ دقیقه

۱ در رابطه با گیرنده فشار در پوست انسان، کدام گزینه نادرست است؟

۱ نوعی گیرنده مکانیکی است که با دستگاه عصبی محیطی در ارتباط است.

۲ چند لایه بافت پیوندی انعطاف پذیر اطراف آن قرار دارد.

۳ جزء گروهی از گیرنده‌ها است که تعداد نوعی از آن‌ها در پوست بخش‌های گوناگون بدن متفاوت است.

۴ در حضور محرک، همواره پیام عصبی به مغز ارسال می‌کند.

۲ همه گیرنده‌های مربوط به حواس پیکری که در پوست انسان مشاهده می‌شوند،

۱ هرگاه مدتی در معرض محرک ثابتی قرار گیرند، پیام عصبی تولید نمی‌کنند و یا پیام عصبی کمتری تولید می‌کنند.

۲ انتهای داربند یاخته‌های عصبی حسی هستند که درون پوششی از بافت پیوندی قرار گرفته‌اند.

۳ می‌توانند پیام عصبی تولید کنند و به منظور پردازش، آن را به دستگاه عصبی مرکزی ارسال می‌کنند.

۴ با فشردن پوشش اطرافشان، تحریک شده و پتانسیل الکتریکی غشای آن‌ها تغییر می‌کند.

۳ به طور معمول، در بدن انسان سالم می‌توانند

۱ گیرنده‌های تماسی پوست - در بخشی که در تولید صدا نقش دارد، تعداد بیش تری از سایر نقاط بدن داشته باشید.

۲ گیرنده‌های دمایی - در هر سیاهرگ بدن در اثر تغییر دما تحریک شوند و پیام عصبی تولید کنند.

۳ گیرنده‌های حس وضعیت - در ماهیچه‌های اسکلتی، زردپی‌ها و کپسول پوشاننده مفصل‌ها یافت شوند.

۴ گیرنده‌های درد - به دنبال فشردن پوشش اطراف خود، به آسیب بافتی پاسخ دهند.

۴ کدام عبارت زیر صحیح نمی‌باشد؟

۱ عمقی‌ترین گیرنده حسی پوست، نوعی گیرنده تماسی بوده که در بین یاخته‌های بافت پیوندی قرار دارند.

۲ در پی تحریک گیرنده حسی در پوست، کانال‌های دریچه‌دار سدیمی باز شده و سدیم به یاخته وارد می‌شود.

۳ لاکتیک اسید می‌تواند باعث ایجاد آسیب بافتی و تحریک گیرنده‌های درد شود.

۴ هر گیرنده حسی موجود در پوست، اطلاعات دریافتی را از طریق ریشه پشتی به نخاع منتقل می‌کند.

۵ کدام گزینه درباره هر نوع گیرنده حسی سالم در بدن انسان صحیح است؟

۱ پیام‌های حسی را از طریق ریشه پشتی نخاع به دستگاه عصبی مرکزی می‌فرستد. ۲ تحت تأثیر محرک، می‌تواند نفوذپذیری غشای خود نسبت به یون‌ها را تغییر دهد.

۳ پس از تولید پیام عصبی آن را به تالاموس ارسال می‌کند. ۴ بخشی از یک یاخته عصبی تمایز یافته است.

۶ در رابطه با گیرنده‌های فشاری شکل مقابل، قطعاً

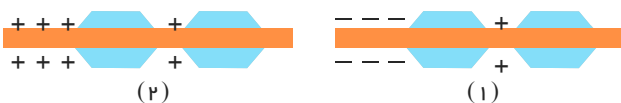
۱ در وضعیت ۱، تبدیل اثر محرک به پیام عصبی در این گیرنده در حال وقوع است.

۲ در وضعیت ۲، تحت تأثیر فشار، ابتدا کانال‌های پتاسیمی غشای این گیرنده باز می‌شوند.

۳ در هر دو وضعیت پروتئین انتقال دهنده سدیم - پتاسیم غشای گیرنده، فعالیت می‌کند.

۴ پیام عصبی حاصل از گیرنده در وضعیت ۱ از طریق نخاع به تالاموس منتقل می‌شود.

فشار



۷ کدام عبارت درست است؟

۱ وجود حواس برای بقای انسان ضروری است. ۲ هر نوع گیرنده حسی، در جانوران مختلف ساختار یکسانی دارد.

۳ گیرنده‌های حسی، با دریافت پیام عصبی، محرک‌ها را شناسایی می‌کنند. ۴ گیرنده‌های درد می‌توانند گرمای شدید را نیز تشخیص دهد.

۸ هر گیرنده حسی پیکری

- ۱ فقط در پوست قرار دارد. ۲ در انتهای خود، پوششی از بافت پیوندی دارد.
 ۳ در حضور طولانی مدت محرک، پیام‌های عصبی کم‌تری تولید می‌کند. ۴ در پوست، بخشی از یک باخته عصبی است.

۹ گیرنده‌هایی که سازش پیدا نمی‌کنند،

- ۱ فقط در پوست و دیواره سرخرگ‌ها قرار دارند. ۲ می‌توانند در پاسخ به هر نوع محرک حسی، تحریک شوند.
 ۳ جزء گیرنده‌های حواس ویژه است. ۴ از پایانه آزاد دندریت تشکیل شده است.

۱۰ کدام گزینه نادرست است؟

- ۱ گیرنده‌های حس پیکری، مغز را از چگونگی قرارگیری دست‌ها و پاها نسبت به هم، هنگام راه رفتن مطلع می‌کنند.
 ۲ گیرنده‌هایی که با ارتعاش تحریک می‌شوند همانند گیرنده‌های حس وضعیت از نوع مکانیکی هستند.
 ۳ در بزرگ‌ترین سرخرگ بدن، گیرنده‌هایی برای سنجش میزان اکسیژن خون وجود دارد.
 ۴ تحریک هر گیرنده حس پیکری نیازمند محرک‌های شدید است.

۱۱ گیرنده‌های دمایی در برخی سیاهرگ‌های بزرگ، گیرنده درد در دیواره سرخرگ‌ها، گیرنده‌های فشار خون در دیواره رگ‌ها، گیرنده میزان

اکسیژن در آئورت به ترتیب جز حواس

- ۱ پیکری- پیکری- پیکری ۲ ویژه- پیکری- پیکری- ویژه ۳ پیکری- ویژه- پیکری- ویژه ۴ ویژه- ویژه- پیکری- پیکری

۱۲ کدام جمله نادرستی را بیان می‌کند؟

- ۱ بخشی از دندریت که درون پوشش گیرنده فشار قرار دارد دارای غلاف میلین است.
 ۲ گیرنده‌ای که دارای پوششی چندلایه و انعطاف‌پذیر است می‌تواند درون بافت چربی قرار داشته باشد.
 ۳ محرک مشابهی وجود ندارد که سبب تغییر پتانسیل الکتریکی گیرنده‌های پوست و سرخرگ‌ها شود.
 ۴ درون زردپی گیرنده‌هایی وجود دارد که مشابه آن در کپسول مفصلی نیز وجود دارد.

۱۳ گیرنده‌های دمایی

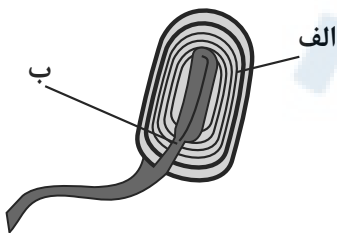
- ۱ همانند گیرنده‌های حساس به کاهش O_2 در برخی سیاهرگ‌های بزرگ قرار دارند.
 ۲ همانند گیرنده‌های درد در دیواره سرخرگ‌ها وجود دارند.
 ۳ برخلاف گیرنده‌های درد در مقابل برخی محرک‌های شیمیایی تغییر پتانسیل الکتریکی نمی‌دهند.
 ۴ برخلاف گیرنده‌های تماسی می‌توانند به جز پوست در بافت‌های دیگر نیز وجود داشته باشند.

۱۴ هر گیرنده مکانیکی

- ۱ با فشرده شدن پوشش اطراف خود دچار تغییر پتانسیل الکتریکی می‌شود.
 ۲ دارای کانال‌های یونی است که می‌تواند تحت تأثیر محرک دچار تغییر شکل فضایی شود.
 ۳ فشار، یاخته‌ای است که اثر محرک را به یک پیام عصبی تبدیل می‌کند.
 ۴ درد، در اثر آسیب بافتی با شدت مناسب دچار تغییر پتانسیل الکتریکی می‌شود.

۱۵ در طرح مقابل (گیرنده‌ی حسی پوست انسان) «الف» و «ب» به ترتیب کدامند؟

- ۱ بافت پوششی - آکسون ۲ بافت پیوندی - دندریت
 ۳ بافت پیوندی - آکسون ۴ بافت پوششی - دندریت



پاسخنامه تشریحی

۱) بررسی گزینه‌ها:

گزینه ۱) گیرنده فشار نوعی گیرنده تماسی است. گیرنده‌های تماسی، جز گیرنده‌های مکانیکی هستند. دقت کنید گیرنده‌های حسی با بخش حسی دستگاه عصبی محیطی در ارتباط هستند. گزینه ۲) پوششی چندلایه و انعطاف پذیر از نوع بافت پیوندی اطراف آن قرار دارد. گزینه ۳) گیرنده فشار پوست نوعی گیرنده تماسی است. تعداد گیرنده‌های تماس در پوست بخش‌های گوناگون بدن متفاوت است. گزینه ۴) گیرنده فشار پوست نوعی گیرنده سازش پذیر است. در پدیده سازش وقتی گیرنده مدتی در معرض محرک ثابتی قرار گیرد، پیام عصبی کمتری ایجاد می‌کند یا اصلاً پیامی ارسال نمی‌کند.

۲) ۱. گیرنده‌های درد تحت تأثیر محرک ثابت سازش نمی‌کنند.

۲. گیرنده‌های مربوط به حواس پیکری پوست، انتهای دندریت هستند. اما عده‌ای از آنها مثل گیرنده‌های درد در اطراف دندریت پوششی از بافت پیوندی ندارند.

۳. همه گیرنده‌های حسی پوست پس از ایجاد تحریک می‌توانند پیام عصبی تولید کنند. این پیام برای پردازش به دستگاه عصبی مرکزی ارسال می‌شود.

۴. گیرنده‌هایی مثل درد، پوشش پیوندی در اطراف خود ندارند که با فشردن شدن تحریک شود.

۳) ۱ ۲ ۳ ۴ گیرنده‌های حس وضعیت در ماهیچه‌های اسکلتی، زردپی‌ها و کپسول پوشاننده مفصل‌ها قرار دارند. گیرنده‌های مکانیکی حس وضعیت موجب می‌شود که مغز از چگونگی قرارگیری قسمت‌های مختلف بدن نسبت به هم، هنگام سکون و حرکت اطلاع یابد. گیرنده‌های وضعیت درون ماهیچه‌ها به تغییر طول ماهیچه تغییر می‌کند. بررسی سایر گزینه‌ها:

گزینه ۱) گیرنده‌های تماس، گیرنده‌های مکانیکی در پوست و بافت‌های دیگرند که با تماس، فشار یا ارتعاش تحریک می‌شوند. بخش‌های که تعداد گیرنده‌های بیشتری دارند، مانند «نوک انگشتان و لب‌ها، حساس‌ترند.

لب‌ها در واژه سازی نقش دارند (نه در تولید صدا)، در ضمن پرده‌های صوتی (تولید کننده صدا) نیز پوست ندارند بلکه از مخاط چین خورده تشکیل شده‌اند.

گزینه ۲) گیرنده‌های دمایی درون بدن در برخی سیاهرگ‌های بزرگ بدن قرار دارند.

گزینه ۴) گیرنده‌های درد، انتهای آزاد دندریت آزاد نورون‌های موجود در دستگاه عصبی محیطی می‌باشند. پس فشرده شدن پوشش پیوندی اطراف خود برای آن‌ها صدق نمی‌کند.

۴) ۱ ۲ ۳ ۴ گیرنده‌های حسی موجود در پوست صورت مستقیماً به مغز وارد می‌شوند و به نخاع نمی‌روند.

رد گزینه ۱- این جمله صحیح است. عمقی‌ترین گیرنده حسی پوست فشار است که در بافت پیوندی قرار دارند.

رد گزینه ۲- این جمله صحیح است. با تحریک گیرنده‌های حسی پوست کانال دریچه‌دار سدیمی باز شده و سدیم به آن وارد می‌شود.

رد گزینه ۳- این جمله صحیح است اگر مقدار اسید لاکتیک زیاد باشد آسیب بافتی ایجاد شده و گیرنده درد تحریک می‌شود.

۵) ۱ ۲ ۳ ۴ نفوذپذیری غشاء هر گیرنده‌ی حسی تحت تأثیر محرک نسبت به یون‌ها تغییر می‌کند.

رد گزینه ۱) پیام‌های حسی ایجاد شده در گیرنده‌های حسی موجود در سر انسان از نخاع عبور نمی‌کند.

رد گزینه ۳) اغلب پیام‌های حسی در تالاموس گرد هم می‌آیند تا جهت پردازش نهایی به بخش‌های مربوطه در قشر مخ فرستاده شوند.

رد گزینه ۴) گیرنده‌ی حسی یاخته یا بخشی از آن است که اثر محرک را می‌تواند به پیام عصبی تبدیل کند.

۶) ۱ ۲ ۳ ۴ گزینه ۳: در گیرنده‌ی فشار، در انتهای دندریت یک نورون حسی، همواره کانال‌های سدیم و پتاسیم، همچنین پمپ سدیم و پتاسیم فعال می‌باشد.

سایر گزینه‌ها:

۱) پیام عصبی در گره اول رانویه تشکیل می‌شود، در شکل ۱ هنوز در گره رانویه پیام عصبی ایجاد نشده است. به تغییر بار ابتدای دندریت پتانسیل عمل گفته نمی‌شود.

۲) در شکل ۲ تحت تأثیر فشار ابتدا کانال‌های سدیمی در غشای گیرنده باز می‌شوند.

۴) ممکن است پیام عصبی در گره رانویه تشکیل نشود و پیام به مراکز عصبی ارسال نشود، زیرا در فرآیند سازش اگر محرک ثابت، طولانی مدت اثر کند پیام عصبی متوقف شده یا کاهش می‌یابد.

۷) بررسی سایر گزینه‌ها:

گزینه ۲): به عنوان مثال می‌توان گفت ساختار گیرنده‌ی نوری در انسان، زنبور و ... متفاوت است.

گزینه ۳): گیرنده‌های حسی، اثر محرک را دریافت کرده و آن را به پیام عصبی تبدیل می‌کند. دقت کنید که پیام عصبی را دریافت نمی‌کنند.

گزینه ۴): گیرنده‌ی درد می‌تواند آسیب بافتی ناشی از گرمای شدید را تشخیص دهد، نه خود گرمای شدید را.

۸) ۱ ۲ ۳ ۴ گزینه ۱: گیرنده حس وضعیت در پوست نیست.

گزینه ۲: گیرنده درد فاقد بافت پیوندی در انتهای خود است.

گزینه ۳: گیرنده درد که متعلق به حواس پیکری است سازش پیدا نمی‌کند.

گزینه ۴: انتهای دندریت آزاد مانند گیرنده‌های درد و یا انتهای دندریت‌هایی درون پوششی از بافت پیوندی مانند گیرنده فشار در پوست نمونه‌هایی از گیرنده‌های حواس پیکری هستند. گیرنده حسی پیکری در پوست، بخشی از یک یاخته عصبی است. (دندریت)

۹) ۱ ۲ ۳ ۴ حس‌های پیکری می‌تواند پایانه‌های دندریت آزاد، مانند گیرنده‌های درد داشته باشند.

بررسی سایر گزینه‌ها:

۱) گیرنده‌های درد به غیر از پوست و دیواره‌های سرخرگ‌ها در محل‌های دیگر بدن نیز دیده می‌شوند.

کتاب درسی این دو مورد را مثال زده است.

۲) گیرنده‌های درد می‌توانند در مقابل محرک مکانیکی، شیمیایی، گرما و سرمای شدید پاسخ دهند. اما این گیرنده‌ها در مقابل محرک نور پاسخ نشان نمی‌دهند و به همه مواد شیمیایی هم پاسخ

نشان نمی دهند بلکه در مقابل مواد آسیب رسان به بافت پاسخ نشان می دهند.

۳) گیرنده های درد، از انواع گیرنده های حس پیکری می باشند و در سراسر بدن پراکنده هستند.

۱۰) محرک در صورتی که به اندازه کافی قوی باشد، می تواند موجب تولید پیام عصبی در گیرنده های حسی شود و نیازی نیست که حتماً محرک بسیار شدیدی باشد.

۱۱) بررسی گزینه ها: ۱ ۲ ۳ ۴

گروهی از گیرنده ها مانند گیرنده های دما در بخش های گوناگون بدن پراکنده اند و گروهی از گیرنده های بدن ما در اندام های ویژه ای قرار دارند. گیرنده های حواس ویژه شامل گیرنده های بینایی، شنوایی، تعادل، بویایی و چشایی هستند.

۱۲) گزینه ۱ - بخشی از دندريت مربوط به فشار که درون پوششی از جنس بافت پیوندی قرار دارد، بدون میلین و بخشی دیگر دارای میلین است.

گزینه ۲ - درون بافت چربی گیرنده فشار وجود دارد.

گزینه ۳ - آسیب بافتی می تواند گیرنده درد در هر دو اندام را تحریک کند.

گزینه ۴ - درون زرد پی گیرنده های حس وضعیت وجود دارند. این گیرنده ها درون کپسول مفصلی و ماهیچه اسکلتی نیز وجود دارند.

۱۳) گزینه ۱ - گیرنده های دمایی در برخی سیاهرگ های بزرگ قرار دارند. اما گیرنده های حساس به کاهش O_2 در سرخرگ آئورت و برخی انشعابات آن مثل انشعابات که به سمت سر و گردن می روند وجود دارند.

گزینه ۲ - گیرنده های درد در پوست و بخش های گوناگون بدن مثل دیواره سرخرگ ها قرار دارند. اما گیرنده دمایی در سرخرگ وجود ندارد.

گزینه ۳ - محرک گیرنده های دمایی مواد شیمیایی نیستند. اما گیرنده های درد در مقابل اسید لاکتیک تغییر پتانسیل الکتریکی می دهند و تحریک می شوند.

گزینه ۴ - هر دو نوع گیرنده دمایی و تماسی به جز پوست در بافت های دیگر نیز وجود دارند مثلاً گیرنده های دمایی در برخی سیاهرگ های بزرگ و یا گیرنده های تماسی در محل هایی که با تماس و فشار و ارتعاش سروکار دارند وجود دارند.

۱۴) گزینه ۱ - گیرنده های تماسی، حس وضعیت، شنوایی و تعادلی و گیرنده های فشاری دیواره سرخرگ ها از جمله گیرنده های مکانیکی هستند. در این میان، گیرنده های تماسی دارای پوششی در اطراف خود هستند و با فشردن این پوشش دچار تغییر پتانسیل الکتریکی می شوند.

گزینه ۲ - هر گیرنده مکانیکی کانال های یونی دارد که تحت تاثیر محرک، تغییر شکل داده تا نفوذپذیری غشا نسبت به یون ها تغییر کند. با این تغییر در دندريت تغییر پتانسیل الکتریکی ایجاد شده و پیام عصبی ایجاد می شود.

گزینه ۳ - گیرنده های فشار، انتهای دندريت یاخته عصبی هستند مثل گیرنده های فشار درون پوست.

گزینه ۴ - گیرنده های درد جز گیرنده های مکانیکی نیستند.

۱۵) گیرنده های حواس پیگیری، انتهای دندريت آزاد، مانند گیرنده های درد یا انتهای دندريت هایی درون پوششی از بافت پیوندی مانند گیرنده فشار در پوست اند.

مرکز مشاوره تحصیلی

علیرضا افشار

پاسخنامه کلیدی

۱	۱	۲	۳	۴
۲	۱	۲	۳	۴
۳	۱	۲	۳	۴
۴	۱	۲	۳	۴

۵	۱	۲	۳	۴
۶	۱	۲	۳	۴
۷	۱	۲	۳	۴
۸	۱	۲	۳	۴

۹	۱	۲	۳	۴
۱۰	۱	۲	۳	۴
۱۱	۱	۲	۳	۴
۱۲	۱	۲	۳	۴

۱۳	۱	۲	۳	۴
۱۴	۱	۲	۳	۴
۱۵	۱	۲	۳	۴



مرکز مشاوره تحصیلی

علیرضا افشار



مبحث: گفتار ۲ فصل ۲ زیست یازدهم

سری: شماره ۱

زمان: ۱۵ دقیقه

۱ در ارتباط با چشم انسان سالم و بالغ، کدام عبارت درست است؟

- ① هر لایه رنگدانه‌دار و پر از مویرگ‌های خونی با مایع شفاف درون جلوی چشم در تماس است.
- ② عدسی می‌تواند به کمک حلقه‌ای بین مشیمیه و عنیه موجب تشکیل تصویر روی شبکیه شود.
- ③ برای ایجاد پیام عصبی در گیرنده‌های نوری نیاز است ماده حساس به نور به کمک ویتامین A تجزیه شود.
- ④ ماهیچه‌های جسم مژگانی درون بخش رنگین چشم، به کمک تارهای آویزی در فرآیند تطابق نقش دارند.

۲ چند مورد از موارد زیر درباره ماده شفاف و ژله‌ای موجود در پشت عدسی چشم انسان صحیح است؟

- در صورت تغییر زیاد در حجم آن، پرتوهای نوری بر روی شبکیه چشم به درستی متمرکز نمی‌شوند.
- با همه رشته‌های عصبی حسی مرتبط با چشم انسان در تماس می‌باشد.
- در هر قسمت خود با شبکه‌ای از رگ‌های خونی در تماس است.
- با قسمت عقبی اجسام مژگانی موجود در چشم در تماس است.

① ۱ ② ۲ ③ ۳ ④ ۴

۳ در انسان، کدام ویژگی یاخته‌های تمایز یافته‌ای است که مستقیماً توسط مولکول‌های بو، تحریک می‌شوند؟ (با تغییر)

- ① دارای زوائد یاخته‌ای همگی با طول برابر در ساختار خود می‌باشد.
- ② با آکسون‌های بلند نورون‌های لوب بویایی در ارتباط هستند.
- ③ ماده مخاطی را در بخش فوقانی حفرات بینی ترشح می‌نمایند.
- ④ تغییری در پتانسیل الکتریکی یاخته‌های لوب بویایی ایجاد می‌کنند.

۴ هر بخش شفاف چشم انسان که ، نمی‌تواند

- ① در خارجی‌ترین لایه چشم قرار دارد - سبب همگرایی نور شود.
- ② به تارهای آویزی متصل است - نور را بر روی شبکیه متمرکز کند.
- ③ از مویرگ‌های خونی ترشح می‌شود - از گلوکز برای تنفس یاخته‌ای یاخته‌های خود استفاده کند.
- ④ بیشترین حجم در چشم را اشغال کرده است - در فضای پشت عدسی چشم مشاهده شود.

۵ کدام گزینه عبارت زیر را به‌طور مناسب کامل می‌کند؟ (با تغییر)

«در ساختار چشم انسان، یاخته‌های گیرنده‌ای که دارای بیشترین ماده حساس به نور هستند،»

- ① در بخشی از شبکیه که در امتداد محور نوری کره چشم قرار دارد، فراوان‌ترند.
- ② در نور زیاد تحریک شده و تشخیص رنگ و جزئیات اجسام را امکان‌پذیر می‌کنند.
- ③ محل قرارگیری ماده حساس به نور به شکل استوانه‌ای است.
- ④ در پی تجزیه ویتامین A، واکنش‌هایی را که منجر به ایجاد پیام عصبی می‌شوند، به راه می‌اندازند.

۶ چند مورد از موارد زیر، درباره همه عضلاتی که درون کاسه چشم انسان یافت می‌شوند، صادق است؟

- در دقت و تیزبینی چشم انسان نقش اصلی را دارند.
- دوکی‌شکل و دارای انقباض غیرارادی هستند.
- با مایع شفاف تغذیه‌کننده یاخته‌های زنده عدسی، در تماس‌اند.
- تحت کنترل رشته‌های عصبی حرکتی قرار دارند.

① ۱ ② ۲ ③ ۳ ④ ۴



۷) چند مورد، عبارت زیر را به طور نامناسب کامل می کند؟ (با تغییر)

- «در بدن انسان، هر گیرنده که در اندام های ویژه ای قرار دارد»
- الف) مکانیکی حس ویژه - به دنبال خم شدن مژک هایش، گروهی از کانال های یونی موجود در غشایش باز می شوند.
- ب) شیمیایی - پیام های حسی تولید شده توسط خود را ابتدا به نخاع و سپس به مغز منتقل کند.
- ج) نوری - پیام های عصبی تولید شده را مستقیماً به عصب بینایی منتقل می کند.

- ۱) مورد ۱
- ۲) مورد ۲
- ۳) مورد ۳
- ۴) صف

۸) به طور معمول در گوش انسان، با ارتعاش درجه بیضی، ابتدا کدام اتفاق رخ می دهد؟

- ۱) استخوان چکشی شروع به لرزش می کند.
- ۲) مایع درون بخش حلزونی به لرزش در می آید.
- ۳) کانال های یونی غشای یاخته های عصبی باز می شوند.
- ۴) مژک های یاخته های درون بخش دهلیزی خم می شوند.

۹) چند مورد از موارد زیر درباره همه یاخته هایی در شبکیه چشم انسان صحیح است که توانایی تولید پیام عصبی را دارند؟

- در تمام بخش های سطح درونی کره چشم انسان یافت می شوند.
- در پی کمبود ویتامین A، توانایی تولید پیام عصبی در آنها کاهش می یابد.
- سبب تحریک گروهی از یاخته های عصبی موجود در ساقه مغز می شوند.
- توسط شبکه ای از کوچک ترین رگ های خونی بدن تغذیه می شوند.

- ۱) ۱
- ۲) ۲
- ۳) ۳
- ۴) ۴

۱۰) کدام عبارت، در مورد گیرنده های حسی که پیام های عصبی ایجاد شده در آنها در تالاموس تقویت نمی شود، نادرست است؟

- ۱) آسه آنها از منافذ استخوان (های) محافظت کننده از مغز عبور می کند.
- ۲) ممکن نیست فعالیت آنها بر فعالیت برخی نورون های ساقه مغز مؤثر باشند.
- ۳) هسته آنها با هسته یاخته های مجاورشان در یک سطح نمی باشد.
- ۴) توسط زوائد رشته ای خود، با مولکول های شیمیایی در تماس می باشند.

۱۱) کدام گزینه، عبارت زیر را به طور مناسب کامل می کند؟

«نوعی بیماری چشم در انسان به علت فاصله قرنیه تا لکه زرد ممکن است ایجاد شود. این بیماری که با استفاده از عینک با عدسی واگرا اصلاح می شود، می تواند»

- ۱) کاهش - موجب اختلال در تشکیل تصویر اجسام دور بر روی شبکه شود.
- ۲) افزایش - تغییر در انحنای بخش شفاف جلوی کره چشم نیز بروز یابد.
- ۳) کاهش - باعث متمرکز شدن پرتوهای نور در جلوی شبکه است.
- ۴) افزایش - در اثر افزایش همگرایی عدسی چشم نیز ایجاد شود.

۱۲) در گوش یک انسان سالم و ایستاده، و قرار دارند.

- ۱) بخش دهلیزی - محل مفصل استخوان چکشی با سندان بالتر از درجه بیضی
- ۲) بخش حلزونی - بخش تعادلی عصب گوش پایین تر از درجه بیضی
- ۳) استخوان سندان - پرده صماخ بالتر از بخش حلزونی شکل
- ۴) پرده صماخ - مجاری نیم دایره پایین تر از استخوان چکشی

۱۳) کدام گزینه عبارت زیر را به نادرستی تکمیل می کند؟

«در افرادی که فقط به بیماری دوربینی مبتلا هستند،»

- ۱) ممکن است اندازه کره چشم از حد طبیعی کوچک تر باشد.
- ۲) تصویر اشیای نزدیک در پشت شبکه تشکیل می شود.
- ۳) به منظور تشکیل تصویر واضح از اشیای نزدیک، می توانند از عدسی همگرا استفاده کنند.
- ۴) تصویر اشیای دور با افزایش قطر عدسی چشم، روی شبکه تشکیل می شود.

۱۴) کدام یک از عبارت های زیر در ارتباط با حفره بینی صحیح است؟

- ۱) هر یاخته موجود در سقف حفره بینی همواره در تماس با مولکول های بودار قرار می گیرد.
- ۲) آکسون هر گیرنده مژک دار بدون تشکیل دادن سیناپس وارد پیاز بویایی می شود.
- ۳) هر یاخته مژک دار، در پی برخورد با مولکول های بودار، نفوذپذیری غشای آن نسبت به برخی یون ها تغییر می کند.
- ۴) هر یاخته مجاور یاخته سازنده ماده مخاطی، با ترشحات خود ناخالصی های هوا را به دام می اندازد.

۱۵) کدام عبارت دربارهٔ مجرای بین گوش میانی و حلق نادرست است؟

- ① در مجاورت بخش حلزونی گوش قرار دارد.
- ② توسط استخوان پهن اسکلت بدن محافظت می‌شود.
- ③ سطح درونی توسط بافت پوششی احاطه شده است.
- ④ در ارتعاش دريچه بيضي نقش مهم و مستقيمي دارد.



مرکز مشاوره تحصیلی
علیرضا افشار

پاسخنامه تشریحی

۱) عدسی به کمک جسم مژگانی (حلقه‌ای بین مشیمیه و عنبیه)، تصویر اجسام مختلف را بر روی شبکه ایجاد می‌کند. بررسی سایر گزینه‌ها:

گزینه ۱) مشیمیه (لایه رنگدانه‌دار و پر از مویرگ‌های خونی) با زلالیه (مایع شفاف) در تماس نیست.
گزینه ۳) برای تولید پیام عصبی در یاخته‌های گیرنده نوری، ماده حساس به نور تجزیه می‌شود. برای ساخت ماده حساس به نور به ویتامین A نیاز است نه برای تجزیه آن.
گزینه ۴) ماهیچه‌های جسم مژگانی جز عنبیه (بخش رنگین چشم) نیستند.

۲) بررسی موارد:

مورد اول: درست. حجم زیاد زلالیه سبب بزرگ شدن کره چشم می‌شود. بزرگ شدن کره چشم باعث نزدیک بینی و در نتیجه عدم تمرکز نور بر روی شبکه می‌شود.
مورد دوم: نادرست. زجاجیه با همه رشته‌های عصبی موجود در شبکه در تماس نیست. از جمله با همه رشته‌های عصبی مربوط به درد در تماس نیست.
مورد سوم: نادرست. زجاجیه در مرکز خود و همچنین در جلو با رگ خونی در تماس نیست.
مورد چهارم: درست. زجاجیه در جلو با عدسی چشم، تارهای آویزی و عضلات مژگانی در تماس می‌باشد.

۳) گیرنده‌های بویایی با تولید پیام عصبی می‌توانند سبب تغییر در پتانسیل الکتریکی نورون‌های لوب بویایی شوند.

۴) مایع شفاف زلالیه که از مویرگ‌های خونی ترشح می‌شود، فاقد یاخته است. و تنفس یاخته‌ای ندارد. پس نمی‌توان گفت که از گلوکز برای تنفس یاخته‌ای استفاده می‌کند.

بررسی سایر گزینه‌ها:

گزینه ۱) اولین همگرایی نور در چشم توسط قرنیه (بخش شفاف بخش جلویی لایه خارجی چشم) صورت می‌گیرد.

گزینه ۲) عدسی چشم با متمرکز کردن نور بر روی شبکه، سبب تشکیل تصویر اشیا می‌شود.

گزینه ۴) زجاجیه در فضای پشت عدسی چشم قرار دارد.

۵) علت نام‌گذاری گیرنده‌های نوری به مخروطی و استوانه‌ای، شکل محل قرارگیری ماده حساس به نور است. گیرنده‌های نوری استوانه‌ای در نور کم تحریک می‌شوند؛ بنابراین به نور حساسیت بیشتری نسبت به مخروطی دارند.

بررسی سایر گزینه‌ها:

گزینه ۱: بخشی از شبکه که در امتداد محور نوری کره چشم قرار دارد، لکه زرد است. گیرنده‌های مخروطی در لکه زرد فراوان‌ترند.

گزینه ۲: گیرنده‌های مخروطی در نور زیاد تحریک شده و تشخیص رنگ و جزئیات اجسام را امکان‌پذیر می‌کنند.

گزینه ۴: در یاخته‌های گیرنده نوری، ماده حساس به نور (نه مستقیماً ویتامین A) با برخورد نور به شبکه تجزیه شده و واکنش‌هایی را که منجر به ایجاد پیام عصبی می‌شوند به راه می‌اندازند.

۶) در کاسه چشم، دو دسته ماهیچه صاف و اسکلتی وجود دارد. ماهیچه‌های صاف از جمله ماهیچه‌های عنبیه و اجسام مژگانی می‌باشد و ماهیچه‌های اسکلتی شامل ماهیچه‌های حرکت‌دهنده کره چشم می‌باشد.

مورد «اول» مربوط به لکه زرد است.

مورد «دوم» و «سوم» فقط برای عضلات عنبیه و اجسام مژگان صادق است.

۷) موارد (ب) و (ج) نادرست هستند.

در بدن انسان، گیرنده‌های حواس ویژه در اندام‌های ویژه قرار دارند.

بررسی موارد:

مورد الف) گیرنده‌های شنوایی و تعادل موجود در گوش داخلی، دارای مژک هستند. در همه این گیرنده‌ها با خم شدن مژک‌ها، کانال‌های یونی غشا باز شده و پتانسیل الکتریکی غشا تغییر می‌کند. در نتیجه در گیرنده پیام عصبی ایجاد می‌شود. (درست)

مورد ب) گیرنده‌های شیمیایی که در اندام‌های ویژه قرار دارند، شامل گیرنده‌های بویایی و چشایی هستند. پیام‌های حسی خود را مستقیماً به مغز می‌فرستند. (نادرست)

مورد ج) گیرنده‌های نوری موجود در شبکه، پیام‌های عصبی خود را ابتدا به یاخته‌های عصبی شبکه ارسال می‌کنند. سپس آکسون داخلی‌ترین یاخته‌های عصبی شبکه عصب بینایی را تشکیل می‌دهند. بنابراین گیرنده‌های نوری پیام‌های عصبی را مستقیماً به عصب بینایی منتقل نمی‌کنند. (نادرست)

۸) کف استخوان رکابی طوری روی دریاچه بیضی قرار گرفته است که لرزش آن، دریاچه را می‌لرزاند. این دریاچه پرده‌ای نازک است که در پشت آن، بخش حلزونی گوش قرار دارد. بخش حلزونی را مایعی پر کرده است. لرزش دریاچه بیضی مایع درون حلزون را به لرزش در می‌آورد.

علت نادرستی سایر گزینه‌ها:

پرده صماخ در انتهای مجرای شنوایی و بین گوش بیرونی و میانی قرار دارد و پشت این پرده، سه استخوان کوچک چکشی، سندان و رکابی به ترتیب قرار دارند و به هم مفصل شده‌اند و بعد از حرکت این استخوان‌ها و دریاچه بیضی، مایع درون حلزون به لرزش و مژک‌های گیرنده‌های مکانیکی درون بخش حلزونی خم و کانال‌های یونی غشای آنها باز و این یاخته‌ها تحریک می‌شوند.

۹) بررسی موارد:

مورد اول: نادرست. سطح درونی کره چشم در قسمت جلوی چشم فاقد گیرنده و نورون است.

مورد دوم: نادرست. در صورت کمبود ویتامین A توانایی تولید پیام عصبی در گیرنده‌ها کاهش می‌یابد. در این صورت پیام کمتری به نورون‌ها می‌رسد؛ اما در توانایی تولید پیام در نورون‌ها تأثیری ندارد.

مورد سوم: درست. این یاخته‌ها سبب تحریک گروهی از یاخته‌های عصبی در مغز میانی می‌شوند. این یاخته‌ها در بینایی نقش دارند.

مورد چهارم: درست. همه یاخته‌های موجود در شبکه توسط مویرگ‌های خونی تغذیه می‌شوند.

۱۰) پیام‌های عصبی بویایی در تالاموس تقویت نمی‌شود.

پیام‌های بویایی می‌توانند سبب تحریک ترشح بزاق شوند. مرکز ترشح بزاق در پل مغزی قرار دارد. پل مغزی بخشی از ساقه مغز است. بررسی سایر گزینه‌ها:

گزینه ۱. آکسون‌های نورون‌های بویایی از منافذ استخوان کف جمجمه عبور کرده و وارد پیاز بویایی می‌شوند.

گزینه ۳. هسته نورون‌های گیرنده بویایی بالاتر از هسته یاخته‌های پوششی اطرافشان قرار دارد.

گزینه ۴. زوائد رشته‌ای نورون‌های بویایی در ماده مخاطی قرار دارند و با مولکول‌های شیمیایی در تماس هستند.

۱۱. بیماری نزدیک‌بینی چشم در انسان با استفاده از عدسی واگرا اصلاح می‌شود. این بیماری که می‌تواند به علت افزایش اندازه کره چشم نسبت به اندازه طبیعی یا افزایش همگرایی عدسی چشم ایجاد شود، باعث متمرکز شدن پرتوهای نور اجسام دور در جلوی شبکیه می‌شود.

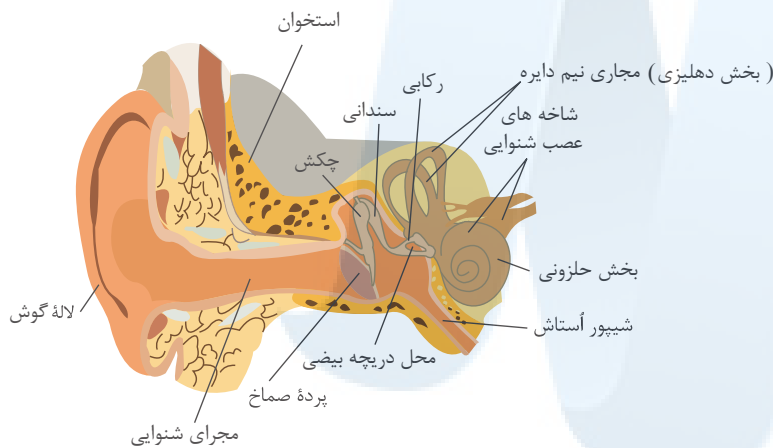
بررسی سایر گزینه‌ها:

گزینه‌های «۱» و «۳»: بیماری نزدیک‌بینی به علت افزایش اندازه طبیعی کره چشم (افزایش فاصله قرینه تا لکه زرد) ایجاد می‌شود.

گزینه «۲»: بیماری‌های دوربینی و نزدیک‌بینی می‌توانند به علت تغییر در اندازه طبیعی کره چشم و یا تغییر در میزان همگرایی عدسی چشم ایجاد شوند و ارتباطی با تغییر در انحنای قرینه ندارند.

۱۲. ۱ ۲ ۳ ۴

با توجه به شکل، بخش دهلیزی (مجاری نیم‌دایره) گوش داخلی همانند محل مفصل استخوان چکشی با سندان، بالاتر از دریچه بیضی قرار دارد. علت نادرستی سایر گزینه‌ها با توجه به شکل زیر قابل برداشت است!



۱۳. ۱ ۲ ۳ ۴. یکی از دلایل در ایجاد بیماری دوربینی، این است که اندازه کره چشم از حد طبیعی کوچک تر است.

۲. افراد دوربین، اجسام نزدیک را به وضوح نمی‌بینند. زیرا تصویر اجسام نزدیک پشت شبکیه تشکیل می‌شود.

۳. افراد دوربین با استفاده از عینک‌هایی با عدسی همگرا می‌توانند تصویر اشیای نزدیک را روی شبکیه تشکیل داده و به وضوح ببینند.

۴. برای دیدن اشیای دور، ماهیچه مژگانی در حال استراحت قرار می‌گیرد و قطر عدسی کم می‌شود.

۱۴. ۱ ۲ ۳ ۴. با توجه به شکل روبه‌رو، آکسون هر گیرنده مژکدار بدون تشکیل سیناپس وارد پیاز بویایی (لوب بویایی) شده و با یاخته‌های عصبی موجود در پیاز بویایی سیناپس می‌دهد.

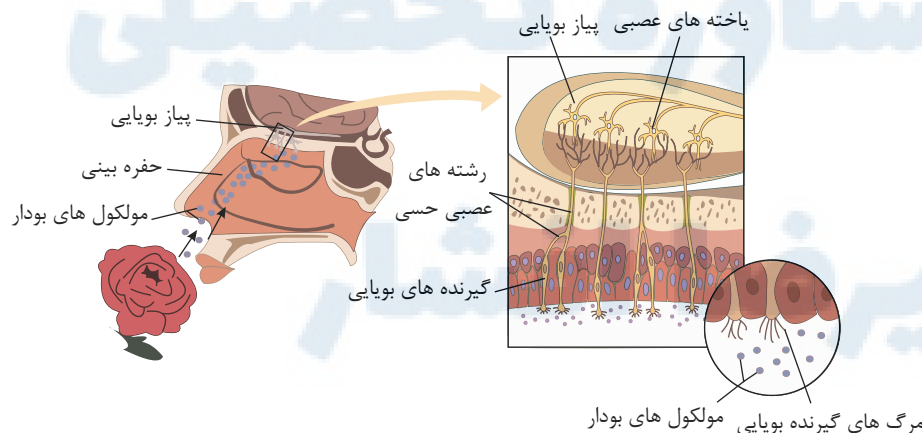
بررسی سایر گزینه‌ها:

گزینه ۱: با توجه به شکل روبرو، برخی یاخته‌ها در عمق بافت

پوششی قرار دارد و با مولکول‌های بودار در تماس نیستند. اما

مژک‌های گیرنده بویایی تماماً با مولکول‌های هوا در تماس

هستند.



گزینه ۳: درون حفره بینی (دقت شود نه سقف بینی) دو نوع سلول مژک دار است، یکی سلول‌های گیرنده بویایی که مژک دار هستند و در سقف بینی قرار دارند و دیگری یاخته‌های پوششی مخاط بقیه بخش‌های حفره بینی که مژک دار هستند. فقط سلول‌های مژک دار بویایی که به عنوان گیرنده بویایی عمل می‌کنند در تبدیل اثر محرک به پتانسیل عمل نقش دارند.

گزینه ۴: یاخته مجاور یاخته سازنده مخاطی می‌تواند گیرنده حسی باشد و گیرنده‌های حسی ترشح مخاط ندارند.

۱۵. ۱ ۲ ۳ ۴. شیپور استناش در مجاورت بخش حلزونی گوش قرار دارد. توسط استخوان گیجگاهی که استخوان پهن است محافظت می‌شود و سطح درونی آن توسط بافت

پوششی محافظت می‌شود. شیپور استناش، حلق را به گوش میانی مرتبط می‌کند. هوا از راه این مجرا به گوش میانی منتقل می‌شود، تا فشار در هر دو طرف پرده صماخ یکسان شود و پرده صماخ

(نه دریچه بیضی) به درستی بلرزد.



مبحث: گفتار ۲ فصل ۲ زیست یازدهم

سری: شماره ۲

زمان: ۱۵ دقیقه

۱ به طور معمول در گوش انسان، با ارتعاش پرده صماخ، کدام اتفاق پیش از خم شدن مژک‌های درون بخش حلزونی رخ می‌دهد؟

- ۱ لرزش دریچه بیضی مایع درون حلزون گوش را به لرزش درمی‌آورد.
- ۲ پیام عصبی از طریق عصب شنوایی به مغز منتقل می‌شود.
- ۳ کانال‌های یونی غشای یاخته‌های عصبی باز می‌شوند.
- ۴ کف استخوان چکشی دریچه بیضی را می‌لرزاند.

۲ کدام گزینه، درباره هر یک از گیرنده‌های نوری شبکیه چشم انسان درست است که در امتداد محور نوری کره چشم قرار گرفته است؟

- ۱ آکسون آن پیام‌های عصبی را به مغز می‌برد.
- ۲ در تشخیص جزئیات اجسام نقش اصلی را دارد.
- ۳ به نوعی ویتامین برای ساخت ماده حساس به نور نیاز دارند.
- ۴ تنها توسط سرخرگی که از نقطه کور وارد کره چشم می‌شود، تغذیه می‌شود.

۳ در چشم انسان سالم و بالغ، در شکستن و همگرا کردن نور روی شبکیه فاقد هر گونه نقش است.

- ۱ لایه میانی کره چشم برخلاف لایه خارجی آن
- ۲ لایه خارجی کره چشم برخلاف عدسی
- ۳ سوراخ مردمک برخلاف ماده ژله‌ای و شفاف
- ۴ ماده ژله‌ای و شفاف همانند مایع تغذیه‌کننده یاخته‌های قرنيه

۴ کدام گزینه در رابطه با بیماری‌های چشم در انسان، عبارت زیر را به درستی تکمیل می‌کند؟

«در بیماری برخلاف بیماری قطعاً»

- ۱ نزدیک بینی - دوربینی - میزان زجاجیه موجود در چشم بیشتر از حد عادی است.
- ۲ آستیگماتیسم - پیرچشمی - سطح عدسی همانند قرنيه کاملاً کروی و صاف نیست.
- ۳ نزدیک بینی - پیرچشمی - تصویر واضح از اجسام نزدیک، بر روی شبکیه تشکیل می‌شود.
- ۴ آستیگماتیسم - دوربینی - تصویر اجسام دور و نزدیک در چشم تشکیل نمی‌شود.

۵ چند مورد، درباره انشعابات سرخرگی که از محل عصب بینایی وارد کره چشم انسان می‌شود، درست است؟

- الف) در مجاورت سطح داخلی شبکیه قرار می‌گیرد. (ب) با مایعی شفاف و ژله‌ای در تماس است.
 - ج) ناحیه وسط بخش رنگین چشم را تغذیه می‌کند. (د) به یاخته‌های پرده شفاف جلوی چشم وارد می‌شود.
- ۱ مورد ۱ ۲ مورد ۲ ۳ مورد ۳ ۴ مورد ۴

۶ در رابطه با چشم انسان، کدام عبارت به درستی بیان شده است؟

- ۱ لایه‌ای از کره چشم که در تغذیه درونی‌ترین لایه چشم نقش دارد، با هیچ‌یک از بخش‌هایی از چشم که از اکسیژن زلالیه استفاده می‌کند، در تماس نیست.
- ۲ تارهای آویزی با بخشی از کره چشم در تماس است که در تغییر قطر مردمک چشم در دریافت پیام‌های دستگاه عصبی خودمختار نقش دارد.
- ۳ لایه‌ای از کره چشم با قابلیت تولید پیام بینایی، موادی دارد که در پی تغییر میزان نور، تجزیه شده و در تولید پیام عصبی نقش دارند.
- ۴ لایه‌ای از کره چشم که دارای گیرنده‌های استوانه‌ای است، نمی‌تواند در هنگام کاهش قطر مردمک، در امتداد نور قرار گیرد.

۷ در رابطه با تشریح چشم گاو نمی‌توان گفت

- ۱ عصب بینایی چشم راست پس از خروج از چشم به سمت چپ خم می‌شود.
- ۲ بخش پهن تر قرنيه آن به سمت بینی و بخش باریک تر قرنيه به سمت گوش قرار دارد.
- ۳ انقباض ماهیچه‌های صاف شعاعی عنیبی، می‌تواند سبب ورود بیشتر نور به درون چشم شود.
- ۴ سطحی از چشم که در آن فاصله عصب تا روی قرنيه بیشتر است، قسمت زیرین چشم را تشکیل می‌دهد.

۸ کدام گزینه، دربارهٔ یاخته‌هایی از گوش انسان که با فعالیت خود می‌توانند پتانسیل الکتریکی بخشی از یاخته‌های عصبی مخچه را تغییر دهند، صحیح است؟

- ۱ با حرکت سر و لرزش دریچهٔ بیضی، پیام عصبی تولید کرده و به مغز می‌فرستند.
- ۲ این یاخته‌ها در تمام طول مجاری نیم‌دایره‌ای بخش دهلیزی گوش حضور دارند.
- ۳ در مجاورت نوعی دیگر از یاخته‌ها قرار دارند که مژک‌های آن‌ها در تماس با مایع درون مجرا هستند.
- ۴ در دو سمت این یاخته‌ها، زوائد رشته‌مانندی دیده می‌شود که دارای کانال‌های دریچه‌دار هستند.

۹ در انسان سالم، کدام ویژگی یاخته‌هایی در حلزون گوش انسان می‌باشد که توسط لرزش مادهٔ ژلاتینی تحریک می‌شوند؟ (با تغییر)

- ۱ در دو سمت یاخته‌ها، زوائد رشته‌مانند وجود دارد.
- ۲ در لابه‌لای یاخته‌های بافت پوششی مژکدار و در تماس با مادهٔ ژلاتینی قرار دارند.
- ۳ در نهایت در اثر تغییر موقعیت سر و مایع اطرافشان، پتانسیل عمل ایجاد می‌کنند.
- ۴ در پی فعالیت خود می‌توانند پتانسیل الکتریکی برخی یاخته‌های عصبی مغز را تغییر دهند.

۱۰ بخش شنوایی عصب گوش بخش تعادلی عصب گوش (با تغییر)

- ۱ برخلاف - اجتماعی از یک نوع رشتهٔ عصبی است که توسط بافت دارای رشته‌های کلاژن در مادهٔ زمینه‌ای احاطه شده است.
- ۲ همانند - در پی خم شدن مژک‌های گیرنده، پیام عصبی حسی را از طریق دندریت به مراکز در بالای ساقهٔ مغز منتقل می‌کند.
- ۳ همانند - پیام‌های عصبی تولیدشده را به تالاموس‌ها می‌برند تا پردازش اولیه صورت بگیرد.
- ۴ برخلاف - پیام عصبی حسی را به مرکزی از مغز که در پشت بطن چهارم قرار دارد، منتقل می‌کند.

۱۱ کدام گزینه جملهٔ زیر را به نادرستی تکمیل می‌کند؟

«در بخش تعادلی گوش انسان بالغ،»

- ۱ مجموعه‌ای از یاخته‌های حسی دارای مژک، کنار یکدیگر قرار دارند.
- ۲ مایع درون مجاری نیم‌دایره‌ای، با مژک‌ها در تماس مستقیم می‌باشد.
- ۳ رشته‌های عصبی خارج شده از یاخته‌های مژکدار، در کنار هم قرار می‌گیرند.
- ۴ در اطراف یاخته‌های مژکدار، یاخته‌هایی با فضای بین یاخته‌ای اندک یافت می‌شود.

۱۲ در بدن انسان، بیشترین یاخته‌های موجود در یک جوانهٔ چشایی،

- ۱ می‌توانند با بافت پوششی اطراف خود در تماس باشند.
- ۲ پیام چشایی را به رشته عصبی منتقل می‌کنند.
- ۳ بر اثر تحریک با مولکول‌های غذا، کانال‌های یونی غشای آن‌ها باز می‌شود.
- ۴ توسط ذرات غذای حل شده در بزاق، پیام عصبی تولید می‌کنند.

۱۳ چند مورد از عبارت‌های زیر نادرست است؟

الف - در گوش انسان، اتصالاتی بین استخوان‌های گوش میانی وجود ندارد.

ب - در گوش میانی انسان، کوچک‌ترین استخوان گوش میانی، بین دو استخوان دیگر قرار دارد.

ج - در گوش انسان، بخشی که در جمع‌آوری صدا نقش دارد، در همهٔ بخش‌های خود توسط استخوان محافظت می‌شود.

د - در گوش انسان، بخشی که هوا را بین حلق و گوش میانی جابه‌جا می‌کند، در تمام قسمت‌های خود با استخوان گیجگاهی محافظت می‌شود.

- ۱ ۱
- ۲ ۲
- ۳ ۳
- ۴ ۴

۱۴ در بخش عقبی کرهٔ چشم انسان سالم، خارجی‌ترین لایه داخلی‌ترین لایه

- ۱ برخلاف - با ماده‌ای ژله‌ای و شفاف در تماس است.
- ۲ برخلاف - با عضلات اسکلتی ارادی در تماس است.
- ۳ همانند - دارای ساختار عصبی با توانایی تولید انرژی زیستی است.
- ۴ همانند - بسیار نازک و رنگدانه‌دار است.

۱۵ کدام گزینه جملهٔ زیر را به نادرستی تکمیل می‌نماید؟

«در بیماری به طور قطع»

- ۱ آستیگماتیسم - سطح بخشی که زلالیه آن را تغذیه می‌کند، صاف و کروی نیست.
- ۲ نزدیک‌بینی ناشی از تغییر قطر کره‌ی چشم - پرتوهای نوری اجسام نزدیک به طور طبیعی بر روی شبکیه به هم می‌رسند.
- ۳ دوربینی ناشی از تغییر قطر کره‌ی چشم - برای درمان از عینکی دارای عدسی مشابه با عدسی چشم استفاده می‌شود.
- ۴ پیرچشمی - قدرت تطابق افزایش می‌یابد.

پاسخنامه تشریحی

۱) امواج صوتی پس از عبور از مجرای شنوایی گوش بیرونی، به پرده صماخ برخورد می کنند و آن را به ارتعاش درمی آورند. دسته استخوان چکشی روی پرده صماخ چسبیده و با ارتعاش آن می لرزد و استخوان های سندان و رکابی را نیز به ارتعاش درمی آورد. کف استخوان رکابی طوری روی درجه ای به نام درجه بیضی قرار گرفته است که لرزش آن، درجه را می لرزاند. این درجه پرده های نازک است که در پشت آن، بخش حلزونی گوش قرار دارد. بخش حلزونی را مایعی پر کرده است. لرزش درجه بیضی، مایع درون حلزون را به لرزش درمی آورد. در بخش حلزونی یاخته های مژک داری قرار دارند که مژک هایشان با پوششی ژلاتینی تماس دارند. این یاخته ها، گیرنده های مکانیکی اند که با لرزش مایع درون بخش حلزونی، مژک های آنها خم می شود. در نتیجه کانال های یونی غشای آنها باز و این یاخته ها تحریک می شوند. در نتیجه پیام عصبی ایجاد شده و از طریق بخش شنوایی عصب گوش پیام عصبی به مغز ارسال می شود.

بررسی سایر گزینه ها:

گزینه ۲: انتقال پیام عصبی به مغز پس از خم شدن مژک های درون بخش حلزونی رخ می دهد.

گزینه ۳: باز شدن کانال های یونی پس از خم شدن مژک های درون بخش حلزونی رخ می دهد.

گزینه ۴: کف استخوان رکابی (نه چکشی) روی درجه بیضی قرار گرفته است.

۲) لکه زرد بخشی از شبکه است که در امتداد محور نوری کره چشم قرار گرفته است. در این بخش، هم گیرنده های مخروطی و هم گیرنده های استوانه ای دیده می شوند، اما گیرنده های مخروطی فراوان ترند.

بررسی گزینه ها:

گزینه ۱) پیام های عصبی از طریق عصب بینایی به مغز منتقل می شوند. عصب بینایی از آکسون یاخته های عصبی شبکه تشکیل می شود نه آکسون گیرنده های نوری. (نادرست)

گزینه ۲) گیرنده های مخروطی در تشخیص رنگ و جزئیات اجسام نقش اصلی را دارند. (نادرست)

گزینه ۳) همه گیرنده های نوری دارای ماده حساس به نور هستند که برای ساخت آن به ویتامین A که نوعی ویتامین محلول در چربی است احتیاج دارند. (درست)

گزینه ۴) یاخته های شبکه توسط مویرگ های خونی فراوانی که در مشیمیه وجود دارد تغذیه می شوند و سرخرگ وارد شده از طریق نقطه کور به درون کره چشم در تغذیه آنها مستقیماً نقش ندارد. (نادرست)

۳) قرنیه، زلالیه، عدسی و زجاجیه در همگرایی پرتوهای نور بر روی شبکه نقش دارند.

ماده ژله ای و شفاف (زجاجیه) در متمرکز کردن پرتوهای نوری بر روی شبکه نقش دارد، اما مردمک در شکست نور نقش ندارد.

بررسی سایر گزینه ها:

گزینه ۱) لایه میانی کره چشم انسان سالم و بالغ یا انسان بالغ، شامل ماهیچه های مژگانی است که در تغییر میزان همگرایی عدسی چشم نقش دارد. عدسی، پرتوهای نور را روی شبکه و گیرنده های نوری متمرکز می کند.

گزینه ۲) قرنیه بخشی از لایه خارجی کره چشم انسان سالم و بالغ است که در همگرایی پرتوهای نور نقش دارد.

گزینه ۴) زجاجیه و زلالیه هر دو در شکست پرتوهای نور و همگرایی آنها نقش دارند.

۴) در نزدیک بینی تصویر واضح از اجسام نزدیک بر روی شبکه ایجاد می شود. اما برخلاف نزدیک بینی در پیرچشمی فرد در دیدن اجسام نزدیک مشکل دارد، پس تصویر اجسام نزدیک به وضوح روی شبکه نمی افتد.

بررسی سایر گزینه ها:

گزینه ۱: نزدیک بینی و دوربینی علاوه بر اندازه کره چشم می تواند مربوط به تغییر همگرایی عدسی چشم باشد.

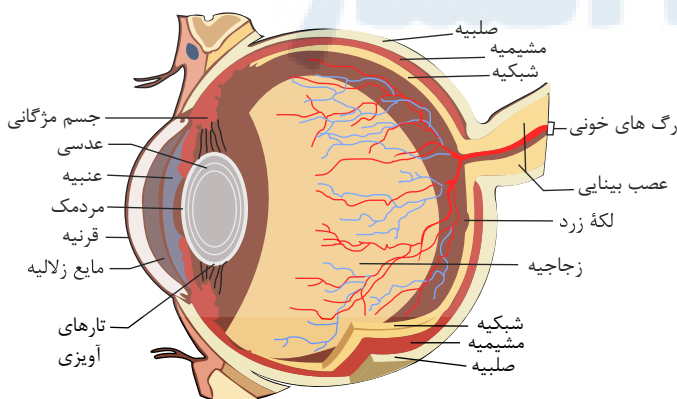
گزینه ۲: در آستیگماتیسم، ممکن است فقط سطح قرنیه و یا عدسی تغییر کرده و کاملاً صاف یا کروی نباشد.

گزینه ۴: در آستیگماتیسم تصویر اجسام دور و نزدیک در چشم تشکیل می شود، اما چون پرتوهای نور به طور نامنظم به هم می رسند، تصویر واضحی تشکیل نمی شود.

۵) فقط مورد الف) درست است.

بررسی موارد:

مورد الف) درست. با توجه به تصویر، سرخرگی که از محل عصب بینایی وارد کره چشم می شود، در مجاورت سطح داخلی شبکه قرار می گیرد.



مورد ب) نادرست. در چشم، مایع شفاف و ژله‌ای نداریم! ماده شفاف ژله‌ای چشم زجاجیه است و مایع شفاف زلالیه است.

مورد ج) نادرست. سوراخ مردمک نیازی به تغذیه ندارد.

مورد د) نادرست. هیچ رگی وارد یاخته نمی‌شود.

۶) بررسی سایر گزینه‌ها:

گزینه ۱: شبکیه متعلق به لایه میانی است و در تغذیه شبکیه نقش دارد و با قرنیه در جلو در تماس است.

گزینه ۲: تارهای آویزی با عدسی و ماهیچه‌های مژگانی در تماس است و با عنبیه در تماس نیست.

گزینه ۴: شبکیه همواره در امتداد محور نوری کره چشم است.

۷) سطحی از چشم گاو که در آن فاصله عصب تا روی قرنیه بیشتر است، بالای چشم و سطح دیگر، پایین آن است.

۸) منظور سؤال یاخته‌های مژکدار گیرنده حس تعادل در مجاری نیم‌دایره‌ای هستند. در یک سمت این یاخته‌ها مژک و در سمت دیگر دندریته‌های مربوط به

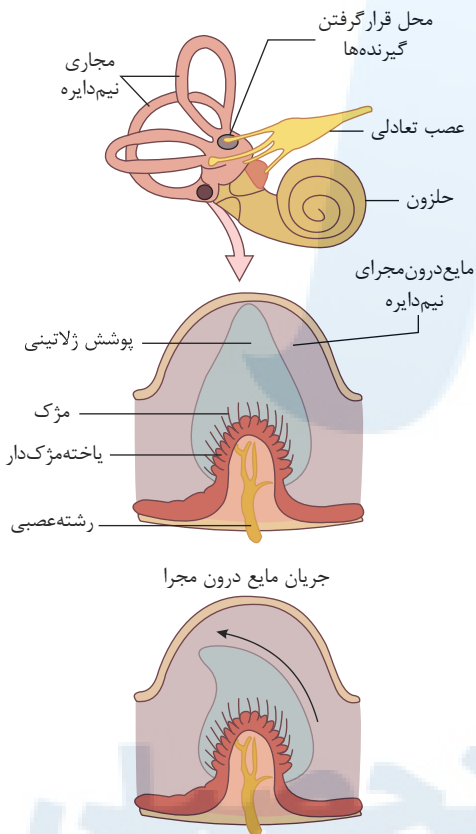
یاخته‌های عصبی قرار گرفته‌اند.

بررسی سایر گزینه‌ها:

گزینه ۱: دریچه بیضی در حس شنوایی نقش دارد. لرزش دریچه بیضی، مایع درون حلزون را به لرزش در می‌آورد.

گزینه ۲: با توجه به شکل زیر این یاخته‌ها، در قسمت‌های خاصی از مجاری نیم‌دایره‌ای قرار دارند.

گزینه ۳: یاخته‌های مجاور این گیرنده‌ها مژک ندارند.



۹) منظور سؤال، یاخته‌های مژکدار می‌باشد که با لرزش مایع درون بخش حلزونی، مژک‌های آن‌ها خم می‌شود. این یاخته‌ها با ارسال پیام به دستگاه عصبی مرکزی می‌توانند پتانسیل الکتریکی برخی یاخته‌های عصبی مغز را تغییر دهند.

بررسی سایر گزینه‌ها:

گزینه ۱: یاخته‌های بخش حلزون در یک طرف خود دارای مژک (زوائد رشته‌مانند) هستند و طرف دیگر زوائد ندارند؛ ولی با دندریته‌های (زوائد رشته‌مانند) نورون حسی ارتباط شیمیایی دارند.

گزینه ۲: یاخته‌های پوششی مجاور آن‌ها مژک ندارند.

گزینه ۳: این مورد برای بخش دهلیزی صحیح است.

۱۰) پیام عصبی تولید شده توسط هر دو نوع عصب حسی به تالموس ارسال شده و پردازش اولیه بر روی آن‌ها صورت می‌گیرد.

بررسی سایر گزینه‌ها:

گزینه ۱) اکسون یاخته‌های حسی گوش؛ عصب گوش را تشکیل می‌دهند که این عصب دارای بخش دهلیزی و بخش شنوایی است.

گزینه ۲) پیام از طریق اکسون‌ها به مغز می‌رود.

گزینه ۴) پیام عصبی حسی بخش تعادلی به مخچه (بخشی از مغز که پشت بطن ۴ قرار دارد) منتقل می‌شود.

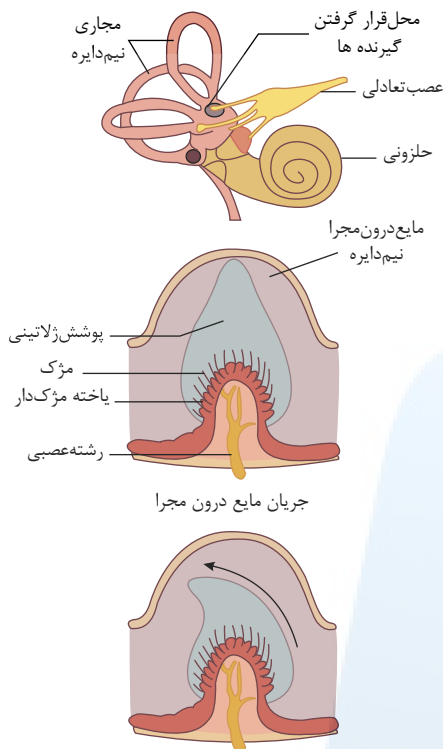
۱۱) مژک‌ها با ماده ژلاتینی در تماس مستقیم هستند و با مایع درون مجاری نیم‌دایره‌ای تماس مستقیم ندارند.

بررسی سایر گزینه‌ها:

۱) گیرنده‌های حسی مژکدار کنار یکدیگر قرار دارند.

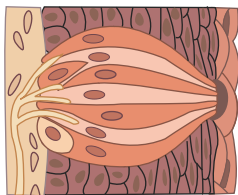
۲) رشته‌های عصبی خارج شده از یاخته‌های مژکدار در کنار هم قرار می‌گیرند.

۴) در اطراف گیرنده‌های حسی، یاخته‌های بافت پوششی یافت می‌شود. ویژگی بافت پوششی، از سلول‌هایی که فضای بین یاخته‌ای کمی بین آن‌ها وجود دارد، تشکیل شده‌اند.



۱ ۲ ۳ ۴ ۱۲

همان طور که در شکل روبرو مشاهده می کنید، بیشترین یاخته های موجود در جوانه چشایی، یاخته های نگهبان هستند. این یاخته ها می توانند در تماس با بافت پوششی اطراف خود باشند.



بررسی سایر گزینه ها:

هر سه گزینه دیگر در مورد نقش گیرنده های چشایی صحبت کرده است و نه یاخته های نگهبان که بیشترین تعداد را در هر جوانه چشایی دارند.

گزینه ۲: یاخته های گیرنده چشایی نه یاخته های نگهبان، پیام چشایی را به رشته عصبی منتقل می کنند.

گزینه ۳: یاخته های نگهبان در هر جوانه چشایی از گیرنده های چشایی بیشتر هستند. یاخته های گیرنده چشایی، مولکول های محلول غذا تحریک می گردند که موجب باز شدن کانال های یونی غشای آن ها می شود.

گزینه ۴: ذره های غذا در بزاق حل می شوند و یاخته های گیرنده چشایی (نه یاخته های نگهبان) را تحریک می کنند.

۱۳ ۱ ۲ ۳ ۴ الف. (نادرست) در گوش انسان، بین استخوان های گوش میانی مفصل وجود دارد.

ب. (نادرست) کوچک ترین استخوان گوش میانی، استخوان رکابی است. استخوان رکابی بین دو استخوان دیگر قرار ندارد.

ج. (نادرست) لاله گوش در جمع آوری اصوات نقش دارد. لاله گوش توسط استخوان محافظت نمی شود.

د. (نادرست) شیپور استاس هوا را بین حلق و گوش میانی جابه جا می کند. شیپور استاس در قسمت نزدیک به گوش میانی با استخوان محافظت می شود.

۱۴ ۱ ۲ ۳ ۴ خارجی ترین لایه چشم صلبیه و داخلی ترین لایه چشم شبکیه است.

۱. صلبیه با ماده ژله ای و شفاف یعنی زجاجیه در تماس نیست.

۲. صلبیه با عضلات اسکلتی که در سطح خارجی چشم قرار دارند و سبب حرکات ارادی چشم می شود در تماس است. اما شبکیه با عضلات اسکلتی در تماس نیست.

۳. صلبیه ساختار عصبی ندارد اما هر دو لایه خارجی و داخلی چشم توانایی تولید انرژی زیستی (ATP) را دارد.

۴. صلبیه لایه ای ضخیم و بدون رنگدانه است.

۱۵ ۱ ۲ ۳ ۴ در بیماری پیرچشمی، انعطاف پذیری عدسی چشم کاهش و در نتیجه قدرت تطابق کاهش می یابد.

بررسی سایر گزینه ها:

۱) عدسی و قرنیه از بخش هایی هستند که توسط زلالیه تغذیه می شوند، در بیماری آستیگماتیسم سطح عدسی یا قرنیه صاف و کروی نمی باشد و تصاویر واضح ایجاد نمی شود.

۲) در بیماری نزدیک بینی ناشی از تغییر قطر کره ی چشم، پرتوهای نور اجسام نزدیک به طور طبیعی بر روی شبکیه متمرکز می شوند و پرتوهای نور اجسام دور به علت بزرگ شدن کره ی چشم در جلوی شبکیه چشم به هم می رسند.

۳) در بیماری دوربینی ناشی از تغییر قطر کره ی چشم، چون کره ی چشم کوچک تر از حالت طبیعی است، پرتوهای اجسام نزدیک در پشت شبکیه به هم می رسند و از عدسی همگرا استفاده می شود. عدسی چشم نیز همگرا است (نه واگرا).

مبحث: گفتار ۲ فصل ۲ زیست یازدهم

سری: شماره ۳

زمان : ۲۰ دقیقه

۱) چند مورد عبارت زیر را به درستی تکمیل می‌کند؟

- «به‌طور معمول در چشم انسان، مایع شفاف جلوی عدسی برخلاف ماده شفاف پشت آن»
- الف) در حفظ شکل کروی چشم نقش دارد.
- ب) در تولید و ذخیره انرژی یاخته‌های عدسی نقش دارد.
- ج) در تمرکز نور بر روی شبکیه نقش دارد.
- د) با بخشی از لایه خارجی کره چشم تماس دارد.

۱) ۱ ۲) ۲ ۳) ۳ ۴) ۴

۲) کدام مورد درباره پرده شفاف جلوی چشم انسان صحیح است؟

- ۱) همانند عنبیه، در کم و زیاد شدن مقدار نور ورودی به عدسی چشم نقش دارد.
- ۲) همانند مشیمیه، فاقد ارتباط مستقیم با مویرگ‌های خونی است.
- ۳) برخلاف عدسی، قادر به شکستن پیوندهای پرانرژی ATP است.
- ۴) برخلاف زجاجیه، با پرده محکم و سفیدرنگ کره چشم در تماس است.

۳) کدام گزینه در رابطه با گوش انسان بالغ و سالم، عبارت زیر را به درستی تکمیل می‌کند؟ (با تغییر)

«در بخش دهلیزی بخش حلزونی آن،»

- ۱) برخلاف - یاخته‌های مژک‌دار توسط یک لایه سلول پوششی احاطه شده‌اند.
- ۲) برخلاف - پیام حسی تولید شده، به اولین بخش مغزی که فرستاده می‌شوند، مچمه است.
- ۳) همانند - مژک‌های یاخته گیرنده، در تماس مستقیم با مایع درون مجراها قرار دارند.
- ۴) همانند - در نتیجه برخورد صداها با پرده صماخ، پیام عصبی در گیرنده‌ها ایجاد می‌شود.

۴) چند مورد عبارت زیر را به درستی تکمیل می‌کنند؟

- «اگر فردی نزدیک بین در شب، زیر نور ماه مشغول مطالعه کتاب از فاصله نزدیک، بدون عینک و عدسی کمکی باشد»
- الف- تصویر کلمات کتاب در جلوی شبکیه چشم تشکیل می‌شود.
- ب- مردمک چشم تحت تأثیر رشته‌های عصبی سمپاتیک گشاد می‌شود.
- ج- یاخته‌های گیرنده نوری که دارای مقدار بیشتری ماده حساس به نور هستند، تحریک می‌شوند.
- د- ماهیچه‌های صاف موجود در جسم مژگانی چشم برای عمل تطابق منقبض هستند.

۱) ۱ ۲) ۲ ۳) ۳ ۴) ۴

۵) در رابطه با چشم کدام گزینه درست است؟

- ۱) در چشم انسان سالم، زلالیه برخلاف مایع مغزی- نخاعی جزء محیط داخلی بدن محسوب نمی‌شود.
- ۲) بخش پهن تر قرنیه چشم گاو، به سمت بینی و بخش باریک تر آن به سمت گوش قرار دارد.
- ۳) در چشم فرد نزدیک بین نسبت به فرد سالم، تعداد محیط‌های شفاف بیشتر است.
- ۴) اعصاب پاراسمپاتیک می‌توانند سبب انقباض ماهیچه‌های صاف شعاعی چشم شوند.

۶) کدام گزینه، عبارت زیر را به‌طور مناسب کامل می‌کند؟

«در انسان، پیام‌های بینایی وارد شده به تالاموس سمت راست، به فرستاده می‌شود.»

- ۱) همه - لوب پس سری همان سمت
- ۲) فقط بخشی از - لوب پس سری همان سمت
- ۳) همه - مرکز پردازش سمت مقابل خود
- ۴) فقط بخشی از - مرکز پردازش سمت مقابل خود

۷) کدام عبارات زیر، در مورد گوش انسان درست است؟

- آ) استخوانی که کف آن روی درجه بیضی قرار دارد، با استخوان چکشی مفصل شده است.
 - ب) استخوان چکشی، از دو نقطه با استخوان گیجگاهی متصل شده است.
 - پ) مژک‌های گیرنده‌های بخش دهلیزی گوش برخلاف بخش حلزونی گوش، درون ماده ژلاتینی واقع شده‌اند.
 - ت) در گوش میانی برخلاف گوش بیرونی، مجرای وجود دارد که تنها بخشی از آن با استخوان گیجگاهی محافظت شده است.
- ۱ آ، ت ۲ ب، پ ۳ ب، ت ۴ آ، پ

۸) کدام مورد، درباره سرخرگی که از محل عصب بینایی وارد کره چشم انسان می‌شود، صحیح است؟

- ۱ ناحیه وسط بخش رنگین چشم را تغذیه می‌کند.
 - ۲ در مجاورت داخلی‌ترین لایه کره چشم منشعب می‌شود.
 - ۳ انشعابات آن در مجاورت مایعی غیر شفاف و ژله‌ای قرار دارد.
 - ۴ انشعابات انتهایی آن به پرده شفاف چشم وارد می‌شود.
- ۹) لایه‌ای از کره چشم انسان که بزرگ‌ترین بافت ذخیره‌کننده انرژی بدن در تماس است،
 ۱ با لایه‌ای دارای یاخته‌های تولیدکننده پیام عصبی در تماس نیست.
 ۲ در عصب خارج‌شده از کره چشم، با رگ‌ها در تماس است.
 ۳ نمی‌تواند تمام کره چشم را به‌صورت پیوسته پوشش دهد.
 ۴ در تمام سطح کره چشم ضخامت و قطر یکسانی دارد.

۱۰) کدام عبارت زیر درباره بخش (هایی) از لایه میانی چشم انسان که با صلیبه در تماس نمی‌باشد صحیح است؟

- ۱ می‌تواند در پاسخ به نور، پتانسیل الکتریکی یاخته‌های گیرنده عصبی خود را تغییر دهد.
- ۲ در تماس با ماده ژله‌ای شفاف منشأ گرفته از خوناب می‌باشد.
- ۳ برخلاف مشیمیه، فاقد یاخته‌های بافت پوششی در ساختار خود است.
- ۴ می‌تواند در میزان تحریک گیرنده‌های نوری شبکه نقش داشته باشد.

۱۱) چند مورد از موارد زیر درباره همه عضلاتی که درون کاسه چشم انسان یافت می‌شوند، صادق است؟

- در دقت و تیزی چشم انسان نقش اصلی را دارند.
- دوکی‌شکل و دارای انقباض غیرارادی هستند.
- با مایع شفاف تغذیه‌کننده یاخته‌های زنده عدسی، در تماس‌اند.
- تحت کنترل رشته‌های عصبی حرکتی خارج‌شده از مغز قرار دارند.

- ۱ مورد ۲ مورد ۳ مورد ۴ مورد

۱۲) چند مورد از موارد زیر، درباره یاخته‌های بخش تعادلی گوش انسان که دارای مژک هستند، صحیح است؟

- الف - می‌توانند از طریق رشته‌های عصبی، پیام حسی تولید شده را به مراکز در بالای ساقه مغز هدایت کنند.
- ب - می‌توانند پتانسیل الکتریکی گروهی از یاخته‌های بافت عصبی مغز را تغییر دهند.
- ج - بر روی شبکه‌ای از پروتئین‌ها و گلیکوپروتئین‌های رشته‌ای قرار دارند.
- د - توسط مژک‌های خود با مایع درون مجاری در تماس هستند.

- ۱ ۲ ۳ ۴

۱۳) کدام گزینه، عبارت زیر را به نادرستی تکمیل می‌کند؟

« در برجستگی‌های روی زبان، قطعاً »

- ۱ مژک‌های چشایی - در یاخته‌هایی مشاهده می‌شوند که در بین یاخته‌های نگهبان قرار دارند.
- ۲ گیرنده‌های چشایی - در جوانه‌های چشایی برای تحریک شدن نیازمند وجود بزاق می‌باشند.
- ۳ منافذ جوانه‌های چشایی - فضایی را برای ورود ذرات محلول غذا به جوانه چشایی فراهم می‌کنند.
- ۴ رشته‌های عصبی - در بافتی با یاخته‌های دارای فضای بین یاخته‌ای اندک وجود دارد.

۱۴) در بخش گوش یک فرد بالغ و سالم، به طور قطع
۱) دهلیزی - هر یاخته مژک دار با مایع درون مجرای نیم‌دایره‌ای، تماس مستقیم دارد.
۲) میانی - هر استخوان کوچک می‌تواند با هوای تهویه نشده مجرای تنفسی در ارتباط باشد.
۳) حلزونی - هر یاخته‌ای که غشای آن به برخی یون‌ها نفوذپذیری دارد، مژک دار است.
۴) بیرونی - هر قسمت از آن، توسط استخوان گیجگاهی محافظت می‌شود.

۱۵) کدام گزینه درباره عملکرد بخش تعادلی گوش انسان سالم و بالغ، صحیح می‌باشد؟ (با تغییر)

- ۱) با تغییر موقعیت سر، ابتدا مژک‌های گیرنده‌های مکانیکی موجود در مجاری نیم‌دایره خم می‌شوند و سپس ماده ژلاتینی خم می‌شود.
- ۲) پیام حسی تعادلی تولید شده توسط بخش تعادلی گوش، در نهایت به منظور پردازش به مخچه می‌رود.
- ۳) ارتعاش پرده صماخ در نهایت منجر به ایجاد پیام حسی تعادلی در مجاری نیم‌دایره می‌شود.
- ۴) با حرکت یاخته‌های مژک دار، مایع موجود در مجاری نیم‌دایره، به ارتعاش درمی‌آید.

۱۶) یاخته‌های استوانه‌ای موجود در شبکیه چشم انسان سالم،
۱) دارای حساسیت نوری بیشتری نسبت به یاخته‌های مخروطی می‌باشند.
۲) از طریق بخش استوانه‌ای شکل خود با یاخته‌های عصبی شبکیه ارتباط برقرار می‌کنند.
۳) دیدن رنگ‌ها و جزئیات ظریف اشیاء را با تولید پیام الکتریکی امکان پذیر می‌کنند.
۴) در نور کم تحریک شده و در نتیجه تحریک آن تصاویر دقیقی از جزئیات اجسام تولید می‌شود.

۱۷) چند مورد عبارت زیر را به نادرستی کامل می‌کند؟

- ۱) بخشی از ساختار کره چشم، داخلی‌ترین لایه آن را تغذیه می‌کند. این بخش
- * رنگدانه دار بوده و در تماس با مایع ژله‌ای و شفاف چشم قرار دارد.
- * دارای سوراخ مردمک است که مایع زلالیه در داخل آن جریان دارد.
- * یاخته‌های حاوی ماده حساس به نور را ندارد.
- * بین جسم مژگانی و عنبیه قرار دارد.

۱) ۱ ۲) ۲ ۳) ۳ ۴) ۴

۱۸) محلی که عصب بینایی از شبکیه چشم انسان خارج می‌شود،
۱) فاقد یاخته‌های استوانه‌ای است.
۲) محتوی گیرنده‌های نوری است.
۳) در امتداد محور نوری کره چشم قرار دارد.
۴) در دقت و تیزی نقش دارد.

۱۹) در ساختار گوش انسان می‌توان گفت
۱) مژک‌های درون مجرای شنوایی، نقش حفاظتی دارند.
۲) تمام مجرای شنوایی و بخش‌های میانی و درونی گوش را استخوان گیجگاهی محافظت می‌کند.
۳) شیپور استاش گوش میانی، در یکسان شدن فشار هوا در دو طرف پرده صماخ نقش دارد.
۴) در گوش میانی، بخش فوقانی استخوان چکشی به بخش حجیم‌تر استخوان سندانی مفصل می‌شود.

۲۰) در مورد تشریح چشم گاو کدام عبارت صحیح است؟
۱) بخش پهن تر قسمت شفافیه که به تارهای آویزی متصل است، به سمت بینی واقع شده است.
۲) فاصله محل خروج عصب بینایی تا قرنیه، در بالای چشم کمتر از پایین چشم است.
۳) از طریق عصب بینایی می‌توانیم چپ یا راست بودن چشم را تشخیص دهیم.
۴) اجسام مژگانی به عدسی و عنبیه به طور مستقیم متصل نیستند.

پاسخنامه تشریحی

۱) مایع شفاف جلوی عدسی زلالیه و ماده شفاف پشت آن زجاجیه است. موارد «ب» و «د» عبارت را به درستی تکمیل می کنند. بررسی موارد:

مورد الف) زجاجیه در حفظ شکل کروی چشم نقش دارد.

مورد ب) زلالیه برخلاف زجاجیه در تغذیه یاخته های عدسی نقش دارد. یاخته های زنده هم توانایی تولید و ذخیره انرژی را دارند.

مورد ج) زلالیه و زجاجیه هر دو محیط های شفاف چشم هستند که نور از آنها عبور می کند و در تمرکز نور روی شبکیه نقش دارند.

مورد د) زلالیه برخلاف زجاجیه با بخشی از لایه خارجی کره چشم (قرنیه) تماس دارد.

۲) بخش شفاف جلوی چشم قرنیه است. قرنیه با صلبیه (پردهای سفیدرنگ و محکم) در تماس است؛ اما زجاجیه با صلبیه در تماس نمی باشد. بررسی سایر گزینه ها:

گزینه ۱: «ا» عنبیه با تغییر قطر مردمک در تنظیم مقدار نور ورودی به عدسی نقش دارد؛ ولی قرنیه نقشی در تنظیم مقدار نور ورودی به عدسی ندارد.

گزینه ۲: مویرگ های خونی مشیمیه در تغذیه و اکسیژن رسانی به شبکیه نقش دارند؛ ولی قرنیه فاقد مویرگ های خونی است و توسط مایع زلالیه تغذیه و اکسیژن رسانی می شود و مواد دفعی خود را نیز به زلالیه می دهد تا از طریق خون دفع شود.

گزینه ۳: یاخته های قرنیه و عدسی هر دو قادر به تولید و مصرف انرژی هستند؛ یعنی توانایی شکستن پیوندهای پر انرژی ATP را دارند.

۳) در بخش دهلیزی، یاخته های مژک دار توسط یک لایه سلول پوششی، اما در بخش حلزونی توسط چند لایه سلول پوششی احاطه شده اند. بررسی سایر گزینه ها:

گزینه ۲. پیام های عصبی مربوط به بخش دهلیزی ابتدا به مغز میانی وارد می شوند.

گزینه ۳. در بخش دهلیزی، مژک ها درون ماده ژلاتینی قرار دارند و با مایع تماس ندارند.

گزینه ۴. برخورد صداها با پرده صماخ سبب ایجاد پیام عصبی در گیرنده های بخش دهلیزی نمی شود.

۴) بررسی موارد:

مورد الف- نادرست. در فرد نزدیک بین، تصویر اجسام نزدیک روی شبکیه تشکیل می شود. بنابراین در دیدن اجسام نزدیک مشکلی ندارد.

مورد ب- درست. به دلیل نور کم در شب، اعصاب سمپاتیک ماهیچه شعاعی چشم را منقبض و مردمک چشم را گشاد می کنند.

مورد ج- درست. در نور کم، یاخته های گیرنده استوانه ای چشم تحریک می شوند. بخش استوانه ای در این یاخته ها وسیع تر و در نتیجه مقدار ماده حساس به نور بیشتری دارد.

مورد د- درست. چون جسم در فاصله نزدیک قرار دارد، برای اینکه تصویر آن روی شبکیه تشکیل شود، باید عدسی چشم محدب تر شود و برای تحذب بیشتر ماهیچه مژگانی منقبض می شود.

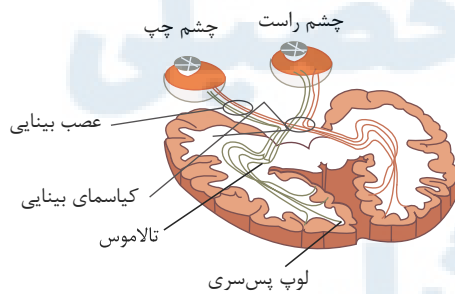
۵) بررسی سایر گزینه ها:

گزینه ۱: «ا» زلالیه و مایع مغزی نخاعی هر دو جزء محیط داخلی بدن محسوب می شوند.

گزینه ۳: «ب» در فرد نزدیک بین، دوربین و طبیعی تعداد محیط های شفاف چشم تفاوتی ندارد.

گزینه ۴: «د» اعصاب پاراسمپاتیک با تحریک ماهیچه حلقوی عنبیه سبب تنگ شدن مردمک چشم می شوند.

۶) طبق شکل همه اطلاعاتی که به تالاموس یک سمت وارد می شوند، در لوب پس سری همان سمت پردازش می شوند.



۷) بررسی گزینه های درست:

مورد ب) استخوان چکشی در دو نقطه به استخوان گیجگاهی متصل است.

مورد پ) مژک های بخش حلزونی گوش، در تماس با ماده ژلاتینی گوش اند، نه اینکه در درون آنها قرار گرفته باشند.

بررسی گزینه های نادرست:

مورد آ) استخوان رکابی با استخوان سندان مفصل دارد نه با استخوان چکشی.

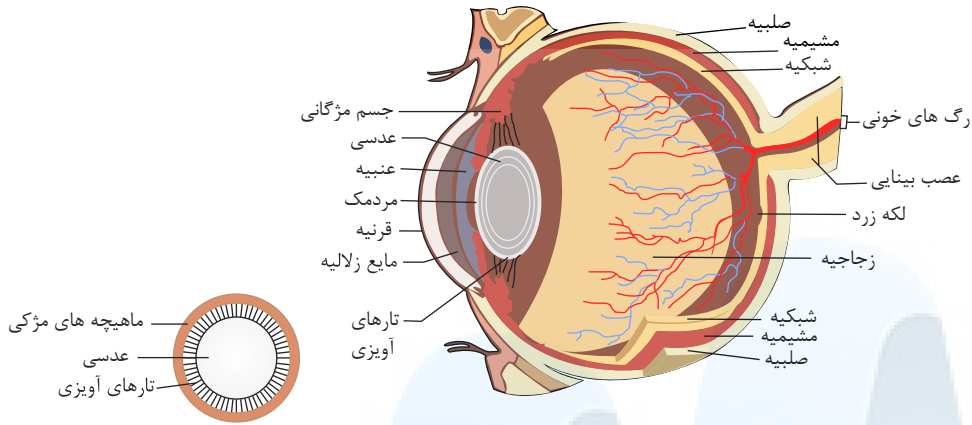
مورد ت) انتهای مجرای گوش بیرونی توسط استخوان گیجگاهی محافظت می شود.

۸) از محل عصب بینایی یک سرخرگ وارد و یک سیاهرگ خارج می شود و با توجه به شکل زیر، در مجاورت شبکیه منشعب می شود. بررسی سایر گزینه ها:

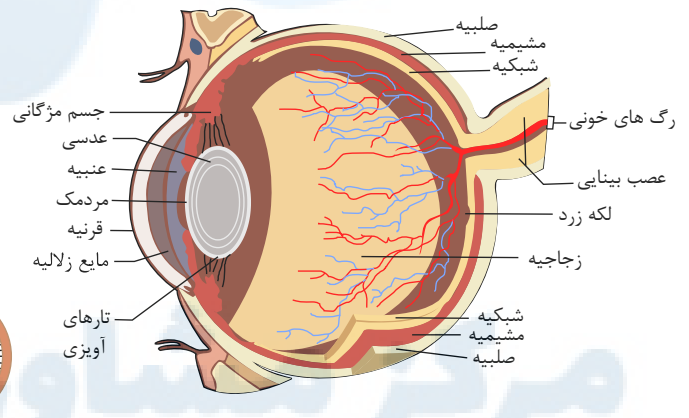
گزینه ۱- منظور از بخش رنگین چشم، عنبیه است و منظور از ناحیه وسط آن، سوراخ مردمک است و مردمک نه یاخته دارد و نه نیازی به تغذیه؛ چون فقط یک سوراخ می باشد.

گزینه ۳- با توجه به شکل زیر، انشعابات سرخرگ وارد شده به چشم، در مجاورت زجاجیه قرار دارند که ماده های ژله ای و شفاف است نه غیر شفاف.

گزینه ۴- منظور از پرده شفاف جلوی چشم، قرنیه است که فاقد مویرگ های خونی است و زلالیه، O_2 و مواد غذایی را برای عدسی و قرنیه، فراهم می کند.



با توجه به شکل زیر لایه صلبیه کره چشم به صورت مستقیم با بافت چربی (بزرگ ترین ذخیره کننده انرژی بدن) در تماس است. صلبیه نمی تواند تمام کره چشم را بپوشاند؛ زیرا در قسمت جلوی چشم قرار دارد. **۱ ۲ ۳ ۴ ۹**



بررسی سایر گزینه ها:

گزینه ۱: صلبیه در تماس مستقیم با اجسام مژگانی (بخشی از لایه میانی چشم) قرار دارد که این لایه حاوی یاخته های عصبی جهت تحریک یاخته های مایهچه مژگانی است.

گزینه ۲: رگ های خونی عصب بینایی در وسط بخش عصبی آن قرار دارند و با صلبیه در تماس نیستند.

گزینه ۴: ضخامت صلبیه در سرتاسر آن یکسان نیست و در بخش هایی دچار تغییر می شود. همانطور که گفته شد این لایه الزاماً در تمام سطح کره چشم مشاهده نمی شود و قسمت جلویی چشم توسط قرنیه احاطه شده است.

گزینه ۱۰: عنبیه تنها بخشی از لایه میان چشم است که با صلبیه تماس ندارد و با انقباض مایهچه های صاف حلقوی و شعاعی خود سبب تغییر در میزان نور ورودی به چشم می شود که می تواند در میزان تحریک گیرنده های نوری چشم نقش داشته باشد.

بررسی سایر گزینه ها:

گزینه ۱ در ساختار عنبیه، یاخته گیرنده نوری وجود ندارد.

گزینه ۲ عنبیه با زلالیه در تماس است که مایع شفاف می باشد.

گزینه ۳ عنبیه در ساختار خود دارای رگ خونی و بافت پوششی می باشد. (دقت کنید عنبیه دارای ساختار مایهچه ای است و مایهچه ها برای زنده ماندن به خون نیاز دارند که این خون از طریق رگ های خونی موجود در آن ها تأمین می شود.)

گزینه ۱۱ در کاسه چشم، دو دسته مایهچه صاف و اسکلتی وجود دارد. مایهچه های صاف شامل مایهچه های عنبیه و اجسام مژگانی می باشد و مایهچه های اسکلتی شامل مایهچه های حرکت دهنده کره چشم می باشد.

مورد اول، مربوط به لکه زرد است.

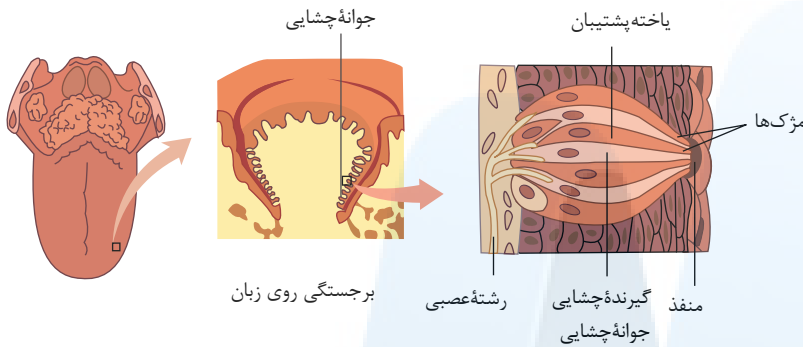
مورد دوم، و سوم، فقط برای عضلات صاف کره چشم صادق است. فقط مورد آخر جمله درست است.

۱۲ فقط جمله "د" نادرست می باشد. منظور سؤال، یاخته‌های گیرنده‌های حسی تعادلی در بخش تعادلی گوش می باشد. بررسی گزینه‌ها:

- (الف) درست، پیام‌های تولید شده در این گیرنده‌ها توسط رشته‌های عصبی حسی به مغز از جمله تالاموس ارسال می شود. این مرکز در بالای ساقه مغز قرار دارد.
 (ب) درست، این یاخته‌ها می توانند با ارسال پیام عصبی، پتانسیل الکتریکی گروهی از یاخته‌های عصبی مغز را تغییر دهند.
 (ج) درست، غشای پایه زیر یاخته‌های بافت پوششی را فراگرفته است. یاخته‌های گیرنده مژک‌دار تعادلی نیز متعلق به بافت پوششی بوده و در تماس با پروتئین‌های غشای پایه قرار می گیرد.
 (د) نادرست، مژک‌های این یاخته‌ها با مایع درون مجاری به طور مستقیم در تماس نمی باشد. مژک‌های یاخته‌های گیرنده در ماده‌ای ژلاتینی قرار دارند.

۱۳

با توجه به شکل روبه‌رو، رشته‌های عصبی در بافت زیرین بافت پوششی سنگفرشی زبان وجود دارد. این بافت نوعی بافت پیوندی است که بر خلاف بافت پوششی فضای بین یاخته‌ای زیادی دارد.



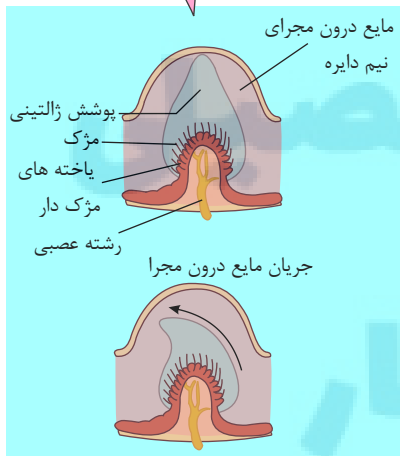
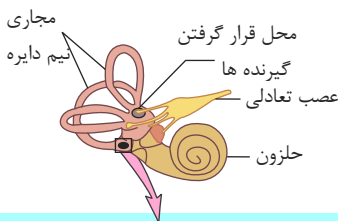
بررسی سایر گزینه‌ها:

گزینه ۱: گیرنده‌های چشایی در جوانه چشایی در بین یاخته‌های نگهبان قرار دارند. این گیرنده‌ها دارای مژک‌های چشایی می باشند.
 گزینه ۲: ذره‌های غذا در بزاق حل می شوند و یاخته‌های گیرنده چشایی را تحریک می کنند.

گزینه ۳: همانطور که در شکل ملاحظه می کنید، منفذ جوانه‌های چشایی، فضایی را برای ورود ذرات غذا به جوانه‌های چشایی فراهم می کنند.

۱۴ هوای تهویه نشده منظور هوایی است که به کیسه‌های هوایی هنوز نرسیده باشند. در بخش میانی گوش یک فرد بالغ استخوان‌های چکشی، رکابی و سندانی دیده می شوند که این بخش از طریق شیپور استاش با حلق در تماس است و بخشی از هوای تنفسی می تواند از طریق شیپور استاش وارد گوش میانی شود و در تماس با این استخوان‌ها قرار گیرد. بررسی سایر گزینه‌ها:

گزینه ۱: طبق شکل روبرو در بخش دهلیزی گوش، هر یاخته مژک‌دار با ماده ژلاتینی در تماس مستقیم است (نه مستقیم با مایع موجود در مجاری نیم دایره‌ای)



گزینه ۳: در بخش حلزونی گوش یک فرد بالغ، علاوه بر گیرنده‌های حسی که غشای آن‌ها به یون‌ها نفوذپذیری دارد، یاخته‌های پوششی دیواره حلزون گوش نیز همانند دیگر یاخته‌های زنده بدن هر فرد سالم به برخی یون‌ها نفوذپذیری دارند، اما نمی توان گفت مژک‌دار هستند.

گزینه ۴: استخوان گیجگاهی بخش انتهایی (داخلی) گوش بیرونی را احاطه می کند.

۱۵ مخچه مرکز تنظیم وضعیت بدن و تعادل آن است و پیام‌های تعادلی را از گوش می تواند دریافت کند. بررسی سایر گزینه‌ها:

گزینه ۱: با چرخش سر (تغییر موقعیت سر) مایع درون مجاری نیم دایره به حرکت در می آید و ماده ژلاتینی را به یک طرف خم می کند. سپس مژک‌های یاخته‌ای گیرنده خم شده و این گیرنده‌ها تحریک می شوند.

گزینه ۳: ارتعاش پرده صماخ در نهایت باعث تحریک گیرنده‌های مکانیکی در بخش حلزونی می شود. این گیرنده‌ها منجر به ایجاد پیام حسی شنوایی (نه تعادلی) می شوند.

گزینه ۴): ارتعاش پرده صماخ به ترتیب به استخوان های چکشی، سندان و رکابی منتقل می شود. ارتعاش استخوان رکابی نیز باعث ارتعاش مایع و به دنبال آن حرکت مژک های یاخته های مژک دار موجود در حلزون گوش شده و در نهایت به پیام عصبی تبدیل می شود.

۱۶) ۱ ۲ ۳ ۴ ۱. یاخته های استوانه ای، با شدت نور کم و یاخته های مخروطی با شدت نور زیاد تحریک می شوند. پس حساسیت بیش تری نسبت به مخروطی ها دارند.

۲. یاخته های استوانه ای از سمت مخالف بخش استوانه ای با یاخته های عصبی شبکه ای ارتباط برقرار می کنند.

۳. دیدن رنگ ها و جزئیات اجسام توسط یاخته های مخروطی امکان پذیر است.

۴. یاخته های استوانه ای در نور کم تحریک می شوند ولی تصویر دقیقی از جزئیات اجسام تولید نمی کنند.

۱۷) ۱ ۲ ۳ ۴ بخشی از ساختار کره چشم که داخلی ترین لایه آن را تغذیه می کند، مشیمیه است.

مورد اول: نادرست. مشیمیه رنگدانه دار است، اما با ماده ژله ای و شفاف چشم یعنی زجاجیه تماس ندارد. زجاجیه ماده ژله ای است نه مایع.

مورد دوم: نادرست. مشیمیه دارای سوراخ مردمک نیست. سوراخ مردمک در وسط عنبیه قرار دارد.

مورد سوم درست. یاخته های حساس به نور در شبکه قرار دارند.

مورد چهارم: نادرست. جسم مژگانی بین مشیمیه و عنبیه قرار دارد.

۱۸) ۱ ۲ ۳ ۴ ۱. یاخته های استوانه ای نوعی گیرنده نوری هستند. محلی که عصب بینایی از شبکیه چشم خارج می شود نقطه کور است و فاقد گیرنده های نوری است.

۲. در نقطه کور، گیرنده های نوری وجود ندارند.

۳. در امتداد محور نوری، لکه زرد قرار دارد نه نقطه کور.

۴. لکه زرد در دقت و تیزبینی نقش دارد.

۱۹) ۱ ۲ ۳ ۴ با توجه به تصویر صفحه ۲۹ مربوط به بخش های تشکیل دهنده گوش، بخش فوقانی استخوان چکشی به بخش بزرگ تر استخوان سندان متصل شده است.

رد گزینه ۱ - موهای کرک مانند (نه مژک ها) درون مجرای شنوایی نقش حفاظتی دارند.

رد گزینه ۲، بخش ابتدایی مجرای گوش را استخوان گیجگاهی محافظت نمی کند.

رد گزینه ۳- شیپور استاوش رابط گوش میانی با حلق است ولی خود جزء گوش میانی نمی باشد.

۲۰) ۱ ۲ ۳ ۴ وقتی چشم را طوری در دست بگیریم که سطح بالای آن رو به بالا باشد، عصب بینایی پس از خروج از چشم به سمت مخالف خم می شود.

بررسی سایر گزینه ها:

رد گزینه ۱ - قسمت شفاف چشم که به تارهای آویزی متصل است عدسی است، بخش پهن تر قرنیه به سمت بینی قرار دارد نه عدسی

رد گزینه ۲ - فاصله عصب بینایی تا قرنیه در بالای چشم بیشتر از پایین چشم می باشد.

رد گزینه ۴ - اجسام مژگانی از طریق تارهای آویزی به عدسی متصل اند ولی مستقیماً به عنبیه متصل اند.

مرکز مشاوره تحصیلی

علیرضا افشار



مبحث: گفتار ۲ فصل ۲ زیست یازدهم

سری: شماره ۴

زمان : ۲۰ دقیقه

۱ کدام عبارت دربارهٔ چشم یک انسان سالم به درستی بیان شده است؟

- ۱ لایه‌ای از چشم که ذخیره‌کنندهٔ گلیکوژن است، به دنبال تحریک اعصاب سمپاتیک ماهیچه‌های حلقوی را منقبض می‌کند.
- ۲ بخشی از مشیمیه که فاقد تماس مستقیم با صلیبه است، در تماس با مادهٔ شفاف و ژله‌ای کرهٔ چشم قرار می‌گیرد.
- ۳ عصبی که سبب گشادشدن سوراخ مردمک می‌شود، همانند اعصاب کنترل‌کنندهٔ کار ماهیچهٔ قلب همواره فعال است.
- ۴ لایه‌ای از کرهٔ چشم که با بزرگ‌ترین بافت ذخیره‌کنندهٔ انرژی بدن در تماس است، اولین محل شکست نور را فراهم می‌کند.

۲ کدام گزینه عبارت زیر را به نادرستی کامل می‌کند؟

- «یاخته‌ای از اندام زبان که پس از تحریک‌شدن فعالیت غشایی خود را تغییر می‌دهد، یاخته‌ای که در تماس مستقیم با یاختهٔ نگهبان جوانهٔ چشایی قرار می‌گیرد؛ ممکن است»
- ۱ برخلاف - توسط رشته‌های آکسونی عصب‌دهی شود.
 - ۲ همانند - در خارج از جوانهٔ چشایی قابل مشاهده باشد.
 - ۳ برخلاف - فاقد ارتباط مستقیم با منفذ چشایی باشد.
 - ۴ همانند - ظاهری رشته‌ای و بدون انشعاب داشته باشد.

۳ کدام گزینه دربارهٔ یاخته‌های گیرندهٔ نوری که در لکهٔ زرد شبکه فراوان‌تر هستند، به درستی بیان شده است؟

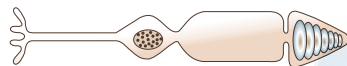
- ۱ به کمک نوعی ویتامین محلول در چربی به تجزیهٔ مادهٔ حساس به نور در شرایط نوری قوی می‌پردازند.
- ۲ دندریت کوتاه‌تری نسبت به گیرندهٔ نوری دیگر موجود در شبکه دارد.
- ۳ میزان حساسیت آن‌ها به نور نسبت به گیرندهٔ نوری دیگر بیشتر است.
- ۴ در تمامی بخش‌های قسمت عقبی کرهٔ چشم قابل مشاهده هستند.

۴ در چشم فردی که تصاویر واضحی از اجسام در نقاط نزدیک روی پردهٔ شبکیه تشکیل نمی‌گردد؛ ممکن نیست

- ۱ نیاز به اصلاح عدم یکنواختی انحنای قرنیه یا عدسی باشد.
- ۲ مشکل تطابقی بر اثر افزایش سن پدید آمده باشد.
- ۳ فاصلهٔ قرنیه تا محل خروج عصب بینایی افزوده شده باشد.
- ۴ حجم مادهٔ شفاف پرکنندهٔ بخش پشتی کرهٔ چشم کاهش یافته باشد.

۵ بخش رنگین لایهٔ میانی چشم در انسان‌های مختلف،

- ۱ با تغییر قطر عدسی تصویر را بر روی شبکه متمرکز می‌کند.
- ۲ پر از یاخته‌های مخروطی است که به تشخیص جزئیات اجسام کمک می‌کند.
- ۳ با مادهٔ ژله‌ای ژجاجیه ارتباط مستقیم دارد.
- ۴ دارای عضلاتی است که تحت تأثیر اعصاب خودمختار تغییر قطر می‌دهند.



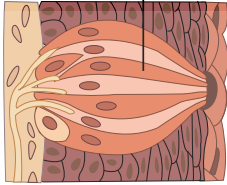
۶ سلولی که در شکل مقابل می‌بینید،

- ۱ تحت تأثیر نور شدید دچار تغییر پتانسیل الکتریکی شده و در نهایت پیام‌های خودش را به لوب گیجگاهی قشر مخ ارسال می‌کند.
- ۲ در صورت اختلال عملکرد، نمی‌تواند سبب اختلال در تشخیص رنگ شود.
- ۳ نوعی نورون حرکتی در لایهٔ شبکیهٔ چشم محسوب می‌شود.
- ۴ توسط مویرگ‌های خونی مشیمیه مواد مورد نیاز تنفس سلولی را به‌دست می‌آورد.

۷ در فرد نزدیک‌بین قطر عدسی چشم با دیدن اجسام

- ۱ نزدیک، بیشتر می‌شود و علت آن انقباض ماهیچهٔ مژگانی است.
- ۲ دور، کمتر می‌شود و علت آن انقباض ماهیچهٔ مژگانی است.
- ۳ نزدیک، بیشتر می‌شود و علت آن انقباض ماهیچه‌های عنبیه است.
- ۴ دور، کمتر می‌شود و علت آن انقباض ماهیچه‌های عنبیه است.

یاخته پشתיبان



۸ در رابطه با نوع گیرنده‌ای که در شکل مقابل می‌بینید، کدام صحیح است؟

- ۱ گیرنده‌های موجود در شکل در دهان برخلاف برجستگی‌های زبان درون جوانه‌های چشایی قرار ندارند.
- ۲ این گیرنده‌ها از طریق آکسون‌های خود پیام عصبی را به مرکز عصبی منتقل می‌کنند.
- ۳ آمینو اسید گلوتمات می‌تواند سبب تغییر پتانسیل الکتریکی در عده‌ای از این یاخته‌ها شود.
- ۴ سرماخوردگی برخلاف بویایی بر روی تشخیص مزه غذا تأثیری ندارد.

۹ کدام جمله درست است؟

- ۱ یاخته‌های مژکدار گیرنده‌های تعادلی در مجاری نیم دایره در تماس با مایع درون مجاری نیم دایره هستند.
- ۲ در یک فرد ایستاده، استخوان رکابی پایین‌تر از مجاری نیم دایره قرار گرفته است.
- ۳ تمام بخش‌های گوش درونی، میانی و بیرونی توسط استخوان گیجگاهی محافظت می‌شوند.
- ۴ استخوان چکشی در حد فاصل استخوان رکابی و سندان قرار گرفته است.

۱۰ همه پیام‌های بینایی از چشم چپ انسان،

- ۱ قبل از کیاسمای بینایی از نهنج می‌گذرند.
- ۲ در محل کیاسمای بینایی به نیمکره راست می‌روند.
- ۳ پس از تقویت در ماده سفید نیمکره مقابل، پردازش می‌شوند.
- ۴ در محلی از مخ پردازش نهایی می‌شوند که با مخچه تماس فیزیکی دارد.

۱۱ چند مورد عبارت زیر را به نادرستی کامل می‌کند؟

- «گیرنده‌های بویایی انسان،»
- الف) یاخته‌های عصبی هستند که به جای دندریت، مژک دارند.
 - ب) پیام را با دارینه‌های خود به مخ می‌برند.
 - ج) قبل از پیاز بویایی، سیناپس می‌دهند.
 - د) پیام‌های بویایی را به دستگاه عصبی مرکزی مغز و نخاع ارسال می‌کنند.

۴ ۴

۳ ۳

۲ ۲

۱ ۱

۱۲ کدام گزینه درباره شکل زیر نادرست است؟

- ۱ «الف، بافتی است که از یاخته‌ها، رشته‌های پروتئینی و ماده زمینه‌ای تشکیل شده است.
- ۲ فضای درون «ب» پر از مایع است.
- ۳ «ج» دارای گیرنده مکانیکی است.
- ۴ «د» در تحریک یاخته‌های مجاری نیم دایره نقش دارد.

۱۳ کدام گزینه در مورد گوش انسان نادرست است؟

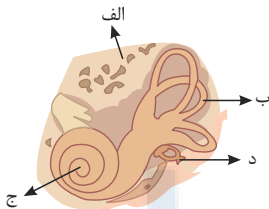
- ۱ برده درجه بیضی از یک طرف با هوا و از طرف دیگر با مایعی در تماس است.
- ۲ برده صماخ برخلاف استخوان رکابی پایین‌تر از مجاری نیم دایره قرار دارد.
- ۳ آسه یاخته‌های عصبی حسی حلزون گوش، پیام‌ها را به مغز هدایت می‌کند.
- ۴ استخوان سندان همانند استخوان چکشی بالاتر از استخوان رکابی قرار دارد.

۱۴ کدام عبارت در مورد گوش انسان درست است؟

- ۱ استخوان گیجگاهی نقشی در حفاظت از گوش بیرونی ندارد.
- ۲ استخوان سندان از انتهای پهن‌تر خود به استخوان رکابی متصل می‌شود.
- ۳ با لرزش مایع درون بخش حلزونی، ماده ژلاتینی را به یک طرف خم می‌کند و با خم شدن مژک‌ها، گیرنده‌ها، تحریک می‌شوند.
- ۴ گیرنده‌های مژکدار مجاری نیم دایره، فقط در اتساعات دو انتهای مجاری وجود دارد.

۱۵ کدام عبارت درباره بویایی انسان درست است؟

- ۱ گیرنده بویایی بخشی از دستگاه عصبی محیطی محسوب می‌شود.
- ۲ اتصال مولکول‌های بودار به پیاز بویایی، پیام عصبی تولید می‌کند.
- ۳ در پیاز بویایی جسم سلولی نورون حسی بویایی وجود دارد.
- ۴ گیرنده‌های بویایی به بافتی که زیر یاخته‌های آن غشاء پایه وجود دارد، تعلق دارد.



۱۶) یاخته های سقف حفره بینی ممکن نیست

- ۱) به غشای پایه متصل باشند.
- ۲) توسط مولکول های بودار، تحریک شوند.
- ۳) از طریق مژک های خود با مولکول های بو دار در تماس باشند.
- ۴) با دندریت های خود، پیام عصبی را به لوب بویایی مغز انتقال دهند.

۱۷) می توان گفت (با تغییر)

- ۱) ماهیت پیام های عصبی که از چند نوع گیرنده حسی به مغز می رسند، یکسان است.
- ۲) شیارهای عمیق، نیمکره های مخچه را به چهار بخش یا لوب تقسیم می کنند.
- ۳) در اثر آسیب به لوب پس سری سمت راست، به طور قطع، فقط اطلاعات بینایی چشم چپ به درستی پردازش نمی شود.
- ۴) اطلاعات بینایی پس از عبور از تالاموس، از کیاسمای بینایی عبور می نماید.

۱۸) یاخته های مژک دار بخش حلزونی گوش بخش دهلیزی آن

- ۱) همانند - از نوع یاخته پیوندی می باشند.
- ۲) همانند - توانایی ایجاد پتانسیل عمل را دارند.
- ۳) برخلاف - با ماده ژلاتینی در تماس هستند.
- ۴) برخلاف - باعث لرزش ماده ژلاتینی می شوند.

۱۹) عصبی که سبب گشاد شدن مردمک می شود

- ۱) برخلاف اعصاب پیکری همیشه فعال است.
- ۲) می تواند به طور غیر مستقیم به تحریک یاخته های مخروطی کمک کند.
- ۳) موجب انقباض هر ماهیچه صاف عنبیه می شود.
- ۴) مربوط به بخش حسی دستگاه عصبی محیطی می باشد.

۲۰) چند مورد، عبارت زیر را به طور مناسب کامل می کند؟

- بخشی از لایه میانی چشم انسان،
- الف- به صورت شفاف و برجسته درآمده است.
- ب- در پاسخ به محرک، تغییر وضعیت می دهد.
- ج- توسط مایع شفاف جلو عدسی تغذیه می شود.
- د- با لایه دارای گیرنده های نوری و نورون ها در تماس است.

۴ ۴

۳ ۳

۲ ۲

۱ ۱

مرکز مشاوره تحصیلی
علیرضا افشار

پاسخنامه تشریحی

۱) لایه صلیبیه کره چشم به صورت مستقیم با بافت چربی (بزرگترین ذخیره کننده انرژی بدن) در تماس است. قرنیه نخستین محل شکست نور است که از شفاف شدن صلیبیه در جلوی چشم حاصل می گردد.

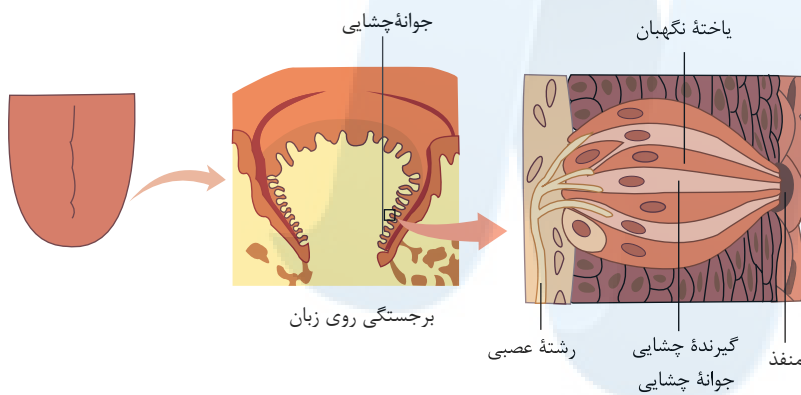
بررسی سایر گزینه ها:

گزینه (۱): عنبیه از لایه میانی، دارای ماهیچه های صاف است که می تواند گلیکوژن را ذخیره کند. با فعال شدن اعصاب سمپاتیک، انقباض ماهیچه های شعاعی عنبیه رخ داده و سوراخ مردمک گشادتر می شود.

گزینه (۲): عنبیه تنها بخشی از لایه میان چشم است که با صلیبیه تماس ندارد؛ این بخش در تماس با زجاجیه نمی باشد.

گزینه (۳): اگرچه اعصاب سمپاتیک و پاراسمپاتیک همواره فعال هستند؛ اما فعالیت عصب کنترل کننده انقباض عنبیه همواره رخ نمی دهد.

۲) علاوه بر سلول های گیرنده چشایی زبان، سلول های ماهیچه اسکلتی زبان نیز می توانند پس از تحریک شدن فعالیت غشایی خود را تغییر دهند. طبق شکل زیر دیده می شود که یاخته های بافت پوششی زبان و گیرنده های چشایی می توانند در تماس مستقیم با یاخته نگهبان قرار داشته باشند. از بین یاخته های اشاره شده، تنها یاخته های ماهیچه اسکلتی می توانند ظاهری رشته ای و بدون انشعاب داشته باشند.



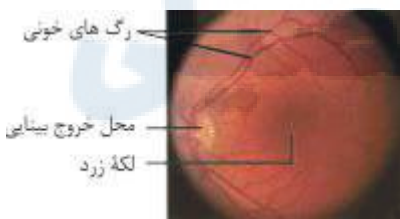
بررسی سایر گزینه ها:

گزینه (۱): فقط یاخته های ماهیچه اسکلتی می تواند توسط رشته های آکسونی عصب دهی شود.

گزینه (۲): یاخته های بافت پوششی و یاخته های ماهیچه اسکلتی می توانند خارج از جوانه های چشایی قرار داشته باشند.

گزینه (۳): یاخته ماهیچه اسکلتی برخلاف یاخته گیرنده چشایی فاقد ارتباط مستقیم با جوانه چشایی است.

۳) یاخته های مخروطی در محل لکه زرد فراوان تر می باشند. طبق شکل مقابل دیده می شود که دندریت یاخته های مخروطی نسبت به استوانه ای اندازه کوچکتری دارد.



بررسی سایر گزینه ها:

گزینه (۱): ویتامین A (نوعی ویتامین محلول در چربی) برای ساخت ماده حساس به نور لازم است؛ نه تجزیه آن در اثر تابش نور.

گزینه (۳): یاخته های استوانه ای در نور کم و یاخته های مخروطی در نور زیاد تحریک می شوند. در نتیجه حساسیت یاخته های استوانه ای نسبت به نور بیشتر است.

گزینه (۴): در محل خروج عصب بینایی هیچ گیرنده ای وجود ندارد.

۴) در دوربینی، پیرچشمی و آستیگماتیسم ممکن است تصاویر واضحی از اجسام در نقاط نزدیک دیده نشود. اما در افراد نزدیک بین، کره چشم بیش از اندازه بزرگ است و پرتوهای نور اجسام دور، در جلوی شبکیه متمرکز می شوند و فاصله قرنیه تا محل خروج عصب بینایی افزوده شده است.

بررسی سایر گزینه ها:

گزینه (۱): اگر سطح عدسی یا قرنیه کاملاً کروی و صاف نباشد، پرتوهای نور به طور نامنظم به هم می رسند و روی یک نقطه شبکیه متمرکز نمی شوند. در نتیجه تصویر مناسبی از اجسام دور و نزدیک شکل نمی گیرد.

گزینه (۲): پیرچشمی، نوع خاصی از دوربینی است که با افزایش سن در افراد پدید می آید. زیرا با کاهش انعطاف عدسی تنها دیدن اجسام دور به درستی انجام می گیرد.

گزینه (۴): در فرد دوربینی، کره چشم از اندازه طبیعی کوچک تر است.

۵) رنگ چشم افراد مختلف ناشی از «عنبیه» است که ماهیچه های صاف و غیرارادی برای کنترل قطر مردمک دارد. عضلات صاف تحت کنترل اعصاب خودمختار هستند.

بررسی سایر گزینه‌ها:

گزینه (۱): قطر عدسی به وسیله ماهیچه‌های مژگانی تغییر می‌کند.

گزینه (۲): گیرنده‌های نوری مخروطی و استوانه‌ای در لایه شبکیه چشم قرار دارند؛ در حالی که عنبیه جزء لایه مشیمیه است.

گزینه (۳): عنبیه هیچ ارتباط مستقیمی با زجاجیه ندارد. (عنبیه جلوی عدسی و زجاجیه پشت عدسی است)

۶) سلول‌های گیرنده مخروطی در شبکیه چشم انسان، توسط مویرگ‌های خونی مشیمیه تغذیه می‌شود. مواد غذایی و O_2 در یاخته مخروطی تنفس سلولی انجام می‌دهند و پیام‌های بینایی را به کوچک‌ترین لوب قشر مخ (لوب پس‌سری) ارسال می‌کنند و گیرنده حسی محسوب می‌شوند. اختلال در عملکرد این سلول، می‌تواند باعث کوررنگی (عدم تشخیص رنگ) شود.

۷) هنگام دیدن اشیای نزدیک، با انقباض ماهیچه‌های مژگانی عدسی ضخیم می‌شود تا تصویر بر روی شبکیه تشکیل شود.

بررسی سایر گزینه‌ها:

گزینه (۲): هنگام دیدن اشیای دور، ماهیچه‌های مژگانی به حالت استراحت درآمده و عدسی باریک‌تر می‌شود.

گزینه‌های (۳) و (۴): ماهیچه‌های عنبیه نقشی در تغییر قطر عدسی ندارند؛ بلکه باعث تغییر قطر مردمک می‌شوند.

۸) شکل گیرنده‌های چشایی روی برجستگی‌های دهان را نشان می‌دهد.

بررسی گزینه‌ها:

گزینه (۱): این گیرنده‌ها روی زبان و دهان درون جوانه‌های چشایی قرار دارند.

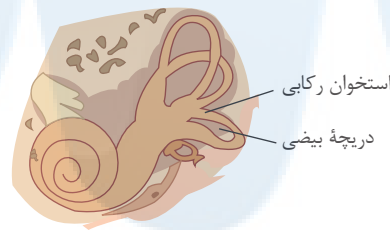
گزینه (۲): این گیرنده‌ها با دندریت نوروں حسی سیناپس می‌دهد. گیرنده‌های شیمیایی زبان نوروں نیستند، پس آکسون ندارند.

گزینه (۳): گلوتامات آمینو اسیدی است که با تحریک عده‌ای از گیرنده‌های چشایی می‌تواند مزه اوامی را ایجاد کند.

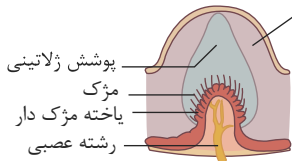
گزینه (۴): سرماخوردگی و گرفتگی بینی سبب می‌شود مزه غذا به درستی تشخیص داده نشود.

۹) ۱ ۲ ۳ ۴

با توجه به شکل روبرو استخوان رکابی پایین‌تر از مجاری نیم‌دایره قرار گرفته است.



مایع درون مجرای نیم‌دایره



بررسی سایر گزینه‌ها:

گزینه (۱): یاخته‌های مژک‌دار در تماس با ماده ژلاتینی هستند نه با مایع درون مجاری نیم‌دایره.

گزینه (۲): بخش خارجی گوش بیرونی توسط استخوان گیجگاهی احاطه نشده است.

گزینه (۳): ترتیب استخوان‌های گوش میانی از خارج به داخل عبارت است از چکشی، سندانی و رکابی.

۱۰) ۱ ۲ ۳ ۴ گزینه ۱: پیام‌های بینایی پس از کیاسمای بینایی، وارد مغز شده و از قسمت‌های مختلف مغز، از جمله نهنج می‌گذرد.

گزینه ۲: در محل کیاسمای بینایی بخشی (نه همه) اطلاعات بینایی چشم چپ به نیمکره راست می‌رود.

گزینه ۳: پیام‌های بینایی در نهنج تقویت می‌شوند.

گزینه ۴: همه پیام‌های بینایی، ابتدا در نهنج پردازش اولیه می‌شوند. سپس در لوب‌های پس‌سری مخ پردازش نهایی می‌شوند. لوب پس‌سری با مخچه در تماس فیزیکی دارد.

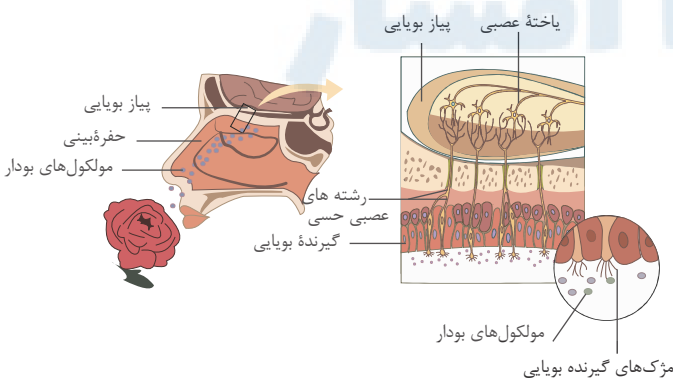
۱۱) ۱ ۲ ۳ ۴

الف. نادرست، گیرنده‌های بویایی یاخته‌های عصبی که دندریت‌هایشان مژک‌دار است.

ب. نادرست، داربته (دندریت) و جسم یاخته‌ای گیرنده‌های بویایی بین یاخته‌های پوششی قرار دارند. آکسون این نوروں‌ها پیام بویایی را به پیاز بویایی می‌برند و در پیاز بویایی با نوروں‌های دیگری سیناپس می‌دهند.

ج. نادرست، گیرنده‌های بویایی در پیاز بویایی با نوروں‌های جدید سیناپس می‌دهند نه قبل از آن.

د. نادرست، پیام‌های بویایی ابتدا به پیاز بویایی و سرانجام به قشر مخ ارسال می‌شود. پیام‌های بویایی به نخاع نمی‌رود.



۱۲) شکل استخوان رکابی نشان می‌دهد که این استخوان از استخوان‌های گوش میانی است. استخوان رکابی در تحریک یاخته‌های حلزونی گوش نقش دارد نه مجاری نیم دایره.

بررسی سایر گزینه‌ها:

گزینه ۱: استخوان گیجگاهی را نشان می‌دهد که استخوان یکی از انواع بافت پیوندی است.

گزینه ۲: مجاری نیم دایره که در گوش داخلی قرار گرفته است توسط مایعی پر شده است.

گزینه ۳: گیرنده شنوایی، نوعی گیرنده‌های مکانیکی است که با لرزش مایع درون بخش حلزونی تحریک می‌شود.

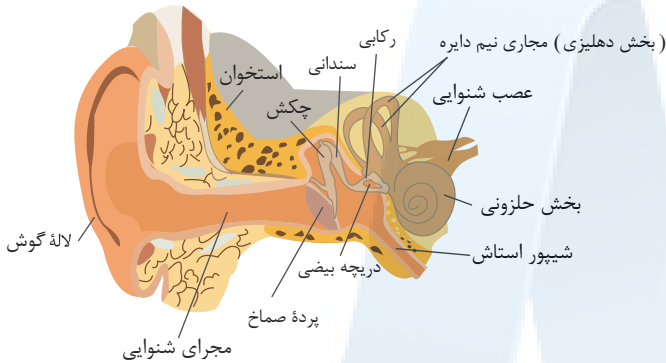
۱۳) پرده صماخ و استخوان رکابی هر دو پایین تر از مجاری نیم دایره قرار گرفته‌اند.

بررسی سایر گزینه‌ها:

گزینه ۱: دریچه بیضی بین گوش میانی و بخش حلزونی قرار دارد. گوش میانی محفظه استخوانی پر از هواست. بخش حلزونی را مایعی پر کرده است.

گزینه ۳: آسه یاخته‌های عصبی حسی حلزون گوش تشکیل دهنده عصب شنوایی گوش هستند که پیام عصبی را به لوب گیجگاهی مغز هدایت می‌کنند.

گزینه ۴: همان طور که در شکل روبرو مشاهده می‌کنید استخوان سندان و چکشی بالاتر از استخوان رکابی هستند.



۱۴) همان طور که در شکل پایین دیده می‌شود، گیرنده‌های تعادل فقط در بخش‌های اتساع یافته مجاری نیم دایره قرار دارند.

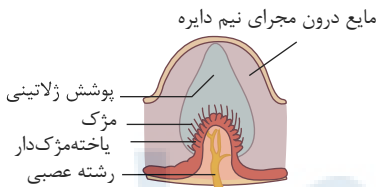
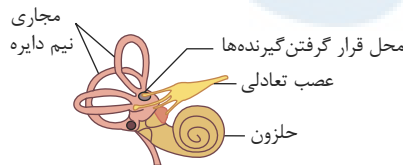
علت نادرستی سایر گزینه‌ها:

گزینه ۱: انتهای مجرای شنوایی که بخشی از گوش بیرونی است توسط استخوان گیجگاهی حفاظت می‌شود.

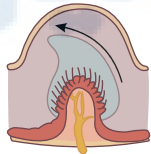
گزینه ۲: استخوان سندان از انتهای پهن بخش خود به استخوان رکابی متصل نمی‌شود.

گزینه ۳: در بخش حلزونی ماده ژلاتینی برخلاف بخش دهلیزی خم و راست نمی‌شود و با لرزش مایع درون بخش حلزونی،

مژک‌ها خم می‌شوند و در نهایت یاخته‌ها تحریک می‌شوند.



جریان مایع درون مجرا



۱۵) علت رد سایر گزینه‌ها:

گزینه ۲: مولکول‌های بودار به مژک‌های گیرنده بویایی متصل می‌شوند.

گزینه ۳: جسم سلولی نورون حسی بویایی در سقف بینی قرار دارد.

گزینه ۴: گیرنده‌های بویایی، یاخته‌های عصبی است. در صورتی که بافتی که یاخته‌های آن، در زیر خود غشاء پایه دارند، پوششی (غیر عصبی) است.

۱۶) آکسون گیرنده بویایی، پیام بویایی را به لوب بویایی مغز می‌برد نه دندریت.

رد گزینه ۱: در سقف حفره بینی سلول‌های پوششی نیز وجود دارند که دارای غشاء پایه می‌باشند.

رد گزینه‌های ۲ و ۳: گیرنده‌های حفره بینی از طریق مژک‌های خود با مولکول‌های بودار تحریک می‌شوند.

۱۷) ماهیت پیام‌های عصبی که از گیرنده‌های گوناگون بدن به دستگاه عصبی مرکزی می‌روند یکسان است، پیام عصبی در اثر تغییر مقدار یون‌ها در دو سوی غشای یاخته عصبی به وجود می‌آید.

رد گزینه ۲- شیارهای عمیق نیمکره‌های مخ را به چهار بخش تقسیم می‌کند نه مخچه.

رد گزینه ۳- لوب پس سری سمت راست اطلاعاتی را از هر دو چشم چپ و راست دریافت می‌کند پس اگر آسیب ببیند اطلاعات بینایی هر دو چشم به درستی پردازش نمی‌شود.

رد گزینه ۴- اطلاعات بینایی پس از عبور از کیاسمای بینایی، از تالاموس عبور می‌نماید.

۱۸) سلول‌های مژک‌دار بخش حلزونی گوش و بخش دهلیزی آن گیرنده حسی هستند که توانایی ایجاد پتانسیل عمل را دارند.

رد گزینه ۱- سلول‌های مژک‌دار بخش حلزونی گوش و بخش تعادلی گوش هر دو از نوع سلول‌های پوششی‌اند.

- گزینه (۱): اعصاب خودمختار در دستگاه عصبی محیطی اگر چه همیشه فعال هستند ولی عصبی که سبب گشادشدن مردمک می شود گاهی فعال و گاهی غیرفعال است.
- گزینه (۳): اعصاب سمپاتیک موجب انقباض ماهیچه های شعاعی عنبیه می شود نه حلقوی عنبیه.
- گزینه (۴): اعصاب خودمختار جزء بخش حرکتی دستگاه عصبی محیطی اند.
- ۱ ۲ ۳ ۴ ۲۰ فقط موارد ب و د درست هستند. منظور از لایه میانی چشم انسان، همان مشیمیه است.

بررسی موارد:

الف) مربوط به صلبیه (لایه خارجی کره ی چشم) است که در جلوی قرنیه را می سازد.

ب) عنبیه، بخشی از لایه میانی در جلوی عدسی است که با ماهیچه های صاف خود به تغییرات مقدار نور محیط پاسخ می دهد. در نور کم باعث گشاد شدن مردمک و در نور زیاد باعث تنگ شدن آن می شود.

ج) مایع شفاف جلوی عدسی همان زلالیه است که نقشی در تغذیه مشیمیه ندارد. مشیمیه توسط رگ های خونی خودش تغذیه می شود. (زلالیه به تغذیه قرنیه و عدسی کمک می کند)

د) مشیمیه در پشت عدسی در تماس با شبکیه قرار دارد که شبکیه شامل گیرنده های نوری و نورون ها است.

مرکز مشاوره تحصیلی علیرضا افشار



مبحث: گفتار ۳ فصل ۲ زیست یازدهم

سری: شماره ۱

زمان: ۱۰ دقیقه

۱ کدام گزینه عبارت زیر را به نادرستی تکمیل می‌کند؟
« در ساختار خط جانبی ماهی‌ها، »

- ۱) مژک‌ها در هر یاختهٔ مژک‌دار، اندازه‌های متفاوتی دارند.
- ۲) از هر یاختهٔ مژک‌دار عصب حسی خط جانبی خارج می‌شود.
- ۳) پوشش ژلاتینی، مژک‌های یاخته‌های مژک‌دار را احاطه کرده است.
- ۴) اندازهٔ هسته‌های یاخته‌های مژک‌دار و هسته‌های یاخته‌های پشتیبان با هم متفاوت است.

۲ کدام گزینه در مورد خط جانبی ماهی‌ها درست است؟

- ۱) آسه گیرنده‌های مکانیکی موجود در آن، پیام‌های عصبی ایجاد شده را به سوی دستگاه عصبی مرکزی ارسال می‌کند.
- ۲) هر گیرندهٔ مکانیکی درون کانال زیر پوست، چندین مژک دارد که اندازه آن‌ها با هم برابر است.
- ۳) گیرنده‌های موجود در خط جانبی در تماس با یاخته‌های پشتیبان می‌باشند.
- ۴) هر گیرندهٔ مکانیکی خط جانبی پیام حسی را تنها به یک رشته عصبی انتقال می‌دهد.

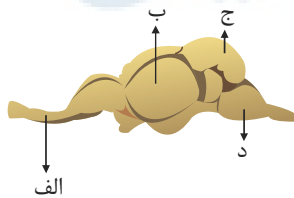
۳ در مغز ماهی، از قرار گرفته است.

- ۱) پیازهای بویایی، بالاتر - مخچه
- ۲) لوب بینایی، پایین تر - بصل‌النخاع
- ۳) مخ، بالاتر - عصب بینایی و بویایی
- ۴) مخچه، پایین تر - لوب بینایی

۴ کدام مورد دربارهٔ گیرنده‌های حسی جانوران درست است؟

- ۱) دندریت‌های چند گیرندهٔ حسی تشخیص مزه درون یک موی حسی قرار دارند.
- ۲) گیرنده‌های صدا در جیرجیرک مجاور دورترین مفصل یا نسبت به بدن قرار گرفته‌اند.
- ۳) هر جانوری که چشم مرکب دارد، قادر به دریافت پرتوهای فرابنفش است.
- ۴) هر ماری در تاریکی قادر به تشخیص شکار زنده در اطراف خود است.

۵ در شکل زیر که مغز ماهی را نشان می‌دهد کدام نام گذاری نادرست است؟



- ۱) بخش «ب»، بین مخ و مخچه قرار دارد.
- ۲) بخش «ج»، بین مخ و بصل‌النخاع قرار دارد.
- ۳) لوب بویایی بین بخش «الف» و مخ قرار دارد.
- ۴) بخش «د»، بین لوب‌های بینایی و نخاع قرار دارد.

۶ کدام گزینه نادرست است؟

- ۱) در هر واحد بینایی چشم مرکب، تعداد قرینه کمتر از یاخته‌های گیرندهٔ نور است.
- ۲) گیرنده‌های پرتوهای فروسرخ مار زنگی فقط در شب فعال هستند.
- ۳) در مغز ماهی، برخلاف انسان، لوب بینایی از مخ جانور بزرگتر است.
- ۴) اندام‌های حسی در پاهای جلوی جیرجیرک پردازش اطلاعات صوتی را انجام نمی‌دهد.



۷ کدام گزینه به درستی بیان شده است؟

- ۱ جلو و در زیر هر چشم مار زنگی، سوراخ هایی وجود دارد، که گیرنده های پرتوهای فروسرخ در آن قرار دارند.
- ۲ مارزنگی در چشم خود، طیف وسیع تری از گیرنده های نوری را دارد و می تواند از طریق این گیرنده ها، علاوه بر دریافت نور مرئی، پرتوهای فروسرخ را نیز دریافت کند.
- ۳ مار زنگی با کمک گیرنده های خود، پرتوهای فرو سرخ باز تاییده شده از بدن شکار را دریافت می کند.
- ۴ در مار زنگی پرتوهای فروسرخ می توانند نفوذ پذیری غشای گیرنده به یون ها و در نتیجه پتانسیل غشا گیرنده را تغییر دهند.

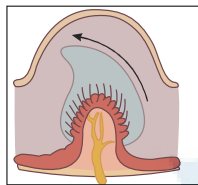
۸ در مغز ماهی مغز انسان

- ۱ برخلاف- عصب بینایی، در سطح پشتی مغز دیده می شود.
- ۲ برخلاف- مخچه اتصال فیزیکی با مخ ندارد.
- ۳ همانند- مخ بیشترین حجم بخش مغز را نشان می دهد.
- ۴ همانند- لوب بینایی با لوب بویایی اتصال فیزیکی دارد.

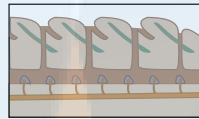
۹ زنبور برخلاف مار زنگی، دارای گیرنده های دریافت کننده است.

- ۱ پرتوهای فروسرخ درون چشم های خود
- ۲ پرتوهای فروسرخ در خارج از چشم های خود
- ۳ پرتوهای فرابنفش درون چشم های خود
- ۴ پرتوهای فرابنفش در خارج از چشم های خود


۱۰ نوع گیرنده در کدام یک با سایرین متفاوت است؟



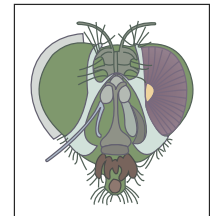
۴



۳



۲



۱

۱۱ نوع گیرنده موجود در موهای حسی روی پاهای مگس از نظر عمل به شباهت زیادی دارد.

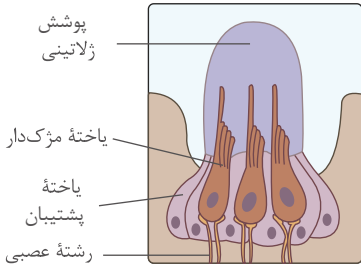
- ۱ سلول چشایی زبان انسان
- ۲ سلول مزکدار در گوش انسان
- ۳ گیرنده های موجود در پاهای جیرجیرک
- ۴ گیرنده های موجود در جلو و زیر هر چشم مار زنگی

۱۲ در چشم مورچه نگهبان (با تغییر)

- ۱ تعداد سلول های گیرنده نور با تعداد واحدهای مستقل بینایی برابر است.
- ۲ تعداد واحدهای مستقل بینایی با تعداد قرنیه ها برابر است.
- ۳ نور به ترتیب با عبور از عدسی و قرنیه بر روی سلول های گیرنده، تصویر ایجاد می کند.
- ۴ همانند مار زنگی گیرنده هایی برای دریافت تابش های فروسرخ وجود دارد.

پاسخنامه تشریحی

۱ ۲ ۳ ۴ ۱ هر یاختهٔ مژک‌دار با دو رشتهٔ عصبی در تماس است نه با عصب حسی. مجموع رشته‌های عصبی، عصب حسی را می‌سازد.



بررسی سایر گزینه‌ها:

گزینهٔ ۱. طبق شکل، مژک‌های هر یاختهٔ مژک‌دار، اندازه‌های متفاوتی دارند.

گزینهٔ ۳. طبق شکل، مژک‌های یاخته‌های مژک‌دار درون پوشش ژلاتینی قرار دارند.

گزینهٔ ۴. طبق شکل، اندازهٔ هستهٔ یاخته‌های مژک‌دار بزرگ‌تر از هستهٔ یاخته‌های پشتیبان است.

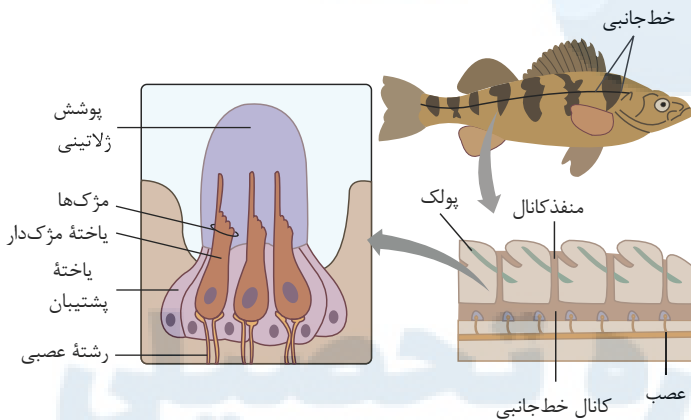
۲ گیرنده‌های مکانیکی خط جانبی ماهی در تماس با یاخته‌های پشتیبان قرار دارند:

بررسی سایر گزینه‌ها:

۱) گیرندهٔ مکانیکی خط جانبی یاخته عصبی نیست و آسه ندارد.

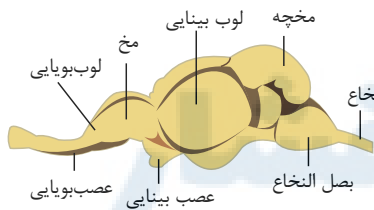
۲) اندازه مژک‌های گیرنده‌های مکانیکی خط جانبی یکسان نیست.

۴) هر گیرندهٔ مکانیکی خط جانبی با دو رشته عصبی در ارتباط است.



۱ ۲ ۳ ۴ ۳

طبق شکل روبرو، مخ در سطح بالاتر از عصب بینایی و بویایی قرار گرفته است.



بررسی سایر گزینه‌ها:

گزینهٔ ۱: لوب بویایی در سطح پایین‌تر از مخچه قرار گرفته اند.

گزینهٔ ۲: لوب بینایی در سطح بالاتر از بصل نخاع قرار گرفته است.

گزینهٔ ۴: مخچه در سطحی بالاتر از لوب بینایی قرار دارد.


۴ گیرنده‌های حسی تشخیص دهندهٔ مزه در مگس، نوعی نورون هستند که دندریت‌های چند گیرنده درون یک موی حسی روی پا قرار دارند.

علت نادرستی سایر گزینه‌ها:

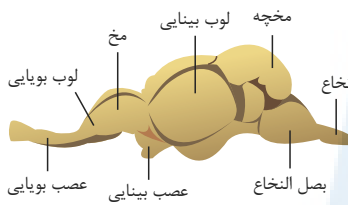
گزینهٔ ۲: همان‌طور که در شکل می‌بینید این گیرنده‌ها در مفصل بین بند اول و دوم هستند نه بین مفصل بند دوم و بند سوم.

گزینهٔ ۳: برخی حشرات مانند زنبور قادر به دریافت پرتوهای فرابنفش هستند.

گزینهٔ ۴: برخی مارها می‌توانند پرتوهای فرورسرخ را تشخیص و محل شکار خود را در تاریکی تشخیص دهند.

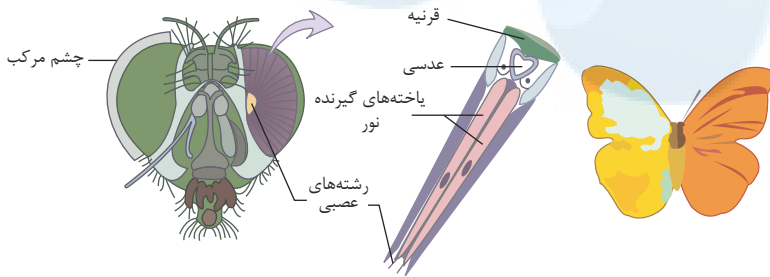


بخش «ج»: مخچه را نشان می دهد که بین لوب های بینایی و بصل النخاع قرار دارد. ۱ ۲ ۳ ۴ ۵



۱ ۲ ۳ ۴ ۶

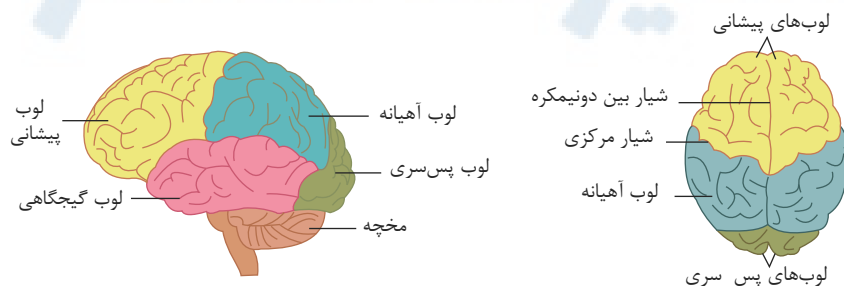
گزینه ۱: هر واحد بینایی، یک عدسی و تعدادی گیرنده نوری دارد. همچنین در شکل روبه رو در جلوی یک عدسی یک قرنیه نشان داده شده است. پس در هر واحد بینایی تعداد قرنیه از گیرنده کمتر است.

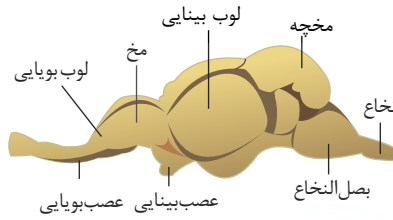


گزینه ۲: همانطور که در شکل روبه رو می بینید در جلو و زیر هر چشم مار زنگی سوراخی است که گیرنده های پرتوهای فروسرخ در آن قرار دارد. این گیرنده ها همیشه فعال اند ولی در تاریکی کاربرد بیشتری دارند. چون در تاریکی، گیرنده های نوری چشم نمی توانند تصویری از محیط ایجاد کنند. برای مثال در غارها این گیرنده ها در روز نیز کاربرد دارد.



گزینه ۳: در تصویر پایین نشان داده شده که لوب بینایی ماهی از نیمکره های مخ آن بزرگ تر است. اما در انسان لوب بینایی همان لوب پس سری است که بخشی از مخ است و در نتیجه کوچک تر است.





گزینه ۴: روی پاهای جلویی جیرجیرک یک محفظه هوا وجود دارد که پرده صماخ روی آن کشیده شده است. لرزش پرده در اثر امواج صوتی گیرنده‌های مکانیکی متصل به پرده را تحریک کرده و جانور صدا را دریافت می‌کند. اما پردازش اطلاعات حسی در مغز جانور انجام می‌شود.

بررسی گزینه‌ها: **۷** (۱) (۲) (۳) (۴)

گزینه (۱): در جلو و زیر هر چشم سوراخی (نه سوراخ‌هایی) وجود دارد که گیرنده‌های پرتوهای فروسرخ در آن قرار دارند.

گزینه (۲): گیرنده‌های دریافت‌کننده پرتوهای فروسرخ در چشم مارزنگی قرار ندارند بلکه در سوراخی در جلو و زیر چشم قرار دارد.

گزینه (۳): مارزنگی پرتوهای تابیده (نه بازتابیده) از شکار خود را دریافت می‌کند.

گزینه (۴): محرک (در اینجا پرتو فرو سرخ)، نفوذپذیری غشای گیرنده، به یون‌ها و در نتیجه پتانسیل غشا را تغییر می‌دهد، در نتیجه اثر محرک به پیام عصبی تبدیل می‌شود.

بررسی گزینه‌ها: **۸** (۱) (۲) (۳) (۴)

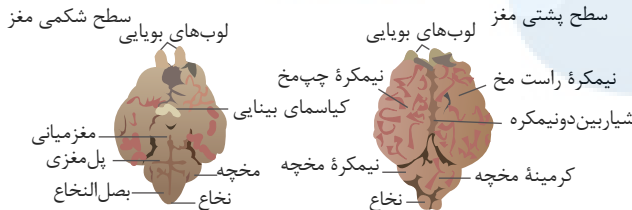
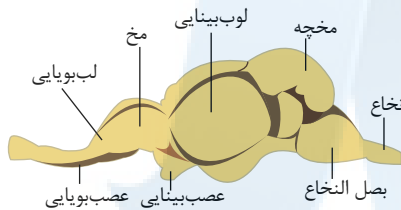
بررسی گزینه‌ها:

گزینه (۱): در مغز ماهی همانند مغز انسان، عصب بینایی در سطح شکمی مغز دیده می‌شود.

گزینه (۲): در مغز ماهی برخلاف مغز انسان، مخچه اتصال فیزیکی با مخ ندارد.

گزینه (۳): در مغز ماهی برخلاف مغز انسان، بیشترین بخش مغز، لوب بینایی است.

گزینه (۴): در مغز ماهی همانند مغز انسان، لوب بینایی با لوب بویایی اتصال فیزیکی ندارد.



گزینه (۱) (۲) (۳) (۴) (۹) گیرنده‌های نوری که فرابنفش را دریافت می‌کنند در زنبور درون چشم قرار دارد در حالی که گیرنده‌های نوری که فروسرخ را دریافت می‌کنند در مار در خارج از چشم قرار دارند.

سایر گزینه‌ها صحیح نمی‌باشد.

۱۰ (۱) (۲) (۳) (۴) ۲- گیرنده مکانیکی صدا دریا ۳- گیرنده مکانیکی در خط جانبی ماهی ۴- گیرنده مکانیکی در مجاری نیم دایره

گیرنده نوری در چشم مرکب حشرات است. سایر گزینه‌ها گیرنده‌های مکانیکی هستند.

۱۱ (۱) (۲) (۳) (۴) گیرنده موجود در پای مگس، شبیه سلول چشایی زبان انسان از نوع شیمیایی است.

بررسی سایر گزینه‌ها:

رد گزینه (۲): سلول مژکدار در بخش حلزونی و مجراهای نیم دایره گوش درونی انسان، از نوع مکانیکی است.

رد گزینه (۳): گیرنده‌های حساس در پاهای جیرجیرک، از نوع گیرنده‌های مکانیکی است.

رد گزینه (۴): گیرنده‌های موجود در زیر چشم مار زنگی، از نوع گیرنده‌های نوری است.

۱۲ (۱) (۲) (۳) (۴) حشرات (نظیر مورچه‌های نگهبان) چشم مرکب دارند، هر چشم مرکب از تعداد زیادی واحد مستقل بینایی تشکیل شده که هر کدام یک قرنیه و یک عدسی دارد که نور را روی تعدادی سلول گیرنده متمرکز می‌کند.

بررسی سایر گزینه‌ها:

رد گزینه (۱): بیشتر است نه برابر.

رد گزینه (۳): تصویر در مغز جانور (دستگاه عصبی او) ایجاد می‌شود.

رد گزینه (۴): مار زنگی برای تابش‌های فروسرخ گیرنده دارد.



مبحث: گفتار ۳ فصل ۲ زیست یازدهم

سری: شماره ۲

زمان: ۱۰ دقیقه

۱ کدام گزینه در ارتباط با جیرجیرک صحیح است؟

۱ در مفصل هر پای جانور پرده صماخ وجود دارد.

۳ برخلاف انسان در هر دو طرف پرده صماخ، هوا وجود دارد.

۲ به هر پرده صماخ چندین گیرنده مکانیکی متصل است.

۴ جانور برای دریافت صدا باید پیام عصبی را از پرده صماخ، به محفظه هوا وارد کند.

۲ در شکل مقابل، بخشی که با علامت سؤال مشخص شده است، معادل بخشی از مغز انسان است که



۱ فشار خون و ضربان قلب را تنظیم می کند.

۳ در درک پیام های تولید شده در گیرنده های شبکیه چشم نقش ندارد.

۲ دو نیمکره آن اطلاعات را توسط رابط سه گوش مبادله می کنند.

۴ فعالیت ماهیچه ها و حرکات بدن را در حالت های گوناگون هماهنگ می کند.

۳ چند مورد عبارت زیر را به درستی کامل می کند؟

«گیرنده بویایی انسان مانند گیرنده

الف) در خط جانبی ماهی، دارای مژک است.

ج) چشایی، نوعی گیرنده شیمیایی است.

ب) دما، دندریت، اثر محرک را به پیام عصبی تبدیل می کند.

د) درد، فاقد پوشش پیوندی است.

۱

۲

۳

۴

۴ کدام عبارت درباره گیرنده های حسی در جانوران صحیح است؟

۱ گیرنده های فرسرخ موجود در چشم مار زنگی به او توانایی شکار در تاریکی را می دهد.

۲ لرزش پرده صماخ روی پاهای جلویی جیرجیرک مستقیماً گیرنده های مکانیکی را تحریک می کند.

۳ گیرنده شیمیایی موجود در روی پاهای مگس فاقد جسم سلولی و آکسون می باشد و در موهای حسی روی پا تجمع می یابد.

۴ ماهی ها به کمک مژک های هم اندازه در گیرنده های خط جانبی خود به وجود اجسام و جانوران دیگر پی می برند.

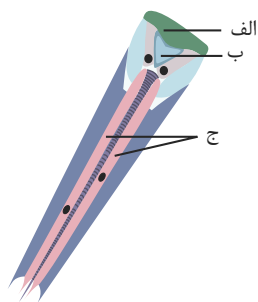
۵ باتوجه به شکل مقابل که مربوط به اندامی متعلق به حشرات است،

۱ معادل بخش «ج» در انسان، در لایه های حاوی یاخته هایی با توانایی ایجاد پتانسیل عمل وجود دارد.

۲ معادل بخش «الف» در انسان، لایه ای شفاف است که با لایه میانی و رنگین چشم در تماس است.

۳ معادل بخش «ب» در انسان، به کمک ماهیچه های شعاعی و حلقوی متصل به خود، قطور و نازک می شود.

۴ معادل بخش «الف» و «ب» در انسان، توسط ماده ای ژله ای و شفاف تغذیه شوند و مواد دفعی خود را به آن تحویل دهند.



۶ چند مورد دارای گیرنده های شیمیایی می باشند؟ گیرنده های

الف) فشار خون در دیواره رگ ها ب) موجود در سقف حفره بینی ج) موجود در موهای روی پای مگس

د) میزان اکسیژن در آئورت ه) فشار در پوست و) چشایی روی زبان

۱

۲

۳

۴

۷) گیرنده‌های گیرنده‌های خط جانبی ماهی دارای می‌باشند.

- ۱) حلزونی گوش برخلاف - گیرنده مکانیکی
- ۲) بویایی بینی همانند - مژک دار
- ۳) چشایی برخلاف - گیرنده مکانیکی
- ۴) روی پای مگس همانند - گیرنده شیمیایی

۸) کدام یک از گزینه‌های زیر در مورد کانال‌های جانبی ماهی‌ها به درستی بیان شده است؟

- ۱) خط جانبی، کانالی در زیر پوست است.
- ۲) عصب آن، درون کانال خط جانبی قرار دارد.
- ۳) گیرنده‌های حسی در خط جانبی ماهی همانند گیرنده‌های تعادلی در انسان با مایع درون مجرا در تماس‌اند.
- ۴) یاخته‌های درون کانال خط جانبی تازک دارند.

۹) اگر لحظه شکار کردن مار توسط دوربین حساس به پرتو فرو سرخ ثبت شود به علت اینکه دمای بدن از دمای بدن در

تصویر زردتر و مشخص‌تر دیده می‌شود.

- ۱) مار - موش، بیشتر است.
- ۲) مار - موش کمتر است.
- ۳) موش - مار، بیشتر است، پرتوهای فرسرخ تابیده از آن نیز بیشتر و
- ۴) موش - مار، بیشتر است، دوربین، پرتوهای فرسرخ بیشتری تابش می‌کند، و موش

۱۰) کدام گزینه صحیح می‌باشد؟

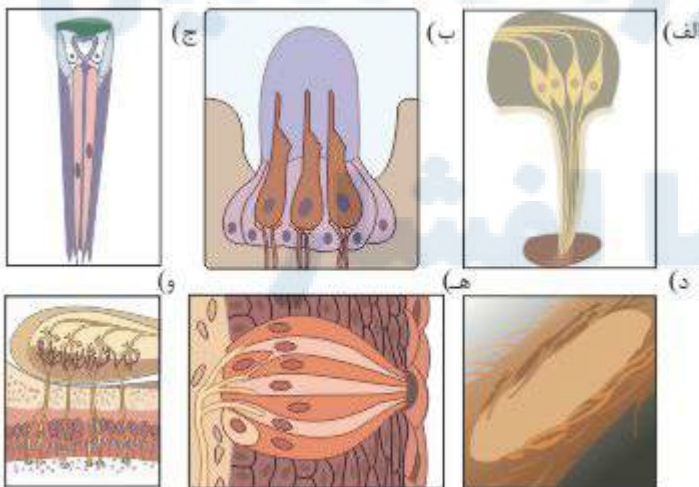
- ۱) سلول‌های گیرنده‌ی موجود در خط جانبی در ماهی‌ها همانند گیرنده‌های سقف حفره‌های بینی در انسان، تازک دار هستند.
- ۲) شیپوراستاش بخشی از مجرای گوش محسوب می‌شود.
- ۳) لوب‌های بویایی ماهی به نسبت کل مغز جانور از لوب‌های بویایی انسان بزرگ‌تر است .
- ۴) در دیواره‌های برخی سرخرگ‌های بزرگ گیرنده‌ی دمایی و در دیواره‌ی سیاهرگ‌ها گیرنده‌ی درد وجود دارد.

۱۱) کدام عبارت نادرست است؟

- ۱) در چشم زنبور همانند چشم انسان، قرنيه وجود دارد.
- ۲) در مار زنگی همانند زنبور عسل، توانایی درک بخشی از امواج نور غیر مرئی وجود دارد.
- ۳) در پای جیرجیرک همانند گیرنده‌های سقف حفره‌ی بینی انسان، گیرنده شیمیایی وجود دارد.
- ۴) در چشم ملخ همانند چشم انسان عدسی وجود دارد.

۱۲) چند مورد از گیرنده‌های زیر با مواد شیمیایی تحریک می‌شوند؟

- ۱) ۲
- ۲) ۳
- ۳) ۴
- ۴) ۵



پاسخنامه تشریحی

۱) روی پاهای جلویی جیرجیرک یک محفظه هوایی وجود دارد که پرده صماخ روی آن کشیده شده است. لرزش پرده در اثر امواج صوتی، گیرنده‌های مکانیکی متصل به پرده را تحریک کرده و جانور صدا را دریافت می‌کند.

۲) بخش مورد سؤال، مخچه ماهی است که معادل آن در انسان فعالیت ماهیچه‌ها و حرکات بدن را در حالت‌های گوناگون هماهنگ می‌کند. بررسی سایر گزینه‌ها:

۱) فشار خون و ضربان قلب توسط بصل النخاع در انسان تنظیم می‌شود.
 ۲) دو نیمکره مخ، اطلاعات را توسط رابط‌ها از جمله رابط سه گوش مبادله می‌کنند.
 ۳) اطلاعات حسی گیرنده‌های نوری در شبکیه انسان، به بخش‌های مختلف مغز از جمله مخچه می‌برد تا با بررسی و درک این اطلاعات حسی، فعالیت ماهیچه‌ها و حرکت بدن را در حالت‌های گوناگون به کمک مغز و نخاع هماهنگ کند.

۳) گیرنده‌های بویایی، یاخته عصبی دارای مژک هستند و در طبقه بندی کلی گیرنده‌ها که براساس نوع محرک انجام می‌شود، گیرنده شیمیایی محسوب می‌شوند و فاقد پوشش پیوندی هستند.

۴) لرزش پرده‌های صماخ روی پاهای جلویی جیرجیرک در اثر امواج صوتی، گیرنده‌های مکانیکی متصل به پرده را تحریک کرده و جانور صدا را دریافت می‌کند. بررسی سایر گزینه‌ها:

رد گزینه ۱ - محل گیرنده‌های فروسرخ در جلو و زیر هر چشم مارزنگی است نه در چشم مار.

رد گزینه ۳ - گیرنده‌های شیمیایی تشخیص مزه در روی پاهای مگس ساختار نورونی داشته و ۳ بخش دندریت، جسم سلولی و آکسون را داراست.

رد گزینه ۴ - مژک‌های گیرنده‌های مکانیکی خط جانبی هم اندازه نمی‌باشند.

۵) در شکل رسم شده الف = قرنیه، ب = عدسی و ج = گیرنده‌های نوری است، معادل گیرنده‌های نوری در حشرات لایه شبکیه انسان وجود دارد که گیرنده‌های نوری در آن توانایی ایجاد پتانسیل عمل دارند.

رد گزینه ۲ - الف که قرنیه می‌باشد معادل لایه خارجی چشم است نه میانی.

رد گزینه ۳ - ب که عدسی می‌باشد در انسان از طریق تارهای آویزی به ماهیچه‌های مژکی متصل می‌باشد.

رد گزینه ۴ - بخش الف و ب در انسان توسط زلالیه تغذیه می‌شوند که زله‌ای نمی‌باشد.

۶) موارد «ب»، «ج»، «د» و «و» گیرنده‌های شیمیایی و «الف»، «ه» گیرنده‌های مکانیکی‌اند.

۷) گیرنده‌های بویایی بینی همانند گیرنده‌های خط جانبی ماهی دارای مژک می‌باشند که از ریزلوله تشکیل شده است. بررسی سایر گزینه‌ها:

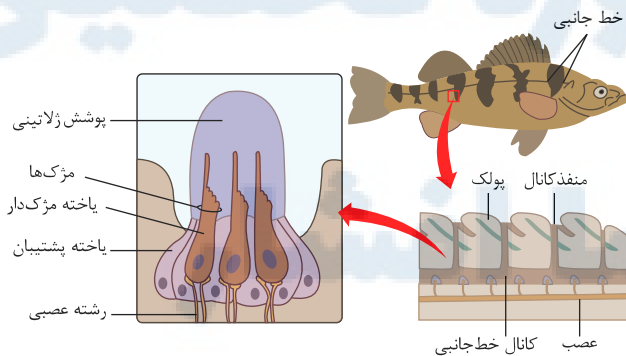
گزینه ۱: گیرنده‌های بخش حلزونی گوش درونی نیز همانند گیرنده‌های خط جانبی ماهی، سلول‌های مژک دار بوده و از نوع گیرنده‌های مکانیکی می‌باشند.

گزینه ۳: گیرنده‌های چشایی از نوع شیمیایی هستند.

گزینه ۴: گیرنده‌های روی پای مگس از نوع گیرنده‌های شیمیایی می‌باشند، اما گیرنده‌های خط جانبی ماهی از نوع گیرنده‌های مکانیکی می‌باشند.

۸) گزینه ۱: این ساختار (خط جانبی)، کانالی در زیر پوست جانور است که از راه سوراخ‌هایی با محیط بیرون ارتباط دارد. هر خط جانبی شامل یک کانال است (نه کانال‌ها).

گزینه ۲: طبق شکل روبه رو عصب در بیرون کانال خط جانبی قرار دارد.

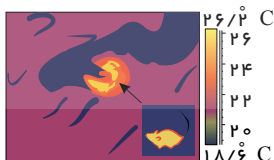


گزینه ۳: هم گیرنده‌های مژک دار در خط جانبی ماهی و هم گیرنده‌های مکانیکی در گوش درونی انسان با ماده ژلاتینی (نه مایع) در تماس‌اند.

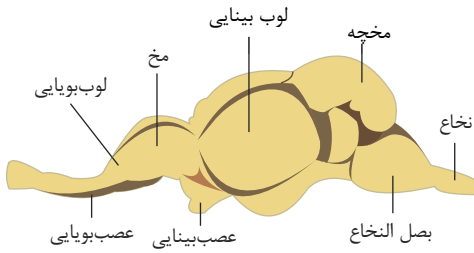
گزینه ۴: یاخته‌های درون کانال مژک دار هستند نه تازک دار.

۹) بررسی گزینه‌ها: ۱ ۲ ۳ ۴ ۱۰

موش جانوری خونگرم است، و دمای درونی بدنی اش نسبت به مار که جانور خونسرد است بیشتر است. هر چه دمای درونی جانور بالاتر باشد، پرتو فروسرخ بیشتری را از خود می‌تاباند. با توجه به تصویر روبرو، هر چه پرتوهای تابیده شده از جسم بیشتر باشد، تصویر آن زردتر دیده می‌شود.



با توجه به تصویر مقابل، لوب‌های بویایی ماهی نسبت به لوب‌های بویایی انسان بزرگترند و جانور را برای شکار، جفت‌یابی و ... کمک می‌کنند.



بررسی سایر گزینه‌ها:

رد گزینه ی (۱): هر دو گیرنده مژگ دارند نه تازک.

رد گزینه ی (۲): مجرای شیپوراستاش به گوش میانی راه دارد ولی مجرای گوش، بخشی از گوش بیرونی است.

رد گزینه ی (۴): برخی سیاهرگ‌های بزرگ، گیرنده‌ی دمایی و سرخرگ‌ها گیرنده‌ی درد دارند.

رد گزینه ی (۱۱) (۱) (۲) (۳) (۴) در پای جیرجیرک، گیرنده‌ی دریافت صدا از نوع مکانیکی است و گیرنده‌ی بویایی انسان شیمیایی است.

بررسی سایر گزینه‌ها:

گزینه (۱): چشم مرکب زنبور نیز همانند چشم انسان دارای قرنیه و عدسی و گیرنده‌های نوری می‌باشد.

گزینه (۲): مار زنگی قادر به درک بخشی از نور نامرئی (فروسرخ) و زنبورعسل نیز قادر به درک نور نامرئی (فرابنفش) می‌باشند.

گزینه (۴): در چشم مرکب ملخ نیز همانند چشم انسان قرنیه و عدسی و گیرنده‌های نوری وجود دارد.

رد گزینه ی (۱۲) (۱) (۲) (۳) (۴) موارد «الف»، «ده» و «دو» درست هستند.

الف) گیرنده‌ی حسی شیمیایی در پای مگس (ب) گیرنده‌ی مکانیکی در خط جانبی ماهی (ج) گیرنده‌ی نوری در چشم حشرات
 د) گیرنده‌ی مکانیکی در پای جیرجیرک (ه) گیرنده‌ی چشایی شیمیایی بر روی زبان (و) گیرنده‌ی شیمیایی بویایی در حفره‌ی بینی

مرکز مشاوره تحصیلی

علیرضا افشار



مبحث: گفتار ۱ فصل ۳ زیست یازدهم

سری: شماره ۱

زمان: ۱۵ دقیقه

۱ در یک انسان بالغ، کدام عبارت در ارتباط با هر بخش استخوانی از اسکلت درونی که در حرکات بدن نقش دارد، صحیح است؟

- ۱ در ذخیره مواد معدنی مانند فسفات نقش دارد.
- ۲ بخش‌های حساسی، مانند نخاع و شش‌ها را حفاظت می‌کند.
- ۳ استخوان‌های کوتاه برخلاف استخوان‌های نامنظم در ساختار آنها دیده می‌شود.
- ۴ فضای درونی هر استخوان آن با بخشی مؤثر در تولید یاخته‌های خونی پر می‌شود.

۲ کدام گزینه، برای عبارت زیر می‌تواند نادرست باشد؟

«..... یکی از وظایف اسکلت استخوانی بدن انسان سالم و بالغ می‌باشد، که بر اساس آن»

- ۱ پشتیبانی - از بخش‌های حساسی مانند نخاع، مغز و قلب محافظت می‌شود.
- ۲ حرکت - اتصال ماهیچه‌های اسکلتی به استخوان‌ها باعث حرکت استخوان می‌شود.
- ۳ تولید یاخته‌های خونی - بسیاری از استخوان‌ها یاخته‌های خونی را تولید می‌کنند.
- ۴ ذخیره مواد معدنی - ذخیره مواد معدنی مانند فسفات و کلسیم را بر عهده دارد.

۳ کدام عبارت زیر در رابطه با اسکلت استخوانی بدن انسان صحیح است؟

- ۱ رسوب نمک‌های کلسیم و فسفات در یاخته‌های بافت استخوانی، سبب استحکام بافت نرم تولیدشده در زمان جنینی می‌شود.
- ۲ بعد از پایان سن رشد، یاخته‌های استخوانی ماده زمینه‌ای را تولید و ترشح نمی‌کنند؛ در نتیجه توده استخوانی و تراکم آن کاهش می‌یابد.
- ۳ برخی از انواع شکستگی‌های استخوانی به‌طور پیوسته در هر زمانی که تغییرات استخوانی در اسکلت انسان انجام می‌شود، رخ می‌دهند.
- ۴ کمبود ویتامین D همانند کمبود برخی هورمون‌ها، می‌توانند سبب تشکیل حفرات استخوانی کوچک تری در درون استخوان ران شوند.

۴ کدام گزینه، در ارتباط با مفصل‌های بدن انسان صحیح است؟

- ۱ مفاصل بین استخوان‌های جمجمه، همانند مفاصل بین زوائد مهره‌ها، تحرک کمی دارند.
- ۲ عواملی از جنس بافت پیوندی رشته‌ای، به کنار یکدیگر ماندن استخوان‌ها در مفاصل متحرک کمک می‌کنند.
- ۳ یاخته‌های کپسول مفصلی، مایع مفصلی را ساخته و سپس آن را در بر می‌گیرند.
- ۴ مفصلی که اتصال دهنده استخوان‌هایی از اسکلت محوری است، به‌طور قطع قابلیت تحرک ندارد.

۵ هر بخشی از استخوان لگن که لزوماً

- ۱ حاوی مغز قرمز استخوان است - دارای تیغه‌های استخوانی است که به‌صورت نامنظم در کنار یکدیگر قرار دارند.
- ۲ دارای رگ‌های خونی تغذیه‌کننده است - به‌صورت استوانه‌هایی هم‌مرکز از یاخته‌های استخوانی هستند.
- ۳ یاخته‌های آن کلاژن را به فضای بین یاخته‌ای خود ترشح می‌کند - یاخته‌های خونی را تولید می‌کند.
- ۴ حاوی نمک‌های کلسیم، در ماده زمینه‌ای خود می‌باشد - حاوی حفره‌هایی محتوی مغز استخوان است.

۶ چند مورد از موارد زیر به نادرستی بیان شده است؟

- الف - در انسان دنده‌ها، فقط می‌توانند با استخوان‌های پهن مفصل تشکیل دهند.
- ب - در طول استخوان ران تیغه‌های استخوانی نامنظم دیده می‌شود.
- ج - در برخی از استخوان‌های کوچک، بافت استخوانی فشرده دیده نمی‌شود.
- د - در صورت بالا بودن مقدار هماتوکریت خون، قطعاً میزان مغز قرمز استخوان افزایش می‌یابد.

۱ ۴

۲ ۳

۳ ۲

۴ ۱



- ۷) چند مورد در ارتباط با اسکلت درونی انسان صحیح است؟ (با تغییر)
- الف) در یک بافت استخوانی، رگ خونی یک سامانه هاورس با رگ خونی سامانه هاورس دیگر ارتباط خونی دارد.
 ب) رباطها موجب اتصال دو استخوان در محل مفصل‌های متحرک می‌شوند.
 ج) آرواره پایین یکی از استخوان‌های جمجمه است که به کمک ماهیچه‌ها می‌تواند نیرویی بین دندان‌ها ایجاد کند.
 د) هر استخوانی که با جناغ مفصل داشته باشد، دنده است ولی هر دنده‌ای با جناغ مفصل ندارد.

۴ ۴

۳ ۳

۲ ۲

۱ ۱

- ۸) کدام گزینه در ارتباط با تنه استخوان ران، عبارت زیر را به نادرستی کامل می‌کند؟
 بافت استخوانی اسفنجی بافت استخوانی فشرده

۱) همانند - دارای رشته‌های پروتئینی و مواد معدنی در ماده زمینه‌ای است که یاخته‌های استخوانی را در بر گرفته است.

۲) برخلاف - نمی‌تواند در تماس مستقیم با بافت پیوندی پوشاننده سطح خارجی استخوان قرار گیرد.

۳) برخلاف - فاقد محلی جهت تولید یاخته‌های خونی است.

۴) همانند - دارای رگ‌های خونی تغذیه کننده است.

۹) استخوان

۱) بند انگشت شست دست برخلاف استخوان‌های مچ، کوتاه است.

۲) جمجمه برخلاف استخوان مهره، دارای بافت استخوانی فشرده است.

۳) نیم لگن در اتصال استخوان ران به تنه نقش دارد.

۱۰) چند مورد از موارد زیر صحیح است؟ (با تغییر)

الف) در اطراف مجرای مرکزی استخوان بازو، بافت اسفنجی دارای مغز استخوان مشاهده می‌شود.

ب) بیشتر مغز زرد موجود در مجرای مرکزی سامانه‌های هاورس، از بافت پیوندی چربی تشکیل شده است.

ج) در پی تخریب گروهی از یاخته‌های پوششی مخاط معده، مغز زرد استخوان می‌تواند به مغز قرمز تبدیل شود.

د) مصرف کوکائین علاوه بر آزادی دوپامین در سامانه کناره‌ای مغز، باعث آزاد شدن کلسیم از یاخته‌های بافت استخوانی نیز می‌شود.

ه) مصرف الکل سبب اختلال در عملکرد ماهیچه‌های اسکلتی می‌شود.

۴ ۴

۳ ۳

۲ ۲

۱ ۱

- ۱۱) کدام عبارت در ارتباط با تراکم استخوانی در زنان و مردان صحیح است؟

۱) کاهش میزان تراکم استخوان در سنین ۲۰ تا ۳۰ سال در زنان بیش از مردان است.

۲) بیشترین شدت تغییرات تراکم استخوان در بازه ۱۰ ساله در زنان، بین سنین ۶۰ تا ۷۰ سال است.

۳) کمترین شدت تغییرات تراکم استخوان در بین دهه‌های مختلف از ۲۰ تا ۸۰ سالگی مربوط به مردان است.

۴) افزایش احتمال شکستگی وابسته به میزان تراکم استخوان در مردان بیش تر از زنان هم سن آن‌ها است.

- ۱۲) چند مورد از استخوان‌های ذکر شده به ترتیب از راست به چپ مربوط به «اسکلت جانبی» و «اسکلت محوری» هستند؟

الف - استخوان ران ب - استخوان‌های چهره ج - زند زیرین د - درشت‌نی ه - جناغ

۲ - ۳ ۴

۴ - ۱ ۳

۱ - ۴ ۲

۳ - ۲ ۱

- ۱۳) در انسان ایستاده، (با تغییر)

۱) در ناحیه مچ پا، سراسخوان نازک نی دیده می‌شود.

۲) شست پا در امتداد نازک‌نی است.

۳) استخوان‌های کف پا هم اندازه‌اند.

- ۱۴) در بافت استخوانی که قسمت اعظم تنه استخوان دراز را تشکیل می‌دهد،

۱) بخش‌هایی به صورت سامانه هاورس و بخش‌هایی بدون شکل‌گیری سامانه هاورس است.

۲) یاخته‌ها به صورت نامنظم در کنار یکدیگر قرار دارند و تیغه‌هایی از ماده زمینه استخوانی در بین آن‌ها وجود دارد.

۳) یاخته‌های استخوانی به صورت دایره‌های هم مرکز در اطراف یک مجرای توخالی به نام مجرای هاورس قرار گرفته‌اند.

۴) بافت مغز قرمز استخوان حفره‌ها را پر کرده است.

۱۵) در بخش برآمده استخوان ران در انسان

- ۱) کلاژن و مغز قرمز وجود دارد.
- ۲) برخلاف بخش تنه، یک نوع بافت استخوانی دارد.
- ۳) یاخته‌های استخوانی و تیغه‌های منظم استخوانی دیده نمی‌شود.
- ۴) تیغه‌های استخوانی نامنظم درون مجرای مرکزی پر شده توسط مغز استخوان قرار گرفته‌اند.



مرکز مشاوره تحصیلی

علیرضا افشار

پاسخنامه تشریحی

۱) استخوان‌های هر دو بخش اسکلت انسان در حرکات بدن نقش دارند، به صورتی که اسکلت جانبی نسبت به اسکلت محوری نقش بیشتری دارد. در هر دو بخش اسکلت انسان، استخوان‌ها در ذخیره مواد معدنی، مانند فسفات و کلسیم نقش دارند. بررسی سایر گزینه‌ها:

گزینه ۲: اسکلت جانبی در حفاظت از نخاع و شش‌ها مستقیماً نقش ندارد.

گزینه ۳: در اسکلت محوری وجود استخوان‌های نامنظم (مثل مهره‌ها) ممکن است.

گزینه ۴: بسیاری از استخوان‌ها مغز قرمز دارند. یاخته‌های بنیادی مغز قرمز یاخته‌های خونی را تولید می‌کند.

۲) حفاظت از بخش‌های حساس از وظیفه پشتیبانی: استخوان‌ها تعیین‌کننده شکل بدن و چارچوبی ایجاد می‌کنند تا اندام‌ها روی آن قرار بگیرند. ماهیچه اسکلتی از بخش‌های حساس بدن مثل مغز، قلب، شش‌ها و نخاع محافظت می‌کنند، نه پشتیبانی. بقیه گزینه‌ها عبارت درستی را بیان می‌کنند.

۳) تغییرات استخوان همواره در طول زندگی فرد انجام می‌شود. از طرفی شکستگی‌های میکروسکوپی نیز به‌طور پیوسته در طول عمر فرد رخ می‌دهند. بررسی سایر گزینه‌ها:

گزینه ۱: نمک‌های کلسیم در ماده زمینه‌ای رسوب می‌کنند نه درون یاخته‌های استخوانی.

گزینه ۲: میزان ترشح ماده زمینه‌ای بعد از پایان سن رشد، کاهش می‌یابد، اما متوقف نمی‌شود.

گزینه ۴: در پوکی استخوان؛ حفرات استخوانی بزرگ‌تر می‌شوند.

۴) زردپی‌ها، رباط‌ها و کپسول مفصلی، از بافت پیوندی رشته‌ای ساخته شده‌اند و به کنار یکدیگر ماندن استخوان‌ها کمک می‌کنند. بررسی سایر گزینه‌ها:

گزینه ۱) مفاصل بین استخوان‌های جمجمه ثابت هستند و تحرک ندارند.

گزینه ۳) پرده سازنده مایع مفصلی، این مایع لغزنده را می‌سازد.

گزینه ۴) مفاصل بین زوائد مهره‌ها، استخوان‌هایی از اسکلت محوری را به هم متصل می‌کنند و جزء مفاصل متحرک هستند.

۵) ۱. در استخوان لگن، بافت اسفنجی حاوی مغز قرمز استخوان است. در بافت اسفنجی تیغه‌های استخوانی به‌صورت نامنظم قرار گرفته‌اند.

۲. در استخوان لگن بافت اسفنجی و فشرده دارای رگ‌های خونی هستند. بافت استخوان فشرده به‌صورت استوانه‌هایی هم‌مرکز از یاخته‌های استخوانی است.

۳. در هر دو استخوان اسفنجی و فشرده، یاخته‌های استخوانی کلاژن را تولید و ترشح می‌کنند. تولید یاخته‌های خونی در مغز قرمز استخوان صورت می‌گیرد نه بافت استخوانی.

۴. در هر دو نوع بافت استخوانی، در ماده زمینه‌ای کلسیم وجود دارد. در بافت استخوان اسفنجی حفره‌های حاوی مغز استخوان وجود دارد.

۶) الف. (نادرست) دنده‌ها از جلو به استخوان جناغ سینه که استخوانی پهن است و از پشت به مهره‌های ستون مهره‌ها که استخوان‌های نامنظم هستند، مفصل می‌شوند.

ب. (درست) در سطح درونی تنه استخوان ران، هم چنین در سر آن، بافت استخوان اسفنجی وجود دارد. در استخوان اسفنجی تیغه‌های استخوانی به‌صورت نامنظم قرار دارند.

ج. (نادرست) هر استخوان از دو نوع بافت متراکم و اسفنجی تشکیل شده است.

د. (نادرست) بالا بودن میزان هماتوکریت به معنی افزایش تعداد یاخته‌های خونی از جمله گویچه‌های قرمز است. در این حالت مغز قرمز استخوان افزایش نمی‌یابد. در کم‌خونی‌های شدید، مغز زرد به قرمز تبدیل و میزان مغز قرمز زیاد می‌شود.

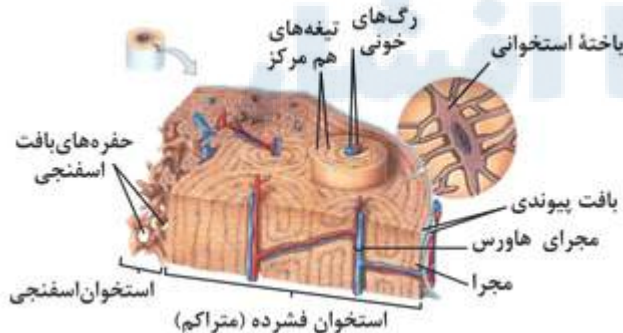
۷) بررسی گزینه‌ها:

موارد الف)، ب) و ج) با توجه به شکل زیر صحیح است.

ب) در مفاصل متحرک، رباط، کپسول مفصلی و زرد پی سبب اتصال دو استخوان می‌شود.

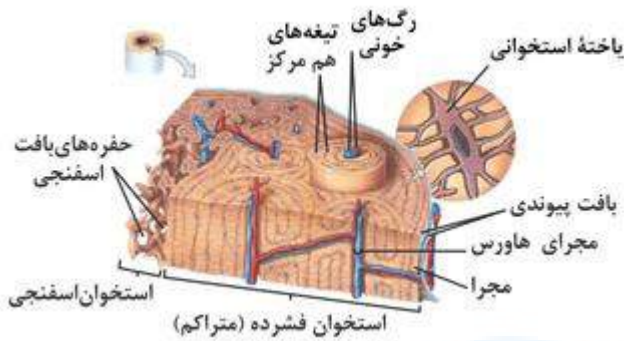
ج) آرواره پایین از استخوان‌های بخش چهره واز جمله استخوان‌های جمجمه است.

د) برای استخوان ترقوه صادق نیست.



۸) مغز قرمز استخوان، درون فضای موجود در استخوان اسفنجی را پر می‌کند و محل تشکیل سلول‌های خونی است. بررسی سایر گزینه‌ها:

گزینه ۱- جمله درست است، ماده زمینه‌ای در همه انواع بافت‌های استخوانی از پروتئین‌هایی مانند کلاژن و مواد معدنی تشکیل شده است.

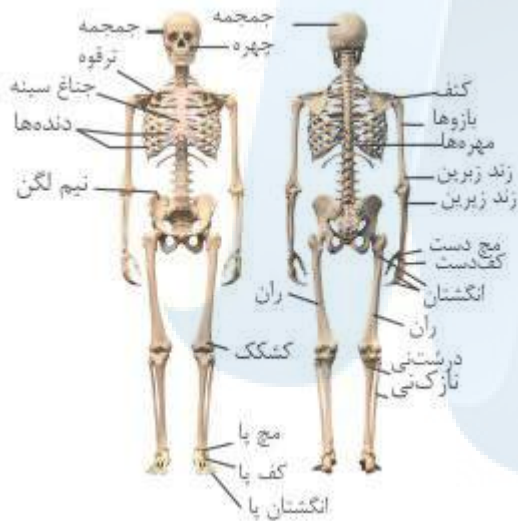


گزینه ۲- جمله درست است. بافت پیوندی پوشاننده سطح خارجی استخوان در مجاورت بافت فشرده قرار دارد و بافت اسفنجی در مجاورت و تماس مستقیم با آن نیست.

گزینه ۴- جمله درست است در هر دو نوع بافت اسفنجی و فشرده رگ‌های خونی تغذیه کننده وجود دارد.

۱ ۲ ۳ ۴ ۹

بر اساس شکل روبه‌رو، در اتصال استخوان ران به تنه، استخوان نیم لگن نقش دارد.



بررسی سایر گزینه‌ها:

رد گزینه ۱- استخوان‌های مچ کوتاه و بند انگشتان درازند.

رد گزینه ۲- هم استخوان جمجمه و هم مهره‌ها دارای هردو بافت استخوانی اسفنجی و فشرده‌اند.

رد گزینه ۴- نازک نی به درشت نی و درشت نی با ران مفصل می‌شود و مفصل ران با نازک نی وجود ندارد.

۱ ۲ ۳ ۴ ۱۰

علت نادرستی ب: مجرای مرکزی سامانه هاورس دارای یک سرخرگ، یک سیاهرگ و یک عصب می‌باشد نه مغز زرد. علت نادرسی د: مصرف کوکائین سبب آزاد شدن کلسیم از ماده زمینه و ایجاد پوکی استخوان می‌شود نه از سلول استخوانی. سایر موارد صحیح می‌باشند.

۱ ۲ ۳ ۴ ۱۱

با توجه به جدول فعالیت ۲ در فصل ۳ - اختلاف تراکم استخوان بین سنین ۶۰ تا ۷۰ سالگی در زنان = ۰,۰۶۶ می‌باشد.

رد گزینه ۱ - کاهش میزان تراکم استخوان در سنین ۲۰ تا ۳۰ در مردان بیشتر است. ⇐

۰,۰۴۳ = ۰,۹۳۶ - ۰,۹۷۹ : مرد ۰,۰۰۹ = ۰,۸۸۶ - ۰,۸۹۵ : زن

رد گزینه ۳- کمترین شدت تغییرات تراکم استخوان بین ۲۰ تا ۳۰ سالگی در زنان می‌باشد که حدود ۰,۰۰۹ می‌باشد.

رد گزینه ۴- افزایش احتمال شکستگی در زنان بیشتر از مردان است.

۱ ۲ ۳ ۴ ۱۲

استخوان‌های ران - زند زیرین و درشت‌نی جانبی و استخوان‌های چهره و جناغ محوری می‌باشند.

۱ ۲ ۳ ۴ ۱۳

بررسی سایر گزینه‌ها:

گزینه (۲): انگشت کوچک پا در امتداد نازک‌نی است.

گزینه (۳): استخوان‌های کف پا هم اندازه نیستند.

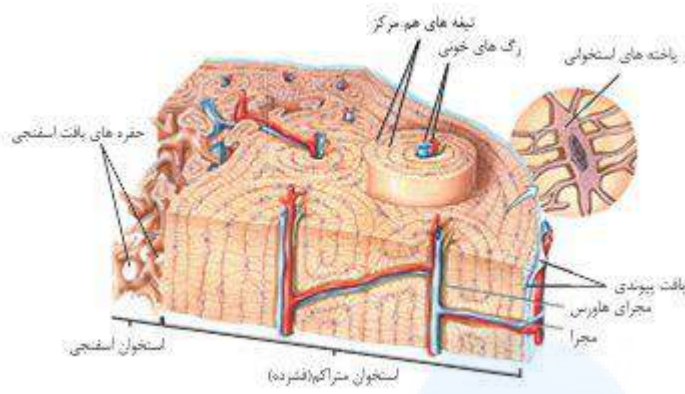
گزینه (۴): انگشت کوچک دست در امتداد زند زیرین است. شست دست در امتداد زند زیرین است.

۱ ۲ ۳ ۴ ۱۴

قسمت اعظم تنه استخوان دراز، بافت استخوانی فشرده است. بافت استخوانی فشرده در طول استخوان ران به صورت واحدهایی به نام هاورس قرار گرفته است اما در بافت استخوانی فشرده که در مجاورت بافت پیوندی رشته‌ای سطح خارجی استخوان قرار گرفته است، سامانه هاورس شکل نگرفته است.

گزینه ۳: درون مجرای هاورس، رگ‌های خونی قرار دارند (پس تو خالی نمی‌باشند).

گزینه‌های (۲) و (۴) مربوط به بافت استخوانی اسفنجی است که در استخوان‌های پهن، دوسر استخوان‌های دراز و مجرای میانی تنه استخوان دراز دیده می‌شود، ولی بخش اعظم تنه استخوان از بافت استخوانی فشرده است. مجرای مرکزی استخوان‌های دراز را مغز زرد پر می‌کند.



۱۵ ۱ ۲ ۳ ۴ درون بخش برآمده استخوان ران، بافت مغز قرمز استخوان، کلاژن و کلسیم یافت می شود.

بررسی سایر گزینه ها:

- گزینه ۲: در بخش برآمده استخوان ران هر دو نوع بافت استخوانی دیده می شود اما وسعت بافت استخوانی اسفنجی بیشتر از بافت استخوانی فشرده است.
- گزینه ۳: به علت وجود بافت استخوانی فشرده و اسفنجی در این ناحیه، یاخته های استخوانی و تیغه های منظم استخوانی (در بافت فشرده) دیده می شود.
- گزینه ۴: در بخش برآمده حفرات زیادی وجود دارد اما برخلاف بخش تنه مجرای مرکزی ندارد.

مرکز مشاوره تحصیلی علیرضا افشار



مبحث: گفتار ۱ فصل ۳ زیست یازدهم

سری: شماره ۲

زمان: ۱۵ دقیقه

۱ کدام گزینه دربارهٔ همهٔ مفاصل بدن انسان سالم و بالغ صحیح است؟

- ۱) به چهار دستهٔ ثابت، گوی و کاسه، لغزنده و لولایی تقسیم می‌شوند.
- ۲) در محل مفصل، نوعی غشا در تولید مایع مفصلی شرکت می‌کند.
- ۳) دارای بافت پیوندی غضروفی در سر استخوان‌های سازندهٔ مفصل می‌باشند.
- ۴) در تشکیل آن‌ها قطعاً بیش از یک استخوان دارای رشته‌های کلاژن نقش دارد.

۲ چند مورد، دربارهٔ همهٔ ساختارهای غیر ماهیچه‌ای درست است که به کنار هم ماندن استخوان‌ها در مفاصل متحرک کمک می‌کنند؟

- الف) در ساختن مایع مفصلی لغزنده نقش دارند.
- ب) فقط استخوان‌های دراز را در محل مفصل به هم متصل می‌کنند.
- ج) حاوی رشته‌های پروتئینی کشسان و کلاژن می‌باشند.
- د) تنها به استخوان‌هایی با سر پوشیده از غضروف متصل می‌شوند.

- ۱) ۱
- ۲) ۲
- ۳) ۳
- ۴) ۴

۳ کدام گزینه، عبارت زیر را به‌طور مناسب کامل می‌کند؟

«به‌طور معمول، همانند موجب استخوان می‌شود.»

- ۱) کمبود ویتامین D - مصرف نوشیدنی‌های الکلی - جلوگیری از ترشح مادهٔ زمینه‌ای توسط یاخته‌های
- ۲) افزایش سن - شکستگی استخوان در سنین پایین - کاهش تولید یاخته‌های جدید در بافت
- ۳) افزایش وزن - کمبود کلسیم غذا - جلوگیری از رسوب کلسیم در بافت
- ۴) مصرف نوشابه‌های گازدار - محیط بی‌وزنی - کاهش تراکم تودهٔ

۴ چند مورد، عبارت زیر را به درستی کامل می‌کنند؟

«در انسان بالغ، می‌تواند منجر به تودهٔ استخوانی گردد.»

- الف - افزایش میزان نمک‌های کلسیم در ماده زمینه‌ای استخوان - افزایش
- ب - انجام فعالیت‌های بدنی مانند ورزش - کاهش
- ج - مصرف نوشیدنی‌های الکلی و دخانیات - افزایش
- د - اختلال در ترشح برخی هورمون‌ها - کاهش

- ۱) ۱
- ۲) ۲
- ۳) ۳
- ۴) ۴

۵ کدام گزینه در مورد ساختار بخشی از تنهٔ یک استخوان دراز و اجزای آن، عبارت زیر را به‌درستی تکمیل می‌کند؟

«می‌توان گفت»

- ۱) خارجی‌ترین بافت استخوانی آن دارای مغز قرمز می‌باشد.
- ۲) گروهی از یاخته‌های موجود در مجرای مرکزی سامانهٔ هاورس فاقد هسته می‌باشند.
- ۳) بیرونی‌ترین لایهٔ تنهٔ این استخوان، دارای یاخته‌هایی با فضای بین یاخته‌ای اندک می‌باشند.
- ۴) یاخته‌های استخوانی فشرده فقط در ساختار سامانه‌های هاورس یافت می‌شود.

۶ طبق جدول میانگین تراکم استخوان در مردان و زنان،

- ۱) در برخی سنین یکسان تراکم استخوان در زنان بیشتر از مردان است.
- ۲) هرچه سن افزایش می‌یابد، تراکم استخوان در مردان و زنان بیشتر می‌شود.
- ۳) با افزایش سن، احتمال پوکی استخوان در مردان از زنان قطعاً بیشتر است.
- ۴) با افزایش سن از ۲۰ تا ۵۰ سالگی، تراکم استخوان در مردان نسبت به زنان بیشتر کاهش می‌یابد.



۷ در استخوان ران

۱ بافت اسفنجی در انتهای برآمد استخوان، برخلاف تنه آن وجود دارد.

۲ سامانه های هاورس دارای مغز قرمز استخوان می باشند.

۳ رگ های خونی یک مجرای هاورس با رگهای خونی مجرای هاورس دیگر می تواند مرتبط باشد.

۴ خارجی ترین سطح تنه این استخوان دارای تیغه های متحدالمرکز است.

۸ در رابطه با اعمال استخوان ها در بدن انسان نمی توان گفت هر

۱ استخوانی که در حرکت بدن به کمک ماهیچه ها نقش دارد، در ذخیره مواد معدنی نیز مؤثر است.

۲ استخوان دارای قابلیت ذخیره کلسیم، در حفاظت از اندام های درونی بدن نقش دارد.

۳ استخوانی که در پوکی استخوان دچار آسیب می شود، در ساختار خود بافت اسفنجی دارد.

۴ استخوان زند زبرین، در حرکت دادن مفصل مچ دست شرکت دارد.

۹ چند مورد از موارد زیر در رابطه با ساختار استخوان دراز به درستی بیان نشده اند؟

(الف) رگ های خونی توانایی عبور از بافت پیوندی خارجی این استخوان را ندارند.

(ب) بافت اسفنجی فقط در انتهای برآمده این استخوان دیده می شود.

(ج) مجرای مرکزی هر سامانه هاورس فقط دارای سرخرگ و عصب است.

(د) ماده زمینه ای این استخوان فاقد ماده آلی می باشد.

۱ ۴

۲ ۳

۳ ۲

۴ ۱

۱۰ کدام مورد عبارت را به درستی تکمیل می کند؟ «در انسان سالم و بالغ» (با تغییر)

۱ سر استخوان نازک نی بیشتر از بافتی تشکیل شده که فاقد رگ های خونی است.

۲ سر استخوان ران در محل مفصل توسط بافتی پوشیده شده که قابلیت انعطاف پذیری دارد.

۳ تنه ای استخوان ران بیشتر از بافتی تشکیل شده که حاوی حفرات نامنظم است.

۴ تنه ای استخوان درشت نی با بافتی پوشیده شده که کانال های هاورس آن حاوی رگ های خونی اند.

۱۱ در یک فرد، بخش عمده سر استخوان زند زبرین از بافتی تشکیل شده است که (با تغییر)

۱ حفرات نامنظم آن مملو از مغز زرد می باشند.

۲ در ماده زمینه ای خود داراری مجاری متعدد موازی می باشند.

۳ دارای فضاهای بین سلولی اندک و رشته های کلاژن فراوان می باشد.

۴ در اسکلت انسان، بخش محوری بخش جانبی

۱ برخلاف - از نخاع و شش ها محافظت می کند.

۲ برخلاف - در ذخیره کلسیم و فسفات نقش دارد.

۳ همانند - دارای استخوان دراز است.

۱۲ کدام یک از استخوان های زیر، جزء بخش محوری اسکلت انسان می باشد؟

۱ استخوان ترقوه

۲ استخوان ستون مهره

۳ استخوان نیم لگن

۴ استخوان کتف

۱۳ کدام عبارت درست است؟

۱ شکستگی استخوان نمی تواند در اثر حرکات معمول بدن باشد.

۲ به طور طبیعی تراکم استخوانی یک زن در سنین پایین تر از ۴۰ سال از مرد هم سن وی کم تر و بعد از ۴۰ سالگی بیشتر است.

۳ شدت کاهش تراکم استخوان در سنین بالای ۴۰ سال نسبت به زنان جوان تر بیشتر است.

۴ در مجرای هاورس بافت فشرده، مغز قرمز وجود دارد.

۱۴ استخوان هایی که در سطح پشتی بدن قرار دارند و با استخوان های دنده نیز مفصل دارند، از چه نوع استخوانی هستند؟

۱ استخوان های دراز

۲ استخوان های کوتاه

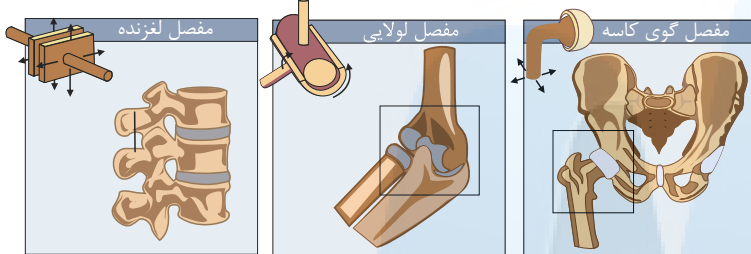
۳ استخوان های پهن

۴ استخوان های نامنظم

پاسخنامه تشریحی

۱) دقت کنید مفاصل محل اتصال استخوان‌ها می‌باشند؛ در نتیجه در محل مفاصل قطعاً بیش از یک نوع استخوان شرکت می‌کند. بررسی سایر گزینه‌ها:

گزینه ۱: دقت کنید طبق توضیحات شکل زیر، مفاصل متحرک انواع دیگری نیز دارند و مفاصل گوی کاسه، لغزنده و لولایی سه نوع از این مفاصل هستند.



گزینه ۲ و ۳: برای مفاصل ثابت صادق نیست.

۲) ساختارهای غیر ماهیچه‌ای که به کنار هم ماندن استخوان‌ها در مفاصل متحرک کمک می‌کنند شامل: کپسول مفصلی، زردپی و رباط هستند. بررسی موارد:

مورد الف) نادرست. ساختن مایع مفصلی لغزنده بر عهده پرده سازنده مایع مفصلی است.

مورد ب) نادرست. استخوان‌های شرکت‌کننده در ساختار مفصل متحرک، می‌تواند استخوان دراز نباشد.

مورد ج) درست. هر سه مورد مطرح شده در سؤال، بافت پیوندی رشته‌ای هستند. در بافت پیوندی رشته‌ای، رشته‌های کلاژن و ارتجاعی وجود دارد.

مورد د) درست. کپسول مفصلی فقط در مفاصل متحرک وجود دارد و در مفاصل متحرک یکی از ویژگی‌ها، وجود غضروف است.

۳) بررسی گزینه‌ها:

گزینه ۱: نوشیدنی‌های الکلی و کمبود ویتامین D سبب کاهش جذب کلسیم از روده می‌شوند. در نتیجه رسوب کلسیم را در استخوان‌ها کاهش می‌دهند. این مطلب ارتباطی با ترشح ماده زمینه توسط یاخته‌های استخوانی ندارد.

گزینه ۲: افزایش سن سبب کاهش تولید یاخته‌های استخوانی می‌شود. اما شکستگی استخوان در سنین پایین سبب افزایش تولید یاخته‌های استخوانی در محل نزدیک شکستگی می‌شود.

گزینه ۳: افزایش وزن برخلاف بی‌وزنی سبب افزایش رسوب کلسیم در استخوان می‌شود. اما کمبود کلسیم غذا از رسوب کلسیم در بافت استخوانی جلوگیری می‌کند.

گزینه ۴: مصرف نوشابه‌های گازدار و محیط بی‌وزنی سبب کاهش تراکم توده استخوانی می‌شوند.

۴) عامل

عامل	تأثیر بر تراکم و توده استخوان
افزایش میزان نمک‌های کلسیم ماده زمینه‌ای	افزایش تراکم (+)
فعالیت بدنی مانند ورزش	افزایش تراکم (+)
مصرف نوشیدنی‌های الکلی و دخانیات	کاهش تراکم (-)
اختلال در ترشح برخی هورمون‌ها	کاهش تراکم (-)
افزایش وزن	افزایش تراکم (+)
کاهش کلسیم غذا و مصرف نوشابه	کاهش تراکم (-)
استفاده کمتر از استخوان (حالت وزنی)	کاهش تراکم (-)
کمبود ویتامین D	کاهش تراکم (-)

با توجه به جدول فوق، فقط موارد «الف»، «د» درست هستند.

افزایش میزان نمک‌های کلسیم در ماده زمینه‌ای استخوان و انجام فعالیت‌های ورزشی سبب افزایش توده استخوانی می‌شود. مصرف نوشیدنی‌های الکلی و دخانیات، هم چنین اختلال در ترشح برخی هورمون‌ها سبب کاهش توده استخوانی می‌شود.

بنابراین موارد الف و د صحیح و موارد ب و ج نادرست می‌باشد.

۵) ۱- خارجی‌ترین بافت استخوانی، استخوان فشرده است. این بافت مغز قرمز ندارد.

۲- در مجرای مرکزی استخوان، رگ خونی و در نتیجه گلبول قرمز وجود دارد. گلبول‌های قرمز هسته ندارند.

۳- بیرونی‌ترین لایه توده استخوان دراز بافت پیوندی است. یاخته‌های این بافت، دارای فضای بین یاخته‌ای زیادی هستند.

۴- یاخته‌های استخوانی فشرده، علاوه بر سامانه هاورس در اطراف این سامانه و در بین سامانه‌های هاورس نیز وجود دارند.

۶) ۱. در تمامی سنین، تراکم استخوان در مردان بیشتر از زن‌ها است.

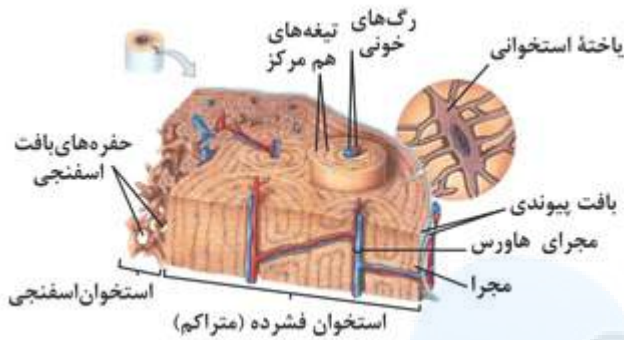
۲. طبق جدول میانگین تراکم استخوان، با افزایش سن تراکم استخوان در مردان و زنان کاهش می‌یابد.

۳. با افزایش سن احتمال پوکی استخوان در زنان بیشتر از مردان هم سن خود است.

۴. طبق جدول با افزایش سن از ۲۰ تا ۵۰ سالگی، تراکم استخوان در مردان نسبت به زنان بیشتر کاهش می یابد.

۱ ۲ ۳ ۴ ۷

بر اساس شکل روبه رو رگ های خونی یک مجرای هاورس با رگ های خونی مجرای هاورس دیگر ارتباط دارند.



رد گزینه ۱ - هم در انتهای برآمده استخوان دراز و هم در تنه آن بافت اسفنجی وجود دارد.

رد گزینه ۲ - مغز قرمز استخوان در بافت اسفنجی وجود دارد ولی سامانه هاورس مربوط به بافت فشرده است.

رد گزینه ۳ - خارجی ترین سطح تنه استخوان دراز را بافت پیوندی احاطه کرده است نه سامانه هاورس.

رد گزینه های ۱ و ۳: همه استخوان ها در ذخیره مواد معدنی نقش دارند و همه استخوان ها در ساختار خود بافت فشرده و اسفنجی دارند.

رد گزینه ۴: استخوان های مچ دست با زند زبرین مفصل شده اند.

۱ ۲ ۳ ۴ ۹ هر ۴ مورد نادرست اند.

مورد الف) سطح خارجی استخوان دراز توسط پیوندی احاطه شده است که از درون آن رگ ها و اعصاب عبور می کنند.

مورد ب) علاوه بر انتهای برآمده استخوان دراز، در سطح درونی تنه استخوان دراز هم بافت اسفنجی دیده می شود.

مورد ج) در مجرای هاورس یک سرخرگ، یک سیاهرگ و یک عصب وجود دارد.

گزینه د) ماده زمینه استخوان دارای مواد معدنی و پروتئین کلاژن می باشد که نوعی ماده آلی محسوب می شود.

۱ ۲ ۳ ۴ ۱۰ سر استخوان ران در محل مفصل غضروفی است. غضروف بافتی با قابلیت انعطاف پذیری است.

رد سایر گزینه ها:

گزینه ۱: در هر دو نوع بافت استخوانی رگ های خونی قابل مشاهده است.

گزینه ۳: تنه استخوان ران بیشتر از بافت استخوانی فشرده تشکیل شده است.

گزینه ۴: تنه استخوان درشت نی با بافت پیوندی پوشیده شده است.

۱ ۲ ۳ ۴ ۱۱ بخش عمده سر استخوان زندزیرین از بافت اسفنجی هست که دارای تیغه های استخوانی نامنظم هست.

بررسی سایر گزینه ها:

رد گزینه های ۱ و ۲: بافت اسفنجی فاقد سامانه هاورس است و حفرات آن مملو از مغز قرمز است.

رد گزینه ۳: فضای بین یاخته های اندک از ویژگی های بافت پیوندی نمی باشد.

۱ ۲ ۳ ۴ ۱۲ بررسی سایر گزینه ها:

گزینه ۲: تمام استخوان ها محل ذخیره مواد معدنی مانند کلسیم و فسفات هستند.

گزینه ۳: استخوان های دراز در بخش جانبی قرار دارند.

گزینه ۴: بخش محوری در جویدن، شنیدن، صحبت کردن و حرکات بدن نقش دارد.

۱ ۲ ۳ ۴ ۱۳ طبق شکل روبه رو استخوان های ترقوه، نیم لگن و کتف جزء اسکلت جانبی ولی استخوان ستون مهره ها جزء اسکلت محوری است.



۱ ۲ ۳ ۴ ۱۴ گزینه ۱: استخوان های بدن به طور پیوسته دچار شکستگی میکروسکوپی می شود که نتیجه حرکات معمول بدن است.

گزینه ۲: در همه سنین، تراکم استخوان مرد بیشتر از زن است.

گزینه ۳: طبق جدول روبه رو تراکم توده استخوانی در زنان و مردان تفاوت دارد و شدت کاهش تراکم استخوان از ۴۰ سالگی افزایش می یابد.

گزینه ۴: اعصاب و رگ های درون مجرای مرکزی هر سامانه ارتباط بافت زنده را با بیرون برقرار می کند. بین تیغه های حفره های بافت اسفنجی مغز قرمز وجود دارد.

میانگین تراکم استخوان		
سن	زن	مرد
۲۰	۰٫۸۹۵	۰٫۹۷۹
۳۰	۰٫۸۸۶	۰٫۹۳۶
۴۰	۰٫۸۵۰	۰٫۸۹۴
۵۰	۰٫۷۹۷	۰٫۸۵۱
۶۰	۰٫۷۳۳	۰٫۸۰۹
۷۰	۰٫۶۶۷	۰٫۷۶۶
۸۰	۰٫۶۰۷	۰٫۷۲۴

۱۵ ۴ ۳ ۲ ۱ بررسی گزینه ها:

استخوان های ستون مهره ها از استخوان هایی هستند که در سطح پشتی بدن دیده می شوند. استخوان های دنده از سطح پشتی به استخوان های ستون مهره مفصل شده اند. استخوان های ستون مهره ها از نوع استخوان های نامنظم هستند.

مرکز مشاوره تحصیلی
علیرضا افشار

مبحث: گفتار ۱ فصل ۳ زیست یازدهم

سری: شماره ۳

زمان: ۱۵ دقیقه

۱ کدام گزینه جمله زیر را به طور مناسب تکمیل می کند؟ (با تغییر)

«مغز استخوانی که مجرای مرکزی استخوان ران انسان بالغ را پر کرده است، در کم خونی شدید می تواند به مغزی تبدیل شود که»

- ۱ در سامانه هاورس یافت می شود.
- ۲ در بین تیغه های هم مرکز بافت استخوان فشرده یافت می شود.
- ۳ در بافتی متشکل از میله ها و صفحات استخوانی یافت می شود.
- ۴ دقیقاً در زیر لایه پیوندی سطح خارجی این استخوان قرار دارد.

۲ در مورد ساختار یک استخوان دراز در بدن انسان سالم و بالغ، کدام عبارت به درستی بیان نشده است؟

- ۱ بافت استخوانی فشرده حاوی پروتئین و ذخیره کلسیم و فسفر است.
- ۲ یاخته استخوانی بافت فشرده، انشعابات زیادی درون ماده زمینه ای دارد.
- ۳ خون سیاهرگ های درون مجراهای هاورس مجاور می تواند با هم ارتباط داشته باشند.
- ۴ تنه استخوان دراز برخلاف انتهای برآمده استخوان دراز، فاقد بافت استخوانی اسفنجی است.

۳ انتهای برآمده استخوان درازی که با استخوان نیم لگن مفصل تشکیل می دهد، عمدتاً توسط نوعی بافت استخوانی پر شده است. کدام عبارت، درباره این بافت در فردی بالغ درست است؟

- ۱ فضای درون آن، بیشتر توسط یاخته هایی که مقدار زیادی ذخیره چربی دارند، پر می شود.
- ۲ یاخته های استخوانی توسط ماده زمینه ای متشکل از نمک های کلسیم و فسفات احاطه می شوند.
- ۳ سامانه های استوانه ای و هم مرکز از یاخته های استخوانی، توسط مجراهای عرضی به هم راه دارند.
- ۴ ماده زمینه ای موجود در بافت استخوانی از مواد معدنی و پروتئین هایی مانند کلاژن تشکیل شده است.

۴ هر ساختاری که در کنار یکدیگر ماندن استخوان های مجاور مؤثر است،

- ۱ جز ساختار مفصل است.
- ۲ به بافت پیوندی اتصال دارد.
- ۳ در تولید مایع مفصلی سهم است.
- ۴ سبب می شود استخوان های مجاور هم لیز بخورند.

۵ کدام گزینه ویژگی هر استخوان اسکلت جانبی بدن انسان را به درستی بیان نمی کند؟

- ۱ دارای رشته های پروتئینی است که توسط یاخته های آن ساخته می شوند.
- ۲ در تعیین شکل بدن و حفاظت از هر اندام درونی حساس نقش دارد.
- ۳ از دو نوع بافت استخوانی فشرده و اسفنجی تشکیل شده است.
- ۴ در ماده زمینه ای خود، مواد معدنی را ذخیره می کند.

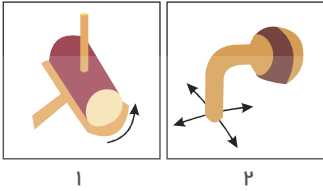
۶ کدام گزینه نادرست است؟

- ۱ استخوان زند زیرین همانند کتف در حرکات بدن نقش دارد.
- ۲ استخوان های قفسه سینه همانند جمجمه دارای نقش محافظتی هستند.
- ۳ استخوان چکشی برخلاف ترقوه از اجزای اسکلت محوری هستند.
- ۴ استخوان نازک نی برخلاف درشت نی با استخوان ران مفصل تشکیل می دهد.

۷ کدام عبارت، جمله زیر را به درستی تکمیل می کند؟

«نوعی بافت استخوانی که»

- ۱ دارای تیغه های استخوانی نامنظم می باشد، یاخته های بنیادی لنفوتیدی تولید می کند.
- ۲ اغلب یاخته های خونی را تولید می کند، می تواند دارای رگ های خونی و مغز استخوان باشد.
- ۳ دارای مجاری متعدد موازی می باشد، دارای یاخته هایی منشعب می باشد.
- ۴ درونی ترین بخش تنه استخوان بازو را تشکیل می دهد، از اجتماع سامانه های هاورس تشکیل شده است.



۸ شکل مقابل، دو نوع از مفاصل بدن را نشان می‌دهد. کدام گزینه نادرست است؟

- ۱ استخوان‌ها در مفصل نوع ۱ می‌توانند سالیان زیادی در مجاور هم لیز بخورند.
- ۲ سر استخوانها در محل هر دو نوع مفصل توسط نوعی بافت پیوندی پوشیده شده است.
- ۳ ماهیچه سربینی در اطراف مفصلی نوع ۲ قرار دارد.
- ۴ بیشتر مفاصل بدن به صورت شکل‌های مقابل هستند.

۹ در افرادی که

- ۱ به فضا سفر می‌کنند، تراکم استخوان افزایش می‌یابد.
- ۲ دچار افزایش وزن می‌شوند، تراکم استخوان افزایش می‌یابد.
- ۳ کمبود ویتامین B دارند، تراکم استخوان کاهش می‌یابد.
- ۴ حدود ۳۰ سال سن دارند، تراکم استخوان از افراد ۲۰ ساله بیشتر است.

۱۰ نمی‌توان گفت

- ۱ در بیشتر مفصل‌ها، استخوان‌ها قابلیت حرکت دارند.
- ۲ در گروهی از مفصل‌ها کپسولی از جنس بافت پیوندی رشته‌ای، استخوان‌ها را در محل مفصل احاطه نمی‌کند.
- ۳ رباط‌ها همانند زردپی و کپسول مفصلی به کنار یکدیگر ماندن گروهی از استخوان‌ها کمک می‌کنند.
- ۴ سر استخوان‌ها در محل همه مفصل‌ها، غضروفی است.

۱۱ افزایش وزن مصرف دخانیات، باعث می‌شود.

- ۱ همانند - پوکی استخوان
- ۲ برخلاف - کاهش تراکم استخوان
- ۳ همانند - محکم تر شدن استخوان
- ۴ برخلاف - افزایش تراکم استخوان

۱۲ کدام مورد نادرست است؟ «در مفصل زانوی انسان،»

- ۱ پرده‌ای که مایع مفصلی را تولید می‌کند نسبت به کپسول مفصلی داخلی تر است.
- ۲ سر دو استخوان در محل مفصل با نوعی بافت پیوندی با مادهٔ بین‌یاخته‌ای منعطف پوشیده شده است.
- ۳ وجود چندین رباط در داخل و خارج مفصل باعث آزادی بیش‌تر حرکات زانو می‌شود.
- ۴ رباط‌های موجود در مفصل‌ها در متصل نگه داشتن دو استخوان نقش دارند.

۱۳ سلول‌های استخوانی

- ۱ برخلاف سلول‌های عصبی، رشته‌های سیتوپلاسمی ندارند.
- ۲ همانند سلول‌های عصبی، پس از دوران رشد توانایی تقسیم شدن را ندارند.
- ۳ برخلاف سلول‌های غضروفی، توانایی ترشح رشته‌های پروتئینی ندارد.
- ۴ همانند سلول‌های غضروفی، توانایی ترشح مواد زمینه‌ای را دارند.

۱۴ ممکن نیست

- ۱ هر استخوان نیم لگن دارای سه مفصل باشد.
- ۲ استخوان نازک نی با استخوان کف پا مفصل داشته باشد.
- ۳ استخوان زندزبرین با بازو مفصل داشته باشد.
- ۴ هر استخوان ترقوه دو مفصل داشته باشد.

۱۵ در انسان، استخوانی که در گوارش مکانیکی مواد غذایی نقش دارد:

- ۱ دارای هر دو بافت استخوانی است.
- ۲ در شنیدن دقیق نیز نقش دارد.
- ۳ دارای انتهای برآمده‌ای است که از بافت اسفنجی پر شده است.
- ۴ در مجرای مرکزی خود دارای مغز استخوان نرم است.

پاسخنامه تشریحی

۱ مغز زرد در هنگام کم‌خونی شدید، می‌تواند به مغز قرمز تبدیل شود، مغز قرمز در ساختار بافت اسفنجی دیده می‌شود که از میله‌ها و صفحات استخوانی ساخته شده است.

بررسی سایر گزینه‌ها:

در بافت استخوانی فشرده مغز استخوان دیده نمی‌شود.

گزینه ۱) در بافت استخوانی فشرده، سامانه هاوروس مشاهده می‌شود.

گزینه ۲) تیغه‌های هم مرکز منظور، سامانه هاوروس است که این سامانه در بافت استخوانی اسفنجی دیده نمی‌شود.

گزینه ۴) زیر لایه پیوندی سطح خارجی هر استخوان، بافت استخوانی فشرده قرار دارد.

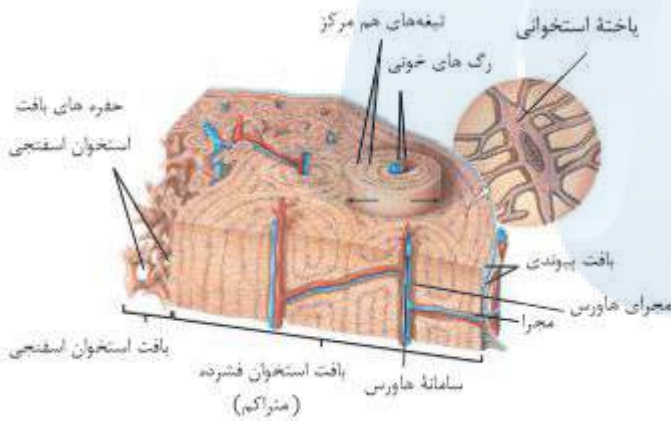
۲ سطح درونی تنه استخوان دراز همانند انتهای برآمده استخوان دراز، حاوی بافت اسفنجی است.

بررسی سایر گزینه‌ها:

گزینه ۱) استخوان‌ها محل ذخیره مواد معدنی، مانند کلسیم و فسفر هستند. ماده زمینه‌ای استخوان فشرده از پروتئین‌ها و مواد معدنی تشکیل شده است.

گزینه ۲) در شکل زیر مشاهده می‌کنید که یاخته استخوانی بافت فشرده، زوائد رشته مانند منشعب درون ماده زمینه‌ای دارد.

گزینه ۳) در شکل زیر مشاهده می‌کنید که جریان خون سیاهرگ و سرخرگ درون مجرای هاوروس از طریق رگ‌های خونی می‌تواند با رگ‌های هم‌تای مجرای هاوروس مجاور مرتبط شود.



۳ استخوان ران، نوعی استخوان دراز است که با استخوان نیم‌لگن مفصل تشکیل می‌دهد. انتهای برآمده این استخوان عمدتاً توسط بافت استخوانی اسفنجی پر شده است. در همه بافت‌های استخوانی فرد بالغ، یاخته‌های استخوانی توسط ماده زمینه‌ای متشکل از نمک‌های کلسیم و فسفات احاطه می‌شوند.

بررسی سایر گزینه‌ها:

گزینه ۱) فضای درون بافت اسفنجی موجود در انتهای برآمده استخوان ران، توسط مغز قرمز استخوان پر می‌شود. مغز زرد استخوان بیشتر از یاخته‌هایی که مقدار زیادی ذخیره چربی دارند تشکیل شده است، نه مغز قرمز.

گزینه ۳) سامانه‌های استخوانی و هم‌مرکز از یاخته‌های استخوانی (سامانه هاوروس) که توسط مجراهای عرضی به هم راه دارند، در بافت استخوانی فشرده دیده می‌شود نه اسفنجی.

گزینه ۴) رشته‌های کلاژن جز ماده زمینه‌ای بافت پیوندی محسوب نمی‌شود.

۴ کپسول مفصلی، رباط و زردپی در کنار یکدیگر ماندن استخوان‌های مجاور مؤثر هستند. زردپی جزء مفصل نیست. مایع مفصلی توسط پرده سازنده مایع مفصلی ساخته می‌شود. مایع مفصلی و غضروف در لیز خوردن استخوان‌های مجاور مؤثرند. تمام این سه ساختار مطرح شده، به استخوان که یک نوع بافت پیوندی است، اتصال دارند.

۵ استخوان‌ها شکل بدن را تعیین و نیز چارچوبی را ایجاد می‌کنند تا اندام‌ها بر روی آن‌ها مستقر شوند. اسکلت استخوانی محوری از بخش‌های حساسی، مانند نخاع، قلب، مغز و شش‌ها حفاظت می‌کند.

بررسی سایر گزینه‌ها:

۱) بافت استخوان یکی از انواع بافت پیوندی است. بافت پیوندی در ماده زمینه خود دارای رشته‌های پروتئینی مانند کلاژن است که این رشته‌ها توسط سلول‌های بافت پیوندی (در اینجا بافت استخوانی) ترشح می‌شوند.

۳) هر استخوان از دو نوع بافت استخوانی فشرده و اسفنجی تشکیل شده است.

۴) ماده زمینه بافت استخوانی از پروتئین‌هایی مانند کلاژن و مواد معدنی تشکیل شده است.

۶ استخوان درشت نی در محل زانو با استخوان ران مفصل می‌شود، ولی استخوان نازک نی با استخوان ران مفصل تشکیل نمی‌دهد.

بررسی سایر گزینه‌ها:

گزینه ۱) استخوان‌های جانبی نسبت به محوری، نقش بیشتری در حرکات بدن دارند. استخوان‌های اسکلت جانبی و هم اسکلت محوری، در حرکات بدن نقش دارند. استخوان کتف و زندزیرین هر دو از استخوان‌های جانبی هستند.

گزینه ۲) استخوان‌های جمجمه برای مثال از مغز و چشم و گوش، محافظت می‌کنند. استخوان‌های قفسه سینه از شش‌ها و قلب محافظت می‌کنند.

گزینه ۳) بخش‌های محوری، محور بدن را تشکیل می‌دهند و از ساختارهایی مانند مغز و قلب حفاظت می‌کنند. گرچه بخش‌هایی از آن هم در جویدن، شنیدن، صحبت کردن و حرکات بدن نیز

نقش دارد. استخوان های کوچک گوش (چکشی، سندان و رکابی) متعلق به اسکلت محوری می باشند. ترقوه از استخوان های جانبی است.

۷) بررسی گزینه ها:

۱. بافت استخوانی که تیغه های استخوانی نامنظم دارد، بافت اسفنجی است. در حفرات این بافت، مغز قرمز (بافت استخوانی نیست) وجود دارد. یاخته های بنیادی از یاخته های بنیادی بافت مغز استخوان به وجود می آید نه از یاخته های استخوانی.

۲. بافت استخوانی اسفنجی، می تواند دارای رگ های خونی و مغز استخوان باشد. مغز استخوان که درون این بافت وجود دارد اما نه خود بافت استخوانی، همه انواع یاخته های خونی را تولید می کند.

۳. بافت استخوانی فشرده دارای مجاری متعدد موازی است. یاخته های این بافت، دارای زوائد سیتوپلاسمی هستند و ظاهر منشعب دارند.

۴. سطح درونی تنه استخوان های دراز از بافت اسفنجی پوشیده شده است. این بافت سامانه هاورس ندارد.

۸) شکل موجود در صورت سوال مفصل گوی و کاسه ای را نشان می دهد. گروهی از مفاصل بدن از نوع لولایی و گوی و کاسه ای هستند.

بررسی سایر گزینه ها:

رد گزینه ۱- جمله درست است. مایع مفصلی و سطح صیقلی غضروف در مفاصل متحرک به استخوان ها این امکان را می دهد که سالیان زیادی در کنار هم لیز بخورند و اصطکاک چندانی نداشته باشند.

رد گزینه ۲- جمله درست است. در محل مفاصل، سر استخوان ها توسط بافت غضروفی پوشیده شده است.

رد گزینه ۳- جمله درست است. در زیر ماهیچه سربینی مفصل ران با نیم لگن از نوع گوی و کاسه ای قرار دارد.

۹) افزایش وزن و ورزش سبب افزایش تراکم استخوان می شوند.

بررسی سایر گزینه ها:

رد گزینه ۱- تراکم استخوان فزانوردان در محیط بی وزنی کاهش می یابد.

رد گزینه ۳- کمبود ویتامین D موجب بروز پوکی استخوان و کاهش تراکم آن می شود.

رد گزینه ۴- تراکم استخوان براساس فعالیت ۲ فصل ۳ در افراد ۳۰ ساله کمتر از ۲۰ ساله می باشد.

۱۰) غضروف در سر استخوان های موجود در مفاصل متحرک وجود دارند و در مفاصل ثابت مانند استخوان های جمجمه غضروف وجود ندارد.

رد گزینه ۱: بیشتر مفاصل ها متحرک اند.

رد گزینه ۲: گروهی از مفاصل ها مانند مفصل ثابت فاقد کپسول مفصلی اند.

رد گزینه ۳: سه عامل کپسول مفصلی، رباط و زردپی سبب کنار هم ماندن استخوان ها می شوند.

۱۱) عواملی که سبب افزایش تراکم استخوان و محکم تر شدن آن می شوند: فعالیت های بدنی مانند ورزش و افزایش وزن می باشد.

عواملی که سبب کاهش تراکم استخوان می شوند: بی وزنی در فضا، کمبود ویتامین D و کلسیم، مصرف نوشیدنی های الکلی و دخانیات و نوشابه های گازدار و اختلال در ترشح هورمون می باشد.

۱۲) رباط ها، به کنار یکدیگر ماندن استخوان ها کمک می کنند. به عبارت دیگر رباط ها، حرکت استخوان ها را در مفصل محدودتر می کنند نه آزادتر.

بررسی سایر گزینه ها:

۱) پرده ساندۀ مایع مفصلی، نسبت به کپسول مفصلی داخلی تر است.

۲) سر استخوان ها در محل مفصل با غضروف که نوعی بافت پیوندی با ماده بین یاخته ای منعطف است، پوشیده شده است.

۴) علاوه بر کپسول مفصلی، زردپی ها هم به در کنار یکدیگر ماندن استخوان ها کمک می کند.

۱۳) بررسی گزینه ها:

رد گزینه ۱: سلول های استخوانی همانند سلول های عصبی دارای رشته ها و یا زوائد سیتوپلاسمی هستند.

درستی گزینه ۲: هر دو بافت پیوندی هستند و از کتاب دهم به یاد داریم که ماده زمینه ای توسط سلول های بافت پیوندی ترشح می شود.

رد گزینه ۳: سلول های استخوانی توانایی تقسیم شدن دارند و در هنگام شکستگی ها، سلول های استخوانی نزدیک به محل ضربه تقسیم می شوند.

رد گزینه ۴: هر دو سلول پیوندی هستند و توانایی ترشح رشته های پروتئینی را ندارند.

۱۴ ۱ ۲ ۳ ۴

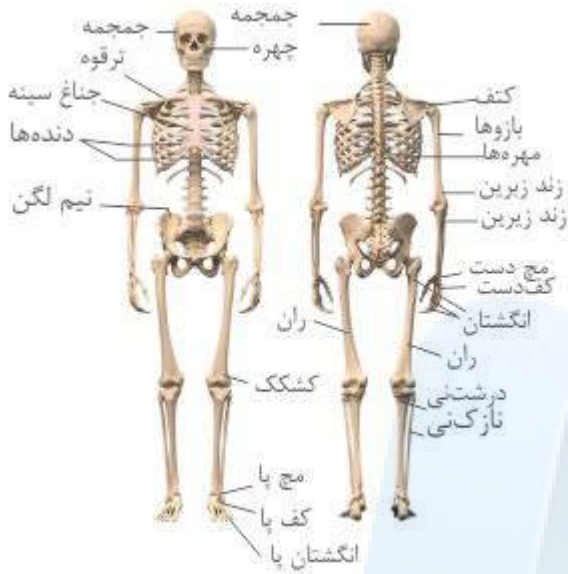
بررسی گزینه ها:

گزینه (۱): با توجه به شکل، هر استخوان نیم لگن با استخوان ران، با ستون مهره ها و با استخوان نیم لگن مقابل مفصل دارد.

گزینه (۲): درشت نی و نازک نی با استخوان های مچ پا مفصل دارند و نه با استخوان های کف پا.

گزینه (۳): مطابق شکل زند زیرین و زندزیرین هر دو با بازو مفصل دارند.

گزینه (۴): هر استخوان ترقوه یک مفصل با کتف و یک مفصل با جناغ سینه دارد.



۱۵ ۱ ۲ ۳ ۴ متن سوال مورد نظر، استخوان آرواره پایینی است که در جویدن کمک می کند و جویدن در واقع یک نوع گوارش مکانیکی است.

بررسی گزینه ها:

درستی گزینه (۱): هر استخوانی، هر دو بافت استخوانی فشرده و اسفنجی را دارد.

رد گزینه (۲): استخوان گوش میانی در شنیدن دقیق، موثر هستند.

رد گزینه (۳) و (۴): سر برجسته و مجرای مرکزی در استخوان های دراز دیده می شود، و آرواره استخوان دراز نیست.

مرکز مشاوره تحصیلی

علیرضا افشار



مبحث: گفتار ۲ فصل ۳ زیست یازدهم

سری: شماره ۱

زمان: ۱۵ دقیقه

۱ در سارکومر ماهیچه دلتایی، هر رشته پروتئینی که توانایی اتصال به مولکول ATP را دارد، می تواند در شرایطی
 ۱ در بخش روشن سارکومر قرار بگیرد. ۲ با مصرف انرژی شکل خود را تغییر دهد.
 ۳ طول خود را در طی انقباض کاهش دهد. ۴ سبب نزدیک شدن تارچه ها به هم گردد.

۲ چند مورد فقط درباره بسیاری از ماهیچه های اسکلتی بدن انسان سالم و بالغ درست است؟
 الف) انرژی لازم برای انقباض آنها، فقط از مولکول های اسید چرب به دست می آید.
 ب) هر یاخته آنها، از به هم پیوستن چند یاخته در دوران جنینی ایجاد شده است.
 پ) با آزاد شدن کلسیم از شبکه آندوپلاسمی، طول سارکومرها می تواند کاهش یابد.
 ت) به صورت جفت باعث حرکت اندامها در بدن انسان می شوند.

۱ ۲ ۳ ۴

۳ کدام گزینه، عبارت زیر را به درستی تکمیل می کند؟

« در جانوران اسکلت درونی اسکلت بیرونی »

۱ برخلاف - در محافظت از طناب عصبی پشتی نقش دارد.

۲ برخلاف - همواره دارای استخوان هایی مشابه با استخوان های انسان است.

۳ همانند - دارای ساختار اسکلتی مشابهی با اسکلت آب استایی است.

۴ همانند - فقط در جانورانی یافت می شود که به وسیله مویرگ ها به تبادل مواد می پردازند.

۴ در افراد ، تارهای ماهیچه ای بیشتر از نوعی هستند که ،

۱ ورزشکار استقامتی - حاوی پروتئین های شبیه میوگلوبین هستند که توانایی ذخیره اکسیژن دارد.

۲ کم تحرک - عمده انرژی مورد نیاز خود را در راکیزه به دست می آورند.

۳ ورزشکار استقامتی - به علت وجود میتوکندری های فراوان در سیتوپلاسم، به رنگ قرمز دیده می شوند.

۴ کم تحرک - تجزیه گلوکز، بیشتر به صورت ناقص صورت می گیرد.

۵ چند مورد عبارت زیر را به نادرستی تکمیل می کند؟

« هر زمان که انقباضی مشابه شکل مقابل در عضله دو سر بازو رخ می دهد »

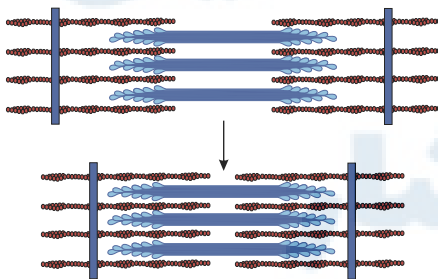
الف) طی تجزیه قند گلوکز در سلول، مولکول های پرا انرژی ATP تولید می شود.

ب) یون های کلسیم در تماس با تارهای ماهیچه ای قرار می گیرند.

ج) فقط گیرنده های حس وضعیت پیام عصبی به مغز ارسال می کنند.

د) هر مولکول ATP درون یاخته توسط مولکول میوزین تجزیه می شود.

۱ مورد ۲ مورد ۳ مورد ۴ مورد



۶ در ساختار سارکومرها در ماهیچه توأم انسان، رشته های پروتئینی سارکومر، هنگام

۱ نازک - انقباض کامل ماهیچه، طول کمتری نسبت به زمان استراحت خود دارند.

۲ ضخیم - انقباض کامل ماهیچه، کمترین فاصله را با خطوط Z خواهند داشت.

۳ ضخیم - استراحت کامل ماهیچه، بیشترین مجاورت را با رشته های نازک دارد.

۴ نازک - استراحت کامل ماهیچه، کمترین فاصله را با رشته های نازک سمت مقابل همان سارکومر دارد.

۷) کدام گزینه عبارت زیر را به نادرستی تکمیل می کند؟

«نوعی از یاخته های ماهیچه ای اسکلتی که نوع دیگر»

- ۱) در افراد کم تحرک تعداد آن بیشتر است، همانند - درون خود تعدادی راکیزه دارد.
- ۲) در حرکات استقامت نقش اساسی دارد، برخلاف - از توانایی بالایی برای ذخیره اکسیژن برخوردار است.
- ۳) سریع انرژی خود را از دست می دهد، همانند - دارای توانایی تجزیه گلوکز به صورت کامل می باشد.
- ۴) سرعت انقباض بیشتری دارد، برخلاف - بیشتر انرژی خود را به روش هوازی به دست می آورد.

۸) کدام عبارت، درباره همه جانورانی که در ساختار اسکلت داخلی خود دارای غضروف هستند، درست است؟

- ۱) طناب عصبی پشتی درون سوراخ مهره ها جای گرفته است.
- ۲) تولید گوچه های سفید در مغز قرمز استخوان ها انجام می شود.
- ۳) غدد راست روده ای محلول نمک بسیار غلیظ را به روده ترشح می کنند.
- ۴) کانالی حاوی یاخته های مژک دار، در زیر پوست دو سوی بدن وجود دارد.

۹) کدام گزینه عبارت زیر را به نادرستی تکمیل می کند؟

«در بدن انسان سالم و بالغ، در طی انقباض ماهیچه دو سر بازو،»

- ۱) با اتصال ناقل عصبی به گیرنده های خود در سطح تار ماهیچه ای، یک موج تحریکی در طول غشای تار ایجاد می شود.
- ۲) با اتصال پروتئین های میوزین به اکتین و تغییر شکل آن، خطوط Z هر سارکومر به هم نزدیک می شوند.
- ۳) کوتاه شدن طول سارکومرها به دنبال کوتاه شدن طول پروتئین های میوزین و اکتین و صورت می گیرد.
- ۴) با تحریک یاخته ماهیچه ای، سرهای پروتئین های میوزین به رشته های اکتین متصل می شوند.

۱۰) در عضله اسکلتی فردی سالم، تارهای ماهیچه ای

- ۱) تند، دارای تعداد بیشتری راکیزه در ساختار خود می باشند.
- ۲) کند، دارای چندین هسته در درون خود می باشد.
- ۳) تند، مقدار بیشتری اکسیژن ذخیره در نوعی مولکول پروتئینی دارند.
- ۴) کند، در پی تنفس یاخته ای، میزان بیشتری لاکتیک اسید تولید می کنند.

۱۱) در یک یاخته ماهیچه تلپای بدن انسان، بلافاصله سر میوزین، می توان گفت می شود.

- ۱) پس از اتصال ATP به - سرهای میوزین به پروتئین های اکتین، متصل
- ۲) پس از جدا شدن ADP - فاصله بین خطوط Z سارکومرها آن، کم
- ۳) قبل از اتصال اکتین به - در یک تارچه فاصله رشته های ضخیم سارکومرها مجاور از یکدیگر، کم تر
- ۴) قبل از اتصال و تجزیه ATP - یون های کلسیم بدون مصرف انرژی ATP به شبکه آندوپلاسمی بازگردانده

۱۲) درباره انقباض ارادی هر ماهیچه ای با یاخته های چند هسته ای می توان گفت (با تغییر)

- ۱) تارهای دارای راکیزه زیاد، انرژی خود را فقط از روش هوازی و با سوختن گلوکز به دست می آورند.
- ۲) هر تار دارای میوگلوبین کمتر، همواره با تولید مقادیر زیاد لاکتیک اسید سبب تحریک گیرنده های درد می شود.
- ۳) هر دو نوع تار سفید و قرمز در این فعالیت نقش دارند.
- ۴) به دنبال انقباض های طولانی مدت و شدید، در فعالیت پروتئین های یاخته های ماهیچه ای اختلال ایجاد می شود.

۱۳) در سارکومر ماهیچه سُرینی، هر رشته پروتئینی

- ۱) که به مولکول ATP متصل می شود، در پی انقباض ماهیچه، به خط Z اتصال می یابد.
- ۲) متصل به خط Z ، می تواند تحت شرایطی در تماس مستقیم با ناقل عصبی قرار گیرد.
- ۳) موجود در بخش روشن، با کوتاه تر شدن، منجر به انقباض ماهیچه می گردد.
- ۴) موجود در بخش تیره، می تواند در طی انقباض، در تماس با یون کلسیم باشد.

۱۴) کدام گزینه عبارت زیر را به نادرستی کامل می کند؟

«در جانوران دارای اسکلت قطعاً»

- ۱) بیرونی - چشم از تعداد زیادی واحد بینایی تشکیل شده است.
- ۲) درونی - بخش جلویی طناب عصبی برجسته شده است.
- ۳) آب ایستایی - برای حرکت در یک سو، جانور باید نیرویی در خلاف آن وارد کند.
- ۴) داخلی از جنس غضروف - طناب عصبی پشتی وجود دارد.

در ۱۵

① حرکت عروس دریایی، اسکلت جانور فاقد نقش است.

③ حلزون‌ها، اسکلت تنها در حفاظت از جانور نقش دارد.

② جانوران، اساس حرکت مشابه است.

④ حرکت همه مهره‌داران، اسکلت استخوانی قطعاً دارای نقش است.



مرکز مشاوره تحصیلی

علیرضا افشار

پاسخنامه تشریحی

رشته‌های میوزین ثابت است، اما شکل میوزین می‌تواند تغییر کند. **۱ ۲ ۳ ۴ ۱** رشته‌های میوزین به ATP متصل می‌شوند. سررشته‌های میوزین با اتصال به ATP و تبدیل شدن آن به ADP ، دچار تغییر شکل می‌شود. دقت کنید که طول

بررسی سایر گزینه‌ها:

گزینه ۱: رشته‌های میوزین تماماً در بخش تیره سارکومر قرار دارند.

گزینه ۳: دقت کنید طول رشته‌های اکتین و میوزین در طی انقباض تغییر نمی‌کند.

گزینه ۴: در جریان انقباض ماهیچه، فاصله تارچه‌ها با هم ثابت است و تغییر نمی‌کند.

۲ ۱ ۲ ۳ ۴ ۲ بررسی موارد:

مورد الف) انرژی لازم برای انقباض هیچ ماهیچه‌ای فقط از اسیدچرب تأمین نمی‌شود. (نادرست)

مورد ب و پ) این جمله در مورد همه ماهیچه‌های اسکلتی درست است، نه بسیاری از آن‌ها. (نادرست)

مورد ت) بسیاری از ماهیچه‌ها به صورت جفت باعث حرکت اندام‌ها می‌شوند. (درست)

۳ ۱ ۲ ۳ ۴ ۳ در همه مهره‌داران طناب عصبی پشتی وجود دارد. پس می‌توان گفت در جانوران دارای اسکلت درونی (مهره‌داران) اسکلت از طناب عصبی پشتی محافظت می‌کند.

بررسی سایر گزینه‌ها:

گزینه ۲) اسکلت درونی در ماهیان غضروفی مثل کوسه‌ماهی فاقد استخوان است.

گزینه ۳) ساختار اسکلت در جانوران متفاوت است.

گزینه ۴) اسکلت بیرونی در حشرات و سخت‌پوستان یافت می‌شود که دارای سامانه گردش مواد باز هستند و مویزگ ندارند.

۴ ۱ ۲ ۳ ۴ ۴ تارهای ماهیچه‌ای تند بیشتر انرژی خود را از طریق تنفس بی‌هوازی به دست می‌آورند.

بررسی سایر گزینه‌ها:

گزینه ۱) تارهای ماهیچه‌ای نوع کند، حاوی میوگلوبین هستند، نه پروتئین‌های شبیه میوگلوبین.

گزینه ۲) تارهای ماهیچه‌ای نوع تند بیشتر تنفس بی‌هوازی دارند.

گزینه ۳) تارهای ماهیچه‌ای نوع کند، به علت وجود مقادیر فراوان رنگ‌دانه قرمز رنگ میوگلوبین به رنگ قرمز دیده می‌شوند.

۵ ۱ ۲ ۳ ۴ ۵ شکل صورت سؤال، زمان انقباض عضله را نشان می‌دهد.

بررسی موارد:

مورد الف) ممکن است عضله از اسیدهای چرب یا کراتین فسفات استفاده کند. یعنی الزاماً انرژی لازم برای هر انقباضی در پی تجزیه گلوکز نمی‌باشد.

مورد ب) دقت کنید یون‌های کلسیم در تماس با تارچه‌ها قرار می‌گیرند نه تارها!

مورد ج) ممکن است در پی تنفس بی‌هوازی، لاکتیک‌اسید تولید شود و گیرنده‌های درد نیز پیام عصبی ارسال کنند.

مورد د) دقت کنید ممکن است ATP برای سایر فعالیت‌های یاخته به غیر از انقباض استفاده شود.

۶ ۱ ۲ ۳ ۴ ۶ رشته‌های پروتئینی ضخیم، میوزین و رشته‌های پروتئینی نازک، اکتین نام دارند. رشته‌های پروتئینی ضخیم در هنگام انقباض ماهیچه که طول سارکومر کوتاه می‌شود، در مجاورت خط Z قرار می‌گیرند.

بررسی سایر گزینه‌ها:

گزینه ۱: رشته‌های نازک و ضخیم چه در هنگام استراحت و چه در هنگام انقباض ماهیچه طول ثابتی دارند و طول آن‌ها دچار تغییری نمی‌شود.

گزینه ۳: رشته‌های پروتئینی میوزین در هنگام انقباض، بیشترین مجاورت را با پروتئین‌های اکتین خواهند داشت.

گزینه ۴: رشته‌های اکتین دو سمت یک سارکومر در هنگام انقباض کمترین فاصله را از یکدیگر خواهند داشت.

۷ ۱ ۲ ۳ ۴ ۷ یاخته‌های ماهیچه‌ای به دو دسته کند و تند تقسیم می‌شوند. تارهای تند سریع منقبض می‌شوند و بیشتر انرژی خود را به روش بی‌هوازی به دست می‌آورند.

بررسی سایر گزینه‌ها:

گزینه‌های ۱ و ۳) هر دو نوع تارهای تند و کند، دارای تعدادی راکبزه هستند و می‌توانند در حضور اکسیژن، گلوکز را به صورت کامل تجزیه کنند.

گزینه ۲) تارهای کند در حرکات استقامتی نقش اساسی دارند. این تارها مقدار زیادی رنگ‌دانه قرمز به نام میوگلوبین دارند که می‌توانند اکسیژن را ذخیره کنند.

۸ ۱ ۲ ۳ ۴ ۸ همه مهره‌داران در ساختار اسکلت درونی خود دارای غضروف هستند. در مهره‌داران طناب عصبی پشتی دیده می‌شود که درون سوراخ مهره‌ها جای گرفته است. بررسی سایر گزینه‌ها:

گزینه ۲: در ماهی‌های غضروفی (مثل کوسه‌ها و سفره‌ماهی‌ها) استخوان وجود ندارد.

گزینه ۳: تنها در ماهیان غضروفی غدد راست روده‌ای محلول نمک (سدیم کلرید) بسیار غلیظ را به روده ترشح می‌کنند.

گزینه ۴: خط جانبی کانالی در زیر پوست ماهی‌هاست که حاوی یاخته‌های مژک‌دار است (نه همه مهره‌داران).

۹ ۱ ۲ ۳ ۴ ۹ دقت کنید در بدن انسان در طی انقباض عضلات اسکلتی، به دنبال، در هم فرو رفتن رشته‌های پروتئینی (اکتینی و میوزینی) و تغییر موقعیت آن‌ها نسبت به هم، صورت می‌گیرد. در واقع طول اکتین و میوزین ثابت می‌باشد.

بررسی سایر گزینه‌ها:

گزینه ۱) با رسیدن پیام عصبی از مراکز عصبی، تحریک از طریق همبانه ویژه‌ای از یاخته عصبی به یاخته ماهیچه‌ای می‌رسد و ناقل عصبی از پایانه یاخته عصبی آزاد می‌شود. با اتصال این ناقلین

به گیرنده های خود در سطح یاخته ماهیچه ای، یک موج تحریکی در طول غشای یاخته ایجاد می شود.

گزینه ۲) با اتصال پروتئین های میوزین به اکتین و تغییر شکل آن، خطوط Z سارکومر به هم نزدیک می شوند.

گزینه ۴) با تحریک یاخته ماهیچه ای، سرهای پروتئین های میوزین به رشته های اکتین متصل می شوند و پل های اتصال میوزین و اکتین تشکیل می شود.

۱۰) ۱ ۲ ۳ ۴ ۱. تارهای تند، راکیزه کمتری در ساختار خود دارند.

۲. همه تارهای ماهیچه ای تند و کند، دارای چندین هسته در ساختار خود هستند.

۳. تارهای تند مقدار کمتری میوگلوبین برای ذخیره اکسیژن دارند.

۴. تارهای کند، بیش تر تنفس هوازی دارند و در نتیجه مقدار کم تری لاکتیک اسید تولید می کنند.

۱۱) ۱ ۲ ۳ ۴ ۱- پس از اتصال ATP به سر میوزین، سرهای میوزین از اکتین جدا می شوند.

۲- پس از جدا شدن ADP سرهای میوزین به سمت وسط سارکومر خم شده و اکتین ها را با خود به وسط سارکومر می کشد. به این ترتیب فاصله خطوط Z کم می شود.

۳- کم شدن فاصله رشته های ضخیم سارکومر های مجاور از یکدیگر هنگام انقباض ماهیچه رخ می دهد. بلافاصله قبل از اتصال اکتین به سر میوزین، انقباضی صورت نگرفته است.

۴- یون های کلسیم با مصرف ATP و خلاف شیب غلظت به شبکه آندوپلاسمی وارد می شوند. از طرفی بلافاصله قبل از اتصال و تجزیه ATP یون های کلسیم از شبکه آندوپلاسمی بدون مصرف ATP خارج شده اند.

۱۲) ۱ ۲ ۳ ۴ ۱. تارهای کند دارای راکیزه زیاد هستند. این تارها بیش تر انرژی خود را با روش هوازی و با سوختن گلوکز به دست می آورند.

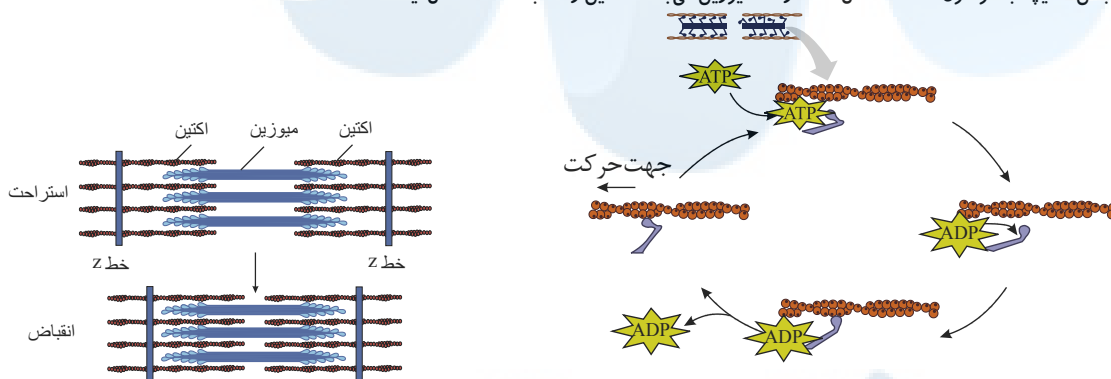
۲. تارهای تند دارای میوگلوبین کمی هستند. این تارها، بیش تر انرژی خود را از طریق بی هوازی به دست می آورند. بنابراین تارهای تندی هم وجود دارند که انرژی خود را به طریق هوازی به دست می آورند. لاکتیک اسید تولید شده در تارهای تند بی هوازی زیاد و سبب درد ماهیچه می شود.

۳. بسیاری از ماهیچه ها هر دو نوع تار کند و تند را دارند. پس در هر ماهیچه ای هر دو نوع تار وجود ندارد که در فعالیت ارادی نقش داشته باشد. البته هر دو نوع تارهای تند (سفید) و کند (قرمز) در فعالیت ارادی نقش دارند.

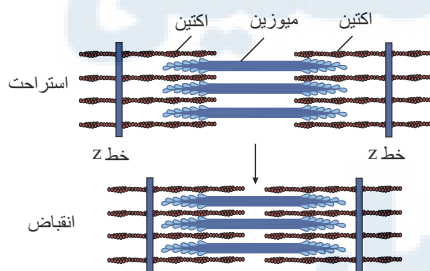
۴. به دنبال انقباض های طولانی مدت و شدید، لاکتیک اسید تولید می شود و در نتیجه pH کاهش می یابد. کاهش pH سبب اختلال در فعالیت پروتئین های یاخته های ماهیچه ای می شود.

۱۳) ۱ ۲ ۳ ۴ ماهیچه سربینی نوعی ماهیچه اسکلتی است.

گزینه ۱): رشته پروتئینی که هنگام انقباض ماهیچه به مولکول ATP متصل است، رشته میوزین می باشد که این رشته به خط Z متصل نیست.



گزینه ۲): رشته پروتئینی متصل به خط Z ، اکتین است. اکتین به ناقل عصبی متصل نمی شود. زیرا این رشته ها در سیتوپلاسم قرار دارند اما گیرنده ناقل عصبی در سطح یاخته ماهیچه ای قرار دارد و ناقل وارد یاخته ماهیچه ای نمی شود.



گزینه ۳): رشته های اکتین و میوزین هیچ کدام کوتاه نمی شوند بلکه در مجاورت هم می لغزند و بدین ترتیب طول ماهیچه کوتاه می شود.

گزینه ۴): در بخش تیره سارکومر رشته های اکتین و میوزین هر دو وجود دارند. در طی انقباض یون های کلسیم آزاد می شوند و وارد سارکومر می شوند و در نتیجه، می توانند در تماس با رشته های پروتئینی درون سارکومر قرار گیرند.

۱۴) ۱ ۲ ۳ ۴ ۱) عده ای از بی مهرگان مثل حشرات و حلزون ها دارای اسکلت بیرونی هستند. حشرات دسته ای از بی مهرگان هستند که چشم مرکب دارند ولی نمی توان گفت که همه بی مهرگان دارای اسکلت بیرونی چشم مرکب دارند.

گزینه ۲): اسکلت درونی مخصوص مهره داران است و در مهره داران بخش جلویی طناب عصبی برجسته شده و مغز را تشکیل داده است.

گزینه ۳): همه جانوران دارای اساس حرکتی مشابه هستند. یعنی برای حرکت در یک سو، جانور باید نیرویی در خلاف آن وارد کند.

گزینه ۴): در همه مهره داران طناب عصبی پشتی وجود دارد. در انواعی از ماهی ها، مانند کوسه ماهی، جنس اسکلت درونی غضروف است و ماهی ها جزو مهره داران به حساب می آیند.

۱۵) ۱ ۲ ۳ ۴ ۱) گزینه ۱): برای انجام حرکت، جانوران نیازمند ساختار اسکلتی و ماهیچه ای هستند؛ بنابراین، در حرکت عروس دریایی اسکلت آب ایستایی نقش دارد.

گزینه ۲): اساس حرکت در جانوران مشابه است. به این معنا که برای حرکت در یک سو جانور باید نیرویی در خلاف آن وارد کند.

گزینه (۳): حلزون یک جانور بی‌مهره و دارای اسکلت بیرونی است؛ حشرات و حلزون‌ها نمونه‌هایی از جانوران دارای اسکلت بیرونی هستند در این جانوران اسکلت علاوه بر کمک به حرکت وظیفه حفاظتی هم دارد.

گزینه (۴): جنس اسکلت در انواعی از ماهی‌ها مانند کوسه‌ماهی از نوع غضروفی است. ماهی‌ها مهره‌دار هستند. پس نمی‌توان گفت در حرکت همه مهره‌داران اسکلت استخوانی نقش دارند.



مرکز مشاوره تحصیلی
علیرضا افشار



مبحث: گفتار ۲ فصل ۳ زیست یازدهم

سری: شماره ۲

زمان: ۱۵ دقیقه

۱ کدام گزینه عبارت زیر را به درستی تکمیل می کند؟

«تارهای ماهیچه‌ای تُند تارهای ماهیچه‌ای گُند،»

- ۱ برخلاف - فاقد میتوکندری هستند و انرژی خود را صرفاً از طریق تنفس بی‌هوازی به دست می‌آورند.
- ۲ برخلاف - فاقد میوگلوبین هستند و انرژی خود را سریع از دست می‌دهند و خسته می‌شوند.
- ۳ همانند - برای انجام حرکاتی مانند شناکردن، دوی سرعت و بلندکردن وزنه هستند.
- ۴ همانند - به کمک رشته‌های پروتئینی اکتین و میوزین، ظاهر مخطط پیدا کرده‌اند.

۲ در مورد ماهیچه‌ی دلتایی بدن انسان، کدام گزینه نادرست است؟

- ۱ در انتهای هر سارکومر آن خطی به نام خط Z دیده می‌شود.
- ۲ در طی نزدیک شدن دو خط Z هر سارکومر آن طول رشته‌های اکتین و میوزین تغییر نمی‌کند.
- ۳ هسته‌های متعدد درون تارچه ناشی از به هم پیوستن چندین یاخته‌ی ماهیچه‌ای در دوره‌ی جنینی است.
- ۴ در پی موج تحریری در طول غشای یاخته‌ی ماهیچه‌ای، سرهای پروتئین‌های میوزین به رشته‌های اکتین متصل می‌شوند.

۳ در طی انقباض با تغییر طول یک ماهیچه‌ی اسکلتی در بدن انسان سالم و بالغ، برخلاف می‌یابد.

- ۱ فاصله‌ی دو خط Z موجود در یک سارکومر - طول بخش روشن سارکومرها، کاهش
- ۲ فاصله‌ی بین رشته‌های اکتین مقابل هم در یک سارکومر - غلظت یون‌های کلسیم در سیتوپلاسم، کاهش
- ۳ طول رشته‌های پروتئینی ضمیم در یک سارکومر - میزان مصرف انرژی زیستی ATP، افزایش
- ۴ آزاد شدن مولکول‌های ناقل عصبی از سلول ماهیچه‌ای اسکلتی - طول سارکومرهای تارهای ماهیچه‌ای، افزایش

۴ کدام عبارت، در ارتباط با مراحل انقباض در یک یاخته‌ی ماهیچه‌ی ذوزنقه‌ای بدن انسان نادرست است؟

- ۱ به دنبال سست شدن اتصال سر میوزین به اکتین، ATP به ADP تجزیه می‌گردد.
- ۲ با چسبیدن یک مولکول ATP به سر میوزین، اتصال سر میوزین با رشته‌ی اکتین سست می‌شود.
- ۳ به دنبال اتصال یک گروه فسفات به مولکول ADP موجود در سر میوزین، طول ماهیچه کوتاه می‌شود.
- ۴ در زمانی که سر میوزین، رشته‌ی اکتین را به همراه خود به حرکت در می‌آورد، مولکول ADP رها گردیده است.

۵ کدام گزینه، عبارت زیر را به طور صحیح تکمیل می کند؟

«هم‌زمان با فاصله‌ی خطوط Z در یک سارکومر هر ماهیچه‌ی اسکلتی، قطعاً می‌شود.»

- ۱ افزایش - سرهای میوزین به پروتئین‌های اکتین، متصل
- ۲ کاهش - استخوان متصل به ماهیچه، به مقدار زیادی، جابه‌جا
- ۳ کاهش - یون‌های کلسیم با مصرف ATP به شبکه‌ی آندوپلاسمی بازگردانده
- ۴ افزایش - فاصله‌ی سرهای میوزین‌های سارکومرهای مجاور از یکدیگر، بیشتر

۶ در یک فرد سالم و بالغ، در هنگام فعالیت ماهیچه توأم، بلافاصله پس از صورت می‌گیرد.

- ۱ تولید مولکول فسفات - اتصال سر اکتین به میوزین
- ۲ کوتاه شدن طول نوار تیره - جداسازی ADP از میوزین
- ۳ جداسازی سر میوزین از اکتین - اتصال ATP به سر میوزین
- ۴ نزدیک شدن خطوط Z به هم - ایجاد موج تحریری در غشا



۷ هم زمان با فاصله دو خط Z متوالی در یک سارکومر ماهیچه ذوزنقه‌ای یک شناگر حرفه‌ای، می توان گفت

- ۱ افزایش - یون های کلسیم با مصرف انرژی زیستی از شبکه آندوپلاسمی خارج می شوند.
- ۲ کاهش - بیشتر انرژی لازم برای انقباض تارهای ماهیچه‌ای به کمک بازتولید ATP توسط کراتین فسفات رخ می دهد.
- ۳ افزایش - طول رشته های اکتین همانند طول محدوده بخش روشن بیشتر می شود.
- ۴ کاهش - جدا شدن پل های اتصال میوزین و اکتین از یکدیگر مشاهده می شود.

۸ در افراد ، تارهای ماهیچه‌ای بیشتر از نوعی هستند که

- ۱ ورزشکار استقامتی - حاوی پروتئین های شبیه میوگلوبین هستند که توانایی ذخیره اکسیژن دارد.
- ۲ کم تحرک - عمده انرژی مورد نیاز خود را در داخل اندام های دو غشایی به دست می آورند.
- ۳ ورزشکار استقامتی - به علت وجود میتوکندری های فراوان در سیتوپلاسم، به رنگ قرمز دیده می شوند.
- ۴ کم تحرک - تجزیه گلوکز، بیشتر به صورت ناقص و در سیتوپلاسم سلول صورت می گیرد.

۹ در یک ماهیچه اسکلتی دارای هر دو نوع تار تند و کند در بدن انسان سالم و بالغ، یاخته های ماهیچه ای تند ، یاخته های ماهیچه های کند

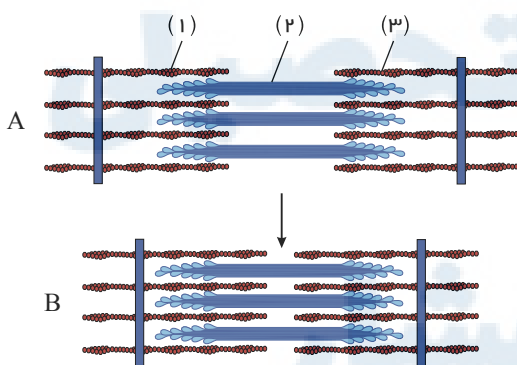
- ۱ برخلاف - دارای تعداد فراوانی واحد تکراری به نام سارکومر در تارچه های خود می باشند.
- ۲ همانند - دارای پروتئین هایی با بیش از یک زنجیره پروتئینی در ساختار خود می باشند.
- ۳ برخلاف - دارای تعداد میتوکندری های زیادی در درون خود هستند.
- ۴ همانند - دارای مقدار زیادی رنگدانه قرمز میوگلوبین در ساختار خود می باشند.

۱۰ کدام مورد عبارت مقابل را به درستی کامل می کند؟

«در طی مدتی که ماهیچه دیافراگم به حالت مسطح در می آید، در ساختار این ماهیچه

- ۱ رشته های میوزین به خطوط Z متصل می شوند.
- ۲ فاصله خطوط Z از یکدیگر افزایش می یابد.
- ۳ یون های کلسیم با مصرف انرژی به شبکه آندوپلاسمی باز می گردند.
- ۴ طول سارکومر برخلاف بخش تیره، کاهش می یابد.

۱۱ با توجه به شکل مقابل که در ارتباط با وضعیت ماهیچه اسکلتی است، کدام گزینه به درستی بیان شده است؟



- ۱ هنگامی که حالت A ایجاد می شود، قطعاً بخش های شماره ۱ و ۲ در تماس با یکدیگر هستند.
- ۲ در حالت B برخلاف حالت A ، طول بخش های شماره ۱ و ۲ کوتاه می شود.
- ۳ هنگامی که یون های کلسیم در خلاف جهت شیب غلظت خود از شبکه آندوپلاسمی خارج می شوند، حالت B ایجاد می شود.
- ۴ بخش تیره در حالت A همانند B ، طول ثابتی دارد.

۱۲ باتوجه به فعالیت یک یاخته ماهیچه‌ای دو سر بازوی انسان، به دنبال ورود کلسیم به شبکه آندوپلاسمی آن، طول می شود. (با تغییر)

- ۱ سارکومر برخلاف بخش تیره، کوتاه
- ۲ بخش روشن همانند سارکومر، کوتاه
- ۳ سارکومر همانند بخش روشن، بلند
- ۴ رشته های اکتین همانند سارکومر، بلند

۱۳) درباره ماهیچه‌های اسکلتی یک فرد بالغ، کدام گزینه عبارت زیر را به نادرستی تکمیل می‌کند؟ (با تغییر)

«در هر تارچه هر تار ماهیچه‌ای، ممکن نیست.»

- ۱) برخلاف - وجود اندامک‌هایی برای تنفس یاخته‌ای
- ۲) همانند - مشاهده رشته‌های پروتئینی میوزین و اکتین در ساختار آن
- ۳) برخلاف - اتصال ناقل‌های عصبی به گیرنده‌های ویژه خود
- ۴) همانند - ساخت و ترشح رشته‌های پروتئینی ماده زمینه‌ای بافت پیوندی

۱۴) در هنگام انقباض سارکومرها حالت استراحت آن‌ها

- ۱) همانند - طول رشته‌های نازک و ضخیم ثابت می‌ماند.
- ۲) همانند - طول بخش‌های روشن و تیره ثابت می‌ماند.
- ۳) برخلاف - طول بخش‌های روشن و تیره کاهش می‌یابد.
- ۴) برخلاف - طول رشته‌های نازک و ضخیم کاهش می‌یابد.

۱۵) کدام گزینه می‌تواند جمله زیر را به درستی تکمیل کند؟ (با تغییر)

برای ساخته شدن ماهیچه‌های دو سر بازوی انسان،

الف) به حضور بیش از یک نوع بافت اصلی نیاز می‌باشد.

ب) مجموعه‌ای از تارها در یک غشا پلاسمایی قرار می‌گیرند.

ج) فقط به حضور تارهای ماهیچه‌ای تند نیاز می‌باشد.

د) شبکه آندوپلاسمی اطراف هر تارچه را احاطه می‌کند.

- ۱) الف - ب
- ۲) الف - د
- ۳) ج - ب
- ۴) ج - د

مرکز مشاوره تحصیلی
علیرضا افشار

پاسخنامه تشریحی

۱ بررسی گزینه‌ها:

گزینه ۱) تارهای ماهیچه‌ای تند، تعداد میتوکندری کمتری دارند، نه اینکه فاقد میتوکندری باشد. این تارها بیشتر انرژی خود را از راه تنفس بی‌هوازی به دست می‌آورند نه صرفاً تنفس بی‌هوازی داشته باشند. (نادرست)

گزینه ۲) تارهای ماهیچه‌ای تند مقدار میوگلوبین کمتری دارند، نه اینکه فاقد میوگلوبین باشد. (نادرست)

گزینه ۳) شنا کردن نوعی حرکت استقامتی است که توسط تارهای کند انجام می‌شود. برای دوی سرعت و بلند کردن وزنه، انقباضات سریع لازم است که تارهای تند مسئول انجام آنها هستند.

گزینه ۴) تارهای ماهیچه‌ای تند و کند هر دو دارای رشته‌های اکتین و میوزین هستند و نحوه قرارگیری این رشته‌ها علت تیره و روشن شدن این تارهای ماهیچه‌ای است. (درست)

۲) در بدن انسان سالم و بالغ، هر یاخته ماهیچه‌های اسکلتی از به هم پیوستن چند یاخته ماهیچه‌ای در دوره جنینی ایجاد می‌شود و به همین علت چند هسته دارد. درون هر یاخته، تعداد زیادی رشته به نام تارچه ماهیچه‌ای وجود دارد که موازی هم در طول یاخته قرار گرفته‌اند. در ساختار تارچه هسته مشاهده نمی‌شود. با انقباض ماهیچه‌های اسکلتی طول رشته‌های اکتین و میوزین تغییر نمی‌کند.

۳) در فرآیند انقباض ماهیچه اسکلتی، فاصله بین رشته‌های اکتین مقابل هم در ساختار یک سارکومر، کاهش و با آزاد شدن یون‌های کلسیم از شبکه آندوپلاسمی، غلظت یون‌های کلسیم در سیتوپلاسم افزایش می‌یابد.

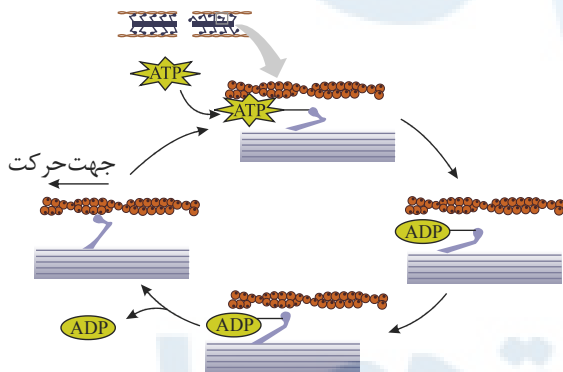
بررسی سایر گزینه‌ها:

گزینه ۱) در هنگام انقباض ماهیچه اسکلتی با تغییر طول ماهیچه، طول بخش روشن سارکومرها کاهش می‌یابد.

گزینه ۲) طول رشته‌های پروتئینی اکتین و میوزین ثابت است و در طی انقباض عضله تغییر نمی‌کند.

گزینه ۴) آزاد شدن مولکول‌های ناقل عصبی، از سلول عصبی صورت می‌گیرد نه از سلول ماهیچه‌ای.

۴) با توجه به شکل زیر می‌توان مشاهده کرد که ATP به سر میوزین متصل و سبب جدا شدن آن از اکتین می‌شود و پس از ATP یک گروه فسفات جدا و ADP ایجاد می‌شود و با ایجاد ADP ، سر میوزین به اکتین متصل و ADP از سر میوزین جدا و انقباض (کوتاه شدن طول ماهیچه) انجام می‌شود.



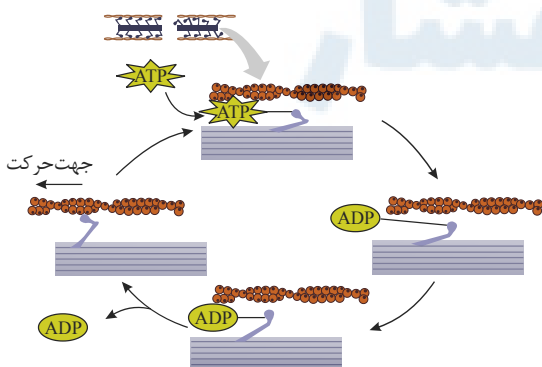
۵) در حالت استراحت (پس از انقباض) سارکومرها در یک تارچه، سرهای میوزین موجود در انتهای میوزین، از سرهای میوزین سارکومر مجاور دور می‌شوند. بررسی سایر گزینه‌ها:

گزینه ۱) افزایش فاصله خطوط Z در یک سارکومر، به معنای استراحت آن است. در مرحله انقباض ماهیچه، سرهای پروتئینی‌های میوزین به رشته‌های اکتین متصل می‌شوند.

گزینه ۲) کاهش فاصله خطوط Z در یک سارکومر، به معنای انقباض آن است؛ اما همه ماهیچه‌های اسکلتی به استخوان متصل نیستند.

گزینه ۳) با استراحت ماهیچه اسکلتی (نه هنگام انقباض)، یون‌های کلسیم به کمک انتقال فعال و با مصرف ATP وارد شبکه آندوپلاسمی می‌شوند.

۱ ۲ ۳ ۴ ۶



باتوجه به شکل زیر، اتصال ATP به سر میوزین، باعث جدایی سر از رشته‌های اکتین می‌گردد.

بررسی سایر گزینه‌ها:

گزینه ۱: دقت کنید که سر میوزین به اکتین متصل می‌شود. (نه سر اکتین به میوزین)

گزینه ۲: هنگام انقباض ماهیچه، رشته‌های اکتین و میوزین کوتاه نمی‌شوند. باتوجه به این که طول نوار تیره به اندازه پروتئین‌های میوزین بستگی دارد، طول نوار تیره نیز تغییر نمی‌کند.

گزینه ۴: با انتشار موج تحریکی پس از طی فرآیندهایی سرهای پروتئین‌های میوزین به رشته‌های اکتین متصل شده و سپس با تغییر شکل آن، خطوط Z به هم نزدیک می‌شوند.

گزینه ۷: کاهش فاصله خطوط Z در یک سارکومر به معنای انقباض است. طی انقباض، لغزیدن رشته‌های میوزین و اکتین در مجاورت هم رخ می‌دهد. برای این کار، باید پل‌های اتصال میوزین و اکتین دائماً تشکیل و سپس با حرکتی مانند پارو زدن، به یک سمت کشیده شود. سپس سرهای متصل جدا و به بخش جلوتر وصل می‌شوند. این لیز خوردن، اتصال و جدا شدن سرهای میوزین صدها مرتبه در ثانیه تکرار می‌شود.

بررسی سایر گزینه‌ها:

گزینه ۱) افزایش فاصله خطوط Z در یک سارکومر به معنای عدم انقباض است. در این حالت یون‌های کلسیم طی انتقال فعال به شبکه آندوپلاسمی بازگردانده می‌شوند.

گزینه ۲) بیشتر انرژی لازم برای انقباض ماهیچه‌ها از سوختن گلوکز بدست می‌آید.

گزینه ۳) توجه کنید طول رشته‌های اکتین و میوزین در طی انقباض تغییری نمی‌کند.

گزینه ۸: تارهای ماهیچه‌ای تند بیش تر انرژی خود را از طریق تنفس بی‌هوازی به دست می‌آورند.

بررسی سایر گزینه‌ها:

گزینه ۱: تارهای ماهیچه‌ای نوع کند، حاوی میوگلوبین هستند، نه پروتئین‌های شبیه میوگلوبین.

گزینه ۲: تارهای ماهیچه‌ای نوع تند بیش تر تنفس بی‌هوازی دارند.

گزینه ۳: تارهای ماهیچه‌ای نوع کند، به علت وجود مقادیر فراوان رنگ‌دانه قرمز رنگ میوگلوبین به رنگ قرمز دیده می‌شوند.

گزینه ۹: هم تارهای ماهیچه‌ای کند و هم تارهای ماهیچه‌ای تند در ساختار خود پروتئین میوزین را دارند که از دو زنجیره پروتئینی ساخته شده است.

بررسی سایر گزینه‌ها:

گزینه ۱) تارچه‌ها از واحد‌های تکراری به نام سارکومر تشکیل شده اند که به تار ماهیچه ای ظاهر مخطط می دهند. تارهای ماهیچه ای بر اساس سرعت انقباض به تار کند و تند تقسیم بندی می شوند. بنابراین هر دو نوع تار ساختارهای تکرار شونده سارکومر را دارند.

گزینه ۳) تارهای ماهیچه‌ای تند بر خلاف تارهای ماهیچه‌ای کند، میتوکندری کمتری دارند و انرژی خود را بیشتر از راه تنفس بی‌هوازی به دست می‌آورند.

گزینه ۴) تارهای ماهیچه‌ای تند برخلاف تارهای ماهیچه‌ای کند، رنگدانه قرمز میوگلوبین کمتری دارند.

گزینه ۱۰: ۱. رشته‌های میوزین در حالت استراحت و انقباض به خطوط Z متصل نیستند. دیافراگم در حالت مسطح در حال انقباض است.

۲. در حالت انقباض خطوط Z به یک دیگر نزدیک می‌شوند.

۳. یون‌های کلسیم در حالت استراحت به شبکه آندوپلاسمی باز می‌گردند.

۴. در حالت انقباض، طول سارکومر کوتاه می‌شود اما بخش تیره تغییری نمی‌کند.

گزینه ۱۱: بخش ۱ و ۲ و ۳ به ترتیب نشان دهنده رشته نازک، ضخیم و نازک است. حالت A وضعیت استراحت و حالت B وضعیت انقباض را نشان می‌دهد.

۱. حالت A وضعیت استراحت ماهیچه را نشان می‌دهد. در این حالت، اکتین و میوزین با یکدیگر در تماس نیستند

۲. رشته‌های اکتین و میوزین در حالت استراحت و انقباض تغییری نمی‌کنند.

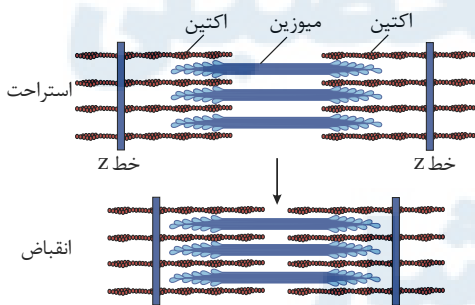
۳. یون‌های کلسیم موافق شیب غلظت خود از شبکه ی آندوپلاسمی خارج می‌شوند. یون‌های کلسیم به محل‌های واکنش اکتین متصل و سبب اتصال سرهای میوزین با اکتین می‌شوند و این عمل روند انقباض ماهیچه را سبب می‌شود. در نتیجه شکل B ایجاد می‌شود.

۴. هنگام انقباض ماهیچه و استراحت، بخش تیره تغییری نمی‌کند.

گزینه ۱۲: ۱ ۲ ۳ ۴

صورت سوال در رابطه با زمان توقف انقباض و یا استراحت ماهیچه است. در این زمان سارکومر و بخش روشن نسبت به حالت

انقباض، بلند می‌شود ولی بخش تیره تغییر نمی‌کند. هم چنین طول رشته‌های اکتین و میوزین تغییری نمی‌کند.



گزینه ۱۳: ۱) تار ماهیچه‌ای، یک سلول است و سلول ماهیچه‌ای دارای اندامک میتوکندری است که میتوکندری دارای دنا است. اما تارچه، ساختارهای پروتئینی درون سلول هستند.

گزینه ۲) تارچه‌ها، از واحدهای تکراری به نام سارکومر تشکیل شده‌اند. درون هر سارکومر پروتئین‌های میوزین و اکتین قرار دارند. هم‌چنین مجموعه‌ای از تارچه‌ها و سایر اندامک‌های یاخته‌ای، یک تار ماهیچه‌ای را تشکیل می‌دهند. پس در تار همانند تارچه، رشته‌های پروتئینی اکتین و میوزین مشاهده می‌شود.

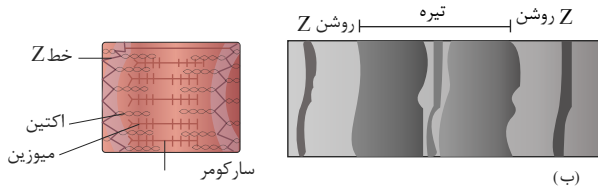
گزینه ۳) با اتصال ناقل عصبی به گیرنده‌های خود در سطح یاخته ماهیچه‌ای (تار ماهیچه‌ای) یک موج تحریکی در طول غشاء یاخته ایجاد می‌شود. در صورتی که تارچه درون تار ماهیچه‌ای قرار دارد و ناقل عصبی وارد یاخته نمی‌شود.

گزینه ۴) ساخت و ترشح رشته‌های پروتئینی ماده زمینه‌ای بافت پیوندی بر عهده یاخته‌های پیوندی است. بلکه در گزینه ۴ بیان شده است که تار ماهیچه‌ای و تارچه‌های درون آن ترشح این رشته‌ها را به عهده دارد.

گزینه ۱۴: ۱) در هنگام انقباض سارکومر، طول رشته نازک (اکتین) و رشته ضخیم (میوزین) ثابت می‌ماند.

گزینه ۲) و ۳) در هنگام انقباض سارکومر، طول نوار تیره، ثابت می‌ماند اما طول نوار روشن کاهش می‌یابد.

گزینه (۴): در هنگام انقباض سارکومر، طول رشته نازک (اکتین) و رشته ضخیم (میوزین) ثابت می‌ماند.



برای ساخته شدن ماهیچه دوسر بازوی انسان، به حضور بیش از یک نوع بافت اصلی نیاز می‌باشد برای مثال علاوه بر بافت ماهیچه‌ای در اطراف هر دسته تار و در اطراف کل یک ماهیچه، بافت پیوندی رشته‌ای دیده می‌شود. در ماهیچه دوسر بازو، شبکه آندوپلاسمی اطراف هر تارچه را احاطه می‌کند. هر تار ماهیچه‌ای یک غشاء پلاسمایی دارد. بسیاری از ماهیچه‌ها از جمله ماهیچه دوسر بازو، هم تار کند و هم تار تند دارند.

مرکز مشاوره تحصیلی علیرضا افشار



مبحث: گفتار ۲ فصل ۳ زیست یازدهم

سری: شماره ۳

زمان: ۱۵ دقیقه

۱ کدام گزینه در رابطه با «هر رشته پروتئینی موجود در ساختار سارکومر» ماهیچه سربنی بدن انسان صحیح است؟

- ۱ در پی حداکثر انقباض ماهیچه، به خط Z اتصال می‌یابد.
- ۲ با کوتاه‌تر شدن، منجر به بروز انقباض ماهیچه می‌گردد.
- ۳ برخلاف ناقل‌های عصبی می‌تواند در تماس با یون‌های کلسیم درون یاخته باشد.
- ۴ می‌تواند در شرایط طبیعی در تماس مستقیم با مولکول‌های دنای یاخته قرار گیرد.

۲ کدام گزینه عبارت زیر را به درستی تکمیل می‌کند؟

«در ساختار عضلات اسکلتی بدن انسان سالم و بالغ، تارهای ماهیچه‌ای برخلاف

- ۱ کند- تارهای ماهیچه‌ای دارای تعداد میتوکندی کمتر، انرژی خود را بیشتر از تجزیه کرآتین فسفات به دست می‌آورند.
- ۲ دارای رنگ‌دانه قرمز- تارهایی که انرژی خود را به سرعت از دست می‌دهند، امکان تولید لاکتیک اسید را ندارند.
- ۳ که در اثر ورزش شنا تعداد آن‌ها کاهش می‌یابد- تارهای کند، انرژی خود را بیشتر به روش بی‌هوازی به دست می‌آورند.
- ۴ که مسئول انجام انقباضات سریع هستند- هر تار ماهیچه‌ای دارای ماده‌ای شبیه به هموگلوبین، قطعاً در افراد کم تحرک بیش‌تر دیده می‌شوند.

۳ چند مورد در ارتباط با مراحل انقباض در یک یاخته ماهیچه شکمی صحیح است؟

- الف) به دنبال اتصال یک گروه فسفات به مولکول ADP موجود در سر میوزین، طول یاخته کوتاه می‌شود.
- ب) در زمانی که سر میوزین، رشته اکتین را به همراه خود به حرکت درمی‌آورد، ADP رها گردیده است.
- ج) با اتصال یک مولکول ATP به سر میوزین، اتصال سر میوزین با اکتین محکم می‌گردد.
- د) پس از سست شدن اتصال بین سر میوزین و اکتین، عمل تجزیه ATP آغاز می‌شود.

- ۱ ۱ مورد
- ۲ ۲ مورد
- ۳ ۳ مورد
- ۴ ۴ مورد

۴ کدام مورد، درباره هر تار ماهیچه اسکلتی بدن انسان صحیح است؟

- ۱ بیشتر انرژی خود را به روش هوازی به دست می‌آورد.
- ۲ از به هم پیوستن چند یاخته در دوران جنینی ایجاد شده است.
- ۳ بیشتر انرژی لازم برای انقباض آن از کرآتین فسفات به دست می‌آید.
- ۴ مقدار زیادی میوگلوبین دارد و انرژی خود را به گندی از دست می‌دهد.

۵ هنگام انقباض ماهیچه سه سر بازوی انسان، بلافاصله اتفاق می‌افتد.

- ۱ حرکت یون‌های کلسیم در خلاف جهت شیب غلظت - پیش از اتصال پروتئین‌های میوزین به اکتین
- ۲ حرکت پارویی سر پروتئین‌های میوزین - پیش از جداشدن مولکول‌های آدنوزین دی‌فسفات از آنها
- ۳ اتصال مولکول‌های آدنوزین تری‌فسفات به سر میوزین - پس از نزدیک شدن خطوط Z به میوزین‌ها
- ۴ جدا شدن سرهای میوزین از پروتئین‌های اکتین - پس از آزادشدن انرژی از مولکول آدنوزین تری‌فسفات

۶ در پی اتصال مولکول ATP به سر میوزین، کدام مورد قبل از سایرین اتفاق می‌افتد؟

- ۱ اتصال سر میوزین به پروتئین اکتین
- ۲ تولید فسفات و مولکول ADP
- ۳ جدا شدن سر میوزین از اکتین
- ۴ کوتاه شدن طول سارکومر

۷ در یک سارکومر ماهیچه سربنی، هر رشته پروتئینی

- ۱ که به مولکول ATP متصل می‌شود، در پی انقباض ماهیچه، به خط Z اتصال می‌یابد.
- ۲ متصل به خط Z، می‌تواند تحت شرایطی در تماس مستقیم با ناقل عصبی قرار گیرد.
- ۳ موجود در بخش روشن، با کوتاه‌تر شدن، منجر به انقباض ماهیچه می‌گردد.
- ۴ موجود در بخش تیره، می‌تواند در طی انقباض، در تماس با یون کلسیم باشد.



۸ هر گاه سر میوزین به متصل است، قطعاً
۱ ATP - سر میوزین به اکتین هم متصل است.
۲ ADP - سر میوزین به اکتین هم متصل است.
۳ اکتین - هیچ ATP ای به سر میوزین متصل نیست.
۴ اکتین - هیچ ADP ای به سر میوزین متصل نیست.

۹ چند مورد دربارهٔ رشته‌های پروتئینی انقباضی ماهیچهٔ اسکلتی درست بیان شده است؟

- * هر رشتهٔ اکتین، به یک خط Z متصل می‌باشد.
- * هر مولکول میوزین، از دو رشتهٔ به هم پیچیده تشکیل شده است.
- * هر رشته اکتین، دارای چندین محل اتصال برای سرهای مولکول‌های میوزین می‌باشد.
- * فقط مولکول‌های میوزین، در طی انقباض در تماس با یون‌های کلسیم قرار می‌گیرند.

۱ ۱) ۲ ۲) ۳ ۳) ۴ ۴)

۱۰ کدام گزینه، عبارت زیر را به نادرستی تکمیل می‌نماید؟

«در همهٔ جانورانی که دارای اسکلت هستند،»

- ۱ درونی - در بخش پشتی بدن آنها طنابی وجود دارد که بخش برجستهٔ آن در جلو، مغز را تشکیل می‌دهد.
- ۲ بیرونی - یاخته‌ها از طریق لوله‌های منشعب و مرتبط با هم، تبادلات گازی را انجام می‌دهند.
- ۳ آب‌ایستایی - با فشار جریان آب به بیرون، جانور به سمت مخالف جریان آب، حرکت می‌کند.
- ۴ درونی - یاخته‌های خونی می‌توانند در تماس با لایهٔ پوششی رگ‌ها و قلب می‌باشند.

۱۱ در بافت ماهیچه‌ای اسکلتی انسان سالم و بالغ، تارهای ماهیچه‌ای که

- ۱ برای حرکات استقامتی ویژه شده‌اند، دارای میتوکندری‌های کمتری هستند.
- ۲ مقدار زیادی رنگدانه قرمز دارند، بیشتر انرژی خود را از راه تنفس بی‌هوازی به دست می‌آورند.
- ۳ مقدار بیشتری لاکتیک اسید تولید می‌کنند، فقط در افرادی با نمای تودهٔ بدنی بالا مشاهده می‌شود.
- ۴ به کمک میوگلوبین اکسیژن را ذخیره می‌کنند، ممکن است تجزیه گلوکز را به صورت کامل انجام ندهند.

۱۲ کدام عبارت دربارهٔ اسکلت جانوران درست است؟

- ۱ در حشرات برخلاف عروس دریایی، اسکلت دارای نقش حفاظتی نیست.
- ۲ ساختار استخوان پرنده‌گان، بسیار شبیه ساختار استخوان انسان است.
- ۳ در اسکلت کوسه ماهی برخلاف اسکلت پرنده‌گان، غضروف وجود دارد.
- ۴ حلزون برخلاف عروس دریایی، اسکلت آب‌ایستایی دارد.

۱۳ همزمان با فاصلهٔ خطوط Z در یک سارکومر هر ماهیچهٔ اسکلتی، قطعاً می‌شود.

- ۱ افزایش - سر پروتئین‌های میوزین به رشته‌های اکتین متصل
- ۲ کاهش - استخوان متصل به آن، مقدار زیادی، جابه‌جا
- ۳ کاهش - یون کلسیم با مصرف ATP به شبکهٔ آندوپلاسمی بازگردانده
- ۴ افزایش - فاصلهٔ سر میوزین‌های سارکومرهای مجاور از یکدیگر، بیشتر

۱۴ می‌توان گفت همهٔ

- ۱ ماهیچه‌های بدن، هر دو نوع یاختهٔ تند و کند را دارند.
- ۲ تارهای ماهیچه‌ای کند و تند دارای میتوکندری، هسته و میوگلوبین هستند.
- ۳ انرژی مورد نیاز تارهای ماهیچه‌ای کند، به روش هوازی تأمین می‌شود.
- ۴ انرژی مورد نیاز تارهای ماهیچه‌ای تند، از راه تنفس بی‌هوازی تأمین می‌شود.

۱۵ تار ماهیچه‌ای تارچهٔ ماهیچه‌ای

- ۱ همانند - توسط ساختاری حاوی فسفولیپید احاطه شده است.
- ۲ همانند - توسط ساختاری حاوی فسفولیپید احاطه نشده است.
- ۳ برخلاف - توسط ساختاری حاوی فسفولیپید احاطه شده است.
- ۴ برخلاف - توسط ساختاری حاوی فسفولیپید احاطه نشده است.

پاسخنامه تشریحی

۱) با آزاد شدن یون‌های کلسیم از شبکه آندوپلاسمی یاخته‌های ماهیچه‌ای، این یون‌ها در تماس با رشته‌های پروتئینی قرار می‌گیرند، اما ناقل‌های عصبی به گیرنده‌های خود در سطح غشای یاخته هدف متصل می‌شوند و وارد یاخته هدف نمی‌شوند که با کلسیم درون‌یاخته‌ای در تماس باشند. در سیتوپلاسم (میان‌یاخته) پیش‌سیناپس نیز این ناقلین درون‌ریز کیسه محصور هستند و با یون‌های کلسیم سیتوپلاسمی در ارتباط نیستند.
بررسی سایر گزینه‌ها:

گزینه ۱) رشته‌های میوزین حتی در بیشترین انقباض ماهیچه، نمی‌توانند به خط Z متصل شوند.

گزینه ۲) رشته‌های اکتین و میوزین کوتاه نمی‌شوند، بلکه طول بخش روشن کاهش می‌یابد.

گزینه ۴) مولکول‌های دنا درون هسته‌های یاخته ماهیچه‌ای قرار دارند و رشته‌های میوزین و اکتین در ساختار تارچه‌ها قرار دارند.

۲) تارهایی که در اثر ورزش شنا تعداد آنها کاهش می‌یابد، همان تارهای تند هستند که برخلاف تارهای کند، انرژی خود را بیشتر به روش بی‌هوازی به دست می‌آورند.

بررسی سایر گزینه‌ها:

گزینه ۱) تارهای کند انرژی خود را بیشتر به صورت هوازی به دست می‌آورند.

گزینه ۲) هم تارهای کند و هم تارهای تند، می‌توانند با انجام تنفس بی‌هوازی، لاکتیک اسید تولید کنند.

گزینه ۴) هم تارهای تند و هم تارهای کند دارای میوگلوبین هستند، در حالی که فقط تارهای تند در افراد کم تحرک بیشتر دیده می‌شوند.

۳) موارد (ب) و (د) درست هستند.

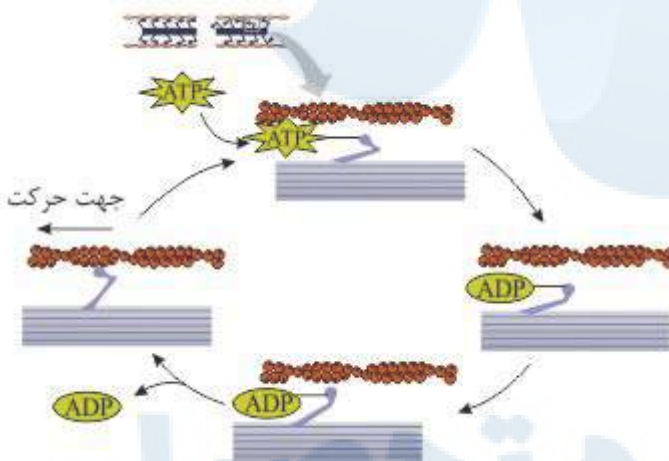
بررسی موارد:

مورد الف) نادرست. با توجه به تصویر بالا، هیچ‌گاه به ADP متصل به سر میوزین، فسفات اضافه نمی‌شود. فسفری شدن ADP که منجر به تولید ATP می‌گردد، به صورت اکسایشی (درون میتوکندری تارهای ماهیچه‌ای) یا در سطح پیش‌ماده (هم در ماده زمینه سیتوپلاسم و هم درون میتوکندری) صورت می‌گیرد.

مورد ب) درست. پس از جداشدن گروه فسفات از سر میوزین، میوزین به اکتین متصل می‌شود و پس از ره‌اشدن ADP از سر میوزین، میوزین رشته اکتین را با خود به حرکت در می‌آورد.

مورد ج) نادرست. اتصال ATP به سر میوزین منجر به جداشدن سر میوزین از اکتین می‌گردد.

مورد د) درست. پس از اینکه سر میوزین، اکتین را رها کرد، ATP متصل به آن با خاصیت آنزیمی‌اش تجزیه می‌شود که باعث حرکت سر میوزین می‌گردد.



۴) تارهای ماهیچه‌ای به دو نوع کند و تند تقسیم می‌شوند. همه انواع تارهای ماهیچه‌ای اسکلتی از به هم پیوستن چند یاخته در دوران جنینی ایجاد شده‌اند و به همین دلیل دارای چند هسته می‌باشند.

بررسی سایر گزینه‌ها:

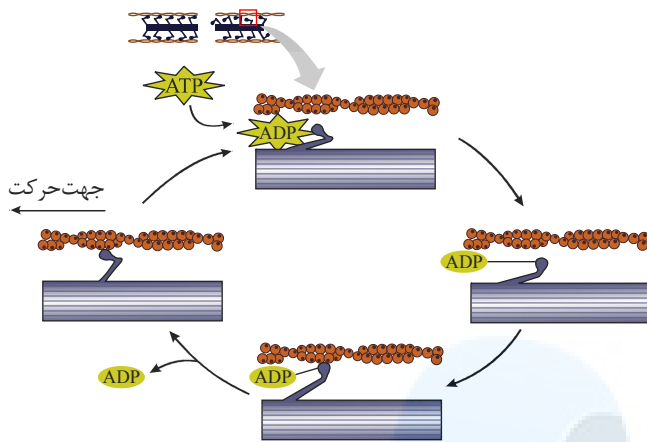
گزینه ۱) تارهای ماهیچه‌ای کند دارای میتوکندری فراوانی هستند و بیشتر انرژی خود را از راه تنفس هوازی به دست می‌آورند و تارهای ماهیچه‌ای تند، تعداد کمتری میتوکندری (راکبزه) دارند و انرژی خود را بیشتر از طریق تنفس بی‌هوازی کسب می‌کنند.

گزینه ۳) گلوکز سوخت رایج یاخته است و در واقع بیشتر انرژی لازم برای انقباض ماهیچه‌ها از سوختن گلوکز به دست می‌آید.

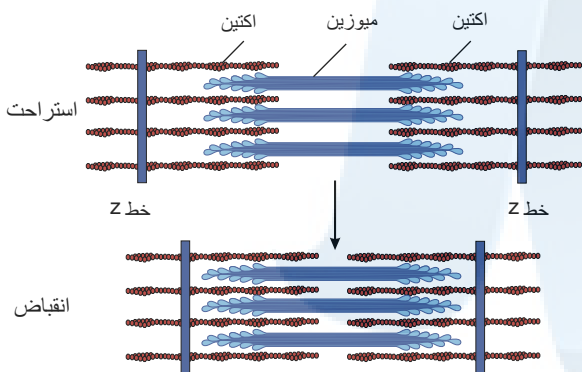
گزینه ۴) تارهای ماهیچه‌ای کند دارای مقدار زیادی میوگلوبین هستند و تارهای ماهیچه‌ای تند دارای مقدار کمی میوگلوبین هستند که این تارها (تند)، سریع انرژی خود را از دست داده و خسته می‌شوند.

۵) برای انقباض ماهیچه اسکلتی، پس از تحریک عصبی، یون‌های کلسیم با روش انتشار تسهیل شده و در جهت شیب غلظت از شبکه آندوپلاسمی خارج می‌شوند. به دنبال تجزیه ATP متصل به سر میوزین و تبدیل آن به ADP پروتئین میوزین به اکتین متصل می‌شوند. سپس مولکول‌های ADP از سر میوزین جدا شده و در همین حین میوزین حرکت پارویی خود را انجام می‌دهد. در این حالت خطوط Z دو طرف سارکومر به یکدیگر و همچنین به میوزین‌ها نزدیک‌تر می‌شوند. سپس مولکول ATP به سر میوزین متصل شده و میوزین را از اکتین جدا می‌کند. در نهایت برای پایان انقباض نیز یون‌های کلسیم در خلاف جهت شیب غلظت به داخل شبکه آندوپلاسمی بازمی‌گردند.

۶) همان‌طور که در شکل مشاهده می‌کنید، بلافاصله پس از اتصال مولکول ATP به سر میوزین، سر میوزین از اکتین جدا می‌شود.



۷) با آزاد شدن یون‌های کلسیم از شبکه‌ی آندوپلاسمی یاخته‌های ماهیچه‌ای، این یون‌ها در تماس با رشته‌های پروتئینی قرار می‌گیرند. بررسی سایر گزینه‌ها:



گزینه ۱: میوزین پروتئینی است که هنگام انقباض یاخته‌های ماهیچه‌ی اسکلتی به ATP وصل می‌شود. همانطور که در شکل روبه‌رو می‌بینید، رشته‌های میوزین در انقباض ماهیچه، نمی‌توانند به خط Z متصل شوند.

گزینه ۲: رشته‌های اکتین به خط Z متصل‌اند و درون میان‌یاخته‌ی ماهیچه‌ای قرار دارند، اما ناقل‌های عصبی به یاخته‌ی ماهیچه‌ای وارد نمی‌شوند. گزینه ۳: رشته‌های اکتین و میوزین کوتاه نمی‌گردند، بلکه طول نوار روشن کاهش می‌یابد.

۱ ۲ ۳ ۴ ۸

۱. سر میوزین هم زمان به اکتین و ATP متصل نمی‌باشد. پس از این که ATP هیدرولیز شد سر میوزین عمودی شده و به اکتین متصل می‌شود.
۲. پس از هیدرولیز ATP سر میوزین به ADP متصل است و بعد از آن سر میوزین به اکتین متصل می‌شود. پس در مدت زمانی کوتاه ADP به سر میوزین متصل است اما هنوز به اکتین متصل نشده‌است.
۳. پس از هیدرولیز ATP سر میوزین به اکتین متصل می‌شود. پس این دو هیچ گاه هم زمان به سر میوزین متصل نیستند.
۴. پس از هیدرولیز ATP سر میوزین به ADP متصل است. و بعد از آن به اکتین متصل می‌شود. در این حال در مدت زمانی ADP نیز به سر میوزین متصل است.

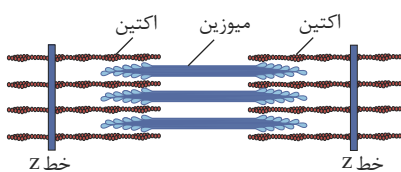
۹) مورد چهارم نادرست

مورد اول. هر رشته‌ی اکتین در یک سمت به خط Z متصل می‌باشد.

مورد دوم. هر مولکول میوزین از دو رشته‌ی به هم پیچیده تشکیل شده است.

مورد سوم. در طی انقباض سر مولکول‌های میوزین به رشته‌ی اکتین متصل می‌شود. هر رشته‌ی اکتین چندین محل اتصال برای سرهای میوزین دارد.

مورد چهارم. پس از آزادسازی کلسیم، این یون‌ها وارد سارکومر شده و در تماس با رشته‌های اکتین و میوزین قرار می‌گیرند، اما واکنش آن‌ها با اکتین سبب شروع روند انقباض می‌شود.



۱۰) ۱- مهره داران دارای اسکلت درونی استخوانی هستند. همه‌ی مهره داران در بخش پشتی بدن دارای طناب نخاعی هستند که بخش برجسته‌ی آن در جلو، مغز را ایجاد می‌کند.

۲- حشرات و سخت پوستان نمونه ای از جانوران دارای اسکلت بیرونی هستند. حشرات دارای لوله های منشعب و مرتبط با هم هستند که تبادلات گازی از طریق آن ها انجام می شود.

۳- اساس حرکت در همه جانوران یکسان است. برای حرکت در یک سو، جانور باید نیرویی در خلاف آن وارد کند.

۴- مهره داران، گردش خون بسته دارند. بنابراین یاخته های خونی می توانند در تماس با لایه پوششی رگ ها و قلب قرار گیرند.

۱۱ ۱ ۲ ۳ ۴ ۱. تارهای ماهیچه ای که برای حرکات استقامتی ویژه شده اند، تارهای کند هستند. تارهای کند میتوکندری زیادی دارند.

۲. تارهای کند دارای مقدار زیادی رنگدانه قرمز (میوگلوبین) هستند. این تارها بیش تر انرژی خود را از تنفس هوازی به دست می آورند.

۳. تارهای تند، مقدار بیش تری لاکتیک اسید تولید می کنند، زیرا بیش تر انرژی خود را از راه بی هوازی به دست می آورند. این تارها در افراد با نمای توده بدنی کم و زیاد وجود دارند.

۴. همه تارهای ماهیچه ای دارای میوگلوبین هستند و به کمک آن اکسیژن را ذخیره می کنند. در همه تارهای ماهیچه ای ممکن است تجزیه گلوکز به صورت بی هوازی و یا ناکامل انجام شود.

۱۲ ۱ ۲ ۳ ۴ بررسی گزینه ها:

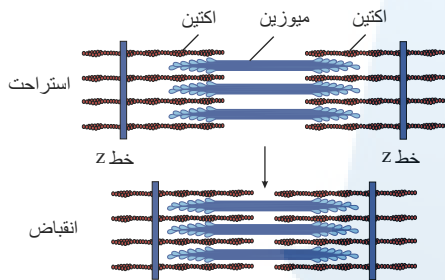
۱. در حشرات و حلزون که نمونه هایی از جانوران دارای اسکلت بیرونی هستند، اسکلت علاوه بر حرکت، نقش حفاظتی دارد.

۲. پرندگان از انواع مهره داران هستند. ساختار استخوان، در مهره داران دارای اسکلت استخوانی بسیار شبیه ساختار استخوان انسان است.

۳. اسکلت پرندگان از استخوان و غضروف تشکیل شده است. در پرندگان نیز با وجود دارا بودن بافت استخوانی در اسکلت آن ها غضروف دیده می شود مثلا در دو سر استخوان های دراز در محل مفصل.

۴. حلزون اسکلت بیرونی و عروس دریایی اسکلت آب ایستایی دارد.

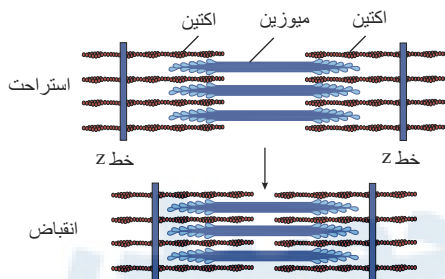
۱۳ ۱ ۲ ۳ ۴ گزینه (۱): افزایش فاصله خطوط Z در زمان استراحت ماهیچه رخ می دهد. در این زمان سر پروتئین های میوزین به رشته اکتین متصل نیست.



گزینه (۲): کاهش فاصله خطوط Z در زمان انقباض ماهیچه رخ می دهد. اما همه ماهیچه های اسکلتی به استخوان متصل نیستند. پس نمی توان به طور قطع گفت با انقباض هر ماهیچه، استخوانی جابه جا می شود.

گزینه (۳): هنگام انقباض ماهیچه که منظور گزینه است، یون کلسیم از شبکه آندوپلاسمی خارج می شود و هنگام استراحت یون کلسیم با انتقال فعال به شبکه آندوپلاسمی برمی گردد.

گزینه (۴): هنگام استراحت ماهیچه خطوط Z و رشته های اکتین از یکدیگر دور می شوند و در نتیجه، فاصله سرهای میوزین سارکومرهای مجاور از یکدیگر بیش تر می شود.



۱۴ ۱ ۲ ۳ ۴ تارهای ماهیچه ای تند و کند هر دو میتوکندری، هسته و میوگلوبین دارند اما میتوکندری و میوگلوبین ماهیچه های کند نسبت به تند بیشتر می باشد.

بررسی سایر گزینه ها:

رد گزینه ۱ - بیشتر ماهیچه های بدن هر دو نوع تارهای تند و کند را دارند.

رد گزینه ۲ - تارهای ماهیچه های کند بیشتر انرژی خود را به روش هوازی به دست می آورند.

رد گزینه ۴ - تارهای ماهیچه های تند بیشتر انرژی خود را به روش بی هوازی به دست می آورند.

۱۵ ۱ ۲ ۳ ۴ به هر یاخته ماهیچه ای، تار گویند. هر یاخته توسط غشا پلاسمایی احاطه شده است. غشاء پلاسمایی دارای دو لایه فسفولیپید است. درون هر یاخته، تعداد زیادی رشته به نام تارچه ماهیچه ای وجود دارد.



مبحث: گفتار ۱ فصل ۴ زیست یازدهم

سری: شماره ۱

زمان : ۱۵ دقیقه

۱) چند مورد عبارت زیر را به طور نادرست تکمیل می کند؟

- «در بدن انسان، هر پیک شیمیایی دوربرد برخلاف هر پیک شیمیایی کوتاه برد»
- * فاقد گیرنده اختصاصی در یاخته های عصبی مغز و نخاع است.
 - * از یاخته تولیدکننده در نهایت به جریان خون وارد می شود.
 - * توسط یاخته های پوششی درون ریز در اندام ها ترشح می شود.
 - * در بروز پاسخ مناسب نسبت به محرک های درونی و بیرونی نقش دارد.

۴ (۴)

۳ (۳)

۲ (۲)

۱ (۱)

۲) کدام گزینه عبارت مقابل را به نادرستی تکمیل می کند؟

«دستگاه درون ریز بدن انسان دستگاه عصبی،»

- ۱) همانند- دارای یاخته هایی با غشای پایه در سطح زیرین خود می باشد.
- ۲) برخلاف- می تواند به طور مستقیم بر فعالیت همه یاخته های زنده و سالم بدن انسان تاثیر گذار باشد.
- ۳) همانند- همه پیک های شیمیایی خود را تا فواصل دوری نسبت به یاخته ترشح کننده منتقل می کنند.
- ۴) برخلاف- همه پیک های شیمیایی خود را به جریان خون ترشح می کند.

۳) یاخته عصبی یاخته درون ریز

- ۱) برخلاف - پیک های شیمیایی ترشح می کند که این پیک ها برای رسیدن به گیرنده خود دوبار از فضای بین یاخته ای عبور می کنند.
- ۲) همانند - می تواند ماده ای به مایع بین یاخته ای ترشح کند.
- ۳) برخلاف - برای ترشح مواد همیشه از ATP استفاده می کند.
- ۴) همانند - پیک های شیمیایی را درون ریز کیسه های ترشحی به فضای بین یاخته ای رها می کنند.

۴) چند مورد از موارد نام برده می تواند جمله ی زیر را به درستی تکمیل نماید؟ (با تغییر)

به طور معمول، ناقل های عصبی

- الف) در مقایسه با هورمون ها، مسافت کوتاه تری را در خون طی می کنند.
- ب) در پاسخ به محرک های متفاوتی ساخته و آزاد می شوند.
- ج) پاسخ های سریع و کوتاه مدتی را سبب می شوند.
- د) متنوع می باشند و در هماهنگ کردن فعالیت های بدن نقش دارند.

۴ (۴)

۳ (۳)

۲ (۲)

۱ (۱)

۵) پیک شیمیایی

- ۱) نمی تواند بدون ورود به خون به یاخته هدف برسد.
- ۲) می تواند وارد یاخته هدف گردد.
- ۳) ساخته شده در یاخته عصبی، قطعاً نوعی ناقل عصبی است.
- ۴) دوربرد برخلاف کوتاه برد، نمی تواند با برون رانی از یاخته سازنده خود خارج شود.



۶ دستگاه درون ریز بدن انسان، واجد مجموعه‌ای از

- ۱) یاخته‌ها است که ترشحات خود را مستقیماً یا به کمک مجرای خاص خود به خون می‌ریزند.
- ۲) یاخته‌ها است که می‌تواند بر یاخته‌های دور از خود اثر تنظیمی داشته باشند.
- ۳) غده‌هاست که هیچ‌یک نمی‌توانند در تنظیم فشار خون نقش داشته باشند.
- ۴) غده‌هاست که می‌توانند هورمون تولیدی خود را به فضای سیناپسی ترشح نمایند.

۷ کدام گزینه زیر، درست است؟ (با تغییر)

- ۱) در یک انسان ایستاده، غده هیپوفیز پایین‌تر از هیپوتالاموس و غده تیموس بالاتر از غده تیروئید قرار گرفته است.
- ۲) در بدن انسان سالم و بالغ ایستاده، غده درون ریز ترشح کننده هورمون آلدوسترون در سطح بالاتری نسبت به غده ترشح کننده انسولین قرار دارد.
- ۳) در ناحیه گردن انسان دو عدد غده درون ریز قرار دارد.
- ۴) غده نهنج و زیرمغزی از غدد اصلی دستگاه درون ریز در بخش مغز انسان نیز می‌باشد.

۸ غدد درون ریز غدد برون ریز

- ۱) همانند - قطعاً از بافت پوششی تشکیل شده‌اند.
- ۲) همانند - موادی را از خون دریافت و یا به خون ترشح می‌کنند.
- ۳) برخلاف - ترشحات خود را از طریق مجرا به محل مورد نظر می‌رساند.
- ۴) برخلاف - ترشحات خود را توسط خون به سلول هدف می‌رسانند.

۹ هر سلولی که هورمون ترشح می‌کند

- ۱) قطعاً توانایی ترشح پیک شیمیایی را دارد.
- ۲) قطعاً دارای مجرا است.
- ۳) می‌تواند ترشحات خود را به سطح بدن یا درون حفرات بریزد.
- ۴) قطعاً بخشی از یک غده درون ریز است.

۱۰ نمی‌توان گفت

- ۱) هورمون قطعاً از یاخته درون ریز ترشح می‌شود.
- ۲) گاسترین از نوعی غده درون ریز ترشح می‌شود.
- ۳) دستگاه درون ریز به محرک‌های بیرونی هم پاسخ می‌دهد.
- ۴) غده برون ریز با مویرگ خونی ارتباط دارد.

۱۱ کدام عبارت جمله زیر را به درستی تکمیل می‌کند؟

یاخته هدف قطعاً

- ۱) در فاصله دورتر از یاخته تولید کننده پیک شیمیایی قرار دارد.
- ۲) دارای گیرنده اختصاصی برای پیک مورد نظر است.
- ۳) سلولی است که می‌تواند انتقال دهنده عصبی تولید کند.
- ۴) دارای توانایی آگزوسیتوز برای خروج پیک شیمیایی است.

۱۲ هر هورمون هر ناقل عصبی

- ۱) بر خلاف - از یک سلول غیر عصبی ترشح می‌شود.
- ۲) همانند - در ارتباط شیمیایی سلولی نقش دارد.
- ۳) بر خلاف - از طریق برون رانی و با صرف انرژی از سلول ترشح می‌شود.
- ۴) همانند - با ورود به سلول هدف، در تنظیم شیمیایی نقش دارد.

۱۳ چند جمله نادرست وجود دارد؟

- ۱) هردو نیروی تراوش و اختلاف فشار اسمزی در انتقال هورمون‌ها در دو سوی مویرگ نقش دارند.
- ۲) در یک غده معده، هورمون گاسترین به سمت غشاء پایه و ترشحات برون ریز به سمت ماده مخاطی ترشح می‌شوند.
- ۳) هر پیک شیمیایی که از انتهای یک نورون آگزوسیتوز می‌شود، انتقال دهنده عصبی نام دارد.
- ۴) هر پیک کوتاه برد نوعی ناقل عصبی است.

۱) ۱ ۲) ۲ ۳) ۳ ۴) ۴

۱۴ جمله درست کدام عبارت زیر است؟

- ۱) پیک‌های کوتاه برد می‌توانند با همه یاخته‌های بدن ارتباط برقرار کنند.
- ۲) یکی از ویژگی‌های پریاکتگان این است که یاخته‌ها می‌توانند مستقل از یکدیگر باشند.
- ۳) ارتباط شیمیایی فقط توسط پیک‌های دور برد صورت می‌گیرد.
- ۴) همه پیک‌های شیمیایی در یاخته هدف دارای گیرنده هستند.

۱۵) هورمون‌ها ناقل عصبی ، (با تغییر)

۲) همانند - وارد مایع بین سلول‌ها می‌شوند.

۱) برخلاف - از سلول‌های عصبی ترشح نمی‌شوند.

۴) همانند - دارای اثرات سریع هستند.

۳) برخلاف - ترشح‌شان تحت تأثیر تنظیم عصبی قرار نمی‌گیرند.



مرکز مشاوره تحصیلی
علیرضا افشار

پاسخ نامه تشریحی

۱. بررسی موارد:

مورد اول. نادرست. پیک‌های شیمیایی دوربرد مثل هورمون T_3 در یاخته‌های عصبی مغز گیرنده دارند.
مورد دوم. نادرست. گروهی از پیک‌های شیمیایی کوتاه‌برد مانند پیک‌های شیمیایی شرکت‌کننده در فرآیند التهاب برای عملکرد خود به جریان خون وارد می‌شوند.
مورد سوم. نادرست. ممکن است هورمون‌ها توسط یاخته‌های ترشحی عصبی موجود در هیپوتالاموس تولید شوند و توسط این یاخته‌ها در هیپوفیز پسین به جریان خون وارد شوند.
مورد چهارم. نادرست. دستگاه درون‌ریز بدن انسان به همراه دستگاه عصبی، فعالیت‌های بدن را تنظیم می‌کنند. هر دو این دستگاه‌ها به محرک‌های بیرونی و درونی پاسخ می‌دهند.

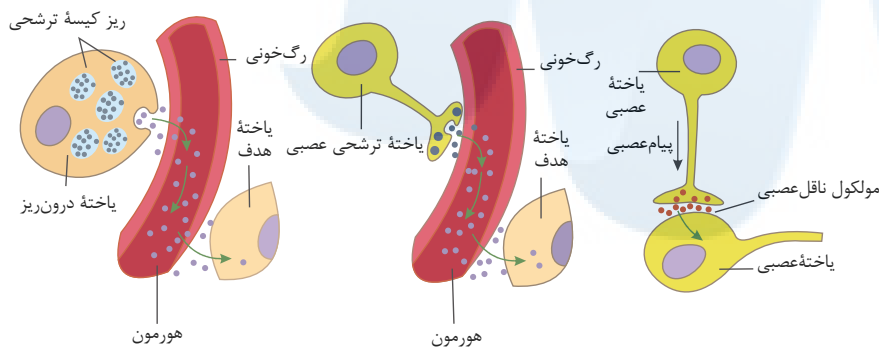
۲. ۱. در دستگاه عصبی و دستگاه درون‌ریز بافت پوششی در محل‌هایی مثل رگ‌های خونی یافت می‌شود. بافت پوششی در سطح زیرین خود دارای غشای پایه است.

۲. دستگاه عصبی، با تک‌تک یاخته‌های بدن ارتباط ندارد. اما دستگاه درون‌ریز می‌تواند بر فعالیت همه یاخته‌های بدن تاثیر بگذارد. مثلاً همه یاخته‌های بدن، اندام هدف هورمون T_3 و T_4 است.

۳. ناقل‌های عصبی، در فضای سیناپسی ترشح می‌شوند و تا فواصل دوری نسبت به یاخته ترشح‌کننده منتقل نمی‌شوند.

۴. پیک شیمیایی دستگاه درون‌ریز هورمون‌ها هستند که همگی به درون خون ریخته می‌شوند. اما پیک شیمیایی دستگاه عصبی، هورمون‌ها و ناقل‌های عصبی هستند. ناقل‌های عصبی به درون خون ریخته نمی‌شوند.

۳. ۱ ۲ ۳ ۴



بر طبق شکل بالا، هم سلول عصبی ناقل عصبی خود را به فضای سیناپسی (فضای بین سلولی) آزاد می‌کند و هم سلول درون‌ریز، هورمون‌ها را ابتدا به فضای بین سلولی ترشح می‌کند و سپس هورمون‌ها وارد خون می‌شوند.

بررسی سایر گزینه‌ها:

گزینه ۱: هورمون‌ها یک بار برای انتقال از یاخته سازنده تا رگ خونی (فضای بین‌یاخته‌ای) و یک بار از رگ خونی تا یاخته هدف باید از فضای بین یاخته‌ای عبور کنند ولی ناقلین عصبی فقط یک بار وارد فضای بین یاخته‌ای یا همان فضای سیناپسی وارد می‌شوند.

گزینه ۳: برای ترشح ناقل عصبی و یا هورمون، سلول از روش برون‌رانی استفاده می‌کند که سلول برای برون‌رانی نیاز به ATP دارد.

گزینه ۴: یاخته عصبی برای ترشح ناقل عصبی، و یا یاخته درون‌ریز برای ترشح هورمون از طریق برون‌رانی، این مواد را در ریز کیسه‌ها قرار داده و سپس آن‌ها را ترشح می‌کند اما غشاء ریز کیسه‌ها با سلول ترشح‌کننده ادغام می‌شود و فقط پیک شیمیایی رها می‌شود.

۴. ۱ ۲ ۳ ۴

بررسی موارد:

مورد الف) نادرست - ناقل‌های عصبی به فضای سیناپس ترشح می‌شوند و به خون نمی‌ریزند.

مورد ب) نادرست - ناقل‌های عصبی درون نورون، از قبل ساخته شده‌اند و در پاسخ به محرک‌ها آزاد می‌شوند.

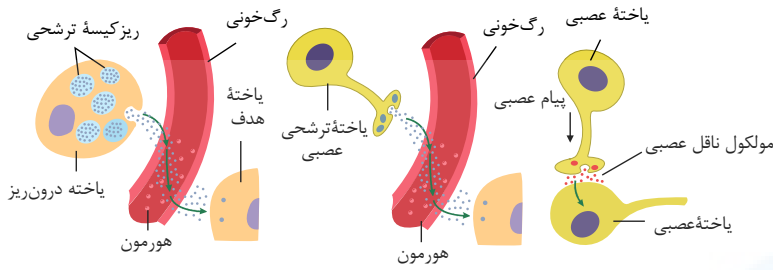
مورد ج) درست - پاسخ ناقل‌های عصبی برخلاف هورمون‌ها کوتاه مدت و سریع است.

مورد د) درست - ناقل‌های عصبی متنوع هستند و یکی از وظایف آنها در دستگاه عصبی (در کنار هورمون‌ها) کمک به هماهنگ کردن اعمال بدن است.

۵. ۱ ۲ ۳ ۴

گزینه ۱: پیک‌های شیمیایی کوتاه‌برد مثل ناقل عصبی با ورود به فضای سیناپسی و بدون ورود به خون روی سلول پس‌سیناپسی تأثیر می‌گذارند.

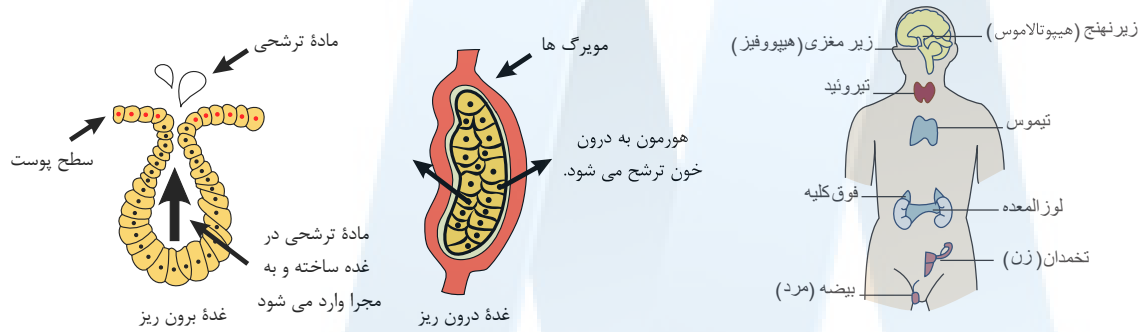
گزینه ۲: بعضی هورمون‌ها وارد یاخته هدف می‌شوند.



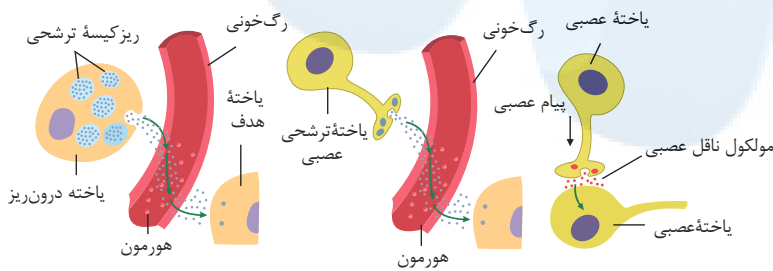
گزینه (۳): یک نورون پیک شیمیایی تولید کرده است و چون پیک شیمیایی وارد خون شده نام آن هورمون می باشد.

گزینه (۴): در همین شکل نشان داده شده که هورمون و ناقل عصبی هر دو با روش اگزوسیتوز (برون رانی) از یاخته خارج شده اند.

گزینه (۱): دستگاه درون ریز واجد مجموعه ای از یاخته هاست که ترشحات خود را ابتدا به فضای بین سلولی می ریزد و سپس این ترشحات از فضای بین سلولی به خون می روند (ترشحات مستقیماً به خون نمی ریزند). غدد برون ریز ترشحات خود را از طریق مجرا خارج می کنند و غدد درون ریز نیاز به مجرا ندارند.



گزینه (۲): دستگاه درون ریز با تولید هورمون (پیک های دوربرد) به خون، پیام هایی را به فاصله ای دور منتقل می کنند و به همراه دستگاه عصبی، فعالیت های بدن را تنظیم می کنند.



گزینه (۳): هورمون های آلدوسترون و اپی نفرین و نوراپی نفرین می توانند در تنظیم فشار خون نقش داشته باشند.

گزینه (۴): دستگاه درون ریز هورمون ها را به خون می ریزند و ناقل های عصبی (پیک کوتاه برد) به فضای سیناپسی می ریزند.

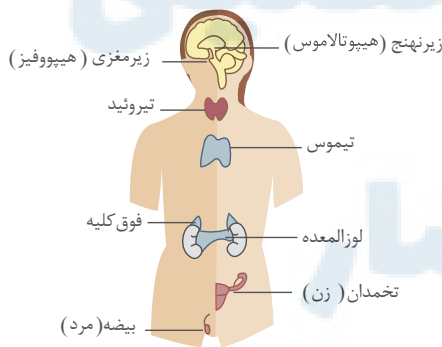
بررسی موارد: ۱ ۲ ۳ ۴ ۷

گزینه (۱): غده هیپوفیز زیر هیپوتالاموس و غده تیروئید بالای غده تیموس قرار دارد.

گزینه (۲): غدد درون ریز ترشح کننده هورمون آلدوسترون، غدد فوق کلیه هستند. این غدد، در سطح بالاتری نسبت به غده ترشح کننده انسولین یعنی لوزالمعده، قرار دارند.

گزینه (۳): در ناحیه گردن انسان ۵ عدد غده درون ریز قرار دارد. ۴ عدد غده پاراتیروئید و یک عدد غده تیروئید.

گزینه (۴): نهنج (تالاموس) غده نیست بلکه یک بخش مغزی است.



گزینه ۱- غدد درون ریز مثل هیپوتالاموس از سلول عصبی تشکیل شده اند. ۱ ۲ ۳ ۴ ۸

گزینه ۲- غدد برون ریز موادی به درون خون ترشح نمی کنند.

گزینه ۳- غدد درون ریز مجرا ندارند.

گزینه ۴- غدد درون ریز ترشحات خود را به درون خون می ریزند اما غدد برون ریز ترشحات خود را به درون خون نمی ریزند.

گزینه ۱: هورمون، یک پیک شیمیایی دوربرد است. ۱ ۲ ۳ ۴ ۹

گزینه ۲: غدد برون ریز دارای مجرا هستند ولی غدد درون ریز که هورمون ترشح می کنند، دارای مجرا نیستند.

گزینه ۳: این جمله توضیح غده برون ریز است.

گزینه ۴: هورمون ممکن است از سلول‌های مجتمع در غده درون ریز و یا از سلول‌های پراکنده در اندام‌ها ترشح شود.

گزینه ۱- هورمون‌ها قطعا از یاخته‌های درون ریز ترشح می‌شوند. (۱ ۲ ۳ ۴ ۱۰)

گزینه ۲- گاسترین از سلول‌های پراکنده درون ریز ترشح می‌شود نه غده درون ریز.

گزینه ۳- دستگاه درون ریز به محرک‌های بیرونی و درونی پاسخ می‌دهند.

گزینه ۴- غده برون ریز برای دریافت مواد مورد نیاز خود با مویرگ خونی ارتباط دارد.

گزینه ۱- اگر پیک شیمیایی انتقال دهنده عصبی باشد یاخته هدف در فاصله نزدیک قرار دارد. (۱ ۲ ۳ ۴ ۱۱)

گزینه ۲- همه یاخته‌های هدف برای شناسایی توسط پیک شیمیایی لازم است گیرنده داشته باشد.

گزینه ۳- یاخته هدف می‌تواند سلولی غیر از نورون باشد.

گزینه ۴- پیک شیمیایی توسط سلول هدف تولید نمی‌شود.

گزینه ۱: هورمون می‌تواند از یک سلول عصبی یا غیر عصبی ترشح شود. (۱ ۲ ۳ ۴ ۱۲)

گزینه ۲: هورمون‌ها و ناقل عصبی پیک‌های شیمیایی هستند که ارتباط شیمیایی بین سلول‌ها را برقرار می‌کند.

گزینه ۳: هر دو توسط برون رانی و با صرف انرژی به بیرون سلول ترشح می‌شوند.

گزینه ۴: ناقل عصبی هیچ‌گاه وارد سلول هدف نمی‌شود و با اتصال با گیرنده‌های سطح غشا سلول‌های هدف، باعث باز شدن کانال‌های یونی می‌شوند، و یون‌ها توانایی عبور از سلول هدف را پیدا می‌کنند.

گزینه ۱- درست - هورمون‌ها هنگام ورود به خون از نیروی اختلاف فشار اسمزی مایع بین سلولی و خون و پس از رسیدن به سلول هدف و خروج از خون از نیروی تراوش استفاده می‌کنند. (۱ ۲ ۳ ۴ ۱۳)

گزینه ۲- درست - سطحی از سلول‌های غده معده که ماده مخاطی ترشح می‌کنند به سمت حفره قرار دارند و این جا محل ترشحات برون ریز است هورمون گاسترین در سمت مقابل که غشاء پایه قرار دارد ترشح می‌شود. و وارد خون می‌شود.

گزینه ۳- نادرست - پیک شیمیایی می‌تواند از نورون ترشح شده و وارد خون شود. در این صورت هورمون است.

گزینه ۴- نادرست - ناقل عصبی یک پیک کوتاه برد است ولی پیک‌های کوتاه برد دیگری نیز وجود دارد.

گزینه ۱- ناقل‌های عصبی یک پیک کوتاه برد است و نمی‌تواند با همه یاخته‌ها ارتباط برقرار کند. (۱ ۲ ۳ ۴ ۱۴)

گزینه ۲- برعکس، در پریاکتگان یاخته‌ها نمی‌توانند مستقل از یکدیگر باشند.

گزینه ۳- ارتباط شیمیایی هم توسط پیک‌های دور برد وهم نزدیک برد صورت می‌گیرد.

گزینه ۴- همه پیک‌های شیمیایی در یاخته هدف باید گیرنده داشته باشند تا بتوانند بر آن تاثیر بگذارند.

گزینه ۱ ۲ ۳ ۴ ۱۵) هورمون‌ها پس از اینکه در سلول سازنده خود ساخته می‌شوند، ابتدا وارد مایع میان‌بافتی و سپس وارد خون می‌شوند. در دستگاه عصبی نیز ناقلین عصبی ابتدا وارد فضای سیناپسی می‌شوند و سپس به گیرنده خود در سلول پس سیناپسی می‌رسند.

بررسی سایر گزینه‌ها:

گزینه (۱): برخی هورمون‌ها از سلول‌های عصبی ترشح می‌شوند. برای مثال اکسی‌توسین و هورمون ضدادراری (ADH) در سلول‌های عصبی هیپوتالاموس تولید و از طریق آسه‌ها در هیپوفیز پسین ذخیره می‌شوند.

گزینه (۳): تنظیم ترشح بخشی از هورمون‌ها بر اساس پیام عصبی می‌باشد. مثلاً ترشح هورمون اکسی‌توسین توسط هیپوفیز پسین تحت اثر پیام‌های عصبی رسیده از هیپوتالاموس است یا ترشح اپی نفرین و نوراپی نفرین که تحت تأثیر اعصاب است.

گزینه (۴): ناقلین عصبی اثر سریع و کوتاه دارند، در حالی که هورمون‌ها اثر کند و طولانی تری دارند.



مبحث: گفتار ۲ فصل ۴ زیست یازدهم

سری: شماره ۱

زمان: ۱۵ دقیقه

۱ کدام گزینه جمله «در هر نوع بیماری دیابت شیرین» را به درستی تکمیل می‌کند؟

- ۱ تعداد یاخته‌های جزایر لانگرهانس به شدت کاهش می‌یابد. ۲ تزریق انسولین موجب کنترل کامل بیماری خواهد شد.
 ۳ ترشح یون‌های هیدروژن در کلیه‌ها افزایش خواهد یافت. ۴ انسولین به مقدار کافی در خون وجود ندارد.

۲ کدام گزینه، عبارت زیر را به نادرستی تکمیل می‌کند؟

«در بدن انسان سالم، غده‌ای که ، نسبت به غده درون‌ریزی که است، در موقعیت بالاتری قرار دارد.»

- ۱ به هنگام افزایش کلسیم خوناب (پلازما) هورمون بیشتری ترشح می‌کند - محل تمایز دسته‌ای از یاخته‌های دفاع اختصاصی
 ۲ با ترشح هورمون آزادکننده در تولید هورمون مؤثر بر رشد طولی استخوان نقش دارد - ترشح‌کننده هورمون محرک تیروئیدی
 ۳ بر روی صفحات رشد غضروفی اثر دارد - ترشح‌کننده هورمون مهارکننده پرولاکتین
 ۴ در پاسخ به تنش‌های روحی روانی نقش دارد - مورد هدف هورمون سکرترین

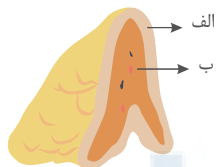
۳ به‌طور معمول، احتمال در کاهش شدید غلظت انسولین خون اندک است.

- ۱ کاهش مقاومت بدن و ضعف سیستم ایمنی ۲ کاهش بازجذب بی‌کربنات از لوله پیچ‌خورده کلیه
 ۳ کاهش توانایی یاخته‌ها برای گرفتن گلوکز از خون ۴ افزایش فعالیت پروتئازهای تولیدشده توسط یاخته‌ها

۴ کدام گزینه، عبارت زیر را به‌طور صحیح تکمیل می‌کند؟

«در غده شکل مقابل، بخش ب بخش الف»

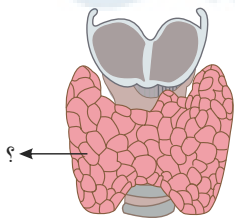
- ۱ همانند - توسط کپسول پیوندی احاطه‌کننده کلیه‌ها محافظت می‌شود.
 ۲ برخلاف - ممکن نیست تحت تأثیر مستقیم هورمون‌های LH و FSH هیپوفیزی قرار بگیرد.
 ۳ همانند - با ترشح نوعی هورمون، از طریق افزایش حجم خون، فشارخون را افزایش می‌دهد.
 ۴ برخلاف - با ترشح نوعی پیک شیمیایی، می‌تواند ظرفیت حیاتی شش‌ها را افزایش دهد.



۵ کدام گزینه ، عبارت زیر را به‌طور نادرست تکمیل می‌کند؟ « در بدن فردی سالم، در صورت افزایش ترشح

..... از غده شکل مقابل»

- ۱ هورمون‌های یددار - میزان ترشح نوعی هورمون آزادکننده هیپوتالاموسی کاهش می‌یابد.
 ۲ هر نوع هورمون - فعالیت یاخته‌های بافت ماهیچه‌ای همانند بافت استخوانی تغییر می‌کند.
 ۳ هورمون‌های تیروئیدی - میزان تولید انرژی زیستی در یاخته‌های زنده افزایش می‌یابد.
 ۴ هر پیک شیمیایی دوربرد - گیرنده‌های حساس به افزایش CO_2 در ساقه مغز بیشتر تحریک می‌شوند.



۶ چند مورد در ارتباط با فرومون‌ها، اطلاعات درستی را بیان می‌کند؟

- الف) ممکن است، یک جانور را از وجود چند گونه مختلف در اطراف خود آگاه کند.
 ب) اگر از یک فرد ترشح شود، در افراد همان گونه، پاسخ‌های رفتاری ایجاد می‌کند.
 ج) ممکن است یک جانور برای هشدار خطر حضور گونه دیگر، به هم گونه خود استفاده کند.
 د) ممکن است برای تعیین قلمرو به جانوران هم گونه آگاهی دهد.

۴ ۴

۳ ۳

۲ ۲

۱ ۱

۷) دستگاه درون ریز بدن انسان، واجد مجموعه‌ای از

- ۱) یاخته‌ها است که ترشحات خود را مستقیماً یا به کمک مجرای خاص خود به خون می‌ریزند.
- ۲) یاخته‌ها است که می‌تواند بر یاخته‌های دور از خود اثر تنظیمی داشته باشند.
- ۳) غده‌هاست که هیچ‌یک نمی‌توانند در تنظیم فشار خون نقش داشته باشند.
- ۴) غده‌هاست که می‌توانند هورمون تولیدی خود را به فضای سیناپسی ترشح نمایند.

۸) کدام یک از گزینه‌های زیر صحیح است؟

- ۱) هورمون‌ها بر تمام یاخته‌های زنده بدن اثر مشابهی دارند.
- ۲) در دوران جنینی و کودکی، کاهش فعالیت ترشحات غده زیرمغزی می‌تواند باعث عقب ماندگی ذهنی شود.
- ۳) هر نوع دیابت شیرین در نتیجه چاقی و عدم تحرک در افرادی که زمینه بیماری را دارند، بروز می‌کند.
- ۴) هورمون‌های T_3 و T_4 بر فعالیت اکثر یاخته‌های زنده دار بدن تاثیر گذار هستند.

۹) چند مورد از موارد زیر، نادرست است؟

- الف) هورمون‌های انسولین و کورتیزول، می‌توانند اثر مشابهی بر میزان گلوکز خوناب داشته باشند.
- ب) هورمون رشد با اثر بر بخش‌های مختلف تنه و دو انتهای استخوان دراز، باعث افزایش طول این نوع استخوان می‌شود.
- ج) پس از خوردن غذای دارای انواع کربوهیدرات، فقط بخش برون ریز غده لوزالمعده افزایش فعالیت خواهد داشت.
- د) غده لوزالمعده همه ترشحات خود را از طریق مجرای به دوازدهه تخلیه می‌کند.

- ۱) ۲ ۲) ۳ ۳) ۴ ۴) ۱

۱۰) کدام عبارت درست است؟

«در انسان سالم به طور معمول، هورمون مترشح از به طور مستقیم سبب می‌شود.»

- ۱) هیپوتالاموس - افزایش ترشح آلدوسترون
- ۲) هیپوفیز پسین - افزایش تولید شیر
- ۳) بخش مرکزی فوق کلیه - افزایش برون ده قلب
- ۴) هیپوفیز پسین - کاهش آب خون

۱۱) چند مورد در ارتباط با هورمون گلوکاگون صحیح است؟

- الف) گلوکز را به گلیکوژن تبدیل می‌کند.
- ب) تنظیم ترشح آن مستقل از هورمون‌های آزاد کننده و مهار کننده است.
- ج) ترشح دراز مدت هورمون محرک فوق کلیه موجب کاهش ترشح آن می‌شود.
- د) اندام هدف آن در ترشح صفرا نقش دارد.

- ۱) ۱ ۲) ۲ ۳) ۳ ۴) ۴

۱۲) نمی‌توان گفت در انسان، هورمون ترشح شده از غدد کوچکی که پشت غده سپری شکل زیر حنجره هستند،

- ۱) روی بافت پوششی مکعبی گیرنده دارند.
- ۲) سبب تغییر شکل یک ویتامین محلول در چربی می‌شوند.
- ۳) رسوب کلسیم در ماده زمینه‌ای بافت استخوانی را افزایش می‌دهند.
- ۴) در افزایش جذب کلسیم توسط سلول‌های استخوانه‌ای روده نقش دارند.

۱۳) افزایش ترشح هورمون، بر قند خون اثر افزایش‌دهنده ندارد.

- ۱) بخش قشری فوق کلیه
- ۲) بخش مرکزی فوق کلیه
- ۳) یاخته‌های درون ریز لوزالمعده
- ۴) غدد مستقر در پشت غده سپری شکل جلوی گلو

۱۴) بر خلاف درون سیتوپلاسم نوروں ساخته نمی‌شود.

- ۱) هورمون محرک فوق کلیه - اکسی‌توسین
- ۲) هورمون محرک فوق کلیه - FSH
- ۳) هورمون ضدادراری - هورمون آزادکننده
- ۴) $LH-FSH$

۱۵) در دیابت شیرین نوع I دیابت شیرین نوع II

- ۱) برخلاف - میزان انسولین خون کاهش می‌یابد.
- ۲) همانند - می‌تواند میزان pH خون افزایش یابد.
- ۳) همانند - در ادرار قند افزایش می‌یابد.
- ۴) همانند - فشار اسمزی خوناب کاهش می‌یابد.

پاسخنامه تشریحی

۱) در هر دو نوع دیابت شیرین (نوع یک و دو) به علت عدم توانایی یاخته‌ها در برداشت گلوکز خوناب، یاخته‌ها برای تأمین انرژی، چربی‌ها و با پروتئین‌ها تجزیه می‌کنند، که در نتیجه مواد اسیدی تولید شده و خون فرد اسیدی می‌شود. در نتیجه اسیدی شدن خون، میزان ترشح یون‌های هیدروژن در کلیه‌ها افزایش می‌یابد. بررسی سایر گزینه‌ها:

گزینه ۱) مربوط به دیابت شیرین نوع یک است که یک بیماری خودایمنی است و در آن دستگاه ایمنی یاخته‌های ترشح‌کننده انسولین در جزایر لانگرهانس را از بین می‌برد. گزینه ۲) تزریق انسولین موجب کنترل کامل بیماری در افراد دیابت شیرین نوع یک خواهد شد، زیرا در دیابت شیرین نوع دو، گیرنده‌های انسولین به انسولین پاسخ نمی‌دهند. گزینه ۴) توصیف دیابت شیرین نوع یک است.

۲) غده‌ای که بر صفحات رشد استخوانی اثر می‌گذارد، غده هیپوفیز است که نسبت به غده هیپوتالاموس (ترشح‌کننده هورمون مهارکننده) در موقعیت پایین‌تری قرار دارد. بررسی سایر گزینه‌ها:

گزینه ۱) غده تیروئید در افزایش کلسیم خون فعالیتش افزایش می‌یابد که نسبت به غده تیموس در موقعیت بالاتری قرار دارد. گزینه ۲) غده زیرنهنج (هیپوتالاموس) با ترشح هورمون آزادکننده، به‌طور غیرمستقیم در رشد طولی استخوان نقش دارد که نسبت به غده هیپوفیز بالاتر است. گزینه ۴) غدد فوق کلیوی که در تنش‌های روانی نقش دارد، نسبت به لوزالمعده (مورد هدف هورمون سکرین) در موقعیت بالاتری قرار دارد.

۳) در دیابت شدید و درمان نشده با تجزیه چربی‌ها، محصولات اسیدی آن‌ها در خون تجمع یافته و pH خون را کاهش می‌دهند. در نتیجه کلیه‌ها برای جبران آن ترشح H^+ و باز جذب بی‌کربنات را افزایش می‌دهد. در دیابت با تجزیه پروتئین‌های داخل یاخته، احتمال بروز ضعف ایمنی و کاهش قدرت ماهیچه‌های بدن وجود دارد.

۴) بافت پیوندی سطح کلیه، فقط روی سطح کلیه را می‌پوشاند.

۱. بافت پیوندی سطح کلیه، فقط روی سطح کلیه را می‌پوشاند.
۲. بخش (الف) هورمون‌های جنسی تولید می‌کند اما بخش (ب) و (ج) اما بخش هیچ کدام تحت تأثیر هورمون‌های FSH و LH نیستند.
۳. هورمون آلدوسترون از بخش قشری فوق کلیه ترشح و با افزایش باز جذب سدیم و آب سبب افزایش حجم خون و افزایش فشار خون می‌شود.
۴. هورمون‌های اپی نفرین و نوراپی نفرین با باز کردن نایژک‌ها ظرفیت حیاتی شش‌ها را افزایش می‌دهند.

۵) شکل مقابل غده تیروئید را نشان می‌دهد.

۱. هورمون‌های پدیدار این غده شامل T_3 و T_4 می‌شوند. افزایش این دو هورمون با مکانیسم بازخورد منفی سبب کاهش ترشح نوعی هورمون آزادکننده هیپوتالاموسی می‌شود.
۲. هورمون‌های ترشح شده از این غده علاوه بر T_3 و T_4 هورمون کلسی تونین می‌باشد. هورمون‌های T_3 و T_4 بر سوخت و ساز همه یاخته‌های مؤثرند. کلسی تونین نیز با تأثیر بر میزان کلسیم خون بر یاخته‌های استخوانی و ماهیچه‌ای مؤثر است.
۳. هورمون‌های تیروئیدی یعنی T_3 و T_4 با افزایش سوخت و ساز در یاخته‌های زنده سبب افزایش میزان انرژی زیستی می‌شوند.
۴. هورمون کلسی تونین در میزان متابولیسم نقشی ندارند بنابراین سبب افزایش CO_2 نمی‌شوند.

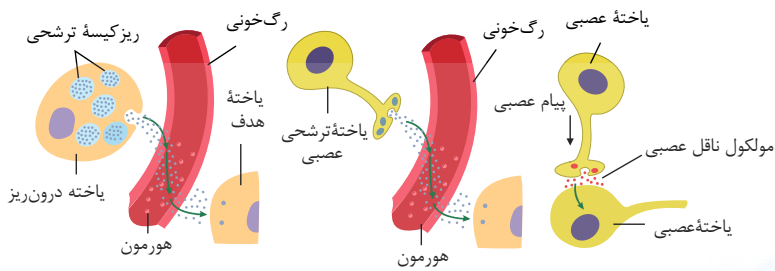
۶) جمله الف (درست): برای مثال، مار فرمون‌های موجود در هوا را که تشخیص می‌دهند و از وجود جانوران (گونه‌های مختلف دیگر) در اطراف خود آگاه می‌شوند.

جمله ب (درست): فرمون‌ها، موادی هستند که از یک فرد ترشح شده و در فرد یا افراد دیگری از همان گونه پاسخ‌های رفتاری ایجاد می‌کند.
جمله ج (درست): زنبور از فرمون‌ها برای هشدار خطر شکارچی (گونه دیگر) به زنبورهای هم‌گونه خود استفاده می‌کند.
جمله د (درست): گربه‌ها از فرمون‌ها برای تعیین قلمرو خود و آگاهی دادن به افراد دیگر هم‌گونه خود استفاده می‌کنند.

۷) گزینه ۱): دستگاه درون ریز واجد مجموعه‌ای از یاخته‌هاست که ترشحات خود را ابتدا به فضای بین سلولی می‌ریزد و سپس این ترشحات از فضای بین سلولی به خون می‌روند (ترشحات مستقیماً به خون نمی‌ریزند). غدد برون ریز ترشحات خود را از طریق مجرا خارج می‌کنند و غدد درون ریز نیاز به مجرا ندارند.



گزینه ۲): دستگاه درون ریز با تولید هورمون (پیک‌های دوربرد) به خون، پیام‌هایی را به فاصله‌ای دور منتقل می‌کنند و به همراه دستگاه عصبی، فعالیت‌های بدن را تنظیم می‌کنند.



گزینه (۳): هورمون های آلدوسترون و اپی نفرین و نوراپی نفرین می توانند در تنظیم فشار خون نقش داشته باشند.

گزینه (۴): دستگاه درون ریز هورمون ها را به خون می ریزند و ناقل های عصبی (پیک کوتاه برد) به فضای سیناپسی می ریزند.

بررسی گزینه ها: **۱** **۲** **۳** **۴** **۸**

گزینه (۱): با توجه به اینکه عده ای از هورمون ها، اندام های هدف مختلفی دارند و گاهی تاثیر آن ها بر اندام های مختلف یکسان نیست، نمی توان گفت همه هورمون ها تاثیر مشابهی بر اندام های هدف خود دارند. به طور مثال هورمون انسولین سبب افزایش جذب گلوکز در سلول های ماهیچه ای می شود ولی تاثیر آن بر روی سلول های کبد، افزایش تبدیل گلوکز به گلیکوژن است. و یا وقتی هورمون پاراتیروئیدی که کلسیم خون را افزایش می دهد به کلیه می رسد، بازجذب کلسیم را زیاد می کند، اما همان هورمون در استخوان باعث تجزیه استخوان شده و کلسیم را آزاد می کند.

گزینه (۲): یکی از هورمون های زیر مغزی، هورمون محرکه تیروئیدی است که باعث تحریک ترشح T_4 و T_3 می شود. اگر ترشح این هورمون کاهش یابد، ترشح T_3 نیز کم شده و اگر این اتفاق در دوران کودکی و نوزادی رخ دهد، می تواند اختلالات ذهنی ایجاد کند.

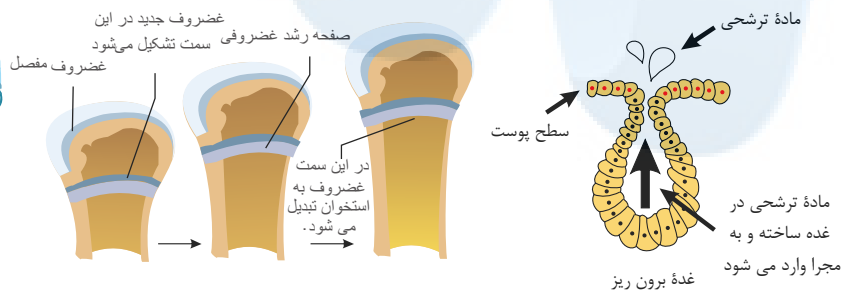
گزینه (۳): دو نوع دیابت شیرین وجود دارد.

دیابت نوع ۱: نوعی بیماری خود ایمنی است و چاقی و کم تحرکی، زمینه بروز آن نمی باشد.

دیابت نوع ۲: در افرادی که زمینه آن را دارند، چاقی و کم تحرکی سبب بروز بیماری می شود.

گزینه (۴): هورمون های T_4 و T_3 بر روی همه سلول های زنده بدن تاثیر دارند.

بررسی موارد: **۱** **۲** **۳** **۴** **۹**



مربوط به گزینه (ب)

مربوط به گزینه (د)

مورد الف) نادرست - هورمون انسولین با افزایش جذب گلوکز به یاخته های ماهیچه ای و افزایش تبدیل گلوکز به گلیکوژن در یاخته های کبدی سبب کاهش گلوکز خون می شود. اما هورمون کورتیزول میزان قند خون را افزایش می دهد.

مورد ب) نادرست - هورمون رشد برای افزایش طول استخوان، بر روی قسمت های مختلف تنه و دو انتهای استخوان تاثیر نمی گذارد. در واقع در نزدیکی دوسر استخوان های دراز، دو صفحه غضروفی وجود دارد که صفحات رشد نام دارند. مطابق شکل، یاخته های غضروفی در این صفحات تقسیم می شوند. همچنان که یاخته های جدید تر پدید می آیند، یاخته های استخوانی جانشین یاخته های غضروفی قدیمی تر می شوند و به این ترتیب، استخوان رشد می کند.

مورد ج) نادرست - پس از خوردن انواع کربوهیدرات ها، ترشحات برون ریز غده لوزالمعده شامل آنزیم های هیدرولیز کننده کربوهیدرات افزایش می یابد. هم چنین با افزایش قند خون، ترشح هورمون انسولین از بخش درون ریز نیز افزایش می یابد.

مورد د) نادرست - لوزالمعده شامل بخش های برون ریز و درون ریز است. طبق شکل، غدد برون ریز دارای مجرا هستند و ترشحات خود را از طریق مجرا به سطح یا حفرات بدن می ریزند. اما غدد درون ریز، مجرا ندارند و ترشحات خود را به درون خون می ریزند.

گزینه (۱۰): به طور مستقیم بخش مرکزی غده فوق کلیه با ترشح اپی نفرین و نوراپی نفرین سبب افزایش ضربان قلب می شود. افزایش ضربان قلب سبب افزایش برون ده قلب می شود.

بررسی سایر گزینه ها:

گزینه (۱): هورمون مترشح از هیپوتالاموس (هورمون آزاد کننده یا مهار کننده) به طور مستقیم بر روی بخش قشری غده فوق کلیه تأثیری ندارد، بلکه اثر آن با واسطه هیپوفیز پیشین می باشد.

گزینه (۲): هیچ یک از هورمون های مترشح از هیپوفیز پسین (اکسی توسین و ضد ادرازی) بر روی تولید شیر تأثیری ندارند. بلکه هورمون پرولاکتین بر ترشح شیر مؤثر است.

گزینه (۴): هورمون ضدادرازی میزان باز جذب آب را افزایش می دهد و موجب افزایش آب خون می شود، نه کاهش آن!

موارد «ب»، «ج» و «د» صحیح اند. **۱** **۲** **۳** **۴** **۱۱**

بررسی موارد:

الف) نادرست - گلوکاگون باعث تجزیه گلیکوژن به گلوکز می شود و به این ترتیب، قند خون را افزایش می دهد.

ب) درست - تنظیم ترشح هورمون گلوکاگون به میزان قند خون بستگی دارد نه هورمون های آزاد کننده و مهار کننده هیپوتالاموس.

ج) درست - ترشح دراز مدت هورمون محرک فوق کلیه باعث افزایش کورتیزول می شود که این هورمون به نوبه خود قند خون را افزایش می دهد. پس این امر سبب کاهش گلوکاگون می شود.

د) درست - اندام هدف هورمون گلوکاگون، کبد است که کبد صفرا تولید و ترشح می کند، این اندام دارای گلیکوژن است.

۱۲) غدد کوچکی که پشت غده سپری شکل (تیروئید) زیر حنجره قرار دارند، در واقع غدد پاراتیروئید می باشند.

افزایش هورمون پاراتیروئید به سه روش سبب افزایش کلسیم خون می شود:

۱) جدا کردن کلسیم از ماده زمینه ای استخوان (۲) باز جذب کلسیم از ادرار (۳) تغییر شکل ویتامین D (ویتامین محلول در چربی) و افزایش جذب کلسیم از روده ها (سلول های استوانه ای روده) به کمک ویتامین D. به این ترتیب هورمون پاراتیروئید روی بافت استخوانی و بافت پوششی مکهبی نفرون گیرنده دارد. (دیواره لوله پیچ خورده نزدیک از یک لایه بافت پوششی مکهبی تشکیل شده است.)

۱۳) غدد مستقر در پشت غده سپری شکل زیر حنجره، غدد پاراتیروئید هستند که در افزایش قند خون تأثیری ندارند.

بررسی سایر گزینه ها:

گزینه های (۱) و (۲): فوق کلیه با هورمون کورتیزول (از بخش قشری) و هورمون های اپی نفرین و نوراپی نفرین (از بخش مرکزی) قند خون را افزایش می دهند.

گزینه (۳): یاخته های درون ریز پانکراس (لوزالمعده) با تولید هورمون های گلوکاگون و انسولین مستقیماً روی قند خون مؤثر می باشند.

۱۴) درون سیتوپلاسم عده ای از نورون های هیپوتالاموس، هورمون های آزادکننده و مهارکننده، و درون سیتوپلاسم عده دیگری از نورون های هیپوتالاموس دو هورمون ضداداری و اکسی توسین ساخته می شوند.

هورمون های محرک FSH و LH و هورمون محرک فوق کلیوی مربوط به هیپوفیز پیشین هستند و توسط نورون ساخته نمی شوند.

۱۵) در دیابت نوع I میزان انسولین خوناب کاهش چشمگیری می یابد، در حالی که در دیابت نوع II ممکن است حتی میزان انسولین خوناب افزایش یابد.

در هر دو نوع دیابت pH خون کاهش یافته و اسیدی می شود (رد گزینه ۲). در افراد بیمار دیابت شیرین قند دیده می شود نه اینکه قند افزایش می یابد زیرا در فرد سالم، قند در ادرار نیست. (رد گزینه ۳). چون میزان قند خوناب افزایش می یابد، فشار اسمزی خوناب نیز افزایش می یابد (رد گزینه ۴) و فرد مرتب احساس تشنگی دارد.

مرکز مشاوره تحصیلی علیرضا افشار

مبحث: گفتار ۲ فصل ۴ زیست یازدهم

سری: شماره ۲

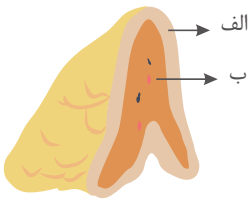
زمان: ۱۵ دقیقه

۱ در دیابت نوع I برخلاف دیابت نوع II کدام اتفاق مورد انتظار است؟

- ۱ سیستم ایمنی بدن تضعیف شده و مقاومت بدن کاهش می‌یابد. ۲ یاخته‌ها انرژی خود را از چربی‌ها و پروتئین به دست می‌آورند.
۳ گیرنده‌های انسولین در سطح یاخته‌ها به آن پاسخ نمی‌دهند. ۴ در پی کاهش میزان انسولین خوناب، میزان گلوکز خون افزایش می‌یابد.

۲ با توجه به شکل مقابل، کدام گزینه، عبارت زیر را به‌طور نادرست تکمیل می‌کند؟ (با تغییر)

«در غده فوق کلیه انسان، بخش (ب) بخش (الف).....»



- ۱ همانند - توسط بافت پیوندی رشته‌ای کپسول کلیه محافظت نمی‌شود.
۲ برخلاف - می‌تواند با ترشح نوعی هورمون، ظرفیت حیاتی شش‌ها را افزایش دهد.
۳ همانند - با اثر بر فعالیت ضخیم‌ترین لایه دیواره قلب، فشار خون انسان را افزایش می‌دهد.
۴ برخلاف - هورمونی که ترشح طولانی مدت آن می‌تواند منجر به کاهش داپدز نوتروفیل‌ها در بدن شود، را ترشح نمی‌کند.

۳ تنوع یاخته هدف کدام هورمون زیر از سایر هورمون‌ها بیشتر می‌باشد؟

- ۱ هورمون مؤثر در تنظیم ریتم شبانه‌روزی ۲ هورمون مؤثر بر تولید شیر در غدد شیری
۳ هورمون مؤثر در تنظیم میزان تجزیه گلوکز و انرژی در دسترس ۴ هورمون مترشحه تحت تأثیر آنزیم رنین

۴ در بدن یک انسان سالم و بالغ هر یاخته‌ای که توانایی تجزیه گلیکوژن را دارد، قطعاً.....

- ۱ در سطح زیرین خود، فاقد شبکه‌ای از پروتئین‌ها و گلیکوپروتئین‌های رشته‌ای می‌باشد.
۲ تجزیه گلوکز را در درون خود به صورت کامل و با مصرف O_2 انجام می‌دهد.
۳ در شرایطی می‌تواند پیک‌های شیمیایی کوتاه برد تولید کند.
۴ تنها از طریق انشعابات سرخرگ‌ها گلوکز را دریافت می‌کند.

۵ وجه اشتراک بخش قشری و بخش مرکزی فوق کلیه در این است که.....

- ۱ می‌توانند باعث افزایش ضربان قلب همانند برون‌ده قلبی شوند. ۲ تحت کنترل فعالیت دستگاه عصبی خودمختار قرار دارند.
۳ می‌توانند موجب افزایش فعالیت آنزیمی در گویچه‌های قرمز شوند. ۴ هورمون توسط یاخته‌های عصبی درون ریز به خون وارد می‌شود.

۶ در انسان سالم و بالغ، غده درون ریز قرار دارد.

- ۱ جذب‌کننده یُد کمی پایین‌تر از غده درون ریز محل بلوغ لنفوسیت‌های T
۲ دارای یاخته‌های هدف برای هورمون‌های آزادکننده، کمی بالاتر از غده اپی‌فیز
۳ ترشح‌کننده هورمون‌های افزایشنده و کاهنده قند خون، بر روی کلیه
۴ که هورمون مترشحه از آن که موجب تضعیف دستگاه ایمنی می‌شود، در سطح پشتی شکم

۷ کاهش مقدار.....

- ۱ هورمون‌های تیروئیدی، باعث کاهش هورمون محرک تیروئیدی می‌شود.
۲ هورمون‌های پاراتیروئیدی T_P ، منجر به اختلالات نمو دستگاه عصبی می‌شود.
۳ کلسیم خوناب، منجر به افزایش ترشح کلسی‌تونین از غده سپردیس می‌شود.
۴ ویتامین D، منجر به افزایش ترشح هورمون‌های محرک از غده زیر مغزی نمی‌شود.

۸ غده‌ای که ترشحات آن ، نسبت به سایر گزینه‌ها در یک فرد ایستاده بالاتر است.

- ۱ تحریک ترشح هورمون‌های تیروئیدی را برعهده دارد.
- ۲ در تمایز گروهی از لنفوسیت‌های بدن نقش دارد.
- ۳ باعث افزایش سدیم خوناب می‌شود.
- ۴ میزان تجزیه گلوکز یاخته‌ها و انرژی در دسترس را تنظیم می‌کند.

۹ چند مورد از موارد زیر، جمله زیر را به درستی کامل می‌نماید؟

«در دختر بچه ۴ ساله، تحریک»

- * رشد طولی استخوان ران به طور مستقیم تحت کنترل هورمون ترشح شده از بخش پسین غده زیر مغزی قرار دارد.
- * ترشح هورمون ضداداری از بخش پسین غده هیپوفیز، تحت کنترل هورمون‌های آزادکننده هیپوتالاموسی می‌باشد.
- * خروج شیر از غدد شیری بر عهده هورمونی است که بر دستگاه ایمنی بدن انسان نیز اثر دارد.

- ۱ صفر
- ۲ ۱
- ۳ ۲
- ۴ ۳

۱۰ کدام عبارت نادرست است؟ «ترشحات یک غده ممکن است،»

- ۱ بدون ورود به خون در خارج از غده ذخیره شوند.
- ۲ در بدن عملکرد تنظیمی مخالف هم دیگر داشته باشند.
- ۳ در مبارزه با میکروب‌ها دخالت داشته باشند.
- ۴ هم به عنوان هورمون و هم به عنوان ناقل عصبی عمل کنند.

۱۱ چند مورد در ارتباط با هورمون گلوکاگون صحیح است؟

- الف) ترشح آن، سبب تبدیل گلوکز به گلیکوژن می‌شود.
- ب) ترشح آن طی مکانیسم بازخورد منفی و از طریق غلظت قند خون تنظیم می‌شود.
- ج) ترشح دراز مدت هورمون محرک فوق کلیه موجب کاهش ترشح آن می‌شود.
- د) موجب افزایش فشار اسمزی سلول هدف می‌شود.

- ۱ ۱
- ۲ ۲
- ۳ ۳
- ۴ ۴

۱۲ چند مورد جمله زیر را به درستی کامل می‌کند؟ (با تغییر)

- افزایش هورمون می‌تواند نهایتاً باعث افزایش
- الف) آزادکننده - هورمون افزایشدهنده فشار خون شود.
- ب) ضداداری - غلظت ادرار شود.
- ج) تیروئیدی - رشد سخت‌ترین نوع بافت پیوندی گردد.

- ۱ ۱
- ۲ ۲
- ۳ ۳
- ۴ صفر

۱۳ کدام یک از گزینه‌ها، عبارت زیر را به نادرستی کامل می‌کند؟

«قسمتی از هیپوفیز که دو نوع هورمون هیپوتالاموسی در آن ذخیره می‌شود،»

- ۱ با هیپوتالاموس ارتباط خونی مستقیم دارد.
- ۲ حاوی پایانه‌های آکسونی است که با هیچ نورون دیگری سیناپس ندارند.
- ۳ هورمونی آزاد می‌کند که سبب انقباض سلول‌های ماهیچه‌ای دوکی شکل می‌شوند.
- ۴ با آزاد سازی هورمونی می‌تواند بر فعالیت یک غده برون‌ریز تأثیر داشته باشد.

۱۴ در دیابت شیرین نوع I دیابت شیرین نوع II

- ۱ همانند - مقدار اوره خون افزایش می‌یابد.
- ۲ برخلاف - زمینه‌های ارثی وجود دارد.
- ۳ همانند - اختلالات خودایمنی مشاهده می‌شود.
- ۴ برخلاف - مقدار گلیکوژن سلول‌های کبدی افزایش می‌یابد.

۱۵ کدام نادرست است؟ « ترشحات»

- ۱ افزایش - بخش مرکزی فوق کلیه می‌تواند منجر به افزایش آب میان بافتی گردد.
- ۲ کاهش - بخش قشری فوق کلیه می‌تواند منجر به افزایش ترشحات هیپوفیز گردد.
- ۳ کاهش - غدد پاراتیروئیدی می‌تواند تولید ویتامین D در بدن را کاهش دهد.
- ۴ افزایش - غده سپری شکل می‌تواند به افزایش استحکام استخوان منجر شود.

پاسخنامه تشریحی

۱) بررسی گزینه‌ها:

گزینه ۱: در هر دو نوع دیابت شیرین ممکن است سیستم ایمنی ضعیف و مقاومت بدن کم شود.
گزینه ۲: در هر دو نوع دیابت شیرین یاخته‌ها انرژی خود را از چربی‌ها و یا پروتئین‌ها می‌گیرند.
گزینه ۳: در دیابت نوع II گیرنده‌های انسولین به آن پاسخ نمی‌دهند.

گزینه ۴: در دیابت نوع I غلظت گلوکز در پلاسما افزایش و غلظت انسولین به دلیل تخریب یاخته‌های سازنده انسولین در جزایر لانگرهانس کاهش می‌یابد؛ اما در دیابت نوع II غلظت انسولین و گلوکز هر دو افزایش می‌یابد.

۲) دقت کنید هورمون آلدوسترون از طریق افزایش حجم خون، فشار خون را افزایش می‌دهد و بر فعالیت میوکاردر قلب اثری ندارد.
بررسی سایر گزینه‌ها:

گزینه ۱) بافت پیوندی رشته‌ای به نام کپسول، کلیه را احاطه می‌کند نه فوق کلیه را.

گزینه ۲) اپی نفرین و نور اپی نفرین یکی از وظایف آن، نایژک‌ها را در شش باز می‌کنند. در نتیجه باعث افزایش ظرفیت حیاتی می‌شود.

گزینه ۴) کورتیزول که از بخش الف ترشح می‌شود و اگر تنش‌ها به مدت زیادی ادامه یابد، کورتیزول دستگاه ایمنی را تضعیف می‌کند، که یکی از عواقب آن کاهش دپاندر گلبول‌های سفید است. همچنین کورتیزول التهاب را کاهش می‌دهد.

۳) هورمون‌های تیروئیدی، بر روی همه یاخته‌های زنده هسته‌دار بدن انسان تأثیر گذار هستند.

۴) یاخته‌های ماهیچه‌ای، یاخته‌های کبدی و یاخته‌های پوششی تولید کننده آنزیم‌های تجزیه گلیکوژن در تجزیه گلیکوژن نقش دارند.

۱. یاخته‌های پوششی تولید کننده آنزیم تجزیه کننده گلیکوژن نیز توانایی تجزیه گلیکوژن دارد. یاخته‌های پوششی دارای غشای پایه یعنی شبکه از پروتئین‌ها و گلیکوژن‌های رشته‌ای هستند.
۲. یاخته ممکن است تنفس بیهوازی رخ دهد.

۳. هر سه نوع یاخته اگر آلوده به ویروس شوند می‌توانند اینترفرون نوع ۱ که نوعی پیک کوتاه برد است تولید کنند.

۴. کبد از سیاهرگ باب نیز گلوکز دریافت می‌کند.

۵) ۱. هورمون‌های بخش مرکزی فوق کلیه سبب افزایش ضربان قلب و در نتیجه افزایش برون ده قلبی می‌شوند.

۲. بخش قشری فوق کلیه تحت کنترل دستگاه عصبی خودمختار قرار ندارد.

۳. کورتیزول از بخش قشری و اپی نفرین و نور اپی نفرین از بخش مرکزی غده فوق کلیه، سبب افزایش قند خون و سپس افزایش متابولیسم می‌شوند. با افزایش متابولیسم و افزایش CO_2 ، فعالیت آنزیم انیدراز کربنیک نیز افزایش می‌یابد.

۴. بخش قشری ساختار عصبی ترشح ندارد.

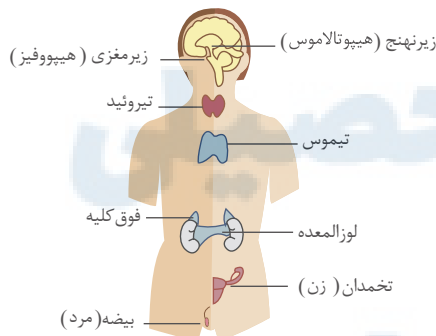
۶) بررسی گزینه‌ها:

۱. غده درون ریز جذب کننده ید بدن، تیروئید و غده درون ریز محل بلوغ لنفوسیت T، تیموس است. تیروئید بالاتر از تیموس قرار دارد.

۲. غده درون ریز دارای یاخته‌های هدف برای هورمون آزاد کننده، هیپوفیز پیشین است. غده اپی فیز بالاتر از هیپوفیز قرار دارد.

۳. غده درون ریز ترشح کننده هورمون‌های افزایشنده و کاهنده قند خون، پانکراس است. این غده بر روی کلیه قرار ندارد.

۴. غده درون ریز که هورمون مترشح از آن موجب تضعیف سیستم ایمنی می‌شود، غده فوق کلیه است و هورمون مورد نظر، کورتیزول می‌باشد. غده فوق کلیه بر روی کلیه قرار دارد و کلیه در سطح پشتی شکم قرار دارد.



مربوط به گزینه ۴

۷) گزینه ۱: اگر ید در غذا به مقدار کافی نباشد، آنگاه هورمون تیروئیدی به اندازه کافی ساخته نمی‌شود. در این حالت غده زیر مغزی با ترشح هورمون محرک تیروئید باعث رشد بیشتر غده می‌شود. پس کاهش هورمون تیروئیدی سبب ترشح بیشتر هورمون محرک تیروئیدی می‌شود.

گزینه ۲: کاهش T_p سبب اختلالات نمو دستگاه عصبی می‌شود اما T_p هورمون تیروئیدی است نه پاراتیروئیدی.

گزینه ۳: کاهش کلسیم خوناب سبب کاهش ترشح کلسی تونین از غده سپردیس می‌شود. زیرا کلسی تونین میزان کلسیم خون را کم می‌کند.

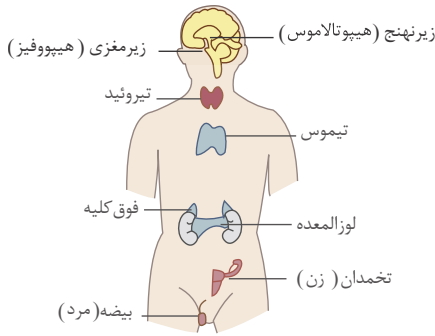
گزینه ۴: ویتامین D سبب افزایش جذب کلسیم از روده می‌شود؛ در نتیجه، میزان کلسیم خون افزایش می‌یابد. کلسیم خون بر روی میزان هورمون پاراتیروئیدی و کلسی تونین مؤثر است. غدد ترشح کننده هورمون پاراتیروئید تحت تأثیر هورمون‌های محرک هیپوفیز نیستند.

۸) گزینه ۱: بخش پیشین غده هیپوفیز با ترشح هورمون محرک غده تیروئید، غده تیروئید را تحریک می‌کند. در فرد ایستاده، از بین غده‌های هیپوفیز، تیروئید، فوق کلیه و تیموسین، به ترتیب: هیپوفیز، تیروئید، تیموس، فوق کلیه از بالا به پایین قرار دارند.

گزینه ۲: تیموس با ترشح تیموسین در تمایز گروهی از لنفوسیت‌های بدن نقش دارد.

گزینه ۳: غده فوق کلیه با ترشح هورمون آلدوسترون باعث افزایش سدیم خوناب می‌شود.

گزینه ۴: غده تیروئید با ترشح هورمون‌های T_3 و T_4 میزان تجزیه گلوکز یاخته‌ها و انرژی در دسترس را تنظیم می‌کند.



۹) بررسی موارد:

مورد اول) نادرست، رشد طولی استخوان ران، تحت تاثیر مستقیم هورمون رشد که از بخش پیشین هیپوفیز (زیر مغزی) ترشح می شود، صورت می گیرد. هورمون های ترشح شده از بخش پسین هیپوفیز یعنی ضدادراری و اکسی توسین، در رابطه با رشد طولی استخوان تاثیر مستقیم ندارند.

مورد دوم) نادرست، هورمون های آزاد کننده هیپوتالاموس بر روی ترشح هورمون های بخش پیشین هیپوفیز موثرند نه بخش پسین.

مورد سوم) نادرست، خروج شیر از غدد شیری تحت تاثیر هورمون اکسی توسین است. هورمونی که در ایمنی بدن نقش دارد، پرولاکتین است که نقش آن در شیر سازی است نه خروج شیر.

۱۰) هورمون های اپی نفرین و نوراپی نفرین که از قسمت مرکزی غده فوق کلیه ترشح می شوند و صرفاً نقش هورمونی در این غده دارند. این پیک های شیمیایی برای این غده نقش انتقال دهنده عصبی را ایفا نمی کنند. ممکن است یک ماده مثلاً اپی نفرین و نوراپی نفرین هم نقش هورمون، هم نقش ناقل عصبی را داشته باشند اما از یک غده اگر ترشح شوند فقط نقش هورمون و اگر از انتهای آکسون آزاد شوند نقش ناقل عصبی را دارند.

بررسی سایر گزینه ها:

گزینه (۱): هورمون های اکسی توسین و ضدادراری در هیپوتالاموس تولید و بدون ورود به خون از طریق آکسون به هیپوفیز می آیند و در آن جا ذخیره می شوند. در هیپوفیز پسین ذخیره می شوند.

گزینه (۲): هورمون های پانکراس (انسولین و گلوکاگون) در تنظیم قند خون، نقشی مخالف هم دارند.

گزینه (۳): ترشحات غده های بزاقی، غده های عرق، غده های اشکی و ... به واسطه داشتن آنزیم لیزوزیم، در مبارزه با میکروب ها نقش دارند!

۱۱) موارد ب، ج و د صحیح اند.

بررسی گزینه ها:

الف) نادرست - گلوکاگون، باعث تجزیه گلیکوژن به گلوکز می شود.

ب) درست - غلظت گلوکاگون از طریق غلظت قند و طی بازخورد منفی تنظیم می شود.

ج) درست - ترشح دراز مدت هورمون محرک فوق کلیه، منجر به ترشح کورتیزول و افزایش قند خون می شود که طی خود تنظیمی منفی موجب کاهش غلظت گلوکاگون می شود.

د) درست - با افزایش غلظت گلوکز درون سلول، فشار اسمزی سلول افزایش می یابد.

۱۲) موارد الف، ب و ج جمله فوق را به درستی تکمیل می کنند.

بررسی موارد:

الف) درست - فشارهای روحی - جسمی موجب تولید هورمون آزاد کننده از هیپوتالاموس می شود که در نهایت موجب تولید هورمون محرک غده فوق کلیه شده و این هورمون به نوبه خود موجب تولید آلدوسترون می شود. ترشح آلدوسترون سدیم خون را بالا می برد و موجب افزایش فشار خون می گردد.

ب) درست - هورمون ضدادراری سبب می شود در مواقع لزوم ادرار غلیظ شده و خون رقیق گردد. چون باز جذب آب به داخل خون را افزایش می دهد.

ج) درست - هورمون های تیروئیدی رشد طبیعی مغز استخوان ها و ماهیچه ها را طی دوران کودکی افزایش می دهند. استخوان، سخت ترین بافت پیوندی است.

۱۳) صورت سؤال به هیپوفیز پسین اشاره دارد. هیپوفیز پسین با هیپوتالاموس ارتباط خونی مستقیم ندارد بلکه ارتباط عصبی (از طریق نورون ها) دارد.

بررسی سایر گزینه ها:

گزینه (۲): پایانه های آکسونی در هیپوفیز پسین با نورون دیگری سیناپس ندارند. این پایانه های آکسونی فقط هورمون های ذخیره شده را ترشح می کنند.

گزینه (۳): ترشح هورمون اکسی توسین در هنگام زایمان موجب انقباض ماهیچه های صاف رحم می شود.

گزینه (۴): هورمون اکسی توسین بر باخته های غده های پستانی که نوعی غده برون ریز هستند، تأثیر می گذارد.

۱۴) در هر دو نوع دیابت شیرین سلول ها توانایی جذب گلوکز از خون را ندارند، بنابراین سلول ها از چربی ها و پروتئین ها برای ایجاد انرژی استفاده می کنند که استفاده از پروتئین ها منجر به افزایش تولید اوره می شود. زیرا در نتیجه تجزیه آمینواسیدها آمونیاک به دست می آید.

در هر دو نوع دیابت شیرین وراثت دخالت دارد (مستقیم یا غیرمستقیم) (رد گزینه ۲). دیابت شیرین نوع I فقط نوعی بیماری خودایمنی (اختلال در عملکرد ایمنی بدن) است (رد گزینه ۳). از طرفی به دلیل اینکه گلوکز جذب سلول های کبدی نمی شود، در هر دو نوع دیابت شیرین گلیکوژن سلول های کبد کاهش پیدا می کند (رد گزینه ۴).

۱۵) هورمون غده پاراتیروئیدی باعث تغییر شکل (فعال شدن) ویتامین D می شود نه تولید ویتامین D.

بررسی سایر گزینه ها:

گزینه (۱): بخش مرکزی فوق کلیه با ترشح اپی نفرین و نوراپی نفرین سبب افزایش فشار خون می شود. افزایش فشار خون منجر به افزایش آب میان بافتی می گردد.

گزینه (۲): کاهش ترشحات هورمون های بخش قشری غده فوق کلیه باعث تحریک هیپوفیز پیشین و ترشح هورمون تحریک کننده فوق کلیه می شود.

گزینه (۴): تیروئید، غده سپری شکل است که افزایش هورمون کلسی تونین آن می تواند منجر به افزایش رسوب کلسیم در استخوان و افزایش میزان استحکام آن گردد.

مبحث: گفتار ۲ فصل ۴ زیست یازدهم

سری: شماره ۳

زمان: ۱۵ دقیقه

۱ در هر فرد مبتلا به بیماری دیابت شیرین درمان نشده نسبت به یک فرد سالم

- ۱ فشار اسمزی خون کاهش یافته است.
- ۲ غلظت انسولین خون به شدت کاهش یافته است.
- ۳ میزان تولید نوعی ماده زائد نیتروژن دار افزایش یافته است.
- ۴ ابتلا به دیابت شیرین، فقط به دنبال چاقی و عدم تحرک ظاهر شده است.

۲ اسکلت جانوری که به منظور هشدار دادن به دیگر هم گونه های خود از حضور شکارچی، فرومون ترشح می کند اسکلت کوسه ماهی، (با تغییر)

- ۱ همانند - در پی نیروی وارد شده از جانب ماهیچه های بدن، حرکت می کند.
- ۲ همانند - در حفاظت از طناب عصبی پشتی جانور نقش مهمی دارد.
- ۳ برخلاف - با افزایش اندازه جانور، باید بزرگ تر و نازک تر شود.
- ۴ برخلاف - در حفاظت از اندام های درونی بدن نقش دارد.

۳ کدام گزینه، عبارت زیر را به نادرستی تکمیل می کند؟

«در انسان، غیر طبیعی هورمون سبب می شود تا پیدا کند.»

- ۱ افزایش - تیروئیدی - میزان مصرف گلوکز توسط یاخته های زنده، افزایش
- ۲ کاهش - انسولین - میزان فراوان ترین ماده آلی ادرار، افزایش
- ۳ افزایش - کورتیزول - میزان فعالیت یاخته های درشت خوار، کاهش
- ۴ کاهش - ضدادراری - میزان تحریک گیرنده های اسمزی زیرنهج، کاهش

۴ کدام گزینه، عبارت زیر را به درستی تکمیل می کند؟

«به طور معمول در انسان سالم و بالغ، بخش پسین غده زیر مغزی

- ۱ محل ساخت و ترشح برخی پیک های شیمیایی دوربرد می باشد.
- ۲ محل قرارگیری جسم یاخته ای و پایانه آکسون یاخته های عصبی زیرنهج است.
- ۳ محل ترشح نوعی هورمون مؤثر بر تولید شیر در غدد شیری زنان می باشد.
- ۴ موادی را تولید می کند که به ماده زمینه ای بافت پیوندی خون وارد می شوند.

۵ به طور معمول در انسان، می تواند ناشی از آلدوسترون باشد.

- ۱ ایجاد فشار روحی و جسمی - افزایش
- ۲ افزایش مقدار فشار وارده به دیواره سرخرگ آئورت - افزایش
- ۳ کاهش مقدار سدیم موجود در ادرار - کاهش
- ۴ افزایش مقدار سدیم در خون - کاهش

۶ چند مورد عبارت زیر را به درستی تکمیل می کند؟

«می توان گفت کسانی که هستند، میزان هورمون در خوناب آن ها افزایش می یابد.»

الف) دارای اختلال در ترشح و عملکرد صفرا - پاراتیروئیدی

ب) مبتلا به پرکاری غده های پاراتیروئید - کلسی تونین

ج) مبتلا به دیابت شیرین نوع I - گلوکاگون

- ۱ صفر
- ۲ ۱
- ۳ ۲
- ۴ ۳

۷ هر هورمونی که افزایش دهنده گلوکز خوناب است،

- ۱ از یاخته های درون ریز پانکراس به خون وارد می شود.
- ۲ قطعاً بر میزان فعالیت آنزیمی در گویچه قرمز تأثیر گذار است.
- ۳ ممکن نیست از بخشی با ساختار عصبی ترشح شود.
- ۴ از غده ای که در سطح پایین تری نسبت به کیسه صفرا قرار دارد، ترشح می شود.

۸ هر گاه میزان کلسیم خوناب پیدا کند، هورمون بیشتر ترشح می گردد و باعث می شود.

- ۱ افزایش - کلسی تونین - افزایش برداشت کلسیم از ماده زمینه ای استخوان
- ۲ کاهش - کلسی تونین - افزایش باز جذب کلیوی کلسیم
- ۳ کاهش - پاراتیروئیدی - افزایش جذب کلسیم از روده
- ۴ افزایش - پاراتیروئیدی - افزایش دفع کلسیم از طریق ادرار

۹ در فرد مبتلا به دیابت نوع یک،
 ۱ پاسخ گیرنده‌های انسولینی در کبد، کاهش چشم‌گیری می‌یابد.
 ۳ به ذخیره گلوکز سلول‌های عضلانی، افزوده می‌شود.

۱۰ در افراد مبتلا به دیابت نوع دو، نمی‌یابد.
 ۱ اندازه سلول‌های بافت چربی، کاهش
 ۳ تعداد سلول‌های درون ریز پانکراس، کاهش

۱۱ افزایش فعالیت هیپوفیز پسین منجر به هورمون ضد ادراری در این غده و به دنبال آن منجر به (با تغییر)
 ۱ افزایش ساخت - کاهش ادرار می‌شود.
 ۳ افزایش ترشح - افزایش بازجذب آب در گردیزه می‌گردد.

۱۲ هورمونی که مقدار غلظت آن، با وجود نور در محیط رابطه عکس دارد می‌تواند، از غده‌ای که قرار دارد، ترشح شده باشد.
 ۱ در زیر هیپوتالاموس (زیر نهنج)
 ۳ از غده‌ای که در لبه پایینی بطن سوم

۱۳ هورمونی که در تنظیم ریتم شبانه روزی نقش دارد، نام دارد و توسط یاخته‌های ترشح می‌شود.
 ۱ ملاتونین - هیپوتالاموس (زیر نهنج) ساخته و از هیپوفیز پسین (زیر مغزی)
 ۳ ملاتونین - غده تیموسین ساخته و.

۱۴ پیام اثر همیشه به یک عملکرد یکسان تفسیر می‌شود.
 ۱ انواع مختلف هورمون که بر روی یک نوع یاخته هدف - می‌گذارند
 ۲ یک نوع هورمون که بر روی اندام‌های مختلف هدف - می‌گذارند
 ۳ یک نوع هورمون که بر روی یک اندام هدف - می‌گذارند
 ۴ انواع مختلف هورمون که بر روی یاخته‌های هدف با ساختار گیرنده هورمونی مشابه - می‌گذارند

۱۵ چند مورد از موارد زیر به درستی بیان شده است؟
 الف) فرمون‌ها از یک فرد ترشح شده و فقط در افراد گونه دیگر، پاسخ‌های رفتاری ایجاد می‌کند.
 ب) زنبور از فرمون‌ها برای هشدار خطر حضور شکارچی به دیگر زنبورها استفاده می‌کند.
 ج) مارها قادرند با گیرنده‌های شیمیایی بینی خود، فرمون‌های موجود در هوا را تشخیص دهند.
 د) گربه‌ها از فرمون‌ها برای تعیین قلمرو خود استفاده می‌کنند.

۱ ۴

۲ ۳

۳ ۲

۴ ۱

علیرضا افشار

پاسخنامه تشریحی

۱. گزینۀ ۱: در دیابت شیرین چون گلوکز نمی‌تواند وارد یاخته‌ها شود، سلول‌ها مجبورند انرژی مورد نیاز خود را از تجزیۀ چربی‌ها و پروتئین‌ها به دست آورند. در نتیجۀ تجزیۀ پروتئین‌ها میزان تولید آمونیاک و در نتیجۀ اوهر افزایش می‌یابد.

بررسی سایر گزینه‌ها:

گزینه ۲: در افراد مبتلا به دیابت شیرین افزایش میزان گلوکز پلاسما و افزایش دفع ادرار، فشار اسمزی خون افزایش یافته است.

گزینه ۳: در دیابت نوع ۲ تولید گیرنده‌های انسولین کاهش یافته است نه میزان انسولین.

گزینه ۴: در بیماری دیابت شیرین بیماری زمینۀ ژنتیک نیز می‌تواند داشته باشد. رژیم غذایی نیز در ابتلا به دیابت نوع ۲ مؤثر است.

۲. گزینۀ ۲: زنبور نوعی حشره است که هنگام حضور شکارچی با ترشح فرمون دیگران را باخبر می‌سازد. در همهٔ جانوران اساس حرکت مشابه است. برای حرکت، ماهیچه‌ها به اسکلت جانور نیرو وارد کرده و موجب حرکت آن می‌شوند.

بررسی سایر گزینه‌ها:

گزینه ۱: حشرات طناب عصبی پشتی ندارند.

گزینه ۳: در حشرات با افزایش اندازهٔ بدن، اسکلت خارجی آن هم بزرگ‌تر و ضخیم‌تر می‌شود.

گزینه ۴: اسکلت خارجی حشرات همانند کوسه ماهی در حفاظت از اندام‌های درونی نقش دارد. مثلاً جمجمه در کوسه ماهی در حفاظت مغز نقش دارد.

۳. گزینۀ ۳: ۱. افزایش هورمون های T_3 و T_4 یعنی هورمون های تیروئیدی سبب افزایش متابولیسم و در نتیجه افزایش مصرف گلوکز می‌شوند.

۲. کاهش انسولین سبب کاهش ورود قند به درون یاخته‌ها می‌شود. به همین دلیل تجزیۀ پروتئین‌ها افزایش می‌یابد تا تامین کمبود مواد غذایی یاخته‌ها بشود. افزایش میزان آمینواسیدها سبب افزایش میزان اوهر که بیش‌ترین ترکیب آلی ادرار است می‌شود.

۳. افزایش کورتیزول سبب ضعف سیستم ایمنی از جمله کاهش فعالیت درشت‌خوارها می‌شود.

۴. کاهش هورمون ضداداراری سبب کاهش بازجذب آب و در نتیجه افزایش فشار اسمزی می‌شود. افزایش فشار اسمزی سبب تحریک بیش‌تر گیرنده‌ها اسمزی زیر نهنج می‌شود.

۴. گزینۀ ۴: یاخته‌ها و آکسون نورون‌های بخش پسین هیپوفیز، با انجام تنفس یاخته‌ای، دی اکسید کربن و آب تولید می‌کنند، که این مواد به جریان خون وارد می‌شوند.

بررسی سایر گزینه‌ها:

گزینه ۱: بخش پسین غده ی زیر مغزی، محل ساخت هورمون نیست. بلکه هورمون‌های ترشح شده از بخش پسین غده ی زیر مغزی توسط نورون‌هایی است که جسم سلولی آنها در هیپوتالاموس (زیرنهنج) قرار دارد.

گزینه ۲: فقط بخشی از آکسون نورون‌های هیپوتالاموس در بخش پسین هیپوفیز یافت می‌شود و جسم یاخته‌ای نورون‌ها در هیپوتالاموس (زیرنهنج) قرار دارند.

گزینه ۳: هورمون پرولاکتین از بخش پیشین هیپوفیز ترشح می‌شود. این هورمون بر تولید شیر در غدد شیری زنان تاثیرگذار است. هورمون اکسی توسین که از بخش پسین غدهٔ زیر مغزی ترشح می‌شود بر روی ترشح شیر (نه ساخت شیر) اثر دارد.

۵. گزینۀ ۵: ۱. هنگام افزایش فشار روحی جسمی ترشح برخی هورمون‌ها مانند کورتیزول افزایش می‌یابد.

۲. با افزایش میزان ترشح آلدسترون، بازجذب سدیم و به دنبال آن بازجذب آب افزایش می‌یابد و فشار خون بالا می‌رود، در نتیجه فشار وارد بر دیوارهٔ سرخرگ آنورت هم افزایش می‌یابد.

۳. کاهش آلدسترون سبب کاهش بازجذب سدیم و افزایش سدیم ادرار می‌شود.

۴. کاهش آلدسترون سبب کاهش سدیم خون می‌شود.

۶. گزینۀ ۶: جملهٔ الف (درست): اختلال در ترشح صفرا ممکن است به سوء جذب ویتامین‌های محلول در چربی از جمله ویتامین D منجر شود، کمبود ویتامین D منجر به

کاهش کلسیم خوناب می‌شود و به دنبال آن هورمون پاراتیروئیدی برای افزایش دادن کلسیم خوناب، افزایش می‌یابد.

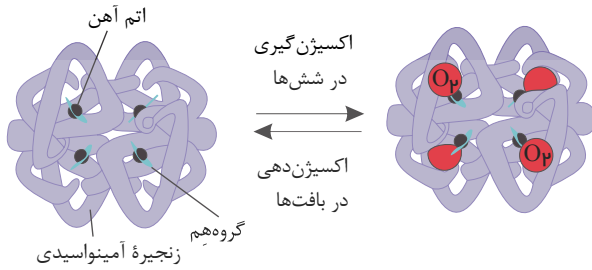
جملهٔ ب (درست): پرکاری غده‌های پاراتیروئید، سبب افزایش هورمون پاراتیروئیدی می‌شود و به دنبال آن کلسیم خوناب افزایش می‌یابد و افزایش کلسیم خوناب سبب افزایش هورمون کلسی تونین می‌شود.

جملهٔ ج (نادرست): در دیابت شیرین، چون سلول‌ها نمی‌توانند گلوکز را از خون بگیرند، گلوکز خوناب بیش از حد افزایش می‌یابد، درحالی که کمبود گلوکز خوناب سبب ترشح گلوکاگون می‌شود.

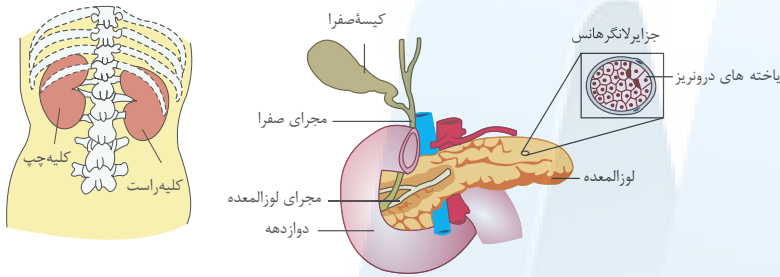
۷. گزینۀ ۱: هورمون‌های کورتیزول، اپی نفرین و نوراپی نفرین نیز همانند گلوکاگون بالا برندهٔ گلوکز خون هستند اما برخلاف گلوکاگون از لوزالمعده ترشح نمی‌شوند بلکه از غدهٔ فوق کلیه ترشح می‌شوند.

گزینه ۲: هر هورمونی که افزایشدهندهٔ گلوکز خوناب است باعث افزایش دسترسی یاخته‌ها به گلوکز می‌شود؛ در نتیجه، به‌طور غیرمستقیم سبب افزایش مصرف گلوکز و تنفس یاخته‌ای در یاخته

های مصرف‌کننده خواهد شد، همان‌طور که می‌دانید با افزایش تنفس یاخته‌ای تولید دی‌اکسید کربن نیز بیشتر می‌شود و در نتیجه، فعالیت آنزیم ایندراز کربنیک گویچه‌های قرمز نیز افزایش می‌یابد.



گزینه (۳): اپی نفرین و نوراپی نفرین که یکی از هورمون‌های بالابرنده گلوکز خون است، از بخش مرکزی غده فوق کلیه ترشح می‌شود و بخش مرکزی غده فوق کلیه ساختار عصبی دارد.
گزینه (۴): هورمون‌های افزایشنده گلوکز خوناب از غدد فوق کلیه (قشری و مرکزی)، پانکراس ترشح می‌شود که غده فوق کلیه از کیسه صفرا بالاتر و پانکراس از کیسه صفرا پایین تر است.



۸ بررسی گزینه‌ها:

گزینه (۱): هر گاه میزان کلسیم خوناب افزایش یابد، هورمون کلسی‌تونین افزایش می‌یابد. افزایش کلسی‌تونین مانع از برداشت بیشتر کلسیم از استخوان می‌شود و در نتیجه مانع ورود بیشتر کلسیم به داخل خون می‌گردد.

گزینه (۲): اگر میزان کلسیم خوناب کاهش پیدا کند، ترشح کلسی‌تونین نیز کاهش پیدا می‌کند تا مانع برداشت کلسیم از استخوان نشود. در ضمن کلسی‌تونین بر روی باز جذب کلیوی کلسیم تأثیری ندارد.

گزینه (۳): اگر میزان کلسیم خوناب کاهش پیدا کند، ترشح هورمون پاراتیروئیدی افزایش می‌یابد تا با افزایش میزان کلسیم خوناب به راه‌های مختلف کاهش کلسیم را جبران کند. یکی از این راه‌ها افزایش جذب کلسیم از روده است.

گزینه (۴): اگر میزان کلسیم خوناب افزایش پیدا کند، ترشح هورمون پاراتیروئیدی کاهش می‌یابد. در نتیجه باز جذب کلسیم از کلیه کاهش و میزان دفع کلسیم از طریق ادرار زیاد می‌شود. در دیابت شیرین مصرف پروتئین‌ها برای ایجاد انرژی باعث افزایش تولید اوره در بدن می‌شود که در نهایت اوره بیشتری باید توسط کلیه‌ها دفع گردد.

در دیابت نوع یک تعداد گیرنده‌ها تحت تأثیر نیست و به دلیل حمله سلول‌های ایمنی به پانکراس انسولین تولید نمی‌شود (رد گزینه ۱) در دیابت شیرین نوع I تولید انسولین در بدن کاهش می‌یابد و با کاهش ورود قند به سلول‌ها از جمله سلول‌های عضلانی، ذخیره گلوکز در سلول‌های عضلانی کاهش می‌یابد (رد گزینه ۳). در افراد مبتلا به دیابت شیرین، سلول‌ها از چربی‌ها و پروتئین‌ها برای ایجاد انرژی استفاده می‌کنند. در نتیجه تجزیه تری‌گلیسریدهای ذخیره شده در سلول‌ها افزایش می‌یابد (رد گزینه ۴).

در دیابت نوع I سلول‌های درون‌ریز پانکراس توسط دستگاه ایمنی مورد حمله قرار می‌گیرند اما در دیابت نوع دو تعداد این سلول‌ها کاهش نمی‌یابد. در افراد مبتلا به دیابت نوع یک و نوع دو، با تجزیه چربی‌ها، اندازه سلول‌های بافت چربی کاهش می‌یابد (رد گزینه ۱) و به دلیل کاهش pH خون، ترشح یون‌های هیدروژن در کلیه افزایش می‌یابد (رد گزینه ۲). ضمناً در افراد مبتلا به دیابت نوع دو، میزان تولید انسولین از حد طبیعی بیش تر است (رد گزینه ۴).

هورمون ضدادراری در هیپوفیز پسین ساخته نمی‌شود اما از این غده ترشح می‌شود. این هورمون منجر به کاهش ادرار، افزایش بازجذب آب از نفرون و کاهش فشار اسمزی خون می‌گردد.

۱۲ بررسی گزینه‌ها:

گزینه (۱): هورمون ملاتونین در شب (نبود نور) به حداکثر غلظت خود در خون و در نزدیکی ظهر (وجود نور) به حداقل خود می‌رسد. هورمون ملاتونین از غده اپی فیز (رومغزی) ترشح می‌شود. اما غده هیپوفیز در زیر هیپوتالاموس قرار دارد.

گزینه (۲): غده هیپوفیز در سطح شکمی مغز دیده می‌شود و غده اپی فیز (رومغزی) درون مغز دیده می‌شود.

گزینه (۳): غده اپی فیز که هورمون ملاتونین را ترشح می‌کند، در لبه پایینی بطن سوم قرار دارد.

گزینه (۴): برجستگی چهارگانه در عقب و زیر غده اپی فیز (رومغزی) قرار دارد.

۱۳ بررسی گزینه‌ها:

گزینه (۱): هورمون ملاتونین در تنظیم ریتم شبانه روزی نقش دارد که این هورمون توسط غده اپی فیز (رومغزی) ساخته و ترشح می‌شود.

گزینه (۲): هورمون کورتیزول در تنظیم ریتم شبانه روزی نقش ندارد.

گزینه (۳): هورمون ملاتونین از غده اپی فیز (رومغزی) ساخته و به خون ترشح می‌شود. (نه غده تیموسین)

گزینه (۴): هورمون‌ها، همگی پیک‌های دور برد هستند. هورمون ملاتونین که در تنظیم ریتم شبانه روزی نقش دارد، از غده اپی فیز (رومغزی) ترشح می‌شود که این غده از ساختارهایی است که درون مغز دیده می‌شود.

۱۴ بررسی گزینه‌ها:

گزینه (۱): پیام هورمون‌های مختلف بر روی یک نوع باخته هدف، می‌تواند به عملکردهای متفاوتی تفسیر شود، مثلاً پیام هورمون کلسی‌تونین بر اندام هدف استخوان، جذب کلسیم از خون و پیام هورمون پاراتیروئیدی بر روی اندام استخوان، آزاد کردن کلسیم به خون است.

گزینه (۲): مثلاً پیام هورمون پاراتیروئیدی در استخوان این گونه تفسیر می‌شود که استخوان تجزیه شده و کلسیم به داخل خون آزاد شود ولی در کلیه بازجذب کلسیم به خون افزایش می‌یابد. اما در مقابل پیام هورمون‌های تیروئیدی بر همه یاخته‌های هدف خود یکسان تفسیر می‌شود. پیام هورمون‌های تیروئیدی، بر یاخته‌های مختلف این است که میزان تجزیه گلوکز و میزان انرژی در دسترس را تنظیم کند.

گزینه (۳): پیام یک نوع هورمون بر روی یک اندام هدف، همیشه یکسان است.

گزینه (۴): هر هورمون گیرنده اختصاصی با ساختار خاص، خود را دارد.

گزینه (۱۵): موارد (ب) و (د) درست است.

بررسی سایر موارد:

الف) نادرست، فرمون‌ها از یک فرد ترشح شده و در افراد دیگری از همان‌گونه پاسخ‌های رفتاری ایجاد می‌کند.
ج) نادرست، مارها قادرند با گیرنده‌های شیمیایی زبانشان (نه بینی) فرمون‌های موجود در هوا را تشخیص دهند.



مرکز مشاوره تحصیلی

علیرضا افشار



مبحث: گفتار ۱ فصل ۵ زیست یازدهم

سری: شماره ۱

زمان: ۱۰ دقیقه

۱ کدام گزینه در ارتباط با اولین سدهای محافظتی بدن درست بیان شده است؟

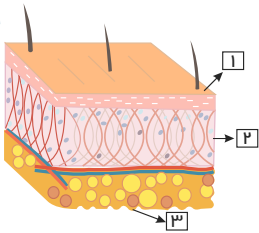
- ۱ هیچ میکروبی توانایی رشد و تکثیر در محیط اسیدی سطح پوست را ندارد.
- ۲ در هر بخش از بدن که لیزوزیم وجود دارد در سطح آن بخش، ماده‌ای چسبناک نیز ترشح می‌شود.
- ۳ سازش عوامل بیگانه نسبت به ترشحات سطح پوست همواره باعث ایجاد بیماری می‌شود.
- ۴ در لایه بیرونی پوست، یاخته‌های دندریتی وجود دارند که پس از بیگانه‌خواری میکروب‌ها، بخش‌هایی از آن‌ها را به برخی لنفوسیت‌ها ارائه می‌کنند.

۲ در کدامیک از گزینه‌های زیر، نقش هریک از سازوکارهای نخستین خط دفاعی، به ترتیب درست بیان شده است؟
ادرار، ماده چسبناک مخاط، وجود لیزوزیم مخاط، وجود میکروب‌های غیر بیماری‌زا سطح پوست»

- ۱ بیرون راندن میکروب- مانع از نفوذ میکروب- از بین بردن باکتری‌ها- از بین بردن میکروب‌های بیماری‌زا با ترشحات آنزیمی
- ۲ بیرون راندن میکروب- مانع از پیش روی میکروب- از بین بردن باکتری‌ها- مانع تکثیر میکروب‌های بیماری‌زا
- ۳ از بین بردن میکروب- میکروب‌ها را به دام می‌اندازد- از بین بردن میکروب- مانع از رشد میکروب
- ۴ خروج میکروب‌های وارد شده به بدن- از بین بردن میکروب- از بین بردن باکتری- ایجاد شرایط نامساعد برای میکروب‌های بیماری‌زا

۳ باتوجه به شکل زیر کدام درست است؟

- ۱ در لایه یک، همگی سلول‌ها دارای قدرت تقسیم هستند.
- ۲ چرمی که از پوست جانوران ساخته می‌شود، مجموع لایه ۲ و ۱ است.
- ۳ لایه ۳، نوعی بافت پیوندی است.
- ۴ در لایه ۲، رشته‌های سیتوپلاسمی کلاژن و کشسان به فراوانی یافت می‌شود.



۴ پوست

- ۱ همانند لایه مخاطی، فاقد یاخته‌های مرده در سطح خود می‌باشد.
- ۲ همانند لایه مخاطی، با ترشح ماده مخاطی باعث جلوگیری از ورود میکروب‌ها به بدن می‌شود.
- ۳ برخلاف لایه مخاطی، دارای بافت پیوندی است.
- ۴ همانند لایه مخاطی، دارای بافت پوششی و همچنین آنزیمی برای مقابله با باکتری‌ها است.

۵ همه‌ی گزینه‌های زیر درست است به جز

- ۱ در ضخیم‌ترین لایه پوست، نحوه استقرار رشته‌های بافت پیوندی، سد محکمی را در برابر نفوذ عوامل بیماری‌زا است.
- ۲ یاخته‌های مرده بدن می‌توانند در جلوگیری از ورود میکروب‌ها به بدن نقش داشته باشند.
- ۳ در خط نخستین دفاع، پروتئین‌ها نقشی در جلوگیری از ورود میکروب به محیط داخلی ندارند.
- ۴ خط نخستین دفاع در مجاری ادراری علاوه بر دفع ادرار، مخاط را نیز شامل می‌شود.

۶ کدام گزینه، عبارت زیر را به درستی کامل می‌کند؟

«به طور معمول در بدن انسان سالم و بالغ، نمی‌تواند جزئی از نخستین خط دفاعی باشد.»

- ۱ تخریب باکتری‌ها توسط نوعی آنزیم
- ۲ خروج نوتروفیل از خون و ورود به بافت
- ۳ به دام افتادن میکروب در ماده مخاطی
- ۴ جلوگیری از رشد میکروب‌های سطح پوست



۷ کدام عبارت، گزینهٔ درستی را بیان می کند؟

- ۱ "نظریه میکروبی بیماری ها " در قرن نوزدهم بیان کرد که میکروب ها ، بیماری را هستند.
- ۲ خطوط دفاعی مختلفی که در بدن هر شخص وجود دارد، به منظور جلوگیری از ورود میکروب ها به بدن است.
- ۳ دستگاه ایمنی علاوه بر مبارزه با عوامل میکروبی ، ساز و کارهایی برای مبارزه با عوامل غیر میکروبی دارد.
- ۴ سیستم ایمنی می تواند، فرد مبتلا به بیماری را بهبود دهد، اما نمی تواند مانع ابتلا به بیماری شود.

۸ بافتی که بزرگ ترین ذخیرهٔ انرژی در بدن را دارد،

- ۱ در عمقی ترین و سطحی ترین بخش پوست دیده می شود.
- ۲ به علت داشتن اسیدهای چرب مانع از رشد میکروب های بیماری زا در سطح پوست می شود.
- ۳ می تواند به عنوان عایق حرارتی عمل کند.
- ۴ از بافت پوششی با آستری از بافت پیوندی تشکیل شده است.

۹ میکروب هایی که در سطح پوست ما زندگی می کنند

- ۱ به علت اسیدی بودن سطح پوست، از بین می روند.
- ۲ به علت ماده چرب سطح پوست، از بین می روند.
- ۳ به علت رقابت با میکروب های بیماری زا، از بین می روند.
- ۴ با سلول های میزبان خود، یک رابطه دو طرفه همراه با سود دارند.

۱۰ در پوست، شبکه ای از رشته های پروتئینی و گلیکوپروتئینی، را به بافت های زیرین، متصل نگه می دارد.

- ۱ یاخته های لایه اپیدرم
- ۲ یاخته های لایه درم
- ۳ مادهٔ چرب در سطح پوست
- ۴ بافت چربی زیر درم

مرکز مشاوره تحصیلی
علیرضا افشار

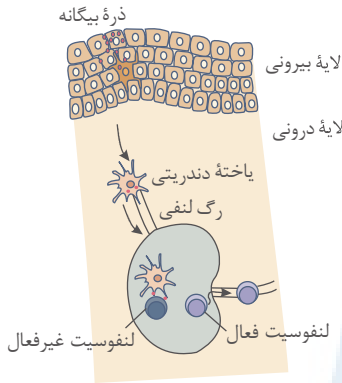
پاسخنامه تشریحی

گزینه ۱: در سطح پوست ما میکروب‌هایی زندگی می‌کنند (میکروب‌های غیر بیماری‌زا) که با شرایط پوست از جمله اسیدی بودن، سازش یافته‌اند.

گزینه ۲: در مناطقی مانند سطح پوست و سطح چشم به دلیل ترشح اشک، نیز لیزوزیم وجود دارد ولی ماده چسبناک یعنی ماده مخاطی وجود ندارد.

گزینه ۳: عوامل بیگانه مثل میکروب‌های غیر بیماری‌زا در سطح پوست نه تنها باعث بیماری نمی‌شوند بلکه به دلیل رقابت با عوامل بیماری‌زا، از بیماری‌زایی عوامل بیماری‌زا جلوگیری می‌کنند.

گزینه ۴: طبق شکل زیر در لایه بیرونی پوست، یاخته‌های دندریتی وجود دارند که ابتدا با بیگانه‌های خواری، میکروب را از بین می‌برند. سپس بخش‌هایی از آن را به برخی لنفوسیت‌های موجود در گره لنفاوی ارائه می‌دهند.



گزینه ۲: ادرار یکی از سازوکارهای مبارزه با میکروب است که همانند عطسه، سرفه، استفراغ، مدفوع و ادرار، باعث بیرون راندن میکروب‌های مجاری می‌شود. ماده چسبناک، میکروب‌ها را به دام می‌اندازد و از پیش‌روی آنها جلوگیری می‌کند. ترشحات مخاط با داشتن لیزوزیم، موجب کشته شدن باکتری‌ها می‌شود. میکروب‌های غیر بیماری‌زا در رقابت برای کسب غذا بر میکروب‌های بیماری‌زا پیروز هستند و مانع از تکثیر میکروب‌های بیماری‌زا می‌شوند.

گزینه ۳: گزینه ۱: لایه یک، نشان دهنده لایه بیرونی است. لایه بیرونی شامل چندین لایه یاخته پوششی است که خارجی‌ترین یاخته‌های آن مرده‌اند. یاخته‌های مرده توانایی تقسیم شدن ندارند.

گزینه ۲: لایه دو، نشان دهنده لایه درونی است. در لایه درونی بافت پیوندی رشته‌ای وجود دارد که رشته‌ها در آن به طرز محکمی به هم تابیده‌اند. این لایه محکم و با دوام است. چرم که از پوست جانوران درست می‌شود فقط مربوط به همین لایه است و نه لایه یک.

گزینه ۳: لایه ۳، بافت چربی را نشان می‌دهد. در کتاب دهم خوانده بودید که بافت چربی یکی از انواع بافت‌های پیوندی است.

گزینه ۴: بافت پیوندی از انواع یاخته‌ها، و رشته‌های پروتئینی به نام رشته‌های کلاژن و رشته‌های کشسان و ماده زمینه‌ای که یاخته‌های این بافت، آن را می‌سازند، تشکیل شده است. در این گزینه به اشتباه نوشته شده که کلاژن و رشته‌های کشسان رشته‌های سیتوپلاسمی هستند در صورتی که کلاژن و رشته‌های کشسان، از رشته‌های پروتئینی برون یاخته‌ای هستند.

گزینه ۱: لایه بیرونی پوست شامل چندین لایه یاخته پوششی است که خارجی‌ترین یاخته‌های آن مرده‌اند.

گزینه ۲: پوست ترشح ماده مخاطی ندارد.

گزینه ۳: پوست و لایه مخاطی هر دو دارای بافت پوششی و پیوندی‌اند.

گزینه ۴: در عرق و ماده مخاطی، آنزیم لیزوزیم وجود دارد که سبب از بین رفتن باکتری‌ها می‌شود. در پوست و لایه مخاطی، بافت پوششی و آنزیم لیزوزیم وجود دارد.

گزینه ۱ ۲ ۳ ۴ ۵

گزینه ۱. طبق شکل مقابل ضخیم‌ترین لایه پوست درم است. در این لایه رشته‌ها به طرز محکمی به هم تابیده‌اند و سد محکمی را ایجاد می‌کنند.

گزینه ۲. یاخته‌های مرده که خارجی‌ترین بخش لایه بیرونی را تشکیل می‌دهند به تدریج می‌ریزند و میکروب‌های چسبیده به آنها از بدن دور می‌شود.

گزینه ۳. لیزوزیم نوعی پروتئین در عرق، اشک، بزاق و ماده مخاطی است که در خط نخستین دفاع، مانع از ورود میکروب به محیط داخلی می‌شود.

گزینه ۴. مخاط و دفع ادرار هر دو جز خط نخستین دفاع محسوب می‌شود.

گزینه ۶: در نخستین خط دفاعی، گویچه‌های سفید خون (مانند نوتروفیل) حضور ندارند. خروج گویچه‌های سفید از خون و ورود آنها به بافت مربوط به دومین خط دفاعی بدن است.

بررسی سایر گزینه‌ها:

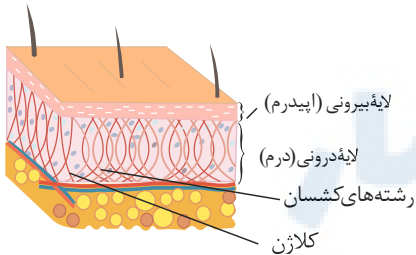
گزینه ۱ عرق، آنزیم لیزوزیم هم دارد. این آنزیمی است که در از بین بردن باکتری‌ها نقش دارد.

گزینه ۳ ماده مخاطی که چسبناک است، میکروب‌ها را به دام می‌اندازد و از پیش‌روی میکروب‌ها جلوگیری می‌کند.

گزینه ۴ در سطح پوست ما میکروب‌هایی زندگی می‌کنند که با شرایط پوست، از جمله اسیدی بودن، سازش یافته‌اند. این میکروب‌ها از تکثیر میکروب‌های بیماری‌زا جلوگیری می‌کنند، چون در رقابت برای کسب غذا بر آنها پیروز می‌شوند.

گزینه ۱. "نظریه میکروبی بیماری‌ها" بیان کرد که میکروب‌ها می‌توانند بیماری‌زا باشند.

گزینه ۱ ۲ ۳ ۴ ۷



گزینه ۲: خطوط دفاعی مختلف بدن، از ورود میکروب‌ها جلوگیری، یا با میکروب‌های وارد شده مبارزه می‌کند.

گزینه ۳: یاخته‌های سرطانی و یاخته‌های بافت پیوندی از جمله موارد غیر میکروبی هستند که سیستم دفاعی با آنها مبارزه می‌کند.

گزینه ۴: توانایی بدن انسان در بیمار نشدن یا بهبودی یافتن پس از ابتلا به بیماری‌های میکروبی نشان دهنده این واقعیت است که بدن می‌تواند در برابر میکروب‌ها از خود دفاع کند.

گزینه ۸: ۱ ۲ ۳ ۴ در کتاب دهم خوانده‌اید که بافتی که بزرگ‌ترین ذخیره انرژی در بدن را دارد، منظور بافت چربی است. و بافت چربی در عمیق‌ترین بخش پوست

قرار دارد، اما در سطحی‌ترین بخش پوست ماده چرب دیده می‌شود که از ترشحات یاخته‌ای است، و بافت نیست.

گزینه ۲: نقش ماده چرب در سطح پوست، جلوگیری از رشد میکروب‌ها در سطح پوست است.

گزینه ۳: در کتاب دهم خوانده‌اید که بافت چربی علاوه بر نقش ضربه گیر می‌تواند نقش عایق حرارتی داشته باشد.

گزینه ۴: بافت پوششی با آستری از بافت پیوندی، ویژگی لایه مخاطی است.

گزینه ۹: ۱ ۲ ۳ ۴ گزینه ۱: محیط اسیدی برای زندگی میکروب‌های بیماری‌زا مناسب نیست. اما سوال به میکروب‌های غیر بیماری‌زا سطح پوست اشاره می‌کند. در سطح پوست ما

میکروب‌هایی زندگی می‌کنند که با شرایط اسیدی بودن، سازش یافته‌اند.

گزینه ۲: سطح پوست را ماده‌ای چرب می‌پوشاند. این ماده به علت داشتن اسیدهای چرب، خاصیت اسیدی دارد. محیط اسیدی برای زندگی میکروب‌های بیماری‌زا مناسب نیست.

گزینه ۳: میکروب‌هایی که در سطح پوست ما زندگی می‌کنند از تکثیر میکروب‌های بیماری‌زا جلوگیری می‌کنند، چون در رقابت برای کسب غذا بر آنها پیروز می‌شوند.

گزینه ۴: وجود میکروب‌هایی که در سطح پوست زندگی می‌کنند از تکثیر میکروب‌های بیماری‌زا جلوگیری می‌کنند. (سود میکروب غیر بیماری‌زا برای میزبان) و میزبان نیز برای میکروب محل

زندگی و غذا تامین می‌کند. (سود میزبان برای میکروب غیربیماری‌زا)

گزینه ۱۰: ۱ ۲ ۳ ۴ غشای پایه، شبکه‌ای از رشته‌های پروتئینی و گلیکوپروتئینی است که یاخته‌های بافت پوششی (اپیدرم) را به یکدیگر و به بافت‌های زیرین (درم) متصل نگه می

دارد.

مرکز مشاوره تحصیلی

علیرضا افشار

مبحث: گفتار ۲ فصل ۵ زیست یازدهم

سری: شماره ۱

زمان: ۱۵ دقیقه

۱ کدام گزینه جمله زیر را به نادرستی تکمیل می‌کند؟

«هر یاخته حاصل از تغییر مونوسیت‌ها در بافت‌ها»

- ۱ در از بین بردن یاخته‌های مرده بافت‌ها با بقایای آنها نقش دارد.
- ۲ عوامل بیماری‌زا را براساس ویژگی‌های عمومی آنها شناسایی می‌کند.
- ۳ دارای چندین زائده سیتوپلاسمی در اطراف خود می‌باشد.
- ۴ با بیگانه‌خواری میکروب‌ها، در دفاع غیراختصاصی بدن نقش ایفا می‌کند.

۲ کدام گزینه درباره هر یاخته‌ای در پاسخ التهابی که با تولید پیک‌های شیمیایی در فراخواندن گویچه‌های سفید خون نقش دارد، درست است؟

- ۱ از تغییر شکل گروهی از گویچه‌های سفید، درون بافت‌ها ایجاد می‌شوند.
- ۲ تحت تأثیر پروتئین‌های اینترفرون نوع دو، فعال می‌شوند.
- ۳ در طی حیات، DNA هسته‌ای خود را دوبرابر می‌کنند.
- ۴ تحت تأثیر نوع پیک شیمیایی قرار دارند.

۳ کدام گزینه، عبارت زیر را به نادرستی کامل می‌کند؟

«یاخته‌هایی که مچنیکوف برای نخستین بار در بدن لارو ستاره دریایی مشاهده نمود،»

- ۱ عملکردی مشابه با یاخته‌های دومین خط دفاعی بدن انسان داشتند.
- ۲ قادر به بیگانه‌خواری ذرات ریز خارهای گل رز، روی سطح پوست جانور بودند.
- ۳ می‌توانستند با انجام حرکات آمیبی شکل، ذرات بیگانه را بیگانه‌خواری کنند.
- ۴ براساس ویژگی‌های عمومی، ذرات بیگانه را از ذرات خودی تشخیص می‌دادند.

۴ هر بیگانه‌خواری که در پی خروج مونوسیت از خون و تغییر شکل آن حاصل می‌شود

- ۱ درون رگ‌های بدن انسان بالغ یافت نمی‌شود.
- ۲ می‌تواند در گره‌های لنفی حضور داشته باشد.
- ۳ در کبد، گویچه‌های قرمز مرده را پاک‌سازی می‌کند.
- ۴ توسط اینترفرون نوع دو فعال می‌شود.

۵ در بین گلبول‌های سفید خون، یاخته‌هایی با هسته چند بخشی یافت می‌شوند. این یاخته‌ها توانایی تولید کدام پروتئین‌ها را دارند؟

- ۱ اینترفرون نوع II
- ۲ پرفورین
- ۳ پروتئین‌های مکمل
- ۴ آنزیم‌های لیزوزومی

۶ به طور معمول در بدن انسان بالغ، پروتئین‌های مکمل

- ۱ برخلاف اینترفرون، در دومین خط دفاعی بدن شرکت دارند.
- ۲ همانند پرفورین، باعث تولید منافذی در غشای میکروب‌ها می‌شوند.
- ۳ همانند پادتن‌ها، می‌توانند با فسفولیپیدهای غشاء در تماس باشند.
- ۴ برخلاف لیزوزیم، در خون به صورت فعال در گردش هستند.

۷ در بدن انسان، هر بیگانه‌خواری که قطعاً

- ۱ در بخش‌هایی از بدن، که با محیط بیرون ارتباط دارد، مستقر است - قسمت‌هایی از میکروب‌ها را به یاخته‌های ایمنی معرفی می‌کند.
- ۲ دارای انشعابات در اطراف خود می‌باشد - فقط در حبابک‌های موجود در دستگاه تنفس فعالیت می‌کند.
- ۳ در درون خود، دارای ساختار حاوی هیستامین می‌باشد - در نشت بیشتر خوناب به خارج رگ‌ها موثر است.
- ۴ در از بین بردن یاخته‌های مرده بافت‌ها نقش دارد - در نخستین خط دفاعی بدن فعالیت می‌کند.

۸ در روند پاسخ التهابی، پس از تراگذری گویچه‌های سفید

- ۱ بیگانه‌خواری و از بین بردن میکروب‌ها در محل آسیب بافتی آغاز می‌شود.
- ۲ خروج خوناب بیشتر به واسطه آزادسازی مولکول‌های هیستامین آغاز می‌شود.
- ۳ بیگانه‌خوارهای بافتی و یاخته‌های مویرگی، شروع به ترشح پیک‌های شیمیایی می‌کنند.
- ۴ گروهی از یاخته‌های ایمنی موجود در محل التهاب به یاخته‌های دیگری تغییر می‌کنند.

۹ در پاسخ التهابی، کدام یک زودتر از سایرین رخ می‌دهد؟

- ۱ فعال شدن پروتئین‌های مکمل
- ۲ خوناب بیش تر به بیرون از مویرگ‌ها نشت می‌کند.
- ۳ فعالیت برون رانی ماستوسیت‌ها افزایش می‌یابد.
- ۴ آسیب بافتی

- ۱۰ چند مورد از عبارات زیر، ویژگی نخستین یاخته‌های دفاعی را نشان می‌دهد که به منظور ایجاد پاسخ التهابی، از فضای بین یاخته‌های سنگفرشی دیواره مویرگ‌های خونی عبور می‌کند؟
- می‌توانند در شرایطی نوعی پروتئین دفاعی غیر اختصاصی تولید کنند.
 - دارای هسته‌های متصل به هم و دانه‌های ریز روشن در میان یاخته خود هستند.
 - انرژی فرآیندهای یاخته‌ای خود را از مولکول *ATP* حاصل از تنفس یاخته‌ای به دست می‌آورند.
 - در خطوط دفاع غیر اختصاصی، قابلیت دادن پاسخ‌های سریع و عمومی به عوامل بیگانه را دارند.

۴ ۴

۳ ۳

۲ ۲

۱ ۱

۱۱ شناسایی یاخته‌های خودی از بیگانه

- ۱ ممکن نیست در خطوط دفاع غیر اختصاصی انجام شود.
- ۲ مانع از اثر درشت‌خوارها بر روی هر یک از یاخته‌های بدن می‌گردد.
- ۳ درون پوست انجام نمی‌گیرد، زیرا پوست در خط اول دفاعی بدن نقش دارد.
- ۴ توسط یاخته‌های نیروهای واکنش سریع همانند یاخته‌های دارینه‌ای انجام می‌گیرد.

۱۲ یاخته‌ای که ترشح می‌کند، همانند یاخته‌ای که ترشح می‌کند، قطعاً است.

- ۱ در التهاب، هیستامین - اینترفرون نوع II - سالم
- ۲ پادتن - اینترفرون نوع I - آسیب‌دیده
- ۳ اینترفرون نوع I - در التهاب، هیستامین - آسیب‌دیده
- ۴ اینترفرون نوع II - اینترفرون نوع I - سالم

۱۳ کدام گزینه، عبارت درستی را بیان می‌کند؟

- ۱ خیز همانند تورم در التهاب، می‌تواند به علت کاهش سرعت بازگشت مایعات از بافت به خون باشد.
- ۲ پروتئین‌های مکمل می‌توانند هم در خون، هم در مایع بین یاخته ای یافت شوند.
- ۳ به دنبال، ترشح هیستامین، نوتروفیل‌ها و مونوسیت‌ها که در گردش اند با تراگذری از خون خارج می‌شوند و در بیرون از خون، شروع به بیگانه‌خواری می‌کنند.
- ۴ در میان یاخته درشت‌خوارها، بر خلاف ماستوسیت‌ها و اتوزینوفیل‌ها، دانه‌های درشت وجود ندارد.

۱۴ کدام گزینه درستی را بیان نمی‌کند؟

- ۱ تشکیل یاخته دندریتی و مهاجرت آن به رگ لنفی می‌تواند در بخش مشابهی از پوست اتفاق بیافتد.
- ۲ مونوسیت‌ها از مویرگ‌های اطراف حبابک خارج و در حبابک به درشت‌خوار تبدیل می‌شوند.
- ۳ در گره لنفی، ماکروفاژ و یاخته دندریتی را می‌توان با هم یافت.
- ۴ یاخته‌های کبد، پس از فاگوسیت‌کردن گویچه‌های قرمز، از بخش‌هایی از آنها بیلی روبین می‌سازند.

۱۵ پروتئین‌های مکمل

- ۱ به دنبال رها شدن هیستامین از ماستوسیت‌ها، در میان یاخته بافت آسیب‌دیده افزایش می‌یابد.
- ۲ برخلاف گلوبولین‌ها، از پروتئین‌های خوناب هستند که در ایمنی و مبارزه با عوامل بیماری‌زا نقش دارند.
- ۳ همانند پرفورین، با ایجاد ساختارهای روزنه‌مانند، عملکرد غشای یاخته هدف را، در کنترل ورود و خروج مواد از بین می‌برند.
- ۴ موجب می‌شوند که عمل پاکسازی توسط درشت‌خوارها، آسان‌تر انجام شود.

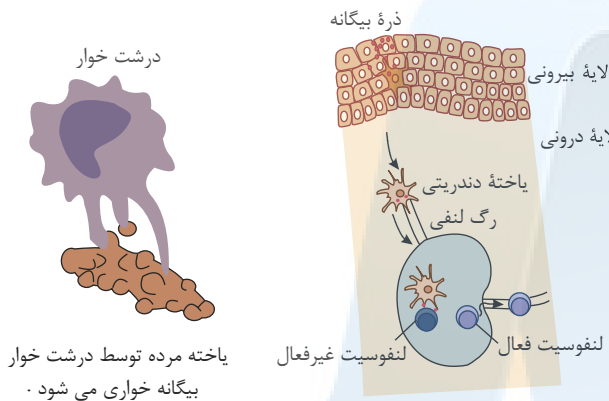
پاسخنامه تشریحی

۱) یاخته‌های حاصل از تغییر مونسیت‌ها، درشت‌خوارها (ماکروفاژها) و یا یاخته‌های دارینه‌ای (دندریتی) می‌باشند. از بین بردن یاخته‌های مرده بافت‌ها یا بقایای آنها فقط توسط درشت‌خوارها انجام می‌شود.

بررسی سایر گزینه‌ها:

گزینه ۲: این یاخته‌ها هر دو مربوط به دفاع غیر اختصاصی هستند.

گزینه ۳: با توجه به شکل‌های زیر، درست است.



گزینه ۴: هر دو جزء یاخته‌های بیگانه‌خوار دفاع غیر اختصاصی محسوب می‌شوند.

۲) منظور از صورت سؤال یاخته‌های دیواره مویرگ‌ها و ماکروفاژها است.

یاخته‌های دیواره مویرگ‌ها تحت تأثیر هیستامین ترشح شده از ماستوسیت‌ها، یعنی نوعی پیک کوتاه‌برد و ماکروفاژها تحت تأثیر اینترفرون نوع ۲ قرار می‌گیرند. بررسی سایر گزینه‌ها:

گزینه‌های ۱ و ۲: برای یاخته‌های دیواره مویرگ درست نیست.

گزینه ۳: درشت‌خوارها توانایی تقسیم سلولی ندارند.

۳) مچنیکوف خرده‌های ریزی از خارهای گل رز را به زیر پوست لاروی (نه روی آن) وارد کرد و مشتاقانه منتظر ماند. او درست حدس زده بود. تا صبح فردا، این یاخته‌های آمیبی شکل، اثری از خرده‌ها باقی نگذاشته بودند. مچنیکوف این یاخته‌ها را بیگانه‌خوار نامید. بررسی سایر گزینه‌ها:

گزینه ۱) بیگانه‌خوارها در دومین خط دفاعی بدن انسان قرار دارند.

گزینه ۲) یاخته‌هایی که مچنیکوف مشاهده کرد، حرکات آمیبی شکل داشتند.

گزینه ۳) بیگانه‌خوارهایی که مچنیکوف مشاهده کرد، بیگانه‌ها را براساس ویژگی‌های عمومی شناسایی کرده و آنها را می‌خوردند.

۴) مونسیت‌ها پس از خروج خون به درشت‌خوارها و یا یاخته‌های دندریتی تبدیل می‌شوند. درشت‌خوارها و یاخته‌های دارینه‌ای می‌توانند در گره‌های لنفی بدن قرار داشته باشند. بررسی سایر گزینه‌ها:

گزینه ۱: یاخته‌های دندریتی (دارینه‌ای) علاوه بر بیگانه‌خواری، قسمت‌هایی از میکروب را در سطح خود قرار می‌دهند و سپس از طریق "رگ‌های لنفی" خود را به گره‌های لنفاوی نزدیک می‌رسانند تا این قسمت‌ها را به یاخته‌های ایمنی ارائه کنند. بنابراین درون رگ‌های بدن (از نوع لنفی) می‌توان یاخته‌های دارینه‌ای را یافت.

گزینه ۲: یکی از وظایف درشت‌خوارها این است که در کبد و طحال، گویچه‌های قرمز مرده را پاک‌سازی می‌کنند.

گزینه ۳: اینترفرون نوع دو از یاخته‌های کشنده طبیعی و لنفوسیت‌های T ترشح می‌شود و درشت‌خوارها را فعال می‌کند. گزینه ۳ و ۴ "فقط" در مورد درشت‌خوارها صادق است.

۵) نوتروفیل‌ها هسته چندبخشی دارند. نوتروفیل‌ها می‌توانند آنزیم‌های لیزوزومی تولید کنند. این یاخته‌ها بیگانه‌خواری دارند.

۶) پروتئین‌های مکمل منافذی در بین فسفولیپیدهای غشای میکروب ایجاد می‌کنند. پادتن‌ها به فسفولیپیدهای غشا متصل می‌شوند. بررسی سایر گزینه‌ها:

گزینه ۱) پروتئین‌های مکمل و اینترفرون هر دو جزء دومین خط دفاعی هستند.

گزینه ۲) دقت کنید پرفورین‌ها در غشای یاخته‌های آلوده به ویروس و یاخته‌های سرطانی منفذ ایجاد می‌کنند، نه غشای میکروب.

گزینه ۳) پروتئین‌های مکمل، گروهی از پروتئین‌های خون‌اند. این پروتئین‌ها در فرد غیر آلوده به صورت غیر فعال اند، اما اگر میکروبی به بدن نفوذ کند، فعال می‌شوند.

۷) ۱. بیگانه‌خوارهایی که در بخش‌هایی از بدن که با محیط بیرون در ارتباط هستند، مستقر هستند، شامل یاخته‌های دندریتی و ماستوسیت‌ها می‌باشند. یاخته‌های دندریتی وظیفه دارند قسمت‌هایی از میکروب را به یاخته‌های ایمنی معرفی کنند نه ماستوسیت‌ها.

۲. یاخته‌های دندریتی و ماکروفاژها دارای انشعاباتی در اطراف خود هستند. یاخته‌های دندریتی در حبابک‌ها وجود ندارند. ماکروفاژها هم به جز حبابک‌ها در گره‌های لنفی، کبد و طحال هم وجود دارند.

۳. ماستوسیت‌ها در درون خود دارای ساختارهایی حاوی هیستامین هستند. هیستامین سبب گشاد کردن رگ‌های خونی می‌شود.

۴. ماکروفاژها (درشت خوارها) در از بین بردن یاخته‌های مرده بافت‌ها نقش دارند. ماکروفاژها در خط نخستین دفاع نقشی ندارند.

۸. ۱. بیگانه خواری توسط بیگانه خوارهایی که قبلاً در محل مستقر بوده‌اند، مانند ماکروفاژهای مستقر در بافت شروع می‌شود.

۲. قبل از تراگذاری، هیستامین سبب گشادی رگ و در نتیجه خروج بیش تر خوناب می‌شود.

۳. قبل از تراگذاری، بیگانه خوارهای بافتی و یاخته‌های مویرگی شروع به ترشح پیک شیمیایی می‌کنند.

۴. پس از تراگذاری مونسیت‌ها به ماکروفاژها تغییر می‌کنند.

۹. ۱. به دنبال آسیب بافتی، پاسخ التهابی صورت می‌گیرد. سپس از ماستوسیت‌های آسیب دیده، هیستامین ترشح می‌شود (از طریق برون‌رانی) و نوتروفیل‌ها با تراگذاری از دیواره مویرگ عبور می‌کنند، و خوناب بیش تری نشأت می‌کند. پروتئین‌های مکمل نیز از خون خارج می‌شوند و پس از برخورد با میکروب فعال می‌شوند.

۱۰. ۱. موارد اول و سوم صحیح هستند.

نوتروفیل نخستین یاخته دفاعی است که به منظور ایجاد پاسخ التهابی، تراگذاری انجام می‌دهد.

مورد اول) اگر نوتروفیل‌ها به ویروس آلوده شوند، می‌توانند اینترفرون نوع یک تولید کنند.

مورد دوم) دقت کنید در نوتروفیل‌ها "یک هسته" وجود دارد که چند قسمتی است.

مورد سوم) این یاخته‌ها از طریق تنفس یاخته‌ای، ATP تولید می‌کنند.

مورد چهارم) دقت کنید نوتروفیل‌ها در دومین خط دفاعی شرکت دارند، نه در خطوط (خط اول و دوم) دفاع غیر اختصاصی.

۱۱. ۱. گزینه (۱): یاخته‌های شرکت کننده در خط دفاعی دوم، توانایی شناسایی بیگانه‌ها، بر اساس ویژگی‌های عمومی آن‌ها را دارند.

گزینه (۲): یکی از وظایف درشت خوارها، از بین بردن یاخته‌های مرده بافت‌های خودی و بقایای آن‌ها است. بنابراین درشت خوارها، می‌توانند بر یاخته‌های بدن نیز اثر بگذارند. اگر این یاخته‌ها، آسیب دیده یا مرده باشند.

گزینه (۳): یاخته‌های دارینه‌ای، در پوست قرار دارند. یاخته‌های دارینه‌ای در خط دوم دفاعی نقش دارند.

گزینه (۴): نوتروفیل‌ها نیروهای واکنش سریع اند و همانند یاخته‌های دارینه‌ای توانایی شناسایی یاخته‌های خودی از بیگانه را دارند.

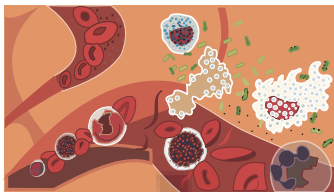
۱۲. ۱. در التهاب، ماستوسیت‌های آسیب دیده هیستامین ترشح می‌کنند.

۲. یاخته‌های پادتن ساز پادتن ترشح می‌کنند. این یاخته‌ها سالم هستند.

۳. اینترفرون نوع I از یاخته‌های آلوده به ویروس ترشح می‌شود که قطعاً آسیب دیده‌اند. ترشح هیستامین نیز از ماستوسیت‌های آسیب دیده صورت می‌گیرد.

۴. اینترفرون نوع I از یاخته‌های آلوده به ویروس ترشح می‌شود که سالم نیستند. اما اینترفرون نوع II از یاخته‌های کشنده طبیعی و لنفوسیت‌های T ترشح می‌شود.

۱۳. ۱. گزینه ۱: اگر به هر دلیلی سرعت بازگشت مایعات از بافت به خون کاسته شود، در نتیجه مواد خارج شده از مویرگ به خون باز نمی‌گردند. در این حالت، بخش‌هایی از بدن متورم می‌شود که به آن خیز یا ادم می‌گویند. در حالی که در التهاب از ماستوسیت‌های آسیب دیده، هیستامین رها می‌شود. به این ترتیب، خوناب بیشتری به بیرون نشأت می‌کند که باعث تورم می‌شود.

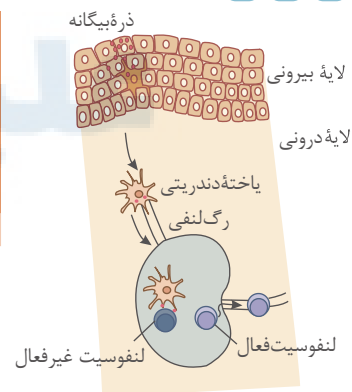
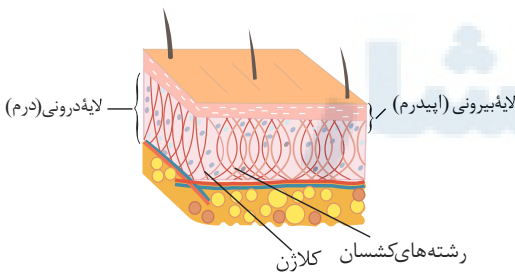


گزینه ۲: پروتئین‌های مکمل، گروهی از پروتئین‌های خون هستند. با توجه به شکل روبرو، پروتئین‌های مکمل می‌توانند به داخل مایع بین یاخته‌ای آسیب دیده، نشأت نمایند.

گزینه ۳: به دنبال تراگذاری، مونسیت‌ها، به درشت خوار تبدیل می‌شوند و درشت خوار، به همراه نوتروفیل، بیگانه خواری را آغاز می‌کند.

گزینه ۴: همان طور که در شکل بالا مشاهده می‌کنید، میان یاخته ماکروفاژها نیز همانند ماستوسیت‌ها دارای دانه‌های درشت است. در سال دهم دانستید، اتوزینوفیل‌ها نیز دارای دانه‌های درشت و روشن هستند.

۱۴. ۱ ۲ ۳ ۴



مربوط به گزینه (۱)

گزینه ۱. طبق شکل بالا در پوست درونی مویرگ خونی وجود دارد. طبق شکل بالا مونسیت در پوست درونی از مویرگ خونی خارج می‌شود و مونسیت به یاخته دندریتی تبدیل می‌شود. طبق شکل بالا یاخته دندریتی پس از فاگوسیت کردن عامل بیگانه، در همین محل وارد رگ لنفی می‌شود.

- گزینه ۲: مونوسیت ها پس از خروج از خون ، به ماکروفاژ تبدیل می شوند و یکی از محل های حضور ماکروفاژها ، حبابک ها هستند
- گزینه ۳: یاخته دندریتی پس از فاگوسیتیه کردن میکروب ، از طریق رگ لنفی خود را به اولین گره لنفی می رساند. در گره لنفی ، ماکروفاژ وجود دارد
- گزینه ۴: بیلی روبین ماده ای است که از تخریب هموگلوبین گویچه های قرمز در کبد ساخته می شود. این عمل توسط ماکروفاژها در کبد انجام می شود، نه خود یاخته های کبدی. کبد وطحال ، گویچه های قرمز مرده را پاک سازی می کنند
- گزینه ۱: هیستامین موجب نفوذ پذیری بیشتر رگ ها می شود تا خوناب که حاوی پروتئین های دفاعی (برای مثال پروتئین مکمل محلول در پلاسما) است به خارج رگ و به فضای بین یاخته ای (نه میان یاخته) نشت کنند.
- گزینه ۲: همان طور که در سال دهم دانستید، بیش از ۹۰٪ خوناب، آب است که در آن پروتئین ها، مواد غذایی، یون ها و مواد دفعی حل شده اند. گلوبولین ها و پروتئین های مکمل، از پروتئین های خوناب هستند که در ایمنی و مبارزه با عوامل بیماری زا اهمیت دارند.
- گزینه ۳: پرفورین منفذی در غشای یاخته ایجاد می کند. سپس با وارد کردن آنزیمی به درون یاخته، باعث مرگ برنامه ریزی شده یاخته می شود. اما پروتئین های مکمل با ایجاد ساختارهایی که مشابه یک روزنه عمل می کنند، عملکرد غشای یاخته ای، یاخته هدف را، در کنترل ورود و خروج مواد از بین می برند.
- گزینه ۴: پروتئین های مکمل روی میکروب، باعث می شوند که بیگانه خواری آسان تر انجام شود. درشت خوارها از انواع یاخته های بیگانه خوار هستند.

مرکز مشاوره تحصیلی

علیرضا افشار

مبحث: گفتار ۲ فصل ۵ زیست یازدهم

سری: شماره ۲

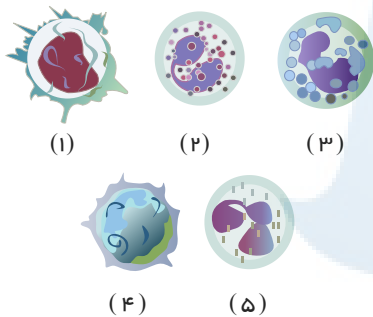
زمان: ۱۵ دقیقه

۱ در ارتباط با پروتئین‌های دومین خط دفاعی بدن انسان، کدام گزینه درست است؟

- ۱ هر پروتئین مکمل برخلاف اینترفرون نوع دو، فقط توسط عوامل بیماری‌زای زنده فعال می‌شوند.
- ۲ پروتئین‌های مکمل همانند اینترفرون نوع دو، می‌توانند سبب افزایش فعالیت برخی آنزیم‌های یاختهٔ بیگانه‌خوار شود.
- ۳ اینترفرون نوع دو همانند اینترفرون نوع یک، در مقابله با یاخته‌هایی با قابلیت متاستاز و غیرآلوده به ویروس مؤثر باشد.
- ۴ اینترفرون نوع یک برخلاف اینترفرون نوع دو، فقط بر روی سلول‌های آلوده به ویروس تأثیرگذار است.

۲ در رابطه با یاخته‌های دستگاه ایمنی در بدن انسان، کدام عبارت جملهٔ زیر را به نادرستی تکمیل می‌کند؟

«یاختهٔ شمارهٔ همانند یاختهٔ شمارهٔ»



- ۱ ۱ - ۵ در مقابله با انواع مختلفی از عوامل بیگانه نقش دارد.
- ۲ ۲ - ۳ در ترشح مواد در پاسخ به گروهی از عوامل بیگانه نقش دارد.
- ۳ ۳ - ۴ توانایی تغییر شکل برای عبور از بین سلول‌های پوششی مویرگ‌ها را دارد.
- ۴ ۴ - ۱ توانایی تشکیل کیسه‌های غشادار حاوی یاختهٔ بیگانه در میان یاختهٔ خود را دارد.

۳ کدام مورد عبارت زیر را به درستی تکمیل می‌کند؟ (با تغییر)

«..... جزء اثرات یکی از اولین موادی که در جریان پاسخ التهابی از یاخته‌های دفاعی آسیب دیدهٔ بدن آزاد می‌شود،» (با تغییر)

- ۱ افزایش دما و قرمز تر شدن موضع التهابی - نیست.
- ۲ فراخواندن گویچه‌های سفید خون به ناحیهٔ آسیب دیده - است.
- ۳ تورم و افزایش حجم مایع بین سلولی در ناحیهٔ آسیب دیده - نیست.
- ۴ افزایش میزان جریان خون و کاهش فشار خون موضع آسیب دیده - است.

۴ نوعی یاختهٔ بیگانه‌خوار در بروز پاسخ ایمنی به مواد بی‌خطر اطراف ما نقش مؤثری دارد. به‌طور معمول، این یاخته همانند یاختهٔ دارینه‌ای (دندریتی).....

- ۱ در بخش‌های مرتبط با محیط بیرون بدن به فراوانی وجود دارد.
- ۲ در گشاد کردن رگ‌ها و افزایش نفوذپذیری آن‌ها فاقد نقش است.
- ۳ جزء نیروهای واکنش سریع دفاع غیراختصاصی بدن به حساب می‌آید.
- ۴ همواره با عبور از دیوارهٔ مویرگ‌ها، با میکروب‌های خون مبارزه می‌نماید.

۵ در رابطه با نوعی پاسخ موضعی در دومین خط دفاعی بدن که در پی آسیب بافتی بروز می‌کند، کدام گزینه قطعاً صحیح است؟

- (الف) ممکن نیست به دنبال رسوب بلورهای اوریک اسید در ساختار مفاصل بدن همراه رخ دهد.
- (ب) نوعی گویچهٔ سفید دارای هسته‌های سه قسمتی در بروز این پاسخ ایمنی نقش مهمی دارد.
- (ج) همواره پروتئین‌های مکمل پس از برخورد با باکتری‌ها فعال شده و به غشای آن‌ها متصل می‌شوند.
- (د) درشت‌خوارهای مستقر در گره لنفی نخستین یاخته‌هایی هستند که وارد عمل می‌شوند.

- ۱ مورد الف برخلاف ب نادرست است. ۲ مورد ب همانند ج صحیح است. ۳ مورد د برخلاف ب صحیح است. ۴ مورد د همانند ج نادرست است.

۶ کدام گزینه نادرست است؟

- ۱ بیشترین یاخته‌های خونی همانند هر یاختهٔ سفید بیگانه‌خوار، می‌توانند از دیوارهٔ برخی مویرگ‌های خونی عبور کنند.
- ۲ نوعی بیماری تنفسی همانند زندگی در ارتفاعات می‌تواند باعث افزایش ترشح هورمون اریتروپوئین از کبد و کلیه شود.
- ۳ در انسان و بسیاری از پستانداران گویچه‌های قرمز، هسته و بیشتر اندامک‌های خود را از دست می‌دهند.
- ۴ در هستهٔ هر یاختهٔ سفید دارای تحرک زیاد، در پی رونویسی از تمامی ژن‌های هسته، مولکول دارای پیوند فسفودی‌استر تولید می‌شود.

۷ در بدن انسان، هر یاخته سفید خونی با توانایی تراگذری که

- ۱ دارای دانه هایی در میان یاخته خود است، فقط از طریق آزادسازی محتویات دانه های خود در دفاع بدن نقش دارد.
- ۲ به نیروهای واکنش سریع تشبیه می گردد، علاوه بر حمل مواد دفاعی درون خود، قابلیت بیگانه خواری نیز دارد.
- ۳ اولین یاخته های بیگانه خوار در طی التهاب هستند، می توانند در پاکسازی گویچه های قرمز مرده نقش داشته باشند.
- ۴ پس از خروج از رگ خونی تغییر شکل می دهد، به یاخته های درشت خوار بافتی تبدیل می شوند.

۸ کدام عبارت درباره مونسیت ها به درستی بیان شده است؟

- ۱ با گلبول های سفید که منشأ لنفوئیدی دارند در گروه گلبول های سفید بدون دانه قرار می گیرند.
- ۲ برخلاف گلبول های سفید بدون دانه دارای تراگذری هستند.
- ۳ مونسیت ها و بازوفیل ها به ترتیب منشأ درشت خوارها و یاخته های دارینه ای، هستند.
- ۴ قبل از خروج از خون به درشت خوار تبدیل سپس وارد حبابک ها می شوند.

۹ کدام گزینه، جمله زیر را به صورت صحیح تکمیل می کند؟

«یاخته های دارینه ای درشت خوارها، ممکن نیست»

- ۱ همانند - از یک نوع یاخته منشأ بگیرند.
- ۲ برخلاف - در تنظیم فعالیت لنفوسیت ها نقش داشته باشند.
- ۳ همانند - توانایی بیگانه خواری در لایه بیرونی پوست داشته باشند.
- ۴ برخلاف - سبب پاکسازی گویچه های قرمز مرده در کبد شوند.

۱۰ در دومین خط دفاعی بدن انسان، برخلاف نخستین خط دفاعی بدن

- ۱ انواعی از یاخته های خونی شرکت دارند.
- ۲ از آنزیم ها برای محافظت از بدن استفاده می شود.
- ۳ سازوکارهایی برای بیرون راندن میکروب ها وجود دارد.
- ۴ میکروب ها به دام می افتند و از پیشروی آن ها جلوگیری می کند.

۱۱ هر

- ۱ بیماری، قطعاً یکی از نشانه های مهم آن، تب است.
- ۲ سلول بیگانه خواری در سیستم ایمنی، قطعاً یک سلول درشت خوار است.
- ۳ سلول بیگانه خواری در سیستم ایمنی، قطعاً یک گویچه سفید است.
- ۴ گویچه سفید، قطعاً توانایی خروج از خون را دارد.

۱۲ کدام گزینه، عبارت درستی را بیان می کند؟

- ۱ یاخته کشنده طبیعی، می تواند یاخته های آلوده به ویروس را از یاخته های سالم تشخیص دهد.
- ۲ اگر اینترفرون نوع I، از یاخته آلوده به ویروس ترشح شود، علاوه بر یاخته آلوده بر هر یاخته سالم بدن هم اثر می کند و آن ها را در برابر ویروس مقاوم می نماید.
- ۳ یاخته کشنده طبیعی، ویروس ها را شناسایی نموده، و با ترشح پرفورین و مواد شیمیایی دیگر، در نهایت باعث مرگ برنامه ریزی شده ویروس می شود.
- ۴ یاخته کشنده طبیعی، ریز کیسه های حاوی پرفورین و مولکول های آنزیم را از طریق درون بری وارد یاخته آلوده به ویروس می کند.

۱۳ در همه عبارت های زیر، شباهت بین ائوزینوفیل و نوتروفیل بدرستی بیان شده است به جز هر دو نوع یاخته....

- ۱ با آندوسیتوز عوامل بیماری زا، در دفاع غیر اختصاصی نقش دارند.
- ۲ دارای میان یاخته دانه دار هستند.
- ۳ در دومین خط دفاعی نقش ایفا می کنند.
- ۴ از یاخته بنیادی میلوئیدی منشأ می گیرند.

۱۴ پرفورین پروتئین مکمل

- ۱ همانند- گروهی از پروتئین های محلول در خوناب است، که در دومین خط دفاعی نقش دارد.
- ۲ برخلاف- باعث مرگ برنامه ریزی شده میکروب می شود.
- ۳ همانند- در بین دو لایه فسفولیپیدی یاخته هدف، قرار می گیرد.
- ۴ برخلاف- باعث مرگ یاخته هدف می شود، در نتیجه زمینه برای فعالیت درشت خوارها را فراهم می کند.

۱۵) چند مورد عبارت زیر را به درستی کامل می‌کند؟

«هیستامین توانایی افزایش را دارد.»

الف) فاصله بین یاخته‌ای، یاخته‌های پوششی دیوارهٔ مویرگ‌ها

ب) میزان جریان توده‌ای

ج) میزان پروتئین‌های بین یاخته‌ای

د) میزان عبور گویچه‌های سفید از دیوارهٔ سرخرگ‌ها

① مورد ۱

② مورد ۲

③ مورد ۳

④ مورد ۴

مرکز مشاوره تحصیلی
علیرضا افشار

پاسخنامه تشریحی

۱) پروتئین مکمل و اینترفرون نوع دو سبب فعال شدن درشت‌خوارها شده و در نتیجه باعث افزایش فعالیت گروهی از آنزیم‌های درون‌یاخته‌ای آنها برای گوارش عوامل بلعیده شده، می‌شوند.

بررسی سایر گزینه‌ها:

گزینه ۱: برای مثال گروهی از پروتئین‌های مکمل ممکن است توسط پروتئین‌های مکمل دیگر فعال شوند.

گزینه ۳: اینترفرون نوع دو در مبارزه با یاخته‌های سرطانی (یاخته‌هایی با قابلیت متاستاز) نقش دارد، اما اینترفرون نوع یک در مبارزه با ویروس‌ها نقش دارند.

گزینه ۴: اینترفرون نوع یک، علاوه بر سلول آلوده به ویروس، بر سلول‌های سالم مجاور نیز تأثیر گذار است.

۲) ۱ ۲ ۳ ۴

۱: مونوسیت ۲: ائوزینوفیل ۳: بازوفیل ۴: لنفوسیت ۵: نوتروفیل

لنفوسیت‌ها توانایی بیگانه‌خواری ندارند.

بررسی سایر گزینه‌ها:

گزینه ۱) هر دو نوع یاخته مورد نظر در دفاع اختصاصی نقش دارند. پس با انواعی از یاخته‌های بیگانه مقابله می‌کنند.

گزینه ۲) ائوزینوفیل‌ها با ترشح محتویات دانه‌های خود بر روی عوامل بیگانه بزرگ مانند انگل‌ها و بازوفیل‌ها با ترشح هیستامین در پاسخ به گروهی از عوامل بیگانه نقش دارند. هیستامین در پاسخ التهابی سبب گشادی رگ و در حساسیت‌ها سبب ایجاد عوارض آلرژیک می‌شود.

گزینه ۳) همه گویچه‌های سفید توانایی دی‌پدز دارند.

۳) ۱ ۲ ۳ ۴ ۵ در التهاب از ماستوسیت‌های آسیب دیده، هیستامین رها می‌شود. این ماده با گشاد کردن رگ‌ها جریان خون را در محل آسیب دیده افزایش و فشار خون موضعی را کاهش می‌دهد.

بررسی سایر گزینه‌ها:

گزینه ۱) افزایش جریان خون در ناحیه آسیب دیده موجب افزایش دما و قرمزی آن بخش می‌شود.

گزینه ۲) پیک‌های شیمیایی ترشح شده از بیگانه‌خوارها و یاخته‌های دیواره مویرگ موجب فراخوانی گویچه‌های سفید خون می‌شود. این پیک شیمیایی بعد از هیستامین آزاد می‌شود.

گزینه ۳) هیستامین موجب افزایش نفوذپذیری دیواره مویرگ و افزایش خروج مواد می‌گردد. در این حالت تورم و افزایش حجم مایع بین‌سلولی در محل آسیب دیده وجود دارد.

۴) منظور سؤال ماستوسیت‌ها هستند که همانند یاخته‌های دارینه‌ای در بخش‌های مرتبط با بیرون بدن به فراوانی یافت می‌شوند.

بررسی سایر گزینه‌ها:

گزینه ۲) نادرست. هیستامینی که از ماستوسیت‌ها ترشح می‌شود، در گشاد کردن رگ‌ها و تغییر نفوذپذیری آن‌ها نقش ایفا می‌کنند.

گزینه ۳) نادرست. این ویژگی مختص نوتروفیل‌هاست.

گزینه ۴) نادرست. ماستوسیت‌ها خارج از خون هستند و نیازی به عبور از دیواره رگ‌ها ندارند.

۵) ۱ ۲ ۳ ۴ ۵ همه موارد نادرست هستند.

الف) بیماری نقرس نوعی بیماری التهابی مربوط به مفاصل است.

ب) نوتروفیل‌ها دارای یک هسته سه قسمتی هستند نه هسته‌های سه قسمتی.

ج) ممکن است پروتئین مکمل به پادتن سطح میکرووب برخورد و فعال شود. در مواردی نیز در پاسخ التهابی باکتری وجود ندارد.

د) درشت‌خوارهای موجود در بافت آسیب دیده، اولین یاخته‌هایی هستند که وارد عمل می‌شوند نه درشت‌خوارهای گره‌های لنفی

۶) ۱ ۲ ۳ ۴ ۵ بررسی گزینه‌ها:

گزینه ۱: بیشترین یاخته‌های خونی (گلبول قرمز) که بعد از تولید از مغز استخوان باید وارد مویرگ‌های خونی شوند و تمامی گلبول‌های سفید توانایی دی‌پدز را دارند.

گزینه ۲: در بیماری‌های تنفسی شاهد افزایش ترشح اریتروپوئین از کبد و کلیه هستیم.

گزینه ۳: در انسان و بسیاری از پستانداران، هسته و بیشتر اندامک‌های خود را از دست می‌دهند.

گزینه ۴: پاسخ سؤال چون اشاره به رونویسی از تمامی ژن‌ها شده در یاخته‌ها همه ژن‌ها رونویسی نمی‌شوند.

۷) ۱ ۲ ۳ ۴ ۵ ۱. همه یاخته‌های سفید خونی توانایی تراگذری دارند. در بین آن‌ها نوتروفیل‌ها، بازوفیل‌ها و ائوزینوفیل‌ها دارای دانه‌هایی در میان یاخته خود هستند. ائوزینوفیل‌ها با آزادسازی محتویات دانه‌های خود، در دفاع در برابر انگل‌ها نقش دارند.

۲. نوتروفیل‌ها، نیروهای واکنش سریع هستند. نوتروفیل‌ها علاوه بر حمل مواد دفاعی قابلیت بیگانه‌خواری دارند.

۳. نوتروفیل‌ها اولین یاخته‌های بیگانه‌خوار در طی التهاب هستند. در پاکسازی گویچه‌های قرمز مرده، درشت‌خوارها نقش دارند.

۴. مونوسیت‌ها پس از خروج از رگ خونی تغییر شکل می‌دهند. مونوسیت‌ها به درشت‌خوارها و یاخته‌های دندرتی تبدیل می‌شوند.

۸) ۱ ۲ ۳ ۴ ۵ ۱. مونوسیت‌ها، دسته‌ای از گلبول‌های سفید هستند که در سیتوپلاسم خود، دانه ندارند. به همین دلیل جزء گلبول‌های سفید بدون دانه هستند. لنفوسیت‌ها هم که منشأ لنفوتیدی دارند، از گلبول‌های سفید بدون دانه هستند.

۲. همه گلبول‌های سفید دارای تراگذری هستند.

۳ و ۴. مونوسیت‌ها پس از خروج از خون به درشت‌خوارها و یاخته‌های دارینه‌ای تبدیل می‌شوند.

۹) ۱ ۲ ۳ ۴ ۵ گزینه ۱: مونوسیت‌هایی که وارد بافت می‌شوند در درشت‌خوار یا یاخته‌های دارینه‌ای تبدیل می‌شوند.

گزینه (۲): یاخته های دارینه ای قسمت هایی از میکروب را در سطح خود قرار می دهند. سپس خود را به گره های لنفاوی نزدیک می رسانند تا این قسمت ها را به لنفوسیت های غیر فعال ارائه کنند و لنفوسیت ها را فعال کنند.

گزینه (۳): یاخته های دارینه ای، در لایه بیرونی پوست نیز، بیگانه خواری انجام می دهند.

گزینه (۴): درشت خوارهای موجود در کبد و طحال سبب پاکسازی گویچه های قرمز مرده می شوند،

۱۰ (۱) (۲) (۳) (۴) ۱. در دومین خط دفاعی بدن، انواعی از یاخته های خونی شامل انواعی از گویچه های سفید نقش دارند. اما در نخستین خط دفاعی بدن، یاخته خونی نقش ندارد.

۲. در دومین خط دفاعی، انواعی از آنزیم ها شرکت دارند. یکی از این آنزیم ها، آنزیم ترشح شده از یاخته کشنده طبیعی است که سبب مرگ برنامه ریزی شده می شود. در خط نخستین دفاع نیز، آنزیم لیزوزیم نقش دارد.

۳. میکروب ها از هر نوعی که باشند، هنگام ورود به بدن، با خط اول دفاع بدن روبه رو می شوند. اگر میکروبی بتواند از نخستین خط دفاعی عبور کند، با خط دوم و سوم مواجه می شود. بنابراین در نخستین خط، ساز و کارهایی برای بیرون راندن میکروب ها وجود دارد.

۴. مخاط میکروب ها را به دام می اندازد و از پیشروی آن ها جلوگیری می کند. مخاط، از اجزا نخستین خط دفاع است.

۱۱ (۱) (۲) (۳) (۴) ۱. بیماری علت های مختلفی دارد. برخی از بیماری ها، میکروبی هستند. یکی از نشانه های بیماری میکروبی، تب است.

گزینه ۲: درشت خوار یکی از انواع بیگانه خوارها (فاگوسیت ها) است.

گزینه ۳: برای مثال یکی از انواع بیگانه خوارها، ماستوسیت است که یاخته ماستوسیت گویچه سفید نیست. اما گویچه سفید می تواند (نه قطعا) بیگانه خوار باشد. مانند نوتروفیل ها.

گزینه ۴: توانایی خروج از خون (تراگذری) از ویژگی های همه گویچه های سفید است.

۱۲ (۱) (۲) (۳) (۴) ۱. یاخته کشنده طبیعی نوعی از گلبول سفید است که در خط دوم دفاعی شرکت دارد. دومین خط دفاعی شامل ساز و کارهایی است که بیگانه ها را بر اساس ویژگی های عمومی آن ها شناسایی می کند. مولکول های سطح غشا سلول های سرطانی و یا آلوده به ویروس، تغییر می نماید و توسط یاخته طبیعی کشنده شناسایی می شود. (سلول آلوده به ویروس توسط خط دوم دفاعی تشخیص داده می شود اما نوع ویروس مشخص نمی شود)

گزینه ۲: اینترفرون، علاوه بر یاخته آلوده، بر یاخته های سالم مجاور هم اثر می کند و آنها را در برابر ویروس مقاوم می کند. (نه هر یاخته ای)

گزینه ۳: یاخته کشنده طبیعی، یاخته سرطانی و یاخته آلوده به ویروس را شناسایی می کند. (نه خود ویروس به تنهایی). یاخته کشنده طبیعی، باعث مرگ برنامه ریزی شده یاخته سرطانی یا آلوده به ویروس، می شود.

گزینه ۴: ریزکیسه های حاوی پرفورین و مولکول های آنزیم، محتویات خود را با برون رانی ترشح می کنند. آنزیم ها از منافذ عبور کرده و وارد یاخته می شوند.

۱۳ (۱) (۲) (۳) (۴) ۱. آنوزینوفیل ها به جای بیگانه خواری، محتویات دانه های خود را روی انگل می ریزند.

گزینه ۲: دانستید که نوتروفیل ها و آنوزینوفیل ها، میان یاخته دانه دار دارند.

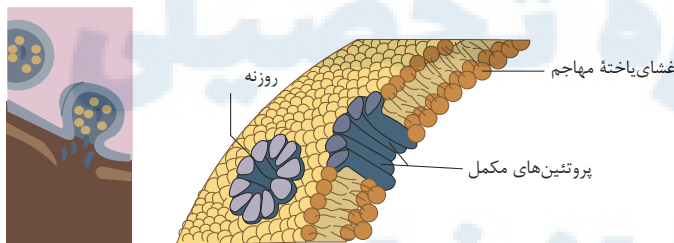
گزینه ۳: آنوزینوفیل و نوتروفیل، هر دو از انواع گلبول های سفیدی هستند که، در دومین خط دفاعی بدن نقش دارند. نوتروفیل ها با بیگانه خواری با عوامل بیماری زا، مبارزه می کنند و آنوزینوفیل ها، محتویات دانه های خود را به روی انگل می ریزند.

گزینه ۴: دانستید که آنوزینوفیل و نوتروفیل، یاخته های خونی هستند که از یاخته بنیادی میلوئیدی منشاء می گیرند.

۱۴ (۱) (۲) (۳) (۴) ۱. پس از اتصال یاخته کشنده طبیعی به یاخته هدف، پرفورین ترشح می شود. پرفورین برخلاف پروتئین های مکمل از پروتئین های محلول در خوناب نیست.

گزینه ۲: پرفورین در غشا یاخته های سرطانی یا آلوده به ویروس قرار می گیرد. و باعث ایجاد منفذ در غشای یاخته آن ها می شود در صورتی که در گزینه گفته شده باعث مرگ برنامه ریزی شده میکروب ها می شود.

گزینه ۳: همانطور که در تصاویر روبرو مشخص است، پرفورین همانند پروتئین های مکمل، در لایه لای دو لایه فسفولیپیدی غشاء هدف قرار می گیرد.



گزینه ۴: پرفورین و پروتئین های مکمل، در نهایت باعث مرگ یاخته هدف می شوند. یاخته مرده توسط درشت خوار، بیگانه خواری می شود.

۱۵ (۱) (۲) (۳) (۴) مورد (د) به نادرستی بیان شده است.

بررسی موارد:

مورد الف: هیستامین، رگ ها را گشاد و نفوذپذیری آنها را زیاد می کند. فاصله بین یاخته های بافت پوششی در اثر هیستامین، بیشتر می شود، در نتیجه نفوذپذیری رگ افزایش می یابد.

مورد ب: در روش مبادله مواد در مویرگ از طریق جریان توده ای، انتقال مواد از منافذ دیواره مویرگ ها صورت می گیرد. هیستامین قطر منافذ دیواره رگ ها را افزایش می دهد.

مورد ج: هیستامین موجب نفوذپذیری بیشتر رگ ها می شود، تا خوناب که حاوی پروتئین های دفاعی است، به خارج رگ نشت کند.

مورد د: تراگذری، فرایند عبور گویچه های سفید از دیواره مویرگ ها است. (نه سرخرگ ها)

مبحث: گفتار ۲ فصل ۵ زیست یازدهم

سری: شماره ۳

زمان: ۱۵ دقیقه

۱ فرآیند مبارزه نوتروفیل با عوامل بیماری زا فرآیند مبارزه ائوزینوفیل با عوامل بیماری زا

- ۱ برخلاف- همراه با تشکیل ریز کیسه غشایی است.
- ۲ همانند- به انرژی ATP نیاز دارد.
- ۳ برخلاف- به سطح غشا یاخته، افزوده می شود.
- ۴ همانند- از سطح غشا یاخته، کاسته می شود.

۲ کدام گزینه، نادرست است ؟

- ۱ ترکیبات موجود در ماده مخاطی علاوه بر اینکه مانع پیشروی میکروب ها می شوند در مواردی سبب کشتن ان ها نیز می شوند.
- ۲ یاخته های موجود در لایه بیرونی پوست هم در خط نخستین و هم در خط دومین دفاع نقش دارند.
- ۳ ماده چرب سطح پوست ، به دلیل تغذیه میکروب های بیمارزا ، محیط مساعدی را برای رشد آن ها فراهم می کند.
- ۴ هر نوع میکروب هنگام ورود به بدن ، قطعاً با خط نخستین دفاع روبه رو می شود.

۳ هر بیگانه خوار که در کبد حضور دارد

- ۱ دارای انشعاباتی است که مشابه آن در یاخته های عصبی وجود دارد.
- ۲ می تواند عوامل بیگانه را بر اساس ویژگی هایی که مشابه آن در عوامل بیگانه دیگر نیز وجود دارد شناسایی کند.
- ۳ ماده ای برای گشاد کردن رگ ترشح می کند که مشابه آن را یاخته ای درون خون نیز ترشح می کند.
- ۴ طی عملی مشابه گویچه های سفید از دیواره مویرگ عبور می کند.

۴ چند گزینه عبارت زیر را به طور مناسبی تکمیل می کنند ؟

..... همانند

- الف . در لوله گوارش ، یاخته های دندریتی - ماستوسیت ها حضور دارند.
- ب. در پوست ، هیستامین - دی اکسید کربن ، می تواند اثر گشادکنندگی روی رگ داشته باشد.
- پ. اینترفرون نوع II - پرفورین ، می تواند توسط یاخته کشنده طبیعی ترشح شود.
- ت . پرفورین - پروتئین مکمل ، می تواند سبب ایجاد منفذ در غشا یاخته پروکاریوت شود.

- ۱ ۱
- ۲ ۲
- ۳ ۳
- ۴ ۴

۵ کدام گزینه ، عبارت نادرستی را بیان می کند ؟

- ۱ یاخته دندریتی را می توان رابط بین دفاع غیر اختصاصی و اختصاصی دانست.
- ۲ رگ لنفی خروجی از گره لنفی ، حاوی یاخته های دندریتی است که برای عرضه بخش هایی از میکروب به یاخته های ایمنی ، در حال مهاجرت هستند.
- ۳ پلازما (خوناب) تراوش شده از مویرگ، می تواند حاوی پروتئین های دفاعی باشد.
- ۴ نوعی یاخته حاصل از سلول های میلوئیدی مغز استخوان، می تواند درون و بیرون خون بیگانه خواری کند.

۶ همه گزینه ها صحیح است به جز

- ۱ در مواردی ترشحات یاخته آلوده به ویروس می تواند خود یاخته را نیز تحت تاثیر قرار دهد.
- ۲ لنفوسیت T کمک کننده در مواردی می تواند اینترفرون نوع I ترشح کند.
- ۳ در بیماری MS ، ارتباط دستگاه عصبی با اندام های بدن دچار اختلال ایجاد می شود.
- ۴ هر نوع پاسخ دستگاه ایمنی در برابر عوامل خارجی، تحمل ایمنی نام دارد.

۷ همه یاخته هایی که در خط دوم دفاع نقش دارند

- ۱ به طور مستقیم یا غیرمستقیم از تقسیم یاخته های میلوئیدی در مغز استخوان به وجود آمده اند.
- ۲ در میان یاخته خود ، دانه هایی دارند که در دفاع از آنها استفاده می کنند.
- ۳ با عمل بیگانه خواری ، عامل بیماری را نابود می کنند.
- ۴ می تواند تنها در برابر آنچه بیگانه تشخیص داده می شود، پاسخ دهند.

۸ مچنیکو، کدام سازوکار دفاعی را در لارو ستاره دریایی مشاهده کرد؟

- ۱ یاخته هایی که با شناسایی آنتی ژن، آن را می بلعیدند.
- ۲ یاخته های دفاعی که با ترشحات خود، خرده های خار گل رز را از بین می برند.
- ۳ یاخته هایی که با درون بری، ذرات خارجی را از بین می بردند.
- ۴ یاخته هایی که مانند آمیب حرکت می کردند اما فاقد آنزیم بودند.

۹ هر یاخته ای که از تغییر شکل مونوسیت ایجاد شود

- ۱ در عرصه همه بخش های یک میکروب به یاخته های ایمنی نقش دارد.
- ۲ فعالیت بیگانه خواری را در خارج از خون انجام می دهد.
- ۳ همانند ماستوسیت ها، تنها در بخشی از بدن یافت می شود که با محیط بیرون در ارتباط است.
- ۴ در پاک سازی گویچه های قرمز مرده در کبد و طحال نقش دارد.

۱۰ کدام گزینه در ارتباط با پروتئین های مکمل نادرست است؟

- ۱ با ایجاد چندین روزنه در غشای یاخته ای میکروب، باعث ایجاد اختلال در عملکرد این بخش از میکروب می شوند.
- ۲ در پی اتصال به غشای یاخته ای میکروب در عملکرد آن اختلال ایجاد می کنند.
- ۳ پس از فعال شدن و تشکیل حلقه، به غشای میکروب متصل می گردند.
- ۴ با قرار گرفتن روی غشای یاخته ای میکروب، باعث تسهیل بیگانه خواری می شوند.

۱۱ کدام گزینه در ارتباط با یاخته های شکل مقابل، نادرست است؟ (با تغییر)

به طور معمول، یاخته شماره یاخته شماره



- ۱ ۳، برخلاف ۲، فاقد توانایی بیگانه خواری عوامل بیماری زا می باشد.
- ۲ ۱، برخلاف ۳، در پی تقسیمات یاخته های بنیادی میلوئیدی تولید می شود.
- ۳ ۲، همانند ۱، اطلاعات ژنی خود را درون یک هسته جای داده است.
- ۴ ۴، همانند ۱، می تواند با عبور از منافذ مویرگ، به بافت غیرخونی وارد شود.

۱۲ در بدن انسان، گویچه های سفید مربوط به دومین خط دفاعی که تعداد آن ها در خون، به دنبال بیماری ناشی از کرم های انگلی افزایش پیدا می کنند، چه مشخصه ای دارند؟

- ۱ دارای هسته دو قسمتی دمبلی شکل با دانه های روشن ریز در سیتوپلاسم خود می باشند.
- ۲ برخلاف نوتروفیل ها، در پی حمله به عامل بیماری زا، مساحت غشاء یاخته ای آن ها افزایش می یابد.
- ۳ با ترشح هیستامین موجب افزایش جریان خون و تورم و قرمزی در محل آسیب می شوند.
- ۴ برای بیگانه خواری کرم های انگلی خارج از خون، می توانند از طریق تراگذاری از دیواره مویرگ های خونی عبور کنند.

۱۳ چند مورد از موارد زیر در مورد اینترفرون درست است؟

- الف) اینترفرون نوع I ، سبب مقاومت سلول آلوده به ویروس می شود.
- ب) لنفوسیت T کشنده می تواند پرفورین و اینترفرون نوع II ترشح کند.
- ج) اینترفرون نوع I ، نقش مهمی در مبارزه علیه یاخته های سرطانی دارد.
- د) اینترفرون نوع II ، در دومین خط دفاع غیراختصاصی نقش دارد.

۴ (۴)

۳ (۳)

۲ (۲)

۱ (۱)

۱۴) کدام موارد می‌تواند عبارت زیر را به نادرستی تکمیل کند؟ (با تغییر)

«هیستامین تولید شده توسط»

- آ) یاخته‌های آسیب دیده محل زخم، نمی‌توانند گلبول‌های سفید خون بیشتری را به موضع آسیب هدایت کنند.
ب) بازوفیل‌ها، باعث استراحت ماهیچه‌های صاف دیواره مویرگ‌ها می‌شوند.
ج) یاخته‌های مشابه بازوفیل‌ها در بافت‌ها، می‌تواند باعث آبریزش از بینی شود.
د) یاخته‌های خونی، باعث افزایش فشار خون در محل ترشح می‌شود.

۴) آب و د

۳) ج و د

۲) آ و ج

۱) ب و ج

۱۵) همه ، می‌توانند همانند ائوزینوفیل‌ها، (با تغییر)

- ۱) مونوسیت‌هایی که لیزوزوم فراوان دارند- بیگانه‌خواری انجام دهند.
۲) نوتروفیل‌هایی که تحرک زیادی دارند- نوعی ماده‌ی گشادکننده‌ی رگی بسازند.
۳) یاخته‌های دندریتی که در دفاع غیر اختصاصی شرکت می‌کنند- با صرف انرژی، با عامل بیگانه مبارزه کنند.
۴) نوتروفیل‌هایی که در گروه فاگوسیت‌ها هستند- هپارین ترشح کنند.

مرکز مشاوره تحصیلی

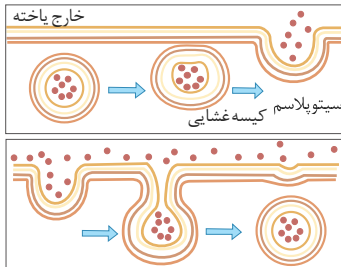
علیرضا افشار

پاسخنامه تشریحی

گزینه ۱: نوتروفیل، برای مبارزه با عوامل بیماری زا، مواد بیگانه را درون بری می کند. ائوزینوفیل، برای مبارزه با عوامل بیگانه، محتویات دانه های درشت میان یاخته خود را با برون رانی، به روی انگل می ریزد. فرآیند درون بری و برون رانی، همراه با تشکیل ریز کیسه است.

گزینه ۲: فرایند درون بری و برون رانی هر دو به انرژی ATP نیاز دارد.

گزینه ۳ و گزینه ۴: با توجه به شکل زیر، درون بری، از سطح غشا کم می کند و برون رانی به سطح غشا اضافه می کند.



گزینه ۱. ماده مخاطی چسبناک است و از پیشروی میکروب ها جلوگیری می کند. هم چنین لیزوزیم موجود در مخاط باعث کشته شدن باکتری ها می شود.

گزینه ۲. بافت پوششی پوست و لایه مخاطی در خط نخستین دفاع نقش دارند. هم چنین یاخته های دندریتی که در بین لایه های بافت پوششی قرار دارند در خط دوم دفاع نقش دارند.

گزینه ۳. ماده چرب سطح پوست، به علت داشتن اسیدهای چرب، خاصیت اسیدی دارد و محیط اسیدی برای رشد میکروب های بیماری زا مساعد نیست.

گزینه ۴. میکروب ها از هر نوع که باشند، هنگام ورود به بدن، با خط اول دفاع بدن روبه رو می شوند.

گزینه ۱. بیگانه خواری که در کبد حضور دارد، درشت خوار (ماکروفاز) است و درشت خوارها انشعابات دندریتی که در گزینه مطرح شده است را ندارند.

گزینه ۲. همه یاخته های خط دوم دفاع از جمله بیگانه خوارها، عوامل بیگانه را براساس ویژگی های عمومی شناسایی می کنند. ویژگی عمومی یعنی ویژگی که در بیگانه های دیگر نیز وجود دارد.

گزینه ۳. در بین بیگانه خوارها، ماستوسیت ها در خارج خون قرار دارند و می توانند هیستامین ترشح کنند. در کبد درشت خوارها که نوعی بیگانه خوار هستند نیز وجود دارند. درشت خوارها هیستامین ترشح نمی کنند. بازوفیل ها درون خون هستند و می توانند هیستامین ترشح کنند. هیستامین سبب گشادی رگ ها می شود.

گزینه ۴. فرآیند عبور گویچه های سفید از دیواره مویرگ ها را دیاپدز می نامند. همه گویچه های سفید توانایی دیاپدز (تراگذری) دارند ولی همه بیگانه خوارها این توانایی را ندارند. در بین بیگانه خوارها نوتروفیل چون گویچه سفید است این توانایی را دارد.

گزینه ۱. یاخته های دندریتی و ماستوسیت ها هر دو در بخش هایی از بدن که با محیط بیرون در ارتباط هستند مثل پوست و لوله گوارش وجود دارند.

گزینه ۲. هیستامین و CO_2 هر دو می توانند سبب گشاد کردن رگ شوند.

گزینه ۳. یاخته های کشنده طبیعی می توانند اینتر فرون نوع II و پرفورین را ترشح کنند.

گزینه ۴. پروتئین مکمل می تواند در غشا پروکاریوت ها (باکتری ها) منفذ ایجاد کند اما پرفورین در غشا یاخته های یوکاریوتی مثل سلول آلوده به ویروس و سلول سرطانی منفذ ایجاد می کند.

گزینه ۱. یاخته دندریتی نوعی یاخته دفاع غیر اختصاصی است. این یاخته، بخش هایی از میکروب (آنتی ژن) را به لنفوسیت ها عرضه می کند تا لنفوسیت ها میکروب را مورد شناسایی قرار دهند.

گزینه ۲. رگ لنفی ورودی به گره لنفی حاوی یاخته های دندریتی برای عرضه بخش هایی از میکروب هستند.

گزینه ۳. پلاسما (خوناب) که حاوی پروتئین های دفاعی است از مویرگ به خارج نشت پیدا می کند.

گزینه ۴. نوتروفیل نوعی یاخته حاصل از سلول های میلوئیدی است که در خون و خارج خون وجود دارد و بیگانه خواری می کند.

گزینه ۱. از یاخته های آلوده به ویروس، اینترفرون نوع I ترشح می شود که می تواند خود یاخته آلوده به ویروس را نیز نسبت به ویروس مقاوم کند.

گزینه ۲. اگر لنفوسیت T کمک کننده، آلوده به ویروس HIV شود، اینترفرون نوع I تولید می کند.

گزینه ۳. بیماری MS حمله دستگاه ایمنی به مغز و نخاع است. چون مغز و نخاع کنترل اندام ها را به عهده دارند در این ارتباط اختلال ایجاد می شود.

گزینه ۴. به عدم پاسخ دستگاه ایمنی در برابر عوامل خارجی، تحمل ایمنی می گویند.

گزینه ۱. یاخته های کشنده طبیعی، نوعی لنفوسیت هستند و لنفوسیت ها از یاخته های لنفوئیدی مغز استخوان به وجود آمده اند

گزینه ۲. مونوسیت ها و یاخته های کشنده طبیعی، در سیتوپلاسم (میان یاخته) دانه ندارند

گزینه ۳. ائوزینوفیل ها از جمله یاخته های خط دوم هستند که برای نابودی عوامل بیگانه بزرگ بیگانه خواری انجام نمی دهند

گزینه ۴. دستگاه ایمنی هر فرد، یاخته های خودی را می شناسد و تنها در برابر آنچه که بیگانه تشخیص داده می شود پاسخ می دهد

گزینه ۱: (۱) مچنیکو در بدن لارو ستاره دریایی، یاخته هایی شبیه به آمیب را دید که مواد اطراف خود را می بلعیدند. بیگانه خوارها جزیی از دفاع غیراختصاصی هستند در صورتی که شناسایی آنتی ژن مربوط به دفاع اختصاصی است.

گزینه ۲: یاخته های مثل آمیب در بدن لارو، ابتدا خرده های خار گل رز را درون بری می کنند و سپس در درون یاخته با کمک آنزیم های درون یاخته ای، خرده های خار گل را از بین می برند.

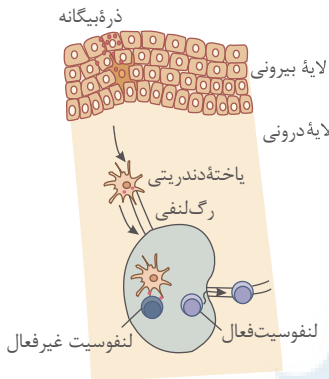
گزینه ۳: بلعیدن ذرات بزرگ خارجی از طریق درون بری (آندوسیتوز) است.

گزینه ۴: هر نوع یاخته ای برای انجام واکنش های شیمیایی درون خود نیاز به آنزیم دارد.

تصویر درشت خوار در حال بیگانه خواری

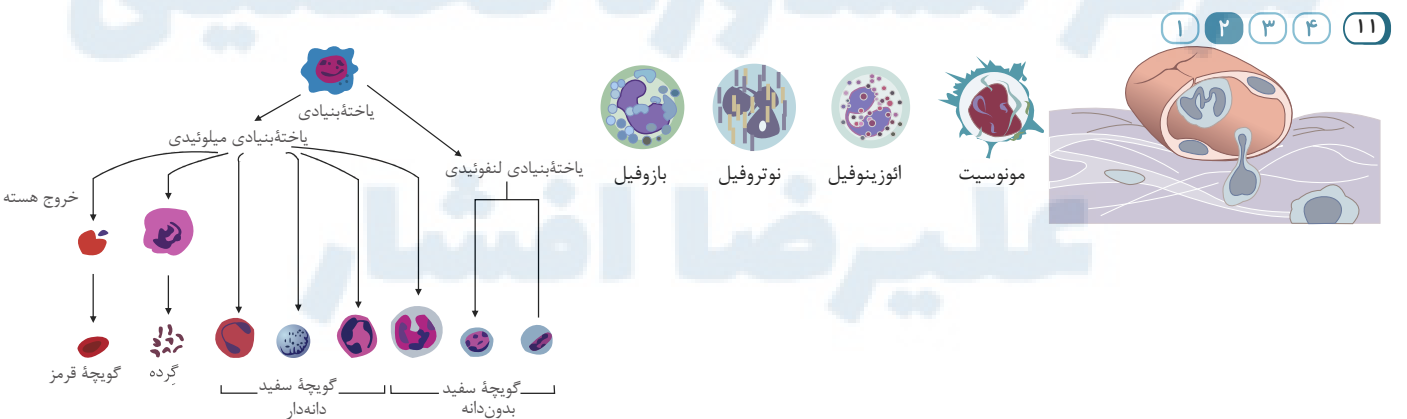
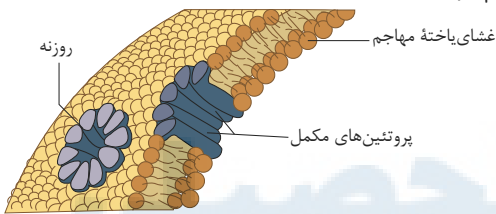


- ۹) گزینه (۱): یاخته‌های تغییر یافته از مونسیت‌ها، یاخته‌های دارینه‌ای و یاخته‌های درشت خوار هستند. فقط یاخته‌های دارینه‌ای (نه ماکروفاز) افزون بر بیگانه خواری، قسمت‌هایی (نه همه) از میکروب را در سطح خود قرار می‌دهند تا به یاخته‌های ایمنی ارائه کنند.
- گزینه (۲): یاخته‌های ماکروفاز و دارینه‌ای هر دو از تغییر مونسیت‌ها به وجود آمدند و هر دو نوع یاخته توانایی بیگانه خواری در خارج از خون را دارند.
- گزینه (۳): فقط یاخته‌های دارینه‌ای (نه ماکروفازها) همانند ماستوسیت‌ها در بخش‌هایی از بدن که با محیط بیرون در ارتباط‌اند به فراوانی یافت می‌شوند.
- گزینه (۴): ماکروفازها (نه دارینه‌ای) در کبد و طحال گویچه‌های قرمز مرده را پاک‌سازی می‌کنند.



- ۱۰) گزینه (۱): پروتئین‌های فعال شده به کمک یکدیگر ساختارهای حلقه‌مانندی را در غشای میکروب‌ها ایجاد می‌کنند که این روزنه‌ها، عملکرد غشای یاخته‌ای را از بین می‌برد.

- گزینه (۲): در پی اتصال پروتئین‌های فعال شده به غشا یاخته‌ای میکروب‌ها، عملکرد غشا یاخته‌ای میکروب را در کنترل ورود و خروج مواد از بین می‌برد.
- گزینه (۳): پروتئین‌های مکمل فعال شده به دنبال هم به غشای میکروب متصل می‌شوند و سپس به شکل حلقه درمی‌آیند. در صورتی که در گزینه (۳)، نوشته شده که پس از تشکیل حلقه به غشای میکروب متصل می‌شود. که این جمله را به جمله نادرست تبدیل کرده است.
- گزینه (۴): پروتئین‌های مکمل با قرار گرفتن روی میکروب افزون بر ایجاد روزنه، باعث می‌شود که بیگانه خواری آسان‌تر انجام شود.

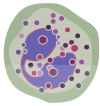


مربوط به گزینه (۱-۲-۳)

مربوط به گزینه (۴)

- گزینه (۱): ائوزینوفیل (شماره ۳) به جای بیگانه خواری، محتویات دانه‌های خود را به روی انگل‌ها می‌ریزد، در صورتی که نوتروفیل‌ها (شماره ۲) بیگانه خواری دارند.
- گزینه (۲): بازوفیل (شماره ۱) همانند (نه برخلاف) ائوزینوفیل (شماره ۳) در پی تقسیمات یاخته‌های بنیادی میلوئیدی تولید می‌شود.
- گزینه (۳): هسته محل حضور دنا و اطلاعات ژنتیکی است. نوتروفیل‌ها (شماره ۲) همانند بازوفیل‌ها (شماره ۱) دارای یک هسته می‌باشند.
- گزینه (۴): تراگذری (دیاپدز) از ویژگی‌های همه گویچه‌های سفید است؛ بنابراین، همه انواع گویچه‌های سفید که درون خون قرار دارند می‌توانند با عبور از منافذ مویرگ‌ها به بافت‌ها وارد شوند.

۱۲) صورت سوال مربوط به ائوزینوفیل‌ها است.



انوزینوفیل

گزینه (۱): طبق شکل روبه‌رو، انوزینوفیل‌ها دارای هستهٔ دو قسمتی دمبلی شکل و دانه‌های روشن درشت نه ریز در سیتوپلاسم خود هستند.

گزینه (۲): انوزینوفیل‌ها در برخورد با عوامل بیگانه بزرگ مثل کرم‌های انگل، نقش دارند. در این رابطه محتویات دانه‌های خود را با برون‌رانی بر روی عامل بیگانه می‌ریزند. در برون‌رانی مساحت غشاء یاخته افزایش می‌یابد. اما نوتروفیل‌ها، بیگانه‌خواری انجام می‌دهند و بیگانه‌خواری با کاهش مساحت غشاء همراه است.

گزینه (۳): انوزینوفیل‌ها، هیستامین ترشح نمی‌کنند.

گزینه (۴): انوزینوفیل‌ها می‌توانند از طریق تراگذری از دیوارهٔ مویرگ‌های خونی عبور کنند. اما برای مبارزه با کرم‌های انگل، بیگانه‌خواری انجام نمی‌دهند.

۱۳) بررسی موارد:

موارد (الف) و (د) و درست هستند. اینترفرون نوع I از یاختهٔ آلوده به ویروس ترشح می‌شود و علاوه بر یاختهٔ آلوده، بر یاختهٔ سالم مجاور هم اثر می‌کند و آن‌ها را در برابر ویروس مقاوم می‌کند. اینترفرون نوع I و نوع II در دومین خط دفاع غیراختصاصی نقش دارند.

مورد (ب) نادرست، زیرا لنفوسیت T اینترفرون نوع II ترشح می‌کند، پرفورین توسط لنفوسیت T کشته‌تولید می‌شود.

مورد (ج) نادرست، اینترفرون نوع II ، نقش مهمی در مبارزه علیه یاخته‌های سرطانی دارد.

۱۴) مورد ج فقط درست می‌باشند.

بررسی موارد:

مورد (الف) نادرست- در التهاب از ماستوسیت‌های آسیب‌دیده هیستامین رها می‌شود. به این ترتیب گویچه‌ای سفید بیشتری به موضع آسیب‌دیده هدایت می‌شوند.

مورد (ب) نادرست- هیستامین باعث گشادی رگ‌ها می‌شود، ولی مویرگ‌ها در دیواره‌ی خود هیچ ماهیچه‌ای ندارند. پس اگر گشاد شوند، این عمل بدون دخالت ماهیچه بوده است.

مورد (ج) درست- ماستوسیت‌ها با ترشح هیستامین سبب آبریزش بینی می‌شوند.

مورد (د) نادرست- با گشاد شدن رگ‌ها در اثر هیستامین، فشار وارد شده به دیوارهٔ رگ‌ها کمتر می‌شود.

۱۵) یاخته‌های دندریتی (فاگوسیت‌ها) می‌توانند با فرآیند بیگانه‌خواری، میکروب‌ها را بلعند. فرآیند آندوسیتوز برای انجام به انرژی زیستی نیاز دارد؛ بنابراین همه‌ی فاگوسیت‌ها با صرف انرژی، میکروب‌ها را می‌بلعند. و انوزینوفیل‌ها نیز با صرف انرژی می‌توانند دانه‌های خود را به درون انگل بریزند و با آن‌ها مبارزه کنند.

بررسی سایر گزینه‌ها:

گزینه (۱): فاگوسیت‌ها، لیزوزوم‌های فراوان دارند اما توجه داشته باشید که انوزینوفیل‌ها بیگانه‌خواری نمی‌کنند.

گزینه (۲): نوتروفیل‌ها، تحرک زیادی دارند. اما توجه داشته باشید که بازوفیل‌های خون و ماستوسیت‌های و آسیب‌دیده بافتی، می‌توانند هیستامین (نوعی ماده گشادکنندگی رگی) بسازند و نوتروفیل‌ها، توانایی ترشح هیستامین را ندارند که با توجه به قید «همه» در صورت سؤال، این گزینه نیز نمی‌تواند پاسخ این تست باشد.

گزینه (۴): نوتروفیل‌ها، در گروه فاگوسیت‌ها می‌باشند. اما توجه داشته باشید که نوتروفیل‌ها هپارین ترشح نمی‌کنند تنها، بازوفیل‌های خون (و ماستوسیت‌های موجود در بافت‌ها)، توانایی ترشح هپارین (نوعی ماده ضد انعقاد خون) را دارند.

مرکز مشاوره تحصیلی

علیرضا افشار

مبحث: گفتار ۳ فصل ۵ زیست یازدهم

سری: شماره ۱

زمان: ۱۵ دقیقه

۱ در رابطه با همه پروتئین‌های ترش‌جی پلاسوسیت‌های سالم در بدن انسان، کدام عبارت زیر صحیح است؟

- ۱ نوعی پروتئین موجود در جریان خون است.
- ۲ در نهایت سبب افزایش فعالیت آنزیم‌های گوارشی بیگانه‌خوارها می‌شود.
- ۳ در خطوط دفاعی بدن انسان نقش دارد.
- ۴ سبب فعال‌سازی پروتئین‌های مکمل در بدن می‌شود.

۲ کدام عبارت، درباره هر پادتن موجود در بدن انسان صادق است؟

- ۱ به‌طور مستقیم توسط یاخته‌های پادتن‌ساز تولید می‌گردد.
- ۲ می‌تواند به‌طور اختصاصی به دو مولکول پادگن (آنتی‌ژن) متصل شود.
- ۳ در مبارزه با پادگن (آنتی‌ژن) ابتدا باعث نابودی یاخته بیگانه می‌شود.
- ۴ با رسوب دادن پادگن (آنتی‌ژن)‌های محلول، باعث غیرفعال شدن آن‌ها می‌گردد.

۳ کدام عبارت زیر درست است؟

- ۱ همواره در پی اتصال پادتن به آنتی‌ژن، فعالیت یاخته‌های بیگانه‌خوار افزایش می‌یابد.
- ۲ پس از تزریق پادزهر سم مار، پروتئین‌های مکمل فعال می‌شوند و سم مار را خنثی می‌کنند.
- ۳ بعضی پادتن‌ها پس از تولید، بر روی یاخته پادتن‌ساز قرار می‌گیرند و به عنوان گیرنده آنتی‌ژنی عمل می‌کنند.
- ۴ هر نوع لنفوسیت T می‌تواند با اتصال به یاخته هدف و ترشح پرفورین و آنزیم، مرگ برنامه‌ریزی شده را به راه بیندازد.

۴ در رابطه با یاخته‌هایی که به‌طور مستقیم بلافاصله از تقسیم لنفوسیت‌های B تولید می‌شوند، چند مورد صحیح است؟

- الف) گروهی از این یاخته‌ها، توانایی تولید یک نوع مولکول پادتن را دارند.
- ب) همه این یاخته‌ها، دارای هسته گرد در قسمت مرکزی خود هستند.
- ج) همه این یاخته‌ها، دارای گیرنده‌هایی برای اتصال به پادگن هستند.
- د) گروهی از این یاخته‌ها، اندازه بزرگ‌تری نسبت به لنفوسیت B اولیه دارند.

- ۱ ۱
- ۲ ۲
- ۳ ۳
- ۴ ۴

۵ در رابطه با یاخته‌های دارای گیرنده آنتی‌ژنی در بدن انسان سالم و بالغ، چند مورد صحیح است؟

- این یاخته‌ها همگی تحت تأثیر هورمون تیموسین قرار دارند.
- همگی جزء یاخته‌های ایمنی اختصاصی بدن انسان محسوب می‌شوند.
- از یاخته‌های بنیادی مغز قرمز موجود در بسیاری استخوان‌های بدن منشأ می‌گیرند.
- پاسخ دفاعی این یاخته‌ها، به نوع عامل بیگانه بستگی دارد و تنها بر همان عامل مؤثر است.

- ۱ ۱
- ۲ ۲
- ۳ ۳
- ۴ ۴

۶ با تزریق سرم به انسان، ایجاد گردیده و

- ۱ ایمنی فعال - عوامل بیماری‌زا سرکوب می‌شوند.
- ۲ ایمنی غیرفعال - لنفوسیت‌های دفاع اختصاصی تکثیر نمی‌شوند.
- ۳ ایمنی غیرفعال - تعداد زیادی یاخته پادتن‌ساز ایجاد می‌شود.
- ۴ ایمنی فعال - مقدار بیشتری پادتن تولید می‌شود.

۷ درباره یک فرد مبتلا به بیماری ایدز، تعداد نوع خاصی از لنفوسیت‌های T ایمنی اختصاصی به شدت کاهش یافته است. کدام گزینه زیر درباره

این فرد نادرست است؟

- ۱ فعالیت دیگر انواع لنفوسیت‌های T بالغ موجود در بدن مختل می‌شود.
- ۲ تولید اینترفرون نوع ۲ و در نتیجه مقابله با سرطان‌ها در بدن کاهش می‌یابد.
- ۳ علائم بیماری‌های خودایمنی همانند تحمل دستگاه ایمنی بدن، افزایش می‌یابد.
- ۴ برخی از لنفوسیت‌های T می‌توانند تحت تأثیر نوعی پیک شیمیایی کوتاه برد، در برابر ویروس مقاوم شوند.

۸ ماده‌ای که می‌شود، نمی‌تواند در نقش داشته باشد. (با تغییر)

- ۱ باعث افزایش خون در محل آسیب دیده - ایجاد علائم حساسیت
- ۲ باعث افزایش فاگوسیتوز در ماکروفاژ - ایمنی اختصاصی
- ۳ در لنفوسیت T کشنده ساخته - ایجاد منفذ در ویروس‌ها
- ۴ از یاخته‌های آسیب دیده ترشح - مقاومت سایر یاخته‌ها

۹ کدام عبارت صحیح است؟ (با تغییر)

- ۱ هر ویروسی که سبب مرگ افراد مبتلا به ایدز شود، ویروس نقص ایمنی انسان است.
- ۲ هر یاخته دارای ژن پرفورین، باعث ایجاد منافذ در غشای سلول‌های آلوده به ویروس می‌شود.
- ۳ ممکن نیست یاخته‌هایی غیر از بافت پیوندی در دفاع اختصاصی شرکت کنند.
- ۴ منشأ همهٔ بیگانه‌خوارهای خارج از خون گروهی از گویچه سفید دانه دار می‌باشند.

۱۰ در ارتباط با پادتن‌ها، چند عبارت زیر نادرست است؟ (با تغییر)

- الف) هر مولکول آن در خون دو جایگاه برای اتصال به آنتی‌ژن دارد.
- ب) تزریق آن به فرد سالم، نمی‌تواند ایمنی دائمی ایجاد کند.
- ج) مولکول‌هایی محلول در خون هستند و خارج از خون یافت نمی‌شوند.
- د) سلول‌های سازندهٔ آن‌ها قادر به شناسایی آنتی‌ژن‌های سطح ویروس‌ها هستند.
- ه) توسط گروهی از گویچه‌های سفید بدون دانه تولید و باعث افزایش ذره‌خواری یاخته‌های کشندهٔ طبیعی خون می‌شوند.

- ۱ ۱
- ۲ ۲
- ۳ ۳
- ۴ ۴

۱۱ کدام گزینه، در مورد انسان درست است؟ (با تغییر)

- ۱ پادتن‌ها، می‌توانند عامل بیماری‌زا را به طور مستقیم از بین ببرند.
- ۲ در خطوط دفاع غیر اختصاصی، انواعی از یاخته‌های خونی شرکت دارند.
- ۳ نوتروفیل‌ها می‌توانند با صرف انرژی از دیوارهٔ مویرگ‌ها به فضاهای بین‌یاخته‌ای، اگزوسیتوز شوند.
- ۴ لنفوسیت‌های B می‌توانند در محل تولید گیرنده‌های سطحی خود، فعالیت فاگوسیت‌ها را تشدید نمایند.

۱۲ کدام گزینه از مشخصات اندامی است که جزء غدد درون‌ریز بدن بوده و در عین حال نوعی اندام لنفی نیز محسوب می‌شود؟

- ۱ با افزایش سن، اندازهٔ آن کاهش می‌یابد ولی فعالیت آن ثابت می‌ماند.
- ۲ گویچه‌های قرمز بالغ، اصلی‌ترین نقش را در انتقال گازهای تنفسی در تمام رگ‌های مرتبط به آن بر عهده دارند.
- ۳ جلوی محل دو شاخه شدن نای و بین شش‌های راست و چپ قرار گرفته است.
- ۴ یاخته‌های بافت پوششی در دیوارهٔ مویرگ‌های خونی آن با همدیگر ارتباط تناثنگی داشته و به وسیلهٔ غشاء پایه پیوسته احاطه شده‌اند.

۱۳ در انسان، هر لنفوسیت دارای گیرنده آنتی‌ژنی که قدرت تکثیر داشته باشد، قطعاً (با تغییر)

- ۱ در محلی که سلول بنیادی مغز استخوان وجود دارد، بالغ می‌شود.
- ۲ در گره‌های لنفی، طحال و لوزه‌ها به همراه ماکروفاژ مستقر می‌شود.
- ۳ یاخته تخصص یافته‌ای است که توانایی شناسایی نوع خاصی از عوامل بیگانه را دارد.
- ۴ قبل از بالغ شدن وارد خون شده و به غده‌ای در پشت استخوان جناغ در جلوی نای منتقل می‌شود.

۱۴ به طور معمول هر لنفوسیتی که پس از بلوغ وارد جریان خون می‌شود

- ۱ باعث مرگ برنامه‌ریزی شده یاخته‌های مورد هدف خود می‌شوند.
- ۲ با خاصیت فاگوسیتوزی خود بسیاری از آنتی‌ژن‌های خون را از بین می‌برد.
- ۳ با ترشح پروتئین‌هایی، در غشای یاخته‌های آلوده به ویروس، منفذ ایجاد می‌کند.
- ۴ هستهٔ تکی گرد یا بیضی و میان یاخته بدون دانه دارد.

۱۵ یاختهٔ ترشح‌کنندهٔ پرفورین

- ۱ نمی‌تواند اینترفرون ترشح کند.
- ۲ دارای گیرنده‌های سطحی اختصاصی در غشای سلولی است.
- ۳ در اثر برخورد با آنتی‌ژن به یاختهٔ پادتن‌ساز تبدیل می‌شود.
- ۴ می‌تواند با بیگانه‌خواری میکروب‌ها را نابود کند.

پاسخنامه تشریحی

۱. پادتن‌ها، پروتئین‌های ترشحي پلاسموسیت‌ها (پادتن‌ساز) هستند. همه پادتن‌ها در نهایت باعث افزایش فعالیت بیگانه‌خواری می‌شوند، در نتیجه آنزیم‌های درون سلولی بیگانه‌خوارها در از بین بردن عامل بیگانه نقش دارند.

بررسی سایر گزینه‌ها:

گزینه ۱: پادتن ترشح شده توسط یاخته‌های پادتن‌ساز، همراه مایعات بین‌یاخته‌ای، خون و لنف به گردش درمی‌آید.

گزینه ۳: این پروتئین‌ها به‌طور قطع در نخستین خط دفاعی شرکت نمی‌کنند.

گزینه ۴: این مورد فقط برای گروهی از پادتن‌ها صادق است نه همه آنها.

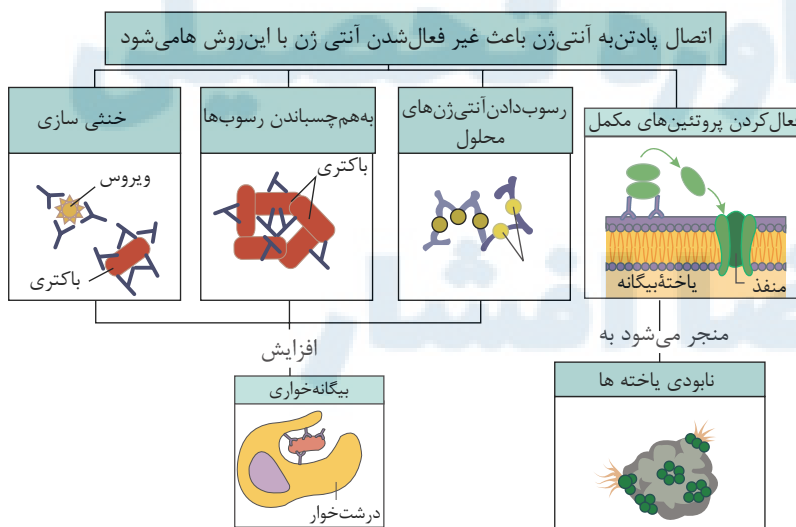
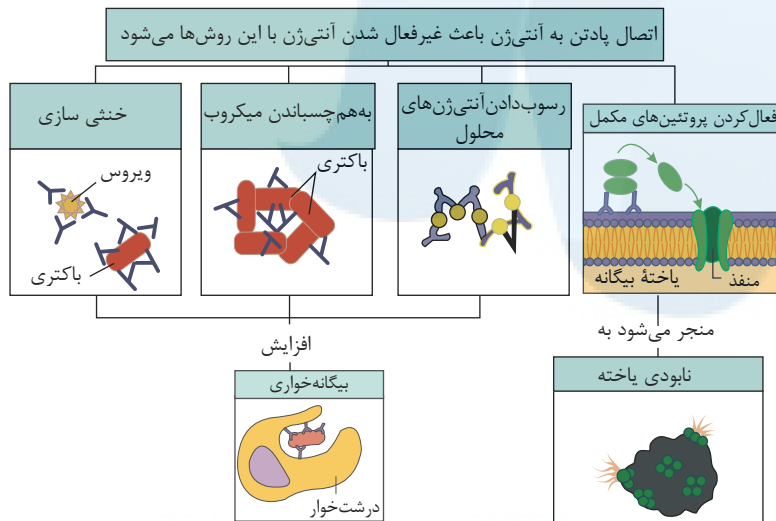
۲. پادتن‌ها مولکول‌هایی Y شکل و از جنس پروتئین‌اند - هر پادتن دو جایگاه برای اتصال به آنتی‌ژن دارد.

بررسی سایر گزینه‌ها:

گزینه ۱) پادتن توسط یاخته‌های پادتن‌ساز و یا توسط لنفوسیت B ترشح می‌شود.

گزینه ۳) پادتن آنتی‌ژن را به روش‌هایی که در شکل زیر نشان داده شده است بی‌اثر یا نابود می‌کند.

گزینه ۴) اتصال پادتن به آنتی‌ژن با روش‌هایی مثل فعال کردن پروتئین‌های مکمل، رسوب دادن آنتی‌ژن‌های محلول، به هم چسباندن میکروب‌ها و خنثی‌سازی باعث غیرفعال شدن آنتی‌ژن می‌شود.



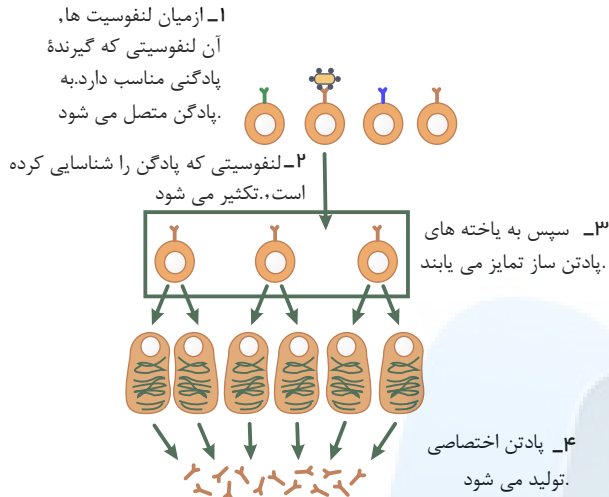
۱. طبق شکل روبه رو، فعالیت سه مورد از چهار مورد مشخص شده در شکل، سبب افزایش فعالیت بیگانه‌خوارها می‌شود. در روش چهارم که مربوط به پروتئین‌های مکمل است نیز وجود پروتئین مکمل بر روی غشا میکروب سبب افزایش بیگانه‌خواری می‌شود. پس در همه روش‌ها بیگانه‌خواری افزایش می‌یابد.

۲. پادزهر سم مار، سم مار را خنثی می‌کند، پروتئین‌های مکمل سبب خنثی کردن سم مار نمی‌شوند.

۳. بعضی پادتن‌ها، روی سطح لنفوسیت B قرار می‌گیرند و به عنوان گیرنده آنتی‌ژن عمل می‌کنند. یاخته پادتن‌ساز گیرنده آنتی‌ژن ندارد.

۴. لنفوسیت T کشنده و یاخته کشنده طبیعی با اتصال به یاخته هدف، پرفورین و آنزیم ترشح می‌کنند. لنفوسیت T (غیرفعال) و یاخته‌های کمک کننده چنین توانایی ندارند.

۴ یاخته‌هایی که به‌طور مستقیم از تقسیم لنفوسیت‌های B تولید شده‌اند، در شکل مقابل نشان داده شده‌اند.



بررسی موارد:

- مورد الف) هیچ‌یک از یاخته‌هایی که به‌طور مستقیم حاصل از تقسیم لنفوسیت B هستند پادتن تولید نمی‌کنند، بلکه این یاخته‌ها باید تمایز پیدا کنند (بزرگ می‌شوند و ویژگی جدیدی که توانایی تولید پادتن است در آنها پدیدار شود) (نادرست)
- مورد ب) همهٔ این یاخته‌های حاصل از تقسیم هستهٔ گرد و مرکزی دارند. (درست)
- مورد ج) همهٔ یاخته‌های حاصل از تقسیم، دارای گیرندهٔ آنتی‌ژنی در سطح خود هستند. (درست)
- مورد د) یاخته‌های حاصل از تقسیم، اندازه‌ای مشابه (نه اندازه بزرگ‌تر) لنفوسیت B دارند. (نادرست)
- ۵ منظور سؤال، یاخته‌های لنفوسیت اختصاصی است. زیرا گیرندهٔ آنتی‌ژنی صرفاً مخصوص لنفوسیت‌های B و T می‌باشد.

بررسی موارد:

- مورد اول) این مورد فقط برای لنفوسیت‌های T صادق است. (نادرست)
- مورد دوم) لنفوسیت‌های B و T جز ایمنی اختصاصی هستند و یاختهٔ کشته‌شدهٔ طبیعی فاقد گیرندهٔ آنتی‌ژنی است. (درست)
- مورد سوم) همهٔ این یاخته‌ها منشأ لنفوئیدی دارند. (درست)
- مورد چهارم) این مورد تعریف دفاع اختصاصی است و برای این یاخته‌ها صحیح است. (درست)
- ۶ ایمنی حاصل از سرم، ایمنی غیرفعال است، لنفوسیت‌ها فعال نمی‌شوند و به دنبال آن، یاختهٔ پادتن‌ساز نیز ایجاد نمی‌شود و پادتن در بدن تولید نشده و یاختهٔ خاطره‌ای نیز پدید نیامده است.
- بررسی سایر گزینه‌ها:

- واکسن، میکروب ضعیف شده، کشته شده، آنتی‌ژن میکروب یا سم خنثی شدهٔ آن است که با وارد کردن آن به بدن، لنفوسیت‌های B فعال و به دنبال آن یاخته‌های پادتن‌ساز و یاخته‌های خاطره پدید می‌آید.
- ۷ ۱. ویروس HIV در لنفوسیت‌های T کمک کننده تکثیر می‌شود. پس از آلوده شدن این لنفوسیت‌ها تعداد آن‌ها کم شده و عوارض بیماری ظاهر می‌شود. لنفوسیت‌های T کمک کننده برای عمل مناسب لنفوسیت‌های B و T لازم هستند.
۲. اینترفرون نوع ۲ توسط لنفوسیت‌های T تولید و ترشح می‌شوند. اختلال در کار لنفوسیت‌ها سبب کاهش تولید اینترفرون نوع ۲ می‌شود. اینترفرون نوع ۲ سبب افزایش فعالیت درشت‌خوارها می‌شود. کاهش اینترفرون نوع ۲ فعالیت درشت‌خوارها را کاهش داده و مبارزه با سرطان دچار اختلال می‌شود.
۳. در فرد آلوده به HIV دستگاه ایمنی ضعیف می‌شود. بنابراین علامت‌های بیماری خودایمنی کاهش می‌یابد. اما تحمل ایمنی افزایش می‌یابد. زیرا واکنش سیستم ایمنی به عوامل خارجی کم می‌شود.

۴. لنفوسیت‌های T کمک کننده که آلوده به ویروس شده‌اند، اینترفرون نوع ۱ تولید می‌کنند که بقیهٔ لنفوسیت‌ها را نسبت به ویروس مقاوم می‌کنند.
- ۸ پروتئین پرفورین در لنفوسیت T کشته‌شده تولید می‌شود و منافذی را در غشای سلول آلوده به ویروس ایجاد می‌کند. ویروس غشا ندارد.
- بررسی موارد در سایر گزینه‌ها:

- گزینهٔ (۱): هیستامین باعث افزایش خون در محل آسیب دیده می‌شود، در حساسیت از ماستوسیت‌ها ترشح شده و باعث ایجاد علائم آلرژی می‌شود.
- گزینهٔ (۲): پادتن یکی از موادی است که باعث افزایش فاگوسیتوز ماکروفاژ می‌شود که در ایمنی اختصاصی نقش دارد.
- گزینهٔ (۳): اینترفرون از سلول‌های آسیب دیده (آلوده به ویروس) ترشح شده و سبب مقاومت سایر یاخته‌ها در برابر ویروس می‌شود.
- ۹ یاخته‌هایی که در دفاع اختصاصی شرکت می‌کنند لنفوسیت‌ها هستند که به گویچه‌های سفید خون تعلق دارند. خون جزئی از بافت‌های پیوندی است.
- رد سایر گزینه‌ها:

- گزینهٔ (۱): HIV (ویروس نقص ایمنی انسان) باعث ایدز می‌شود، اما افراد مبتلا به ایدز ممکن است حتی در اثر ابتلا با کم‌خطرترین بیماری‌های واگیر نیز فوت کنند.
- گزینهٔ (۲): همهٔ یاخته‌های بدن دارای ژن پرفورین هستند ولی فقط انواعی از یاخته‌های لنفوسیت آن را بیان می‌کنند.
- گزینهٔ (۳): منشأ درشت‌خوارها و یاخته‌های دارینه‌ای در خارج از خون مونوسیت است که گویچهٔ سفید بدون دانه محسوب می‌شوند.
- ۱۰ موارد الف و ب صحیح‌اند. پادتن‌ها دارای دو جایگاه یکسان برای اتصال به آنتی‌ژن هستند و تزریق آن به بدن نمی‌تواند ایمنی دائمی ایجاد کند.
- بررسی سایر موارد:

ج) نادرست- پادتن‌ها علاوه بر خون، در لنف و مایع میان بافتی هم یافت می‌شوند.

د) نادرست- یاخته‌های پادتن ساز، پادتن می‌سازند، در حالی که آنتی‌ژن‌ها توسط لنفوسیت‌های B شناسایی شده‌اند. (یاخته‌های پادتن ساز فاقد گیرنده آنتی‌ژنی هستند)
ه) نادرست- پادتن‌ها از یاخته‌های پادتن ساز تولید می‌شوند که از گویچه‌های سفید بدون دانه هستند. پادتن‌ها باعث افزایش ذره‌خواری می‌شوند اما یاخته‌های کشنده طبیعی، ذره‌خواری نمی‌کنند.

۱۱) لنفوسیت‌های B در دو محل اصلی گیرنده سطحی می‌سازند: یکی هنگام بلوغ در مغز قرمز استخوان و یکی پس از برخورد با آنتی‌ژن، که موجب تولید لنفوسیت B جدید و خاطره، پادتن ساز و پادتن می‌شود. در مورد دوم، تولید پادتن می‌تواند باعث تسهیل فاگوسیتوز شود.

بررسی سایر گزینه‌ها:

گزینه ۱): پادتن‌ها، عوامل بیماری‌زا را به طور مستقیم از بین نمی‌برند.

گزینه ۲): در خطوط دفاع غیر اختصاصی (منظور هر دو خط دفاعی است نه یک خط) گلبول‌های قرمز و لنفوسیت‌های B و T شرکت ندارند.

گزینه ۳): خروج نوتروفیل‌ها از رگ، تراگذاری است نه اگزوسیتوز.

۱۲) صورت سوال در رابطه با غده تیموس است.

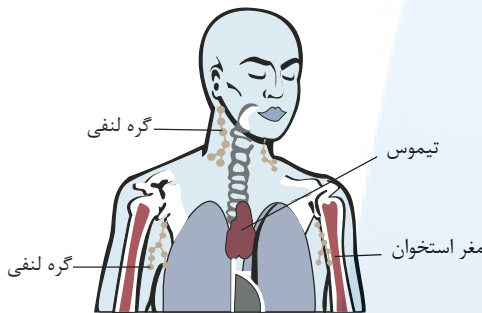
بررسی گزینه‌ها:

گزینه ۱): تیموس در دوران کودکی و نوزادی، فعالیت زیادی دارد اما به تدریج از فعالیت آن کاسته می‌شود و اندازه آن تحلیل می‌رود.

گزینه ۲): عده‌ای از رگ‌های مرتبط با تیموس، رگ‌های لنفی هستند و در رگ‌های لنفی، گلبول قرمز وجود ندارد.

گزینه ۳): تیموس جلوی محل دو شاخه شدن نای و بین شش‌های راست و چپ قرار دارد.

گزینه ۴): مویرگ‌های تیموس از نوع سوراخ دار است. در مویرگ‌های سوراخ دار یاخته‌های بافت پوششی ارتباط تنگاتنگ ندارند.



مربوط به گزینه ۳

۱۳) منظور سؤال لنفوسیت‌های B، T و خاطره می‌باشد.

بررسی سایر گزینه‌ها:

گزینه ۱): فقط لنفوسیت B در بین موارد بالا، در محلی که سلول بنیادی مغز استخوان وجود دارد بالغ می‌شوند.

گزینه ۲): دسته‌ای از لنفوسیت‌ها به گره‌های لنفی، طحال، لوزه‌ها و آپاندیس منتقل و در این اندام‌ها مستقر می‌شوند.

گزینه ۳): لنفوسیت T قبل از بلوغ وارد جریان خون شده و به تیموس می‌رود. لنفوسیت B پس از بلوغ وارد خون می‌شوند.

۱۴) لنفوسیت‌ها هسته تکی گرد یا بیضی شکل دارد و میان یاخته بدون دانه دارد.

علت نادرست بودن سایر گزینه‌ها:

گزینه ۱): لنفوسیت‌های B این عملکرد را ندارند.

گزینه ۲): لنفوسیت‌های B و T خاصیت بیگانه خواری ندارند.

گزینه ۳): این فرآیند مربوط به لنفوسیت‌های B نمی‌شود.

۱۵) سلول‌های T کشنده و یاخته‌های کشنده طبیعی پرفورین ترشح می‌کنند. T کشنده دارای گیرنده‌های اختصاصی برای اتصال به آنتی‌ژن‌ها هستند.

بررسی سایر گزینه‌ها:

گزینه ۱): لنفوسیت‌های T پس از آلوده شدن به ویروس، می‌تواند اینترفرون نوع I ترشح کند.

گزینه ۳): فقط لنفوسیت B و B خاطره می‌توانند یاخته پادتن ساز بسازند و یاخته‌های T کشنده یاخته پادتن ساز نمی‌سازند.

گزینه ۴): یاخته‌های ترشح کننده پرفورین، بیگانه‌خواری انجام نمی‌دهند.

مبحث: گفتار ۳ فصل ۵ زیست یازدهم

سری: شماره ۲

زمان: ۱۵ دقیقه

۱ کدام گزینه دربارهٔ پاسخ ایمنی ایجادشدهٔ بدن انسان سالم در پی ورود باکتری کزاز به ناحیهٔ زخم در پوست، نادرست است؟

- ۱ حداقل دو نوع یاختهٔ بیگانه‌خوار بافتی طی پاسخ التهابی، در مبارزه با باکتری نقش دارد.
- ۲ در بدن فرد واکسن‌زده، پادتن‌ها در نهایت می‌توانند موجب افزایش بیگانه‌خواری درشت‌خوارها شوند.
- ۳ اینترفرون نوع یک همانند اینترفرون نوع دو نمی‌تواند از یاخته‌های دارای غشای پایه در زیر خود، ترشح شود.
- ۴ پادتن‌های خنثی‌کنندهٔ پادگن‌های کزاز، از یاخته‌های پادتن‌ساز با هستهٔ درشت مرکزی تولید و ترشح شده‌اند.

۲ کدام گزینه در ارتباط با همهٔ پادتن‌های موجود در بدن یک انسان سالم و بالغ به‌درستی بیان شده است؟

- ۱ فاقد توانایی اتصال به بیش از یک نوع یاخته می‌باشند.
- ۲ به‌طور مستقیم توسط یاخته‌هایی با هستهٔ مرکزی تولید می‌شوند.
- ۳ دارای بیش از یک جایگاه برای اتصال به آنتی‌ژن(ها) هستند.
- ۴ فقط در مقابله با آنتی‌ژن‌های موجود در خون نقش دارند.

۳ در رابطه با پروتئین مقابل در بدن یک انسان بالغ، کدام عبارت به نادرستی بیان شده است؟

- ۱ مولکول شمارهٔ ۲ می‌تواند توسط نوعی یاختهٔ بافت پیوندی بدن انسان تولید شود.
- ۲ بخش ۱ در همهٔ پادتن‌های تولیدشده توسط یک پلاسماسیت، مشابه است.
- ۳ بخش شمارهٔ ۲ می‌تواند به نوعی از پروتئین‌های دفاعی بدن متصل شود.
- ۴ بخش ۲ می‌تواند محل اتصال برای یاخته‌های خودی و بیگانه باشد.

۴ کدام گزینه، عبارت زیر را به طور نادرست تکمیل می‌نماید؟

«یاختهٔ لنفوسیت B پس از برخورد با آنتی‌ژن رشد و تکثیر پیدا می‌کند. هر یاختهٔ حاصل از تکثیر این یاخته که»

- ۱ دارای توانایی تولید پادتن است، نمی‌تواند گیرندهٔ آنتی‌ژن را در سطح غشای خود داشته باشد.
- ۲ در برخوردهای بعدی شناسایی آنتی‌ژن را سریع‌تر انجام می‌دهد، طول عمر بیشتری نسبت به لنفوسیت عمل‌کننده دارد.
- ۳ دارای نقش در خنثی‌سازی آنتی‌ژن است، فعالیت بیگانه‌خواری را در درشت‌خوارها تشدید می‌کند.
- ۴ فاقد توانایی بیگانه‌خواری عامل خارجی است، دارای هسته‌ای درشت در مرکز خود می‌باشند.

۵ در بدن انسان، لنفوسیت‌های B موجود در گره‌های لنفی گردن، وقتی برای نخستین بار با یک آنتی‌ژن ویژه مواجه می‌گردند؛ پس از تقسیم و

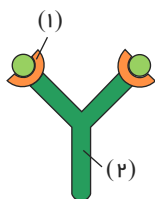
تامیز، تعدادی یاخته را به‌وجود می‌آورند. این یاخته‌ها پروتئینهایی تولید می‌کنند که به آنتی‌ژن متصل می‌شوند. چند مورد برای هر یک از این پروتئین‌ها صحیح است؟

- * به کمک اطلاعات دناي موجود در هسته مرکزی یاخته تولید می‌شوند.
- * همواره دارای دو جایگاه یکسان برای اتصال اختصاصی به آنتی‌ژن اولیه را هستند.
- * می‌توانند به طور مستقیم، فقط یاخته‌های بیگانه وارد شده به بدن را شناسایی کنند.
- * می‌توانند به صورت آزادانه در خون و لنف و مایع بین یاخته‌ای بدن حضور داشته باشند.

- ۱ ۱ ۲ ۲ ۳ ۳ ۴ ۴

۶ در هر فرد مبتلا به بیماری نقص ایمنی اکتسابی انتظار داشت

- ۱ می‌توان - همهٔ لنفوسیت‌های T توسط ویروس HIV مورد حمله قرار گیرند. ۲ نمی‌توان - از طریق اشک برخلاف نیش حشرات، منتقل شود.
- ۳ می‌توان - از گروهی از لنفوسیت‌های T اینترفرون نوع I آزاد شود. ۴ نمی‌توان - فعالیت لنفوسیت‌های B و T دچار اختلال شود.



۷) کدام گزینه عبارت زیر را به نادرستی تکمیل می‌کند؟

«در فرد مبتلا به ، امکان در ارتباط با این بیماری»

- ۱) بیماری ایدز - اختلال در عملکرد لنفوسیت‌های B، - وجود دارد.
- ۲) دیابت نوع II - حمله دستگاه ایمنی به سلول‌های جزایر لانگرهانس پانکراس - وجود دارد.
- ۳) مالتیپل اسکلروزیس - اختلال در عملکرد سومین خط دفاعی - وجود دارد.
- ۴) حساسیت - فعالیت ترشحي ياخته‌هایی که در برخی نقاط بدن با محیط بیرون در ارتباطاند، - وجود دارد.

۸) چند مورد، عبارت زیر را به طور مناسب تکمیل می‌کند؟ (با تغییر)

از تقسیم یاخته تولید نمی‌شود.

- الف) B خاطره، یاخته پادتن ساز (ب) یاخته پادتن ساز، B خاطره
ج) یاخته پادتن ساز، یاخته پادتن ساز (د) B خاطره، یاخته B خاطره

- ۱) ۱ ۲) ۲ ۳) ۳ ۴) ۴

۹) در بیماری MS، (با تغییر)

- ۱) لایه خارجی مخ بیشتر از لایه خارجی نخاع مورد تهاجم دستگاه ایمنی قرار می‌گیرد.
- ۲) با تخریب تدریجی غلاف میلین، انتقال جهشی پیام‌های عصبی دچار اختلال می‌شود.
- ۳) در صورت از بین رفتن سلول‌های عصبی پشتیبان، علائم بیماری ظاهر می‌شود.
- ۴) برخلاف حساسیت، در عملکرد گروهی از سلول‌های بافت عصبی اختلال ایجاد شده است.

۱۰) کدام عبارت جمله زیر را به نادرستی تکمیل می‌کند؟ (با تغییر)

«لنفوسیت‌هایی که در محل ساخت گویچه‌های قرمز بالغ می‌شوند،»

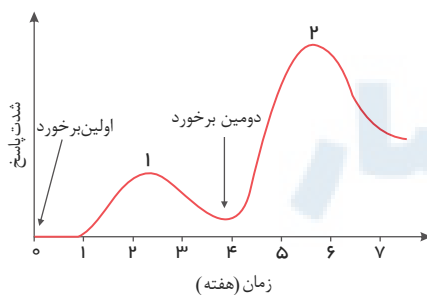
- ۱) توانایی عبور از خون به مایع بین بافتی را دارند.
- ۲) با ترشح پروتئینی، غشای سلول آلوده به ویروس را سوراخ می‌کنند.
- ۳) با تولید سلول‌های ترشح‌کننده پادتن، توانایی بیگانه‌خواری نوتروفیل‌ها را افزایش می‌دهند.
- ۴) با تولید یاخته‌های پادتن ساز، در بی‌اثر کردن میکروب‌ها نقش دارند.

۱۱) چند مورد از موارد زیر، می‌توانند تکمیل‌کننده، عبارت زیر باشند؟

پیش از ترشح، نیازی نیست، یاخته ترشح‌کننده آن، به یاخته مورد هدف حمله، نزدیک شود.

- الف- پروتئین‌های مکمل ب- پرفورین ج- محتویات دانه‌های ائوزینوفیل د- آنزیم آغازکننده مرگ برنامه‌ریزی شده
و- پادتن ه- اینترفرون نوع I

- ۱) ۱ مورد ۲) ۲ مورد ۳) ۳ مورد ۴) ۵ مورد



۱۲) کدام عبارت در رابطه با شکل مقابل صحیح نیست؟

- ۱) در شماره ۲ بر خلاف شماره ۱ لنفوسیت خاطره تولید می‌شود.
- ۲) شماره ۲ می‌تواند، برخورد اول فرد واکسن زده با میکروب واقعی باشد.
- ۳) شماره‌های ۱ و ۲ هر دو می‌توانند پس از تزریق واکسن اتفاق بیفتند.
- ۴) پاسخ‌های ایمنی نشان داده شده در این نمودار، به دلیل خاصیت حافظه دار بودن دفاع اختصاصی است.

۱۳) در دفاع اختصاصی

- ۱) هر لنفوسیت B بالغ، فقط می‌تواند به یک نوع آنتی ژن متصل شود و آن را شناسایی نماید.
- ۲) هر آنتی ژن، فقط می‌تواند توسط یک نوع لنفوسیت شناسایی شود.
- ۳) هر پادتن، به دلیل شکل Y، فقط می‌تواند به دو نوع آنتی ژن متصل شود.
- ۴) هر نوع میکروب، فقط می‌تواند به یک نوع پادتن متصل شود.

۱۴) از بین گزینه‌های زیر، گزینه درست را مشخص نمایید.

- ۱) یاخته‌کشنده طبیعی نسبت به لنفوسیت T کشنده، دیرتر وارد مبارزه با یاخته هدف می‌شود.
- ۲) هر پروتئین‌های مکمل غیر فعال خون، فقط در صورتی فعال می‌شود که پروتئین‌های مکمل با غشا یاخته میکروب اتصال برقرار نمایند.
- ۳) اگر آنتی ژنی که قبلاً به بدن وارد شده است، دوباره به بدن فرد وارد شود، پاسخ دفاع اختصاصی نسبت به دفاع غیر اختصاصی، سریع تر و قوی تر است.
- ۴) در بدن فرد گیرنده سرم، برخلاف فرد گیرنده واکسن، نیازی به فعال شدن لنفوسیت‌ها نیست.

۱۵) کدام گزینه، به درستی بیان شده است؟

- ۱) لنفوسیت‌های B نابالغ برخلاف لنفوسیت B بالغ در خون یافت نمی‌شوند.
- ۲) لنفوسیت‌های T نابالغ برخلاف لنفوسیت T بالغ، در خون یافت نمی‌شوند.
- ۳) لنفوسیت‌های کشنده طبیعی برخلاف لنفوسیت T کشنده، پرفورین و آنزیم مسئول مرگ برنامه ریزی شده ایجاد می‌کند.
- ۴) لنفوسیت کشنده طبیعی همانند لنفوسیت T کشنده، نیاز به فعال شدن ندارد.

مرکز مشاوره تحصیلی
علیرضا افشار

پاسخنامه تشریحی

پادتن توسط یاخته‌های پادتن‌سازی تولید می‌شود. یاخته پادتن‌ساز هسته کناری دارد. **۱ ۲ ۳ ۴ ۱** در پی ورود باکتری کزاز به ناحیه زخم در پوست انسان، خط دوم و سوم دفاعی می‌تواند پاسخ ایمنی ایجاد کند. در پاسخ به ورود کزاز در خط سوم دفاعی بدن، بررسی سایر گزینه‌ها:

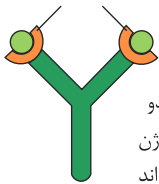
گزینه ۱: درشت‌خوارها (ماکروفاژ) و ماستوسیت‌ها دو نوع بیگانه‌خوار بافتی هستند که در پاسخ التهابی حضور دارند.

گزینه ۲: پادتن‌ها با روش‌های مختلف موجب افزایش بیگانه‌خواری درشت‌خوارها می‌شوند. همچنین با فعال کردن پروتئین‌های مکمل موجب نابودی یاخته و در نهایت افزایش بیگانه‌خواری توسط درشت‌خوارها می‌شوند.

گزینه ۳: چون عامل مهاجم وارد شده به بدن ویروس نمی‌باشد، بنابراین اینترفرون نوع یک از یاخته‌های آسیب‌دیده ترشح نمی‌شود. اینترفرون نوع دو توسط یاخته کشنده طبیعی و لنفوسیت‌های T ترشح می‌شود.

۱ ۲ ۳ ۴ ۲ هر پادتن دارای دو جایگاه برای اتصال به آنتی‌ژن(ها) است.

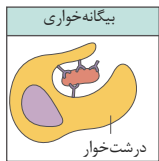
جایگاه اتصال آنتی ژن



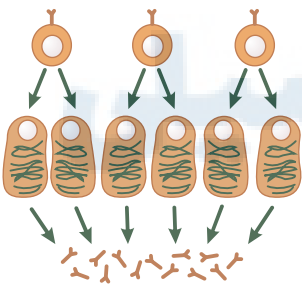
هر پادتن به دو مولکول آنتی ژن یکسان می‌تواند متصل شود.

بررسی سایر گزینه‌ها:

گزینه ۱: ماکروفاژها می‌توانند باکتری و پادتن سطح آن را با هم فاگوسیته کنند. در این حالت پادتن از یک سمت به باکتری و از سمت دیگر به ماکروفاژ متصل می‌شوند.



گزینه ۲: هسته یاخته‌های پادتن‌ساز در مرکز آنها قرار ندارد.



گزینه ۴: پادتن‌ها علاوه بر آنتی‌ژن‌های موجود در خون، به آنتی‌ژن‌های موجود در مایعات بین‌سلولی و لنف نیز متصل می‌شوند.

۱ ۲ ۳ ۴ ۳

بخش شماره ۲ مولکول پادتن صرفاً می‌تواند به یاخته‌های خودی مانند ماکروفاژ متصل شود،

این بخش نمی‌تواند به یاخته‌های بیگانه متصل شود. بررسی سایر گزینه‌ها:

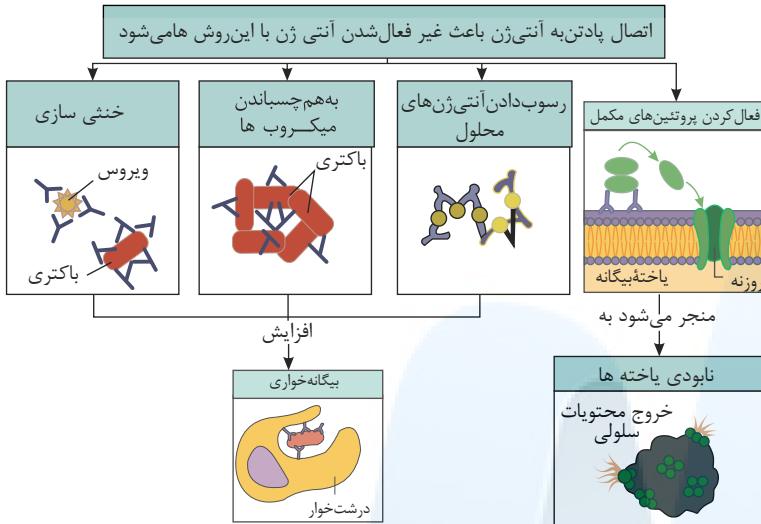
گزینه ۱) مولکول شماره ۲،

بخشی از پادتن می‌باشد که توسط نوعی لنفوسیت عمل‌کننده (پلاسموسیت) تولید می‌شود.

این یاخته نوعی سلول بافت پیوندی محسوب می‌شود.

گزینه ۲) همه پادتن‌هایی که توسط یک پلاسموسیت ساخته می‌شوند، از یک نوع هستند و دارای جایگاه اتصال آنتی‌ژن (پادگن) مشابهی هستند.

گزینه ۳) بخش شماره ۲ مولکول پادتن، می‌تواند به پروتئین‌های مکمل متصل شود.



۱ ۲ ۳ ۴ ۴ از رشد و تکثیر لنفوسیت B پس از شناسایی آنتی‌ژن، دو نوع یاخته، (۱) یاخته پادتن ساز و (۲) یاخته خاخره ایجاد می‌گردند.

هر دو نوع یاخته فاقد توانایی بیگانه‌خواری عامل خارجی هستند، اما هسته یاخته پادتن ساز در مرکز قرار ندارد.

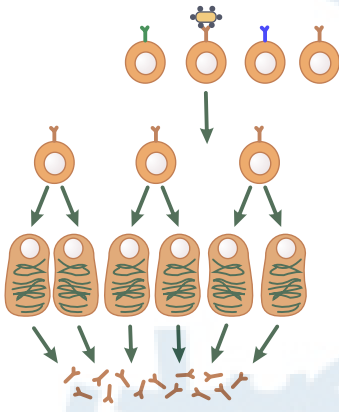
بررسی سایر گزینه‌ها:

گزینه ۱): یاخته پادتن ساز، گیرنده آنتی‌ژن ندارد.

گزینه ۲): یاخته‌های خاخره، طول عمر بیشتری نسبت به یاخته لنفوسیت عمل‌کننده دارند. یاخته‌های خاخره که پدید می‌آیند تا مدت‌ها در خون باقی می‌مانند.

گزینه ۳): یاخته پادتن ساز با ترشح پادتن، سبب خنثی‌سازی آنتی‌ژن میکروب می‌شود. فعالیت پادتن‌ها، می‌تواند در نهایت باعث افزایش (تشدید) فعالیت یاخته‌های درشت‌خوار شود.

۱ ۲ ۳ ۴ ۵



مورد اول: (نادرست) پادتن‌ها با استفاده از اطلاعات موجود در دای هسته تولید می‌شوند. اما هسته یاخته‌های پادتن‌ساز طبق شکل در مرکز سلول قرار ندارد.

مورد دوم: (درست) پادتن‌های ترشچی دارای دو جایگاه اختصاصی یکسان برای اتصال به آنتی‌ژن هستند.

مورد سوم: (نادرست) پادتن‌ها علاوه بر اتصال مستقیم به یاخته‌های بیگانه، به آنتی‌ژن‌های مجهول و ویروس‌ها نیز متصل می‌شوند.

مورد چهارم: (درست) پادتن‌ها می‌توانند در مایعات بین‌یاخته‌ای، خون و لنف به طور آزادانه حضور داشته باشند.

۱ ۲ ۳ ۴ ۶ ۱. در فرد مبتلا به ایدز، عده‌ای از لنفوسیت‌های T به نام لنفوسیت‌های T کمک‌کننده مورد حمله ویروس قرار می‌گیرند.

۲. عامل بیماری ایدز از طریق اشک و نیش حشرات منتقل نمی‌شود.

۳. در بیماری ایدز، لنفوسیت‌های T کمک‌کننده که به ویروس ایدز آلوده شده‌اند، اینترفرون نوع I آزاد می‌کنند.

۴. لنفوسیت‌های T کمک‌کننده برای فعالیت لنفوسیت‌های B و T لازم هستند. بنابراین اختلال در عملکرد این لنفوسیت‌ها سبب اختلال در فعالیت لنفوسیت‌های B و T نیز می‌شود.

۱ ۲ ۳ ۴ ۷ ۱. در فرد مبتلا به ایدز، ویروس HIV به لنفوسیت‌های T کمک‌کننده حمله می‌کند. فعالیت لنفوسیت‌های B و دیگر لنفوسیت‌های T به کمک این نوع

لنفوسیت خاص صورت می‌گیرد ← ویروس با از بین بردن لنفوسیت‌ها کمک‌کننده، عملکرد لنفوسیت‌های B و T را مختل می‌کند.

۲. در دیابت نوع II، گیرنده‌های انسولین به انسولین پاسخ نمی‌دهند. بنابراین اشکال در تولید انسولین نیست. در دیابت نوع I دستگاه ایمنی، به سلول‌های جزایر لانگرهانس حمله کرده‌اند.

۳. در بیماری مالتیپل اسکلروزیس، دستگاه ایمنی به یاخته‌های میلین‌ساز اطراف نورون‌های مغز و نخاع حمله کرده‌است. در واقع این یاخته‌ها را به عنوان خودی شناسایی کرده‌است. این

اتفاق مربوط به خط سوم دفاع یا دفاع غیر اختصاصی است.

۴. در حساسیت، ماستوسیت‌ها که در بخش‌هایی از بدن که با محیط بیرون ارتباط دارند، به فراوانی یافت می‌شوند، هیستامین ترشح می‌کنند. در این بیماری بازوفیل‌ها نیز ممکن است،

هیستامین ترشح کنند.

۱ ۲ ۳ ۴ ۸ الف و د نادرست هستند.

از تقسیم یاخته B خاخره یاخته پادتن‌ساز و B خاخره تولید می‌شوند. یاخته پادتن‌ساز تقسیم نمی‌شود بنابراین عبارت‌های ب و ج صحیح هستند.

۹) در بیماری MS ، غلاف میلین اطراف نورون‌ها مورد حملهٔ دستگاه ایمنی قرار می‌گیرد، در حساسیت در عملکرد ماستوسیت‌ها و بازوفیل‌ها اختلال ایجاد می‌شود زیرا در مقابل مواد بی‌خطر هیستامین ترشح می‌کنند. یاخته‌های پیش‌تیبیان جزء بافت عصبی هستند.
رد سایر گزینه‌ها:

گزینهٔ ۱): غلاف میلین در اطراف رشته‌های آکسون و دندریت ایجاد می‌شود، حال آن‌که لایهٔ خارجی مخ از مادهٔ خاکستری تشکیل شده است که بیش‌تر محتوی جسم یاخته‌ای نورون‌ها است. در MS بخش سپید درگیر می‌شود.

گزینهٔ ۲): با تخریب غلاف میلین، هدایت جهشی پیام‌های عصبی دچار اختلال می‌شود، نه انتقال جهشی آن‌ها.

گزینهٔ ۳): سلول‌های پیش‌تیبیان سلول‌های غیرعصبی هستند که در بافت عصبی وجود دارند.

۱۰) لنفوسیت‌های B در مغز استخوان بالغ می‌شوند.

۱- همهٔ گویچه‌های سفید توانایی دیپدز (تراگذری) دارند.

۲- پروتئین سوراخ‌کننده غشای یاختهٔ آلوده به ویروس پرفورین است که توسط یاختهٔ T کشته و یاختهٔ کشته شدهٔ طبیعی تولید می‌شود.

۳- این یاخته‌ها، یاخته‌های پادتن‌ساز را تولید می‌کنند و پادتن تولید شده توسط آن‌ها در افزایش بیگانه‌خواری نقش دارد.

۴- پادتن‌های در خنثی‌سازی ویروس‌ها (نوعی میکروب) نقش دارند.

۱۱) پروتئین‌های مکمل، اینترفرون نوع I و پادتن از بین گزینه‌ها می‌توانند انتخاب شوند.

مورد الف- پروتئین‌های مکمل، محلول در پلاسما هستند، و قبل از برخورد با عامل بیگانه، به صورت غیر فعال در خوناب یافت می‌شوند.

مورد ب و د- یاخته‌کشته شده طبیعی به یاخته هدف متصل می‌شود و سپس ریز کیسه‌های حاوی پرفورین و مولکول‌های آنزیم را ترشح می‌کند.

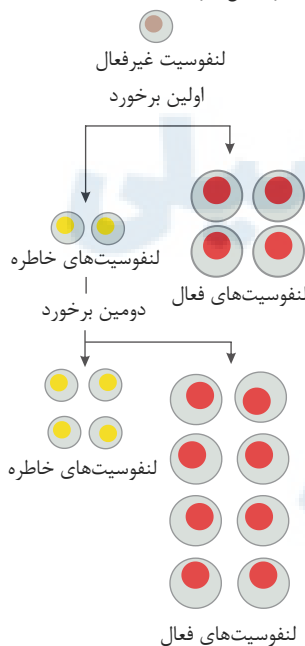
مورد ج- با توجه به شکل روبرو، انوزینوفیل‌ها ابتدا به انگل متصل شده و سپس محتویات خود را به روی انگل می‌ریزند.



مورد و- پس از شناسایی آنتی ژن توسط لنفوسیت، یاختهٔ پادتن‌ساز، پادتن ترشح می‌کند. پادتن همراه با مایعات بین یاخته‌ای، خون و لنف به گردش در می‌آید و هر جا با میکروب برخورد کرد آن را نابود، یا بی اثر می‌سازد.

مورد ه- اینترفرون نوع I از یاخته آلوده به ویروس ترشح می‌شود و علاوه بر یاخته آلوده، بر یاخته‌های سالم مجاور هم اثر می‌کند.

۱۲) گزینهٔ ۱. شماره ۱ پاسخ ایمنی اولیه و شماره ۲ پاسخ ایمنی ثانویه است. طبق شکل مقابل در هر دو مورد لنفوسیت خاطره تولید می‌شود.



گزینهٔ ۲. برخورد اول در شماره ۱ می‌تواند تزریق واکسن و برخورد دوم در شماره ۲ می‌تواند ورود میکروب به بدن باشد.

گزینهٔ ۳. شماره ۱ می‌تواند مربوط به دفعه اول تزریق واکسن و شماره ۲ مربوط به تزریق دوم واکسن باشد.


گزینهٔ ۴. پاسخ‌های ایمنی اولیه و ثانویه که در واکنش‌های کاربرد دارد، به این دلیل است که دفاع اختصاصی دارای خاصیت حافظه است.

۱۳) گزینهٔ ۱: هر لنفوسیت B یا T در سطح خود، گیرنده‌های آنتی ژنی دارد که همگی از یک نوع اند.

گزینهٔ ۲: هر آنتی ژن می‌تواند، شامل بخش‌های مختلفی باشد که هر بخش توسط یک نوع لنفوسیت شناسایی می‌شود.

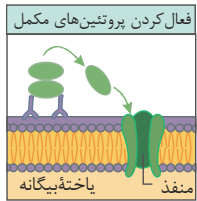
گزینه ۳: هر پادتن، به دو مولکول آنتی ژن یکسان می تواند متصل شود.

گزینه ۴: ممکن است، سطح هر میکروب آنتی ژن هایی با بخش های مختلف داشته باشد که هر بخش امکان اتصال به نوع خاصی از پادتن را داشته باشد.



گزینه ۱: یاخته کشنده طبیعی نیاز به فعال شدن ندارد، لنفوسیت T بالغ پس از شناسایی آنتی ژن تکثیر می شود و لنفوسیت های T کشنده را پدید می آورد. دفاع اختصاصی، فرایندی است که برای شناسایی آنتی ژن و تکثیر لنفوسیت ها به زمان نیاز دارد. از این رو بر خلاف دفاع غیر اختصاصی، دفاع سریعی نیست.

گزینه ۲: اگر میکروبی به بدن نفوذ کند، پروتئین های مکمل غیر فعال خوناب، فعال می شوند. اما برای فعال شدن پروتئین های مکمل، اتصال پروتئین مکمل به یاخته هدف الزامی نیست. همانطور که در شکل روبرو مشاهده می کنید، دم پادتن های متصل به یاخته هدف با یکی از پروتئین های مکمل اتصال برقرار می کند، در نتیجه پروتئین مکمل فعال شده، پروتئین های بعدی را فعال می کنند.



گزینه ۳: اگر آنتی ژنی که قبلا به بدن وارد شده باشد، دوباره وارد بدن شود، پاسخ دفاع اختصاصی نسبت به دفعه قبل (نه دفاع غیر اختصاصی) قوی تر و سریع تر عمل می کند. دفاع غیر اختصاصی، چون نیاز به فعال شدن یاخته های ایمنی ندارد همیشه سریع تر از دفاع اختصاصی، عمل می کند.

گزینه ۴: از خاصیت حافظه دار بودن دفاع اختصاصی، در واکنش های ایمنی استفاده می شود. در مقابل، ایمنی حاصل از سرم، ایمنی غیر فعال است چون پادتن در بدن تولید نشده و یاخته خاخره ای نیز پدید نیامده است. در سرم همچنین میکروبی وارد بدن نشده است که برخوردی صورت بگیرد تا لنفوسیت ها فعال شوند.

گزینه ۱: لنفوسیت B در مغز استخوان تولید می شوند و در همان مغز استخوان نیز بالغ می شوند، بنابراین لنفوسیت B به شکل بالغ وارد خون می شود. گزینه ۲: لنفوسیت T در مغز استخوان تولید می شود و در تیموس بالغ می شود. لنفوسیت T به شکل نابالغ از مغز استخوان خارج می شود و وارد خون می شود، تا به تیموس برسد. بنابراین در خون لنفوسیت T بالغ و نابالغ دیده می شود.

گزینه ۳: لنفوسیت کشنده طبیعی و یاخته T کشنده، نحوه تاثیر بر یاخته هدف شان به یکدیگر شبیه است.

گزینه ۴: لنفوسیت T ، در اثر برخورد با آنتی ژن و شناسایی آنتی ژن، ابتدا فعال شده، تکثیر و تمایز می یابد و به لنفوسیت T کشنده تبدیل می شود. اما یاخته کشنده طبیعی، در خون و مایعات بدن در گردش است، و هنگام برخورد با آنتی ژن، نیازی به فعال شدن ندارد.

مرکز مشاوره تحصیلی علیرضا افشار

مبحث: گفتار ۱ فصل ۶ زیست یازدهم

سری: شماره ۱

زمان: ۱۲ دقیقه

۱ کدام عبارت درباره هر کروموزوم موجود در هسته یاخته پوششی مرد سالم و بالغ که قبل از تقسیم یاخته، مضاعف می شود، درست است؟

- ۱ دارای یک کروموزوم هم اندازه خود است.
- ۲ فقط از مولکول DNA تشکیل شده است.
- ۳ به شکل رشته ای با فشردگی اندک در هسته می باشد.
- ۴ بعد از افزایش فشردگی، سانترومر آن همواره در قسمت وسط آن قرار گرفته است.

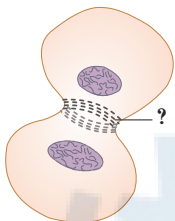
۲ یاخته های مریستم گیاهان نهان دانه، پس از عبور از نقطه واریسی چرخه یاخته ای، وارد مرحله ای از می شوند که در این مرحله،

- ۱ اولین - اینترفاز - تعداد مولکول های دنا در هسته ثابت می ماند.
- ۲ اولین - اینترفاز - با میکروسکوپ نوری می توان فامتن ها را مشاهده کرد.
- ۳ سومین - تقسیم رشتمان - هر کروموزوم به دو کروموزوم دختری تبدیل می شود.
- ۴ دومین - تقسیم رشتمان - طول برخی رشته های دوک تقسیم کوتاه تر می شود.

۳ در هسته سلول پارانیشیم خورش زیتون کروماتیدهای هر کروموزوم از هم جدا شده اند و به سمت دو قطب سلول در حرکت می باشند. این سلول در داشته است.

- ۱ انتهای مرحله S ۴۶ مولکول DNA
- ۲ ابتدای مرحله G_۲ ۹۲ سانترومر
- ۳ انتهای مرحله G_۱ ۵۴ میکروتوبول سانتربولی
- ۴ ابتدا مرحله G_۱ قرار نداشتن ماده وراثتی در فشرده ترین حالت خود

۴ در رابطه با بخشی که با علامت سوال ؟ مشخص شده کدام یک از موارد زیر صحیح است؟



- ۱ مونومرهای سازنده این بخش با مونومرهای تشکیل دهنده پکتین یکسان است.
- ۲ در یاخته های گیاهی پس از تشکیل صفحه سلولی، باعث جدا شدن غشا پلاسمایی دو سلول می شود.
- ۳ این بخش پس از سیتوکینز بین دو یاخته وجود دارد.
- ۴ پس از برخورد آنتی ژن با گیرنده آنتی ژنی در لنفوسیت B ایجاد می شود.

۵ کدامیک از شکل های زیر به درستی نشان داده شده است؟

اگر فرض کنیم A: رنگ چشم مشکی a: رنگ چشم آبی

B: قد بلند b: قد کوتاه

				۱
				۲
				۳
				۴

۶ چند گزینه صحیح نمی باشد؟

- (الف) در عده ای از جانداران، همه کروموزوم ها از نوع غیرجنسی هستند.
- (ب) در یک مجموعه کروموزومی، هیچگاه کروماتیدهای خواهری یافت نمی شود.
- (پ) سانترومر به محل هایی در یک کروموزوم گفته می شود که دو کروماتید خواهری به یکدیگر متصل می شوند.
- (ت) محتوای ژنی و اندازه دو کروماتید خواهری یکسان است.

۴ ۴

۳ ۳

۲ ۲

۱ ۱

۷) سانتیریول در سلول های جانوری

- ۱) دارای تعدادی لوله کوچک تر پروتئینی هستند که در نه دستة سه تایی سازمان یافته اند.
- ۲) در مرحله وقفه اول، دو جفت است که عمود بر هم اند.
- ۳) ساخته شدن ریزلوله های پروتئینی رشته های دوک را موجب می شود.
- ۴) در مرحله پیش از تقسیم، در قطبین سلول یافت می شود.

۸) کدام گزینه، صحیح بیان شده است؟

- ۱) هر کروموزوم همتا در انسان، می تواند در اثر همانندسازی از کروموزوم همتای دیگر به وجود آمده باشد.
- ۲) کروماتیدهای خواهری مربوط به یک کروموزوم، پس از دریافت از پدر و مادر در مرحله S همانندسازی می کنند.
- ۳) زمانی که کروموزوم حداکثر فشردگی را دارد، می تواند دو کروماتیدی باشد.
- ۴) یاخته ای که در بین کروموزوم های خود، دارای کروموزومی بدون کروموزوم مشابه است، نمی تواند دیپلوئید محسوب شود.

۹) کدام گزینه، عبارت زیر را به درستی کامل می کند؟

- هر کروموزوم موجود در هسته سلول انسان با توانایی تقسیم میتوز
- ۱) دارای یک کروموزوم شبیه به خود است که از والد دیگر دریافت شده است.
 - ۲) در مرحله G_1 دارای دو رشته کروماتین است که شبیه یکدیگر هستند.
 - ۳) در مرحله S، دناي خود را دو برابر کرده و به صورت مضاعف شده در می آید.
 - ۴) در G_2 ، همه مراحل فشردگی را پشت سر گذاشته است.

۱۰) چند گزینه، عبارت زیر را به درستی تکمیل می کند؟

هر کروموزوم X

- الف. دارای DNAیی است که در مناطقی، به دور ۸ مولکول هیستون پیچیده شده است.
- ب. در مرحله ای از چرخه سلولی می تواند به صورت تک کروماتیدی باشد.
- ج. دارای ژن هایی است که قطعا بر روی کروموزوم جنسی دیگر هسته، ژن های مشابه آن وجود دارد.
- د. موجود در هسته یاخته، قطعا از والد مادری دریافت شده است.

۴ ۴

۳ ۳

۲ ۲

۱ ۱

۱۱) کدام گزینه از بین گزینه های زیر، به درستی بیان شده است؟

- ۱) برای تعیین تعداد کروموزوم و تشخیص هر ناهنجاری کروموزومی، کاریوتیپ تهیه می شود.
- ۲) کاریوتیپ تصویری از کروموزوم ها است که بر اساس اندازه، شکل، محتوای ژنی و محل فراگیری سانترومرها، مرتب و شماره گذاری شده اند.
- ۳) دو کروموزومی که در کاریوتیپ با شماره یکسان، نامگذاری می شوند، قطعا دارای اطلاعات ژنی یکسان هستند که باعث می شود، صفت مشابهی را ایجاد کنند.
- ۴) در کاریوتیپ هر چه شماره کروموزوم بیش تر می شود، اندازه کروموزوم کوچک تر می شود.

۱۲) از بین گزینه های زیر؛ کدام گزینه به درستی بیان شده است؟

- ۱) مرحله وقفه دوم یا G_2 کوتاه ترین مرحله اینترفاز است، و در این مرحله مصرف آمینواسیدها در یاخته افزایش می یابد.
- ۲) میتوز به ترتیب شامل، پروفاز، پرومتافاز، متافاز، آنافاز، تلوفاز و سیتوکینز است.
- ۳) تعداد مولکول DNA در هر هسته یاخته های پیکری انسان، در مرحله وقفه اول یا G_1 ، ۹۲ عدد است.
- ۴) هر یاخته در بافت عصبی انسان بالغ، در مرحله ای به نام G_0 قرار دارد.

پاسخنامه تشریحی

۱) می‌گویند. هر رشته فامینه دارای واحدهای تکراری به نام هسته تن (نوکلئوزوم) است.

بررسی سایر گزینه‌ها:

گزینه ۱: برای کروموزوم X یا Y صادق نیست.

گزینه ۲: کروموزوم‌ها از دنا به همراه پروتئین ساخته شده‌اند.

گزینه ۴: لزومی ندارد که سانترومر در بخش وسط کروموزوم‌ها قرار گرفته باشد و می‌تواند در نزدیکی یکی از دو انتهای فام تن وجود داشته باشد.

۲) ۱ ۲ ۳ ۴

بررسی گزینه‌ها:

رد گزینه‌های (۱) و (۲): اولین نقطه واریسی چرخه یاخته‌ای G_1 است. پس از این مرحله، یاخته مرئیستی وارد مرحله S می‌شود. در این مرحله تعداد مولکول‌های دنا دو برابر می‌شود. هم‌چنین کروموزوم‌ها به صورت رشته‌های کروماتین هستند و قابل مشاهده نمی‌باشند.

گزینه (۳): سومین نقطه واریسی، نقطه واریسی متافازی است. پس از این مرحله، یاخته مرئیستی وارد مرحله آنافاز می‌شود. در مرحله آنافاز هر کروموزوم که به صورت دو کروماتیدی است به دو کروموزوم دختری تبدیل می‌شود.

گزینه (۴): دومین نقطه واریسی، نقطه واریسی G_2 است. پس از این مرحله، یاخته وارد مرحله پروفاز میتوز می‌شود. در مرحله پروفاز، رشته‌های دوک تشکیل می‌شوند و طول آنها بلندتر می‌شود.

۳) ۱ ۲ ۳ ۴

بررسی سایر گزینه‌ها:

گزینه ۱: طی مرحله S ، DNA همانندسازی می‌کند. به این ترتیب در پایان S ۹۲ مولکول DNA وجود دارد زیرا ۴۶ مولکول DNA همانندسازی کرده‌اند.

گزینه ۲: در ابتدای G_2 ، ۴۶ کروموزوم دو کروماتیدی وجود دارد در نتیجه ۴۶ سانترومر دیده می‌شود.

گزینه ۳: در مرحله G_1 هر سلول یک جفت (دو عدد) سانتیریول دارد که هر یک از نه دسته سه‌تایی (بیست و هفت) ریزلوله تشکیل شده‌اند که در مجموع می‌شود ۵۴ ریزلوله. اما گیاهان دانه‌دار از جمله گیاهان نه‌اندانه (زیتون) سانتیریول ندارند.

۴) ۱ ۲ ۳ ۴

بررسی سایر گزینه‌ها:

۱) اکترین و میوزین مواد پروتئینی هستند و دارای واحد سازنده آمینواسیدی می‌باشند. ولی پکتین پلی‌ساکاریدی است و واحد سازنده آن مونوساکارید است.

۲) حلقه انقباضی در یاخته‌های گیاهی در هیچ زمانی تشکیل نمی‌شوند.

۳) حلقه انقباضی هنگام سیتوکینز و یا قبل از آن در تلوفاز وجود دارد.

۵) ۱ ۲ ۳ ۴

بررسی گزینه‌ها:

گزینه (۱): باید دو کروموزوم هم‌تا دارای محتوای ژنتیکی یکسان باشند.

گزینه (۲): باید دو کروماتید خواهری از نظر اطلاعات کاملاً شبیه به هم باشند، زیرا در اثر همانندسازی بوجود آمده‌اند.

گزینه (۳): در هر کروموزوم، باید فقط در مورد هر صفت فقط یک ژن داشته باشد.

گزینه (۴): همه موارد رعایت شده است.

۶) ۱ ۲ ۳ ۴

بررسی موارد:

مورد الف) درست، در انسان و بعضی جانداران (نه همه جانداران)، کروموزوم‌هایی وجود دارند که در تعیین جنسیت نقش دارند.

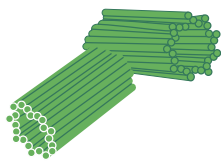
مورد ب) نادرست، اگر کروموزوم‌ها دو کروماتیدی باشند، در یک مجموعه، کروموزوم‌ها شامل دو کروماتید خواهری هستند.

مورد پ) نادرست، سانترومر یک محل در کروموزوم است، نه محل‌هایی.

مورد ت) درست، کروماتیدهای خواهری، در اثر همانندسازی به وجود آمده‌اند. بنابراین از نظر نوع ژن‌ها یکسان هستند، پس می‌توان نتیجه گرفت که در حالت طبیعی اندازه و محتوای ژنی یکسانی دارند.

۷) ۱ ۲ ۳ ۴

گزینه ۱: همانطور که در شکل روبرو، مشاهده می‌کنید، ساختار هر سانتیریول، از نه دسته سه‌تایی لوله کوچک است.



گزینه ۲: در مرحله وقفه اول، هنوز سانتیریول همانندسازی نکرده است، هر یاخته دارای "یک جفت سانتیریول" است.

گزینه ۳: ریزلوله‌های پروتئینی توسط ریبوزوم ساخته شده‌اند، و نقش سانتیریول‌ها ساخت ریزلوله‌های پروتئینی نیست، بلکه در هنگام تقسیم، ریزلوله‌های ساخته شده را سازمان‌دهی می‌کنند.

گزینه ۴: سانتیریول‌ها در مرحله اینترفاز (میان‌چهر) در کنار هسته دیده می‌شوند. در حین مرحله پروفاز، سانتیریول‌ها به دو طرف یاخته حرکت می‌کنند و به قطبین سلول می‌روند.

۸) ۱ ۲ ۳ ۴

بررسی گزینه‌ها:

۱. کروموزوم‌های هم‌تا از ابتدا در سلول تخم وجود داشته‌اند. سلول تخم این کروموزوم‌ها را از پدر و مادر دریافت کرده است.

۲. کروماتیدهای خواهری از پدر و مادر دریافت نمی‌شوند. کروماتیدهای خواهری در اثر همانندسازی DNA به وجود می‌آیند.

همه رسانه‌های ما

۹) ۱ ۲ ۳ ۴ بررسی گزینه‌ها:

۱. در مردان کروموزوم‌های جنسی به صورت X و Y هستند و مشابه هم نیستند.
۲. در مرحله G_1 هنوز رشته‌های کروماتین مضاعف نشده‌اند.
۳. مرحله S ، مرحله‌ی دو برابر شدن دای هسته و در نتیجه مضاعف شدن کروموزوم هاست.
۴. در مرحله G_2 ، کروموزوم‌ها ساختار نوکلئوزومی دارند و هنوز همه‌ی مراحل فشردگی طی نشده است. فشردگی در متافاز کامل می‌شود.

۱۰) ۱ ۲ ۳ ۴ بررسی موارد:

- الف. (درست) همه کروموزوم‌ها، دارای DNA هستند و DNA در مناطقی، به دور ۸ مولکول هیستون می‌پیچید.
- ب. (درست) همه کروموزوم‌ها در مرحله‌ی آنافاز میتوز یا آنافاز میوز ۲، به صورت تک کروماتیدی هستند.
- ج. (نادرست) اگر سلول مربوط به یک مرد باشد، کروموزوم جنسی دیگر Y است که ژنهای مشابه X ندارد.
- د. (نادرست) پدر و مادر هر دو دارای کروموزوم X هستند. پس کروموزوم X می‌تواند از پدر یا مادر به فرزند رسیده باشد.

۱۱) ۱ ۲ ۳ ۴ بررسی گزینه‌ها:

- گزینه ۱: برای تعیین تعداد کروموزوم و تشخیص بعضی ناهنجاری کروموزومی، کاریوتیپ تهیه می‌شود.
- گزینه ۲: کاریوتیپ "تصویری" از کروموزوم‌ها با حداکثر فشردگی است که بر اساس اندازه، شکل، محتوای ژنی و محل قرار گیری سانترومرها، مرتب و شماره گذاری شده‌اند.
- گزینه ۳: دو کروموزومی که در کاریوتیپ، با شماره یکسان نامگذاری می‌شوند، کروموزوم همتا گفته می‌شوند. کروموزوم‌های همتا اندازه، شکل، "محتوای ژنی" و محل قرار گیری سانترومرها در آنها مشابه است.
- گزینه ۴: برای شماره گذاری کروموزوم‌های غیرجنسی، یکی از معیارهایی که در نظر گرفته می‌شود، اندازه است. درازترین جفت کروموزوم، با شماره یک نامگذاری می‌شود و به ترتیب تا آخر. البته در کاریوتیپ، بعد از کروموزوم‌های غیرجنسی، کروموزوم‌های جنسی را قرار می‌دهند. کروموزوم جنسی x ، کروموزوم بزرگی از نظر اندازه است. و کروموزوم جنسی Y کوچک است.

۱۲) ۱ ۲ ۳ ۴ بررسی گزینه‌ها:

- گزینه ۱: مرحله وقفه دوم، نسبت به مراحل قبلی اینترفاز، کوتاه‌تر است که در آن، یاخته‌ها آماده‌ی مرحله تقسیم می‌شوند. ساخت پروتئین‌ها (مصرف بیشتر آمینواسید) و عوامل مورد نیاز برای تقسیم یاخته افزایش پیدا می‌کنند.
- گزینه ۲: تقسیم یاخته، شامل تقسیم هسته و تقسیم میان یاخته است. میتوز به مراحل تقسیم هسته گویند. سیتوکینز (تقسیم سیتوپلاسم) است.
- گزینه ۳: هر رشته کروماتین دارای یک مولکول DNA است. در مرحله G_1 ، وقفه اول، قبل از مرحله S رشته‌های کروماتینی هنوز دو برابر نشده‌اند. تعداد ۴۶ عدد است.
- گزینه ۴: در بافت عصبی، یاخته‌های عصبی (نورون) و یاخته‌های غیرعصبی وجود دارد. یاخته‌های عصبی، وارد مرحله‌ای به نام G_0 می‌شوند. اما یاخته‌های غیرعصبی (نوروگلیا) امکان تقسیم دارند.

مرکز مشاوره تحصیلی

علیرضا افشار



مبحث: گفتار ۱ فصل ۶ زیست یازدهم

سری: شماره ۲

زمان: ۱۵ دقیقه

۱ در بافت‌های بدن یک مرد سالم و بالغ، نمی‌توانیم یاخته‌ای پیکری مشاهده کنیم.

- ۱ دارای یک کروموزوم جنسی Y
- ۲ فاقد کروموزوم جنسی Y
- ۳ دارای بیش از دو کروموزوم شماره یک
- ۴ و دارای یک کروموزوم شماره یک

۲ یک سلول جانوری در کدام مرحله از چرخه سلولی خود، مدت بیشتری را سپری می‌کند؟

- ۱ مرحله‌ای که دناى (*DNA*) هسته دو برابر می‌شود.
- ۲ مرحله‌ای که یاخته‌ها آماده تقسیم می‌شوند.
- ۳ مرحله‌ای که حلقه انقباضی در سیتوپلاسم قرار می‌گیرد.
- ۴ مرحله‌ای که بعد از تقسیم سیتوپلاسم آغاز می‌شود.

۳ کاریوتیپ،

- ۱ فقط از سلول‌های در حال تقسیم می‌تواند تهیه شود.
- ۲ در هر مرحله از تقسیم میتوز می‌تواند تهیه شود.
- ۳ از تمام یاخته‌های بدن می‌تواند تهیه شود ولی گلبول‌های سفید برای این عمل مناسب‌ترین یاخته‌ها هستند.
- ۴ از جاندارانی می‌تواند به‌دست آید که دارای دو مجموعه کروموزومی هستند.

۴ کدام یک از موارد زیر به درستی بیان شده است؟

- ۱ هر دو نوع کروموزوم جنسی یک مرد سالم از جفت کروموزوم شماره ۲۲ کوچک‌تر هستند.
- ۲ سانترومر همواره در بخش میانی کروموزوم قرار دارد.
- ۳ می‌توان از هر یاخته خونی برای تهیه کاریوتیپ انسان استفاده کرد.
- ۴ در بدن یک انسان سالم و بالغ یاخته‌هایی با تعداد مجموعه‌های کروموزومی متفاوت یافت می‌شود.

۵ کدام گزینه از بین عبارات‌های زیر، به درستی بیان شده است؟

- ۱ دوک تقسیم، مجموعه‌ای از ریزلوله‌های پروتئینی است که هنگام تقسیم، ساخته می‌شوند.
- ۲ به هر دوک تقسیم، سانترومر کروموزوم متصل می‌شود، تا کروموزوم‌ها حرکت و جدا شدن صحیحی را در حین تقسیم داشته باشند.
- ۳ هر دوک تقسیمی در حین تقسیم میتوز، کوتاه می‌شود.
- ۴ سانتربول‌ها، در مرحله اینترفاز، همانندسازی می‌کنند.

۶ کدام گزینه صحیح است؟

- ۱ هرگاه یاخته تقسیم نشود، توده‌ای از رشته‌های در هم را در هسته خود جای داده است.
- ۲ هر رشته تشکیل دهنده مولکول *DNA*، از واحدهای تکراری به نوکلئوزوم، تشکیل شده است.
- ۳ در زمان تقسیم، رشته‌های کروماتینی به تدریج دچار فشردگی می‌شوند.
- ۴ واحدهای تکراری تشکیل دهنده هسته تن، از مولکول *DNA* تشکیل شده است که حدود دو دور در اطراف ۸ مولکول نوکلئوپروتئینی، به نام هیستون پیچیده است.



۷) کدام گزینه عبارت زیر را به درستی تکمیل می کند؟

هر یاخته انسان

- ۱) قطعا دارای دو کروموزوم مربوط به تعیین جنسیت است.
- ۲) حداقل یکی از کروموزوم های مربوط به تعیین جنسیت را دارد.
- ۳) مستقیم یا غیر مستقیم از تقسیم یاخته ای به وجود آمده که دارای کروموزوم جنسی بوده است.
- ۴) دارای دو کروموزوم شماره ۱ است که محتوای ژنتیک مشابه دارند.

۸) درون هر یاخته جنسی مردان:

- ۱) کروموزوم های جنسی، از نظر اندازه با هم متفاوت هستند.
- ۲) بیست و سه کروموزوم جنسی وجود دارد.
- ۳) ۲۳، سانترومر وجود دارد.
- ۴) یک مجموعه ۲۳ کروموزومی هم ساخت وجود دارد.

۹) کدام گزینه، به درستی بیان نشده است؟

- ۱) در هسته یاخته پیکری هر جاندار، از هر کروموزوم دو نسخه وجود دارد.
- ۲) ممکن است، دو فرد هم گونه از نظر نوع و اندازه برخی کروموزوم ها با هم یکسان نباشند.
- ۳) ممکن است، در جاندارانی به غیر از جانوران نیز، کروموزوم جنسی در تعیین جنسیت نقش داشته باشد.
- ۴) دو کروموزوم همتا، ممکن است، با وجود محتوای ژنی یکسان، دستور دو نوع پروتئین متفاوت صادر نمایند.

۱۰) با توجه به شکل روبرو، کدام نتیجه گیری به درستی بیان شده است؟

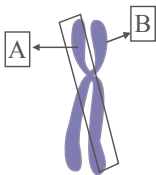
- ۱) بخشی که در کادر قرار گرفته است، یک کروماتید از کروموزوم مضاعف را نشان می دهد.
- ۲) نقطه A و B نوع ژن های، کاملا شبیه هم دارند.
- ۳) شکل روبرو، دارای چهار مولکول DNA است.
- ۴) هر بازوی این شکل، یکی از والد مادری و دیگری، از والد پدری است.

۱۱) کدام گزینه از بین گزینه های زیر، به درستی بیان شده است؟

- ۱) کروماتین همانند کروموزوم از پروتئین و دنا (DNA) تشکیل شده است.
- ۲) کروماتین برخلاف کروموزوم، ماده وراثتی است که فشردگی ندارد.
- ۳) در هسته تن (نوکلئوزوم)، مولکول دنا، حدود ۲ متر در اطراف ۸ مولکول پروتئینی به نام هیستون پیچیده است.
- ۴) در زمانی که یاخته، در حال رشد و ساخت مواد مورد نیاز خود است، ماده وراثتی به شکل کروموزوم است.

۱۲) عدد کروموزومی یاخته ای که تعداد کروموزوم های آن عدد می باشد و برابر است با (با تغییر)

- ۱) ۱۲ - هر کروموزوم با ۳ کروموزوم دیگر محتوای ژنی مشابه دارد - $3n = 12$ ۲) ۱۵ - هر مجموعه با ۳ کروموزوم تنوع محتوای ژنی متفاوت دارند - $3n = 15$
- ۳) ۶۴ - ۳۲ جفت کروموزوم همتا دارد - $2n = 32$ ۴) ۲۰ - هیچ کروموزوم همتایی یافت نمی شود - $n = 20$



علیرضا افشار

پاسخنامه تشریحی

۱. ۱ ۲ ۳ ۴ ۱. یاخته‌های پیکری به شکل‌های بدون هسته (مانند گویچه قرمز بالغ)، یا تک‌هسته‌ای (مانند یاخته‌های پوششی) و یا دارای بیش از یک هسته (مانند ماهیچه اسکلتی) هستند و در هر هسته دو مجموعه کروموزومی (۴۶ کروموزوم) دارند ($2n = 46$) بنابراین، یاخته‌ای پیکری با یک کروموزوم شماره ۱ یک نمی‌تواند وجود داشته باشد.

۲. ۱ ۲ ۳ ۴ ۲. بیشترین عمر سلول در مرحله اینترفاز سپری می‌شود و از مراحل اینترفاز بیشترین زمانی که سلول در آن فعالیت دارد، مرحله G_1 است که بعد از تقسیم سیتوپلاسم و شروع چرخه جدید سلولی قرار دارد.

۳. ۱ ۲ ۳ ۴ ۳. ۱. کاریوتیپ تصویری از کروموزوم‌ها با حداکثر فشردگی است. حداکثر فشردگی کروموزوم‌ها هنگام تقسیم سلول به دست می‌آید. بنابراین فقط از یاخته‌های در حال تقسیم می‌توان کاریوتیپ تهیه کرد. در یاخته در حال تقسیم غشاء هسته از بین رفته است.

۲. مرحله متافاز مناسب‌ترین مرحله برای تهیه کاریوتیپ است. در مرحله پروفاز و پرومتافاز هنوز کروموزوم‌ها فشردگی لازم را ندارند. در مرحله تلوفاژ نیز پیچ و تاب کروموزوم‌ها شروع به بازشدگی می‌کند.

۳. همه یاخته‌های بدن توانایی تقسیم میتوز را ندارند. گلبول قرمز نیز هسته ندارد.

۴. از جاندارانی با یک نسخه و یا چندین نسخه کروموزومی هم می‌توان کاریوتیپ تهیه کرد.

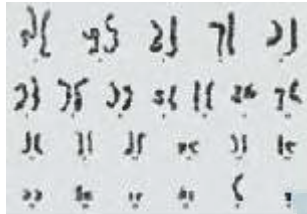
۱ ۲ ۳ ۴ ۴

۱. مردان دارای دو کروموزوم جنسی یکی x و دیگری y هستند. کروموزوم x از کروموزوم شماره ۲۲ بزرگ تر است.

۲. در عده‌ای از کروموزوم‌ها، سانترومر در بخش میانی کروموزوم نیست.

۳. گویچه‌های قرمز، ماده وراثتی (هسته) ندارند. این یاخته‌ها تقسیم نمی‌شوند.

۴. در بدن یک انسان بالغ یاخته‌های پیکری حاوی دو مجموعه کروموزومی هستند. هم چنین با تقسیم میوز، یاخته‌هایی با یک مجموعه کروموزومی مثلا گامت‌ها نیز به وجود می‌آیند.



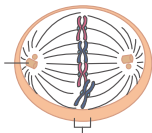
مربوط به گزینه ۲

۱ ۲ ۳ ۴ ۵

گزینه ۱: دوک تقسیم، مجموعه‌ای از ریزلوله‌های پروتئینی است که هنگام تقسیم، "پدیدار" می‌شوند.

گزینه ۲: اگر به شکل روبرو خوب دقت کنید، متوجه می‌شوید که سانترومر به همه دوک‌های تقسیم متصل نمی‌شود، برخی از دوک‌های تقسیم به کروموزوم متصل نیستند.

۴- متافاز



بخش استوایی یاخته

گزینه ۳: همه رشته‌های دوک کوتاه نمی‌شوند بلکه فقط رشته‌های دوک متصل به سانترومر کوتاه می‌شوند و در نتیجه کروموزوم‌ها به قطبین می‌روند.

گزینه ۴: سانتیریول‌ها، یک جفت استوانه عمود بر هم اند که در اینترفاز، برای تقسیم یاخته، همانندسازی می‌کنند.

۱ ۲ ۳ ۴ ۶

۱. همه یاخته‌ها هسته ندارند. هسته مخصوص سلول‌های یوکاریوت است و سلول‌های پروکاریوت، فاقد هسته هستند. هم چنین، در بین یاخته‌های یوکاریوتی، گلبول‌های قرمز هسته ندارند.

۲. هر رشته کروماتین، از واحدهای تکراری به نام نوکلئوزوم، تشکیل شده است نه هر رشته تشکیل دهنده مولکول DNA .

۴. هیستون مولکول پروتئینی است نه نوکلئوپروتئینی.

۱ ۲ ۳ ۴ ۷

دلیل رد گزینه‌های ۱ و ۲ و ۴. گلبول قرمز به دلیل اینکه هسته ندارد، بدون کروموزوم است. یاخته‌های جنسی نیز دارای یک کروموزوم جنسی هستند.

۳. هر یاخته انسان در زمانی از تقسیم یاخته قبلی به وجود آمده است. و یاخته تقسیم شونده قطعا دارای هسته است.

۱ ۲ ۳ ۴ ۸

گزینه ۱: درون هسته هر یاخته جنسی انسان، یک مجموعه کروموزوم یافت می‌شود. و در مردان درون این مجموعه، فقط "یک" کروموزوم جنسی X یا Y یافت می‌شود.

گزینه ۲: درون هسته هر یاخته جنسی انسان، یک مجموعه بیست و سه کروموزومی قرار گرفته است، که بیست و دو تا کروموزوم غیر جنسی و یک عدد کروموزوم جنسی است.

گزینه ۳: درون هسته هر یاخته جنسی انسان، بیست و سه کروموزوم قرار دارد. هر کروموزوم دارای، یک سانترومر است.

گزینه ۴: درون هسته هر یاخته جنسی، بیست و سه کروموزوم "غیر هم ساخت" قرار دارد.

۱ ۲ ۳ ۴ ۹

گزینه ۱: به جاندارانی که یاخته‌های پیکری آنها از هر کروموزوم دو نسخه دارند، دیپلوئید گویند. اما ممکن است جاندارانی باشند که یاخته‌های پیکری آنها دیپلوئید نباشند.

گزینه ۲: مردان و زنان هر دو متعلق به گونه انسان هستند. اما مردان دارای کروموزوم Y می‌باشند اما زنان کروموزوم Y را ندارند.

گزینه ۳: در انسان و بعضی از جانداران، کروموزوم‌هایی وجود دارند که در تعیین جنسیت نقش دارند.

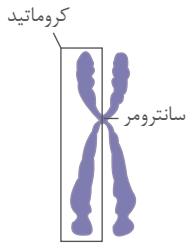
گزینه ۴: در انسان، یکی از کروموزوم‌های همتا از والد مادری، و جفت آن از والد پدری است. این دو کروموزوم با وجود محتوای ژنتیکی یکسان (ژن مسئول رنگ چشم) ممکن است اطلاعات

ژنی متفاوت داشته باشند. مثلاً یکی از کروموزوم‌ها دستور چشم آبی، و دیگری رنگ چشم مشکی را صادر نماید.

۱۰ ۴ ۳ ۲ ۱

بررسی گزینه‌ها:

گزینه ۱: با توجه به تصویر روبرو، کروماتید در تصویر سوال به اشتباه نشان داده شده است.



کروموزوم دو کروماتیدی

گزینه ۲: هر دو کروماتید یک کروموزوم از نظر نوع ژن‌ها یکسان اند.

گزینه ۳: هر بازو دارای یک مولکول DNA است. یک کروموزوم دو کروماتیدی، دارای دو مولکول DNA است.

گزینه ۴: هر کروموزوم از دو بخش شبیه به هم به نام کروماتید، تشکیل شده است. که از همانندسازی DNA به وجود آمده است نه از دو والد.



۱۱ ۴ ۳ ۲ ۱ بررسی گزینه‌ها:

گزینه ۱: کروموزوم همانند کروماتین، از DNA و پروتئین تشکیل شده است.

گزینه ۲: کروماتین و کروموزوم، هر دو فشردگی دارند اما، فشردگی کروموزوم بیشتر است. ساختار نوکلئوزوم (هسته تن) که در کروماتین‌ها نیز دیده می‌شود، اولین مرحله فشردگی است.

گزینه ۳: در هسته تن (نوکلئوزوم)، مولکول DNA، حدود ۲ دور (نه اینکه ۲ متر) در اطراف ۸ مولکول پروتئینی پیچیده است.

گزینه ۴: پیش از تقسیم یاخته، ماده وراثتی به شکل کروماتین است. یاخته‌ها بیشتر مدت زندگی خود را در مرحله پیش از تقسیم می‌گذرانند. در این مرحله، یاخته کارهایی مانند رشد، ساخت مواد مورد نیاز و... انجام می‌دهد.

۱۲ ۴ ۳ ۲ ۱ در یاخته‌ای که هیچ کروموزوم همتایی یافت نمی‌شود، هر کروموزوم نسبت به کروموزوم دیگر محتوای ژنی متفاوتی دارد و عدد کروموزومی $n = 20$ می‌شود.

بررسی سایر گزینه‌ها:

گزینه (۱): وقتی هر کروموزوم با سه کروموزوم دیگر همتا می‌باشد، یعنی از هر کروموزوم چهار نسخه وجود دارد، در واقع عدد کروموزومی $4n = 12$ می‌شود.

گزینه (۲): وقتی "هر مجموعه" از کروموزوم‌ها سه نوع محتوای ژنی متفاوت دارد، یعنی یک مجموعه آن (تک لاد) دارای سه کروموزوم است که چون این یاخته ۱۵ کروموزوم دارد، عدد کروموزومی این یاخته $5n = 15$ می‌باشد.

گزینه (۳): از هر کروموزوم ۲ نسخه وجود دارد. تعداد کل کروموزوم‌ها 64 می‌باشد، پس عدد کروموزومی $2n = 64$ می‌شود.

مرکز مشاوره تحصیلی

علیرضا افشار

مبحث: گفتار ۲ فصل ۶ زیست یازدهم

سری: شماره ۱

زمان: ۱۵ دقیقه

۱ کدام گزینه دربارهٔ تومور لیپوما (تومور بافت چربی) صحیح است؟

- ۱) یاخته‌های آن توانایی دگر نشینی (متاستاز) را دارند.
- ۲) از تکثیر گروهی از یاخته‌های بافت چربی ایجاد شده است.
- ۳) نوعی سرطان بدخیم بدن انسان محسوب می‌شود.
- ۴) یاخته‌های آن قطعاً رشد سریع و زیادی دارند.

۲ کدام گزینه، عبارت زیر را به‌طور مناسب کامل می‌کند؟

« در طی تقسیم میتوز یک یاختهٔ پوشانندهٔ عمقی سطح داخلی مری، هر گاه در یک مرحله در مرحلهٔ بعد »

- ۱) بین سانتیریول‌ها دوک میتوزی تشکیل شود - کروموزوم‌ها در سطح استوایی یاخته ردیف می‌شوند.
- ۲) سانترومر کروموزوم‌ها به رشته‌های دوک متصل شوند - پس از جداسدن، کروماتیدها به دو سوی یاخته کشیده می‌شوند.
- ۳) پوشش هسته به قطعات کوچک‌تر تجزیه شود - کروموزوم‌های تک کروماتیدی به دو سوی یاخته کشیده می‌شوند.
- ۴) با تجزیهٔ پروتئین اتصالی در ناحیهٔ سانترومر، کروماتیدها از هم جدا شوند - پوشش هسته مجدداً تشکیل می‌شود.

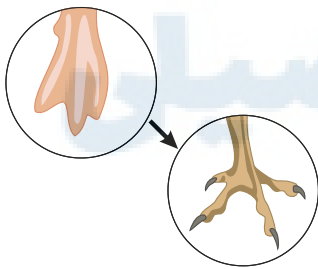
۳ در یاخته‌های با قابلیت تقسیم میتوز در بدن انسان، انواعی از پروتئین‌های چرخهٔ یاخته‌ای با فرآیندهایی منجر به تقسیم یاخته‌ای می‌شوند. چند مورد دربارهٔ آنها درست است؟

- الف: می‌توانند تحت تأثیر پیک‌های شیمیایی کوتاه‌برد قرار بگیرند.
- ب: ممکن است تحت تأثیر پیک‌های شیمیایی دوربرد قرار بگیرند.
- ج: همگی در سه نقطهٔ واریسی مختلف در چرخهٔ یاخته‌ای، فعالیت دارند.
- د: تغییر در اطلاعات ژنی آنها می‌تواند باعث ایجاد سرطان شود.

- ۱) ۱
- ۲) ۲
- ۳) ۳
- ۴) ۴

۴ چند مورد دربارهٔ فرایند مهم نشان داده شده در شکل مقابل، به درستی بیان شده است؟

- الف) نشان‌دهندهٔ حذف یاخته‌های اصلی از بخش‌های عملکردی در دوران جنینی بعضی از پرندگان است.
- ب) حذف پرده‌های میانی در انگشتان به علت ایجاد یک سری فرایندهای دقیقاً برنامه‌ریزی شده در یاخته‌ها می‌باشد.



- ج) پروتئین‌های تخریب‌کننده در یاخته شروع به تجزیهٔ اجزای یاخته و مرگ آن می‌کنند.
- د) نوعی بافت مردگی در دوران جنینی بعضی از پرندگان را نشان می‌دهد.

- ۱) ۱ مورد
- ۲) ۲ مورد
- ۳) ۳ مورد
- ۴) ۴ مورد

۵ در تقسیم رشتمان (میتوز) نوعی یاختهٔ خونی که گیرندهٔ آن به نوعی آنتی‌ژن متصل شده است، ممکن نیست در یک مرحله رخ دهد. (باتغییر)

- ۱) پیدایش کروموزوم‌های دختری و قرار داشتن کروماتیدها در حداکثر فشردگی
- ۲) اتصال سانترومرهای کروموزوم‌ها به گروهی از ریزلوله‌ها و ناپدید شدن هستک (ها)
- ۳) شروع کاهش فشردگی کروموزوم‌ها و تشکیل مجدد پوشش هسته
- ۴) شروع تشکیل دوک تقسیم و آغاز تخریب پوشش هسته

۶ درباره هر نوع تومور بدخیم در بدن انسان، هر گاه مشاهده شود، می توان گفت قطعاً

- ۱ عدم تعادل بین تقسیم یاخته ای و مرگ یاخته ای - بعضی ویروس ها و پرتوهای فرابنفش در بروز این سرطان ها نقش داشته اند.
- ۲ استقرار و رشد یاخته های سرطانی در نواحی دیگر بدن - یاخته های سرطانی در گره های لنفی مجاور محل تکثیر خود مشاهده می شوند.
- ۳ گسترش یاخته های سرطانی در بافت های اطراف تومور - دگر نشینی و سرطانی شدن بافت های دورتر نیز رخ داده است.
- ۴ شروع تهاجم یاخته های سرطانی به بافت - آسیب به گروهی از ژن ها و پروتئین های یاخته مشاهده می شود.

۷ کدام گزینه درباره یک یاخته گیاهی با قدرت تقسیم هسته و تقسیم میان یاخته به صورت مساوی، نادرست است؟

- ۱ ممکن است در زمان تشکیل پوشش هسته در اطراف کروموزوم ها در قطبین یاخته، رشته های دوک در سیتوپلاسم مشاهده شوند.
- ۲ در طی فرایند تقسیم میان یاخته، ریز کیسه های پلی ساکاریدی به نام پکتین توسط دستگاه گلژی ایجاد می شوند.
- ۳ همزمان با تشکیل ریز کیسه بزرگ در بخش میانی یاخته، فرایند تقسیم میان یاخته پایان می پذیرد.
- ۴ تشکیل پلاسمودسم همانند تشکیل لان، در طی فرایند تقسیم میان یاخته پایه گذاری می شود.

۸ کدام گزینه عبارت زیر را به طور نادرست تکمیل می کند؟

«در تقسیم رشتمان یاخته های بنیادی مغز قرمز نوعی استخوان در یک فرد سالم، در هر مرحله ای که صورت می گیرد،

- ۱ دور شدن جفت سانتیریول ها از هم - بین آن ها دوک میتوزی تشکیل می شود.
- ۲ فشرده شدن کروماتیدهای خواهری - رشته های دوک متصل به کروموزوم ها کوتاه می شوند.
- ۳ شروع از بین رفتن پوشش هسته - کروموزوم ها به صورت دو کروماتیدی قابل رؤیت می شوند.
- ۴ تشکیل پوشش هسته - کروموزوم ها شروع به باز شدن می کنند تا به صورت کروماتین در آیند.

۹ در نوعی تقسیم هسته بدون کاهش عدد کروموزومی در مرحله ای که الزاماً

- ۱ کروموزوم ها در سطح استوایی یاخته ردیف می شوند - رشته های کروماتین شروع به فشرده شدن می کنند.
- ۲ پروتئین اتصالی در ناحیه سانترومر تجزیه می شود - کروماتیدها به سانتیریول ها نزدیک می شوند.
- ۳ پوشش هسته یاخته جانوری شروع به تخریب شدن می کند - بین سانتیریول ها دوک میتوزی تشکیل می شود.
- ۴ کروموزوم ها به رشته های کروماتینی تبدیل می شوند - در پایان، دو یاخته با ماده ژنتیک مشابه مشاهده می شود.

۱۰ با توجه به شکل مقابل، چند مورد عبارت زیر را به طور صحیح تکمیل می کند؟

«در مرحله ای که بلافاصله از مرحله شکل مقابل قرار دارد،

- (الف) بعد - فام تن ها به کمک میکروسکوپ نوری قابل مشاهده می شوند.
- (ب) قبل - هستک (های) موجود در هسته ناپدید می شوند.
- (ج) بعد - پوشش هسته و شبکه آندوپلاسمی به صورت کامل تجزیه می شود.
- (د) قبل - ماده ژنتیک همانند سازی کرده و فشرده می شود.

۴ ۴

۳ ۳

۲ ۲

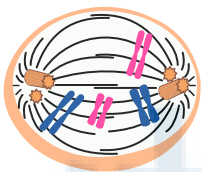
۱ ۱

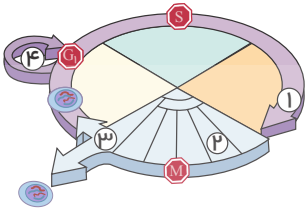
۱۱ در تقسیم یاخته گیاهی با توانایی سیتوکینز

- ۱ صفحه یاخته ای فقط دارای پیش سازهای تیغه میانی است.
- ۲ در مرحله تلوفاز میتوز قبل از شروع سیتوکینز، رشته های دوک کاملاً ناپدید می شوند.
- ۳ لان و پلاسمودسم پس از تشکیل دیواره جدید پایه گذاری می شوند.
- ۴ برخلاف یاخته های جانوری دستگاه گلژی نقش مؤثری دارد.

۱۲ در فرآیند تقسیم یاخته های بنیادی در مغز استخوان، طی مرحله ابتدا و سپس

- ۱ پس چهر - رشته های دوک به سانترومرها اتصال می یابند - طول فام تن ها به حداقل مقدار خود می رسد.
- ۲ واپسین چهر - دو هسته با ماده ژنتیکی مشابه حاصل می شود - کروموزوم ها شروع به فشرده شدن می کنند.
- ۳ پسین چهر - پروتئین های اتصالی در ناحیه سانترومرها تجزیه می شوند - کروموزوم ها دارای یک فامینک می شوند.
- ۴ پیش چهر - پوشش هسته تجزیه می شود - با حرکت سانتیریول ها به قطبین یاخته دوک میتوزی تشکیل می شود.





۱۳) شکل مقابل، مراحل مختلف چرخهٔ یاخته‌ای یک یاخته جانوری را نشان می‌دهد. کدام گزینه نادرست است؟

- ۱) یاخته‌هایی که به طور موقت یا دائمی تقسیم نمی‌شوند، همواره در مرحلهٔ ۴ متوقف می‌شوند.
- ۲) در مرحلهٔ ۱، فراهم بودن عوامل مورد نیاز برای تقسیم یاخته توسط نقطهٔ واریسی کنترل می‌شود.
- ۳) در مرحلهٔ ۳، شیار تقسیم سیتوپلاسم توسط رشته‌های اکتین و میوزین ایجاد می‌شود.
- ۴) مرحلهٔ ۲، بلافاصله پس از تشکیل دوک تقسیم آغاز می‌شود.

۱۴) در رابطه با مراحل مختلف تقسیم میتوز سلولی از گیاه زیتون، در مرحله‌ای که (با تغییر)

- ۱) کروموزوم‌ها با میکروسکوپ نوری قابل رؤیت هستند، ممکن است تعداد کروموزوم‌ها با تعداد کروماتیدها برابر باشد.
- ۲) رشته‌های دوک به سانترومر کروموزوم‌ها متصل می‌شوند، ۴۶ کروموزوم در هسته قابل رؤیت‌اند.
- ۳) رشته‌های دوک کوتاه می‌شوند، ۴۶ کروموزوم به سوی سانتریول‌های هر قطب کشیده می‌شوند.
- ۴) کروموزوم‌ها به کروماتین تبدیل می‌شوند، کمربندی از رشته‌های پروتئین در وسط سلول تشکیل می‌شود.

۱۵) چند مورد، جملهٔ زیر را به درستی کامل می‌کند؟

هر رشتهٔ دوک

- الف- از یک طرف به سانترومر متصل است.
- ب- از یک طرف به سانتریول متصل است.
- ج- از یک رشتهٔ توپیر پروتئینی ساخته شده است.

۳ ۴

۲ ۳

۱ ۲

۱ صفر

مرکز مشاوره تحصیلی

علیرضا افشار

پاسخنامه تشریحی

۱- ۱ ۲ ۳ ۴ ۱
بررسی سایر گزینه‌ها: تومور لیپوما، نوعی تومور خوش خیم است. این تومور از تکثیر یاخته‌های بافت چربی ایجاد شده است.

این تومور، خوش خیم است و بنابراین رشدی کم دارد و یاخته‌های آن در جای خود می‌مانند و منتشر نمی‌شوند.

۲- ۱ ۲ ۳ ۴ ۱
در مرحله آنافاز، با تجزیه پروتئین اتصالی در ناحیه سانترومر، کروماتیدها از هم جدا می‌شوند. در مرحله تلوفاز، پوشش هسته مجدداً تشکیل می‌شود.
بررسی سایر گزینه‌ها:

گزینه‌های (۱): در مرحله پروفاز، بین سانتیریول‌ها دوک میتوزی تشکیل می‌شود. در مرحله متافاز، کروموزوم‌ها در سطح استوایی یاخته ردیف می‌شوند. در صورتی که مرحله بعد از پروفاز، مرحله پرومتافاز است.

گزینه‌های (۲): در مرحله پرومتافاز، سانترومر کروموزوم‌ها به رشته‌های دوک متصل می‌شوند. در مرحله آنافاز، جداسازی کروماتیدهای خواهری صورت می‌گیرد.

گزینه‌های (۳): در مرحله پرومتافاز، پوشش هسته به قطعات کوچک‌تر تجزیه می‌شود. در مرحله آنافاز، کروموزوم‌های تک کروماتیدی به دو سوی یاخته کشیده می‌شوند.
۳- ۱ ۲ ۳ ۴ ۱
موارد «الف»، «ب» و «د» درست هستند.

بررسی موارد:

مورد الف: نوعی عامل رشد در پوست انسان زیر محل زخم تولید می‌شود که با افزایش سرعت تقسیم یاخته‌ها سبب افزایش سرعت بهبود زخم می‌شود. این عامل رشد نوعی پیک کوتاه‌برد است.

مورد ب: هورمون اریتروپوئین با تأثیر بر یاخته‌های مغز استخوان سبب افزایش تعداد گلبول‌های قرمز می‌شوند.

مورد ج: علاوه بر این سه نقطه واریسی نقاط واریسی دیگری نیز وجود دارد.

مورد د: علت اصلی سرطان تغییر در ژن‌ها و در نتیجه تغییر در پروتئین‌ها است.

۴- ۱ ۲ ۳ ۴ ۱
فقط موارد (ب) و (ج) عبارت درستی را بیان می‌کند.

بررسی سایر موارد:

مورد الف) حذف یاخته‌های اضافی از بخش‌های عملکردی است.

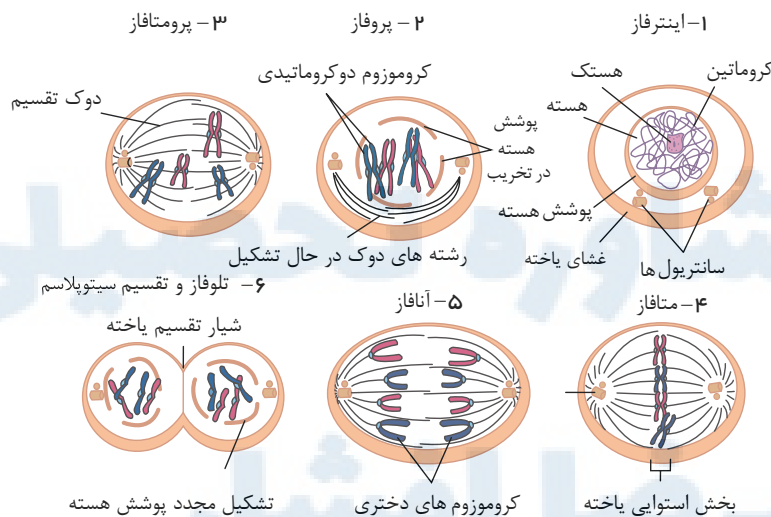
مورد د) این عمل مربوط به بافت مردگی نیست.

۵- ۱ ۲ ۳ ۴ ۱
چهر (پرومتافاز) است. با توجه به شکل، ناپدید شدن هستک (ها) در مرحله پیش چهر (پروفاز) رخ می‌دهد، اما اتصال سانترومر کروموزوم‌ها به گروهی از ریزلوله‌ها در مرحله پیش‌پس چهر (پرومتافاز) است.
بررسی سایر گزینه‌ها:

گزینه «۱»: بیانگر مرحله پسین چهر (آنافاز) است.

گزینه «۳»: بیانگر مرحله واپسین چهر (تلوفاز) است.

گزینه «۴»: بیانگر مرحله پیش چهر (پروفاز) است.



۶- ۱ ۲ ۳ ۴ ۱
علت اصلی سرطان، بعضی تغییرات در ماده ژنتیکی یاخته است که باعث می‌شود چرخه یاخته‌ای از کنترل خارج شود. پروتئین‌ها، تنظیم‌کننده چرخه یاخته و مرگ آن هستند. پروتئین‌ها محصول عملکرد ژن‌ها هستند. بنابراین، مشخص است که در ایجاد سرطان، ژن‌ها نقش دارند.

۷- ۱ ۲ ۳ ۴ ۱
دقت کنید پس از تشکیل ریز کیسه بزرگ، با اتصال غشای ریز کیسه به غشای یاخته مادری، تقسیم میان یاخته پایان می‌پذیرد.

۹ (۱ ۲ ۳ ۴) در مرحلهٔ پروفاز، پوشش هسته شروع به تخریب می‌کند. در همین مرحله، سانتربول‌ها به دو طرف یاختهٔ جانوری حرکت می‌کنند و بین آن‌ها دوک میتوزی تشکیل می‌شود.

بررسی سایر گزینه‌ها:

گزینهٔ (۱): در مرحلهٔ متافاز میتوز، کروموزوم‌ها که بیشترین فشردگی را پیدا کرده‌اند، در وسط (سطح استوایی) یاخته قرار می‌گیرند، اما شروع فشردگی رسته‌های کروماتین، از مرحلهٔ پیش‌چهر یا پروفاز است.

گزینهٔ (۲): در مرحلهٔ آنافاز با تجزیهٔ پروتئین اتصالی در ناحیهٔ سانترومر، کروماتیدها از هم جدا می‌شوند. فاصله گرفتن کروماتیدها با کوتاه شدن رسته‌های دوک متصل به کروموزوم انجام می‌شود. اما دقت کنید برخی یاخته‌ها سانتربول ندارند.

گزینهٔ (۴): در مرحلهٔ تلوفاژ میتوز، کروموزوم‌ها به رسته‌های کروماتینی تبدیل می‌شوند. اما در پایان این مرحله از تقسیم میتوز یک یاخته با دو هستهٔ دارای مادهٔ ژنتیک مشاهده می‌شود و با تقسیم سیتوپلاسم اجزای یاخته بین دو سیتوپلاسم تقسیم می‌شوند و دو یاختهٔ جدید تشکیل می‌شود.

۱۰ (۱ ۲ ۳ ۴) شکل مربوط به مرحلهٔ پرومتافاز میتوز می‌باشد. مورد (ب) درست بیان شده است.

بررسی موارد:

(الف) نادرست، در مرحلهٔ پروفاز (مرحلهٔ قبل از پرومتافاز) دقت کنید رسته‌های کروماتین فشرده، ضخیم و کوتاه‌تر می‌شوند به طوری که به تدریج، با میکروسکوپ نوری می‌توان آن‌ها را مشاهده کرد.

(ب) درست، ناپدید شدن هستک (ها) مربوط به مرحلهٔ پروفاز می‌باشد.

(ج) نادرست، از بین رفتن پوشش هسته و شبکهٔ آندوپلاسمی به صورت کامل مربوط به پرومتافاز می‌باشد.

(د) نادرست، همانندسازی مادهٔ ژنتیک هسته‌ای، در مرحلهٔ S انجام می‌شود. و مرحلهٔ G_2 بخشی از مرحلهٔ اینترفاز است و اینترفاز بلافاصله مرحلهٔ قبل از پروفاز است، نه پرومتافاز.

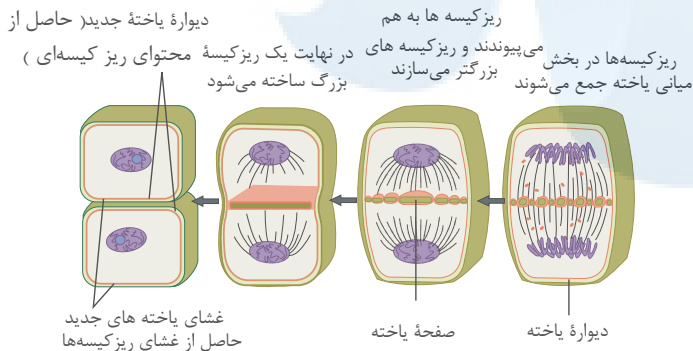
۱۱ (۱ ۲ ۳ ۴)

۱. صفحهٔ یاخته‌ای علاوه بر پیش سازهای تیغهٔ میانی، پیش سازهای دیوارهٔ یاخته‌ای را هم شامل می‌شود.

۲. طبق شکل روبه رو پس از سیتوکینز نیز هنوز رسته‌های دوک هنوز مشاهده می‌شوند.

۳. لان و پلاسمودسم در هنگام تشکیل دیوارهٔ جدید، پایه گذاری می‌شوند نه پس از آن.

۴. در تقسیم یاخته‌های گیاهی، دستگاه گلژی به دلیل تولید ریزکیسه‌های حاوی مواد دیواره و تیغهٔ میانی نقش مؤثری دارد. اما در جانوران دستگاه گلژی نقش مؤثری در تقسیم ندارد.



مربوط به گزینه ۲

۱۲ (۱ ۲ ۳ ۴) ۱. قبل از مرحلهٔ پس‌چهر (متافاز) (نه طی مرحلهٔ پس‌چهر) یعنی در مرحلهٔ پرومتافاز، رسته‌های دوک به سانترومرها اتصال یافته‌اند. در مرحلهٔ متافاز، طول قام تن (کروموزوم) به حداقل خود می‌رسد.

۲. در مرحلهٔ واپسین چهر (تلوفاژ) دو هسته با مادهٔ ژنتیک مشابه ایجاد می‌شود. اما قبل از آن کروموزوم‌ها کوتاه و فشرده شده‌اند و در این مرحله کروموزوم‌ها شروع می‌کنند فشردگی خود را کم کنند.

۳. در مرحلهٔ پسین چهر (آنافاز) پروتئین‌های اتصالی در ناحیهٔ سانترومرها تجزیه می‌شوند. و پس از جدا شدن کروماتیدها در همین مرحله، هر کروموزوم از یک فامینک (کروماتید) تشکیل شده است.

۴. پوشش هسته طی مرحلهٔ پرومتافاز، تجزیه می‌شود. حرکت سانتربول‌ها به قطبین و تشکیل رسته‌های دوک طی پروفاز انجام می‌شود.

۱۳ (۱ ۲ ۳ ۴) ۱. یاخته‌هایی که به طور موقت یا دائمی تقسیم نمی‌شوند، معمولاً نه همواره، در مرحلهٔ G_0 متوقف می‌شوند.

۲. در مرحلهٔ G_2 ، نقطهٔ واریسی وجود دارد که فراهم بودن عوامل مورد نیاز برای تقسیم یاخته را کنترل می‌کند. اگر این عوامل فراهم نباشد، نقطهٔ واریسی G_2 ، اجازهٔ عبور یاخته از این مرحله را نمی‌دهد.

۳. در مرحلهٔ ۳ یعنی سیتوکینز، شیار تقسیم سیتوپلاسم، توسط رسته‌های اکتین و میوزین تشکیل می‌شود.

۴. مرحلهٔ ۲، مرحلهٔ پرومتافاز است که بلافاصله پس از تشکیل دوک تقسیم آغاز می‌شود.

۱۴ (۱ ۲ ۳ ۴) در مراحل تقسیم میتوز سلول گیاه زیتون، کروموزوم‌ها در مرحلهٔ پروفاز قابل رؤیت می‌شوند و در مرحلهٔ آنافاز و متافاز هم قابل رؤیت هستند. در مرحلهٔ آنافاز از آن‌جا که کروماتیدهای خواهری از هم جدا می‌شوند، تعداد کروموزوم‌ها با کروماتیدها برابر است.

در حالی که در مرحلهٔ پروفاز و متافاز تعداد کروماتیدها دو برابر کروموزوم‌هاست چون کروموزوم‌ها دو کروماتیدی‌اند.

بررسی سایر گزینه‌ها:

گزینهٔ (۲): در مرحلهٔ پرومتافاز، سانترومر کروموزوم‌ها به رسته‌های دوک متصل می‌شوند. در این مرحله پوشش هسته تجزیه می‌شود و ۴۶ کروموزوم در هسته قرار ندارند. بلکه در سیتوپلاسم یاخته رها می‌شوند.

گزینهٔ (۳): زیتون، گیاهی نهان‌دانه است، پس سانتربول ندارد.

گزینهٔ (۴): برای سلول‌های گیاهی کمربندی از جنس پروتئین دخالت ندارد. در یاخته‌های گیاهی، حلقهٔ انقباضی تشکیل نمی‌شود.

۱۵ (۱ ۲ ۳ ۴) هیچ کدام از موارد صحیح نیستند. بررسی گزینه‌ها:

الف: گروهی از رسته‌های دوک به سانترومر کروموزوم‌ها متصل شده‌اند نه همهٔ آن‌ها.



مبحث: گفتار ۲ فصل ۶ زیست یازدهم

سری: شماره ۲

زمان: ۱۵ دقیقه

۱ به هنگام تقسیم رشتمان (میتوز) یاخته‌های پارانشیم گیاه ادیسی در محل زخم، در مرحلهٔ پروفاز برخلاف متافاز چه اتفاقی رخ می‌دهد؟ (با تغییر)

- ۱ پوشش هسته و شبکهٔ آندوپلاسمی به‌طور کامل تجزیه می‌شود.
- ۲ گروهی از رشته‌های دوک تقسیم به سانترومر فام‌تن‌ها اتصال می‌یابند.
- ۳ هر جفت سانتیریول به سمت یک قطب یاخته حرکت می‌کند و دوک تقسیم ایجاد می‌شود.
- ۴ کروماتیدهای خواهری متصل به هم، به تدریج با میکروسکوپ نوری، قابل مشاهده می‌شوند.

۲ در ابتدای مرحله‌ای از تقسیم میتوز یک یاختهٔ بدن انسان، کروموزوم‌ها در استوای یاخته قرار دارند. کدام گزینه دربارهٔ این مرحله درست است؟

- ۱ تعداد کروماتیدهای موجود در سیتوپلاسم دوبرابر می‌شوند.
- ۲ رشته‌های پروتئینی دوک تقسیم به سانترومر کروموزوم‌ها متصل می‌شوند.
- ۳ در انتهای این مرحله، تعداد کروموزوم‌ها با تعداد کروماتیدهای درون یاخته برابر است.
- ۴ در این مرحله همهٔ رشته‌های سازندهٔ دوک تقسیم، شروع به کوتاه‌شدن می‌کنند.

۳ در تقسیم رشتمان (میتوز) یک یاختهٔ بنیادی مغز استخوان، در مرحله‌ای که ریزلوله‌های پروتئینی دوک در حال کوتاه‌شدن هستند، کدام عبارت دربارهٔ آن صحیح است؟

- ۱ پروتئین‌های اتصال دهندهٔ کروماتیدها تجزیه می‌شود.
- ۲ کروموزوم‌ها در قسمت میانی یاخته ردیف می‌شوند.
- ۳ شیار ناشی از کمربند انقباضی تنگ می‌شود.
- ۴ کروموزوم‌ها هنوز به حداکثر میزان فشردگی نرسیده‌اند.

۴ در مورد مرحله‌ای از چرخهٔ یاخته‌ای یک سلول پوششی رودهٔ انسان که به آن اطمینان می‌دهند که مرحلهٔ قبل کامل شده است و عوامل لازم برای مرحلهٔ بعد آماده شده است، چند مورد به نادرستی بیان شده است؟ الف) نقطهٔ واری متافازی، اتصال دقیق سانترومر کروموزوم‌ها به رشته‌های دوک در استوای هسته را بررسی می‌کند.



- ب) گروهی از پروتئین‌های سلول فقط در سه زمان متفاوت در چرخهٔ یاخته‌ای، سرعت تقسیم یاخته را کنترل می‌کنند.
- ج) یکی از این مراحل دقیقاً قبل از مرحله‌ای از تقسیم هستهٔ سلول که در شکل نشان داده شده است، می‌باشد.
- د) در صورت فراهم نبودن عوامل لازم برای تقسیم میتوز، نقطهٔ واری G_2 مانع شروع تقسیم میتوز می‌شود.

- ۱ مورد ۱
- ۲ مورد ۲
- ۳ مورد ۳
- ۴ مورد ۴

۵ کدام هورمون‌های زیر می‌تواند سبب افزایش فعالیت پروتئین‌های اکتین و میوزین مؤثر در تقسیم میان یاخته در سلول هدف خود شود؟

- الف) هورمون رشد (ب) LH در مردان (ج) FSH در مردان (د) FSH در زنان
- ۱ الف، ج
- ۲ ب، ج
- ۳ الف، د
- ۴ ب، د

۶ در مورد نوعی تقسیم یاخته در بدن انسان که تعداد یاخته‌ها بدون تغییر عدد کروموزومی آن‌ها افزایش می‌یابد، می‌توان گفت مرحله‌ای از تقسیم هسته که در آن می‌شود

- ۱ قبل - کروموزوم‌ها به کروماتین، تبدیل - تعداد کروموزوم‌های یاخته افزایش پیدا می‌کند.
- ۲ بعد - شروع تشکیل رشته‌های دوک، مشاهده - بیشترین فشردگی کروموزوم‌ها مشاهده می‌شود.
- ۳ قبل - پروتئین اتصالی کروماتیدها در ناحیهٔ سانترومر، تجزیه - کروموزوم‌های تک کروماتیدی به قطبین سلول کشیده می‌شوند.
- ۴ بعد - پوشش شبکهٔ آندوپلاسمی، کاملاً تجزیه - سانترومر کروموزوم‌ها به گروهی از رشته‌های دوک متصل می‌شوند.



۷) کدام گزینه عبارت زیر را به درستی تکمیل می‌کند؟

«در یک یاخته جانوری، در نوعی تقسیم هسته بدون تغییر عدد کروموزومی در یاخته‌های حاصل از تقسیم، در مرحله‌ای که قطعاً»

- ۱) گروهی از رشته‌های دوک تقسیم، شروع به کوتاه شدن می‌کنند - در پایان این مرحله، پروتئین اتصال در محل سانترومرها مشاهده می‌شود.
- ۲) گروهی از رشته‌های دوک به محل اتصال کروماتیدهای خواهری متصل می‌شوند - پوشش هسته شروع به تجزیه شدن می‌کند.
- ۳) سانتریول‌ها شروع به فاصله گرفتن از هم می‌کنند - گروهی از رشته‌های دوک به سانترومر کروموزوم‌ها متصل می‌شوند.
- ۴) پوشش هسته مجدداً تشکیل می‌شود - در پایان، یک یاخته با دو هسته در دو قطب آن مشاهده می‌گردد.

۸) کدام یک از عبارت‌های زیر در ارتباط با روش‌های رایج درمان تومورهای بدخیم به درستی بیان شده است؟

- ۱) کاهش گستردگی گروهی از یاخته‌های سرطانی در پرتودرمانی برخلاف شیمی‌درمانی ممکن است.
- ۲) شیمی‌درمانی برخلاف پرتودرمانی، می‌تواند در کاهش هماتوکریت خون نقش داشته باشد.
- ۳) فرایند جراحی همانند شیمی‌درمانی فقط بر یاخته‌های سرطانی و تومور تأثیر خود را اعمال کند.
- ۴) شیمی‌درمانی می‌تواند باعث کاهش میزان ورود برخی از یاخته‌های بدن به مرحله تقسیم یاخته‌ای شود.

۹) چند مورد عبارت زیر را به طور صحیح تکمیل می‌کند؟ (با تغییر)


- «در تقسیم رشتمان نوعی یاخته جانوری در مرحله‌ای که»
- الف) تعداد سانترومرها دو برابر می‌شود، رشته‌های دوک کوتاه می‌شوند.
- ب) رشته‌های دوک از بین می‌روند، کروموزوم‌ها به تدریج از فشردگی خارج می‌شوند.
- ج) غشای هسته شروع به تجزیه شدن می‌کند، سانتریول‌ها ساخته شدن رشته‌های دوک را سازماندهی می‌کنند.
- د) رشته‌های دوک متصل به کروموزوم‌ها شروع به کوتاه شدن می‌کنند، بیشترین فشردگی در کروموزوم‌ها دیده می‌شود.

- ۱) ۱ ۲) ۲ ۳) ۳ ۴) ۴

۱۰) در تقسیم یاخته‌های پوششی روده، بلافاصله پس از

- ۱) کوتاه شدن رشته‌های دوک متصل به سانترومرها، سیتوپلاسم یاخته تقسیم می‌شود.
- ۲) تشکیل رشته‌های دوک، کروموزوم‌ها به حداکثر فشردگی خود می‌رسند.
- ۳) تجزیه کامل شبکه آندوپلاسمی، سانتریول‌ها به سمت دو طرف یاخته حرکت می‌کنند.
- ۴) ردیف شدن کروموزوم‌ها در استوای یاخته، کروماتیدهای خواهری از هم جدا می‌شوند.

۱۱) چند مورد در رابطه با شکل‌های مقابل صحیح است؟



(الف) (ب)

- توده (ب) نوعی تومور است که در افراد بالغ متداول است.
- توده (الف) هیچ‌گاه آنقدر بزرگ نمی‌شود که به بافت‌های مجاور خود آسیب بزند.
- علت اصلی ایجاد توده (الف) تقسیمات تنظیم نشده است.
- یاخته‌های ایجاد کننده تومور (ب) می‌توانند به بخش‌های لنفی مجاور محل تکثیر خود، دسترسی پیدا کنند.

- ۱) ۱ ۲) ۲ ۳) ۳ ۴) ۴

۱۲) کدام گزینه، عبارت زیر را درباره مراحل تقسیم میتوز در یک یاخته جانوری به نادرستی تکمیل می‌نماید؟

«در مرحله گروهی از رشته‌های دوک»

- ۱) پرومیتافاز - به سانترومر کروموزوم‌ها متصل می‌شوند.
- ۲) پسین چهر - در قطبین یاخته دیده می‌شوند.
- ۳) پس چهر - به سانترومر کروموزوم‌ها متصل نیستند.
- ۴) واپسین چهر - تقسیم در سیتوپلاسم دیده می‌شوند.

۱۳) یک یاخته زنده بافت پوششی انسان با ۹۲ مولکول DNA هسته‌ای، قطعاً

- ۱) از اولین نقطه واریسی چرخه یاخته‌ای عبور کرده است.
- ۲) در مرحله‌ای قرار دارد که کروموزوم‌های آن با میکروسکوپ نوری قابل مشاهده است.
- ۳) به تعداد نصف مولکول‌های DNA، کروماتید در هسته دارد.
- ۴) در مرحله‌ای قرار دارد که رشته‌های دوک به سانترومر کروموزوم‌های آن متصل می‌باشند.

۱۴) به طور معمول، سلول‌های اندامک‌دار حاصل از تقسیم میتوز، همگی (با تغییر)

- ۱) کروموزوم تک کروماتیدی دارند.
- ۲) نیمی از سیتوپلاسم سلول مادر را دریافت می‌کنند.
- ۳) برای تقسیم سیتوپلاسم، کمربند پروتئینی تشکیل می‌دهند.
- ۴) در اثر ایجاد حلقه انقباضی یاخته مادر بوجود آمده‌اند.

۱۵) در چرخه سلولی ذرت، در مرحله (با تغییر)

- ۱) تقسیم سیتوپلاسم، صفحه جداکننده، دیواره سلولی است که غشا ندارد.
- ۲) یک جفت سانتیریول شروع به همانندسازی می‌کنند.
- ۳) کروماتین، حداکثر فشردگی و تراکم را پیدا نکرده است.
- ۴) پروفاز، کروموزوم‌های قابل رویت و رشته‌های دوک، درون هسته شکل می‌گیرند.



مرکز مشاوره تحصیلی

علیرضا افشار

پاسخنامه تشریحی

۱) ۱ ۲ ۳ ۴ صورت سؤال در رابطه با تقسیم میتوز در یک یاخته گیاهی ادریسی (نهان دانه) است. کروماتیدهای خواهری متصل به هم در مرحله پروفاز به تدریج با میکروسکوپ نوری قابل مشاهده می شوند. در مرحله متافاز قابل مشاهده هستند.

بررسی سایر گزینه ها:

گزینه ۱: پوشش هسته و شبکه آندوپلاسمی در مرحله پرومتافاز به طور کامل تجزیه می شود.

گزینه ۲: گروهی از رشته های دوک تقسیم در مرحله پرومتافاز به سانترومر کروموزومها متصل می شوند.

گزینه ۳: یاخته های گیاهان نهاندانه، سانتروبول ندارند.

۲) ۱ ۲ ۳ ۴ منظور صورت سؤال مرحله آنافاز است که در ابتدای آن کروموزومها هنوز در استوای سلول هستند.

در آنافاز به دلیل جدا شدن کروماتیدها از یکدیگر هر کروماتید یک کروموزوم محسوب می شود. پس تعداد کروموزومها با کروماتیدها برابر است.

بررسی سایر گزینه ها:

گزینه ۱: تعداد کروماتیدها طی این مرحله تغییر نمی کند.

گزینه ۲: اتصال رشته های دوک به سانترومر کروموزومها در پرومتافاز انجام می شود.

گزینه ۴: این مطلب مربوط برای گروهی از رشته های دوک درست است نه همه آنها.

۳) ۱ ۲ ۳ ۴ منظور از صورت سؤال، مرحله آنافاز می باشد. تجزیه پروتئین اتصالی در محل سانترومر در مرحله آنافاز صورت می گیرد.

بررسی سایر گزینه ها:

گزینه ۲: ردیف شدن کروموزومها در استوای یاخته در مرحله متافاز صورت می گیرد.

گزینه ۳: تنگ شدن شیار مربوط به تقسیم یاخته در مرحله تقسیم سیتوپلاسم است.

گزینه ۴: کروموزومها در مرحله متافاز به حداکثر فشردگی می رسند و تا ابتدای تلوفاز در این حالت باقی می ماندند. در تلوفاز، کروموزومها شروع به باز شدن می کنند.

۴) ۱ ۲ ۳ ۴ موارد الف و ب نادرست اند.

بررسی موارد نادرست:

مورد الف) توجه کنید فام تن ها در استوای یاخته ردیف می شوند، نه استوای هسته!

مورد ب) دقت کنید در طی چرخه یاخته ای بیش از سه نقطه واریسی یافت می شود.

۵) ۱ ۲ ۳ ۴ هورمون رشد که سبب تقسیم یاخته های غضروفی در صفحات رشد می شود، سبب افزایش فعالیت پروتئین های اکتین و میوزین در هنگام تقسیم میان یاخته می

شوند و هورمون FSH نیز در زنان باعث تقسیم یاخته های فولیکولی می شود.

هورمون LH در مردان با تحریک یاخته های بینابینی، سبب ترشح تستوسترون از آنها می شود و هورمون FSH در مردان با تحریک یاخته های سرتولی، تمایز اسپرمها را تسهیل می کند.

۶) ۱ ۲ ۳ ۴ منظور صورت سؤال تقسیم میتوز می باشد. در مرحله واپسین چهار (تلوفاز) کروموزومها به صورت کروماتین درمی آیند که مرحله قبل از آن مرحله آنافاز است.

در مرحله آنافاز تعداد کروموزومهای یاخته افزایش می یابد.

۷) ۱ ۲ ۳ ۴ در مرحله تلوفاز میتوز، پوشش هسته مجدداً تشکیل می شود و در پایان یک یاخته با دو هسته مشاهده می گردد.

بررسی سایر گزینه ها:

گزینه ۱: در آنافاز با تجزیه پروتئین اتصالی در ناحیه سانترومر کروماتیدها توسط کوتاه شدن رشته های دوک متصل به آنها از هم جدا می شوند.

گزینه ۲: اتصال رشته های دوک به کروموزومها در پرومتافاز اما شروع تجزیه پوشش هسته در پروفاز صورت می گیرد.

گزینه ۳: حرکت سانتروبولها در پروفاز اما اتصال رشته های دوک به کروموزومها در پرومتافاز صورت می گیرد.

۸) ۱ ۲ ۳ ۴ روش های درمانی سرطان می توانند به یاخته های مغز استخوان، پیاز مو و پوشش دستگاه گوارش نیز آسیب برسانند. مرگ این یاخته ها از عوارض جانبی شیمی

درمانی است که باعث ریزش مو، تهوع و خستگی می شود.

بررسی سایر گزینه ها:

گزینه ۱: این گزینه برای شیمی درمانی همانند پرتودرمانی صحیح است.

گزینه ۲: بعضی افراد که تحت تأثیر تابش های شدید یا شیمی درمانی قوی قرار می گیرند، مجبور به پیوند مغز استخوان می شوند تا بتوانند یاخته های خونی مورد نیاز را بسازند.

گزینه ۳: شیمی درمانی باعث سرکوب تقسیم یاخته ها در همه بدن می شود.

۹) ۱ ۲ ۳ ۴ تمامی موارد صحیح هستند.

بررسی موارد:

الف) تعداد سانترومرها در مرحله آنافاز دو برابر می شود. در مرحله آنافاز رشته های دوک کوتاه می شوند.

ب) در مرحله تلوفاز، رشته های دوک کوتاه و کروموزومها به تدریج از فشردگی خارج می شوند.

ج) مرحله پروفاز غشا، هسته شروع به تجزیه شدن می کند. در این مرحله رشته های دوک ساخته می شوند. سانتروبولها، ساخته شدن رشته های دوک را سازماندهی می کنند.

د) اگرچه کروموزومها در مرحله متافاز بیشترین فشردگی را پیدا می کنند اما توجه داشته باشید که این حداکثر فشردگی می تواند در مرحله آنافاز نیز دیده شود. در مرحله آنافاز، رشته های دوک

متصل به سانترومر کروموزومها کوتاه می شوند.

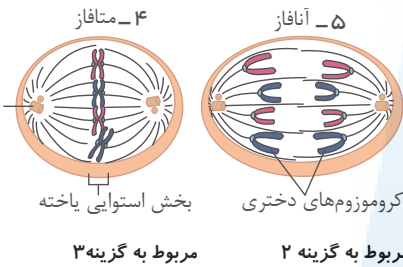
۱۰) بررسی گزینه‌ها:

- گزینه (۱): کوتاه شدن رشته های دوک متصل به سانترومرها مربوط به مرحله آنافاز است و پس از آن مرحله تلوفاز قرار دارد. در حالی که تقسیم سیتوپلاسم پس از مرحله تلوفاز است.
 گزینه (۲): تشکیل رشته های دوک در مرحله پروفاز رخ می دهد و پس از آن مرحله پرومتافاز قرار دارد، در حالی که حداکثر فشردگی کروموزومها مربوط به مرحله متافاز است.
 گزینه (۳): تجزیه کامل شبکه آندوپلاسمی مربوط به مرحله پرومتافاز است، در حالی که حرکت سانتریولها به سمت دو طرف یاخته مربوط به مرحله پروفاز است.
 گزینه (۴): کروموزومها در مرحله متافاز در استوای یاخته ردیف می شوند و بلافاصله پس از آن مرحله آنافاز است که در آن، کروماتیدهای خواهری از هم جدا می شوند.

۱۱) بررسی موارد:

- الف. (نادرست) توده (ب) ملانوما است. ملانوما نوعی توده بدخیم یاخته های رنگدانه دار پوست است. این توده تومور رایجی در افراد بالغ نیست.
 ب. (نادرست) توده (الف)، لیپوما است. لیپوما نوعی تومور خوش خیم است. تومورهای خوش خیم معمولاً (نه هیچ گاه) آن قدر بزرگ نمی شوند که به بافت های مجاور خود آسیب بزنند.
 پ. (درست) همه تومورها در اثر تقسیمات تنظیم نشده ایجاد می شوند.
 ت. (درست) تومور (ب) ملانوما است که تومور بدخیم است. در تومورهای بدخیم، یاخته هایی جدا می شوند و همراه با جریان خون، یا به ویژه لنف به نواحی دیگر بدن می روند.

۱۲) ۱ ۲ ۳ ۴



۱. در مرحله پرومتافاز، گروهی از رشته های دوک به دلیل تخریب پوشش هسته به سانترومر کروموزومها متصل می شوند.
 ۲. در مرحله پسین چهر (آنافاز) گروهی از رشته های دوک در قطبین یاخته دیده می شوند. چون عده ای از آن ها تا میانه یاخته کشیده شده اند.
 ۳. در مرحله پس چهر (متافاز) گروهی از رشته های دوک به سانترومر کروموزومها متصل نیستند.
 ۴. در مرحله واپسین چهر (تلوفاز)، در تلوفاز (واپسین چهر) رشته های دوک تخریب شده و کروموزومها شروع به باز شدن می کنند.

مربوط به گزینه ۲ مربوط به گزینه ۳

۱۳) ۱ ۲ ۳ ۴ ۱ هر کروماتید، یک مولکول DNA دارد. بنابراین به علت وجود ۹۲ مولکول DNA ۹۲ کروماتید وجود دارد. پس نتیجه می گیریم که کروموزومها مضاعف هستند. این یاخته دارای ۴۶ کروموزوم دوکروماتید است. بنابراین از مرحله S گذشته است و قطعا نقطه واری اول که مربوط به G1 را گذرانده است.

۲. کروموزومها در تقسیم میتوز قابل مشاهده هستند. اما این یاخته می تواند در مرحله G2 نیز باشد. اما در مرحله G2 کروموزومها با میکروسکوپ نوری قابل رویت نیستند.
 ۳. در همه یاخته های هسته دار، تعداد مولکول DNA با تعداد کروماتید برابر است. چون هر کروماتید از یک مولکول DNA تشکیل شده است.
 ۴. در مرحله پرومتافاز، متافاز و آنافاز، کروموزومها به رشته دوک متصل هستند. اما این یاخته در مرحله G2 و پروفاز نیز دارای ۹۲ مولکول دنا است.

۱۴) ۱ ۲ ۳ ۴

- در مرحله آنافاز میتوز، دو کروماتید خواهری هر کروموزوم از محل سانترومر از یکدیگر جدا می شوند کروموزومهای حاصله همگی تک کروماتیدی اند. سلول های یوکاریوتی درون هسته یک یا چند هستک دارند (رد گزینه ۴).
 فقط سلول های جانوری و سلول های فاقد دیواره کمر بند پروتئینی تشکیل می دهند (رد گزینه ۳).
 در بعضی موارد سلول های حاصل از میتوز سلول مادر نیمی از سیتوپلاسم سلول مادر را دریافت نمی کنند، به طور مثال سلول های حاصل از میتوز تخم گیاهان نهان دانه (رد گزینه ۲).

۱۵) ۱ ۲ ۳ ۴ در مرحله S کروماتین، فشردگی های لازم را پیدا نکرده است.

بررسی سایر گزینه ها:

- گزینه (۱): صفحه ی سلولی در واقع یک دیواره سلولی است که توسط غشا احاطه شده است.
 گزینه (۳): ذرت یک گیاه نهان دانه است و سانتریول ندارد.
 گزینه (۴): در گیاهان و جانوران و آغازیان رشته های دوک در خارج از هسته و در سیتوپلاسم شکل می گیرند.



مبحث: گفتار ۲ فصل ۶ زیست یازدهم

سری: شماره ۳

زمان: ۱۵ دقیقه

۱ شکل زیر، یکی از مراحل تقسیم رشتمان در یک یاخته گیاهی را نشان می‌دهد. کدام گزینه درباره این مرحله از تقسیم درست است؟

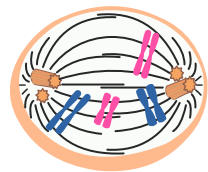


- ۱ کروموزوم‌های یاخته، در تمام طول این مرحله به‌صورت مضاف‌نشده هستند.
- ۲ در این مرحله، تجزیه گروهی از پروتئین‌های درون سلولی مشاهده می‌شود.
- ۳ کروموزوم‌های مضاف‌نشده در این مرحله، به سمت دو قطب هسته کشیده می‌شوند.
- ۴ در پی جدا شدن کروماتیدهای خواهری، میزان DNA یاخته دوبرابر می‌شود.

۲ کمی پس از نقطه واریسی متافازی چرخه یاخته‌ای در یک یاخته با قدرت تقسیم میتوز، کدام گزینه رخ می‌دهد؟

- ۱ شروع قرارگیری کروموزوم‌ها در سطح استوایی سلول
- ۲ آغاز تجزیه و قطعه‌قطعه شدن غشای اطراف کروموزوم‌ها
- ۳ تجزیه برخی پروتئین‌های موجود در ساختار کروموزوم
- ۴ اتصال لوله‌های ریز پروتئینی به سانترومر کروموزوم‌ها

۳ در رابطه با شکل روبه‌رو که مربوط به مرحله‌ای از تقسیم رشتمان (میتوز) است، چند مورد عبارت زیر را به‌درستی تکمیل می‌کند؟



«در مرحله‌ای که بلافاصله از این مرحله قرار دارد، نمی‌توان را مشاهده کرد.»

- الف) بعد - جدا شدن فامینک‌هایی (کروماتیدهایی) با تنوع ژنی یکسان
- ب) قبل - پوشش غشایی در اطراف فام تن‌های (کروموزوم‌های) یاخته
- ج) بعد - افزایش فاصله بین میانک‌های (سانتریول‌های) درون یاخته
- د) قبل - شروع سازماندهی رشته‌های دوک توسط سانتریول‌ها

- ۱ مورد ۱
- ۲ مورد ۲
- ۳ مورد ۳
- ۴ مورد ۴

۴ کدام گزینه، عبارت مقابل را به‌درستی تکمیل می‌کند؟ «ملانوما لیپوما

- ۱ برخلاف - در اثر برهم خوردن تعادل بین تقسیم یاخته‌ها و مرگ یاخته‌ها به‌وجود می‌آید.
- ۲ همانند - ممکن است در اثر تقسیمات تنظیم نشده یاخته‌های نوعی اندام ایجاد شده باشد.
- ۳ برخلاف - توده‌ای از یاخته‌ها است که معمولاً به بافت‌های مجاور خود آسیب نمی‌زند.
- ۴ همانند - می‌تواند گروهی از یاخته‌های خود را از طریق لنف یا خون به بافت‌های دیگر بفرستد.

۵ کدام عبارت، در ارتباط با همه یاخته‌هایی که تقسیم آن‌ها در اثر استفاده از داروهای شیمی‌درمانی سرکوب می‌شود، درست است؟ (با تغییر)

- ۱ با تقسیمات خود، گروهی از لنفوسیت‌های فاقد توانایی شناسایی اختصاصی عامل بیگانه را به‌وجود می‌آورند.
- ۲ تحت تأثیر پروتئین‌های تحریک‌کننده تقسیم یاخته‌ای، به‌صورت تنظیم نشده تقسیم می‌شوند.
- ۳ توسط شبکه‌ای از رشته‌های پروتئینی و گلیکوپروتئینی به بافت‌های زیر خود متصل می‌شوند.
- ۴ به تجزیه گلوکز جهت به‌دست آوردن انرژی نیاز دارند.

۶ در تقسیم رشتمان یاخته‌های پوششی عمقی اپیدرم پوست انسان، بعد از اتفاق می‌افتد.

- ۱ اتصال سانترومر کروموزوم‌ها به گروهی از رشته‌های دوک - شروع حرکت سانتریول‌ها به قطبین یاخته
- ۲ کوتاه و ضخیم شدن رشته‌های ماده وراثتی - تجزیه پروتئین اتصالی کروماتیدها در ناحیه سانترومرها
- ۳ دو برابر شدن مقدار دنا هسته‌ای یاخته - تجزیه پوشش شبکه آندوپلاسمی یاخته
- ۴ ردیف شدن کروموزوم‌ها در سطح استوایی هسته - تشکیل دوک تقسیم

۷) کدام گزینه، عبارت زیر را به درستی تکمیل می کند؟

«در یک انسان بالغ، هر توده ای که در اثر تقسیمات تنظیم نشده به وجود می آیند و می تواند»

۱) معمولاً به بافت های مجاور خود آسیب نمی زند - یاخته هایش توسط جریان لنف به نواحی دیگر بدن منتقل شوند.

۲) در انجام عملکرد طبیعی اندام اختلال ایجاد می کند - یاخته هایش در بافت های نواحی دیگر بدن مستقر شوند و رشد کنند.

۳) رشد کمی دارد و در جای خود می ماند - از طریق جریان لنف به سایر اندام های بدن انسان منتقل شود.

۴) توانایی دگرنشینی در بافت های دیگر را دارد - در صورت بروز بعضی تغییرات در ماده ژنتیک یاخته ایجاد شود.

۸) کدام گزینه، عبارت مقابل را به درستی تکمیل می کند؟ «فرایند مرگ برنامه ریزی شده یاخته،»

۱) نمی تواند به دنبال عدم اصلاح آسیب به دناى هسته، در مرحله اول چرخه یاخته ای، رخ دهد.

۲) می تواند به دنبال فعالیت یاخته های کشنده طبیعی در باکتری بیماری زا به راه بیفتد.

۳) می تواند در حذف پرده های میانی انگشتان در دوران جنینی برخی از پرندگان نقش داشته باشد.

۴) نمی تواند تحت تأثیر عوامل خارجی آغاز شود.

۹) کدام گزینه درباره همه رشته های دوک موجود در یک یاخته سرلادی نوعی گیاه نهانخانه، درست است؟

۱) تا صفحه میانی یاخته ادامه می یابند.

۲) به سانترومر کروموزومها متصل می گردند.

۳) در پی حرکت سانتریولها شکل می گیرند.

۴) تولیدشان توسط ژن های موجود در هسته کنترل می شود.

۱۰) کدام گزینه، عبارت زیر را به نادرستی تکمیل می نماید؟

«نقطه واریسی در چرخه یاخته ای»

۱) اول - می تواند باعث به راه افتادن فرایندهای مرگ یاخته ای شود.

۲) سوم - جهت اطمینال از اتصال دقیق فامینه ها به رشته های دوک می باشد.

۳) دوم - در مرحله ای رخ می دهد که نسبت به مراحل قبلی اینترفاز، کوتاه تر است.

۴) آخر - همزمان با مرحله ای است که کروموزومها حداکثر فشردگی را پیدا می کنند.

۱۱) به طور معمول، در فرآیند تقسیم رشتمان یک یاخته زنده اپیدرم پوست انسان، قبل از آغاز شکل گیری رشته های دوک و بعد از تجزیه پروتئین اتصالی در ناحیه سانترومر صورت می گیرد.

۱) نقطه واریسی دوم - جدا شدن کروماتیدهای خواهری از یکدیگر

۲) همانندسازی سانتریولها - ایجاد حداکثر فشردگی در کروموزومها

۳) تجزیه شبکه آندوپلاسمی به قطعات کوچک تر - اتصال رشته های دوک به سانترومرها

۴) تجزیه پوشش هسته - تخریب رشته های دوک

۱۲) در مرحله هایی از تقسیم میتوز هر یاخته که پوشش هسته مشاهده نمی شود، قطعاً
۱) کروموزومها فشرده و ضخیم هستند.

۲) تعداد سانترومرها با تعداد کروماتیدها برابر است.

۳) سانتریولها به قطبین یاخته حرکت می کنند.

۴) رشته های دوک در دو قطب یاخته به سانتریولها متصل هستند.

۱۳) در طی چرخه یاخته ای یک یاخته پوششی دارای هسته با قابلیت تقسیم در بدن انسان، کدام مورد دیرتر اتفاق می افتد؟

۱) حداکثر شدن فشردگی کروموزومها

۲) دو برابر شدن تعداد سانترومرهای یاخته

۳) حرکت سانتریولها به قطبین یاخته

۴) تماس کروموزومها با مایع میان یاخته

۱۴) در تقسیم میتوز، پس از آنکه کروماتیدهای هر کروموزوم، دستخوش حداکثر فشردگی شدند، بلافاصله رخ می دهد.

۱) جدا شدن کروموزومهای همتا

۲) ناپدید شدن پوشش هسته

۳) دور شدن سانتریولها از یکدیگر

۴) کوتاه شدن رشته های دوک

۱۵) کدام عبارت، درباره ی همه ی رشته های دوک موجود در یک سلول مریستمی گیاه توت فرنگی، درست است؟ (با تغییر)

۱) تا صفحه میانی سلول ادامه می یابند.

۲) به سانترومر کروموزومها متصل می گردند.

۳) در پی حرکت جفت سانتریولها شکل می گیرند.

۴) برای حرکت و جدا شدن صحیح کروموزومها ایجاد می شوند.

پاسخنامه تشریحی

۱) ۱ ۲ ۳ ۴ تصویر مرحله آنافاز تقسیم یاخته گیاهی را نشان می دهد. منظور این گزینه تجزیه پروتئین های اتصالی است که در طی آنافاز اتفاق می افتد.

بررسی سایر گزینه ها:

گزینه ۱: در طی آنافاز کروماتیدهای خواهری از یکدیگر جدا می شوند و مضاعف شده نیستند.

گزینه ۳: کروموزم های مضاعف نشده به دو قطب یاخته کشیده می شوند نه دو قطب هسته.

گزینه ۴: DNA یاخته در طی این مرحله تغییری نمی کند.

۲) ۱ ۲ ۳ ۴ نقطه واری متافازی برای اطمینان از این موضوع است که کروموزم ها به صورت دقیق به رشته های دوک متصل و در وسط یاخته آرایش یافته اند. کمی پس از نقطه واری متافازی و در مرحله آنافاز، پروتئین های اتصالی در محل سانترومر کروموزوم ها، تجزیه می شوند.

بررسی سایر گزینه ها:

گزینه ۱: مربوط به ابتدای متافاز است.

گزینه ۲: مربوط به پروفاز است.

گزینه ۴: مربوط به پرومتافاز است.

۳) ۱ ۲ ۳ ۴ این تصویر به مرحله پرومتافاز اشاره می کند. مرحله قبل از آن، پروفاز و بعد از آن متافاز است. موارد الف و ج عبارت را به درستی کامل می کنند. بررسی موارد:

مورد «الف»: در مرحله متافاز، کروماتیدهای خواهری از هم جدا نمی شوند.

مورد «ب»: در مرحله پروفاز می توان قسمت هایی از پوشش هسته را مشاهده کرد.

مورد «ج»: در مرحله متافاز سانتیریول ها از هم دور شده اند و دیگر فاصله بین آن ها در این مرحله بیشتر نمی شود.

مورد «د»: در مرحله متافاز، رشته های دوک توسط سانتیریول ها سازماندهی می شوند.

۴) ۱ ۲ ۳ ۴ ملانوما نوعی تومور بدخیم یاخته های رنگدانه دار پوست است و لیپوما نوعی تومور خوش خیم یاخته های چربی است، که هر دو در پی تقسیمات تنظیم نشده بدن ایجاد شده اند.

۵) ۱ ۲ ۳ ۴ در شیمی درمانی، استفاده از داروها باعث سرکوب تقسیم همه یاخته (های دارای توانایی تقسیم) در بدن می شود (یاخته های مغز استخوان و پوشش دستگاه گوارشی و نه فقط یاخته های سرطانی). همه یاخته های بدن انسان، برای کسب انرژی به تجزیه گلوکز نیاز دارند.

۶) ۱ ۲ ۳ ۴ در تقسیم رشتان بدن انسان، ابتدا در مرحله پروفاز، سانتیریول ها به دو قطب یاخته شروع به حرکت می کنند و بین آن ها دوک تقسیم شکل می گیرد. سپس در مرحله پرومتافاز، سانترومر کروموزوم ها به گروهی از رشته های دوک متصل می شوند.

بررسی سایر گزینه ها:

گزینه ۲: رشته های کروماتین در مرحله پروفاز، فشرده، ضخیم و کوتاه تر می شوند؛ در حالی که پروتئین اتصالی کروماتیدها در ناحیه سانترومر در مرحله آنافاز تجزیه می شود.

گزینه ۳: مقدار دنا، طی همانندسازی و در مرحله S دو برابر می شود، که قبل از همه مراحل میتوز روی می دهد.

گزینه ۴: در انسان کروموزوم ها در مرحله متافاز در سطح استوایی یاخته ردیف می شوند (نه هسته). در این مرحله پوشش هسته از بین رفته است.

۷) ۱ ۲ ۳ ۴ تومور بدخیم یا سرطان در اثر بروز بعضی تغییرات در ماده ژنتیک ایجاد می شوند.

۸) ۱ ۲ ۳ ۴ بررسی گزینه ها:

گزینه ۱: نقطه واری G_1 یاخته را از سلامت دنا مطمئن می کند. اگر دنا آسیب دیده باشد و اصلاح نشود، فرایندهای مرگ یاخته ای به راه می افتد.

گزینه ۲: یاخته کشنده طبیعی به باکتری بیماری زا حمله نمی کند؛ بلکه به یاخته آلوده به ویروس یا یاخته سرطانی حمله می کند.

گزینه ۳: حذف پرده های میانی انگشتان در دوران جنینی برخی از پرندگان در اثر مرگ برنامه ریزی شده رخ می دهد.

گزینه ۴: مثل حذف یاخته های پیر یا آسیب دیده؛ مانند آنچه در آفتاب سوختگی دیده می شود.

۹) ۱ ۲ ۳ ۴ بررسی گزینه ها:

رد گزینه های (۱) و (۲): گروهی از رشته های دوک تا صفحه میانی یاخته کشیده می شوند. همچنین عده ای از رشته های دوک به سانترومر کروموزوم ها متصل می شوند.

گزینه (۳): در یاخته های گیاهی سانتیریول وجود ندارد.

گزینه (۴): رشته های دوک پروتئینی هستند و تولیدشان توسط ژن های موجود در هسته کنترل می شود.

۱۰) ۱ ۲ ۳ ۴ ۱. در نقطه واری اول یا G_1 ، یاخته از سلامت دنا مطمئن می شود. اگر دنا آسیب دیده باشد و اصلاح نشود، فرایندهای مرگ یاخته ای به راه می افتد.

۲. نقطه واری سوم یا متافازی زمانی اتفاق می افتد که کروموزوم ها کوتاه و فشرده شده اند و دیگر به صورت فامینه یا کروماتین نیستند.

۳. نقطه واری دوم در مرحله G_2 رخ می دهد. این مرحله از بقیه مراحل اینترفاز کوتاه تر است.

۴. نقطه واری آخر همان نقطه واری متافازی است. که در آن کروموزوم ها حداکثر فشرده گی را دارند.

۱۱) ۱ ۲ ۳ ۴ ۱. نقطه واری دوم در مرحله G_2 قرار دارد که قبل از آغاز تشکیل رشته های دوک یعنی قبل از مرحله پروفاز است. هم چنین جدا شدن کروماتیدهای خواهری در مرحله آنافاز و پس از تجزیه پروتئین اتصالی در ناحیه سانترومر صورت می گیرد.

۲. همانندسازی سانتیریول در مرحله اینترفاز یعنی قبل از پروفاز اتفاق می افتد. اما ایجاد حداکثر فشرده گی کروموزوم ها مربوط به متافاز است یعنی قبل از آنافاز.

۳. تجزیه شبکه آندوپلاسمی به قطعات کوچکتر در مرحله پرومتافاز انجام می شود یعنی پس از شکل گیری رشته های دوک. اتصال رشته های دوک به سانترومر در مرحله پرومتافاز صورت می

گیرد یعنی قبل از تجزیه پروتئین های اتصال در ناحیه سانترومر.

۴. تجزیه پوشش هسته در مرحله پرومتافاز و تخریب رشته های دوک در مرحله تلوفاز انجام می شود.

در مراحل پرومتافاز، متافاز و آنافاز پوشش هسته مشاهده نمی شود. (۱) (۲) (۳) (۴) (۱۲)

۱. در هر سه مرحله، کروموزوم ها فشرده و ضخیم هستند.

۲. در پرومتافاز و متافاز، تعداد سانترومر نصف تعداد کروماتیدها است.

۳. حرکت سانتیریول ها مربوط به مرحله پروفاز است. در مراحل بعدی سانتیریول ها مستقر شده و در قطبین قرار دارند. از طرف دیگر سانتیریول در یاخته های جانوری وجود دارد.

۴. سانتیریول در یاخته های جانوری وجود دارد.

در بعضی از یاخته ها در دو قطب یاخته، سانتیریول دیده نمی شود. (برای مثال در یاخته گیاهی در نهاندانگان و بازدانگان)

(۱) (۲) (۳) (۴) (۱۳) ترتیب انجام موارد مطرح شده چنین است.

۱. حرکت سانتیریول ها به قطبین یاخته در مرحله پروفاز ۲. تماس کروموزوم ها با مایع میان یاخته ای در مرحله پرومتافاز ۳. حداکثر شدن فشردگی کروموزوم ها در مرحله متافاز ۴. دو برابر شدن تعداد سانترومرهای یاخته در مرحله آنافاز زیرا یک کروموزوم دو کروماتیدی با یک سانترومر تبدیل شود به دو کروموزوم تک کروماتیدی.

(۱) (۲) (۳) (۴) (۱۴) حداکثر فشردگی کروماتیدها مربوط به مرحله متافاز است. پس از این مرحله، کوتاه شدن رشته های دوک در آنافاز رخ می دهد.

(۱) (۲) (۳) (۴) (۱۵) لوله های پروتئینی در حین تقسیم سلولی برای حرکت و جداسازی صحیح کروموزوم ها ایجاد می شوند و این اتفاق هم در سلول های جانوری و هم در سلول های

گیاهی اتفاق می افتد.

بررسی سایر گزینه ها:

گزینه ۱ و ۲: رشته های دوک انواع مختلفی دارند و الزاما همه ی آن ها در صفحه ی میانی به سانترومرها متصل نیستند. برخی از رشته های دوک کوتاه تر هستند و تا میانه سلول کشیده شده اند.

گزینه ۳: گیاه توت فرنگی، از گیاهان نهان دانه است و سانتیریول ندارد.

مرکز مشاوره تحصیلی

علیرضا افشار

مبحث: گفتار ۳ فصل ۶ زیست یازدهم

سری: شماره ۱

زمان: ۱۰ دقیقه

۱) کدام گزینه، جمله زیر را به طور صحیح تکمیل می کند؟

«در نوعی تقسیم هسته در یاخته ها که اشتباه در آن از اهمیت بیشتری برخوردار است، قطعاً در»

- ۱) مرحله یا مراحل از آن کروموزوم ها مضاعف و فشرده می شوند.
- ۲) هر متافاز، رشته های دوک به سانترومر کروموزوم های درون هسته متصل می باشد.
- ۳) طی هر آنافاز، تعداد کروماتیدهای سلول نسبت به متافاز قبل از آن تغییر نمی کند.
- ۴) زمان شروع تشکیل رشته های دوک تقسیم، به هر کروموزوم دو رشته دوک متصل می شود.

۲) کدام گزینه، عبارت زیر را به درستی تکمیل می کند؟

«در انسان، در هر مرحله ای از تقسیم کاستمان که کروموزوم ها به طور حتم»

- ۱) در سطح استوایی یاخته ردیف می شوند- به سانترومر هر کروموزوم یک رشته دوک متصل است.
- ۲) شروع به حرکت به سمت قطبین یاخته می کنند- تعداد کروموزوم های موجود در یاخته دو برابر می شود.
- ۳) با حرکت خود، باعث از بین رفتن تترادهای می شوند- در هر قطب یاخته، کروموزوم های فاقد کروماتیدهای خواهری دیده می شود.
- ۴) تک کروماتیدی، به صورت کروماتین در می آیند- پوشش هسته در اطراف یک مجموعه کروموزومی تشکیل می شود.

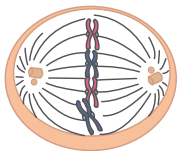
۳) در رابطه با تقسیم میوز نوعی یاخته دولا د جانوری، کدام گزینه به درستی بیان شد است؟

- ۱) در طی مرحله تلوفاز میوز ۲ برخلاف مرحله متافاز میوز ۱، کروموزوم ها حداکثر فشرده گی را دارند.
- ۲) در مرحله آنافاز میوز ۱ برخلاف مرحله آنافاز میوز ۲، کروماتیدهای خواهری از یکدیگر جدا می شوند.
- ۳) در مرحله متافاز میوز ۲ همانند مرحله متافاز میوز ۱، یک جفت سانتیریول در هر قطب یاخته مشاهده می شود.
- ۴) در مرحله آنافاز میوز ۲ همانند مرحله آنافاز میوز ۱، نوعی مولکول پروتئینی اتصالی در محل سانترومر کروموزوم ها تجزیه می شود.

۴) در پایان مرحله تمام انواع تقسیم ها

- ۱) متافاز - کروماتیدها، بیشترین فشرده گی را پیدا کرده اند.
- ۲) آنافاز - تجزیه پروتئین اتصالی در ناحیه سانترومر صورت می گیرد.
- ۳) تلوفاز - تقسیم میان یاخته انجام می شود.
- ۴) پروفاز - کروموزوم های همتا از طول در کنار هم قرار می گیرند.

۵) شکل مقابل می تواند مربوط به کدام مرحله باشد؟



- ۱) سلول جانوری در مرحله متافاز میوز I
- ۲) سلول گیاهی در مرحله آنافاز II
- ۳) سلول گیاهی در مرحله پروفاز II
- ۴) سلول جانوری در مرحله متافاز میوز II

۶) کدام گزینه در مورد احتمال به دنیا آمدن فرزند مبتلا به نشانگان داون نادرست است؟

- ۱) نسبت احتمال تولد فرزند مبتلا به بیماری داون در یک مادر ۴۵ ساله به مادر ۴۰ ساله حدود سه برابر است.
- ۲) نسبت احتمال تولد فرزند مبتلا به بیماری داون در یک مادر ۵۰ ساله کمتر از سه برابر در یک مادر ۴۵ ساله است.
- ۳) احتمال خطا در مرحله آنافاز میتوز مادر ۵۰ ساله نسبت به مادر ۴۵ ساله بیشتر است.
- ۴) احتمال بروز خطای میوزی در مادر ۴۵ ساله نسبت به مادر ۴۰ ساله بیشتر است.

۷) گیاهی به طور معمول و طبیعی گامت های ۲n کروموزومی تولید می کند، این گیاه قطعاً (با تغییر)

- ۱) نمی تواند گامت های ۴n کروموزومی ایجاد نماید.
- ۲) از سلول تخم ۲n کروموزومی ایجاد شده است.
- ۳) نمی تواند والدین ۲n کروموزومی داشته باشد.
- ۴) از یک زیگوت ۴n کروموزومی به وجود آمده است.

۸ طی تقسیم میوز، در مرحله ی
۱) تولفاز II، پس از همانندسازی سانتیریول ها، پوشش هسته تشکیل می شود.

۲) پروفاز I، پس از ناپدید شدن کامل پوشش هسته، تشکیل رشته های دوک آغاز می شود.

۳) متافاز I، پس از قرار گرفتن کروموزوم ها در میانه ی سلول، تترادها تشکیل می شود.

۴) آنافاز II، پس از جدایی کروماتیدهای خواهری، کوتاه شدن رشته های دوک ادامه می یابد.

۹ چند مورد جمله مقابل را به درستی تکمیل می کند؟ " در انسان گامت های حاصل از سلولی که دچار پدیده جدا نشدن کروموزومی در شده است، اگر با گامت سالم لقاح پیدا کنند، تخم معیوب تولید می کنند."

الف) ۵۰٪ میوز II (ب) ۵۰٪ میوز I

ج) ۱۰۰٪ میوز I (د) ۱۰۰٪ میوز II

۱) ۱ ۲) ۲ ۳) ۳ ۴) ۴

۱۰ در کدام مراحل چرخه سلولی، هر کروموزوم، دو کروماتید و یک سانترومر دارد؟

۱) G_1 و G_2 ۲) تولفاز میوز I و پروفاز میوز II ۳) S و تولفاز میوز II ۴) متافاز و تولفاز میتوز

مرکز مشاوره تحصیلی علیرضا افشار

پاسخنامه تشریحی

۱) ۱ ۲ ۳ ۴ صورت سؤال به تقسیم میوز اشاره دارد.

در حالت طبیعی، در مراحل آنافاز میوز ۱ و ۲، تعداد کروماتیدهای یاخته ثابت است و تغییر نمی‌کند. بررسی گزینه‌ها:

گزینه ۱) دقت کنید که همانندسازی ماده ژنتیک هسته‌ای در طی تقسیم میوز صورت نمی‌گیرد.

گزینه ۲) دقت کنید در مراحل متافاز ۱ و ۲، میوز هسته در سلول مشاهده نمی‌شود.

۴) در مرحله پروفاز میوز ۱، به هر کروموزوم یک رشته دوک متصل می‌شود.

۲) ۱ ۲ ۳ ۴ در انسان در مرحله تلوفاز میوز ۲ کروموزوم‌های تک کروماتییدی به صورت کروماتین درمی‌آیند و در هر قطب یاخته پوشش هسته در اطراف یک مجموعه کروموزومی تشکیل می‌شود.

بررسی سایر گزینه‌ها:

گزینه ۱: در مرحله متافاز میوز ۱ و ۲ کروموزوم‌ها در استوای یاخته ردیف می‌شوند، در مرحله متافاز میوز ۱ به هر کروموزوم یک رشته دوک، اما در مرحله متافاز میوز ۲ به هر کروموزوم دو رشته دوک متصل است.

گزینه ۲: دقت کنید برای آنافاز میوز ۱ صادق نیست.

گزینه ۳: تترادها در مرحله پروفاز میوز ۱ تشکیل و در مرحله آنافاز میوز ۱ با حرکت کروموزوم‌ها به سمت قطبین یاخته از بین می‌روند، در مرحله آنافاز میوز ۱ کروموزوم‌ها دو کروماتییدی هستند.

۳) ۱ ۲ ۳ ۴ در مرحله متافاز میوز ۱ و ۲ یک یاخته جانوری در هر قطب یاخته، یک جفت سانتیریول مشاهده می‌شود.

۴) ۱ ۲ ۳ ۴ در متافاز، کروموزوم‌ها که بیشترین فشردگی را پیدا کرده‌اند در وسط یاخته ردیف می‌شوند.

بررسی سایر گزینه‌ها:

گزینه ۲: در آنافاز I، کروموزوم‌های هم‌ساخت (نه کروماتیدها) از هم جدا می‌شوند، در نتیجه در این مرحله پروتئین اتصال در ناحیه سانترومر تجزیه نمی‌شود.

گزینه ۳: معمولاً (نه همیشه) تقسیم میان یاخته‌ای انجام می‌شود.

گزینه ۴: فقط در پروفاز I میوز، ساختار تتراد تشکیل می‌شود.

۵) ۱ ۲ ۳ ۴ شکل مربوط به مرحله متافاز است. زیرا کروموزوم‌ها در وسط یاخته ردیف شده‌اند.

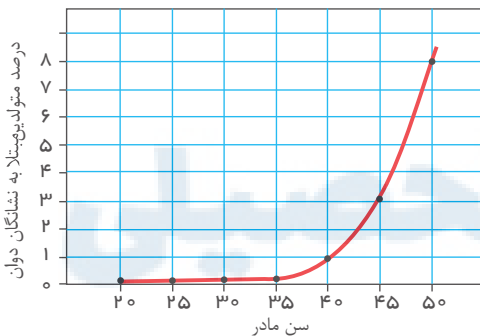
۶) ۱ ۲ ۳ ۴

۱. احتمال تولد فرزند مبتلا به داون در یک مادر ۴۵ ساله (سه درصد) حدود سه برابر بیشتر از یک مادر ۴۰ ساله (یک درصد) است.

۲. احتمال تولد فرزند مبتلا به داون در یک مادر ۵۰ ساله هشت درصد و در مادر ۴۵ ساله سه درصد است که کمتر از ۳ برابر می‌شود.

۳. نمودار در رابطه با خطای میوزی در مادران که سبب ایجاد گامت‌های غیر طبیعی و تولد فرزند داون می‌شود کشیده شده است. نه خطای میتوزی

۴. طبق نمودار احتمال خطای میوزی در مادر ۴۵ سال بیشتر از مادر ۴۰ ساله است.



۷) ۱ ۲ ۳ ۴ گیاهی که به طور معمول گامت‌های ۲n کروموزومی تولید کند یعنی تتراپلوئید (4n) می‌باشد و خود آن گیاه به طور معمول باید حاصل تکثیر یک یاخته تخم ۴n کروموزومی بوده باشد.

بررسی سایر گزینه‌ها:

گزینه ۱): در گیاهان ممکن است به دلیل جدا نشدن کروموزوم‌ها در میوز عدد کروموزومی گامت با والد یکسان باشد.

گزینه ۲): گیاهی که تتراپلوئید است نمی‌تواند حاصل تکثیر یاخته تخم دیپلوئید باشد زیرا در این صورت باید جدا نشدن کروموزوم روی داده باشد که در صورت سؤال تأکید شده است که به طور معمول و طبیعی تقسیم صورت گرفته شده است.

گزینه ۳): یک گیاه تتراپلوئید می‌تواند از والدین دیپلوئید به علت جدا نشدن کروموزوم‌ها ایجاد شده باشد.

۸) ۱ ۲ ۳ ۴ در آنافاز میوز II با شروع کوتاه شدن رشته‌های دوک، کروماتیدهای خواهری از هم جدا می‌شوند و پس از آن نیز با ادامه‌ی کوتاه شدن رشته‌های دوک، کروماتیدها به سوی قطبین سلول کشیده می‌شوند.

بررسی موارد در سایر گزینه‌ها:

گزینه ۱): پس از تشکیل پوشش هسته و پایان میوز I، در فاصله‌ی بین دو تقسیم میوز، سانتیریول‌ها مضاعف می‌شوند.

گزینه ۲): تشکیل رشته‌های دوک همزمان با ناپدید شدن پوشش هسته است.

گزینه ۳): تترادها پس از تشکیل، به میانه‌ی سلول هدایت می‌شوند.

۹) ۱ ۲ ۳ ۴ الف و ج درست هستند.

از جدا نشدن کروموزومی در میوز I چهار گامت از دو نوع مختلف حاصل می شود که هیچ یک از آن ها طبیعی نیستند و لقاح آن ها با گامت طبیعی منجر به ایجاد تخم معیوب خواهد شد. از جدا نشدن کروموزومی در میوز II، چهار گامت از سه نوع مختلف حاصل می شود. دو مورد (۵۰٪) از این گامت ها سالم نیستند و در لقاح با گامت طبیعی، تخم معیوب ایجاد می کنند. کروموزوم، همواره یک سانترومر دارد، در G_2 و پروفاز میوز II، ۲ کروماتید ولی در G_1 ، تلوفاز میوز II و تلوفاز میتوز، یک کروماتید دارد. ۱ ۲ ۳ ۴ ۱۰



مرکز مشاوره تحصیلی علیرضا افشار



مبحث : گفتار ۳ فصل ۶ زیست یازدهم

سری: شماره ۳

زمان : ۱۰ دقیقه

- ۱) یاخته پیکری فردی فقط مبتلا به نشانگان داون که در مرحله G_1 چرخه یاخته ای می باشد؛ نمی تواند
 ۱) فاقد کروموزوم های شماره ۲۳ باشد.
 ۲) بیشتر از سه کروموزوم شماره ۲۱ داشته باشد.
 ۳) بیشتر از ۴۷ کروموزوم داشته باشد.
 ۴) دارای هسته ای با دو کروموزوم Y باشد.

۲) چند جمله از جملات زیر در مورد تقسیم میوز یک سلول دپلوئید ($2n$) نادرست است؟
 الف) تعداد کروموزومها در پایان مرحله آنافاز I ، دو برابر می شود.
 ب) همانندسازی DNA در آغاز پروفاز I انجام می شود.
 ج) پس از تقسیم هسته، تقسیم سیتوپلاسم با ایجاد فرورفتگی در وسط آن شروع می شود.
 د) کروموزومها در مرحله تلوفاز I ، تک کروماتیدی هستند.

- ۱) ۲ ۲) ۱ ۳) ۴ ۴) ۳

۳) کدام نادرست است؟

«در یک سلول جانوری در مرحله»

- ۱) تلوفاز میوز II دوک تقسیم از بین می رود.
 ۲) آنافاز میوز I تعداد کروموزومهای سلول دو برابر می شوند.
 ۳) پروفاز میوز I کروموزومهای همتا از طول در کنار هم قرار می گیرند.
 ۴) متافاز میوز II کروموزومهای مضاعف شده در سطح استوایی سلول ردیف می شوند.
 ۴) دختر مبتلا به نشانگان داون یک مرد سالم دارد.

- ۱) همانند - یک جفت کروموزوم جنسی در یاخته های پیکری هسته دار خود
 ۲) برخلاف - قطعاً مادری مبتلا به نشانگان داون
 ۳) همانند - قطعاً در هر گامت خود ۲۴ کروموزوم
 ۴) برخلاف - در یاخته های پیکری هسته دار خود یک مجموعه کروموزومی بیشتر
 ۵) در پسر بچه ای یک ساله و مبتلا به نشانگان داون،
 ۱) پدیده ای با هم ماندن کروموزومها رخ داده است.
 ۲) همه ی سلول های پیکری دارای کروموزوم ۲۱ هستند.
 ۳) سلولی با بیش از یک کروموزوم X نیز یافت می شود.
 ۴) همه ی سلولها دارای کروموزوم Y نیز هستند.

۶) زانی که سن بالای ۳۵ سال دارند، باید نسبت به تهیه کاریوتیپ از قبل از آگاه شوند.

- ۱) خود - بارداری ۲) تخمک - افزایش ناگهانی LH ۳) خود - زایمان ۴) جنین - زایمان

۷) هرگاه هنگام تقسیم، در هسته یک سلول، تعدادی ساختار چهار کروماتیدی ایجاد شود، به طور قطع می توان گفت که (با تغییر)

- ۱) این سلول، دو تقسیم متوالی را انجام خواهد داد.
 ۲) از این تقسیم، چهار گامت تولید خواهد شد.
 ۳) این تقسیم در تولید مثل جنسی رخ نمی دهد.
 ۴) تعداد کروموزومهای حاصل این تقسیم در هر سلول، زوج می باشد.

۸) شکل مقابل را در سلول اولیه نشان می دهد.

- ۱) آنافاز میوز I، $2n = 2$
 ۲) آنافاز میوز II، $2n = 4$
 ۳) آنافاز میتوز، $2n = 4$
 ۴) آنافاز میتوز، $2n = 2$



۹ در مورد تتراد کدام جمله صحیح است؟

- ۱ یک کروموزوم که چهار سانترومر دارد.
۲ دو جفت کروموزوم همتا و دو کروماتیدی که از طول، مجاور و متصل هستند.
۳ چهار کروموزوم همتا که مجاور هم قرار دارند.
۴ یک جفت کروموزوم همتا و مضاعف که از طول، مجاور و متصل هستند.

۱۰ کدام عبارت نادرست است؟ (با تغییر)

- ۱ هر سانتیریول از ۲۷ لوله کوچک پروتئینی تشکیل یافته است.
۲ هر سلول جانوری در مرحلهٔ متافاز میوز I، دو سانتیریول دارد.
۳ رشته‌های دوک تقسیم، از لوله کوچک پروتئینی ساخته شده‌اند.
۴ هر سلول جانوری در مرحلهٔ پروفاز میتوز، دارای دو جفت سانتیریول است.



مرکز مشاوره تحصیلی

علیرضا افشار

پاسخنامه تشریحی

۱) افرادی که فقط مبتلا به نشانگان داون هستند، در یاخته‌های پیکری هسته‌دار خود، در هر هسته ۴۷ کروموزوم دارند. هسته یاخته‌های پیکری فرد مبتلا به سندروم داون اگر زن باشد دو کروموزوم X و اگر مرد باشد یک کروموزوم X و یک کروموزوم Y دارند.

بررسی سایر گزینه‌ها:

گزینه ۱) گویچه‌های قرمز بالغ فاقد کروموزوم می‌باشند.

گزینه ۲ و ۳) یاخته‌های ماهیچه اسکلتی چند هسته‌ای می‌باشند.

۲) بررسی موارد:

جمله الف): نادرست، در مرحله آنافاز I ، فقط کروموزوم‌های هم‌تا از هم جدا می‌شوند و تعداد کروموزوم تغییری نمی‌کند.

جمله ب): نادرست، چون همانندسازی DNA در اینترفاز صورت می‌گیرد، نه در آغاز پروفاز I .

جمله ج): نادرست، در گیاهان بدین صورت نیست، لذا جمله بچ، هم نادرست است.

جمله د): نادرست، در تلوفاز I ، کروموزوم‌ها هنوز دو کروماتیدی هستند.

۳) در آنافاز میوز I کروموزوم‌های هم‌تا از یکدیگر جدا می‌شوند، تعداد کروموزوم‌ها در مرحله آنافاز میوز I با تعداد کروموزوم‌های سلول در ابتدای تقسیم برابر است.

۴) بررسی گزینه‌ها:

۱. دختر مبتلا به نشانگان داون، در هر یاخته پیکری هسته‌دار خود دارای دو کروموزوم جنسی (دو عدد x) و یک مرد سالم هم در هر یاخته پیکری خود دو کروموزوم جنسی (x و y) دارد.

۲. دختر مبتلا به نشانگان می‌تواند از یک مادر سالم به دنیا بیاید. علت این پدیده، جدا نشدن کروموزوم‌ها به دلیل سن بالا، پرتوهای مضر، مصرف الکل و دخانیات و ... می‌باشد. هم‌چنین پدیده جدا نشدن کروموزوم‌ها می‌تواند در مردان اتفاق بیفتد.

۳. یک مرد سالم، در هر گامت خود در طی یک میوز طبیعی، ۲۳ کروموزوم دارد نه ۲۴ کروموزوم.

۴. دختر مبتلا به نشانگان داون، یک کروموزوم غیرجنسی (شماره ۲۱) بیشتر دارد نه یک مجموعه کروموزومی.

۵) در پسر مبتلا به نشانگان داون پدیده‌ی با هم ماندن کروموزوم‌ها رخ نداده است بلکه پدیده‌ی با هم ماندن کروموزوم‌ها در مراحل گامت‌سازی در والدین این فرد رخ داده است (رد گزینه‌ی ۱).

در بدن انسان، سلول‌هایی مانند گلبول‌های قرمز بالغ فاقد هسته‌اند و در نتیجه این سلول‌ها نه کروموزوم غیر جنسی و نه کروموزوم جنسی (x, y) دارند (رد گزینه‌های ۲ و ۴). هم‌چنین سلول‌هایی مانند ماهیچه‌های اسکلتی دارای چندین هسته‌اند پس از هم‌ی کروموزوم‌ها چندین نسخه دارند پس در بدن یک پسر بچه می‌توان سلولی با بیش از یک کروموزوم X را یافت (تأیید گزینه‌ی ۳).

۶) به زمانی که سنین بالای ۳۵ سال دارند توصیه می‌شود که قبل از زایمان به تهیه کاربوتیپ از جنین اقدام نمایند.

۷) منظور از ساختار چهار کروماتیدی، تتراد است که در میوز دیده می‌شود تقسیم میوز نیز دو تقسیم متوالی است البته توجه کنید که این گزینه به طور قطع درست نیست چون برای مثال، زمانی که اسپرم با اووسیت ثانویه لقاح پیدا نکند دومین تقسیم میوز اتفاق نمی‌افتد. اما مشخص است که منظور طراح محترم سؤال گزینه‌ی ۱) است.

از میوز یک سلول ممکن است فقط یک گامت تولید شود (مانند سلول زاینده‌ی تخمک). از طرفی از میوز یک سلول ممکن است اصلاً گامت تولید نشود و به جای آن هاگ تشکیل شود (مثلاً در گیاهان و قارچ‌ها) (رد گزینه‌ی ۲). تقسیم میوز در تولید مثل جنسی رخ می‌دهد و حاصل آن می‌تواند سلولی با کروموزوم فرد باشد مانند اسپرم در انسان که $n = ۲۳$ می‌باشد. (رد گزینه‌ی ۳ و ۴)

۸) کروموزوم‌های شکل با هم هم‌تا نیستند، پس شکل مربوط به آنافاز میوز II است نه آنافاز میوز I . تعداد کروموزوم‌ها نیز $2n = ۴$ می‌باشد. (تأیید گزینه‌ی ۲ و رد گزینه ۱)

شکل نمی‌تواند مربوط به آنافاز میتوز سلول $4n = ۴$ باشد چون در آن صورت باید در سلول n کروموزوم تک کروماتید داشته باشیم (رد گزینه ۳).

شکل نمی‌تواند مربوط به آنافاز میتوز سلول $2n = ۲$ باشد چون در شکل هم‌تا مشاهده نمی‌شود (رد گزینه ۴).

۹) تتراد، شامل ۲ کروموزوم هم‌تا است که از طول کنار هم قرار می‌گیرند.

۱۰) در اینترفاز، سانتیریول‌ها دو برابر می‌شوند، بنابراین در پروفاز یا متافاز I ، سلول دارای دو جفت سانتیریول است. (۴ عدد سانتیریول)

مبحث: گفتار ۱ فصل ۷ زیست یازدهم

سری: شماره ۱

زمان: ۱۵ دقیقه

۱ در غدد جنسی یک فرد بالغ، یاخته‌هایی که در طی فرآیند زامه‌زایی (اسپرم‌زایی) از هم جدا می‌شوند، چه مشخصه‌ای دارند؟

- ۱ با تقسیم خود، یاخته‌های تک‌لاد (هپلوئید) را به وجود می‌آورند. ۲ برای هر صفت مستقل از جنس، یک دگره (الل) دارند.
۳ ابتدا به کمک بخشی از ساختار خود جابه‌جا می‌گردند. ۴ با ترشحات خود تمایز زامه (اسپرم)ها را باعث می‌شوند.

۲ کدام عبارت، درباره‌ی غددی در دستگاه تولید مثل انسان درست است که ترشحات آن‌ها به همراه اسپرم‌ها به بیرون از بدن منتقل می‌شود؟

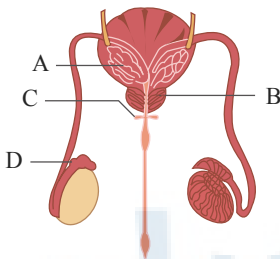
- ۱ همه‌ی غده‌هایی که در ترشح مواد قلیایی مؤثر هستند. در پشت مثانه قرار دارند.
۲ تغذیه‌ی اسپرم‌های بدن یک مرد بالغ، تنها توسط غدد وزیکول سمینال تأمین نمی‌شود.
۳ غده‌ای که فروکتوز را به مسیر خروج اسپرم وارد می‌کند، همانند غده‌ای که به اندازه‌ی گردو است، به میزراه متصل نمی‌شود.
۴ غده‌ای که حالت اسفنجی دارد، برخلاف غده‌ای که به اندازه‌ی نخود فرنگی است؛ انرژی لازم برای فعالیت اسپرم را فراهم می‌کند.

۳ در بدن یک مرد بالغ، به دنبال ورود اسپرم‌ها به به طور حتم

- ۱ میزراه - ترشحات قلیایی و شیرینی رنگ توسط غددی به اندازه‌ی گردو به مجرا اضافه می‌شود.
۲ غدد وزیکول سمینال - انرژی لازم برای فعالیت خود را از ترشحات این غدد به دست می‌آورند.
۳ غده‌ی پروستات - مایعی به آن‌ها افزوده می‌شود که در حرکت اسپرم به سمت گامت ماده نقش دارد.
۴ اپیدیدیم - حجم زیادی از سیتوپلاسم خود را از دست داده و سر، دم و تنه‌ی آن‌ها به وجود می‌آید.

۴ با توجه به شکل مقابل، کدام گزینه نادرست است؟

- ۱ بخش A، قند لازم را برای تولید انرژی (ATP) مورد نیاز اسپرم در راه رسیدن به تخمک ترشح می‌کند.
۲ در بخش B، محل اتصال دو مجرای اسپرم‌بر به مجرای میزراه دیده می‌شود.
۳ بخش C، ترشحات قلیایی و روان‌کننده را به مجرای میزراه ترشح می‌کند.
۴ اسپرم‌ها بلافاصله بعد از ورود به بخش D، قابلیت حرکت را به دست می‌آورند.



۵ هر هورمون جنسی که در بدن یک مرد سالم و بالغ تولید می‌شود،

- ۱ توسط غددی تولید می‌شود که پایین‌ترین غدد درون ریز بدن مردان محسوب می‌شوند.
۲ تحت تأثیر ترشح هورمون‌های LH و FSH از غده‌ی هیپوفیز تنظیم می‌شود.
۳ در بروز صفات ثانویه‌ی جنسی در مردان مانند بم شدن صدا مؤثر می‌باشد.
۴ توسط یاخته‌های دولاد (دیپلوئید) بدون قدرت تقسیم میوز تولید می‌شوند.

۶ همه‌ی موجود در دیواره‌ی لوله‌های اسپرم‌ساز یک فرد سالم و بالغ،

- ۱ اسپرماتیدهای - به هم چسبیده و فاقد تازک می‌باشند. ۲ یاخته‌های دیپلوئید - می‌توانند با تقسیم خود اسپرماتوسیت تولید کنند.
۳ اسپرماتوسیت‌های - دارای کروموزوم‌هایی با دو نیمه‌ی مشابه هم هستند. ۴ یاخته‌های هپلوئید - در پی جدا شدن کروماتیدهای خواهری پدید می‌آیند.

۷ کدام گزینه در ارتباط با مسیر عبور اسپرم پس از تولید در بیضه‌های یک مرد سالم و بالغ صحیح نمی‌باشد؟

- ۱ اسپرم‌ها علاوه بر استفاده از نیروی حرکتی تازک، از ترشحات اندام‌های ضمیمه نیز برای انتقال به خارج بدن کمک می‌گیرند.
۲ هر مجرای اسپرم‌بر، پس از عبور از روی مثانه، با گذشتن از بین دو میزنای، اسپرم‌ها را وارد غده‌ی پروستات می‌کنند.
۳ اسپرم‌ها نمی‌توانند در تمام طول مسیر خود، برای تأمین انرژی، از ترشحات غدد وزیکول سمینال استفاده کنند.
۴ اسپرم‌ها در تمام طول مسیر خود، با مایعی قلیایی که مسیر عبور اسپرم‌ها را خنثی می‌کند، در تماس می‌باشد.

- ۸ چند مورد از عبارات زیر درباره هر یاخته حاصل از تقسیم اسپرماتوگونی صحیح است؟
 الف) به طور غیرمستقیم، تحت تأثیر هورمون های هیپوفیزی، تتراد تشکیل می دهند.
 ب) دارای کروموزوم هایی است که زن یا زن های مسئول تعیین جنسیت را دارد.
 ج) توانایی انجام نوعی تقسیم بدون کاهش عدد کروموزومی را دارند.
 د) درون هسته خود دارای ۲۲ کروموزوم غیرجنسی می باشد.

۴ ۴

۳ ۳

۲ ۲

۱ ۱

- ۹ در بدن یک مرد سالم و بالغ، هورمون مترشحه از هیپوتالاموس همانند هورمون مترشحه از هیپوفیز پیشین، می تواند مؤثر باشد.

۱) یاخته ترشعی عصبی - FSH - بر ترشح تستوسترون از یاخته های بینابینی

۲) یاخته درون ریز غیرعصبی - LH - بر ترشح تستوسترون از یاخته های بینابینی

۳) یاخته ترشعی عصبی - FSH - به نحوی بر فعالیت یاخته های تغذیه کننده یاخته های جنسی

۴) یاخته درون ریز غیرعصبی - LH - به صورت مستقیم یا غیرمستقیم، بر رشد ماهیچه ها و استخوان ها

- ۱۰ در فرایند اسپرمزایی در یک مرد سالم و بالغ، هر یاخته
 ۱) دارای کروموزوم های غیرمضاعف در هسته خود و تاژک به ای دیدم وارد شده و توانایی حرکت پیدا می کند.
 ۲) تولید شده در پی تقسیم میتوز اسپرماتوگونی، توانایی ایجاد دوک تقسیم در سیتوپلاسم خود را دارد.
 ۳) هاپلوئید موجود در دیواره لوله اسپرم ساز، در تماس مستقیم با ترشحات غدد برون ریز کمکی قرار می گیرد.
 ۴) موجود در مرحله پروفاز ۱ میوز، در تولید اسپرماتوسیت اولیه نقش دارد.

- ۱۱ به طور معمول در یک فرد بالغ، هر یاخته سالم موجود در لوله های اسپرم ساز،
 ۱) دولا - تقسیم میوز را انجام می دهد.
 ۲) دولا - در درون حفره شکمی قرار گرفته است.
 ۳) تک لاد - زن های مربوط به آنزیم های سر اسپرم را دارا می باشد.
 ۴) تک لاد - که دارای تاژک می باشد، با حرکت خود به درون اپی دیدم وارد می شود.

- ۱۲ در یک مرد بالغ، یکی از هورمون های مترشحه از هیپوفیز پیشین می تواند، (با تغییر)
 ۱) متحرک شدن اسپرم در محل باعث بلوغ اسپرم ها در محل تولید خود شود.
 ۲) با تأثیر مستقیم بر لوله های اسپرم ساز، تولید تستوسترون را افزایش دهد.
 ۳) باعث آزادسازی آنزیم های درون وزیکولی موجود در سر سلول های جنسی شود.
 ۴) در میوز بعضی از سلول های دیواره لوله های اسپرم ساز نقش داشته باشد.

- ۱۳ کدام عبارت در رابطه با دستگاه تولیدمثلی مرد سالم و بالغ، به نادرستی بیان شده است؟
 ۱) می توان گفت که در همه لوله های پر بیج و خم، یاخته های هاپلوئیدی مشاهده می شود.
 ۲) گروهی از لوله های پر بیج و خم موجود در کیسه بیضه، به طور حتم قادر نیستند اسپرم تولید کنند.
 ۳) مجرای غده وزیکول سمینال مایع خود را به مجرای اسپرم بر وارد می کند.
 ۴) از نمای پشتی مثانه، غدد وزیکول سمینال بین مجاری مجرای اسپرم بر قرار دارند.

- ۱۴ کدام گزینه عبارت زیر را به نادرستی تکمیل می کند؟
 «در یک مرد سالم، اسپرم های دارای قابلیت حرکت می توانند از عبور از شوند.»

۱) پس - مجرای اسپرم بر، از طریق میزراه، از بدن خارج

۲) قبل - اپی دیدم، درون لوله های اسپرم ساز، مشاهده

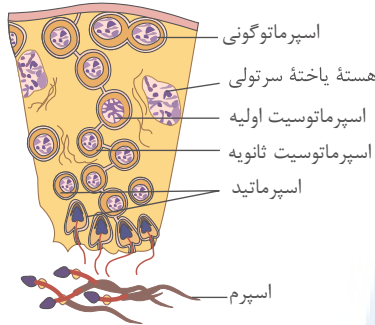
۳) قبل - میزراه، با مایع حاوی لیزوزیم مخلوط

۴) پس - سطح پایینی کیسه بیضه، به مجرای زامه بر، وارد

- ۱۵ در یک مرد سالم و بالغ، غده های
 ۱) پروستات همانند شش ها حالت اسفنجی دارند.
 ۲) سازنده مایع منی، به خروج یاخته تاژک دار به خارج از میزراه کمک می کنند.
 ۳) وزیکول سمینال از نمای نیم رخ در جلوی مجرای اسپرم بر هستند.
 ۴) پیازی میزراهی همانند غده زیرمغزی به اندازه نخود هستند و در کیسه بیضه قرار دارند.

پاسخنامه تشریحی

۱) ۱ ۲ ۳ ۴ ۱
 مستقل از جنس را «تک‌جایگاهی» فرض کنیم، چون اسپرماتیدها (تک‌لاد) اند. برای هر صفت یک الی خواهند داشت.
 نکته: البته ناچاراً این گزینه را صحیح می‌گیریم، چرا که ممکن است این صفات چندجایگاهی باشند که در آن صورت این گزینه صحیح نمی‌باشد.



بررسی سایر گزینه‌ها:

گزینهٔ ۱: نادرست. اسپرماتیدها با تمایز خود، یاخته‌های هاپلوئید اسپرم را به وجود می‌آورند.

گزینهٔ ۳: نادرست. تاژک اسپرماتید و همچنین اسپرم در لوله‌های اسپرم‌ساز فعال نیست. در واقع اسپرماتیدها توان حرکت ندارند!

گزینهٔ ۴: نادرست. یاخته‌های سرتولی با ترشحات خود موجب تمایز اسپرم‌ها می‌شوند.

۲) ۱ ۲ ۳ ۴ ۲

غدد وزیکول سمینال (گشناب دان)، غدهٔ پروستات و غدد پیازی میزراهی، غده‌هایی هستند که ترشحات آن‌ها به همراه اسپرم‌ها به بیرون از بدن منتقل می‌شوند. دقت کنید ترشحات یاخته‌های سرتولی دارای موادی هستند که در تغذیهٔ اسپرم‌های لوله اسپرم‌ساز مؤثر هستند. هم چنین ترشحات غدد وزیکول سمینال نیز در تغذیهٔ اسپرم‌ها نقش دارند.

بررسی سایر گزینه‌ها:

گزینهٔ ۱) پروستات و غده‌های پیازی میزراهی مواد قلیایی ترشح می‌کنند و همگی در زیر مثانه قرار دارند.

گزینهٔ ۳) پروستات به اندازه گردوست و همانند غدد پیازی میزراهی به میزراه متصل می‌شود.

گزینهٔ ۴) غدد گشناب دان انرژی لازم برای فعالیت اسپرم‌ها را با ترشح مایعی غنی از فروکتوز فراهم می‌کنند. پروستات غده‌ای است که حالت اسفنجی دارد و غدد پیازی میزراهی به اندازهٔ نخودفرنگی هستند.

۳) ۱ ۲ ۳ ۴ ۳
 در غدهٔ پروستات مایعی قلیایی و شیری‌رنگ به اسپرم‌ها افزوده می‌شود. این مایع به خنثی کردن مواد اسیدی موجود در مسیر اسپرم به سمت گامت ماده نقش دارد.

بررسی سایر گزینه‌ها:

گزینهٔ ۱) دقت کنید در بدن مردان فقط یک غدهٔ پروستات وجود دارد.

گزینهٔ ۲) اسپرم‌ها از درون غدد وزیکول سمینال عبور نمی‌کنند.

گزینهٔ ۴) تمایز اسپرماتیدها و تبدیل آن‌ها به اسپرم درون لوله‌های اسپرم‌ساز صورت می‌گیرد.

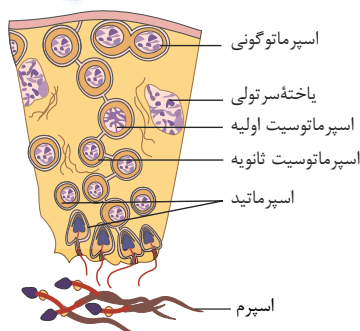
۴) ۱ ۲ ۳ ۴ ۴
 دقت کنید اسپرم‌ها حداقل ۱۸ ساعت در اپی‌دیدیم باقی می‌مانند تا قابلیت حرکت را به دست بیاورند. موارد A، B، C و D به ترتیب معادل وزیکول سمینال، غدهٔ پروستات، غدهٔ پیازی میزراهی و اپیدیدیم است.

۵) ۱ ۲ ۳ ۴ ۵
 منظور صورت سؤال، هورمون تستوسترون و سایر هورمون‌های جنسی (مانند استروژن و پروژسترون) می‌باشد. تستوسترون توسط بیضه‌ها و هر سه هورمون بالا توسط غدد فوق کلیه ترشح می‌شود. همهٔ یاخته‌های ترشح‌کنندهٔ این هورمون‌ها دولا (دیپلوئید) بوده و تقسیم میوز انجام نمی‌دهند.

۶) ۱ ۲ ۳ ۴ ۶
 اسپرماتوسیت اولیه یاخته‌ای دیپلوئید و اسپرماتوسیت ثانویه هاپلوئید است، اما هر دوی آن‌ها دارای کروموزوم‌های دو کروماتیدی هستند.

بررسی سایر گزینه‌ها:

گزینهٔ ۱: مطابق شکل، اسپرماتیدها می‌توانند دارای تاژک باشند.



گزینه ۲: اسپرماتوگونی، اسپرماتوسیت اولیه و یاخته سرتولی، یاخته‌های دیپلوئید دیواره لوله‌های اسپرم ساز هستند. دقت کنید اسپرماتوسیت از یاخته سرتولی تولید نمی‌شود.
گزینه ۴: اسپرماتوسیت ثانویه یاخته‌ای هاپلوئید است که در پی جدا شدن کروموزوم‌های همتا (نه کروماتیدهای خواهری) به وجود آمده است.
مواد قلیایی توسط غده پروستات و غدد پیازی میزراهی ترشح می‌شوند و در نتیجه تا قبل از این غدد، اسپرم‌ها با مواد قلیایی در تماس نیستند.
فقط مورد (ب) صحیح است.

منظور صورت سؤال، یاخته اسپرماتوسیت اولیه و اسپرماتوگونی می‌باشد. این یاخته‌ها دارای کروموزوم‌های جنسی هستند؛ در نتیجه ژن یا ژن‌های مربوط به تعیین جنسیت را دارند.
بررسی سایر موارد:

مورد الف) برای اسپرماتوگونی صحیح نیست.
مورد ج) برای اسپرماتوسیت اولیه صحیح نیست.
مورد د) برای هیچ کدام از یاخته‌ها صحیح نیست.

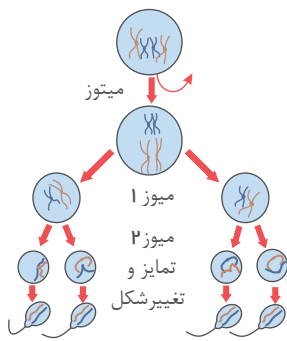
در مردان FSH ، یاخته‌های سرتولی (تغذیه‌کننده یاخته جنسی) را تحریک می‌کند تا تمایز اسپرم را هدایت کند و LH یاخته‌های بینابینی را تحریک می‌کند تا هورمون تستوسترون را ترشح کنند.

ترشح هورمون‌های FSH و LH تحت تأثیر هورمون‌های مترشحه از یاخته ترشحی عصبی هیپوتالاموس است.

از هر بار تقسیم اسپرماتوگونی، یک اسپرماتوگونی و یک اسپرماتوسیت اولیه تولید می‌شود که هر دو توانایی تقسیم شدن را دارند و در نتیجه در میان یاخته خود دوک تقسیم را ایجاد می‌کنند.

مطابق شکل، برخی اسپرماتیدها نیز دارای تازک هستند؛ اما دقت کنید این یاخته‌ها هیچ‌گاه وارد اپی‌دیدیم نمی‌شوند.

توجه کنید اسپرماتوسیت ثانویه و اسپرماتید نیز هاپلوئید هستند اما در تماس با ترشحات غدد برون‌ریز (غدد پیازی-میزراهی، غدد وزیکول سمینال و غده پروستات) قرار نمی‌گیرند.

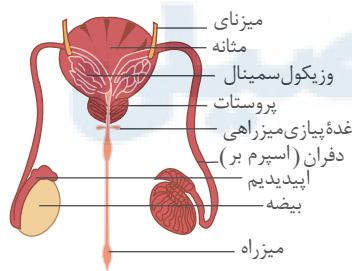


همه یاخته‌های هاپلوئید چه اسپرماتوسیت ثانویه و چه اسپرم، دارای ژن‌های) مربوط به آنزیم‌های سر اسپرم می‌باشد.

تولید اسپرم با میوز توسط سلول‌های اسپرم ساز بیضه اتفاق می‌افتد. در مردان، FSH یاخته‌های سرتولی را تحریک می‌کند تا تمایز اسپرم را تسهیل کنند.
بررسی سایر گزینه‌ها:

گزینه ۱. متحرک شدن اسپرم‌ها در مجرای اپی‌دیدیم انجام می‌شود و تحت تاثیر ترشحات اپی‌دیدیم نه هورمون‌های هیپوفیزی
گزینه ۲. تستوسترون از یاخته‌های بینابینی ترشح می‌شود.
گزینه ۳. آنزیم‌های درون وزیکولی اسپرم تحت تاثیر هورمون‌های هیپوفیزی آزاد نمی‌شود.

بررسی گزینه‌ها:



۱) در همه انواع لوله‌های پر پیچ و خم (لوله‌های اسپرم‌ساز و اپی‌دیدیم) در دستگاه تولیدمثلی مردان بالغ و سالم، یاخته‌های هاپلوئیدی وجود دارد.

۲) فقط لوله‌های اسپرم‌ساز توانایی تولید اسپرم را دارند. اپی‌دیدیم نیز لوله پیچیده و طویل است که توانایی تولید اسپرم ندارد اما در بالای بیضه درون کیسه بیضه قرار دارد.

۳) مجرای وزیکول سمینال مایع خود را به مجرای اسپرم بر، وارد می‌کند.

۴) مجرای مجرای اسپرم بر بین دو غده وزیکول سمینال واقع‌اند.

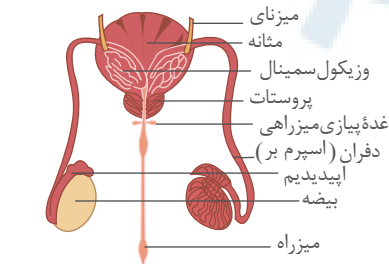
بررسی گزینه‌ها:

۱) اسپرم‌ها با عبور از مجرای دفران (اسپرم‌بر)، از طریق میزراه، از بدن خارج می‌شوند.

۲) اسپرم‌های دارای قابلیت حرکت درون اپیدیدیم حاصل می‌شوند و درون لوله اسپرم‌ساز این نوع اسپرم‌ها مشاهده نمی‌شوند.

۳) در انسان مجرای ادراری و تناسلی دارای مخاط هستند و مایع مخاطی ترشح‌شده، حاوی لیزوزیم است.

۴) اسپرم‌ها در سطح پایینی کیسه بیضه از اپی‌دیدیم خارج و به مجرای زامه بر (اسپرم بر) وارد می‌شوند.



۱. یک غده پروستات در یک فرد وجود دارد. بنابراین عبارت غده‌های پروستات‌ها در این جمله درست نیست.

۲. مایع منی سبب خروج اسپرم‌ها از بدن می‌شود. مایع منی توسط غدد وزیکول سمینال، پروستات و پیازی میزراهی تولید می‌شود.

۳. وزیکول سمینال از نمای نیمرخ، در پشت مجرای اسپرم بر قرار دارد.

۴. پیازی میزراهی درون کیسه بیضه قرار ندارد.



مرکز مشاوره تحصیلی علیرضا افشار

مبحث: گفتار ۱ فصل ۷ زیست یازدهم

سری: شماره ۲

زمان: ۱۵ دقیقه

۱ به طور معمول، با توجه به محل تشکیل زامه (اسپرم)ها و مراحل زامه‌زایی (اسپرم‌زایی) در یک فرد بالغ، کدام عبارت درست است؟

- ۱ یاخته‌های اسپرماتوسیت ثانویه همانند یاخته‌های زامه‌زا (اسپرماتوگونی) به یکدیگر متصل هستند.
- ۲ یاخته‌های زام یا یاختک (اسپرماتید) همانند یاخته‌های زامه‌زا (اسپرماتوگونی) هسته فشرده‌ای دارند.
- ۳ یاخته‌های زامه (اسپرم) برخلاف یاخته‌های زام یا یاختک (اسپرماتید)، ابتدا توانایی حرکت و جابه‌جا شدن را دارند.
- ۴ یاخته‌های اسپرماتوسیت ثانویه برخلاف زام یا یاخته (اسپرماتوسیت) اولیه، فام‌تن (کروموزوم)های تک کروماتیدی دارند.

۲ در یک فرد سالم کدام گزینه ویژگی نزدیک‌ترین یاخته‌های تک‌لاد (هاپلوئید) دیواره لوله‌های اسپرم‌ساز به یاخته‌های بینابینی را نشان می‌دهد؟

- ۱ فاقد توانایی تقسیم و ایجاد یاخته‌ای هاپلوئید هستند.
- ۲ هر کروموزوم هسته‌ای از دو بخش شبیه به هم تشکیل شده است.
- ۳ تحت اثر پشتیبانی و تغذیه‌ای یاخته‌های سرتولی قرار نمی‌گیرند.
- ۴ از تقسیم نامساوی سیتوپلاسم یاخته‌های قبلی خود ایجاد می‌شوند.

۳ در طی تقسیم یاخته اسپرماتوسیت اولیه در هر مرحله‌ای که

- ۱ کروموزوم‌ها در حداکثر فشردگی خود قرار دارند، تترادها در استوای یاخته روی رشته‌های دوک قرار می‌گیرند.
- ۲ کروماتیدهای خواهری هر کروموزوم از هم جدا می‌شوند، طول همه رشته‌های دوک کوتاه می‌شود.
- ۳ به هر سمت سانترومر کروموزوم رشته دوک متصل می‌شود، پوشش هسته در اطراف کروموزوم‌ها از بین می‌رود.
- ۴ کروموزوم‌های هم‌تا از یکدیگر جدا می‌شوند، عدد کروموزومی یاخته تغییر نمی‌کند.

۴ به طور معمول، در یک فرد بالغ، هر یاخته (سلول) موجود در لوله‌های اسپرم‌ساز

- ۱ دیپلوئید - تقسیم میوز را انجام می‌دهد.
- ۲ هاپلوئید - و دارای تاژک، با حرکت خود به اپی‌دیدیم منتقل می‌شود.
- ۳ دیپلوئید - به سطح خارجی دیواره لوله اسپرم‌ساز چسبیده است.
- ۴ هاپلوئید - قطعاً زن یا زن‌های سازنده تاژک را دارا می‌باشد.

۵ چند مورد، عبارت زیر را به طور نادرست تکمیل می‌کند؟

«در بدن یک مرد سالم و بالغ، به طور طبیعی هر یاخته شرکت‌کننده در فرایند اسپرم‌زایی که»

(الف) دارای دو جفت سانتیریول در میان یاخته خود می‌باشد، الزاماً دارای توانایی تقسیم میوز می‌باشد.

(ب) دارای یک جفت کروموزوم شماره ۱ می‌باشد، توانایی تولید ساختارهای چهار کروماتیدی را دارد.

(ج) آنزیم‌های تارک‌تن سر اسپرم در آن ساخته می‌شود، از تقسیم خود یاخته‌های هاپلوئید می‌سازد.

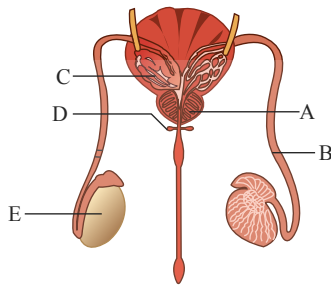
(د) در پی تکمیل شدن تقسیم میان یاخته به وجود آمده است، الزاماً دارای تاژکی بدون قدرت حرکت می‌باشد.

- ۱ ۱
- ۲ ۲
- ۳ ۳
- ۴ ۴

۶ درباره هر یاخته مسیر اسپرم‌زایی در دیواره هر لوله پر پیچ و خم در بیضه‌های یک مرد جوان و سالم، کدام گزینه صحیح می‌باشد؟

- ۱ می‌توانند در پی ایجاد رشته‌های دوک در میان یاخته خود، یاخته‌های تک‌لاد تولید کنند.
- ۲ همگی در مجاورت یاخته‌های تولیدکننده نوعی هورمون جنسی مردانه می‌باشند.
- ۳ فاقد گیرنده اختصاصی برای هورمون‌های محرک غدد جنسی هیپوفیز می‌باشند.
- ۴ کروموزوم‌های موجود در هسته آن‌ها از دو نیمه مشابه هم تشکیل شده است.

۷ با توجه به شکل مقابل، کدام گزینه صحیح است؟



- ۱ اسپرم‌های موجود در بخش B همانند اسپرم‌های درون غده C، دارای تاژک بلندی برای حرکت هستند.
- ۲ غدد A و D به صورت جفت در ترشح نوعی مادهٔ قلیایی در مایع منی نقش دارند.
- ۳ غدد C همانند غدد D دارای یاخته‌های با فضای بین یاخته‌ای اندک می‌باشند.
- ۴ غدد C برخلاف غدد E، در متحرک شدن تاژک اسپرم‌ها نقش مهمی دارند.

۸ ساختاری در بیضه که حاوی لوله‌های پر پیچ و خم می‌باشد، می‌کند.

- ۱ دارای یاخته‌های زاینده است که با تقسیم خود دو نوع یاختهٔ مختلف ایجاد
- ۲ اسپرم را به لوله‌ای مستقیم و غیرپیچیده، وارد
- ۳ اسپرماتوسیت‌های ثانویه را در سطح خارجی خود، تولید
- ۴ اسپرم را از تقسیم یاختهٔ قبلی خود، تولید

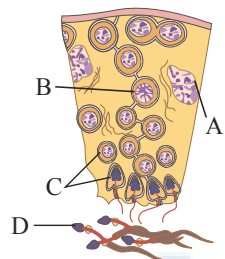
۹ چند مورد جملهٔ مقابل را به درستی تکمیل می‌کند؟ «در بدن یک مرد سالم و بالغ ادرار اسپرم‌ها برای خروج از بدن، از عبور می‌کنند.»

- | | |
|--|--|
| الف) همانند - مجاورت مجاری خروجی غدد وزیکول سمینال | ب) برخلاف - مجرای دارای مادهٔ مخاطی و لیزوزیم در سطح خود |
| ج) همانند - مجاورت مجاری خروجی غدد پیازی میزراهی | د) برخلاف - درون مجاری میزراهی |
| ۱ ۱ | ۲ ۳ |
| ۳ ۲ | ۴ ۴ |

۱۰ در بدن یک مرد سالم و بالغ برخلاف از وظایف بیضه‌ها محسوب می‌شود.

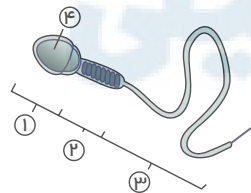
- ۱ تولید یاختهٔ اسپرم - ایجاد شرایط مناسب برای متحرک شدن اسپرم‌ها
- ۲ تولید هورمون جنسی - ایجاد شرایط مناسب برای تولید اسپرم‌ها
- ۳ تولید یاختهٔ اسپرم دارای تاژک - تولید هورمون جنسی تستوسترون
- ۴ انتقال اسپرم به خارج بدن - ایجاد شرایط مناسب برای متحرک شدن اسپرم‌ها

۱۱ با توجه به شکل مقابل، کدام گزینه صحیح است؟



- ۱ پروتئین‌هایی که در انقباض یاختهٔ ماهیچه‌ای اسکلتی نقش اصلی را دارند، می‌توانند در یاختهٔ C برای تقسیم میان یاخته حلقهٔ انقباضی تشکیل دهند.
- ۲ یاختهٔ دارای بخش A همانند برخی یاخته‌های دیوارهٔ حبابک‌های شش انسان، توانایی بیگانه‌خواری باکتری‌ها را دارد.
- ۳ در یاختهٔ B به سانترومر هر کروموزوم فقط از یک سمت می‌تواند رشتهٔ دوک متصل شود.
- ۴ یاختهٔ D برای حرکت به سمت اپی‌دیدیم از فروکتوز به عنوان منبع انرژی استفاده می‌کند.

۱۲ با توجه به شکل مقابل که نوعی یاخته در انسان سالم و بالغ را نشان می‌دهد، کدام گزینه نادرست است؟



- ۱ بخش ۲، در تبدیل انرژی مواد مغذی به انرژی نهفته در نوعی مولکول شیمیایی نقش دارد.
- ۲ بخش ۳، در خارج از محل تولید خود، توانایی حرکت کردن را به دست می‌آورد.
- ۳ بخش ۴، حاوی ۲۴ نوع فام‌تن و اطلاعات لازم برای زندگی یاخته است.
- ۴ بخش ۱، موادی دارد که در نفوذ این یاخته در لایه‌های محافظت‌کنندهٔ یاختهٔ دیگر نقش دارند.

۱۳ در انسان، هر غدهٔ برون‌ریز مؤثر در ساخت مایع منی که قطعاً

- ۱ در تغذیهٔ اسپرم‌ها مؤثر است - در اطراف میزراه قرار گرفته است.
- ۲ مواد قلیایی ترشح می‌کند - ترشحات خود را به ابتدای میزراه وارد می‌نماید.
- ۳ ترشحات خود را به مجرای لوله‌مانند وارد می‌کند - مواد قلیایی ترشح می‌کند.
- ۴ قبل از پروستات ترشحات خود را به اسپرم‌ها می‌افزاید - در فعالیت اسپرم‌ها مؤثر است.

۱۴ کدام گزینه در ارتباط با مراحل تبدیل اسپرماتید به اسپرم زودتر از سایرین رخ می‌دهد؟

- ۱ تاژک دار شدن یاخته‌ها
- ۲ از دست دادن مقدار زیادی از سیتوپلاسم یاخته
- ۳ فشرده شدن هسته و قرارگیری در سر یاخته
- ۴ ایجاد حالت کشیده در یاخته

۱۵) کدام عبارت زیر درست است؟

- ① هورمون تستوسترون نمی تواند روی نوعی یاخته هدف هورمون پاراتیروئیدی تأثیر گذار باشد.
- ② یاخته های بینابینی مستقیماً هدف یکی از هورمون های هیپوفیزی هستند.
- ③ با تحریک ترشح هورمون LH می توان مانع از رویش مو در صورت پسران در سن بلوغ شد.
- ④ هورمون FSH ترشح شده از غده زیرمغزی سبب تقسیم میوز یاخته های زامه زا می شود.



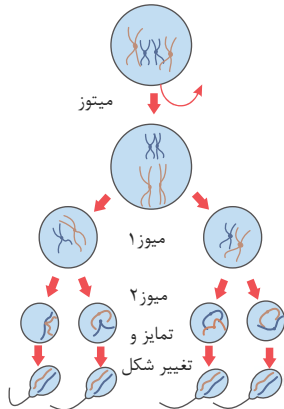
مرکز مشاوره تحصیلی

علیرضا افشار

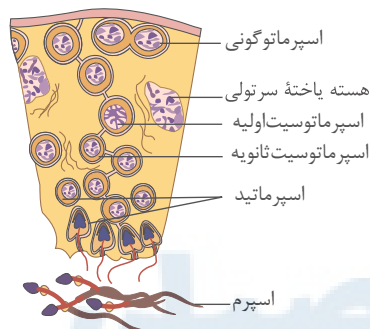
پاسخنامه تشریحی

۱ تا ۴ گزینه‌ها: بررسی سایر گزینه‌ها:
 تازک‌دار می‌شوند. پس یعنی تا قبل از این مرحله به یکدیگر متصل بوده‌اند.
 بررسی سایر گزینه‌ها:

گزینه ۲) اسپرماتیدها و اسپرم‌ها فقط دارای هسته فشرده هستند.
 گزینه ۳) اسپرم‌ها از ابتدای تشکیل دارای تازک هستند؛ ولی باید در اپی دیدیم قرار گیرند تا توانایی حرکت را کسب کنند.
 گزینه ۴) اسپرماتوسیت‌ها دارای کروموزوم‌های دو کروماتیدی هستند.



۱ تا ۲ گزینه‌ها: بررسی سایر گزینه‌ها:
 طبق شکل زیر، در بین لوله‌های اسپرم‌ساز یاخته‌های بینابینی قرار دارند. از بین یاخته‌های هاپلوئید در دیواره لوله‌های اسپرم‌ساز، اسپرماتوسیت ثانویه در سمت خارجی‌تر قرار گرفته است.



بررسی گزینه‌ها:

گزینه ۱) هر زام یاخته ثانویه (اسپرماتوسیت ثانویه) انجام میوز ۲، دو یاخته زام یاختک (اسپرماتید) ایجاد می‌کند.
 گزینه ۲) زام یاخته‌های ثانویه (اسپرماتوسیت ثانویه) هاپلوئیدند، ولی کروموزوم‌های هسته‌ای آن‌ها دو کروماتیدی‌اند. هر کروموزوم دو کروماتیدی از دو بخش شبیه به هم به نام فامینک (کروماتید) تشکیل شده است.

گزینه ۳) یاخته‌های سرتولی در همه مراحل اسپرم‌زایی، پشتیبانی، تغذیه، یاخته‌های جنسی و نیز بیگانه‌خواری باکتری‌ها را برعهده دارند. پس زام یاخته‌های ثانویه (اسپرماتوسیت ثانویه) نیز تحت اثر پشتیبانی و تغذیه‌ای این یاخته‌ها قرار می‌گیرند.

گزینه ۴) از تفاوت‌های اساسی تخمک‌زایی با اسپرم‌زایی تقسیم نامساوی سیتوپلاسم است؛ به این صورت که در تخمک‌زایی پس از هر بار تقسیم هسته در میوز تقسیم نامساوی سیتوپلاسم صورت می‌گیرد؛ پس در مرد که غده‌های جنسی بیضه‌ها هستند، تقسیم نامساوی سیتوپلاسم صورت نمی‌گیرد.

۱ تا ۴ گزینه‌ها: بررسی سایر گزینه‌ها:
 در آنافاز ۱، جداسدن کروموزوم‌های هم‌تارخ می‌دهد و در آن، تغییری در عدد کروموزومی یاخته ایجاد نمی‌شود. تغییر عدد کروموزومی در یاخته در آنافاز ۲ و به دلیل جداسدن کروماتیدی خواهری رخ می‌دهد. دقت کنید گزینه‌های ۲ و ۳ مربوط به میوز ۲ هستند که اسپرماتوسیت ثانویه انجام می‌دهد نه اسپرماتوسیت اولیه. علاوه بر این در مرحله آنافاز همه رشته‌های دوک کوتاه نمی‌شوند؛ بلکه فقط رشته‌های دوکی که به کروموزوم متصل هستند، کوتاه می‌شوند.

در مورد گزینه ۱: توجه کنید در مرحله متافاز، تترادها در استوای یاخته روی رشته‌های دوک قرار می‌گیرند، در حالی که در مراحل آنافاز نیز کروموزوم‌ها در حداکثر فشردگی هستند.

۱ تا ۴ گزینه‌ها: بررسی سایر گزینه‌ها:
 ژن یا ژن‌های ساخت تازک و اجزای اسپرم در بدن در همه یاخته‌های هسته‌دار بدن وجود دارد.

بررسی گزینه‌ها:

گزینه ۱: اسپرماتوگونی تقسیم می‌توز انجام می‌دهد.

گزینه ۲: منظور اسپرم‌ها و برخی اسپرماتیدها هستند که هیچ‌کدام هنوز توانایی حرکت ندارند.

گزینه ۳: یاخته‌های اسپرماتوگونی نزدیک سطح خارجی دیواره لوله اسپرم‌ساز قرار دارند. اسپرماتوسیت‌های اولیه نیز دیپلوئید هستند؛ اما از سطح خارجی دیواره لوله اسپرم‌ساز فاصله دارند.

۵) فقط مورد (د) درست است.

الف) برای اسپرماتوگونی صادق نیست.

ب) برای اسپرماتوگونی صادق نیست.

ج) اسپرماتید تقسیم نمی شود.

د) در زمان تبدیل اسپرماتید به اسپرم، تقسیم میان یاخته تکمیل می شود و اسپرم های سالم همگی دارای تاژک بدون قابلیت تحرک هستند.

۶) هر یاخته مسیر اسپرم زایی در دیواره لوله اسپرم ساز شامل اسپرماتوگونی، اسپرماتوسیت اولیه و ثانویه و اسپرماتید می باشد که هیچ کدام گیرنده اختصاصی برای

هورمون های FSH و LH ندارند.

۷) غدد وزیکول سمنیال، غده پروستات و غدد پیازی میزراهی همگی غدد برون ریز هستند و در نتیجه دارای یاخته هایی با فضای بین یاخته ای اندک (بافت پوششی)

هستند. دقت کنید اسپرم از درون غدد وزیکول سمنیال عبور نمی کند.

۸) دیواره لوله های زامه ساز یاخته های زاینده ای دارد که به این یاخته ها زامه زا (اسپرماتوگونی) گفته می شود. این یاخته ها که نزدیک سطح خارجی لوله ها قرار

گرفته اند، ابتدا با میتوز تقسیم می شوند. یکی از یاخته های حاصل از هر بار میتوز در لایه زاینده می ماند که لایه زاینده حفظ شود. یاخته دیگر نیز زامه یاخته (اسپرماتوسیت) اولیه نام دارد.

بررسی سایر گزینه ها:

گزینه ۲: اسپرم ها پس از لوله های اسپرم ساز وارد اپی دیدیم می شوند که لوله ای پیچیده و طویل است.

گزینه ۳: در سطح خارجی دیواره لوله های اسپرم ساز، یاخته های اسپرماتوگونی قرار دارند.

گزینه ۴: در لوله های اسپرم ساز، اسپرماتید برای تبدیل شدن به اسپرم، تقسیم نمی شود.

۹) موارد (ج) و (د) جمله را به درستی تکمیل می نمایند.

بررسی سایر موارد:

مورد الف) ادرار از مجاورت مجاری خروجی غدد وزیکول سمنیال عبور نمی کند.

مورد ب) دقت کنید ادرار و اسپرم ها از درون مجرای میزراه عبور می کنند که در سطح خود دارای ماده مخاطی و لیزوزیم است.

۱۰) تولید اسپرم بر عهده بیضه می باشد، اما ایجاد شرایط مناسب برای متحرک شدن اسپرم ها بر عهده اپیدیدیم می باشد.

۱۱) بررسی گزینه ها:

گزینه ۱: یاخته C اسپرماتید است و این یاخته تقسیم میان یاخته انجام می دهد.

گزینه ۲: یاخته دارای بخش A، یاخته سرتولی است که وظیفه بیگانه خواری باکتری ها را برعهده دارد، اما دقت کنیم که یاخته درشت خوار در حبابک ها جزء دیواره حبابک ها محسوب نمی شوند.

گزینه ۳: یاخته B اسپرماتوسیت اولیه است که توانایی انجام تقسیم میوز ۱ را دارد و در مرحله متافاز میوز ۱ به هر سانترومر فقط از یک سمت رشته دوک متصل می شود.

گزینه ۴: یاخته D (اسپرم) در هنگام عبور از کنار و پشت مثانه ترشحات گشنبان دان (حاوی فروکتوز) را دریافت می کند، نه جهت ورود به اپی دیدیم. در ضمن اسپرم قبل از ورود به اپی دیدیم

قابلیت حرکت ندارد.

۱۲) بررسی گزینه ها:

۱) بخش ۲، (تنه) حاوی راکیزه است که در آن انرژی مواد مغذی، مثل گلوکز به انرژی نهفته در ATP (نوعی مولکول شیمیایی) تبدیل می شود.

۲) بخش ۳، دم (تاژک) اسپرم است. اسپرم در لوله های اسپرم ساز تاژک دار می شود، اما تاژک در اپیدیدیم توانایی حرکت را به دست می آورد.

۳) بخش ۴، هسته اسپرم حاوی ۲۳ نوع فام تن است. هسته حاوی دنا است. اطلاعات لازم برای زندگی یاخته در مولکول های دنا ذخیره شده است.

۴) بخش ۱، سر اسپرم است. دارای یک هسته بزرگ، مقداری سیتوپلاسم و کیسه ای پر از آنزیم به نام تارک تن (آکروزوم) است. آکروزوم کلاه ماند و در جلوی هسته قرار دارد. آنزیم ها به

اسپرم کمک می کنند تا بتواند در لایه های حفاظت کننده گامت ماده (تخمک) نفوذ کند.

۱۳) بررسی گزینه ها:

۱) غده گشنبان دان (وزیکول سمنیال) ترشحات خود را قبل از پروستات و وزیکول سمنیال در اطراف لوله اسپرم بر به اسپرم ها می افزاید (دخوان) قرار دارد. این غدد، مایعی غنی از فروکتوز را به

اسپرم ها اضافه می کنند. فروکتوز انرژی لازم برای فعالیت اسپرم ها را فراهم می کند.

۲) غده های پروستات و پیازی - میزراهی، مواد قلیایی ترشح می کنند. غدد پیازی - میزراهی، ترشحات خود را به میانه میزراه وارد می نمایند. ابتدای میزراه درون پروستات و از زیر مثانه شروع

می شود. در واقع پروستات بخش ابتدای میزراه را در بر گرفته است. البته این موضوع مورد توافق همه زیست شناسان نیست و عده ای شروع میزراه را، بعد از پروستات می دانند.

۳) همه غدد برون ریز دارای مجاری لوله مانندی هستند که ترشحات خود را وارد آن می کنند، اما فقط غده پروستات و غدد پیازی - میزراهی مواد قلیایی ترشح می کنند.

۴) هر کدام از لوله های اسپرم بر در حین عبور از کنار و پشت مثانه ترشحات غده گشنبان دان (وزیکول سمنیال) را دریافت می کند.

۱۴) برای تبدیل اسپرماتید به اسپرم، ابتدا یاخته ها از یکدیگر جدا و تاژک دار می شوند. سپس مقداری از سیتوپلاسم خود را از دست می دهند. هسته آن ها فشرده

شده و در سر به صورت مجزا قرار می گیرند. و یاخته حالت کشیده پیدا می کند.

۱۵) ۱. هورمون تستوسترون همانند هورمون پاراتیروئیدی روی یاخته های استخوانی تأثیر می گذارد.

۲. هورمون LH یک هورمون هیپوفیزی است که روی سلول های بینابینی به طور مستقیم مؤثر است.

۳. هورمون LH با تأثیر بر روی سلول های بینابینی ترشح تستوسترون را افزایش می دهد. هورمون تستوسترون سبب تحریک رویش مو در صورت پسران می شود.

۴. یاخته های زامه زا (اسپرماتوگونی) تقسیم میوز انجام نمی دهند.

مبحث: گفتار ۱ فصل ۷ زیست یازدهم

سری: شماره ۳


زمان: ۱۵ دقیقه

۱) چند مورد جمله روبه‌رو را به درستی کامل می‌نماید؟ «تأمین» (با تغییر)

- الف- انرژی لازم برای رسیدن اسپرم از محل تولید به محل ذخیره اسپرم بر عهده‌ی قطعه میانی اسپرم است.
ب- آنزیم‌های لازم برای تخریب لایه‌های خارجی ژل مانند دور تخمک بر عهده‌ی وزیکول‌های در سرگامتی است که با سیتوکینز نامساوی ایجاد می‌گردد.
ج- مایعی قلیایی برای خنثی کردن مقادیر کم ادرار اسیدی میزنا‌ی بر عهده‌ی غدد پیازی - میزراهی است.

۱) صفر ۲) ۱ ۳) ۲ ۴) ۳

۲) در انسان کدام سلول به سطح خارجی لوله‌ی اسپرم‌ساز نزدیک‌تر است؟



۳) برای کامل کردن جمله «در دستگاه تولیدمثلی مرد،» چند عبارت از عبارات زیر مناسب اند؟ (با تغییر)

- الف) سه غده‌ی برون ریز، سر راه خروجی اسپرم‌ها قرار دارند.
ب) اسپرم‌ها قبل از کسب توانایی حرکت، از بیضه‌ها خارج می‌شوند.
ج) غده‌های که اسپرم‌ها، توسط یک مجرا از وسط آن عبور می‌کنند، تأمین انرژی مورد نیاز اسپرم‌ها را بر عهده دارد.
د) ترشحات غدد برون ریز بر تحرک اسپرم‌ها بی‌تأثیر است.

۱) ۱ ۲) ۲ ۳) ۳ ۴) ۴

۴) با آسیب

- ۱) پروستات، تولید مواد مغذی برای حرکت اسپرم دچار اختلال می‌شود.
۲) اپی‌دیدیم امکان دارد، حرکت تاژک اسپرم آغاز نشود.
۳) غدد پیازی - میزراهی اسید موجود در مسیر رسیدن اسپرم به تخمک خنثی نمی‌شود.
۴) وزیکول سمینال، خاصیت اسیدی ادرار باقی مانده در مجرای ادرار، از بین نمی‌رود.

۵) چند مورد از عبارت‌های زیر صحیح است؟ (با تغییر)

- الف- هورمون جنسی مردانه از سلول‌هایی که در بینابین لوله‌های اسپرم‌بر جای دارند، ترشح می‌شود.
ب- اپی‌دیدیم محل بلوغ اسپرم‌ها می‌باشد.
ج- فروکتوز تولید شده توسط غده‌های وزیکول سمینال، به طور مستقیم انرژی لازم برای حرکت اسپرم را فراهم می‌کنند.
د- غدد وزیکول سمینال و مجرای اسپرم‌بر، در داخل پروستات به میزراه می‌ریزند.

۱) ۱ ۲) ۲ ۳) ۳ ۴) ۴

۶) غده‌ای که (با تغییر)

- ۱) زیر محل اتصال میزنا‌ی بامثانه و بالای پروستات قرار دارد. فروکتوز لازم برای میتوکندری‌های سر اسپرم را فراهم می‌کند.
۲) درست زیر مثانه قرار دارد، مجرا مشترک اسپرم‌بر و غدد وزیکول سمینال با مجرای ادراری در آن به هم می‌پیوندند.
۳) مقادیر کم ادرار اسیدی در میزراه را خنثی می‌کند، به لوله‌ی اسپرم‌بر متصل است.
۴) به حرکت اسپرم‌ها به سمت گامت ماده کمک می‌کند، یک غده درون ریز است.

۷ کدام نادرست است؟

- ۱ غدهٔ وزیکول سمینال برخلاف پروستات، مواد قلیایی ترشح نمی‌کند.
- ۲ یکی از هورمون مترشحه از هیپوفیز پیشین می‌تواند در میوز بعضی از یاخته‌های دیوارهٔ لوله‌های اسپرم‌ساز نقش داشته باشد.
- ۳ اسپرماتوسیت ثانویه در اپی‌دیدیم (خاگ) بالغ می‌شود و با انجام میوز II دارای تاژک می‌شود.
- ۴ گامت‌های نر یا اسپرم‌های بالغ در مسیر عبوری خود به سمت میزراه از درون وزیکول سمینال عبور نمی‌کنند.
- ۸ اسپرم سالم انسان،

- ۱ سر - هر کروموزوم آن، دارای دو مولکول DNA است.
- ۲ سر - قطعاً دارای یک کروموزوم جنسی X است.
- ۳ قطعهٔ میانی - در مصرف CO₂ نقش دارد.
- ۴ دم - حداقل بخشی از آن توسط غشای پلاسمایی احاطه شده است.

۹ هر سلول هاپلوئیدی دارای کروموزوم‌های مضاعف در لولهٔ اسپرم‌ساز یک فرد بالغ و سالم

- ۱ که قابلیت تقسیم دارد، می‌تواند به سلول‌های جنسی تبدیل شود.
- ۲ تحت تأثیر فعالیت هورمون LH قرار می‌گیرد.
- ۳ دارای ۲۳ مولکول DNA است.
- ۴ در تماس مستقیم با ترشحات غدد بیرون‌ریز قرار دارد.

۱۰ در انسان سالم دارای است.

- ۱ اسپرماتید - ۲۳ کروموزوم دو کروماتیدی است که هنگام تبدیل شدن به اسپرم تک کروماتیدی می‌شوند.
- ۲ اسپرماتوگونی قطعاً - ۴۶ کروموزوم دو کروماتیدی
- ۳ اسپرماتوسیت اولیه - ۴۶ کروموزوم دو کروماتیدی
- ۴ اسپرماتوسیت ثانویه - ۲۳ کروموزوم دو کروماتیدی و با تقسیم میوز دوم به ۴ اسپرماتید با ۲۳ کروموزوم تک کروماتیدی تبدیل می‌شود.

۱۱ در دستگاه تناسلی مرد، غده‌ای که به اندازهٔ یک گردو است غده‌ای که به اندازهٔ نخود فرنگی است

- ۱ برخلاف - ترشحات قلیایی دارد.
- ۲ همانند - شرایط محیطی خنثی میزراه را قلیایی می‌کنند.
- ۳ برخلاف - به صورت جفت هستند.
- ۴ همانند - ترشحاتی دارند که در مایع منی که اسپرم‌ها را به بیرون از بدن منتقل می‌کند وجود دارند.

۱۲ در مورد دستگاه تناسلی مرد، کدام گزینه نادرست است؟

- ۱ سلول‌های بینابینی و دارای ۴۶ کروموزوم بوده و فعالیت خود را از دوران بلوغ آغاز می‌کنند.
- ۲ هیپوتالموس همانند هیپوفیز در فعالیت اسپرم‌سازی نقش دارد.
- ۳ اسپرم‌ها با کمک انقباض ماهیچه‌های صاف جدار لولهٔ اسپرم‌بر حرکت کرده و از طریق میزنای از بدن خارج می‌شوند.
- ۴ تعداد غدد بیرون‌ریز در دستگاه تولیدمثلی مرد ۵ عدد می‌باشد که اسپرم فقط از یکی از آنها از میان آن عبور می‌کند.

۱۳ در مراحل تقسیم میوز، برای تولید اسپرم، چند مورد از موارد زیر را نمی‌توان مشاهده کرد؟

- الف) یاخته‌ای بدون کروموزوم X
 - ب) یاخته‌ای با یک کروموزوم X
 - ج) یاخته‌ای با دو کروموزوم X
 - د) یاخته‌ای با ۴ کروموزوم X
- ۱ یک مورد ۲ دو مورد ۳ سه مورد ۴ چهار مورد

۱۴ عبارت درست را از بین عبارتهای زیر انتخاب کنید.

- ۱ میزراه در مردان، ادرار و مایع منی را به بیرون از بدن منتقل می‌کند.
- ۲ ذخیرهٔ فروکتوز درون یاختهٔ اسپرم‌ها، بسیار زیاد است تا انرژی لازم برای فعالیت اسپرم‌ها را فراهم می‌کند.
- ۳ هر کدام از لوله‌های اسپرم‌بر، پس از عبور از درون غدهٔ وزیکول سمینال، در زیر مثانه، وارد غدهٔ پروستات می‌شود.
- ۴ اسپرم‌ها پس از تولید به درون لولهٔ اسپرم‌ساز منتقل می‌شوند و پس از حداقل ۱۸ ساعت، توانایی تحرک می‌یابند.

۱۵ کدام سلول هاپلوئید در لولهٔ اسپرم‌ساز از تقسیم سیتوپلاسم سلول قبلی خود حاصل نمی‌شود؟

- ۱ یاخته‌هایی که از میتوز اسپرماتوگونی حاصل شده‌اند.
- ۲ اسپرم‌ها
- ۳ یاخته‌های هاپلوئید با کروموزوم‌های مضاعف
- ۴ اسپرماتیدها

پاسخنامه تشریحی

۱) همه موارد نادرست اند. بررسی موارد:

الف: محل ذخیره اسپرم اپی دیدیم است که اسپرم تا پیش از ورود به آن بالغ نیست و زنش تاژک آن مشاهده نمی شود، در نتیجه میتوکندری های قطعه میانی نقشی در ورود اسپرم به اپی دیدیم ندارند.

ب: تولید اسپرم ها با سیتوکینز مساوی انجام می شود.

ج: تأمین مایع قلیایی برای خنثی کردن مقدار کم ادرار میزراه (نه میزنای)، بر عهده غدد پیازی - میزراهی است.

۲) در فرآیند اسپرمزایی تولید یاخته ها در دیواره لوله های اسپرم ساز از خارج به سمت وسط لوله ها انجام می شود هرچه میوز در مراحل ابتدایی تر باشد به جدار لوله و هرچه در مراحل انتهایی تر باشد به وسط لوله های اسپرم ساز نزدیک تر است. بنابراین اسپرماتید در مقایسه با اسپرماتوگونی و اسپرماتوسیت اولیه و ثانویه به وسط لوله های اسپرم ساز نزدیک تر است.

گزینه های ۱، ۲، ۳ و ۴ به ترتیب اسپرماتوسیت ثانویه، اسپرماتوسیت ثانویه، اسپرماتوسیت اولیه و اسپرماتید هستند.

۳) فقط مورد ب صحیح است.

بررسی موارد:

الف) در سر راه خروجی اسپرم، حداقل ۵ غده ی برون ریز وجود دارد: ۲ وزیکول سمینال، ۱ پروستات و ۲ غده پیازی میزراهی.

ب) اسپرم ها بعد از خروج از بیضه ها وارد لوله ی اپی دیدیم بر خاک می شوند و در آن جا با کسب توانایی حرکت، بالغ می شوند.

ج) اسپرم ها از غده ی پروستات عبور می کنند که مایع قلیایی ترشح می کند.

د) مواد قندی ترشح شده از غدد وزیکول سمینال بر تحرک اسپرم ها و تأمین انرژی مورد نیاز آنها موثر است.

۴) در اپی دیدیم اسپرم ها توانایی حرکت پیدا می کنند. پس با آسیب آن ممکن است تاژک اسپرم ها درست کار نکنند.

بررسی سایر گزینه ها:

گزینه ۱: تولید مواد مغذی از وظایف یک جفت غده به نام وزیکول سمینال است.

گزینه ۳: غده پروستات مایعی قلیایی ترشح می کند که به خنثی کردن مواد اسیدی موجود در مسیر رسیدن اسپرم به تخمک کمک می کند. (میزراه مردان - واژن - رحم - لوله ی فالوپ)

گزینه ۴: غده های پیازی میزراهی همانند پروستات مایعی قلیایی ترشح می کنند که مقادیر کم ادرار اسیدی موجود در میزراه را خنثی می کند. غدد وزیکول سمینال در این مورد نقشی ندارند.

۵) موارد ب و د درست هستند.

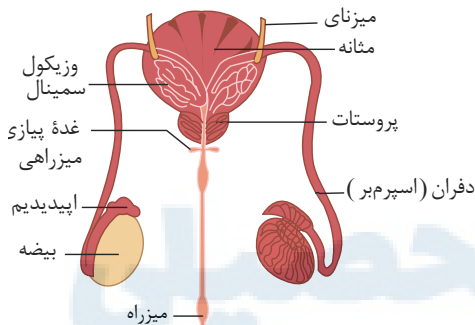
بررسی موارد:

الف) تستوسترون از سلول هایی هستند که در بینابین لوله های اسپرم ساز (نه اسپرم بر) جای دارند، ترشح می شود (نادرست)

ب) (درست)

ج) ATP تولید شده درون میتوکندری، انرژی لازم برای حرکت اسپرم را فراهم می کند. (نادرست)

د) با توجه به شکل روبرو این جمله درست است.



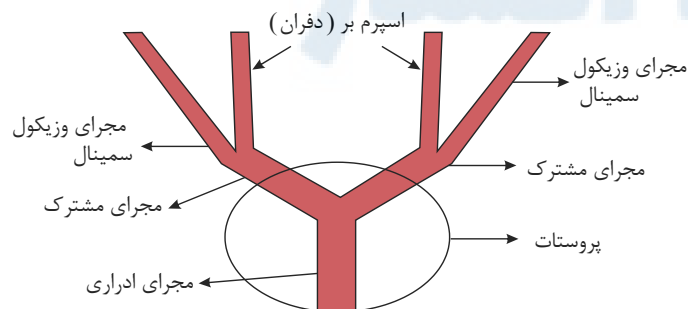
مربوط به گزینه (د)

۶) میتوکندری ها در قطعه میانی اسپرم قرار دارد.

۲) در ابتدا هر مجرای اسپرم بر با مجرای خروجی هر وزیکول سمینال یکی می شود سپس این مجرای مشترک [بین اسپرم بر و وزیکول سمینال] در پروستات به مجرای ادراری می ریزد.

۳) غده پیازی - میزراهی به لوله ی اسپرم بر متصل نیست.

۴) برون ریز است.



۷) تولید اسپرم و تاژک دار شدن آن درون لوله های اسپرم ساز انجام می شود. اسپرم ها درون اپی دیدیم (خاک) قدرت حرکت کردن را پیدا می کنند (که این جمله به معنای تاژک دار شدن اسپرم ها نیست). از طرفی اسپرماتوست ثانویه تقسیم میوز II را انجام می دهد و اسپرم را تولید می کند نه اینکه خود بالغ شود و با انجام میوز II تاژک دار شود.

بررسی سایر گزینه‌ها:

- گزینه (۱): غدهٔ وزیکول سمينال برخلاف غدهٔ پروستات مایع قليایی ترشح نمی‌کند. این غدد مایعی غنی از فروکتوز را به اسپرم‌ها اضافه می‌کنند.
- گزینه (۲): هورمون FSH یاخته‌های سرتولی را تحریک می‌کند و یاخته‌های سرتولی نیز، موجب تحریک فرآیند اسپرم‌زایی و میوز یاخته‌های اسپرماتوگونی می‌شوند.
- گزینه (۴): گامت‌های نر از درون وزیکول سمينال عبور نمی‌کنند.

۸) ۱ ۲ ۳ ۴ سر اسپرم دارای یک هستهٔ بزرگ و کمی سیتوپلاسم است. میتوکندری‌ها در قطعهٔ میانی قرار دارند که اکسیژن مصرف و CO_2 تولید می‌کنند. دم اسپرم توسط غشای سلولی احاطه شده است. توجه کنید که تمام وقایعی که در میتوکندری روی می‌دهد در قطعه میانی اسپرم انجام می‌شود. از آنجایی که نوزاد پسر از لقاح تخمک با کروموزوم X با اسپرم با کروموزوم Y به وجود می‌آید بنابراین نمی‌توان گفت هر اسپرم قطعاً دارای کروموزوم جنسی X است و ممکن است کروموزوم جنسی Y داشته باشد.

۹) ۱ ۲ ۳ ۴ اسپرماتوسیت ثانویه، هاپلوئید و دارای کروموزوم‌های مضاعف است، این سلول‌ها تقسیم می‌شوند (میوز II را انجام می‌دهند) و به سلول‌های اسپرماتید و در نهایت به اسپرم تبدیل می‌شوند.
بررسی سایر گزینه‌ها:

گزینه ۲: هورمون LH بر روی سلول‌های دیلیوئیدی که در بینابین لوله‌های اسپرم‌ساز جای دارند اثر کرده و باعث ترشح هورمون تستوسترون از این سلول‌ها می‌شود.
گزینه ۳: اسپرماتوسیت II ، دارای ۴۶ مولکول DNA است چون ۲۳ عدد کروموزوم مضاعف دارد. اما اسپرماتید که دارای ۲۳ کروموزوم غیرمضاعف است ۲۳ مولکول DNA است.
گزینه ۴: اسپرم پس از تولید در لوله‌های اسپرم‌ساز وارد لولهٔ اسپرم بر شده و در تماس با ترشحات غدد برون‌ریز قرار می‌گیرد. اما اسپرماتید و اسپرماتوسیت ثانویه نیز هاپلوئید هستند اما در تماس با ترشحات غدد برون‌ریز نیستند.

۱۰) ۱ ۲ ۳ ۴ بررسی گزینه‌ها:

۱. در انسان سالم، اسپرماتید یک یاختهٔ هاپلوئید و دارای ۲۳ کروموزوم تک کروماتیدی است.

۲. اسپرماتوگونی دارای ۴۶ کروموزوم است که اگر در مرحلهٔ G_1 باشد، کروموزوم‌ها تک کروماتید هستند. ولی پس از همانندسازی دنا، دو کروماتیدی می‌شوند.

۳. مواد وراثتی اسپرماتوسیت اولیه بلافاصله پس از تشکیل غیر مضاعف می‌باشد و پس از عبور از مرحلهٔ S مواد وراثتی آن مضاعف می‌شود.

۴. اسپرماتوسیت ثانویه دارای ۲۳ کروموزوم دو کروماتیدی است. و با تقسیم میوز دوم به ۴ اسپرماتید تبدیل می‌شود. و هر اسپرماتید دارای ۲۳ کروموزوم تک کروماتیدی است.

۱۱) ۱ ۲ ۳ ۴ پروستات به اندازهٔ یک گردو و هر غدهٔ پیازی میزراهی به اندازهٔ یک نخودفرنگی است.

بررسی سایر گزینه‌ها:

گزینه (۱): هر دو ترشحات قليایی دارند.

گزینه (۲): ترشحات قليایی به خنثی کردن مواد اسیدی موجود در مسیر اسپرم به سمت گامت ماده کمک می‌کنند.

گزینه (۳): تعداد پیازی میزراهی دو تا و پروستات یکی است.

۱۲) ۱ ۲ ۳ ۴ اسپرم‌ها پس از عبور از لوله‌های اسپرم‌بر از طریق میزراه خارج می‌شوند نه میزنای.

سایر گزینه‌ها صحیح می‌باشند.

۱۳) ۱ ۲ ۳ ۴ بررسی موارد:

موارد (الف) و (ب): در پایان مرحلهٔ میوز ۱، یکی از اسپرماتوسیت‌های ثانویه، دارای بیست و دو کروموزوم غیر جنسی و یک کروموزوم جنسی X و اسپرماتوسیت ثانویه دیگر، دارای بیست و دو کروموزوم غیر جنسی و یک کروموزوم Y . (بدون کروموزوم X)

مورد ج) در مرحلهٔ آنافاز ۲، کروموزوم‌ها دو برابر می‌شوند. اسپرماتوسیت ثانویه‌ای که دارای کروموزوم X است، در مرحلهٔ آنافاز ۲ دارای ۲ کروموزوم X می‌شود. در مرحلهٔ آنافاز تقسیم میتوز در هنگام تبدیل شدن اسپرماتوگونی به اسپرماتوسیت اولیه هم در لحظه‌ای سلول دو کروموزوم تک کروماتیدی X دارد.

مورد د) در مراحل اسپرم‌زایی، چنین یاخته‌ای تولید نمی‌شود.

۱۴) ۱ ۲ ۳ ۴ بررسی گزینه‌ها:

گزینه (۱): ادرار پس از ساخته شدن در کلیه، از طریق میزنای به مثانه وارد می‌شود. وظیفهٔ "میزراه" انتقال ادرار و مایع منی به بیرون از بدن است.

گزینه (۲): ذخیرهٔ درون یاخته‌ای اسپرم‌ها بسیار کم است، زیرا اسپرم مقدار زیادی از سیتوپلاسم خود را از دست داده است. وزیکول سمينال، ترشحات برون‌ریز غنی از فروکتوز خود را به درون مجرای اسپرم‌بر، می‌ریزند.

گزینه (۳): اسپرم‌ها وارد غدهٔ وزیکول سمينال نمی‌شوند، بلکه هر کدام از لوله‌های اسپرم‌بر در حین عبور از کنار و پشت مثانه، ترشحات غدهٔ وزیکول سمينال را دریافت می‌کنند.

گزینه (۴): لوله‌های اسپرم‌ساز درون بیضه‌ها هستند و وظیفهٔ ساخت اسپرم را به عهده دارد و اسپرم‌ها با ۱۸ ساعت توقف در برخاک توانایی حرکت را پیدا می‌کنند

۱۵) ۱ ۲ ۳ ۴ اسپرم سلول هاپلوئید است که از تمایز اسپرماتید حاصل می‌شود نه از تقسیم آن.

بررسی سایر گزینه‌ها:

گزینه (۱): منظور اسپرماتوسیت اولیه است که حاصل تقسیم سیتوپلاسم سلول قبلی خود به نام اسپرماتوگونی است.

گزینه (۳): منظور اسپرماتوسیت‌های ثانویه است که حاصل تقسیم سیتوپلاسم سلول قبلی خود به نام اسپرماتوسیت اولیه است.

گزینه (۴): اسپرماتید حاصل تقسیم سیتوپلاسم سلول قبلی خود به نام اسپرماتوسیت ثانویه است.

مبحث: گفتار ۲ فصل ۷ زیست یازدهم

سری: شماره ۱

زمان: ۲۰ دقیقه

۱ در انسان، همهٔ یاخته‌هایی که در مراحل تخمک‌زایی و با تقسیم نامساوی سیتوپلاسم به‌وجود می‌آیند و در رشد و نمو جنین فاقد نقش‌اند، از نظر با یکدیگر تفاوت و از نظر به یکدیگر شباهت دارند.

- ۱ مقدار دناي (DNA) هسته - داشتن فام تن (کروموزوم)های همتا
- ۲ تعداد فام تن (کروموزوم)های هسته - تعداد میانک (سانتریول)ها
- ۳ عدد کروموزومی - تعداد فامینک (کروماتید)های هسته
- ۴ محل به‌وجود آمدن - تعداد سانترومرهای هسته

۲ با توجه به چرخهٔ جنسی و تخمدانی زنی سالم و بالغ، هورمونی که همزمان با جسم زرد می‌یابد در مردان می‌تواند

- ۱ انتهای تحلیل - افزایش - به همراه اسپرم در بیضه‌ها تولید شود.
- ۲ تشکیل - کاهش - در سطح اسپرماتوگونی‌ها گیرنده داشته باشد.
- ۳ شروع تحلیل - کاهش - یکی از هورمون‌های محرک غدد جنسی باشد.
- ۴ تشکیل - افزایش - در اسپرم‌زایی نقش مؤثری داشته باشد.

۳ کدام گزینه، عبارت زیر را به نادرستی تکمیل می‌کند؟

«در چرخهٔ جنسی یک زن سالم، غلظت هورمون استروژن و پروژسترون در دو زمان متفاوت، باهم برابر می‌شود، در فاصلهٔ زمانی برابر شدن غلظت‌های این دو هورمون می‌توان گفت»

- ۱ بازخورد منفی بین هورمون‌های جنسی و هیپوفیزی وجود دارد.
- ۲ ممکن است بعد از شروع تقسیمات یاختهٔ تخم، جایگزینی انجام شود.
- ۳ جسم زرد تحلیل رفته و ترشحات هورمونی آن در خون کاهش می‌یابد.
- ۴ غلظت استروژن همانند غلظت پروژسترون در خون ابتدا افزایش و سپس کاهش می‌یابد.

۴ کدام گزینه، عبارت زیر را به‌طور صحیح تکمیل می‌کند؟

«طی دورهٔ جنسی یک زن سالم و بالغ، هم‌زمان با ، میزان هر هورمون در خون

- ۱ رسیدن به حداکثر اختلاف غلظت میان هورمون‌های استروژن و پروژسترون - محرک غدد جنسی - شروع به کاهش می‌کند.
- ۲ رسیدن به حداکثر اختلاف غلظت میان مقدار FSH و LH در خون - جنسی مترشحه از تخمدان - افزایش می‌یابد.
- ۳ آغاز تولید تودهٔ یاخته‌ای در تخمدان که تحت اثر هورمون LH رشد می‌کند - مترشحه از فولیکول تخمدان - کاهش می‌یابد.
- ۴ آزاد شدن اووسیت ثانویه از تخمدان به حفرهٔ شکمی - جنسی مؤثر در رشد دیوارهٔ رحم - در نیمهٔ اول چرخهٔ فولیکولی افزایش پیدا می‌کند.

۵ در یک زن بالغ و سالم، هر اووسیتی که ممکن است در دیده شود، به‌طور حتم

- ۱ لولهٔ رحمی (لولهٔ فالوپ) - دارای کروموزوم‌های تک‌کروماتیدی است.
- ۲ درون رحم - هیچ‌گاه با یاختهٔ جنسی نر، لقاح نداشته است.
- ۳ غدهٔ جنسی - تقسیم میوز ۱ خود را به پایان نرسانده است.
- ۴ محل ورود اسپرم - به‌زودی تقسیم میوز ۱ خود را کامل می‌کند.

۶ کدام گزینه، عبارت زیر را به نادرستی تکمیل می‌کند؟

«در بخشی از چرخهٔ جنسی زنی سالم و بالغ که دیده می‌شود؛ به‌طور قطع

- ۱ حداقل اختلاف غلظت هورمون‌های FSH و LH - مقدار هورمون‌های استروژن و پروژسترون برابر می‌باشد.
- ۲ آغاز حجیم شدن یاخته‌های فولیکولی - افزایش میزان مصرف اسیدفولیک و آهن در بدن دیده می‌شود.
- ۳ شروع کاهش مقدار هورمون پروژسترون - میزان ترشح LH از بخش پیشین غدهٔ زیرمغزی رو به کاهش است.
- ۴ آغاز افزایش ضخامت دیوارهٔ داخلی رحم - غلظت هورمون FSH از LH در خون بیشتر می‌باشد.

۷) در بدن یک زن سالم و بالغ، چند مورد درباره هر یاخته ای که در نیمه چرخه جنسی از تخمدان به درون حفره شکمی آزاد می شود، صحیح است؟
 الف) در پی تقسیم نامساوی میان یاخته، در تخمدان فرد تولید شده اند.
 ب) تحت شرایطی می توانند با اسپرم وارد شده به بدن زن، لقاح انجام بدهد.
 ج) در پی تقسیم میوز ۱ نوعی یاخته دولا در یکی از فولیکول ها تولید شده است.
 د) بعد از ایجاد رابطه باز خوردی مثبت بین هورمون های جنسی و هیپوفیزی از تخمدان آزاد می شوند.

۴ مورد ۴

۳ مورد ۳

۲ مورد ۲

۱ مورد ۱

۸) کدام گزینه، عبارت زیر را به طور صحیح تکمیل می کند؟

«در بخشی از چرخه جنسی زنان، اختلاف غلظت بین هورمون های LH و FSH خون در بیشترین حد خود قرار دارد. بلافاصله پس از این زمان

اووسیت اولیه به اووسیت ثانویه تبدیل می شود. ۲

میزان هورمون استروژن شروع به کاهش می کند. ۱

تفاوت میزان غلظت استروژن و پروژسترون در خون شروع به کاهش می کند. ۴

تعداد یاخته های سازنده استروژن تخمدان کاهش می یابد. ۳

۹) چند مورد در ارتباط با هر یاخته ای که در هسته خود دارای یک مجموعه کروموزومی است و امکان دارد در لوله رحمی یک زن سالم و بالغ دیده شود، صحیح است؟

الف) تحت تأثیر هورمون های هیپوفیزی در غدد جنسی تولید می شود.

ب) به کمک زنش مژک های بافت پوششی در لوله رحمی حرکت می کند.

ج) حدوداً در روز چهاردهم چرخه جنسی از فولیکول بالغ موجود در تخمدان آزاد می شوند.

د) این یاخته ها به کمک گروهی از رشته های دوک، کروماتیدهای خواهری کروموزوم های خود را از هم جدا می کنند.

۴ صفر ۴

۳ مورد ۳

۲ مورد ۲

۱ مورد ۱

۱۰) کدام گزینه درباره هر اووسیتی در بدن زنی غیرباردار، سالم و ۲۵ ساله که در مرحله ای از تقسیم کاستمان (میوز) متوقف شده است، صحیح است؟

در دوران جنینی و از تقسیم میتوز یاخته های مامه زا (اووگونی) تولید شده اند. ۱

توسط دسته ای از یاخته های پیکری به نام یاخته های فولیکولی احاطه شده است. ۲

همواره با انجام تقسیم هسته و سیتوپلاسم، یاخته های هاپلوئید تولید می کند. ۳

با تکمیل تقسیم میوز ۱، در تخمدان دو یاخته با کروموزوم های مضاعف تولید می کند. ۴

۱۱) در طی چرخه جنسی یک زن سالم و بالغ، هر زمانی که بین هورمون های محرک غدد جنسی و هورمون های جنسی زنانه تنظیم باز خوردی منفی وجود دارد، ممکن نیست

مقدار هورمون LH و FSH ترشح شده از هیپوفیز با هم برابر باشد. ۱

میزان هورمون مؤثر در رشد جسم زرد در خون فرد در حال کاهش باشد. ۲

در تقسیم اووسیت ساختارهای ۴ کروماتیدی در مرحله ای از تقسیم میوز تشکیل شود. ۳

اووسیت ثانویه در صورت برخورد با اسپرم و آغاز فرایند لقاح، تقسیم میوز ۲ خود را تکمیل کند. ۴

۱۲) به طور معمول در چرخه جنسی یک فرد سالم، هم زمان با ، مقدار استروژن خون، کاهش و میزان در خون، رو به افزایش می گذارد. (با تغییر)

خروج اووسیت ثانویه از تخمدان - پروژسترون ۲

شروع رشد فولیکول ها - هورمون LH ۱

شروع ضخیم شدن دیواره رحم - هورمون آزادکننده ۴

افزایش اندازه جسم زرد - هورمون محرک فولیکولی ۳

۱۳) طی چرخه جنسی یک فرد سالم، هم زمان با میزان هورمون در خون (با تغییر)

آغاز تحلیل توده ای زرد رنگ از سلول های فولیکولی - استروژن - کاهش می یابد ۲ تشکیل نخستین گویچه ی قطبی - لوتئینی کننده - شروع به افزایش می نماید. ۱

آغاز رشد فولیکول پاره شده - محرک فولیکولی - شروع به کاهش می نماید. ۳ آزاد شدن اووم از تخمدان - پروژسترون - افزایش می یابد. ۴

۱۴) به طور معمول، در فاصله‌ی روزهای هفتم تا چهاردهم از چرخه‌ی جنسی زنان، (با تغییر)

- ۱) حداکثر میزان LH، سبب تشکیل اووم می‌شود.
- ۲) مقادیر بالای پروژسترون سبب ضخیم شدن و حفظ دیواره‌ی رحم می‌شود.
- ۳) میزان ترشح استروژن و پروژسترون، به طور قابل توجهی افزایش می‌یابد.
- ۴) FSH با تأثیر بر فولیکول، سبب تولید هورمون استروژن می‌شوند.

۱۵) به طور معمول در دستگاه تولید مثلی زنان، (با تغییر)

- ۱) انقباض ماهیچه‌های مخطط لوله‌ی فالوپ به حرکت تخمک کمک می‌کند.
- ۲) در اواخر دوره‌ی فولیکولی تخمدان، ضخامت دیواره‌ی رحم به بیش‌ترین حد خود می‌رسد.
- ۳) گیرنده هورمون FSH بر روی سطح یاخته‌های فولیکولی قرار دارند.
- ۴) یک هفته بعد از تخمک‌گذاری، ترشح استروژن و پروژسترون به بیش‌ترین مقدار خود می‌رسد.

۱۶) در بخشی از چرخه‌ی جنسی زنان، اختلاف میان مقدار LH و FSH خون در بیش‌ترین حد خود قرار دارد. بلافاصله پس از این زمان،

- ۱) اووسیت ثانویه به تخمک تبدیل می‌شود.
- ۲) میزان هورمون‌های مترشحه از تخمدان افزایش می‌یابد.
- ۳) ترشحات جسم زرد و هورمون‌های هیپوفیزی افزایش می‌یابد.
- ۴) تفاوت میان مقدار استروژن و پروژسترون خون کم می‌شود.


۱۷) در هفته‌ی دوم دوره‌ی جنسی زنان هفته‌ی سوم، تنظیم ترشح هورمون LH به صورت است.

- ۱) همانند - خودتنظیمی مثبت
- ۲) همانند - خودتنظیمی منفی
- ۳) برخلاف - خودتنظیمی مثبت
- ۴) برخلاف - خودتنظیمی منفی

۱۸) غدد جنسی مرد غدد جنسی زن

- ۱) همانند - فقط تحت تأثیر هورمون‌های غیرجنسی است.
- ۲) همانند - تحت تأثیر هورمون‌های جنسی و غیرجنسی است.
- ۳) برخلاف - فقط تحت تأثیر هورمون‌های غیرجنسی است.
- ۴) برخلاف - تحت تأثیر هورمون‌های جنسی و غیرجنسی است.

۱۹) شکل مقابل، بخشی از چرخه‌ی تخمدان انسان را نشان می‌دهد. کمی قبل از مرحله‌ای که علامت سؤال نشان داده شده است، کدام هورمون



تخمدانی، بیش‌تر ترشح می‌شود؟ (با تغییر)

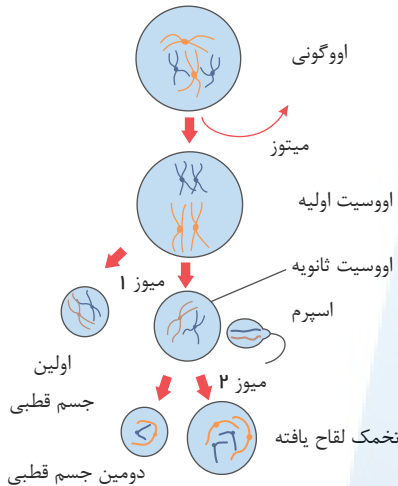
- ۱) پروژسترون
- ۲) استروژن
- ۳) لوتئینی‌کننده
- ۴) محرک فولیکولی

۲۰) در دوره‌ی جنسی یک زن سالم سی ساله، هر گاه

- ۱) غلظت هورمون استروژن از پروژسترون کمتر باشد، افزایش اندازه‌ی جسم زرد مشاهده می‌شود.
- ۲) غلظت هورمون FSH در حال کاهش باشد، رشد فولیکول در تخمدان و تقسیم اووسیت اولیه مشاهده می‌شود.
- ۳) غلظت هورمون‌های استروژن و پروژسترون در خون برابر باشد، غلظت هورمون‌های هیپوفیزی شروع به کاهش می‌کنند.
- ۴) جسم زرد بیشترین فعالیت ترشحي خود را داشته باشد، غلظت هورمون پروژسترون برخلاف استروژن حداکثر است.

پاسخنامه تشریحی

۱) باتوجه به تصویر زیر، منظور سؤال اولین و دومین جسم قطبی است که هر دو حاصل تقسیم نامساوی سیتوپلاسم به ترتیب به دنبال میوز ۱ و ۲ هستند. جسم قطبی اول که حاصل میوز ۱ است در تخمدان، ولی جسم قطبی ۲ که حاصل میوز ۲ است، فقط پس از لقاح در اوایل لوله فالوپ تولید می‌شود؛ پس از نظر محل تولید باهم تفاوت دارند؛ ولی هر دو جسم قطبی n کروموزومی (هاپلوئید = تک‌لاد) هستند؛ پس تعداد سانترومر برابر دارند. بررسی سایر گزینه‌ها:



گزینه ۱: نادرست. مقدار دناى هسته جسم قطبی اول دو برابر دوم است، زیرا جسم قطبی اول دارای کروموزوم‌های مضاعف، ولی جسم قطبی دوم کروموزوم ساده دارد. در ضمن هیچ کدام از اجسام قطبی ۱ و ۲ کروموزوم همتا ندارند (چون هاپلوئیداند).

گزینه ۲: نادرست. تعداد فام‌تن‌های هسته هر دو جسم قطبی برابر است، چون هاپلوئید هستند.

گزینه ۳: نادرست. عدد کروموزومی هر دو جسم قطبی ۱ و ۲ هاپلوئید است، جسم قطبی اول، دو برابر جسم قطبی دوم، فامینک دارد.

۲) بررسی گزینه‌ها:

گزینه ۱: نادرست، هورمون تستوسترون و اسپرم در بیضه‌ها تولید می‌شوند.

گزینه ۲: نادرست، FSH می‌تواند بر یاخته‌های سرتولی (بزرگ‌ترین یاخته‌های مجاری اسپرم‌ساز) اثر کند.

گزینه ۳: نادرست، FSH یکی از هورمون‌های محرک غدد جنسی می‌باشد.

گزینه ۴: درست، در مردان هورمون FSH در تمایز اسپرم نقش دارد و هورمون LH در تولید تستوسترون مستقیماً نقش دارد.

۳) بررسی گزینه‌ها:

دقت کنید زمانی که در یک چرخه جنسی هورمون‌های جنسی برای بار دوم با هم برابر می‌شوند، در واقع میزان استروژن و پروژسترون در انتهای چرخه کاهش یافته است که مقدار آن‌ها با هم برابر شده است، در نتیجه ممکن نیست جایگزینی صورت گرفته باشد، زیرا در صورت وقوع جایگزینی، تحت اثر ترشح هورمون HCG ، میزان پروژسترون بالا باقی می‌ماند. بررسی سایر گزینه‌ها:

گزینه ۱: بالا بودن هورمون‌های جنسی سبب کاهش هورمون‌های محرک جنسی می‌شود. (طی مکانیسم بازخورد منفی)

گزینه ۲ و ۳: از حدود روز ۲۲ ام جسم زرد تحلیل رفته و از میزان ترشح هورمون‌های استروژن و پروژسترون کاسته می‌شود.

۴) بررسی گزینه‌ها:

توجه: دوره جنسی تخمدان به دو قسمت فولیکولی و لوتئال تقسیم‌بندی می‌شود.

گزینه ۱: دقت کنید حدود روز ۱۲ یا ۱۳ دوره جنسی حداکثر اختلاف غلظت میان استروژن و پروژسترون است که هم‌زمان با آن هورمون‌های محرک جنسی افزایش ناگهانی دارند و مقدار هورمون FSH شروع به کاهش می‌کند.

گزینه ۲: میزان هورمون استروژن در حال کاهش است. هورمون‌های جنسی استروژن و پروژسترون است.

گزینه ۳: در نیمه اول دوره فولیکولی، از فولیکول تخمدانی تنها استروژن ترشح می‌گردد که در زمان آغاز تشکیل جسم زرد، (توده یاخته‌ای که با تأثیر LH فعالیت ترشحی خود را افزایش می‌دهد) دچار کاهش غلظت می‌گردد.

گزینه ۴: در این زمان استروژن در حال کاهش می‌باشد. هم استروژن و هم پروژسترون در رشد دیواره رحم تأثیر دارند.

۵) بررسی گزینه‌ها:

اووسیت ثانویه از تخمدان آزاد شده و وارد لوله رحم می‌شود، اگر اسپرمی در بدن وجود داشته باشد، احتمال دارد که در لوله رحمی لقاح انجام دهد، بنابراین اگر اووسیتی در رحم دیده شود، یعنی هیچ‌گاه با اسپرم لقاح نداشته است.

بررسی سایر گزینه‌ها:

گزینه ۱: کروموزوم‌های اووسیت ثانویه دوکروماتیدی است.

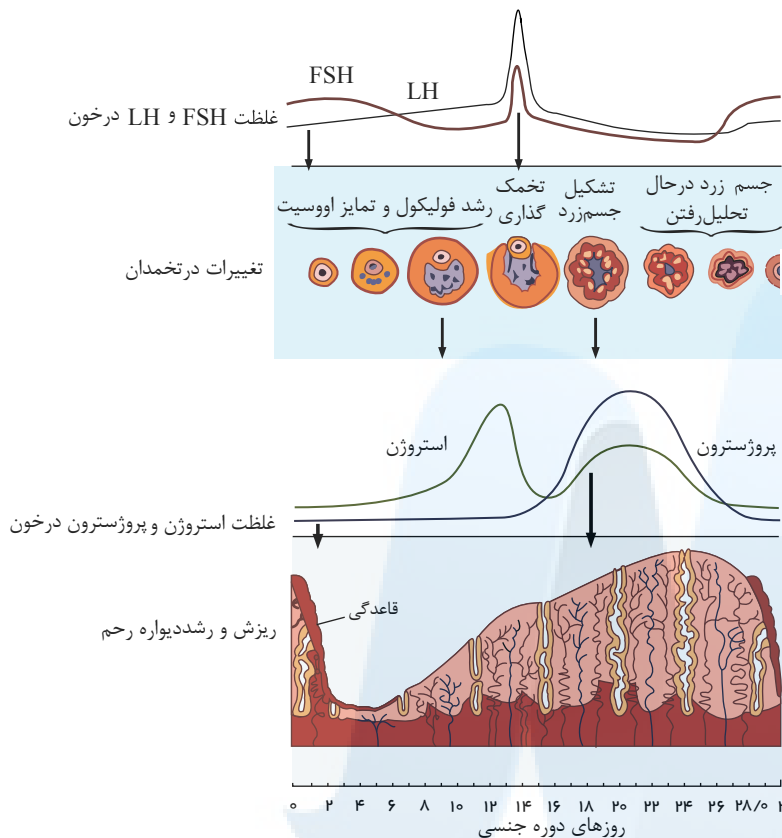
گزینه ۳: اووسیت ثانویه در تخمدان دیده می‌شود، بنابراین، در غده جنسی اووسیتی وجود دارد که تقسیم میوز ۱ خود را به پایان رسانده است.

گزینه ۴: اگر اووسیتی در واژن (محل ورود اسپرم‌ها) دیده شود، به‌طور حتم اووسیت ثانویه است که تقسیم میوز ۱ خود را به پایان رسانده است.

۶) بررسی سایر گزینه‌ها:

گزینه ۲: در ابتدا چرخه جنسی، یاخته‌های فولیکولی شروع به حجیم شدن می‌کنند؛ این اتفاق هم‌زمان با قاعدگی است که در طی آن دیواره داخلی رحم تخریب شده و دفع خون از بدن دیده می‌شود. جهت افزایش تولید گویچه‌های قرمز، به افزایش مصرف اسیدفولیک و آهن در بدن نیاز داریم.

گزینه‌های ۳ و ۴: مطابق شکل این مورد صحیح است.



۷ فقط مورد (د) صحیح است. در زمان تخمک گذاری، اووسیت ثانویه، اولین جسم قطبی و تعدادی از یاخته های فولیکولی آزاد می شوند. بررسی موارد:

مورد الف) بعد از تقسیم میوز ۱ اووسیت اولیه، تقسیم میان یاخته به صورت نامساوی صورت می گیرد. تقسیم سیتوپلاسم یاخته های فولیکولی به صورت مساوی انجام می شود. مورد ب) برای یاخته های فولیکولی صادق نیست. مورد ج) برای یاخته های فولیکولی صادق نیست. مورد د) قبل از تخمک گذاری بین هورمون های جنسی تخمدان و هورمون های هیپوفیزی، تنظیم باز خوردی مثبت ایجاد می شود.

۸ در نیمه چرخه جنسی اختلاف غلظت FSH و LH در بیشترین حد خود قرار دارد. طی تخمک گذاری تعدادی از یاخته های فولیکولی (سازنده استروژن) از تخمدان همراه اووسیت ثانویه خارج می شود.

۹ در لوله رحمی اووسیت ثانویه، تخمک، گویچه های قطبی و اسپرم ممکن است مشاهده شود که این یاخته ها همگی تک لاد هستند. بررسی موارد:

مورد الف) برای تخمک و دومین گویچه قطبی صحیح نیست. موارد ب)، ج) و د) برای اسپرم صادق نیست.

۱۰ اووسیت اولیه در مرحله پروفا میوز ۱ در دوران جنینی متوقف شده است و اووسیت ثانویه در آغاز میوز ۲ و تا زمانی که لقاح صورت بگیرد، متوقف می شود. هر دوی این اووسیت ها توسط یاخته های فولیکولی احاطه شده اند.

۱۱ دقت کنید تقسیم میوز ۱ و تشکیل تتراد در دوران جنینی صورت می گیرد و در طی چرخه جنسی، ادامه تقسیم میوز صورت می گیرد.

۱۲ در وسط چرخه جنسی، خروج تخمک از تخمدان (تخمک گذاری) صورت می گیرد که در این زمان، تولید پروژسترون از جسم زرد شروع می شود و مقدار آن در خون افزایش می یابد و از طرفی از تولید استروژن، کاسته می شود و مقدار آن در خون کاهش می یابد.

گزینه ۱) با شروع رشد فولیکول ها، تعداد یاخته های فولیکولی، افزایش می یابد و در نتیجه میزان ترشح هورمون استروژن نیز افزایش می یابد.

گزینه ۳) با افزایش اندازه جسم زرد، میزان استروژن و پروژسترون خون افزایش می یابد. زیرا یاخته های جسم زرد، استروژن و پروژسترون ترشح می کنند.

گزینه ۴) با شروع ضخیم شدن دیواره رحم، استروژن در خون بالا می رود. زیرا با شروع رشد فولیکول، و افزایش ترشح استروژن، دیواره رحم در اثر استروژن ضخیم می شود.

۱۳ در هفته آخر چرخه تخمدان (پس از روز ۲۱) با آغاز تحلیل رفتن جسم زرد از سلول های فولیکولی، غلظت هورمون استروژن کاهش پیدا می کند. بررسی سایر گزینه ها:

گزینه ۲): زیاد شدن LH که در اثر افزایش ترشح استروژن رخ می دهد، عامل اصلی تخمک گذاری است به دنبال تخمک گذاری (نه همزمان) باقی مانده فولیکول در تخمدان به جسم زرد تبدیل می شود.

گزینه ۳): شروع به کاهش FSH و LH قبل از روز ۱۴ است ولی آغاز رشد فولیکول پاره شده (همان جسم زرد) از روز ۱۴ می باشد.

گزینه ۴): آزاد شدن اووسیت ثانویه (نه اووم) از تخمدان، با افزایش هورمون پروژسترون همراه است.

۱۴ در هفته دوم دوره ی جنسی زنان، FSH با تأثیر بر سلول های فولیکولی موجب تحریک تولید استروژن می شوند. بررسی سایر گزینه ها:

گزینه (۱): LH سبب می شود گامت ها ، اولین تقسیم میوزی خود را کامل کنند (تشکیل اووسیت ثانویه)

گزینه (۲): در فاصله زمانی (۷ - ۱۴) مقادیر بالای استروژن سبب ضخیم شدن و حفظ دیواره رحم می شود.

گزینه (۳): در فاصله زمانی (۷ - ۱۴) میزان استروژن (نه پروژسترون) به طور قابل ملاحظه ای افزایش می یابد.

گزینه (۱۵) در سطح یاخته های فولیکولی گیرنده هایی وجود دارد که FSH به آن ها متصل می شود.

بررسی سایر گزینه ها:

گزینه (۱): ماهیچه های لوله فالوپ از نوع صاف اند .

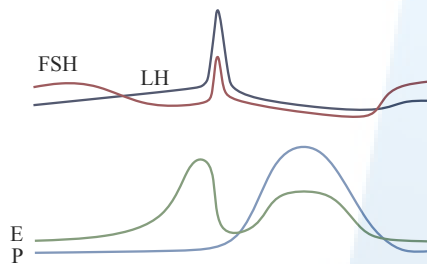
گزینه (۲): حد اکثر قطر دیواره ی رحم به اواخر دوره ی لوتال مربوط است. (روز ۲۶)

گزینه (۴): در مورد هورمون استروژن صدق نمی کند حد اکثر مقدار استروژن مربوط به قبل از تخمک گذاری است.

گزینه (۱۶) بیشترین اختلاف مابین غلظت LH و FSH زمانی است که LH در بالاترین حد خودش باشد. بلافاصله پس از آن LH کاهش می یابد. پس از روز ۱۴ پس

از تخمک گذاری مقدار استروژن به عنوان یک هورمون مترشحه از تخمدان، کمی کاهش پیدا کرده و به دلیل افزایش ترشح پروژسترون تفاوت استروژن و پروژسترون به پایین ترین مقدار خود

می رسد. (حدود روزهای ۱۶ و ۲۶ غلظت آن ها با هم برابر است).



گزینه (۱۷) در هفته دوم دوره جنسی زنان تنظیم ترشح LH تحت تأثیر خودتنظیمی مثبت (افزایش استروژن ← افزایش LH) است، اما در هفته سوم (هفته اول لوتال)

تحت تأثیر خودتنظیمی منفی (افزایش استروژن و پروژسترون ← کاهش LH) است.

گزینه (۱۸) غدد جنسی در مردان، بیضه ها و در زنان، تخمدان ها هستند. در مردان این غدد تحت تأثیر هورمون های هیپوفیزی (غیرجنسی) LH و FSH و نیز هورمون

جنسی تستوسترون قرار دارند. در زنان، تخمدان ها نیز تحت تأثیر LH و FSH و هورمون جنسی استروژن قرار دارند.

گزینه (۱۹) نخست این که در صورت سؤال گفته شده «کدام هورمون تخمدانی» بنابراین هورمون لوتینی کننده (LH) و محرک فولیکولی (FSH) که از هورمون های

هیپوفیز پیشین هستند، به راحتی حذف می شوند. دوم این که، مرحله ای که با علامت سؤال مشخص شده، مربوط به زمان تخمک گذاری (حدود روز چهاردهم) است. در این زمان، استروژن در

حداکثر میزان خود است، اما پروژسترون از این به بعد رو به افزایش است.

گزینه (۲۰)

گزینه (۱): در نزدیک به انتهای چرخه جنسی، هنگامی که غلظت استروژن از پروژسترون کم تر و غلظت پروژسترون در حال

کاهش است، جسم زرد در حال تحلیل رفتن است.

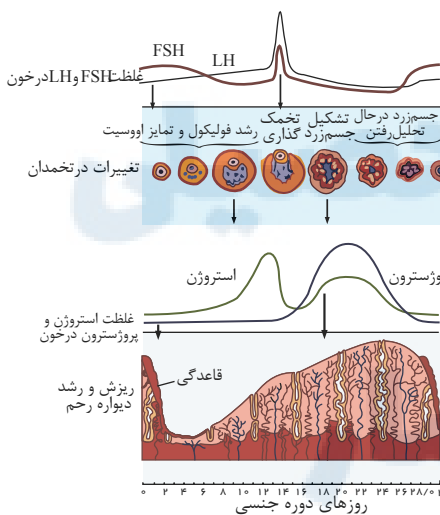
گزینه (۲): در ابتدای دوره لوتال نیز غلظت هورمون FSH در حال کاهش است.

گزینه (۳): دقت کنید در اواخر مرحله لوتالی در صورت عدم بارداری غلظت هورمون های استروژن و پروژسترون با هم برابر می

شوند و در این هنگام غلظت هورمون FSH شروع به افزایش می کند.

گزینه (۴): هنگامی که جسم زرد بیشترین میزان فعالیت ترشحي خود را دارد، غلظت هورمون پروژسترون در خون حداکثر است،

اما حداکثر غلظت هورمون استروژن قبل از تخمک گذاری است.





مبحث: گفتار ۲ فصل ۷ زیست یازدهم

سری: شماره ۲

زمان: ۲۰ دقیقه

۱ در انسان، همهٔ یاخته‌هایی که در طی مراحل تخمک‌زایی و با تقسیم نامساوی سیتوپلاسم به‌وجود آمده‌اند و در رشد و نمو جنین فاقد نقش‌اند، از نظر به یکدیگر شباهت و از نظر با یکدیگر تفاوت دارند.

- ۱ داشتن فام‌تن (کروموزوم)‌های همتا - تعداد فامینک (کروماتید)‌های هسته
- ۲ مقدار دنا (DNA)ی هسته - تعداد فام‌تن (کروموزوم)‌های هسته
- ۳ تعداد سانترومرهای موجود در هسته - محل به‌وجود آمدن
- ۴ تعداد میانک (سانتریول)‌ها - عدد کروموزومی

۲ در بخش‌هایی از چرخهٔ جنسی زن بالغ، اختلاف مقدار دو هورمون FSH و LH به حداقل می‌رسد، بلافاصله از این زمان‌ها، قطعاً

- ۱ بعد - میزان هورمون‌های جنسی مترشحه از تخمدان افزایش می‌یابد.
- ۲ قبل - میزان هورمون LH بیشتر از هورمون FSH در خون می‌باشد.
- ۳ بعد - تفاوت میان غلظت استروژن و پروژسترون خون کم می‌شود.
- ۴ قبل - تغییرات استروژن و FSH موجود در خون ناهمسو می‌باشد.

۳ کدام گزینه، عبارت مقابل را به‌طور صحیح تکمیل می‌کند؟ «به‌طور معمول در چرخهٔ تخمدانی زنان سالم و بالغ،»

- ۱ در ابتدا اثر هورمون FSH روی فولیکول‌ها موجب می‌شود یکی از آن‌ها شروع به رشد کند و چرخهٔ تخمدانی را آغاز کند.
- ۲ به دنبال کاهش سرعت رشد دیوارهٔ داخلی رحم، فعالیت ترشعی دیوارهٔ رحم برای آمادگی جهت پذیرش تخم آغاز می‌شود.
- ۳ با اثر هورمونی که افزایش آن عامل اصلی تخمک‌گذاری است، یاخته‌های جسم زرد فعالیت ترشعی خود را آغاز می‌کند.
- ۴ در حفاصل زمان‌هایی که مقدار دو هورمون هیپوفیزی در خون برابر می‌باشد، حداکثر مقدار هورمون‌های جنسی زنانه را در خون می‌توان مشاهده کرد.

۴ در انسان یک تودهٔ یاخته‌ای بی‌شکلی از لقاح اسپرم با نوعی یاخته ایجاد شده است که پس از مدتی از بدن دفع می‌شود. در مورد این یاخته، کدام گزینه قطعاً درست است؟

- ۱ برخلاف اووسیت اولیه، در آن فامینک‌های (کروماتیدهای) خواهری در محل سانترومر به یکدیگر متصل هستند.
- ۲ نسبت به یاختهٔ تخمک، مقدار سیتوپلاسم و اندامک‌های کمتری درون خود دارد.
- ۳ همانند اووگونی درون غدد جنسی یک زن بالغ می‌توانند تقسیم سلولی انجام دهد.
- ۴ برخلاف اووسیت ثانویه، در پی تشکیل کمر بند پروتئینی در وسط یاخته تولید شده است.

۵ به‌طور معمول، در طول دورهٔ جنسی یک زن بالغ، هم‌زمان با امکان افزایش هورمون وجود ندارد.

- ۱ ریزش داخلی‌ترین لایهٔ رحم - آزادکنندهٔ هیپوتالاموسی
- ۲ افزایش میزان پروژسترون ترشح‌شده از جسم زرد - هیپوفیزی مؤثر در رشد جسم زرد
- ۳ رشد فولیکول و تمایز اووسیت داخل آن - محرک اصلی در تخمک‌گذاری
- ۴ کاهش اندازهٔ تودهٔ یاخته‌های جسم زرد - محرک ترشح استروژن

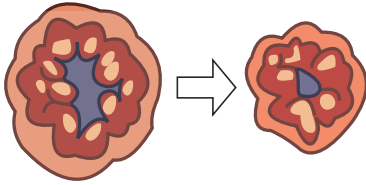
۶ کدام گزینه عبارت زیر را به نادرستی کامل می‌کند؟

«در طی چرخهٔ جنسی یک زن سالم و بالغ، تقریباً هم‌زمان با میزان هورمون در خون

- ۱ تقسیم نامساوی سیتوپلاسم در طی تقسیم اووسیت اولیه - FSH - نمی‌تواند بیشتر از هورمون LH باشد.
- ۲ آزادشدن یاختهٔ اووسیت اولیه از تخمدان به محوطهٔ شکمی - LH - در بیشترین میزان خود قرار دارد.
- ۳ ناپایداری جدار رحم و شروع خونریزی قاعدگی - استروژن - بیشتر از هورمون پروژسترون است.
- ۴ رشد و بالغ‌شدن لایه‌های یاخته‌ای فولیکولی - استروژن - نسبت به هورمون پروژسترون بیشتر می‌باشد.



۷) با توجه به شکل مقابل که مربوط به مراحل چرخه تخمدانی یک زن سالم و بالغ است، کدام گزینه صحیح است؟



- ۱) در این مدت ممکن نیست ترشح FSH و LH تحت تأثیر بازخورد منفی تنظیم شود.
- ۲) در این مدت ممکن است مقدار هورمون استروژن از پروژسترون بیشتر باشد.
- ۳) در این مدت ممکن است ضخامت دیواره داخلی رحم در حال کاهش باشد.
- ۴) در این مدت ممکن نیست مقدار LH از FSH کمتر باشد.

۸) کدام گزینه، عبارت زیر را به طور صحیح تکمیل می کند؟

«در طی چرخه جنسی یک زن سالم و بالغ، در حد فاصل زمان هایی که مقدار دو هورمون جنسی مترشح از تخمدان با هم برابر می شود»

- ۱) ممکن نیست جسم زرد موجود در تخمدان غیرفعال شود.
- ۲) میزان فعالیت ترشحي دیواره داخلی رحم می تواند در حال افزایش باشد.
- ۳) اختلاف غلظت هورمون های محرک غدد جنسی در حال افزایش است.
- ۴) میزان هورمون هیپوفیزی مؤثر در رشد جسم زرد در خون افزایش می یابد.

۹) کدام گزینه عبارت زیر را به طور نامناسب کامل می نماید؟

«به طور معمول در زنان سالم و بالغ،، هیچگاه»

- ۱) زمانی که اووسیت ثانویه دومین تقسیم میوزی را کامل می کند - به طور همزمان پارگی در تخمدان به علت تخمک گذاری مشاهده نمی شود.
- ۲) حداکثر میزان هورمون ترشح شده از یاخته های احاطه کننده اووسیت در تخمدان - در ایجاد پاسخ بازخورد مثبت با هورمون های هیپوفیزی نقش ندارد.
- ۳) هر هورمونی که در تنظیم و هدایت چرخه تخمدانی نقش دارد - در اوایل چرخه جنسی، تحت تأثیر بازخورد مثبت هورمون های جنسی قرار ندارند.
- ۴) پس از نفوذ جنین به جدار رحم و ایجاد رابطه خونی با مادر - غلظت هورمون های هیپوفیزی در انتهای چرخه جنسی افزایش نمی یابد.

۱۰) کدام گزینه عبارت «در تمام مدتی که رو به افزایش است» را در رابطه با چرخه جنسی یک زن سالم و غیرباردار به

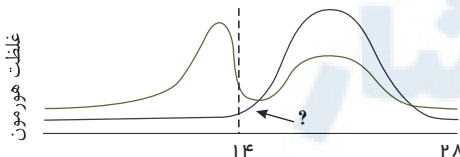
درستی کامل می کند؟

- ۱) غلظت هورمون LH در خون - اووسیت اولیه مراحل میوز ۱ را شروع می کند.
- ۲) ضخامت دیواره رحم - اختلاف غلظت LH و FSH در خون بیشتر می شود.
- ۳) غلظت استروژن در خون - مانع ترشح هورمون FSH از هیپوفیز پیشین می شود.
- ۴) اندازه جسم زرد - چین خوردگی های دیواره داخلی رحم و اندوخته خونی آن بیشتر می شود.

۱۱) هورمون

- ۱) پروژسترون، رحم را برای انجام لقاح آماده می کند.
- ۲) محرک ترشح تستوسترون، بر روی تخمدان اثر ندارد.
- ۳) محرک فولیکول در انسان فقط درون تخمدان گیرنده دارد.
- ۴) LH در چرخه جنسی طبیعی زنان تحت کنترل خودتنظیمی مثبت و منفی قرار دارد.

۱۲) در نمودار مقابل، علامت سؤال، تغییرات کدام هورمون را در چرخه جنسی زنان نشان می دهد؟ (با تغییر)



- ۱) LH
- ۲) FSH
- ۳) پروژسترون
- ۴) استروژن

۱۳) در ارتباط با تخمک زایی در فرد سالم، کدام موارد صحیح بیان شده اند؟

- الف) به طور قطع هر گویچه قطبی حاصل از تقسیم میوز ۱، در پی لقاح با اسپرم، توده ای بی شکل تولید می کند.
- ب) در تخمدان، در پی هر تقسیم میوزی، تقسیم نامساوی سیتوپلاسم انجام می شود.
- ج) مراحل تخمک زایی پس از شروع در دو مرحله مختلف، متوقف می شود.
- د) تقسیم نامساوی سیتوپلاسم در تخمک زایی، به منظور تولید گویچه های قطبی انجام می شود.

- ۱) الف و ب ۲) ب و ج ۳) الف و د ۴) ج و د

۱۴) در طول چرخه جنسی یک زن سالم و بالغ، هنگامی که غلظت هورمون‌های در خون برابر می‌شود، قطعاً

۱) LH و FSH - فولیکول در حال رشد در تخمدان‌ها مشاهده می‌شود.

۲) LH و FSH - جسم زرد در حال تحلیل رفتن است.

۳) استروژن و پروژسترون - هیچ فولیکول در حال رشدی در تخمدان‌ها مشاهده نمی‌شود.

۴) استروژن و پروژسترون - غلظت هورمون FSH در خون در حال کاهش است.

۱۵) کدام گزینه، جمله زیر را به درستی تکمیل می‌کند؟

«هنگامی که دیواره داخلی رحم»

۱) حداکثر ضخامت خود را دارد، میزان هورمون استروژن خون در بالاترین حد خود قرار دارد.

۲) شروع به ضخیم شدن می‌کند، مقدار هورمون‌های استروژن و پروژسترون در خون افزایش می‌یابد.

۳) حداقل ضخامت خود را دارد، میزان هورمون‌های استروژن و پروژسترون در خون کاهش می‌یابد.

۴) شروع به ضخیم شدن می‌کند، مقدار هورمون استروژن همانند هورمون LH در خون، در حال افزایش است.

۱۶) در چرخه جنسی یک زن بالغ و سالم، بلافاصله پس از ابتدا و سپس

۱) کاهش غلظت پروژسترون خون - ضخامت دیواره رحم کاهش می‌یابد - مقدار هورمون استروژن خون شروع به کاهش می‌نماید.

۲) شروع افزایش ضخامت دیواره رحم - مقدار هورمون‌های هیپوفیزی افزوده می‌شود - مقدار هورمون پروژسترون خون اندکی ثابت می‌ماند.

۳) آغاز تحلیل رفتن جسم زرد - تولید هورمون‌های تخمدانی کاهش می‌یابد - مقدار هورمون FSH در خون شروع به افزایش می‌نماید.

۴) مشاهده حداقل اختلاف بین غلظت هورمون‌های تخمدانی - اووم آزاد می‌شود - ضخامت دیواره رحم برای مدت کوتاهی تغییر نمی‌کند.

۱۷) کدام گزینه، عبارت زیر را به نادرستی تکمیل می‌نماید؟

«در چرخه جنسی یک خانم ۳۰ ساله و سالم،»

۱) در فاصله روزهای ۱۰ تا ۲۴، ضخامت دیواره رحم رو به افزایش است.

۲) در هفته آخر این چرخه، ممکن است مقدار هورمون پروژسترون در خون کاهش نیابد.

۳) در شروع این چرخه، مقدار هورمون‌های هیپوفیزی از مقدار حداقل خود در خون بالاتر است.

۴) نورون‌های هیپوتالاموس با ترشح بعضی از هورمون‌ها می‌توانند مستقیماً چرخه تخمدانی را تنظیم کنند.

۱۸) در چرخه تخمدانی یک فرد سالم،

۱) هرگاه مقدار هورمون استروژن در خون افزایش می‌یابد، مقدار هورمون LH نیز در حال افزایش است.

۲) در زمان تشکیل جسم زرد، مقدار هورمون LH در خون از مقدار هورمون FSH بیشتر است.

۳) در دو هفته اول، تغییرات غلظت هورمون‌های تنظیم‌کننده چرخه همواره همسو است.

۴) هر زمانی که غلظت هورمون‌های هدایت‌کننده چرخه تخمدانی برابر می‌شود، جسم زرد در حال تحلیل رفتن است.

۱۹) در طی چرخه جنسی یک فرد سالم، هم‌زمان با میزان هورمون در خون شروع به می‌نماید. (با تغییر)

۱) تشکیل اووسیت ثانویه - استروژن - افزایش

۲) تشکیل اولین گویچه قطبی - LH - افزایش

۳) آغاز رشد فولیکول پاره شده - پروژسترون - کاهش

۴) هم‌زمان با شروع تشکیل جسم زرد - پروژسترون - افزایش.

۲۰) کدام گزینه عبارت زیر را به نادرستی تکمیل می‌کند؟ (با تغییر)

« طی چرخه جنسی یک فرد سالم، هم‌زمان با ، میزان هورمون در فرد، »

۱) آغاز تحلیل توده‌ی زرد رنگ از سلول‌های فولیکولی - استروژن - کاهش می‌یابد.

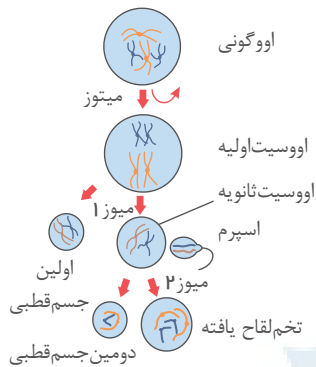
۲) نزدیک شدن به تشکیل نخستین گویچه‌های قطبی - لوتئینی‌کننده - در حال افزایش است.

۳) آغاز رشد فولیکول پاره شده - محرک‌های فولیکولی - شروع به کاهش می‌نماید.

۴) آزاد شدن اووسیت ثانویه از تخمدان - پروژسترون - شروع به افزایش می‌نماید.

پاسخنامه تشریحی

۱) منظور از یاخته‌هایی که در طی مراحل تخمک‌زایی و با تقسیم نامساوی سیتوپلاسم به‌وجود آمده‌اند و در رشد و نمو جنین فاقد نقش‌اند، گویچه‌های قطبی می‌باشند. تمام جسم‌های قطبی طبیعی در انسان دارای ۲۳ عدد کروموزوم و ۲۳ عدد سانترومر هستند و محل ساخت اولین گویچه قطبی در تخمدان و محل ساخت جسم دوم قطبی در لوله فالوپ و پس از لقاح می‌باشد.
 بررسی سایر گزینه‌ها:
 گزینه ۱) هر دو نوع جسم قطبی، فاقد کروموزوم‌های همتا هستند.
 گزینه ۲) اولین جسم قطبی دارای کروموزوم‌های مضاعف است؛ ولی دومین جسم قطبی دارای کروموزوم تک‌کروماتیدی است.
 گزینه ۴) هر دو نوع جسم قطبی دارای عدد کروموزومی یکسانی هستند.

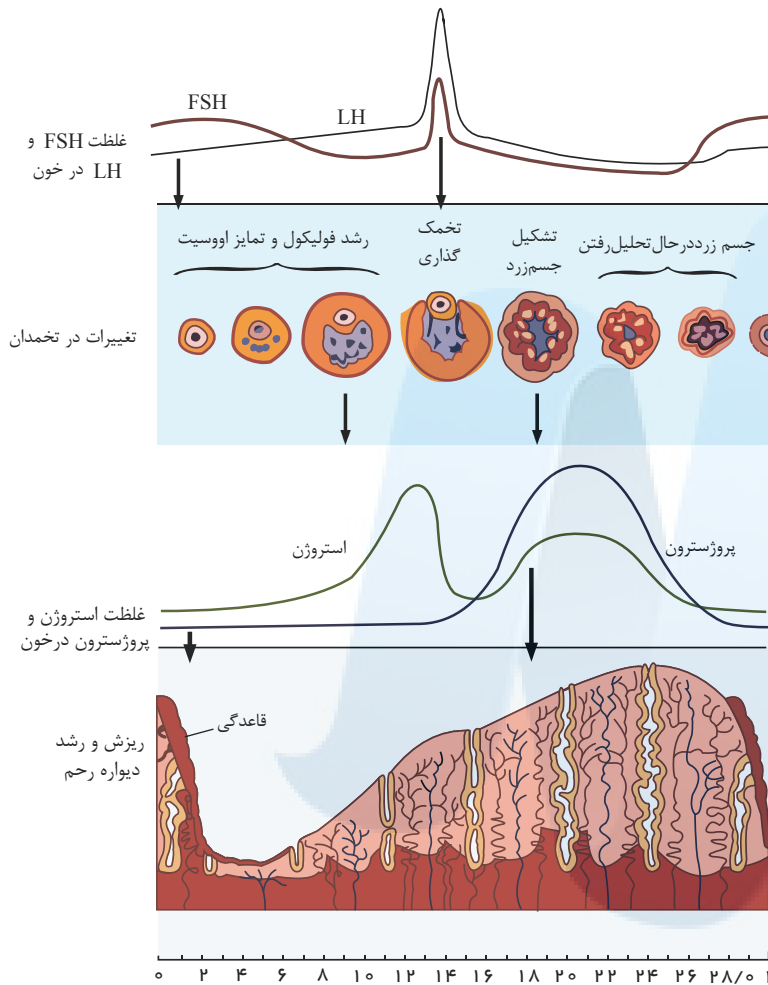


مرکز مشاوره تحصیلی

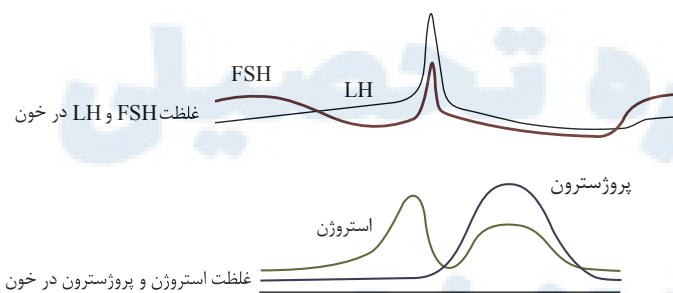
علیرضا افشار

۱ ۲ ۳ ۴ ۲

با توجه به شکل روبرو، اختلاف FSH و LH خون در دو نقطه به حداقل خود می‌رسد: یکی در فاز فولیکولی و دیگری در انتهای فاز لوتئال. در دوره فولیکولی زمانی که FSH و LH برابر هستند، بلافاصله قبل آن FSH در حال کاهش و استروژن در حال افزایش است. در دوره لوتئال زمانی که FSH و LH برابر هستند، بلافاصله قبل آن FSH در حال افزایش و استروژن در حال کاهش است. بنابراین، تغییرات این دو هورمون در این زمان‌ها با یکدیگر ناهمسو می‌باشد.



۱ ۲ ۳ ۴ ۳ با توجه به شکل زیر می‌توان دید که در حد فاصل زمانی که مقدار دو هورمون FSH و LH در خون برابر می‌شود، حداکثر مقدار دو هورمون جنسی استروژن و پروژسترون در خون مشاهده می‌شود.



بررسی سایر گزینه‌ها:

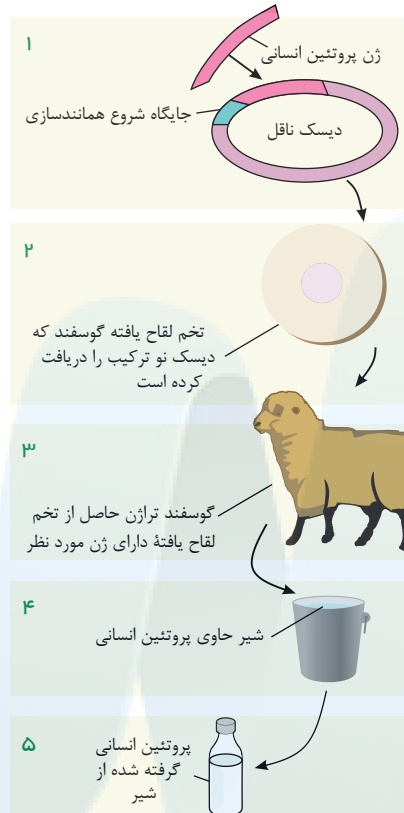
- گزینه ۱: در ابتدای چرخه تخمدان یکی از فولیکول‌هایی که رشد بیشتری کرده است چرخه تخمدانی را آغاز می‌کند (نه این که در ابتدای چرخه شروع به رشد کند).
- گزینه ۲: این موضوع ارتباطی به چرخه تخمدان ندارد و مربوط به چرخه رحمی است. هم چنین از طرفی در نیمه دوم، فعالیت ترشعی بیشتر می‌شود.
- گزینه ۳: هورمون LH که زیاد شدن آن عامل اصلی تخمک‌گذاری است، سبب افزایش ترشح جسم زرد می‌شود.

۱ ۲ ۳ ۴ ۴ از لقاح اسپرم با گویچه قطبی توده یاخته‌ای بی‌شکلی ایجاد می‌شود؛ که پس از مدتی از بدن دفع می‌شود. گویچه‌های قطبی مقدار کمتری سیتوپلاسم و اندامک، نسبت به تخمک دارند.

بررسی سایر گزینه‌ها:

- گزینه ۱: در اووسیت اولیه نیز کروموزوم‌ها، دوکروماتیدی هستند.
- گزینه ۳: دقت کنید در بدن زن بالغ، اووگونی مشاهده نمی‌شود.
- گزینه ۴: تقسیم میان یاخته در تخمک زایی به صورت نامساوی صورت می‌گیرد.

مطابق شکل روبه‌رو این مورد صحیح است.

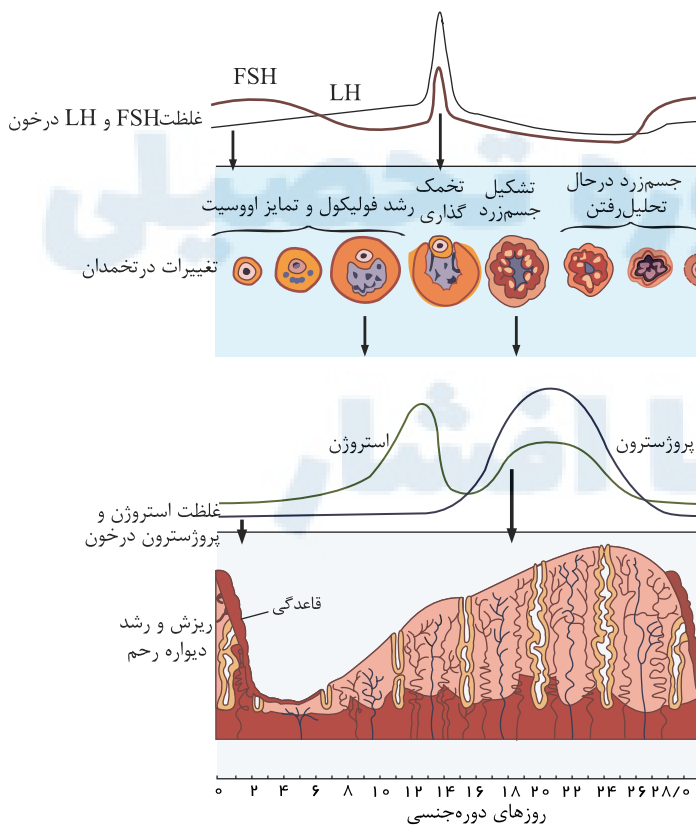


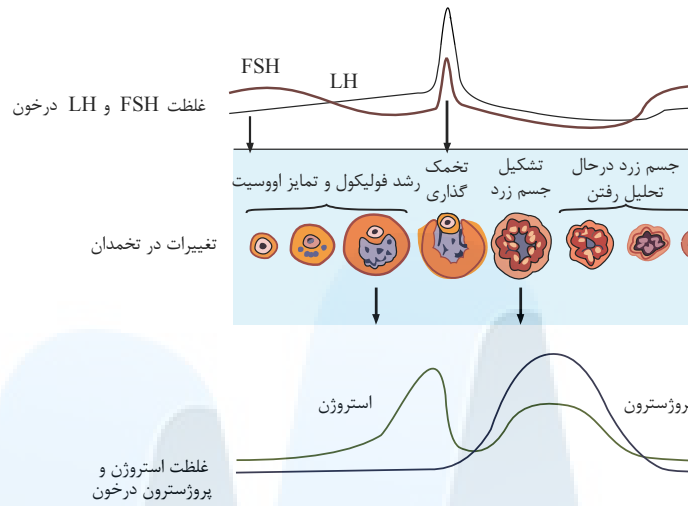
بررسی سایر گزینه‌ها:

گزینه ۱: در شکل زیر مشاهده می‌کنید که در انتهای چرخه جنسی، همزمان با شروع قاعدگی، هورمون FSH و LH در حال افزایش هستند که به علت افزایش هورمون آزادکننده FSH و LH می‌باشد.

گزینه ۳: در روزهای قبل از تخمک‌گذاری، هورمون LH (که عامل اصلی تخمک‌گذاری است) در حال افزایش است.

گزینه ۴: با تحلیل رفتن جسم زرد (که توده‌ای از یاخته‌های فولیکولی است) هورمون FSH و LH افزایش می‌یابد. هورمون FSH محرک ترشح استروژن در فولیکول است.





۱ ۲ ۳ ۴ ۶

هنگام تخمک گذاری، یاخته‌های حاصل به صورت اووسیت ثانویه (نه اووسیت اولیه) از تخمدان خارج می‌شود و به کمک زوائد انگشت، مانند ابتدای لوله رحمی به درون لوله رحم هدایت می‌شوند. هنگام تخمک گذاری، LH در بیشترین میزان قرار دارد.

بررسی گزینه‌ها:

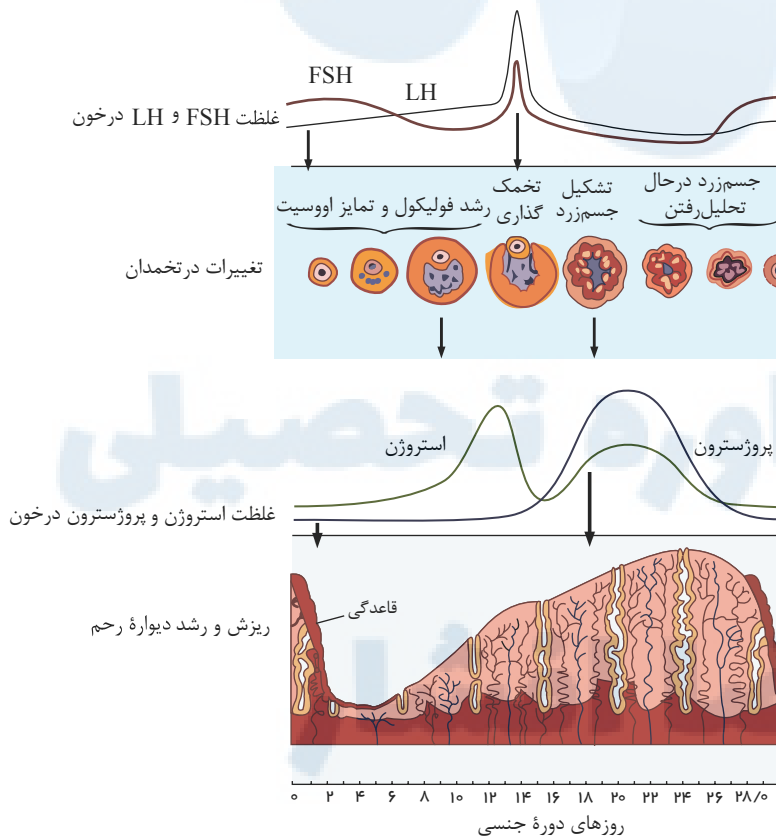
گزینه ۱: تقسیم میوز یک اووسیت اولیه در تخمک‌زایی با تقسیم نامساوی میان یاخته همراه است که به طور همزمان میزان LH بیشتر از FSH می‌باشد.

گزینه ۳: طی قاعدگی و ریزش دیواره داخلی رحم و رگ‌های خونی، هورمون استروژن بیشتر از پروژسترون می‌باشد.

گزینه ۴: در نیمه اول دوره جنسی زنانه، استروژن نسبت به پروژسترون بیشتر می‌باشد.

مطابق شکل، در این مدت همواره غلظت LH در خون از FSH بیشتر است.

۱ ۲ ۳ ۴ ۷



در حد فاصل زمانی که مقدار دو هورمون استروژن و پروژسترون با هم برابر می‌باشد، میزان فعالیت ترشحات دیواره رحم می‌تواند افزایش یابد. بررسی سایر گزینه‌ها:

گزینه ۱: در انتهای این بازه زمانی به علت غیرفعال شدن جسم زرد، میزان هورمون‌های جنسی استروژن و پروژسترون کاهش می‌یابد.

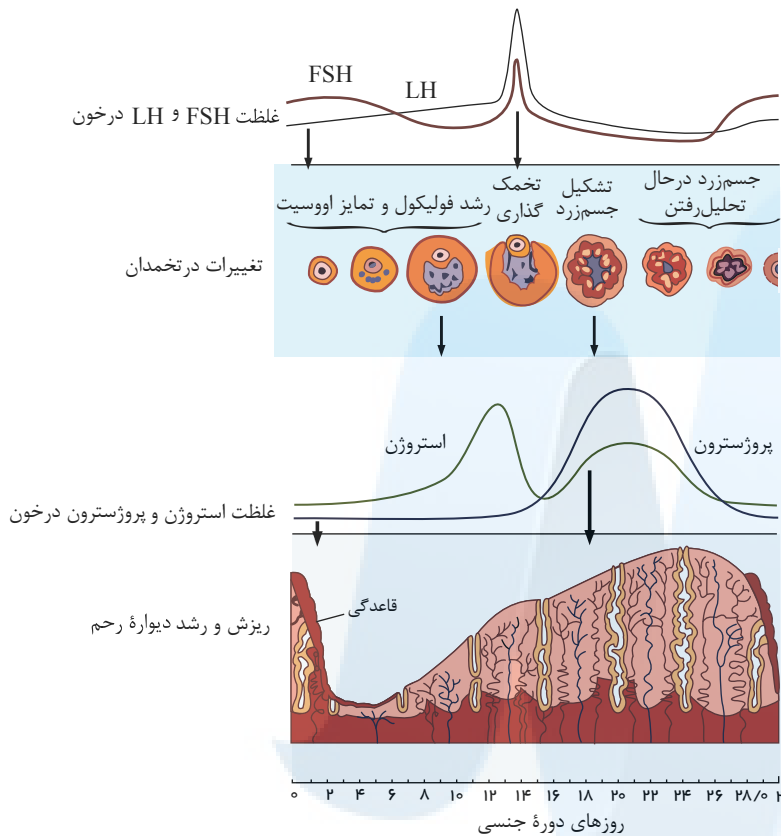
گزینه ۳: در این زمان اختلاف غلظت LH و FSH تقریباً ثابت می‌باشد.

گزینه ۴: در این بازه میزان هورمون LH کاهش می‌یابد.

در زنان، حداکثر میزان هورمون ترشح شده از یاخته‌های احاطه‌کننده اووسیت (یاخته‌های فولیکولی) مربوط به استروژن است. این هورمون در قبل از تخمک گذاری به حداکثر مقدار خود می‌رسد و افزایش یک‌باره استروژن، محرکی برای آزاد شدن مقدار زیادی FSH و LH از هیپوفیز پیشین می‌شود. (باز خورد مثبت)

۱ ۲ ۳ ۴ ۹

۱۰ مطابق شکل، از زمان تخمک گذاری که جسم زرد پدید می آید تا هنگامی که اندازه آن به حداکثر مقدار می رسد، چین خوردگی های دیواره داخلی رحم و اندوخته خونی آن بیشتر می شود.



۱۱ هورمون LH در اواسط چرخه جنسی زنان، تحت کنترل خود تنظیمی مثبت و در بقیه جاها کنترل آن خودتنظیمی منفی است. بررسی سایر گزینه ها:

گزینه (۱): هورمون پروژسترون، بدن را برای لقاح آماده می کند، اما لقاح در رحم صورت نمی گیرد بلکه در ابتدای فالوپ است.
گزینه های (۲) و (۳): هورمون های LH و FSH هم بر بیضه ها و هم بر تخمدان اثر دارد.

۱۲ هورمون استروژن در انتهای نیمه اول و پروژسترون در اواسط نیمه دوم به حداکثر غلظت خود می رسد.

۱۳ موارد (ب) و (ج) صحیح اند، بررسی گزینه ها:

(الف): گویچه های قطبی به ندرت ممکن است با اسپرم لقاح یابند.
(ب): اولین تقسیم میوزی در تخمدان انجام می شود که با تقسیم نامساوی سیتوپلاسم همراه است.
(ج): تخمک زایی فرایندی است که در دوران جنینی آغاز می شود، اما پس از شروع، در مرحله پروفاز ۱ متوقف می گردد. پس از بلوغ، در هر ماه یکی از این یاخته ها میوز خود را ادامه می دهد و پس از کامل کردن تقسیم میوز ۱ باز هم متوقف می شود و اووسیت ثانویه از تخمدان آزاد می گردد.
(د): هر چند که تقسیم نامساوی سیتوپلاسم منجر به تولید گویچه های قطبی می شود، اما این کار با هدف رسیدن مقدار بیشتری از سیتوپلاسم و اندامک ها به تخمک است تا بتواند در مراحل اولیه رشد و نمو جنین، نیازهای آن را بر آورده کند.

۱۴ بررسی گزینه ها:

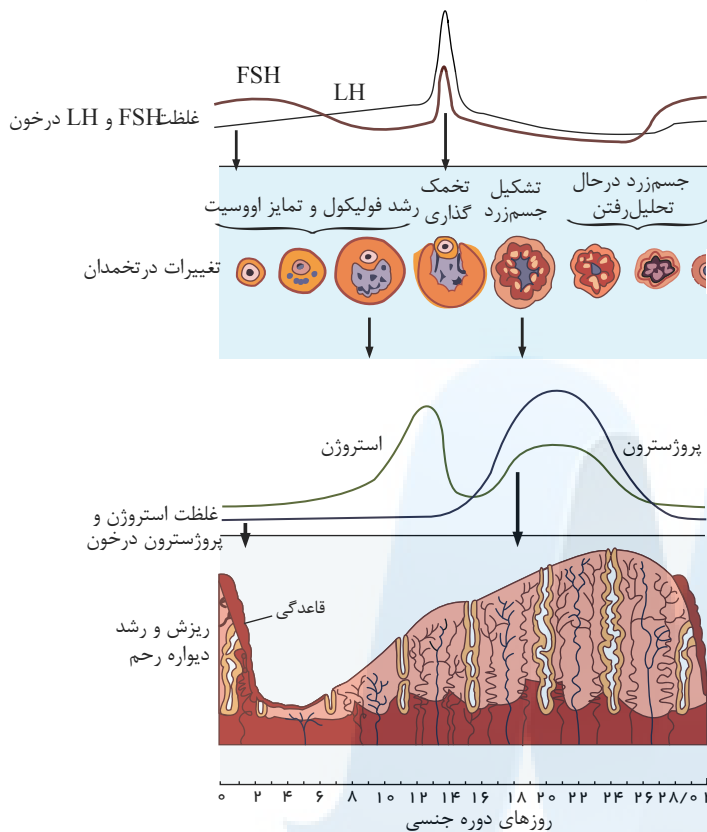
گزینه (۱): غلظت هورمون های FSH و LH در دو زمان با هم برابر می شود، یکی در مرحله فولیکولی و دیگری در مرحله لوتئال. فقط در مرحله فولیکولی، فولیکول در حال رشد در تخمدان یافت می شود.

گزینه (۲): غلظت هورمون های FSH و LH در دو زمان با هم برابر می شود، یکی در مرحله فولیکولی و دیگری در مرحله لوتئال. جسم زرد در اواخر مرحله لوتئال تحلیل می رود.

گزینه (۳): غلظت هورمون های استروژن و پروژسترون در دو زمان از مرحله لوتئال با هم برابر می شود، به طور طبیعی در مرحله لوتئال فولیکول در حال رشد در تخمدان مشاهده نمی شود.

گزینه (۴): در اواخر مرحله لوتئال که غلظت هورمون های استروژن و پروژسترون با هم برابر می شود، غلظت هورمون FSH در حال افزایش است.

۱۵ بررسی گزینه ها:



گزینه (۱): حداکثر ضخامت دیواره رحم مربوط به نیمه دوم چرخه جنسی (مرحله لوتال) است، در حالی که بیشترین مقدار هورمون استروژن خون مربوط به نیمه اول چرخه جنسی (مرحله فولیکولی) است.

گزینه (۲): هنگامی که ضخامت دیواره رحم شروع به افزایش می‌کند (بلافاصله بعد از قاعدگی)، ترشح هورمون استروژن در خون رو به افزایش است اما مقدار هورمون پروژسترون بعد از تخمک‌گذاری افزایش می‌یابد.

گزینه (۳): هنگامی که دیواره رحم حداقل ضخامت خود را دارد، مقدار هورمون‌های استروژن و پروژسترون کاهش نمی‌یابد، بلکه مقدار این دو هورمون کم است سپس مقدار هورمون استروژن شروع به افزایش می‌کند.

گزینه (۴): زمانی که دیواره رحم شروع به ضخیم شدن می‌کند، هم مقدار هورمون استروژن رو به افزایش است هم مقدار هورمون LH.

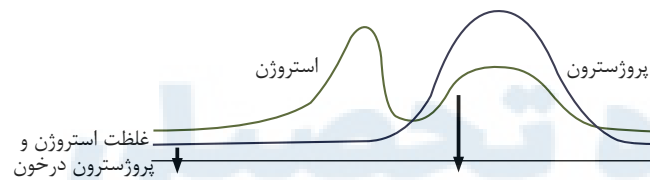
بررسی گزینه‌ها: ۱ ۲ ۳ ۴ ۱۶

(۱) در پی کاهش مقدار هر دو هورمون استروژن و پروژسترون، ضخامت دیواره رحم نیز کاهش می‌یابد.

(۲) افزایش ضخامت دیواره رحم از حدود روز ۵ دوره جنسی شروع می‌شود. در این هنگام از میزان هورمون هیپوفیزی FSH کاسته می‌شود.

(۳) پس از آغاز تحلیل رفتن جسم زرد که تولیدکننده هورمون‌های تخمدانی است، تولید این هورمون‌ها کاهش می‌یابد. سپس در انتهای چرخه جنسی، میزان هورمون‌های هیپوفیزی، در خون شروع به افزایش می‌نمایند.

(۴) حداقل اختلاف میان مقدار هورمون‌های استروژن و پروژسترون، در حدود روزهای ۱۶ و ۲۷ چرخه جنسی مشاهده می‌شود، (زمانی که غلظت هورمون استروژن و پروژسترون در خون مساوی است، و اختلاف آن‌ها صفر است) ولی تخمک‌گذاری [آزادسازی اووسیت ثانویه] در روز ۱۴ چرخه جنسی رخ می‌دهد.



بررسی گزینه‌ها: ۱ ۲ ۳ ۴ ۱۷

(۱) در روزهای ۱۰ تا ۲۴ چرخه جنسی، ضخامت دیواره داخلی رحم رو به افزایش است.

(۲) اگر بارداری رخ دهد، جسم زرد به فعالیت خود تا مدتی ادامه می‌دهد و با هورمون‌های استروژن و پروژسترون، جدار رحم و در نتیجه جنین جایگزین شده در آن، حفظ می‌شود.

(۳) مقدار هورمون‌های هیپوفیزی FSH و LH، در انتهای هفته آخر چرخه جنسی شروع به افزایش می‌کند. در نتیجه می‌توان گفت که مقدار این هورمون‌ها در اولین روز چرخه نیز از مقدار حداقل خود بیشتر است.

(۴) هورمون‌های هیپوتالاموس (زیر نهج)، هورمون‌های زیر مغزی پیشین و تخمدان‌ها وقایع متفاوت در دستگاه تولیدمثلی زن را تنظیم می‌کنند. هورمون‌های زیر نهج به واسطه هورمون‌های زیر مغزی پیشین در این فرایند نقش دارند.

بررسی گزینه‌ها: ۱ ۲ ۳ ۴ ۱۸

(۱) استروژن در دو زمان افزایش می‌یابد که طی دومین بار کاهش مقدار هورمون LH را شاهد خواهیم بود.

(۲) هورمون‌های LH و FSH موجب تنظیم و هدایت چرخه تخمدانی می‌شوند، در زمان تشکیل جسم زرد غلظت LH از FSH بیشتر است.

(۳) در دو هفته اول چرخه تخمدانی این‌طور نیست که میزان هورمون‌های LH و FSH همواره، همسو با یکدیگر افزایش یا کاهش یابد. غلظت هورمون LH با شیب کم افزایشی است اما غلظت هورمون FSH کاهش می‌یابد.

(۴) در دو زمان از چرخه تخمدانی مقدار هورمون‌های LH و FSH برابر می‌شود که اولین بار هم‌زمان با رشد فولیکول‌هاست.

(۱۹) ۱ ۲ ۳ ۴ با تشکیل و رشد جسم زرد به دلیل افزایش ترشح استروژن و پروژسترون از آن، طی بازخورد منفی از میزان هورمون LH کاسته می‌شود.

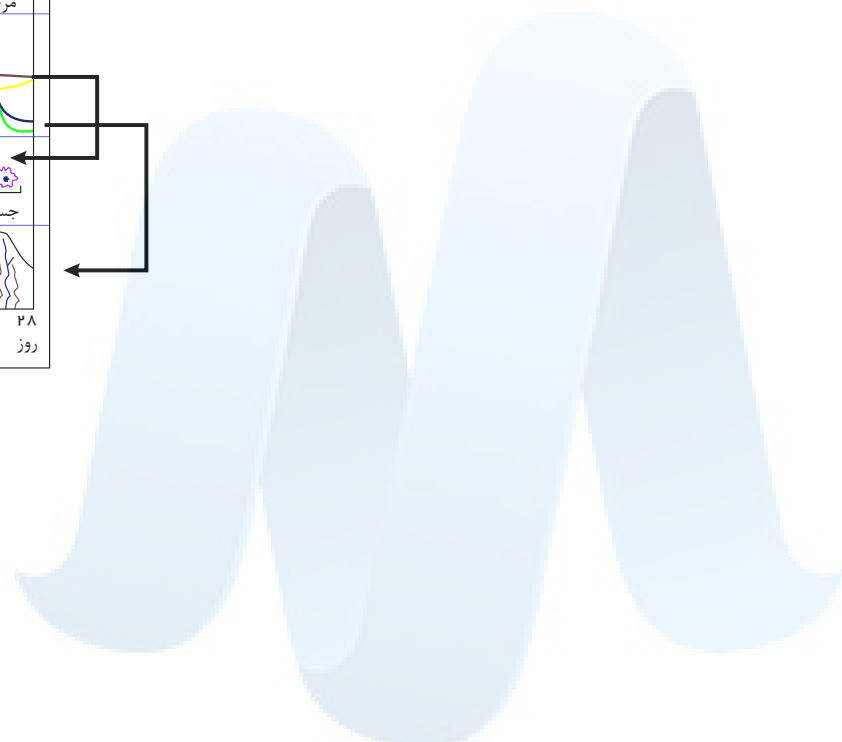
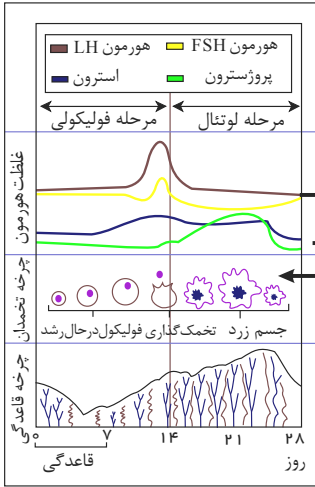
بررسی سایر گزینه‌ها:

گزینه (۱): تشکیل اووسیت ثانویه به هنگام اولین تقسیم میوزی است که استروژن در این زمان در بالاترین میزان خود می‌باشد و سپس شروع به کاهش می‌نماید.

گزینه (۲): تشکیل نخستین گویچه ی قطبی در زمان اولین تقسیم میوزی رخ می دهد که در نتیجه بالاترین میزان LH است که پس از آن LH شروع به کاهش می کند.
 گزینه (۳): آغاز رشد فولیکول پاره شده سبب تشکیل جسم زرد می شود که جسم زرد با ترشح پروژسترون سبب افزایش میزان این هورمون می شود.

۱ ۲ ۳ ۴ ۲۰

با توجه به منحنی زیر شروع کاهش هورمون FSH قبل از پاره شدن فولیکول است:
 سایر گزینه ها با توجه به همین شکل درست هستند.



مرکز مشاوره تحصیلی علیرضا افشار

مبحث: گفتار ۲ فصل ۷ زیست یازدهم

سری: شماره ۳

زمان: ۲۰ دقیقه

۱ سلول‌های سازنده ماده‌ای که با تأثیر بر دیواره رحم سبب می‌شود دیواره آن ضخیم و پر خون شود،

۱ درون تخمدان یافت می‌شوند.

۲ قادرند هورمون ترشح کنند که باعث انجام اولین تقسیم میوزی اووسیت‌های اولیه شود.

۳ پس از تخمک گذاری به طور کلی از بین می‌روند.

۴ در هفته قبل از تخمک گذاری بر میزان ترشح FSH خود می‌افزایند.

۲ سلول‌های تغذیه کننده اووسیت در انبانک (فولیکول) در زنان بالغ، سلول‌های جسم زرد،

۱ برخلاف - دارای دو مجموعه کروموزومی هستند.

۲ همانند - کروموزوم همتا ندارند.

۳ برخلاف - قادر به ترشح هورمون جنسی هستند.

۳ در مرحله‌ای از چرخه تخمدان زنان که بیشترین اختلاف میزان هورمون FSH و LH وجود دارد،

۱ رحم، کمترین ضخامت دیواره را دارد.

۲ رحم، بیشترین ضخامت دیواره را دارد.

۳ میزان استروژن از پروژسترون بیشتر است.

۴ یاخته‌های جسم زرد دو هورمون استروژن و پروژسترون را ترشح می‌کنند.

۴ چند جمله از جملات زیر، در مورد دستگاه تولید مثل زنان درست است؟

الف) حرکت مژک‌های سلول‌های پوششی لوله فالوپ به حرکت اووسیت ثانویه به سمت رحم کمک می‌کند.

ب) در چرخه جنسی یک فرد در هنگام تشکیل جسم زرد، قطعاً افزایش غلظت هورمون پروژسترون ادامه می‌یابد.

پ) حداکثر افزایش ترشح استروژن در یک دوره جنسی، موجب افزایش ناگهانی LH می‌شود.

ت) یک هفته بعد از تخمک گذاری، ترشح استروژن به بیشترین مقدار خود می‌رسد.

۱ ۱ ۲ ۳ ۴

۵ به طور معمول از چرخه جنسی زنان بالغ

۱ هم‌زمان با شروع رشد جسم زرد - بر مقدار هورمون LH افزوده شده و از میزان تولید استروژن کاسته می‌شود.

۲ در روز پایانی مرحله فولیکولی - غلظت هورمون‌های هیپوفیزی در خون رو به افزایش است.

۳ در هفته قبل از تخمک گذاری - غلظت استروژن و پروژسترون در خون رو به افزایش است.

۴ در فاصله زمانی روزهای ۱۴ تا ۲۱ - اندازه جسم زرد رو به افزایش است.

۶ به طور معمول، در چرخه جنسی یک زن سالم، هم‌زمان با مقدار پروژسترون خون، افزایش می‌یابد و میزان در خون، رو

به کاهش می‌رود.

۱ شروع ضخیم شدن دیواره رحم - یکی از هورمون‌های هیپوتالاموسی

۲ تشکیل جسم لوتئال - هورمون محرک فولیکولی

۳ شروع تقسیمات میتوزی یاخته‌های تغذیه کننده اووسیت - هورمون LH

۴ تخریب دیواره رحم - هورمون استروژن

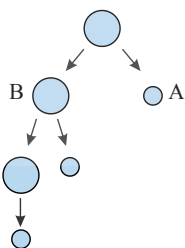
۷ در شکل مقابل، که گامت سازی در انسان را نشان می‌دهد سلول‌های A و B در کدام مورد اختلاف ندارند؟

۱ تعداد میتوکندری

۲ داشتن کروموزوم‌های دو کروماتیدی

۳ اطلاعات ژنتیکی

۴ نقش زیستی



۸ به طور عمده طی در مرحله دوره جنسی زنان بالغ، هورمون های جنسی با هم برابر می شوند.

- ۱ یک زمان - ۱۴ روزه بعد از تخمک گذاری
- ۲ دو زمان - ۱۴ روزه بعد از تخمک گذاری
- ۳ یک زمان - ۱۴ روزه قبل از تخمک گذاری
- ۴ دو زمان قبل از تخمک گذاری و دیگری در مرحله بعد از تخمک گذاری

۹ به طور معمول در هر چرخه جنسی یک زن سالم و بالغ، از فعالیت ترشحي تخمدان در آغاز نیمه دوم چرخه جنسی کاسته می شود.

- ۱ در زمانی که میزان استروژن و پروژسترون خون به حداقل میزان خود می رسد تخریب دیواره خارجی رحم و دفع خون آغاز می شود.
- ۲ در فاصله روزهای ۵ تا ۷، خونریزی قاعدگی و کاهش ضخامت دیواره رحم روی می دهد.
- ۳ استروژن در تخمدان، طی نیمه دوم چرخه جنسی، به خون ترشح می شود.
- ۴ زمانی میزان ترشح افزایش می یابد که

۱۰ *HCG* - مورولا در لوله رحم به سمت رحم حرکت می کند.

- ۱ پروژسترون - آزاد شدن اووسیت ثانویه از تخمدان صورت بگیرد.
- ۲ *FSH* - میزان غلظت استروژن و پروژسترون به حداکثر خود رسیده باشد.
- ۳ استروژن و پروژسترون - غلظت *FSH* و *LH* در حداکثر میزان خود در خون باشد.

۱۱ در زمان تشکیل

- ۱ اووسیت ثانویه درون تخمدان، غلظت هورمون پروژسترون در خون روند افزایش دارد.
- ۲ جسم زرد از سلول های فولیکولی درون تخمدان، غلظت هورمون استروژن در خون بیشترین میزان خود نیست.
- ۳ اسپرماتوسیت ثانویه درون لوله های اسپرم ساز، غلظت هورمون تستوسترون کاهش می یابد.
- ۴ اسپرم از اسپرماتید درون اپی دیدیم، غلظت هورمون *LH* افزایش می یابد.

۱۲ کدام یک از موارد زیر فقط در حضور هورمون *HCG* در خون مادر صورت می گیرد؟

- ۱ بالا رفتن یک باره هورمون استروژن
- ۲ بالا ماندن غلظت هورمون استروژن و پروژسترون در انتهای دوره جنسی
- ۳ تشکیل جسم زرد
- ۴ به حداکثر رسیدن ناگهانی غلظت هورمون های *FSH* و *LH* در خون

۱۳ کدام جمله به نادرستی بیان شده است؟

- ۱ گیرنده های هورمون های جنسی زنانه می توانند در یاخته های عصبی و در یاخته های غیر عصبی باشد.
- ۲ یاخته های عصبی زیر نهنج (هیپوتالاموس) توانایی ترشح پیک دور برد و پیک کوتاه برد را دارند.
- ۳ هم هورمون اکسی توسین و هم هورمون های جنسی، یاخته هدف شان در لایه داخلی رحم است.
- ۴ در ابتدای دوره جنسی غلظت استروژن و پروژسترون خون کم است.

۱۴ کدام عبارت، از بین عبارات های زیر نادرست بیان شده است؟

اگر بارداری رخ دهد

- ۱ جسم زرد، تحلیل نمی رود، تا پایان بارداری به فعالیت خود ادامه می دهد و با ادامه ترشح هورمون های استروژن و پروژسترون جدار رحم و در نتیجه جنین جایگزین شده در آن حفظ می شود.
- ۲ در این مدت، فولیکول جدیدی در تخمدان، شروع به رشد نمی کند.
- ۳ در این مدت، غلظت هورمون های *FSH* و *LH* در خون پایین است.
- ۴ در این مدت، ضخامت دیواره داخلی رحم زیاد است.

۱۵ کدام یک از گزینه های زیر، با باز خورد مثبت هورمون استروژن بر *FSH* و *LH* همزمانی دارد؟

- ۱ کاهش استحکام دیواره داخلی رحم
- ۲ به حداکثر رسیدن میزان غلظت هورمون *FSH* بر خلاف *LH*
- ۳ دن باقی مانده فولیکول به جسم زرد
- ۴ تکمیل تقسیم میوز و تولید گویچه قطبی دوم و تخمک

۱۶) چند مورد از موارد زیر، می تواند یاخته هدف آن، یاخته عصبی باشد؟

الف- FSH ب- LH ج- استروژن د- پروژسترون

① یک مورد ② دو مورد ③ سه مورد ④ چهار مورد

۱۷) نمی توان گفت، در صورتی که اسپرم با گویچه قطبی لقاح یابد،.....

① توده یاخته ای حاصل از این لقاح، هسته های دیپلوئید دارند.

② تقسیم میتوز پی در پی آغاز می شود.

③ یاخته حاصل بی شکل بلافاصله از بین رفته و از بدن دفع می شود.

④ یاخته حاصل از این لقاح دارای سیتوپلاسم و اندامک کمتری نسبت به یاخته تخم طبیعی است.

۱۸) - چند مورد نادرست بیان شده است؟

الف) توانایی تشکیل تتراد ← اووسیت اولیه و اولین گویچه ی قطبی

ب) ورود به تقسیم میوز II ← اووسیت ثانویه

ج) سلول سانتیول دار و متحرک ← اوول

د) سلول با توانایی تقسیم میتوز و کوچکتر از اووسیت اولیه ← اووگونی و اولین گویچه ی قطبی

① دو ② سه ③ چهار ④ یک

۱۹) کدام گزینه جمله زیر را به نادرستی کامل می کند؟ (با تغییر)

ترشحات به مجرا وارد نمی شوند.

① فولیکول های در حال رشد تخمدان

② سلول های باقیمانده فولیکول بعد از تخمک گذاری

③ سلول های بینابینی لوله های اسپرم ساز

④ غدد پیازی-میزراهی

۲۰) چند مورد جمله زیر را به درستی تکمیل می کند؟

«در طی یک دوره جنسی در یک فرد سالم، هم زمان با ، در خون، میزان هورمون»

الف) تشکیل جسم زرد - پروژسترون برای دومین بار به حداکثر مقدار خود می رسد.

ب) تخمک گذاری - استروژن و پروژسترون رو به کاهش است.

ج) رشد فولیکول - LH رو به افزایش است.

د) تشکیل جسم زرد - FSH افزایش پیدا می کند.

① ۱ ② ۲ ③ ۳ ④ ۴

پاسخنامه تشریحی

۱) سؤال اشاره به هورمون استروژن یا پروژسترون دارد که از سلول‌های فولیکولی ترشح می‌شوند. این سلول‌ها در تخمدان قرار دارند. بررسی سایر گزینه‌ها:

گزینه ۲: هورمون LH که از هیپوفیز پیشین ترشح می‌شود.

گزینه ۳: تعداد زیادی از سلول‌های فولیکولی در هفته اول لوتال تبدیل به جسم زرد می‌شوند و جسم زرد بر ترشح استروژن و پروژسترون ادامه می‌دهد.

گزینه ۴: هورمون FSH از هیپوفیز پیشین ترشح می‌شود نه از فولیکول یا جسم زرد.

۲) سلول‌های فولیکول تخمدان و جسم زرد، هر دو دیپلوئید (2n) بوده و می‌توانند هورمون استروژن ترشح کنند.

۳) درست قبل از تخمک‌گذاری یعنی زمانی که غلظت FSH و LH حداکثر غلظت خود را در خون دارند، بیشترین اختلاف بین غلظت این دو هورمون مشاهده می‌شود که در این حالت غلظت استروژن از پروژسترون بیشتر است، چون در مرحله فولیکولی و قبل از روز ۱۴ دوره جنسی اتفاق می‌افتد.

۴) فقط مورد «ت» نادرست است. میزان استروژن قبل از تخمک‌گذاری به حداکثر خود می‌رسد و در مرحله لوتال میزان استروژن نسبت به اواخر مرحله فولیکولی کاهش می‌یابد. مورد «ب» جسم زرد در ابتدای نیمه دوم چرخه جنسی، یعنی همان مرحله لوتال تشکیل می‌شود. در این هنگام، غلظت پروژسترون هم‌چنان در حال افزایش است.

۵) در مرحله لوتال و در فاصله روزهای ۱۴ تا ۲۱، اندازه جسم زرد رو به افزایش است به طوری که حدود روز ۲۲، اندازه جسم زرد به بیشترین مقدار خود می‌رسد.

بررسی سایر گزینه‌ها:

گزینه ۱: هم‌زمان با شروع رشد جسم زرد، بر میزان هورمون استروژن افزوده از میزان هورمون FSH و LH کاسته می‌شود.

گزینه ۲: در پایان مرحله فولیکولی، غلظت هورمون‌های هیپوفیزی در خون رو به کاهش است.

گزینه ۳: در اواسط مرحله فولیکولی، غلظت استروژن رو به افزایش است و غلظت پروژسترون تقریباً ثابت می‌ماند.

۶) در نیمه دوم دوره جنسی زنان بالغ و هم‌زمان با بزرگتر شدن جسم زرد در تخمدان، غلظت پروژسترون در خون زیادتر شده، ولی غلظت FSH کاهش می‌یابد. سایر موارد نادرست هستند.

بررسی سایر گزینه‌ها:

گزینه‌های ۱ و ۳: در مرحله فولیکولی چرخه تخمدان، اصلاً هورمون پروژسترون افزایش نمی‌یابد.

گزینه ۴: در هنگام قاعدگی، هورمون‌های استروژن و پروژسترون هر دو کاهش می‌یابند.

۷) اووسیت ثانویه (B) و اولین گویچه قطبی (A) در زنان، هر دو سلول‌هایی n مضاعف یعنی «هاپلوئید» دو کروماتیدی هستند یعنی مقدار DNA هسته‌ای برابر دارند. ولی بقیه موارد بین آن‌ها متفاوت است.

بررسی سایر گزینه‌ها:

گزینه ۱: چون سیتوکینز نامساوی باعث تولید A (گویچه قطبی با سیتوپلاسم کمتر) و B (اووسیت ثانویه یا سیتوپلاسم بیشتر) شده است، پس قطعاً B تعداد میتوکندری بیشتری از A دارد.

گزینه ۳: یک مجموعه کروموزومی وارد یک سلول به نام گویچه قطبی و یک مجموعه کروموزومی دیگر وارد سلول دیگر به نام اووسیت ثانویه می‌شود. از آنجایی که یکی از این مجموعه‌ها از والد مادری و دیگری از والد پدري دریافت شده است بنابراین اطلاعات ژنتیکی متفاوتی دارند.

گزینه ۴: A گویچه قطبی است. گویچه قطبی به طور طبیعی نقشی در رشد و نمو ندارند و به ندرت ممکن است اسپرم با گویچه قطبی نیز لقاح یابد و توده یاخته‌ای بی‌شکلی را ایجاد کند که پس از مدتی از بدن دفع می‌شود. ولی B با میوز II تقسیم می‌شود و گویچه قطبی دوم و تخمک را پدید می‌آورد.

۸) در دو زمان یعنی حدود روزهای ۱۶ و ۲۶ در مرحله دوم (لوتال) دوره جنسی زنان، غلظت استروژن و پروژسترون با هم برابر می‌شوند.

۹) هورمون استروژن، هم در مرحله فولیکولی (توسط فولیکول تخمدانی) و هم در مرحله لوتال (توسط جسم زرد) ترشح می‌شود، اما سایر موارد نادرست هستند. بررسی سایر گزینه‌ها:

گزینه ۱: در پایان نیمه دوم چرخه جنسی فعالیت ترشحی تخمدان کاهش می‌یابد.

گزینه ۲: با کاهش میزان استروژن و پروژسترون خون، تخریب دیواره داخلی (نه خارجی رحم) صورت می‌گیرد.

گزینه ۳: در فاصله بین ۷ - ۵ دوره جنسی، با آن‌که خونریزی و قاعدگی ادامه دارد، ولی دیواره رحم شروع به ضخیم شدن و بازسازی کرده است:

۱۰) با آزاد شدن اووسیت ثانویه، فولیکول به جسم زرد تبدیل شده و تولید پروژسترون از جسم زرد افزایش می‌یابد.

بررسی سایر گزینه‌ها:

گزینه ۱: کوریون هورمونی به نام HCG ترشح می‌کند. کوریون یکی از مهمترین پرده‌های محافظت‌کننده در اطراف جنین است. بعد از جایگزینی پرده‌های جنینی تشکیل می‌شوند. یعنی زمانی پرده‌های جنینی تشکیل می‌شود که جنین شکل پلاستوسیت است.

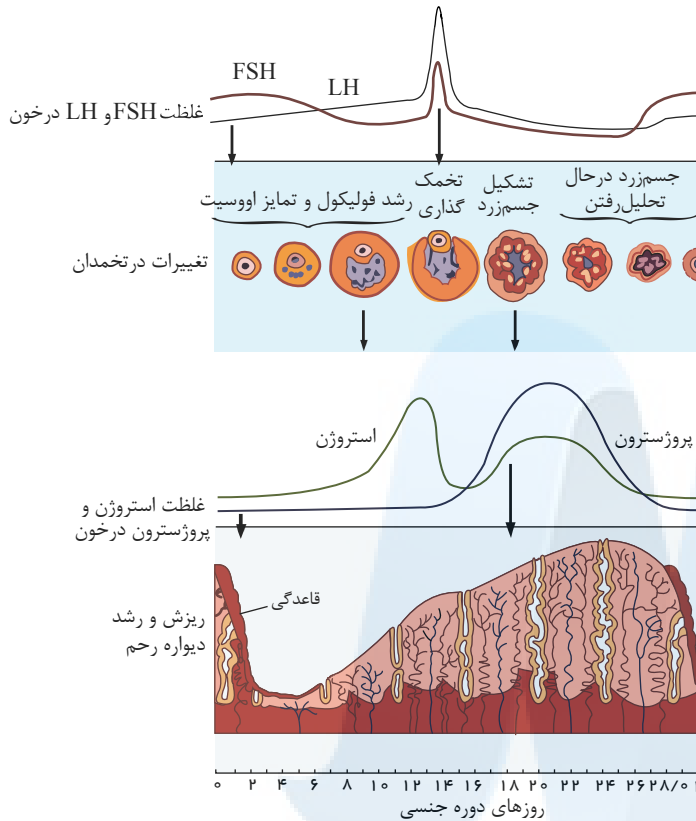
گزینه ۳: زمانی که غلظت استروژن و پروژسترون حداکثر است، میزان FSH و LH کاهش می‌یابد.

گزینه ۴: زمانی استروژن و پروژسترون غلظت شان در خون در حال افزایش است که میزان غلظت هورمون FSH و LH در خون در حال کاهش است.

۱۱) غلظت هورمون استروژن قبل از تخمک‌گذاری (۱۳ - ۱۲) حداکثر میزان خود است و در زمان تخمک‌گذاری و سپس تبدیل فولیکول باقی مانده به جسم زرد، غلظت هورمون استروژن کاهش یافته است. به عبارتی افزایش ترشح استروژن است که باعث تخمک‌گذاری شده و تشکیل جسم زرد را به دنبال دارد.

۱ ۲ ۳ ۴ ۱۲

بررسی گزینه‌ها:



- گزینه (۱): در نیمه اول دوره جنسی، حدود روز چهاردهم هورمون استروژن به یک باره در خون افزایش می‌یابد. پس از بارداری غلظت این هورمون بالا می‌ماند.
- گزینه (۲): در صورت ترشح هورمون *HCG*، جسم زرد حفظ می‌شود و به جسم سفید تبدیل نمی‌شود، در نتیجه هورمون‌های استروژن و پروژسترون ترشح شان تداوم می‌یابد و در نتیجه میزان این هورمون‌ها کاهش نمی‌یابد.
- گزینه (۳): جسم زرد در نیمه چرخه جنسی تشکیل می‌شود و اگر بارداری رخ ندهد در اواخر چرخه از بین رفته و به جسم سفید تبدیل می‌شود.
- گزینه (۴): به حداکثر رسیدن ناگهانی غلظت هورمون‌های *FSH* و *LH* حدود روز چهاردهم و زمان تخمک گذاری انجام می‌شود. در زمان بارداری، مقدار این دو هورمون پایین است.

۱ ۲ ۳ ۴ ۱۳

بررسی گزینه‌ها:

- گزینه (۱): هورمون‌های جنسی (استروژن و پروژسترون) باعث رشد دیواره داخلی رحم (یاخته‌های غیرعصبی) و ضخیم شدن آن می‌شود. استروژن و پروژسترون با تاثیر بر روی هیپوتالاموس (یاخته‌های عصبی) با باز خورد منفی از ترشح هورمون آزاد کننده *FSH* و *LH* می‌کاهد.
- گزینه (۲): یاخته‌های عصبی زیر زنجیر با ترشح هورمون‌هایی مانند آزاد کننده توانایی ترشح پیک‌های دوربرد را دارند و با ترشح ناقل‌های عصبی به ناحیه سیناپس، توانایی ترشح پیک‌های کوتاه برد را دارند.
- گزینه (۳): هورمون‌های جنسی بر دیواره داخلی رحم اثر می‌گذارند (لایه آندومتر) و هورمون اکسی توسین بر لایه میانی رحم (یاخته‌های ماهیچه‌ای) اثر می‌گذارد.
- گزینه (۴): در ابتدای دوره جنسی که هنوز فولیکولی در تخمدان بزرگ نشده است، مقدار هورمون استروژن و پروژسترون خون کم است.

۱ ۲ ۳ ۴ ۱۴

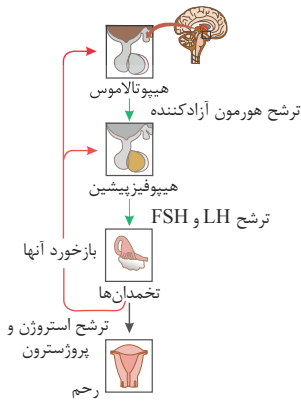
- گزینه (۱): اگر بارداری رخ دهد، جسم زرد به فعالیت خود "تا مدتی" ادامه می‌دهد و با این هورمون‌ها جدار رحم و در نتیجه جنین جایگزین شده در آن حفظ می‌شود. جسم زرد تا پایان بارداری فعالیت ندارد.
- گزینه (۲): مقدار استروژن و پروژسترون در مدت بارداری، بالا است. استروژن و پروژسترون، با باز خورد منفی از ترشح *LH* و *FSH* می‌کاهد. این باز خورد از رشد و بالغ شدن فولیکول‌های جدید در طول دوره جنسی و بارداری جلوگیری می‌کند.
- گزینه (۳): در دوران بارداری، میزان هورمون استروژن و پروژسترون خون بالا است، و این هورمون‌ها بر هیپوتالاموس اثر گذاشته و با باز خورد منفی، باعث کاهش هورمون آزاد کننده *LH* و *FSH* می‌شوند، در نتیجه در دوران بارداری از رشد فولیکول جدید جلوگیری می‌کنند. در نتیجه در دوران بارداری، میزان هورمون *LH* و *FSH* در خون پایین است.
- گزینه (۴): در دوران بارداری، میزان ضخامت دیواره رحم زیاد است.

۱ ۲ ۳ ۴ ۱۵

- گزینه (۱): در حدود روز چهاردهم دوره، افزایش یک باره استروژن، محرکی برای آزاد شدن مقدار زیادی *FSH* و *LH* از هیپوفیز پیشین می‌شود. (باز خورد مثبت). در این روز دیواره داخلی رحم در حال ضخیم شدن است و رحم خود را برای بارداری احتمالی آماده می‌کند.
- گزینه (۲): در حدود روز چهاردهم، در اثر باز خورد مثبت هورمون استروژن، غلظت هورمون *FSH* و *LH*، به بیشترین میزان خود در خون می‌رسد.
- گزینه (۳): در اثر باز خورد مثبت هورمون استروژن بر هورمون *FSH* و *LH* تغییر ناگهانی در مقدار هورمون‌ها، باعث می‌شود که در تخمدان، باقی مانده فولیکول به جسم زرد تبدیل شود.
- گزینه (۴): تولید دومین گویچه قطبی و تخمک بعد از تخمک گذاری، و فقط در صورت لقاح با اسپرم، در لوله فالوپ صورت می‌گیرد.

۱ ۲ ۳ ۴ ۱۶

- هورمون *LH* موجب رشد جسم زرد (یاخته هدف) می‌شود. هورمون *FSH* موجب رشد فولیکول می‌شود. استروژن و پروژسترون با تاثیر بر هیپوتالاموس (یاخته‌های عصبی) با باز خورد منفی از رشد و بالغ شدن فولیکول‌های جدید در طول دوره جنسی جلوگیری می‌کند.



۱۷) بررسی گزینه‌ها:

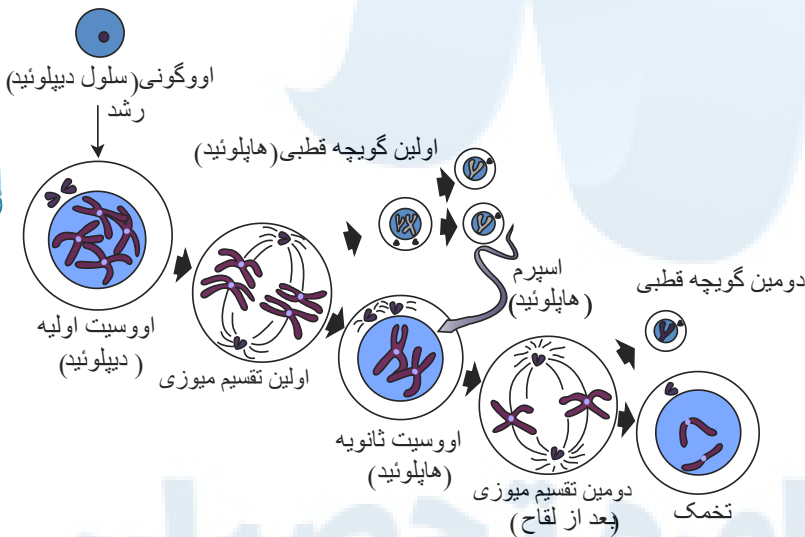
گزینه (۱): هستهٔ دومین گویچهٔ قطبی دارای یک مجموعهٔ کروموزومی و هستهٔ اسپرم نیز دارای یک مجموعهٔ کروموزومی است. بنابراین یاخته‌های حاصل از این لقاح، نیز دارای دو مجموعه کروموزومی می‌باشند.

گزینه (۲): تقسیم میتوز پی در پی آغاز شده و منجر به تشکیل یک توده یاختهٔ بی‌شکل می‌شود.

گزینه (۳): تودهٔ یاخته‌ای بی‌شکلی را ایجاد کند که "پس از مدتی" از بدن دفع می‌شود.

گزینه (۴): در تخمک‌زایی پس از هر بار تقسیم هسته در میوز تقسیم نامساوی سیتوپلاسم صورت می‌گیرد، در نتیجه یک یاختهٔ بزرگ و یک یاختهٔ کوچک‌تر به نام گویچهٔ قطبی به وجود می‌آید. این کار با هدف رسیدن مقدار بیشتری از سیتوپلاسم و اندامک‌ها به تخمک است.

۱۸) ۱ ۲ ۳ ۴



فقط ((ب)) صحیح است، اووسیت ثانویه، سلولی است که می‌تواند به تقسیم میوز II وارد شود.

الف) اووسیت اولیه توانایی تشکیل تتراد را در میوز I دارد ولی اولین گویچه‌ی قطبی حاصل میوز I می‌باشد و فاقد کروموزوم هم‌تا بوده بنابراین توانایی تشکیل تتراد را ندارد.

ج) هیچ کدام از سلول‌های فرایند تخمک‌زایی متحرک نمی‌باشند.

د) اووگونی، سلولی است که با تقسیم میتوز، اووسیت‌های اولیه را تولید می‌کند و نیز بر اساس شکل، اووگونی با اووسیت اولیه‌ی حاصل از تقسیم آن برابر می‌باشد همچنین اولین گویچه‌ی قطبی کوچکتر از اووسیت اولیه بوده ولی فاقد توانایی تقسیم میتوز می‌باشد.

۱۹) ۱ ۲ ۳ ۴

۲۰) ۱ ۲ ۳ ۴

طبق شکل

الف. (نادرست) هم‌زمان با تشکیل جسم زرد، پروژسترون افزایش می‌یابد. پروژسترون یک بار در یک دورهٔ جنسی به حداکثر خود می‌رسد.

ب. (نادرست) هم‌زمان با تخمک‌گذاری، استروژن کاهش می‌یابد نه پروژسترون.

ج. (درست) هم‌زمان با رشد فولیکول، LH با شیب ملایم (کم) افزایش می‌یابد.

د. (نادرست) هم‌زمان با تشکیل جسم زرد، FSH کاهش می‌یابد.

مبحث: گفتار ۳ فصل ۷ زیست یازدهم

سری: شماره ۱

زمان: ۱۵ دقیقه

۱ به طور معمول، در ارتباط با شروع عمل جایگزینی در یک فرد سالم کدام عبارت درست است؟

- ۱) یاخته‌های درونی بلاستوسیست از سایر یاخته‌ها متمایز گردیده‌اند.
- ۲) پرده‌هایی که رویان را حفاظت می‌کنند به سرعت نمو می‌یابند.
- ۳) توده یاخته‌ای حاصل از تخم به شکل یک کره توپر است.
- ۴) خون مادر معمولاً با خون رویان مخلوط می‌شود.

۲ کدام گزینه، جمله زیر را به درستی کامل نمی‌کند؟

«به طور معمول، به دنبال لقاح در انسان، در مرحله‌ای که جنین به صورت است،»

- ۱) توده یاخته‌ای توپر - یاخته‌های حاصل از تقسیم تخم، رشد ابعادی نکرده‌اند.
- ۲) کره یاخته‌ای توخالی - زنش مژک‌ها در حرکت آن نقشی ندارند.
- ۳) توده یاخته‌ای توپر - ترشح هورمونی از آن باعث حفظ جسم زرد می‌شود.
- ۴) کره یاخته‌ای توخالی - آنزیم‌های تخریب‌کننده یاخته‌های پوششی ترشح می‌شوند.

۳ در مورد وقایع بعد از لقاح در بدن یک زن بالغ و سالم، چند مورد صحیح است؟

- الف) قبل از رسیدن توده سلولی به درون رحم، لایه سازنده برون شامه (کورئون) جنینی تشکیل شده است.
- ب) فضای بین سلولی در توده درونی بلاستوسیست مانند سلول‌های مویرگ‌های خونی مغز، اندک می‌باشد.
- ج) سلول‌های بنیادی میلوئیدی و لنفوئیدی در مغز قرمز استخوان فرد، از تقسیم توده سلولی درونی بلاستوسیست منشأ می‌گیرند.
- د) در لوله رحمی، سلول‌های توده دوسلولی بعد از رشد و عبور از مرحله S چرخه سلولی، تقسیم شده و توده چهار سلولی تولید می‌کند.

- ۱) ۱ مورد
- ۲) ۲ مورد
- ۳) ۳ مورد
- ۴) ۴ مورد

۴ کدام گزینه، نخستین مرحله زایمان طبیعی یک زن سالم و بالغ را بیان می‌کند؟

- ۱) فشار وارد کردن سر جنین به سمت پایین و پاره شدن کیسه آمنیون
- ۲) تحریک ماهیچه‌های صاف دیواره رحم تحت تأثیر نوعی هورمون
- ۳) خروج جنین تحت تأثیر بازخورد مثبت هورمونی و افزایش فشار دیواره رحم
- ۴) خروج جفت و اجزای مرتبط با آن از طریق واژن

۵ کدام گزینه در ارتباط با زن ۳۰ ساله بالغ و سالم، صحیح است؟

- ۱) در صورت لقاح موفقیت آمیز، عمل جایگزینی و ترشح هورمون HCG قبل از آغاز تحلیل جسم زرد انجام می‌شود.
- ۲) هر اندام دستگاه تولیدمثل زنان که تحت اثر هورمون استروژن می‌باشد، محل لقاح گامت‌ها و تشکیل یاخته تخم می‌باشد.
- ۳) بعد از جایگزینی توده سلولی بلاستوسیست، زوائد انگشتی در دیواره رحم توسط یاخته‌های توده درونی بلاستوسیست ایجاد می‌شود.
- ۴) هر اندام دارای پوشش مخاطی مژکدار در سطح درونی خود، محل شروع تقسیم میتوز یاخته تخم و تشکیل توده سلولی مورولا می‌باشد.

۶ چند مورد درباره جنین‌های همسان عبارت زیر را به طور نادرست تکمیل می‌کند؟

«به طور قطع»

- الف) در حین تقسیمات اولیه تخم، یاخته‌های بنیادی از هم جدا شده‌اند.
- ب) توده درونی بلاستوسیست به دو یا چند قسمت تقسیم شده است.
- ج) در یک قسمت از رحم جایگزین شده‌اند و یک نوع جنسیت دارند.
- د) دارای دو جفت جدای از هم برای برقراری ارتباط با خون مادر هستند.

- ۱) ۱
- ۲) ۲
- ۳) ۳
- ۴) ۴

۷) نخستین اتفاق طی زایمان طبیعی و تولد نوزاد سالم، کدام گزینه است؟

- ۱) پاره شدن کیسه آمنیون و ترشح مایع آمنیوتیک
 ۲) شروع انقباض رحم تحت اثر هورمون اکسی توسین
 ۳) وارد شدن فشار به دیواره رحم از طرف سر جنین
 ۴) خروج جفت و اجزای مرتبط با آن از واژن

۸) کدام گزینه عبارت زیر را به نادرستی تکمیل می نماید؟ (با تغییر)

«در انسان،»

- ۱) به طور معمول سلول های داخلی بلاستوسیست در تشکیل جفت دخالت می کند.
 ۲) جایگزینی بلاستوسیست در دیواره رحم، نهایتاً سبب حفظ جسم زرد و تداوم ترشح هورمون های جنسی می شود.
 ۳) کاهش حجم سلول های حاصل از میتوز تخم، در طول لوله ی فالوپ ادامه پیدا می کند.
 ۴) به دنبال تشکیل جفت در جداره رحم، رشد و بلوغ فولیکول های جدید تخمدانی در طول بارداری متوقف می شود.

۹) چند مورد، درباره ساختار جفت و بند ناف در جنین انسان، صحیح است؟

- الف) مواد غذایی از رگ های خونی مادر به کوریون منتشر می شود.
 ب) رگ های با پیچ خوردگی بیشتر مربوط به بند ناف حاوی خون غنی از اکسیژن هستند.
 پ) رگ های رحم، خون مادر را به اطراف زوائد انگشتی رها می کنند.
 ت) امکان ورود پروتئین های دفاعی مادر به خون جنین وجود دارد.

- ۱) ۱
 ۲) ۲
 ۳) ۳
 ۴) ۴

۱۰) به طور معمول در انسان، قبل از جنین،

- ۱) تشکیل سیاهرگ های بند ناف - بلاستوسیست به جداره رحم متصل می گردد.
 ۲) شکل گیری لایه های زاینده - درون بلاستوسیست حفره ایجاد می شود.
 ۳) به وجود آمدن پرده های اطراف - ساختار جفت تشکیل می شود.
 ۴) ایجاد رابطه خونی مادر با - هورمون HCG به خون مادر ترشح نمی شود.

۱۱) چند جمله از جملات زیر درست است؟

- الف) به دنبال تشکیل جفت در جداره رحم، بلوغ فولیکول های جدید در تخمدان متوقف می ماند.
 ب) جایگزینی بلاستوسیست در دیواره رحم، نهایتاً سبب حفظ جسم زرد و تداوم ترشح هورمون های پروژسترون و استروژن از آن می شود.
 ج) تخم طبیعی انسان قطعاً طی تقسیم میتوز، دو یاخته کوچک تر از خود تولید می کند.
 د) در فرآیند لقاح، ابتدا غشای اسپرم و اووسیت ثانویه ادغام می شود و پس از آن میوز ۲ اووسیت ثانویه تکمیل می گردد.

- ۱) ۱
 ۲) ۲
 ۳) ۳
 ۴) ۴

۱۲) چند مورد درست است؟

- الف) بلاستوسیست از سمت مقابل توده درونی به جدار رحم متصل می شود.
 ب) در حین جایگزینی، هورمون ترشح شده از یاخته های کوریون سبب حفظ جسم زرد و تداوم ترشح هورمون پروژسترون می شود.
 ج) پرده ای که به جنین نزدیک است، آمنیون و پرده ای که دورتر قرار دارد کوریون نام دارد.
 د) توده یاخته درونی بلاستوسیست قبل از جایگزینی، لایه های زاینده را تشکیل می دهد.

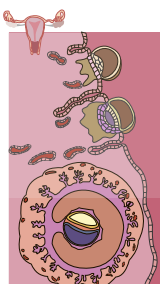
- ۱) ۱
 ۲) ۲
 ۳) ۳
 ۴) ۴

۱۳) (در رگ های رحم، برخلاف رگ های بند ناف)

- ۱) فقط حاوی مواد مغذی، اکسیژن و بعضی از پادتن هستند.
 ۲) فقط رگ هایی با خون روشن دارند.
 ۳) خون را از مادر به جفت هدایت می کنند.
 ۴) پیوستگی اکسیژن به هموگلوبین در سرخرگ ها زیاد است.

۱۴) کدام جمله به نادرستی بیان شده است؟

- ۱) تعداد و اندازه زوائد انگشتی لایه کوریون در سمتی که بند ناف و جفت تشکیل می شود نسبت به بقیه قسمت ها بیشتر و بزرگتر است.
 ۲) یاخته های تروفوبلاستی که طرف قطب دور از توده درونی قرار دارند، آنزیم های هضم کننده ای ترشح می کنند که یاخته های جدار رحم را تخریب می کند.
 ۳) تعداد لایه های زاینده جنینی ابتدا دو لایه و سپس سه لایه می شود.
 ۴) تروفوبلاست توانایی ترشح برون ریز و درون ریز را دارد.



۱۵) در فرآیند لقاح کدامیک از وقایع زیر دیرتر از همه به وقوع می پیوندد؟

- ۱) اووسیت ثانویه میوز خود را تکمیل می کند.
- ۲) غشاء یک اسپرم و غشاء اووسیت ثانویه با هم دیگر تماس پیدا می کنند.
- ۳) پوشش هسته تخمک ناپدید می شود.
- ۴) گویچه قطبی دوم تشکیل می شود.



مرکز مشاوره تحصیلی
علیرضا افشار

پاسخنامه تشریحی

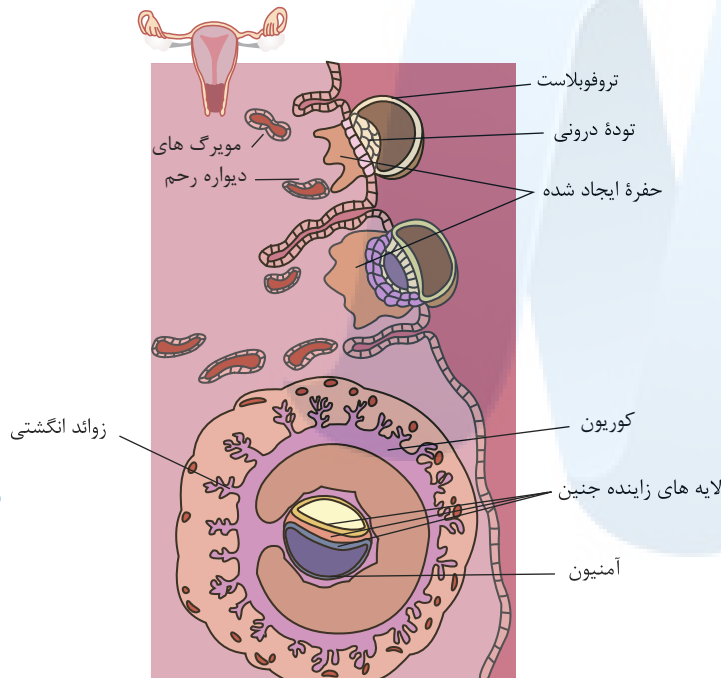
۱. به ورود و استقرار بلاستوسیست در جدارهٔ رحم عمل جایگزینی می‌گویند که باتوجه به شکل زیر یاخته‌های درونی بلاستوسیست از سایر یاخته‌ها متمایز گردیده‌اند.

بررسی سایر گزینه‌ها:

گزینهٔ ۲: از بعد از جایگزینی، رویان به سرعت رشد می‌کند و پرده‌هایی که رویان را حفاظت و تغذیه خواهند کرد نیز به سرعت نمو پیدا می‌کنند.

گزینهٔ ۳: بلاستوسیست به شکل یک کرهٔ توخالی است.

گزینهٔ ۴: در این مرحله بلاستوسیست فاقد خون است.



۲. HCG از یاخته‌های تروفوبلاست تولید می‌شود نه تودهٔ یاخته‌ای توپر.

بررسی سایر گزینه‌ها:

گزینهٔ ۱: یاخته‌های حاصل از تقسیم یاختهٔ تخم در مرحلهٔ مورولا رشد ابعادی نکرده‌اند و اندازهٔ تودهٔ یاخته‌ای مشابه یاختهٔ تخم است.

گزینهٔ ۲: بلاستوسیست پس از رسیدن تودهٔ یاخته‌ای جنین به رحم ایجاد می‌شود. بنابراین زنش مژک‌های لولهٔ فالوپ در حرکت آن نقشی ندارند.

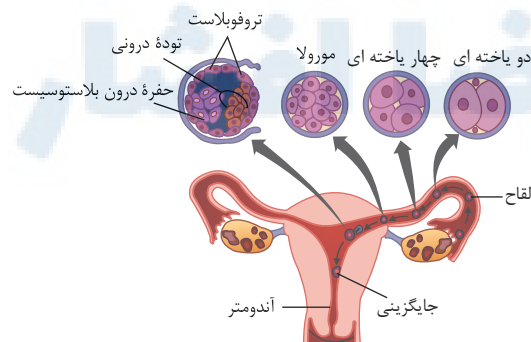
گزینهٔ ۴: سلول‌های لایهٔ بیرونی بلاستوسیست آنزیم‌های هضم‌کنندهٔ ترشح و یاخته‌های جدار رحم را تخریب می‌کنند.

۳. موارد «ب» و «ج» صحیح هستند.

بررسی موارد:

مورد الف) دقت کنید لایهٔ تروفوبلاست بعد از رسیدن تودهٔ سلولی به درون رحم تشکیل می‌شود.

مورد ب) مطابق شکل این مورد قابل تشخیص است.



مورد ج) بافت‌های مختلف بدن انسان از تقسیم تودهٔ یاخته‌ای درونی ایجاد شده‌اند.

مورد د) دقت کنید یاخته‌های حاصل از تقسیم یاختهٔ تخم در لولهٔ رحمی، رشد نمی‌کنند.

۴. نخستین واقعه در طی زایمان طبیعی شروع انقباضات دیوارهٔ رحم تحت اثر هورمون اکسی توسین است. پاره‌شدن کیسهٔ آمنیون مربوط به قبل از زایمان طبیعی

است و نشان‌دهندهٔ نزدیک بودن زایمان طبیعی است.

۵) بررسی سایر گزینه‌ها:

گزینه ۲) دقت کنید برخورد اسپرم با اووسیت ثانویه و عمل لقاح در لوله (های) رحمی صورت می‌گیرد. رحم تحت تأثیر هورمون استروژن قرار دارد. گزینه ۳) توسط یاخته‌های کوریون (لایه بیرونی بلاستوسیست) تولید می‌شود. گزینه ۴) برای مجاری تنفسی انسان که دارای مخاط مژکدار هستند؛ صحیح نیست.

۶) ۱ ۲ ۳ ۴

در حین تقسیمات اولیه تخم ممکن است یاخته‌های بنیادی از هم جدا شوند یا توده درونی بلاستوسیست به دو یا چند قسمت تقسیم شود. اگر جداشدن قبل از تشکیل بلاستوسیست باشد، می‌تواند در محل‌های مختلفی از رحم جایگزین شوند و دارای جفت مخصوص به خود باشند.

۷) ۱ ۲ ۳ ۴

اولین واقعه در طی زایمان طبیعی، شروع انقباضات رحم در پی ترشح اکسی‌توسین می‌باشد. دقت کنید پاره‌شدن کیسه آمنیون نشانه نزدیک بودن به زایمان است.

۸) ۱ ۲ ۳ ۴

کوریون در تعامل با دیواره‌ی رحم، جفت را می‌سازد و سلول‌های داخلی بلاستوسیست جنین را می‌سازند. بررسی سایر گزینه‌ها:

گزینه ۲): در مرحله جایگزینی، یاخته‌های تروفوبلاست، هورمونی به نام HCG ترشح می‌کنند که وارد خون مادر می‌شود. این هورمون سبب حفظ جسم زرد و تداوم ترشح هورمون‌های جنسی می‌شود.

گزینه ۳): تقسیمات اولیه تخم درون فالوپ آنقدر سریع است که فرصت افزایش حجم سلول نیست پس هر سلول دختری کوچکتر از هر سلول مادری است.

گزینه ۴): در صورت لقاح، پروژسترون ترشعی از جسم زرد با خود تنظیمی منفی جلوی افزایش LH و تخمک‌گذاری را می‌گیرد.

۹) ۱ ۲ ۳ ۴

فقط مورد «ب» نادرست است. بررسی موارد:

الف: (درست) خون مادر پس از خروج از رگ‌ها، از طریق انتشار، به اطراف زوائد انگشتی کوریون منتشر می‌شوند.

ب: (نادرست) رگ‌های با پیچ‌خوردگی بیشتر، مربوط به سرخرگ‌های بند ناف هستند. این رگ‌ها دارای خون تیره هستند.

پ: (درست) رگ‌های رحم، خون مادر را به اطراف زوائد انگشتی رها می‌کنند.

ت: (درست) برخی از پروتئین‌های دفاعی خون مادر، می‌توانند به خون جنین منتقل شوند.

۱۰) ۱ ۲ ۳ ۴

گزینه ۱): بند ناف یک سیاهرگ دارد. (نه سیاهرگ‌های بند ناف)

گزینه ۲): بلاستوسیست قبل از جایگزینی و تشکیل لایه‌های زاینده جنینی، دارای حفره‌ای درون خود است.

گزینه ۳): ابتدا پرده‌های اطراف رویان تشکیل می‌شود، سپس از تعامل کوریون و دیواره رحم، جفت به وجود می‌آید.

گزینه ۴): قبل از تشکیل جفت، یاخته‌های تروفوبلاست هورمون HCG ترشح می‌کنند.

۱۱) ۱ ۲ ۳ ۴

هر چهار مورد درست هستند. بررسی موارد:

الف) به دنبال بارداری، جسم زرد با ترشح پروژسترون و با مکانیسم خودتنظیمی منفی، مانع از افزایش LH که عامل تخمک‌گذاری است می‌شود.

ب) هنگام جایگزینی بلاستوسیست، حدود روز ۶ پس از لقاح (۲۰ تا ۲۱ چرخه) است که جسم زرد یعنی همان منبع تولید پروژسترون فعال است.

ج) یاخته‌ها در طی تقسیم در لوله فالوپ رشد نمی‌کنند، بنابراین یاخته‌های حاصل از تقسیم میتوز تخم، کوچک‌تر از آن هستند.

د) در فرآیند لقاح ابتدا غشای اسپرم و اووسیت ثانویه ادغام می‌شود، سپس میوز تکمیل می‌شود.

۱۲) ۱ ۲ ۳ ۴

بررسی گزینه‌ها: موارد "ب، ج" به درستی بیان شده‌اند.

جمله "الف": نادرست، بلاستوسیست از قسمتی که دارای توده درونی است به جدار رحم متصل می‌شود.

جمله "ب": نادرست، بعد از جایگزینی، ترشح HCG از یاخته‌های کوریون سبب حفظ جسم زرد و تداوم ترشح هورمون پروژسترون می‌شود.

جمله "ج": درست، پرده آمنیون نزدیک به جنین و کوریون دورتر از آن قرار دارد.

جمله "د": نادرست، تشکیل لایه‌های زاینده جنینی بعد از جایگزینی در آندومتر ایجاد می‌شوند و از توده یاخته درونی منشأ می‌گیرد.

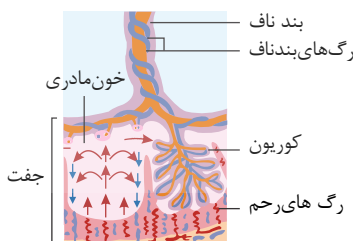
۱۳) ۱ ۲ ۳ ۴

گزینه ۱): رگ‌های رحم شامل سیاهرگ رحمی و سرخرگ رحمی است. سیاهرگ رحمی حاوی مواد دفعی جنین است و سرخرگ رحمی شامل مواد غذایی، اکسیژن و پادتن برای جنین است.

گزینه ۲): سرخرگ رحمی دارای خون روشن و سیاهرگ رحمی دارای خون تیره است.

گزینه ۳): سیاهرگ رحمی خون را از جفت به مادر هدایت می‌کند و سرخرگ رحمی خون را از مادر به جفت هدایت می‌کند.

گزینه ۴): سرخرگ‌های رحمی که انشعابی از سرخرگ آئورت مادر هستند دارای غلظت بالایی از اکسیژن هستند، و بنابراین پیوستگی اکسیژن با هموگلوبین زیاد است. زیرا پیوستگی اکسیژن به هموگلوبین بستگی به غلظت اکسیژن دارد.



۱ ۲ ۳ ۴ ۱۴

بررسی گزینه ها:

گزینه (۱): با توجه به شکل روبرو، زوائد انگشت مانند در طرف بند ناف و محلی که جفت را می سازد، بیشتر و بزرگتر است.

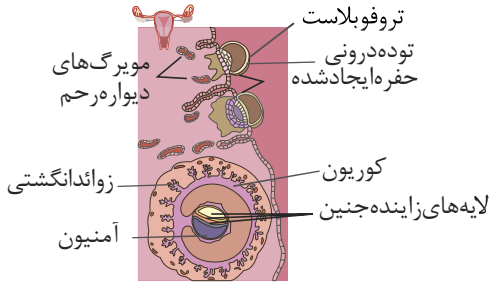
گزینه (۲): با توجه به شکل روبرو، یاخته های تروفوبلاستی که طرف قطب نزدیک (نه دور) توده درونی قرار دارند، آنزیم های هضم کننده ای ترشح می کنند که یاخته های جدار رحم را تخریب می کند.

گزینه (۳) با توجه به شکل روبرو، لایه های زاینده جنینی ابتدا دو لایه و سپس سه لایه هستند.

گزینه (۴): تروفوبلاست دارای توانایی ترشح آنزیم های هضم کننده جدار رحم است. (ترشحات برون ریز) و همچنین با ترشح هورمون *HCG* به خون دارای توانایی ترشح درون ریز را دارد.

۱ ۲ ۳ ۴ ۱۵ ترتیب گزینه ها در فرآیند لقاح:

غشاء اسپرم و غشاء اووسیت ثانویه به همدیگر تماس پیدا می کنند. (گزینه ۲) با ورود اسپرم به اووسیت، اووسیت ثانویه میوز خود را تکمیل می کند و به تخمک تبدیل می شود. (گزینه ۱) و همزمان گویچه قطبی دوم نیز تشکیل می شود (گزینه ۴) پوشش هسته تخمک نیز ناپدید می شود. (گزینه ۳)



مرکز مشاوره تحصیلی
علیرضا افشار



مبحث: گفتار ۳ فصل ۷ زیست یازدهم

سری: شماره ۲

زمان: ۱۵ دقیقه

۱ کدام یک از موارد زیر صحیح است؟

- ۱ همزمان با فرآیند جایگزینی بلاستوسیست، پرده‌هایی که در حفاظت و تغذیه جنین نقش دارد، تشکیل می‌شود.
- ۲ تروفوبلاست بعد از جای گرفتن در دیواره رحم، در نهایت در تشکیل جفت نقش دارد.
- ۳ در پی ورود هورمون HCG به خون مادر، ترشح هورمون پروژسترون از جسم زرد شروع می‌شود.
- ۴ در زمانی که جنین از بافت‌های تخریب‌شده رحم، شروع به تغذیه می‌کند، آمینون و کوریون در حال تشکیل‌اند.

۲ در ارتباط با یاخته (سلول)‌های لایه بیرونی بلاستوسیست، کدام گزینه نقش نادرستی را برای این سلول‌ها بیان می‌کند؟

- ۱ در تشکیل جفت به دنبال فرایند جایگزینی بلاستوسیست در دیواره رحم نقش دارد.
- ۲ نوعی هورمون جنسی را به درون خون مادر ترشح می‌کند که اساس تست‌های بارداری است.
- ۳ باعث حفظ جسم زرد و تداوم ترشح هورمون پروژسترون از جسم زرد به خون مادر می‌شود.
- ۴ آنزیم‌های هضم‌کننده‌ای را ترشح می‌کند که با تخریب یاخته‌های جدار رحم، باعث ایجاد حفره می‌شوند.

۳ پس از ورود اسپرم‌ها به درون لوله رحمی و شروع فرایند لقاح کدام اتفاق زودتر از سایرین روی می‌دهد؟

- ۱ عبور اسپرم‌ها از لایه حاوی باقی‌مانده سلول‌های فولیکولی اطراف تخمک
- ۲ پاره شدن کیسه آکروزومی سر اسپرم و هضم لایه ژله‌ای شفاف
- ۳ ادغام هسته اسپرم و تخمک و تشکیل سلول تخم
- ۴ آگزوسیتوز ریزکیسه‌های حاوی مواد سازنده جدار لقاحی

۴ چند مورد، عبارت زیر را به‌طور نادرست تکمیل می‌کند؟ (با تغییر)

«به‌طور معمول، خارجی‌ترین پرده دربرگیرنده جنین انسان به‌همراه دیواره رحم ساختار ویژه‌ای را تشکیل می‌دهد، که در طی مراحل رشد و نمو جنین،

.....»

- * از ورود داروها به سلول‌های بنیادی در داخل بلاستوسیست جلوگیری می‌کند.
- * مواد غذایی لازم را از طریق سیاهرگ‌های بندناف به یاخته‌های جنین می‌فرستد.
- * یاخته‌های خونی تولیدشده در کبد و طحال جنین را، به گردش خون مادر منتقل می‌نماید.
- * برخی پادتن‌های خون مادر همانند مواد اعتیادآور را به بدن جنین منتقل می‌کند.

- ۱ مورد ۱
- ۲ مورد ۲
- ۳ مورد ۳
- ۴ مورد ۴

۵ کدام گزینه، درباره وقایع پس از لقاح در بدن یک زن سالم ۳۵ ساله نادرست است؟ (با تغییر)

- ۱ یاخته‌های حاصل از تقسیم میتوز یاخته تخم مرحله رشد اندازه یاخته را ندارند.
- ۲ پرده کوریون در تشکیل بندناف شرکت می‌کند که بندناف رابط بین جفت و دیواره رحم می‌باشد.
- ۳ یاخته‌های تروفوبلاست نوعی هورمون ترشح می‌کند که به بدن مادر منتقل می‌شود.
- ۴ یاخته‌های بلاستوسیست در طی جایگزینی از یاخته‌های هضم‌شده جدار رحم برای تغذیه خود استفاده می‌کنند.

۶ اساس تست‌های بارداری در انسان بر اساس سنجش هورمونی است که

- ۱ یاخته‌های ترشح‌کننده آن به همراه بخشی از بندناف، جفت را تشکیل می‌دهد.
- ۲ تداوم ترشح آن از جسم زرد، از تخمک‌گذاری مجدد جلوگیری می‌کند.
- ۳ توسط سیاهرگ بندناف به سمت جفت و بدن مادر منتقل می‌شود.
- ۴ از نوعی پرده محافظت‌کننده جنین وارد خون مادر می‌شود.



۷ در طی لقاح در انسان، هنگامی که اسپرم ، می توان گفت

- ۱ در حال ورود به لایه ژله‌ای اطراف تخمک است - جدار لقاحی مانع ورود اسپرم‌های دیگر به اووسیت می‌شود.
- ۲ وارد لایه خارجی اطراف تخمک می‌شود - یاخته‌های فولیکولی اطراف تخمک تخریب می‌شوند.
- ۳ با غشای اووسیت ثانویه ادغام می‌شود - مواد ویژه‌ای با برون‌رانی (اگزوسیتوز) از اووسیت ثانویه آزاد می‌شوند.
- ۴ ژن‌های هسته‌ای خود را با تخمک ادغام می‌کند - بلافاصله تقسیمات میتوزی تخم آغاز می‌شود.

۸ به طور معمول، خارجی ترین پرده در برگیرنده بلاستوسیست، می تواند با تولید ساختار ویژه‌ای، (با تغییر)

- ۱ از ورود هر نوع دارویی به سلول‌های داخلی بلاستوسیست جلوگیری کند.
- ۲ مواد غذایی را برای لایه‌های بافتی رویان تأمین کند.
- ۳ باعث می‌شود که این ساختار خون جنین و مادر مخلوط شده و با هم تبادل داشته باشد.
- ۴ از ورود همه پروتئین‌های پلاسما‌ی مادر به جنین، ممانعت به عمل آورد.

۹ در روش سونوگرافی (با تغییر)

- ۱ امواج صوتی با فرکانس پایین مورد استفاده قرار می‌گیرد.
- ۲ همه ناهنجاری‌های جنین قابل تشخیص می‌باشند.
- ۳ بازتاب امواج صوتی به تصویر ویدیویی تبدیل می‌شود.
- ۴ تشخیص ضربان قلب جنین معمولاً در بارداری غیرممکن است.

۱۰ جدار لقاحی در مرحله از ایجاد می‌شود.

- ۱ لوتئال - ادغام غشای اسپرم و اووسیت اولیه
- ۲ فولیکولی - تغییر غشای اسپرم و اووسیت اولیه
- ۳ فولیکولی - ادغام غشای اسپرم و غشای تخم
- ۴ لوتئال - تغییر غشای اووسیت

۱۱ چند مورد می‌تواند موجب ایجاد دوقلوهای غیرهمسان شود؟

- الف) آزاد شدن هم‌زمان اوول از هر تخمدان
- ب) تقسیم شدن توده درونی بلاستوسیست به دو قسمت
- ج) ورود هم‌زمان هسته دو اسپرم به یک اووسیت ثانویه
- د) وجود دو اووسیت ثانویه به‌طور هم‌زمان در لوله فالوپ

- ۱ ۱
- ۲ ۲
- ۳ ۳
- ۴ ۴

۱۲ هورمونی به نام HCG باعث می‌شود.

- ۱ ایجاد جسم زرد و ترشح هورمون استروژن و پروژسترون از آن
- ۲ تداوم ترشح هورمون استروژن و پروژسترون از جسم زرد جنین
- ۳ ضخیم ماندن آندومتر رحم و همچنین پایین ماندن غلظت هورمون‌های محرک جنسی در خون مادر
- ۴ افزایش هورمون LH و FSH در خون مادر و در نتیجه از قاعدگی و تخمک‌گذاری مجدد جلوگیری

۱۳ لقاح موقعی آغاز می‌شود که

- ۱ مایع منی به رحم وارد شود.
- ۲ هسته اسپرم وارد تخمک شده، با هسته تخمک ادغام شود.
- ۳ لایه فسفولیپیدی یاخته اسپرم با لایه فسفولیپیدی یاخته هاپلوئید دارای کروموزوم مضاعف در تماس قرار می‌گیرند.
- ۴ آکروزوم اسپرم پاره شده و آنزیم‌های هضم‌کننده جدار لقاحی را هضم کنند.

۱۴ در افزایش نقش دارد اما در افزایش نقش ندارد.

- ۱ مکیدن نوزاد - ترشح شیر - ساخت شیر
- ۲ اکسی توسین - ترشح شیر نقش - ساخت شیر
- ۳ اکسی توسین - شدت انقباض ماهیچه‌های رحم - تعداد انقباضات در واحد زمان
- ۴ مکیدن نوزاد - ترشح هورمون اکسی توسین از هیپوتالاموس - ساخت اکسی توسین

بند ناف ۱۵

- ۱ دارای سه رگ است که جهت حرکت خون در دو رگ آن از جفت به جنین و رگ دیگر از جنین به جفت است.
- ۲ منحصرأ توسط جنین ساخته می شود و برخلاف جفت، بافت های مادری در ایجاد آن دخالتی ندارند.
- ۳ دارای رگ هایی با قطر متفاوت است. قطر رگی که در آن غلظت موادی مانند اسید لاکتیک و کربن دی اکسید زیاد است، بیشتر از رگ های دیگر بند ناف است.
- ۴ از تعامل رگ های خونی مادر و رگ های خونی جنین ساخته شده است.



مرکز مشاوره تحصیلی
علیرضا افشار

پاسخنامه تشریحی

۱) تروفوبلاست سرانجام در تشکیل جفت نقش دارد. بررسی سایر گزینه ها:

گزینه ۱: در ادامه (نه همزمان با) فرآیند جایگزینی، پرده های محافظت کننده از جنین به وجود می آیند.

گزینه ۳: هورمون HCG سبب تداوم (نه شروع) ترشح پروژسترون از جسم زرد می گردد.

گزینه ۴: جنین در حال جایگزینی از بافت های تخریب شده شروع به استفاده می کند؛ در حالی که پرده ها بعد از آن تشکیل می شوند.

۲) منظور سؤال تروفوبلاست است که هورمون HCG را ترشح می کند و این هورمون به خون مادر وارد می شود که اساس تست بارداری است. این هورمون، نوعی هورمون جنسی محسوب نمی شود.

۳) لقاح موقعی آغاز می شود که غشای اسپرم و غشای اووسیت ثانویه با همدیگر تماس پیدا کنند. در این زمان، ضمن ادغام غشای اسپرم با غشای اووسیت، تغییراتی در سطح اووسیت اتفاق می افتد که باعث ایجاد پوششی به نام جدار لقاحی می شود. جدار لقاحی از ورود اسپرم های دیگر به اووسیت جلوگیری می کند.

۴) فقط مورد آخر صحیح است.

بررسی موارد:

مورد اول) بعضی از داروها از طریق جفت عبور می کنند و بر روی جنین تأثیر می گذارند.

مورد دوم) دقت کنید در بندناف یک سیاهرگ وجود دارد (نه سیاهرگ های بندناف)

مورد سوم) دقت کنید که یاخته های خونی جنین و مادر با هم مخلوط نمی شوند.

مورد چهارم) برخی مواد اعتیاد آور مانند کوکائین و برخی از پادتن ها نیز از طریق جفت جابه جا می شوند.

۵) پرده های محافظت کننده در اطراف جنین تشکیل می شوند که مهم ترین آنها درون شامه جنین (آمنیون) و برون شامه جنین (کورین) هستند. آمنیون در حفاظت و تغذیه جنین نقش دارد. کورین در تشکیل جفت و بندناف دخالت می کند. جفت (نه بند ناف) رابط بین بند ناف و دیواره رحم است. یاخته های حاصل از تقسیم تخم رشد نکرده اند. حدود ۳۶ ساعت پس از لقاح، تقسیمات میتوز خود را شروع می کند و نتیجه آن ایجاد توده یاخته ای است.

۶) اساس تست های بارداری، سنجش هورمون HCG است که توسط کورین (برون شامه جنین) ترشح شده و وارد خون مادر می شود.

۷) همزمان با ادغام غشای اسپرم و اووسیت ثانویه، مواد سازنده جدار لقاحی که در ریزکیسه های غشایی قرار دارند، با برون رانی آزاد می شوند. این ریزکیسه ها حاوی مواد تشکیل دهنده جدار لقاحی هستند.

بررسی سایر گزینه ها:

گزینه ۱: جدار لقاحی، ضمن ادغام غشاء اسپرم و تخمک تشکیل می شود.

گزینه ۲: اسپرم برای عبور از لایه خارجی، سلول های فولیکولی را با فشار کنار می زند، ولی آن ها را تخریب نمی کند.

گزینه ۴: تقسیم میتوز یاخته تخم، حدود ۳۶ ساعت بعد از لقاح شروع می شود.

۸) خارجی ترین پرده ی دربرگیرنده رویان یک هفته ای انسان، کورین است که در تعامل با رحم، جفت (ساختار ویژه) را تشکیل می دهد. جفت ساختاری است که از طریق آن، مادر به رویان غذا می رساند، به عبارتی از طریق جفت، مواد غذایی برای سه لایه بافت مقدماتی رویان (آندودرم، مزودرم و اکتودرم) فراهم می شود.

بررسی سایر گزینه ها:

گزینه ۱: بسیاری از مواد، از جمله داروها و مواد آسیب زا از جفت عبور می کنند.

گزینه ۳: خون مادر و جنین به دلیل وجود پرده کورین مخلوط نمی شود.

گزینه ۴: ممکن است که پادتن ها از مادر به جنین منتقل شوند و به این ترتیب یک مصونیت موقتی در برابر برخی از عوامل بیماری زا در بدو تولد نوزاد به وجود بیاید. باتوجه به آن که پادتن ها، پروتئینی هستند، می توان گفت، برخی از پروتئین های موجود در پلاسما ی خون مادر از طریق جفت به رویان منتقل می شوند.

۹) میلیه مخصوص سونوگرافی، بازتاب را جدا می کند و آن ها را به یک تصویر ویدیویی تبدیل می کند.

بررسی سایر گزینه ها:

گزینه ۱: در روش سونوگرافی، امواج صوتی با فرکانس بالا (نه پایین) مورد استفاده قرار می گیرد.

گزینه ۲: در روش سونوگرافی، بسیاری از (نه همه ی) ناهنجاری های جنین قابل تشخیص می باشد.

گزینه ۴: در روش سونوگرافی، در هفته ی هفتم بارداری، معمولاً حرکت (ضربان) قلب قابل تشخیص است.

۱۰) غشای اسپرم با غشای اووسیت ثانویه با همدیگر تماس پیدا می کنند. در این زمان ضمن ادغام غشای اسپرم با غشای اووسیت، تغییراتی در سطح اووسیت اتفاق می افتد که باعث ایجاد پوششی به نام جدار لقاحی می شود.

۱۱) الف. (نادرست) از هر تخمدان اووسیت ثانویه آزاد شود، نه اوول.

ب. (نادرست) با تقسیم توده درونی بلاستوسیست به دو قسمت می تواند دوقلوهای همسان به وجود آید.

ج. (نادرست) اگر دو اسپرم با یک اووسیت ثانویه لقاح دهد یاخته ۳n کروموزومی به وجود می آید نه دوقلوهای همسان.

د. (درست) اگر دو اووسیت ثانویه به طور هم زمان از تخمدان آزاد شود و با دو اسپرم لقاح دهد، دوقلوهای غیرهمسان به وجود می آید.

۱۲) بررسی گزینه ها:

گزینه ۱: هورمون HCG باعث تداوم جسم زرد و عدم تبدیل آن به جسم سفید می شود نه تشکیل جسم زرد.

گزینه ۲: هورمون HCG باعث تداوم ترشح هورمون های استروژن و پروژسترون از جسم زرد مادر می شود نه جنین

گزینه (۳): هورمون *HCG* باعث حفظ جسم زرد و در نتیجه تداوم ترشح هورمون های استروژن و پروژسترون در مادر می شود، در نتیجه به علت بالاماندن میزان هورمون های استروژن و پروژسترون خون مادر، دیواره آندومتر رحم همچنان ضخیم می ماند.

گزینه (۴): هورمون *HCG* باعث تداوم ترشح هورمون های استروژن و پروژسترون مادر می شود و بالا بودن میزان این هورمون ها در خون با بازخورد منفی، میزان هورمون های محرک جنسی (*LH* و *FSH*) را پایین نگه داشته و از تخمک گذاری مجدد جلوگیری می شود.

۱۳) بررسی گزینه ها: ۱ ۲ ۳ ۴

گزینه (۱): ورود مایع منی به رحم باید انجام گیرد اما این مرحله از مراحل قبل از لقاح است.

گزینه (۲): هسته اسپرم وارد تخمک شده، با هسته تخمک ادغام می شود اما این مرحله اواخر لقاح است.

گزینه (۳): لقاح موقعی آغاز می شود که غشای یک اسپرم (غشای پلاسمایی از جنس فسفولیپیدی) با غشا اووسیت ثانویه (یاخته هاپلوئید با کروموزوم مضاعف، زیرا هنوز تقسیم میوز دو خود را کامل نکرده است) در تماس قرار گیرد.

گزینه (۴): آکرووزوم لایه داخلی ژله ای و شفاف را هضم می کند.

۱۴) بررسی گزینه ها: ۱ ۲ ۳ ۴

گزینه (۱): مکیدن نوزاد باعث افزایش هورمون ها و افزایش تولید و ترشح شیر می شود.

گزینه (۲): هورمون اکسی توسین علاوه بر تاثیر در زایمان، ماهیچه صاف غدد شیری را نیز منقبض می کند و خروج شیر انجام می شود. ولی اکسی توسین در ساخت شیر نقش ندارد. هورمون پرولاکتین در ساخت شیر نقش دارد.

گزینه (۳): اکسی توسین هم شدت انقباضات هم تعداد دفعات انقباض را افزایش می دهد.

گزینه (۴): مکیدن نوزاد میزان ترشح هورمون اکسی توسین را افزایش می دهد اما ترشح هورمون اکسی توسین به خون از طریق هیپوفیز پسین است.

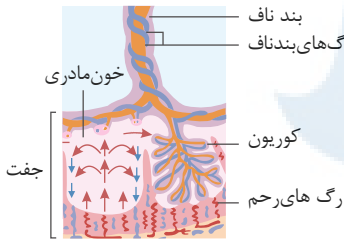
۱۵) بررسی سایر گزینه ها: ۱ ۲ ۳ ۴

گزینه (۱): بند ناف دارای سه رگ است که دو رگ آن سرخرگ است که خون را از جنین به جفت هدایت می کند و یک رگ سیاهرگ است که خون را از جفت به جنین هدایت می کند.

گزینه (۲): بند ناف رابط بین جنین و جفت است. و کوریون و آمنیون در تشکیل آن دخالت دارند.

گزینه (۳): مطابق با شکل روبرو، سرخرگ های بند ناف که از جنین به جفت می آیند دارای مواد دفعی مانند کربن دی اکسید و لاکتیک اسید هستند و این سرخرگ ها قطر کمتری نسبت به سیاهرگ بند ناف دارد.

گزینه (۴): در بند ناف سرخرگ ها خون را از جنین به جفت و سیاهرگ خون جفت را به جنین منتقل می کنند. در رگ های بند ناف فقط خون جنین جاری است.



مرکز مشاوره تحصیلی علیرضا افشار



مبحث: گفتار ۴ فصل ۷ زیست یازدهم

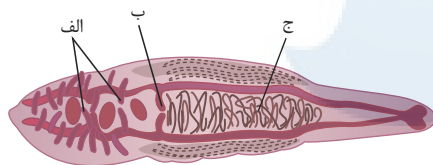
سری: شماره ۱

زمان: ۱۲ دقیقه

۱ هر زنبور عسل ماده،
۱ با حفاظت از زاده‌ها، انتقال ژن‌های مشترک به نسل بعد را تضمین می‌کند.
۲ برای تولید یاخته‌های شرکت کننده در لقاح، تقسیم دو مرحله‌ای انجام می‌دهد.
۳ از لقاح یاخته‌هایی به وجود می‌آید که دارای یک مجموعه کروموزومی هستند.
۴ تنها نیمی از ژن‌های هسته‌ای خود را به زنبورهای نر نسل بعد منتقل می‌کند.

۲ در بکرزایی زنبور عسل ملکه بکرزایی نوعی مار ماده
۱ همانند - زاده‌ها پلوئید حاصل از تولیدمثل، جنسیتی متفاوت با مادر خود دارد.
۲ برخلاف - تخمک پس از دولا (دیپلوئید) شدن، شروع به تقسیم سلولی می‌کند.
۳ همانند - تخمک بدون مضاعف کردن کروموزوم‌های خود، تقسیمات خود را آغاز می‌کند.
۴ برخلاف - زاده‌ها حاصل از تولیدمثل پس از بلوغ، گامت‌های خود را با تقسیم میتوز تولید می‌کند.

۳ کدام عبارت در مورد شکل زیر صحیح است؟
۱ گامت‌های تولیدشده در بخش «ب» توسط زامه (اسپرم)‌های تولیدشده در بخش «ج» بارور می‌شوند.
۲ قرارگیری کروموزوم‌های همتا از طول در کنار هم در یاخته‌های بخش «الف» برخلاف بخش «ج» می‌تواند دیده شود.
۳ بخش «ج» معادل اندامی در بدن یک زن سالم و بالغ است که به طور کامل در خارج از حفره شکمی قرار می‌گیرد.
۴ گامت‌های تولیدشده در بخش «الف» برخلاف گامت‌های تولیدشده در بخش «ب»، در طی لقاح دو طرفی از بدن جانور خارج می‌شوند.



۴ چند مورد زیر درباره زنبور به درستی بیان شده است؟
الف) زنبورهای کارگر نر n کروموزومی و کارگر ماده $2n$ کروموزومی هستند.
ب) همه نرها حاصل بکرزایی ملکه ماده هستند.
ج) زنبور عسل ملکه تخمک‌هایی با توانایی لقاح با اسپرم پدید می‌آورد.
د) در زنبور عسل نر، همانند زنبور عسل ماده، گامت با میوز ایجاد می‌شود.

۴ ۴

۳ ۳

۲ ۲

۱ ۱

۵ کدام عبارت درست است؟
۱ اساس تولید مثل جنسی و چگونگی انجام و مراحل آن در همه جانوران مشابه است.
۲ در پلاتیپوس بر خلاف اسبک‌ماهی، لقاح در بدن نر انجام می‌شود.
۳ در کوسه‌ماهی، برای ورود هم‌زمان گامت‌ها به داخل آب، دمای محیط و طول روز مؤثر است.
۴ کرم کبک برخلاف کرم خاکی می‌تواند تخمک‌های خود را بارور کند.

۶ در اسبک‌ماهی
۱ لقاح در بدن نر انجام می‌شود و پس از تولد، رشد و نمو جنین در آب آغاز می‌شود.
۲ اساس تولید مثلی آن با ماهی‌های لقاح خارجی مشابه است.
۳ جانور ماده تخمک را به درون حفره‌های بدن جنس نر، منتقل می‌کند.
۴ برای افزایش احتمال برخورد گامت‌ها، والدین تعداد زیادی گامت را هم‌زمان وارد آب می‌کنند.



۷) در فرآیند تولیدمثل جانوران تک‌جنسی، زمانی که تولید زاده جدید صورت بگیرد، قطعاً

- ۱) بدون لقاح یاخته جنسی نر و ماده - زاده ایجاد شده، کاملاً شبیه والد ماده است.
- ۲) در پی ورود گامت نر به دستگاه تولیدمثلی ماده - جنین تا زمان تولد در بدن والد ماده حضور دارد.
- ۳) به دنبال تولید تخمک واجد مواد مغذی - تأمین مواد غذایی لازم برای رشد جنین، بر عهده جنس ماده است.
- ۴) در پی آزاد شدن تعداد زیادی گامت به درون آب - دیواره‌های ژله‌ای جنین را از عوامل نامساعد محیطی حفظ می‌کنند.

۸) به طور معمول، نمی‌توانند بعد از انجام لقاح،

- ۱) دوزیستان - از اندوخته غذایی موجود در تخمک استفاده کنند.
- ۲) جانوران تخم‌گذار - جنین را در برابر عوامل نامساعد محیطی محافظت کنند.
- ۳) پستانداران کیسه‌دار - با مواد غذایی بافت‌های خود، به تغذیه جنین در رحم بپردازند.
- ۴) پستانداران جفت‌دار - بدون ایجاد پرده‌های محافظت‌کننده از جنین، به تغذیه آن تا هنگام تولد بپردازند.

۹) در مورد بکرزایی چند جمله نادرست است؟

- الف) نوعی تولیدمثل جنسی است که فرد از تخمک لقاح نیافته رشد و نمو می‌یابد.
- ب) فرزند حاصل از بکرزایی تمام ژن‌های خود را از یک والد کسب می‌کند.
- ج) فقط در بی‌مهرگان و حشرات مثل زنبور یافت می‌شود.
- د) در این تولیدمثل گاهی کروموزوم‌های تخمک دو برابر می‌شوند.

- ۱) ۱
- ۲) ۲
- ۳) ۳
- ۴) ۴

۱۰) در فرآیند تولیدمثل جانوران، به طور طبیعی همواره (با تغییر)

- ۱) جنسی - هر فردی که از هر کروموزوم دو نسخه داشته باشد، باشد، دارای دو والد است.
- ۲) غیر جنسی - ژن‌های هر کروموزوم، مستقل از کروموزوم دیگر به ارث می‌رسند.
- ۳) جنسی - گامت‌هایی که در لقاح شرکت دارند، محصول تقسیم میوزاند.
- ۴) غیر جنسی - زاده‌ها نیمی از اطلاعات ژنی والد را به ارث می‌برند.

۱۱) لقاح در اسبک‌ماهی همانند و برخلاف از نوع است.

- ۱) مار - میگو - خارجی
- ۲) قورباغه - پلاتی‌پوس - داخلی
- ۳) کانگورو - لاک‌پشت - خارجی
- ۴) کوسه - قورباغه - داخلی

۱۲) نمی‌توان گفت (با تغییر)

- ۱) در پستانداران کیسه‌دار، احتیاجات جنین از طریق جفت تأمین می‌شود.
- ۲) پلاتی‌پوس برخلاف کانگورو تخم‌گذار است و مانند انسان دارای غدد شیری است.
- ۳) در قورباغه حفاظت از جنین بر عهده دیواره تخمک است.
- ۴) در دستگاه تولید مثل زن همانند دستگاه تنفس آن مژک وجود دارد.

علیرضا افشار

پاسخنامه تشریحی

۱ ۲ ۳ ۴ ۱

تمام زنبورهای ماده، حاصل لقاح گامت نر و ماده هستند. بررسی سایر گزینه‌ها:

گزینه ۱) تنها در مورد زنبورهای کارگر صحیح است.

گزینه ۲ و ۴) تنها در مورد زنبور ملکه صحیح است.

۱ ۲ ۳ ۴ ۲

زاده‌های حاصل از بکرزایی زنبور عسل ملکه، همگی هاپلوئید و نر می‌باشند و با تقسیم میتوز گامت‌های خود را به وجود می‌آورند. در حالی که زاده‌های حاصل از بکرزایی در مار ماده دیپلوئید هستند و با میتوز گامت تولید نمی‌کنند.

۱ ۲ ۳ ۴ ۳

شکل مربوط به نوعی کرم پهن (مانند کرم کبد) است که هر فرد تخمک‌های خود را بارور می‌سازد. (الف) بیضه‌ها، (ب) تخمدان و (ج) رحم است. تشکیل تترادها (قرارگیری کروموزوم‌های هم‌تا از طول در کنار هم) در بخش‌های (الف) و (ب) برخلاف (ج) مشاهده می‌شوند.

۱ ۲ ۳ ۴ ۴

بررسی گزینه‌ها:

موارد "ب و ج" به درستی بیان شده‌اند.

جمله الف: نادرست، همه زنبورهای کارگر مانند ملکه، ماده و دیپلوئید هستند.

جمله ب: درست، همه نرها بر خلاف ملکه، هاپلوئید (تک لاد) و حاصل بکرزایی ملکه ماده هستند.

جمله ج: درست، تخمک‌های ملکه می‌توانند با اسپرم لقاح دهند در این صورت ملکه بعدی و کارگرها به وجود می‌آیند.

جمله د: نادرست، زنبور عسل نر n کروموزومی است و گامت آن با تقسیم میتوز به وجود می‌آید. زنبور عسل ماده (ملکه) $2n$ کروموزومی است و با میتوز گامت تولید می‌کند.

۱ ۲ ۳ ۴ ۵

بررسی گزینه‌ها:

۱. اساس تولید مثل جنسی، مثل میتوز و تولید گامت در همه جانوران یکسان است. ولی چگونگی انجام، مراحل آن و حفاظت و تغذیه جنینی تفاوت‌هایی دارد.

۲. در اسبک‌ماهی، جانور ماده تخمک را به بدن نر منتقل می‌کند و لقاح در بدن جانور نر انجام می‌شود. اما در پلاتی‌پوس اسپرم‌ها به بدن جانور ماده منتقل می‌شود.

۳. در کوسه‌ماهی، لقاح داخلی انجام می‌شود. هم‌زمان شدن ورود اسپرم و تخمک به درون آب مربوط به جانورانی است که لقاح خارجی دارند.

۴. کرم کبد و کرم خاکی، هرمافروdit هستند. کرم کبد می‌تواند تخمک‌های خود را بارور کند اما در کرم خاکی لقاح دو طرفی انجام می‌شود.

۱ ۲ ۳ ۴ ۶

بررسی گزینه‌ها:

گزینه ۱): در اسبک‌ماهی لقاح در بدن جنس نر انجام می‌شود، جنین‌ها را در بدن خود نگه می‌دارد، پس از طی مراحل رشد و نمو، نوزادان متولد می‌شوند.

گزینه ۲): اساس تولید مثلی همه جانوران با هم مشابه است.

گزینه ۳): جانور ماده تخمک را به درون "حفره" و نه حفره‌های بدن جنس نر منتقل می‌کند.

گزینه ۴): لقاح در اسبک‌ماهی، داخلی و در بدن جنس نر انجام می‌شود (نه در آب)

۱ ۲ ۳ ۴ ۷

۱. منظور از صورت گزینه، عمل بکرزایی است. در بکرزایی زنبور عسل، زاده ایجادشده، زنبور نر است و کاملاً شبیه مادر نیست.

۲. در خزندگان و پرندگان، گامت نر وارد دستگاه تولیدمثلی ماده می‌شود، ولی جنین تا زمان تولد در بدن والد ماده حضور ندارد. در پلاتی‌پوس نیز، جنین تا چند روز قبل از تولد، درون تخم و در بدن مادر باقی می‌ماند نه تا آخر دوران جنینی

۳. در هر نوع تولیدمثلی جانوران که تخمک تولید شود، تخمک دارای اندوخته غذایی است و تغذیه جنین را بر عهده دارد.

۴. در لقاح خارجی، تعداد زیادی گامت به درون آب رها می‌شود. هر تخمک دارای لایه‌های ژله‌ای است نه لایه‌های ژله‌ای که پس از لقاح تخمک‌ها را به هم می‌چسباند. سپس آن‌ها را در برابر عوامل محیطی محافظت می‌کند و در نهایت، مورد تغذیه جنین قرار می‌گیرد.

۱ ۲ ۳ ۴ ۸

۱. دوزیستان پس از انجام لقاح، از اندوخته اندک موجود در تخمک استفاده می‌کنند.

۲. جانوران تخم‌گذار، با ایجاد پوسته ضخیم در اطراف تخم، از جنین محافظت می‌کنند.

۳. در پستانداران کیسه‌دار جنین ابتدا درون رحم ابتدایی مادر رشد می‌کند. پس تغذیه آن توسط بافت‌های مادر انجام می‌شود.

۴. جنین انسان بدون وجود پرده محافظت‌کننده از جنین یعنی کوریون نمی‌تواند به تغذیه جنین بپردازد. جفت در اثر تعامل کوریون و رحم ایجاد می‌شود.

۱ ۲ ۳ ۴ ۹

جملات (الف) و (د) و (ه) صحیح می‌باشد.

بکرزایی در حشراتی مثل زنبور که بی‌مه‌ره و مار که مه‌ره‌دار است رخ می‌دهد (رد جمله ج).

۱ ۲ ۳ ۴ ۱۰

ژن‌هایی که روی یک کروموزوم قرار دارند، با هم دیگر به ارث می‌رسند، در حالی که همین ژن‌ها مستقل از ژن‌های روی کروموزوم دیگر به ارث می‌رسند.

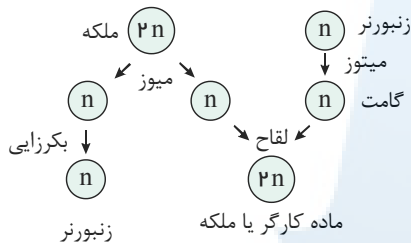
رد سایر گزینه‌ها:

گزینه ۱): برای خود باروری در مارها (نوع بکرزایی) صادق نیست چون فرزند حاصل هر دو نسخه‌ی یک کروموزوم را از یک والد (والد ماده) دریافت می‌کند.

گزینه ۳): برای گامت‌های زنبور عسل نر صادق نیست. زنبور عسل نر از طریق میتوز گامت تولید می‌کند.

گزینه ۴): در تولیدمثل غیر جنسی یک والد، یک نسخه از کروموزوم‌های خود را به فرزندان خود منتقل می‌کند.

در بکرزایی:



۱- جانوران دیپلوئید، یکی از دو کروموزوم همتا را از پدر و دیگری را از مادر دریافت می کنند. اما جانوران دیپلوئید حاصل از بکرزایی (مانند مار ماده) هر دو کروموزوم همتای خود را از مادر دریافت می کنند.

۲- جانوران هاپلوئید حاصل از بکرزایی دارای جنسیت نر می باشند (زنبور عسل نر)

۳- جانوران دیپلوئید حاصل از بکرزایی از طریق میوز گامت تولید می کند (شبهه سایر جانوران دیپلوئید)
اما جانوران هاپلوئید حاصل از بکرزایی از طریق میتوز گامت تولید می کنند (به دلیل هاپلوئید بودن قادر به میوز نمی باشند)

۴- جانوران دیپلوئید حاصل از بکرزایی قادر به میوز و میتوز می باشند (شبهه سایر جانوران دیپلوئید)
اما جانوران هاپلوئید حاصل از بکرزایی فقط قادر به میتوز می باشند (برخلاف جانوران دیپلوئید)

۵- جانوران دیپلوئید حاصل از بکرزایی دارای کروموزوم های همتا می باشند و در آنها تشکیل تتراد و جدا شدن کروموزوم های همتا دیده می شود (شبهه سایر جانوران دیپلوئید)
اما جانوران هاپلوئید حاصل از بکرزایی فاقد کروموزوم های همتا می باشند و در آنها و تشکیل تتراد و جدا شدن کروموزوم های همتا دیده نمی شود (برخلاف جانوران دیپلوئید)

۶- گامت جانوران دیپلوئید، حاوی نیمی از کروموزوم های والدی است اما گامت جانوران هاپلوئید حاصل از بکرزایی حاوی همه کروموزوم های والد نر می باشد.

۱۱) بررسی گزینه ها:

گزینه ۱: اسبک ماهی دارای لقاح داخلی است. میگو نوعی سخت پوست است. سخت پوستان همانند میگو دارای لقاح داخلی هستند. مار خزنده است و لقاح داخلی دارد.

گزینه ۲: اسبک ماهی همانند پلاتی پوس (نوعی پستاندار) ولی برخلاف قورباغه دارای لقاح داخلی است.

گزینه ۳: اسبک ماهی همانند خزندگان (از جمله لاک پشت) و پستانداران (از جمله کانگورو) لقاح داخلی دارد.

گزینه ۴: اسبک ماهی و کوسه لقاح داخلی دارند. قورباغه دارای لقاح خارجی است.

۱۲) در پستانداران کیسه دار، جفت وجود ندارد..

بررسی سایر گزینه ها:

گزینه ۲) : پلاتی پوس، پستاندار تخم گذاری است و دارای غدد شیری است به همین دلیل در گروه پستانداران تقسیم بندی می شود.

گزینه ۳) : در جاندارانی که لقاح خارجی دارند (مثل قورباغه)، تخمک ها دارای دیواره های چسبناک ژله ای و محکمی هستند که حفاظت از جنین را بر عهده دارد.

گزینه ۴) : لوله های فالوپ همانند مجاری تنفسی مژک دارد.

مرکز مشاوره تحصیلی

علیرضا افشار

مبحث: گفتار ۴ فصل ۷ زیست یازدهم

سری: شماره ۲

زمان: ۱۲ دقیقه

۱ در جانورانی که لقاح داخلی دارند جانورانی که لقاح خارجی دارند، امکان ندارد

- ۱ برخلاف - پوسته ضخیم تخم، از جنین در شرایط نامساعد محافظت کند.
- ۲ همانند - اندوخته غذایی تخمک نیازهای تغذیه‌ای جنین را برطرف نماید.
- ۳ برخلاف - لایه زله‌ای تخمک به‌عنوان غذای اولیه جنین استفاده می‌شود.
- ۴ همانند - اندازه تخمک وابسته به دوره جنینی و وجود ارتباط غذایی با مادر باشد.

۲ در همه جانوران، گامت نر

- ۱ خارج از بدن جانور تولیدکننده آن، با گامت ماده لقاح انجام می‌دهد.
- ۲ برای تولید جانور جدید، الزاماً با گامت دیگری لقاح انجام می‌دهد.
- ۳ نیمی از کروموزوم‌های جانور تولیدکننده خود را دریافت می‌کند.
- ۴ تحت تأثیر دمای محیط، طول روز و یا مواد شیمیایی آزاد می‌گردد.

۳ در زنبور عسل، صفت رنگ چشم مستقل از جنس و دارای دو دگره قرمز و سفید می‌باشد. در جمعیت زنبورهای عسل، رنگ چشم زنبورهای ماده به صورت قرمز، صورتی و سفید دیده می‌شود. با توجه به توضیحات، چند مورد عبارت زیر را به نادرستی تکمیل می‌کند؟ (با تغییر) «از آمیزش با زنبور عسل نر چشم سفید،

الف) هر زنبور ماده با چشم قرمز در جمعیت زنبورهای عسل - رنگ چشم همه زاده‌ها صورتی می‌باشد.

ب) نوعی زنبور دارای چشم سفید - همه زاده‌های نر، دارای رنگ چشم سفید می‌باشند.

ج) نوعی زنبور دارای چشم صورتی - زاده‌ها ممکن است حاصل لقاح دو گامت (کامه) نوترکیب باشند.

د) نوعی زنبور دارای دو الل متفاوت مربوط به صفت رنگ چشم - قطعاً نیمی از زاده‌ها، بعد از بلوغ، دو نوع کامه (گامت) در رابطه با این صفت ایجاد می‌کنند.

- ۱ ۱
- ۲ ۲
- ۳ ۳
- ۴ ۴

۴ در چند گروه از جانداران زیر می‌توان لقاح خارجی را مشاهده کرد؟

الف) در سخت‌پوستان آبی (ب) دوزیستان (پ) ماهی‌ها (ت) بی‌مهرگان آبی

- ۱ ۱
- ۲ ۲
- ۳ ۳
- ۴ ۴

۵ کدام گزینه درست است؟

۱ زنبور نر همانند ماده، با انجام میوز گامت تولید می‌کند.

۲ گامت نر همانند زنبور نر حاصل میتوز یک یاخته n کروموزومی است.

۳ زنبورهای نر و کارگر حاصل تقسیم تخمک‌ها بدون لقاح با اسپرم هستند.

۴ زنبور ملکه برخلاف کارگرها دارای دو مجموع کروموزومی یکی پدری و دیگری مادری هستند.

۶ کدام گزینه به درستی بیان شده است؟

۱ در هر لقاح داخلی، اسپرم وارد دستگاه تولید مثلی ماده می‌شود.

۲ هر لقاح داخلی، نیازمند دستگاه‌های تولید مثلی با اندام‌های تخصص یافته است.

۳ هر جانور با اسکلت بیرونی، دارای لقاح خارجی است.

۴ هر جانور ساکن آبی، دارای لقاح خارجی است.

۷ برای افزایش احتمال برخورد گامت‌ها در لقاح خارجی، عوامل متعددی دخالت دارد مانند

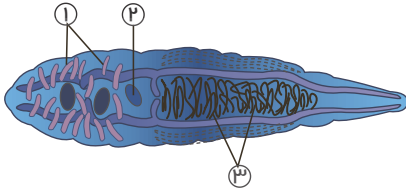
۱ آزاد کردن مواد شیمیایی توسط نر و ماده به طور همزمان

۲ وارد کردن تعداد زیادی گامت توسط یکی از والدین که اغلب جنس نر است.

۳ می‌توانند از رفتارهایی به غیر از رقص هم استفاده کنند.

۴ استفاده از دستگاه‌های تولید مثلی با اندام‌های تخصص یافته .

۸ شکل مقابل، اجزای دستگاه تولیدمثل نوعی جانور را نشان می‌دهد. کدام گزینه عبارت زیر را به درستی تکمیل می‌کند؟
 «در شکل مقابل، بخش شماره معادل بخشی از دستگاه تولیدمثل است که



۱ ۲- انسان - در حفاظت و تغذیه جنین نقش دارد.

۲ ۳- کانگورو - جنین رشد و نمو خود را در آنجا آغاز می‌کند.

۳ ۱- انسان - محیطی مناسب برای نگهداری اسپرم‌ها ایجاد می‌کند.

۴ ۳- پستانداران جفت‌دار - مستقیماً در تشکیل بندناف دخالت دارد.

۹ در هر جانور ، قطعاً

۱ ۱- هرمافرودیت - لقاح بین گامت‌های خود جانور انجام می‌شود.

۲ ۲- ماده دارای لقاح خارجی - تخمک دیواره‌ای چسبنک و ژله‌ای دارد.

۳ ۳- دارای لقاح داخلی - اسپرم وارد دستگاه تولیدمثل فرد ماده می‌شود.

۴ ۴- حاصل بکرزایی - یک مجموعه کروموزومی در هر هسته یاخته‌های پیکری وجود دارد.

۱۰ هر سلول تولیدکننده اسپرم در زنبور عسل نر نسبت به هر سلول تولیدکننده تخمک در زنبور ملکه تولید می‌کند که (با تغییر)

۱ ۴ برابر گامت - اطلاعات ژنی گامت‌ها دو به دو شبیه به هم هستند.

۲ ۲ برابر گامت - اطلاعات ژنی گامت‌ها با هم متفاوت است.

۱۱ هر زنبور عسل (با تغییر)

۱ فاقد قدرت بکرزایی، به وسیله میتوز، گامت به وجود می‌آورد.

۲ حاصل تقسیم یاخته تخم، به وسیله تقسیم میوز، گامت به وجود می‌آورد.

۳ دارای قدرت بکرزایی، ماده است.

۴ حاصل از لقاح، نیمی از کروموزوم‌های هر والد را به ارث می‌برد.

۱۲ زنبور عسلی که از طریق بکرزایی تولید می‌شود،

۱ ماده‌ای است که از تخمک لقاح نیافته رشد و نمو می‌کند.

۲ زنبوری است که در هر سلول پیکری یک مجموعه کروموزوم دارد.

۳ نری است که ۱۰۰ درصد از ژن‌های خود را از والدین دریافت می‌کند.

۴ نری است که ۵۰ درصد از ژن‌های خود را از ملکه دریافت می‌کند.

مرکز مشاوره تحصیلی
 علیرضا افشار

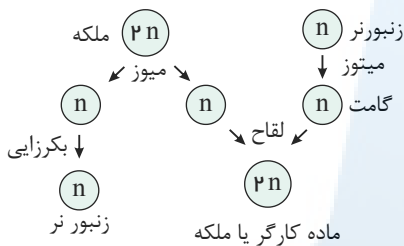
پاسخنامه تشریحی

۱- در جانورانی که لقاح خارجی دارند تخمک دیواره‌ای چسبنک و ژله‌ای دارد که پس از لقاح تخمک‌ها را به هم می‌چسباند. این لایه ژله‌ای ابتدا از جنین در برابر عوامل نامساعد محیطی محافظت می‌کند و سپس به‌عنوان غذای اولیه مورد استفاده جنین قرار می‌گیرد.

۲- در همه جانوران، گامت نر برای ایجاد جانور جدید با گامت ماده لقاح انجام می‌دهد. بررسی سایر گزینه‌ها:

گزینه ۱) در برخی جانوران نرماده، مثل کرم‌های پهن، گامت‌های نر، درون بدن جانور با گامت‌های ماده لقاح انجام می‌دهد. همچنین لقاح در اسبک ماهی در بدن جانور نر صورت می‌گیرد.
گزینه ۳) اسپرم زنبور عسل نر، با تقسیم میتوز تولید می‌شود و هاپلوئید است.
گزینه ۴) این گزینه تنها در رابطه با جانورانی که لقاح خارجی دارند، صادق است.

۱ ۲ ۳ ۴ ۳



با توجه به نکاتی که در زیر آورده شده هر ۴ گزینه به نادرستی تکمیل می‌کند.

۱ - زنبور ماده با ملکه متفاوت است ولی هر ۲ دیپلوئید هستند. پس هر زنبور ماده الزاماً در آمیزش شرکت نمی‌کند.

۲ - ملکه توانایی بکرزایی دارد و حاصل بکرزایی همیشه زنبور نر و هاپلوئید است.

۳ - ملکه ماده است ولی هر ماده‌ای ملکه نیست.

۴ - فقط ملکه در آمیزش شرکت می‌کند.

۵ - نو ترکیب برای تقسیم میتوز و زنبور نر اتفاق نمی‌افتد.

۶ - زنبور ماده کارگر در لقاح شرکت نمی‌کند.

۷ - زاده‌های حاصل آمیزش همگی ماده هستند.

۴- در سخت‌پوستان آبی و بعضی ماهی‌ها لقاح داخلی دیده می‌شود.

اما در دوزیستان، بیشتر ماهی‌ها و بی‌مهرگان آبی لقاح خارجی دیده می‌شود.

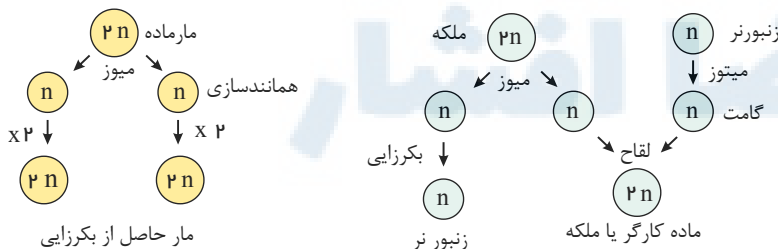
۵- بررسی گزینه‌ها: ۱ ۲ ۳ ۴ ۵

۱. زنبور نر n کروموزومی است و با میتوز گامت تولید می‌کند ولی زنبور ماده $2n$ کروموزومی است و با میوز، گامت تولید می‌کند.

۲. زنبور نر خود حاصل میتوز یک تخمک (n کروموزومی) است. گامت‌های نر نیز حاصل میتوز سلول‌های n کروموزومی زنبور نر هستند.

۳. فقط زنبورهای نر حاصل بکرزایی هستند.

۴. زنبورهای کارگر و ملکه هر دو حاصل لقاح اسپرم و تخمک هستند. به همین دلیل دارای دو مجموعه کروموزومی یکی از پدر و دیگری از مادر می‌باشند.



۶- بررسی گزینه‌ها: ۱ ۲ ۳ ۴ ۶

گزینه ۱): در اسبک ماهی، جانور ماده تخمک خود را به درون حفره‌ای در بدن جنس نر منتقل می‌کند. لقاح در بدن نر انجام می‌شود.

گزینه ۲): در جانوران خشکی زی (با اسکلت درونی یا اسکلت بیرونی) و در بعضی آبزیان مثل سخت‌پوستان (با اسکلت بیرونی) و بعضی ماهی‌ها، لقاح داخلی دیده می‌شود.

گزینه ۳): انجام لقاح داخلی، نیازمند دستگاه‌های تولید مثلی با اندام‌های تخصص یافته است.

گزینه ۴): بعضی از آبزیان مثل سخت‌پوستان و بعضی از ماهی‌ها دارای لقاح داخلی هستند.

۷- بررسی گزینه‌ها: ۱ ۲ ۳ ۴ ۷

گزینه ۱): آزاد کردن مواد شیمیایی توسط نر " یا " ماده. یک جنس ماده شیمیایی را تولید و جنس دیگر ماده شیمیایی را دریافت می کند.

گزینه ۲): هر دو جنس همزمان تعداد زیادی گامت وارد آب می کنند.

گزینه ۳): یکی از عواملی که احتمال برخورد گامت ها را زیاد می کند بروز بعضی رفتارها مانند "رقص" است. به این معنی که جنس مخالف می تواند از رفتارهای دیگری به جز رقص نیز استفاده کند. برای مثال با خانه سازی و ساخت لانه بزرگتر، جنس مخالف را به سمت خود جذب کند.

گزینه ۴): در لقاح داخلی نیازمند دستگاه های تولیدمثلی با اندام تخصص یافته است.

۸ ۱ ۲ ۳ ۴ ۱ - بیضه ۲ - تخمدان ۳ - رحم

تصویر، مربوط به نوعی کرم پهن به نام کرم کبد است.

۱. بخش شماره ۲، تخمدان است. در انسان رحم وظیفه حفاظت و تغذیه جنین را بر عهده دارد.

۲. بخش شماره ۳، رحم است. در کانگورو، رحم ابتدایی وجود دارد و در آن جنین رشد و نمو خود را آغاز می کند.

۳. بخش شماره ۱، بیضه ها هستند. در انسان وظیفه نگهداری اسپرم را، بر عهده ندارد.

۴. بخش شماره ۳، رحم است و رحم در تشکیل بدن ناف شرکت ندارد.

۹ ۱ ۲ ۳ ۴ ۱. کرم حاکی هم همرافرو دیت است. اما لقاح بین گامت های خودش انجام نمی شود.

۲. در جانوران دارای لقاح خارجی، جنس ماده، تخمک هایی تولید می کند که دارای دیواره ای چسبناک و ژله ای هستند.

۳. در اسبک ماهی، تخمک ها وارد بدن جاندار نر می شود.

۴. در بکرزایی مار، زاده تولید شده دارای دو مجموعه کروموزومی در هر یاخته پیکری خود است.

۱۰ ۱ ۲ ۳ ۴ از آن جایی که زنبورهای عسل نر با میتوز، گامت تولید می کنند، در هر بار تولید گامت، دو اسپرم تولید می کنند که ژنوتیپ گامت ها شبیه هم هستند. زنبور عسل ماده نیز چون دیپلوئید است، با میوز تخمک می سازد و در هر بار میوز یک تخمک تولید می کند.

۱۱ ۱ ۲ ۳ ۴ سه نوع زنبور عسل داریم: زنبور عسل نر، زنبور عسل ماده کارگر و زنبور عسل ماده ملکه. زنبور عسل نر، هاپلوئید است و گامت را با میتوز به وجود می آورد و قادر به بکرزایی نیست و حاصل بکرزایی است. زنبور عسل ماده کارگر نیز قادر به تولید گامت و بکرزایی نیست و حاصل لقاح و تقسیم زیگوت است. زنبور عسل ماده ملکه نیز قادر به تولید گامت و حاصل لقاح و تقسیم زیگوت است و تنها این زنبور عسل دارای قدرت بکرزایی است.

بررسی سایر گزینه ها:

گزینه ۱): زنبور عسل کارگر همانند زنبور عسل نر فاقد قدرت بکرزایی اما به دلیل عقیم بودن قادر به تولید گامت نمی باشد.

گزینه ۲): زنبور عسل کارگر حاصل لقاح و تقسیم زیگوت است اما به دلیل عقیم بودن قادر به تولید گامت نمی باشد.

گزینه ۴): زنبورهای عسل حاصل از لقاح نیمی از کروموزوم های مادری و تمام کروموزوم های پدری را دریافت می کنند.

۱۲ ۱ ۲ ۳ ۴ زنبور عسلی که از طریق بکرزایی تولید می شود، زنبور نری است که یک مجموعه کروموزوم غیر همتا دارد، یعنی n کروموزومی است. زنبورهای کارگر، ماده هایی $2n$ کروموزومی هستند و ۱۰۰ درصد ژن های خود را از ملکه دریافت می کند. نرهایی که ۵۰ درصد از ژن های خود را از ملکه دریافت کرده اند $2n$ کروموزومی و از طریق لقاح به وجود آمده اند.

بکرزایی در زنبور عسل:

۱- زنبور عسل نر حاصل تخمک لقاح نیافته زنبور ملکه ($2n$ کروموزومی و زایا) است.

۲- زنبور عسل نر ۱۰۰ درصد ژن های خود را از ملکه $2n$ کروموزومی ماده و زایا می گیرد اما برخلاف ملکه، n کروموزومی است و برخلاف ملکه دارای جنسیت نر می باشد.

۳- زنبور عسل ملکه ($2n$ کروموزومی و زایا) قادر به تقسیم میوز و میتوز است و از طریق میوز گامت تولید می کند اما زنبور عسل نر به دلیل هاپلوئید بودن قادر به میوز نمی باشد و از طریق میتوز گامت تولید می کند.

۴- زنبور عسل ملکه ($2n$ کروموزومی و ماده و زایا) و زنبور عسل نر (n کروموزومی و زایا) هر دو زایا هستند اما زنبور عسل کارگر ($2n$ کروموزومی و ماده و عقیم) نازا و عقیم است. گامت های بعضی از جانوران، قدرت تقسیم شدن دارند برای مثال تخمک زنبور عسل ملکه که طی بکرزایی زنبور عسل نر را به وجود می آورد توانایی تقسیم شدن دارد.

۵- زنبور عسل نر برخلاف زنبور عسل ملکه و کارگر حاصل لقاح و تشکیل زیگوت نمی باشد.

۶- فقط زنبور عسل ملکه قادر به بکرزایی است. زنبور عسل نر حاصل بکرزایی است ولی قادر به بکرزایی نمی باشد.

۷- زنبورهای عسل حاصل لقاح (ملکه و کارگر) نیمی از کروموزوم های مادری و همه کروموزوم های پدری را دریافت می کنند اما زنبور عسل نر فقط نیمی از کروموزوم های مادری را دریافت می کند.

۸- زنبور عسل کارگر (ماده ی نازا) همانند زنبور عسل نر فقط قادر به تقسیم میتوز است و قادر به میوز نمی باشد.



مبحث : فصل ۸ زیست یازدهم

سری: شماره ۱

زمان: ۱۵ دقیقه

۱ همهٔ یاخته‌های تک‌لاد (هاپلوئیدی) موجود در یک گیاه دو جنسی چه مشخصه‌ای دارند؟

- ۱ پس از تشکیل، به یکدیگر متصل باقی می‌مانند.
- ۲ پس از تشکیل، از نظر دیواره دستخوش تغییر می‌شوند.
- ۳ در ابتدای تشکیل، تقسیم رشتمان (میتوز) انجام می‌دهند.
- ۴ در زمان تشکیل، توسط یاخته‌های دولادی (دیپلوئیدی) احاطه می‌شوند.

۲ در گیاه ذرت، یاخته رشد، و میتوز

- ۱ دانهٔ گردۀ نارس، برخلاف - تخم‌زا - نمی‌کند - ندارد.
- ۲ یاختهٔ زایشی، همانند - هاپلوئید دور از تخم‌زا - می‌کند - دارد.
- ۳ گامت‌نر، برخلاف - پاراننشیمی - می‌کند - ندارد.
- ۴ یاختهٔ رویشی، همانند - میوزکنندهٔ بافت خورش - می‌کند - ندارد.

۳ در رابطه با هر نوع گیاه نهان‌دانه‌ای که در سال دوم با تولید گل و دانه رشد زایشی انجام می‌دهد، چند مورد نادرست است؟

- الف) به کمک مواد ذخیره‌شده در ریشه، فقط در سال دوم ساقهٔ گل‌دهنده تولید می‌کند.
- ب) همانند گیاهان یک‌ساله در سال اول قدرت تشکیل رویان درون‌دانه را ندارد.
- ج) همانند گیاه گندم، فقط در سال اول عمر خود، رشد رویشی دارند.
- د) دانهٔ آن‌ها برای رویش به آب، اکسیژن و دمای مناسب نیاز دارد.

- ۱ مورد ۱
- ۲ مورد ۲
- ۳ مورد ۳
- ۴ مورد ۴

۴ کدام گزینه جملهٔ زیر را به‌درستی تکمیل می‌کند؟

«هر ساقهٔ تخصص‌یافته برای تولیدمثل غیرجنسی که به‌طور حتم»

- ۱ جوانهٔ جانبی و انتهایی را توأم با یکدیگر دارد - بر روی خاک رشد می‌کند.
- ۲ گیاه جدید از جوانه‌های آن منشأ می‌گیرد - زیر خاک رشد می‌کند.
- ۳ روی خاک رشد می‌کند - جوانه‌هایی را در محل گره‌ها دارد.
- ۴ زیر خاک رشد می‌کند - دارای ذخیرهٔ غذایی غده‌ای هستند.

۵ در رابطه با سلول‌هایی که به‌طور مستقیم دربرگیرندهٔ کیسهٔ رویانی یک تخمک تازه بارور شده در گیاه زیتون هستند، کدام گزینه قطعاً صحیح است؟

- ۱ در شرایطی می‌تواند ساختارهایی با چهار کروماتید ایجاد کند.
- ۲ این سلول‌ها در نهایت به پوستهٔ دانه تبدیل می‌شوند.
- ۳ محصول تقسیم میتوز سلول تخم ضمیمه می‌باشد.
- ۴ می‌تواند ژن‌های مشابهی با سلول تخم اصلی داشته باشد.

۶ کدام گزینه، عبارت زیر را به‌طور صحیح تکمیل می‌کند؟

«در همهٔ گیاهانی که میوهٔ تولید می‌کنند،»

- ۱ بدون دانه - رویان قبل از تکمیل مراحل رشد و نمو از بین می‌رود و پوستهٔ دانه بسیار نازک است.
- ۲ بدون دانه - رشد میوه بدون لقاح گامت‌های نر و ماده و تحت اثر تنظیم‌کننده‌های رشد گیاهی صورت می‌گیرد.
- ۳ کاذب - میوه از رشد قسمتی از ساختار اختصاص یافته برای تولیدمثل جنسی حاصل می‌شود.
- ۴ حقیقی - از رشد هر تخمک موجود در تخمدان گیاه، میوه تشکیل می‌شود.

۷ کدام گزینه عبارت مقابل را به درستی تکمیل می‌کند؟ «در دانهٔ لوبیا، بخش اعظم فضای درون دانه، ممکن نیست،»

- ۱ یاخته‌های آن از نظر محتوای مادهٔ ژنتیکی با یاخته‌های پوستهٔ دانه تفاوت داشته باشد.
- ۲ دارای سه مجموعهٔ کروموزومی در هستهٔ یاخته‌های زندهٔ خود باشد.
- ۳ دارای مواد غذایی ذخیره‌شده بوده و بعد از لقاح تشکیل شده باشد.
- ۴ از تقسیم سلول‌های حاصل از تخم اصلی موجود در تخمدان پدید آمده باشد.



۸ می توان گفت

- ۱ در روش پیوندزدن، پیوندک متعلق به گیاهی است که ویژگی هایی مانند مقاومت به بیماری ها و سازگاری با خشکی یا شوری را دارد.
- ۲ در روش خوابانیدن، بخشی از ساقه یا شاخه گیاه را که دارای گره است با خاک می پوشانند.
- ۳ تکثیر از طریق جوانه های روی ریشه درخت آلبالو، با تشکیل کیسه رویانی همراه است.
- ۴ معمولاً برای تکثیر گیاهان از تولیدمثل جنسی استفاده می شود.

۹ در گیاهانی که برای انتقال گامت نر به درون تخمدان، ساختاری به نام لوله گرده تشکیل می دهند،

- ۱ گرده های نارس از تقسیم میوز ایجاد می شوند که فقط دو تا از آن ها زنده می ماند.
- ۲ هر بساک دارای یک کیسه گرده است که از یاخته های دیپلوئیدی ساخته شده است.
- ۳ دو گامت نر حاصل از میتوز یاخته زایشی در لقاح با یاخته های شرکت می کنند که همگی حاصل میتوز هستند.
- ۴ در پی میتوز گرده های نارس، گامت نر تولید می شود که یک دیواره خارجی و یک دیواره داخلی دارد.

۱۰ کدام عبارت، جمله زیر را به درستی تکمیل می کند؟

در یک گیاه طبیعی، عدد کروموزومی در می تواند متفاوت باشد،

- ۱ یاخته رویشی و گرده های نارس
- ۲ یاخته تخم زای درون یک مادگی و یاخته پوشش تخمک
- ۳ یاخته بافت خورش و کلاله برچه
- ۴ یاخته تولید کننده دانه گرده رسیده و یاخته زایشی

۱۱ در گیاه دارای قطعاً

- ۱ توانایی تشکیل گل و دولبه - بافت غذایی دانه قبل از لقاح به وجود آمده است.
- ۲ دانه بالغ با اندوخته غذایی دولاد - رویش زیرزمینی دانه مشاهده خواهد شد.
- ۳ توانایی تولید گامت های نر غیرمتحرک - لوله گرده به درون بافت کلاله و خامه در همان گیاه نفوذ می کند.
- ۴ دانه های تک لپه - در بافت ذخیره کننده مواد غذایی دانه سه مجموعه کروموزومی وجود دارد.

۱۲ در گیاهان نهان دانه، از زمین ساقه پیاز خارج می شود.

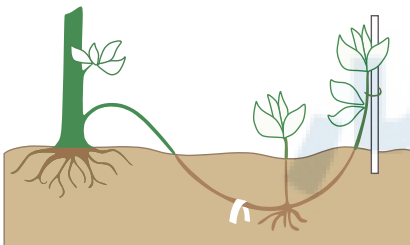
- ۱ همانند - برگ و ریشه
- ۲ برخلاف - فقط ریشه
- ۳ برخلاف - برگ و ریشه
- ۴ همانند - فقط ساقه

۱۳ گیاه می تواند

- ۱ توت فرنگی همانند زنبق - ساقه تخصص یافته اش به طور افقی در زیر خاک رشد کند.
- ۲ پیاز خوراکی برخلاف گیاه لاله - توسط ساقه کوتاه و تکمه مانند تکثیر شود.
- ۳ نرگس همانند پیاز خوراکی - دارای ساقه زیرزمینی کوتاه باشد.
- ۴ شلغم برخلاف سیب زمینی - دارای نوعی دیسه برای تأمین مواد غذایی به منظور تشکیل پایه های جدید باشد.

۱۴ شکل مقابل مربوط به تکثیر نوعی گیاه نهان دانه به روش است که در این روش از بخش های گیاه برای تولید مثل رویشی

استفاده می شود.



- ۱ قلمه زدن - تخصص یافته
- ۲ خوابانیدن - تخصص یافته
- ۳ قلمه زدن - تخصص نیافته
- ۴ خوابانیدن - تخصص نیافته

۱۵ در تخمک تازه لقاح یافته لوبیا، ممکن نیست

- ۱ سلولی با یک مجموعه کروموزومی دیده شود.
- ۲ همه سلول های اطراف کیسه رویانی دیپلوئید باشند.
- ۳ نیمی از یاخته های تخم تریپلوئید باشند.
- ۴ صفحه سلولی در میانه سلول تخم اصلی تشکیل شود.

پاسخنامه تشریحی

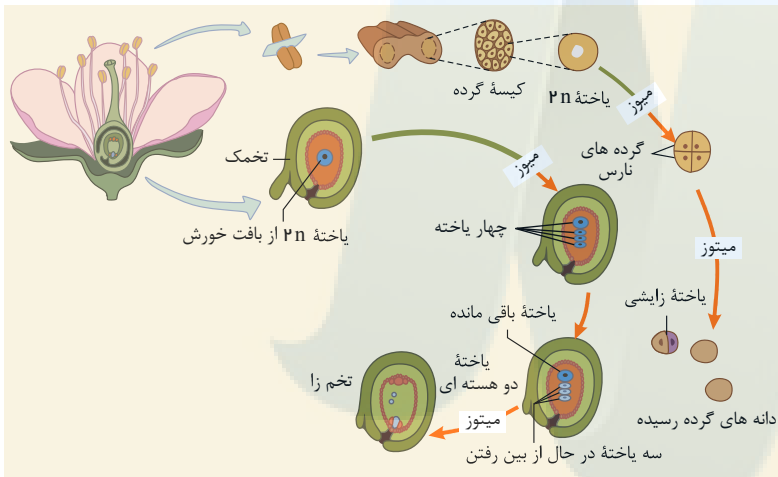
۱) یاخته‌های هاپلوئید در یک گیاه دو جنسی برای مثال عبارت‌اند از: ۱- یاخته‌های کیسه رویانی ۲- دانه گردۀ نارس ۳- دانه گردۀ رسیده که تمام این یاخته‌ها توسط یاخته‌های دیپلوئید احاطه شده‌اند.

بررسی سایر گزینه‌ها:

۱) گرده‌های رسیده یاخته‌های هاپلوئید هستند که به یکدیگر متصل نیستند.

۲) دیواره خارجی دانه‌های گرده منفذ دارد و ممکن است صاف یا دارای تزئیناتی باشد که این دیواره خارجی ممکن است دستخوش تغییراتی باشد.

۳) یاخته‌های زایشی بعد از تشکیل می‌توانند تقسیم میتوز انجام دهند، ولی یاخته‌های رویشی نمی‌توانند تقسیم انجام دهند و البته اسپرم‌ها که هاپلوئید هستند نیز نمی‌توانند تقسیم میتوز انجام دهند و ضمناً یاخته‌های کیسه رویانی توانایی تقسیم ندارند.



۲) ۱ ۲ ۳ ۴

یاخته رویشی رشد می‌کند، اما میتوز ندارد. یاخته میوزکننده در پارانشیم خورش نیز رشد می‌کند؛ اما میتوز انجام نمی‌دهد (میوز انجام می‌دهد).
بررسی سایر گزینه‌ها:

گزینه ۱) یاخته گردۀ نارس میتوز دارد؛ اما یاخته تخم‌زا رشد نمی‌کند و قدرت میتوز هم ندارد.

گزینه ۲) یاخته هاپلوئید دور از تخم‌زا میتوز انجام نمی‌دهد.

گزینه ۳) یاخته گامت نر رشد نمی‌کند و قدرت میتوز ندارد.

۳) ۱ ۲ ۳ ۴

گیاهان دوساله و گیاهان چند ساله هر دو می‌توانند در سال دوم رشد زایشی داشته باشند.
بررسی موارد:

مورد الف) برای گیاهان چند ساله صادق نیست. (نادرست)

مورد ب) گیاهان یک‌ساله می‌توانند در همان دوره رویشی یک سال یا کمتر رشد زایشی داشته باشند. (نادرست)

مورد ج) گیاهان چند ساله برخلاف گیاه یک ساله گندم می‌توانند چندین سال رشد رویشی داشته باشند. (نادرست)

مورد د) دانه همه گیاهان زایا برای رویش به آب، اکسیژن و دمای مناسب نیاز دارد. (درست)

۴) ۱ ۲ ۳ ۴

بررسی گزینه‌ها:

گزینه ۱: زمین‌ساقه که گیاه جدید از جوانه‌های آن منشأ می‌گیرد، دارای جوانه‌های جانبی و انتهایی است که زیر خاک رشد می‌کنند، مانند زنبق (نادرست)

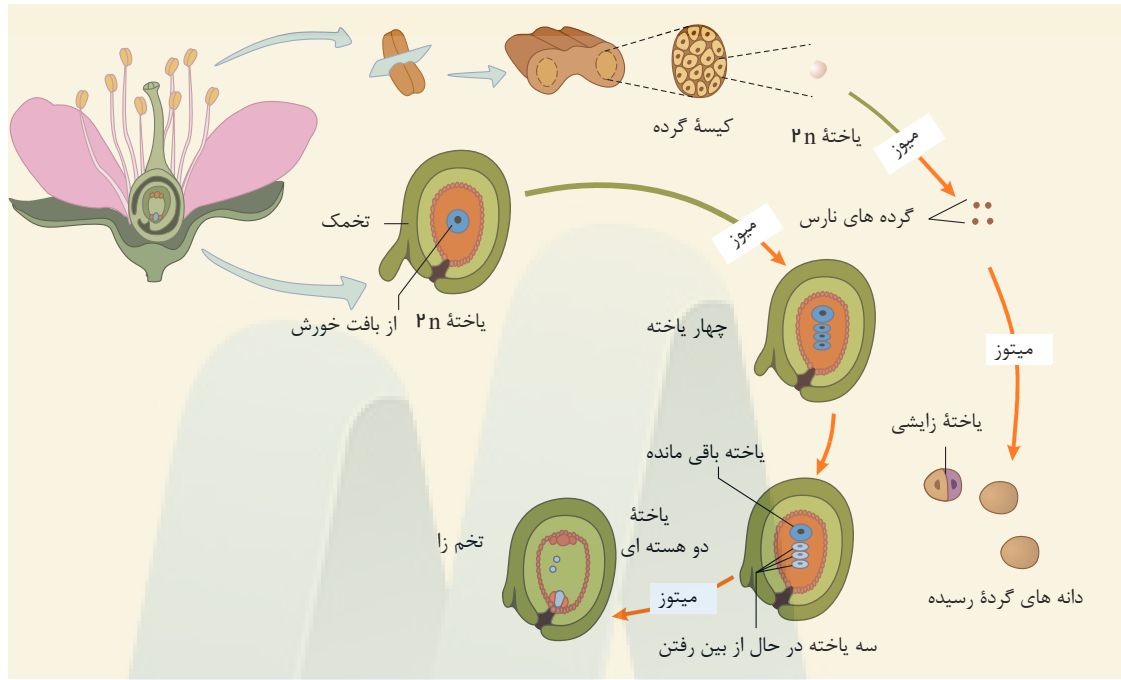
گزینه ۲: گیاهان جدید حاصل از ساقه‌های رونده، غده و زمین‌ساقه همگی از جوانه‌ها منشأ می‌گیرند و در این بین ساقه رونده در روی خاک رشد می‌کند، اما زمین‌ساقه و غده محل رشدشان زیر خاک است. (نادرست)

گزینه ۳: ساقه رونده که در توت‌فرنگی مشاهده می‌شود، در محل گره‌ها جوانه‌هایی دارد که از رشد آن‌ها گیاهان توت‌فرنگی جدیدی ایجاد می‌شود. (درست)

گزینه ۴: غده، پیاز و زمین‌ساقه زیر خاک رشد می‌کنند که در این بین، تنها ساقه‌های غده‌ای‌مانند، در سیب‌زمینی قرار دارد و دارای ذخیره غذایی غده‌ای است. (نادرست)

۵) ۱ ۲ ۳ ۴

مطابق شکل زیر واضح است که گروهی از سلول‌های بافت خورش که تقسیم میوز انجام نمی‌دهند، اطراف کیسه رویانی را احاطه کرده‌اند. این سلول‌ها دارای محتوای ژنتیکی مشابهی با سلولی هستند که با تقسیم میوز انجام می‌دهند؛ پس می‌توان گفت برخی ژن‌های این سلول‌ها با سلول تخم اصلی گیاه یکسان است.



بررسی سایر گزینه‌ها:

گزینه ۱: این سلول‌های بافت خورش تقسیم میوز ندارند و در اطراف کیسه رویانی قرار گرفته‌اند.

گزینه ۲: دقت کنید پوسته تخمک به پوسته دانه تبدیل می‌شود، نه سلول‌های بافت خورش!

گزینه ۳: این مورد برای آندوسپرم صحیح است.

۶ بررسی سایر گزینه‌ها:

گزینه ۱) برای میوه پرتقال صادق نیست.

گزینه ۲) برای میوه موز بدون دانه صادق نیست.

گزینه ۴) دقت کنید تخمک به میوه تبدیل نم‌شود؛ بلکه تخمدان به میوه تبدیل می‌شود و تخمک‌ها در صورت لقاح به دانه تبدیل می‌شوند.

۷ در دانه بالغ لوبیا مواد غذایی آندوسپرم جذب لپه‌ها شده و در آنجا ذخیره می‌شوند، در نتیجه لپه‌ها که بزرگ شده‌اند، بخش ذخیره‌ای دانه را تشکیل می‌دهند و فاقد یاخته‌های تریپلوئید هستند.

بررسی سایر گزینه‌ها:

گزینه ۱) پوسته تخمک به پوسته دانه تبدیل می‌شود که ساختار دیپلوئیدی است و از گیاه نسل قبل به وجود آمده است، اما لپه‌ها جزئی از رویان هستند که می‌توانند محتوای ماده ژنتیکی متفاوت با گیاه مادر داشته باشند.

گزینه ۳) لپه‌ها بعد از لقاح تولید می‌شوند.

گزینه ۴) لپه‌ها جزئی از رویان هستند و از تقسیم تخم اصلی ایجاد شده‌اند.

۸ در روش خوابانیدن بخشی از ساقه یا شاخه را که دارای گره است با خاک می‌پوشانند.

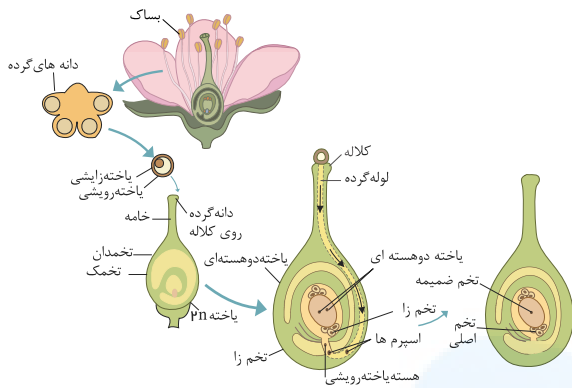
۹ گامت نر در گیاهان گل‌دار وسیله حرکتی ندارد. بنابراین، در این گیاهان برای انتقال گامت نر به درون تخمدان ساختاری به نام لوله گرده تشکیل می‌شود.

یکی از یاخته‌های بافت خورش بزرگ می‌شود و با تقسیم میوز چهار یاخته هاپلوئیدی ایجاد می‌کند. از این چهار یاخته، فقط یکی باقی می‌ماند که با تقسیم‌های میتوز متوالی ساختاری به نام کیسه رویانی ایجاد می‌کند. کیسه رویانی هفت یاخته دارد. تخم‌زا و یاخته دوهسته‌ای از یاخته‌های کیسه رویانی‌اند که در لقاح با گامت‌های نر شرکت می‌کنند.

بررسی سایر گزینه‌ها:

گزینه‌های ۱ و ۴) کیسه‌های گرده در بساک تشکیل می‌شوند و یاخته‌های دیپلوئیدی دارند. از تقسیم کاستمان (میوز) این یاخته‌ها، چهار یاخته هاپلوئیدی ایجاد می‌شود که در واقع گرده‌های نارس‌اند. هریک از این یاخته‌ها با انجام دادن تقسیم رشتمان (میتوز) و تغییراتی در دیواره به دانه گرده رسیده تبدیل می‌شود. دانه گرده رسیده یک دیواره خارجی، یک دیواره داخلی، یک یاخته رویشی و یک یاخته زایشی دارد.

گزینه ۲) با توجه به شکل در گیاهان گل‌دار، بساک ممکن است چهار کیسه گرده داشته باشد.



۱۰ بررسی گزینه ها: ۱ ۲ ۳ ۴

گزینه (۱): در هسته یاخته ی رویشی (حاصل میتوز یک یاخته هاپلوئید) و گرده نارس (حاصل میوز یاخته های دیپلوئید) یک مجموعه کروموزومی وجود دارد.

گزینه (۲): یاخته ی تخم زای یک مادگی دارای یک مجموعه کروموزومی، ولی یاخته ی پوشش تخمک دارای دو مجموعه کروموزومی است.

گزینه (۳): هسته یاخته ی بافت خورش (یاخته های پارانشیمی که تخمک جوان را پر کرده است) و کلاله مادگی هر دارای دو مجموعه کروموزومی هستند.

گزینه (۴): هسته یاخته تولید کننده دانه گرده رسیده (دانه گرده نارس) و یاخته زایشی هر دو دارای یک مجموعه کروموزومی هستند.

۱۱ ۱ ۲ ۳ ۴ در بیشتر گیاهان نهاندانه دولپه، اندوخته غذایی دانه، لپه ها و در برخی، آندوسپرم است. در هر دو صورت، اندوخته غذایی بعد از لقاح به وجود می آید.

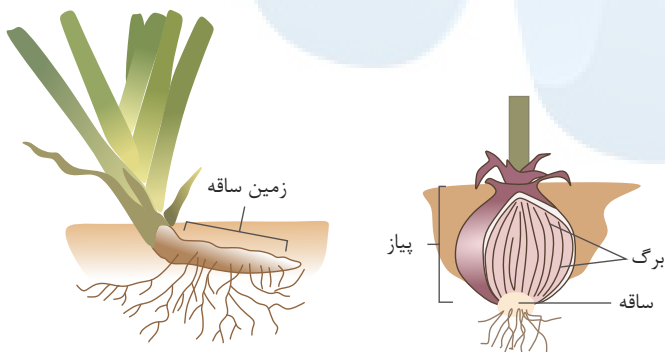
۲. گیاه لوبیا و نخود، هر دو دارای اندوخته غذایی دولاد یا ۲n هستند. اما لوبیا دارای رویش روی زمینی و نخود رویش زیرزمینی دارد.

۳. نهاندانگان، دارای گامت نر غیر متحرک هستند. اما اگر نهاندانه تک جنسی نر باشد، امکان تشکیل لوله گرده روی همان گیاه نخواهد بود.

۴. در دانه های تک لپه، آندوسپرم باقی می ماند و اندوخته غذایی دانه را تشکیل می دهد. آندوسپرم بافت ۳n کروموزومی است.

۱۲ ۱ ۲ ۳ ۴

باتوجه به شکل روبه رو، از «زمین ساقه»، همانند «پیاز»، هم برگ و هم ریشه خارج می شود.



۱۳ بررسی گزینه ها: ۱ ۲ ۳ ۴

گزینه (۱): در گیاهانی مانند زنبق، زمین ساقه وجود دارد که به طور افقی «زیر خاک» رشد می کند. اما در گیاه توت فرنگی، ساقه ی رونده به طور افقی «روی خاک» رشد می کند.

رد گزینه (۲) و درستی گزینه (۳): پیاز، همانند نرگس و لاله دارای ساقه ی زیرزمینی کوتاه و تکمه مانند است.

گزینه (۴): در دیسه های یاخته های بخش خوراکی سیب زمینی، به مقدار فراوانی نشاسته ذخیره شده است که به آن نشادیس (آملیپولاست) می گویند. ذخیره نشاسته، هنگام رویش جوانه های

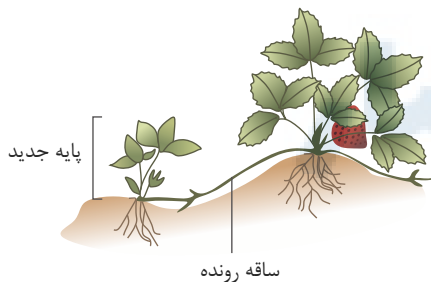
سیب زمینی، برای رشد جوانه ها و تشکیل پایه های جدید از گیاه سیب زمینی مصرف می شود.

۱۴ ۱ ۲ ۳ ۴

بررسی گزینه ها:

شکل سؤال، مربوط به روش خوابانیدن است. در روش خوابانیدن بخشی از ساقه یا شاخه را که دارای گره است، با خاک می

پوشانند. در روش خوابانیدن الزامی به اینکه گیاه ساقه رونده داشته باشد نیست.



۱۵ ۱ ۲ ۳ ۴ از آن جا که اولین تقسیم تخم دیپلوئید، میتوز با تقسیم سیتوپلاسم (سیتوکینز) نابرابر است، پس امکان ندارد صفحه سلولی در میانه سلول تخم دیپلوئید ایجاد

شود.

بررسی سایر گزینه ها:

گزینه (۱): در کیسه رویانی، سلول های هاپلوئید (با یک مجموعه کروموزومی) دیده می شود.

گزینه (۲): اطراف کیسه رویانی را یاخته های ماده نسل گذشته احاطه کرده است که دیپلوئید است.

گزینه (۳): در هر کیسهٔ رویانی یک تخم اصلی ($2n$) و یک تخم ضمیمه ($3n$) تولید می‌شود، یعنی نیمی از سلول‌های تخم، تریپلوئیداند.



مرکز مشاوره تحصیلی علیرضا افشار



مبحث: فصل ۸ زیست یازدهم

سری: شماره ۲

زمان: ۱۵ دقیقه

۱) چند مورد از مطالب زیر، درست است؟

- الف - در همه میوه‌های حقیقی، میوه از رشد تخمدان ایجاد شده است.
- ب - در همه میوه‌های کاذب، میوه از رشد نهنج به وجود آمده است.
- ج - بعضی میوه‌های بدون دانه، از لقاح یاخته تخم‌زا و زامه (اسپرم) به وجود آمده‌اند.
- د - در بعضی میوه‌های دانه‌دار، فضای تخمدان با دیواره برچه‌ها به طور کامل تقسیم شده است.

① ۱ مورد ② ۲ مورد ③ ۳ مورد ④ ۴ مورد

۲) کدام گزینه در مورد همه یاخته‌های حاصل از تقسیم یاخته باقی مانده از تقسیم میوز در مادگی قطعاً صحیح است؟

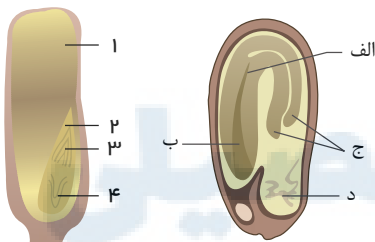
- ① در لقاح با دو اسپرم منتقل شده توسط لوله گرده شرکت می‌کنند.
- ② دارای تعداد کروموزوم‌های یکسانی با یاخته‌های پوشش تخمک می‌باشند.
- ③ از نوعی تقسیم هسته حاصل می‌شوند که در تشکیل شیر نارگیل دیده می‌شود.
- ④ با یاخته‌های تشکیل دهنده پوشش تخمک به طور مستقیم از طریق پلاسمودسم ارتباط دارند.

۳) کدام گزینه نمی‌تواند ویژگی نوعی ساقه باشد که برای تولیدمثل رویشی ویژه شده است؟

- ① افقی در خاک رشد می‌کند و دارای جوانه انتهایی و جانبی است.
- ② ساقه زیرزمینی است و هریک از جوانه‌های سطح آن به یک گیاه تبدیل می‌شود.
- ③ ساقه کوتاه و تکمه‌مانندی دارد که به علت ذخیره ماده غذایی متورم شده است.
- ④ به طور افقی روی خاک رشد می‌کند و گیاه جدید در محل گره‌ها ایجاد می‌کند.

۴) باتوجه به شکل‌های زیر، چند مورد، عبارت زیر را به طور صحیح تکمیل می‌کند؟ (گیاهان ذرت و لوبیا دیپلوئید در نظر گرفته شوند)

بخش شماره در دانه ذرت معادل بخش در دانه لوبیاست که قطعاً



(۱) - (د) - سلول‌های آن بیش از یک مجموعه کروموزومی دارد و دارای آمیلوپلاست‌هایی درون یاخته‌های خود می‌باشند.

(۲) - (ج) - جزئی از رویان است و پس از شکافتن پوسته دانه از خاک خارج شده و مدت کوتاهی توانایی فتوسنتز دارد.

(۳) - (الف) - از سلول کوچک‌تر حاصل اولین تقسیم سلول تخم دارای دو مجموعه کروموزومی، تحت اثر هورمون جیبرلین ایجاد شده است.

(۴) - (ب) - دارای سلول‌هایی است که در پی برخورد ریزکیسه‌های تولیدشده توسط دستگاه گل‌زری در سیتوپلاسم ایجاد شده است.

① ۱ مورد ② ۲ مورد ③ ۳ مورد ④ ۴ مورد

۵) هر نوع دانه گرده تولیدشده در یک گیاه نهان دانه با گل کامل،

- ① در پی تقسیمی بدون کاهش تعداد کروموزوم‌ها ساخته می‌شود.
- ② فقط در بخش تولیدمثلی نر فعالیت خود را انجام می‌دهد.
- ③ مجموع تعداد کروموزوم‌هایش با سلول تخم‌زا برابر است.
- ④ دارای دیواره‌ای در خارجی‌ترین بخش خود می‌باشد.

۶) می‌توان گفت در گیاه ذرت، آندوسپرم

- ① دارای یاخته‌هایی با دیواره نخستین ضخیم می‌باشد.
- ② برخلاف کیسه رویانی، قبل از تشکیل لوله گرده ایجاد می‌شود.
- ③ همانند سلول‌های ریشه رویانی، دارای دو مجموعه کروموزومی در هر هسته سلول‌های خود می‌باشد.
- ④ ذخیره غذایی گروهی از سلول‌هایی است که حاصل تقسیم تخم اصلی گیاه ذرت می‌باشند.

۷ در نوعی گیاه، پس از انجام لقاح درون دانه تازه تشکیل شده سلول‌هایی با دو نوع عدد کروموزومی متفاوت مشاهده می‌شود، در این گیاه قطعاً

- ۱ لپه(ها) در تأمین و ذخیره مواد غذایی لازم برای رشد رویان گیاه نقش دارند.
- ۲ با رخ دادن نخستین تقسیم سلولی تخم اصلی، دو سلول با اندازه‌های متفاوت تشکیل می‌شوند.
- ۳ پوسته تخمک به پوسته سخت دانه تبدیل می‌شود که با محروم کردن رویان از آب و اکسیژن مانع رشد سریع آن می‌شود.
- ۴ تغذیه سلول تخم اصلی تازه تشکیل شده، بر عهده نوعی ساختار است که هنگام رویش دانه همراه با ساقه از خاک خارج نمی‌شود.

۸ نوع ساقه تخصص یافته در است.

- ۱ پیاز خوراکی برخلاف لاله، پیاز
- ۲ سیب زمینی همانند درخت آلبالو، غده
- ۳ زنبق برخلاف نرگس، ریزوم
- ۴ توت فرنگی برخلاف زنبق، زمین ساقه

۹ در گیاهان یک‌ساله همانند ممکن است

- ۱ همه گیاهان دوساله - مواد ذخیره شده در ساقه برای تشکیل گل مصرف شود.
- ۲ گیاهان چندساله گل‌دار - پس از مدتی از رشد رویشی، گل دهند.
- ۳ بعضی گیاهان دوساله - از بین رفتن گیاه پس از تولید دانه و گل مشاهده شود.
- ۴ همه گیاهان چندساله - یاخته‌های سرلاد پسین در ساقه و ریشه فعالیت کنند.

۱۰ کدام موارد، عبارت زیر را به درستی کامل می‌کنند؟

در هر گیاهی که ؛ بخش ذخیره‌ای در دانه آن است.»

- الف) رویش زیرزمینی دارد - تازه تشکیل شده - آندوسپرم
- ب) لپه‌ها درون خاک می‌ماند - تازه تشکیل شده - لپه
- ج) رویش روزمینی دارد - در حال رویش - آندوسپرم

- ۱ الف، ب
- ۲ فقط الف
- ۳ ب، ج
- ۴ همه موارد

۱۱ در همه گیاهانی که میوه تولید می‌کنند،

- ۱ بدون دانه - لقاح بین گامت‌های نر و ماده صورت نمی‌گیرد.
- ۲ کاذب - میوه از رشد یکی از چهار حلقه گل، حاصل می‌شود.
- ۳ بدون دانه - رویان قبل از تکمیل مراحل رشد و نمو از بین می‌رود.
- ۴ حقیقی - از رشد تخمدان میوه تشکیل می‌شود.

۱۲ به منظور ایجاد دانه رُست ابتدا باید

- ۱ دانه‌ها با جذب آب متورم شوند.
- ۲ با مصرف ذخایر غذایی رشد و نمو خود را از سر بگیرند.
- ۳ اکسیژن کافی به رویان درون دانه برسد.
- ۴ یاخته‌های سرلادی بر طول ساقه و ریشه رویانی بیفزایند.

۱۳ در تولید مثل جنسی همه گیاهان نهاندانه،

- ۱ حاصل میوز، تولید سلول یا سلول‌های هاپلوئیدی است که قدرت لقاح ندارند.
- ۲ زیگوت‌های تشکیل شده درون یک ساختار تولیدمثلی از نظر عدد کروموزومی یکسان‌اند.
- ۳ دانه گرده رسیده هاپلوئید و گیاه اصلی دیپلوئید است.
- ۴ ممکن نیست ساختارهای به وجود آمده از زیگوت توانایی تولید سلول‌های تازک دار را داشته باشد.

۱۴ نهاندانگان، همگی (با تغییر)

- ۱ رویانی حداقل با دو لپه تولید می‌کنند. در گزینه ۲ صورت سوال در ابتدا اضافه شود.
- ۲ در بخش ماده تخمک دارای پوشش تک لایه‌ای است.
- ۳ می‌توانند پرورش دهنده سلولی با ۱٫۵ برابر کروموزوم خود باشند.
- ۴ روی ساختار تولیدمثلی پدید می‌آیند که ۴ حلقه دارد.

۱۵ در نهان دانگان (با تغییر)

- ۱ یکی از چهار سلول دانه گرده، سلول زایشی نام دارد.
- ۲ سلول زایشی مولد دو گامت نر فاقد تازک است.
- ۳ گامت ماده در درون آندوسپرم تشکیل می‌شود.
- ۴ هر تخمک دارای یک پوسته و یک سفت است.

پاسخنامه تشریحی

۱) ۱ ۲ ۳ ۴ موارد الف، ج و د صحیح هستند.

بررسی موارد:

مورد الف) میوه‌ای که از رشد تخمدان ایجاد شده، میوه حقیقی نامیده می‌شود.

مورد ب) میوه کاذب میوه‌ای است که از رشد سایر قسمت‌های گل (به غیر از تخمدان) به وجود آمده باشد که ممکن است از رشد نهنج یا از رشد قسمتی دیگر باشد.

مورد ج) اگر لقاح بین تخم‌زا و اسپرم انجام شود، ولی رویان قبل از تکمیل مراحل رشد و نمو خود، از بین برود، دانه‌های ناری تشکیل می‌شود که ریز و پوسته‌ای نازک دارند. مانند موز که این چنین میوه‌هایی، بدون دانه محسوب می‌شوند.

مورد د) در برخی میوه‌های دانه‌دار، فضای تخمدان با دیواره برچه‌ها، تقسیم شده است.

۲) ۱ ۲ ۳ ۴ یکی از یاخته‌های بافت خورش بزرگ می‌شود و با تقسیم میوز چهار یاخته هاپلوئیدی ایجاد می‌کند. از این چهار یاخته فقط یکی باقی می‌ماند که با تقسیم میتوز، ساختاری به نام کیسه رویانی با تعدادی یاخته ایجاد می‌کند که یاخته تخم‌زا و دوهسته‌ای دو تا از آن‌ها می‌باشند.

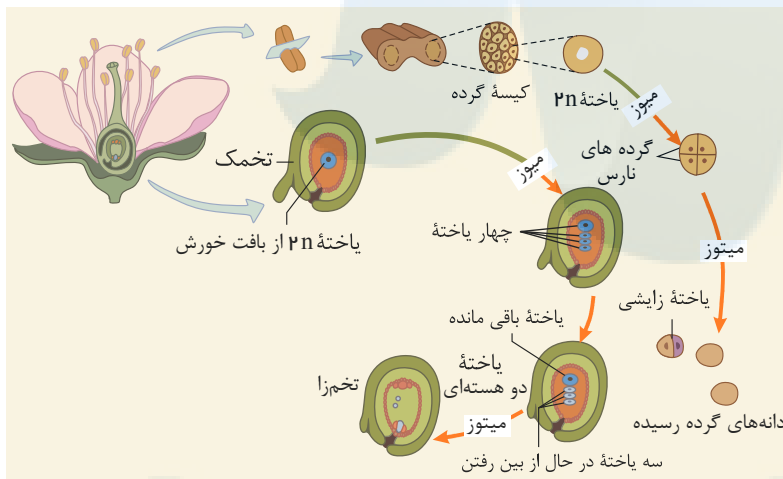
بررسی گزینه‌ها:

گزینه ۱: فقط در مورد یاخته تخم‌زا و دوهسته‌ای صادق است، نه همه یاخته‌های کیسه رویانی!

گزینه ۲: تعداد کروموزوم‌های یاخته‌های تشکیل دهنده پوشش تخمک دو برابر تعداد کروموزوم‌های یاخته تخم‌زا می‌باشد.

گزینه ۳: این یاخته‌ها از تقسیم میتوز حاصل می‌شوند. آندوسپرم (شیر نارگیل) نیز از تقسیم میتوز بدون تقسیم سیتوپلاسم تخم ضمیمه ایجاد می‌شود.

گزینه ۴: با توجه به شکل روبه‌رو، این یاخته‌ها مستقیماً با یاخته‌های تشکیل دهنده پوشش تخمک در ارتباط نیستند.



۳) ۱ ۲ ۳ ۴ ساقه‌های ویژه شده برای تولید مثل رویشی عبارتند از: زمین ساقه، غده، پیاز و ساقه رونده. ساقه کوتاه و تکمه مانند مربوط به پیاز است. ولی در غده، ساقه به علت ذخیره ماده غذایی متورم شده است.

بررسی سایر گزینه‌ها:

گزینه ۱: مربوط به زمین ساقه است.

گزینه ۲: مربوط به غده است.

گزینه ۴: مربوط به ساقه رونده است.

۴) ۱ ۲ ۳ ۴ بررسی موارد:

مورد ۱: بخش (۱) و بخش (د) هر دو آندوسپرم گیاه را نشان می‌دهند که نقش ذخیره دانه را دارد و بیشتر از دو مجموعه کروموزوم دارد. این بافت دارای یاخته‌هایی است که درون خود نشادیه‌هایی دارد که برای رویش رویان مصرف می‌شوند. (درست)

مورد ۲: دقت کنید لپه در دانه ذرت از خاک خارج نمی‌شود؛ بلکه درون خاک باقی می‌ماند. (نادرست)

مورد ۳: بخش‌های رویان تحت اثر هورمون جیبرلین رشد می‌کنند و از تقسیم سلول تخم اصلی تولید می‌شوند. (درست)

مورد ۴: همه سلول‌های رویان گیاه در پی انجام تقسیم سیتوپلاسم و برخورد ریزکیسه‌ها در وسط یاخته تولید می‌شوند. (درست)

۵) ۱ ۲ ۳ ۴ ۵ کیسه‌های غده در بساک تشکیل می‌شوند و یاخته‌های دیپلوئیدی دارند. از تقسیم کاستمان (میوز) این یاخته‌ها، چهار یاخته هاپلوئیدی ایجاد می‌شود که در واقع گرده‌های نارس‌اند. هر یک از این یاخته‌ها با انجام دادن تقسیم رشتمان (میتوز) و تغییراتی در دیواره به دانه گرده رسیده تبدیل می‌شود. دانه گرده رسیده یک دیواره خارجی، یک دیواره داخلی، یک یاخته رویشی و یک یاخته زایشی دارد.

بررسی سایر گزینه‌ها:

گزینه ۱) گرده نارس در پی تقسیم میوز تولید می‌شود که نوعی تقسیم با کاهش تعداد کروموزوم‌ها است.

گزینه ۲) یاخته‌های دانه گرده رسیده بر روی کلاله مناسب (بخش تولیدمثلی ماده) تقسیم خود را انجام می‌دهند.

گزینه ۳) دانه گرده رسیده دارای دو سلول (دو هسته) و دانه گرده نارس دارای یک سلول (یک هسته) است. دانه گرده نارس تعداد کروموزوم‌هایش با تخم‌زا برابر است. اما دانه گرده رسیده،

تعداد کروموزوم‌هایش دو برابر تخم‌زا است.

۶ بررسی گزینه‌ها:

گزینه ۱) این بافت از سلول‌های پارانشیمی ساخته شده است که دیوارهٔ نخستین نازک دارند.

گزینه ۲) بافت آندوسپرم پس از تشکیل لولهٔ گرده و لقاح ایجاد می‌شود.

گزینه ۳) آندوسپرم حاصل تقسیم سلول تخم ضمیمه‌ای است و در هر هستهٔ یاخته‌های هسته دار خود، بیش از دو مجموعهٔ کروموزومی دارد.

گزینه ۴) آندوسپرم ذخیرهٔ غذایی برای رشد رویان است.

۷ صورت سؤال مربوط به گیاهان نهان دانه است.

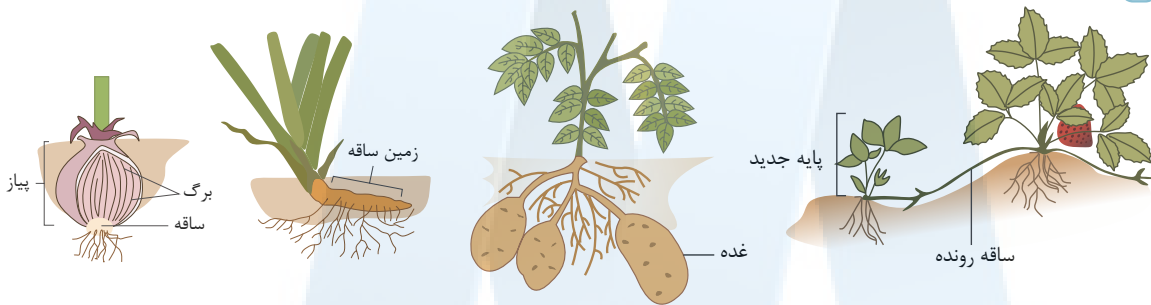
بررسی سایر گزینه‌ها:

گزینه ۱) در گیاه ذرت، لپه‌ها فقط در انتقال مواد غذایی نقش دارند نه در ذخیرهٔ آن.

گزینه ۳) پوستهٔ دانه معمولاً سخت می‌باشد.

گزینه ۴) دقت کنید گاهی ممکن است لپه‌ها از خاک خارج شوند. همچنین گاهی تغذیهٔ رویان برعهدهٔ آندوسپرم می‌باشد.

۸



بررسی گزینه‌ها:

گزینه ۱): پیاز خوراکی،

لاله و نرگس ساقهٔ

تخصص یافته‌ای به نام

پیاز دارند و می‌توانند با استفاده از پیاز تکثیر شوند.

گزینه ۲): سیب‌زمینی ساقهٔ تخصص یافته‌ای به نام غده دارد، اما درخت آلبالو فاقد آن است.

گزینه ۳): ریزوم، در گیاهی مانند زنبق ایجاد می‌شود، اما ساقهٔ تخصص یافتهٔ نرگس که برای تکثیر مورد استفاده قرار می‌گیرد، پیاز است.

گزینه ۴): زنبق دارای ریزوم است، اما توت‌فرنگی گیاهی است که ساقهٔ تخصص یافته‌ای به نام ساقه رونده دارد.

۹ ۱. در گیاهان دوساله مثل شلغم و چغندر قند، مواد حاصل از فتوسنتز در سال اول در ریشهٔ آن‌ها ذخیره می‌شود و در سال دوم ساقهٔ گل‌دهنده ایجاد می‌شود.

۲. همهٔ گیاهان گل‌دار یک‌ساله و چندساله پس از مدتی رشد رویشی، گل تولید می‌کنند.

۳. همهٔ گیاهان یک‌ساله و دوساله، پس از تولید گل و دانه، از بین می‌روند.

۴. همهٔ گیاهان یک‌ساله، علفی هستند. این گیاهان چوبی نمی‌شوند و سرلاد پسین تشکیل نمی‌دهند.

۱۰ مورد «الف» صحیح است.

گیاهان نهاندانه براساس اینکه لپه (ها) درون خاک بماند و یا همراه با ساقه خارج شوند، به ترتیب رویش زیرزمینی و رویش روزمینی دارند.

بررسی موارد:

الف: در دانه تازه تشکیل‌شدهٔ گیاهان گل‌دار آندوسپرم به عنوان اندوخته دانه است.

ب: در گیاهان تک‌لپه‌ای (مثل ذرت) که رویش زیرزمینی دارند، بخش ذخیره‌ای دانه آندوسپرم است.

ج: در گیاه لوبیا (دولپه‌ای) رویش روزمینی است. در دانهٔ لوبیا مواد غذایی آندوسپرم، جذب لپه‌ها، و در آنجا ذخیره می‌شوند. در نتیجه لپه‌ها بزرگ شده‌اند، و بخش ذخیره‌ای دانه را تشکیل می‌دهند.

۱۱ ۱. در عده‌ای از میوه‌های بدون دانه، مثل موز، لقاح انجام می‌شود ولی دانه‌های نارس تشکیل می‌شوند.

۲. در سیب که میوهٔ کاذب است، میوه از رشد نهج حاصل می‌شود.

۳. عده‌ای از میوه‌های بدون دانه، لقاح انجام نمی‌شود. بنابراین رویان و دانه تشکیل نمی‌شود.

۴. همهٔ میوه‌های حقیقی از رشد تخمدان تشکیل می‌شوند.

۱۲ برای تشکیل دانه رست دانه باید رویش کند و برای رویش دانه ابتدا باید با جذب آب متورم شده سپس پوستهٔ آن شکاف بردارد تا اکسیژن کافی به رویان برسد. پس از آن رویان با استفاده از مواد غذایی ذخیره شده در دانه، رشد و نمو خود را از سر می‌گیرد و دانه رست تشکیل می‌شود.

۱۳ امکان ندارد ساختارهای به وجود آمده از زیگوت که متعلق به مرحلهٔ دیپلوئیدی‌اند، توانایی تولید سلول‌های تازک‌دار را داشته باشند.

بررسی سایر گزینه‌ها:

پاسخ گزینه‌های ۱ و ۳: برای گیاهان مثلاً $6n$ و $4n$ صحیح نمی‌باشد. در این گیاهان دانه گرده نارس برای گل مغربی تتراپلوئید صدق نمی‌کند. در این گیاه دانهٔ گردهٔ نارس، دیپلوئید حاصل می‌شود و دانهٔ گردهٔ رسیده، دیپلوئید و گیاه اصلی، تتراپلوئید دیده می‌شود.

گزینه ۲): نهان دانگان لقاح مضاعف دارند و دو یاختهٔ تخم با عدد کروموزومی متفاوت به وجود می‌آورند.

۱۴ کیسهٔ رویانی نهان دانگان، فقط توانایی تولید یک تخم‌زا را دارد. در تک‌لپه‌ای‌ها، از رشد سلول تریپلوئید، آندوسپرم ($3n$) حاصل می‌شود که 1.5 برابر گیاه اصلی کروموزوم دارد.

بررسی سایر گزینه‌ها:

گزینه (۱): در تک لپه‌ای‌ها از تقسیم سلول تخم اصلی یک لپه به وجود می‌آید.

گزینه (۲): تخمک نهاندانگان پوشش دو لایه‌ای دارد.

گزینه (۴): نهاندانگان در صورتی که گل کامل داشته باشند، در گل (ساختار تولید مثلی) چهار حلقه ایجاد می‌کنند، در حالی که گل کامل نداشته باشند کمتر از چهار حلقه در روی گل پدید می‌آید.

بررسی سایر گزینه‌ها: **۱۵** ۱ ۲ ۳ ۴

گزینه (۱): در نهاندانگان دانه‌گرده دو سلول دارد که یکی از آن دو زایشی است.

گزینه (۳): در نهاندانگان، آندوسپرم پس از لقاح به وجود می‌آید و گامت ماده نمی‌تواند درون آن شکل گرفته باشد.

گزینه (۴): در نهاندانگان، تخمک از دو پوسته، یک سفت و سلول‌های پارانسیم خورش تشکیل شده است.

مرکز مشاوره تحصیلی
علیرضا افشار


پاسخنامه کلیدی

۱	۱	۲	۳	۴
۲	۱	۲	۳	۴
۳	۱	۲	۳	۴
۴	۱	۲	۳	۴

۵	۱	۲	۳	۴
۶	۱	۲	۳	۴
۷	۱	۲	۳	۴
۸	۱	۲	۳	۴

۹	۱	۲	۳	۴
۱۰	۱	۲	۳	۴
۱۱	۱	۲	۳	۴
۱۲	۱	۲	۳	۴

۱۳	۱	۲	۳	۴
۱۴	۱	۲	۳	۴
۱۵	۱	۲	۳	۴



مرکز مشاوره تحصیلی

علیرضا افشار



مبحث: فصل ۹ زیست یازدهم

سری: شماره ۱

زمان: ۱۵ دقیقه

۱ کدام عبارت، صحیح است؟

- ۱ گیاه آکاسیا با آزاد کردن نوعی ترکیب شیمیایی، مورچه‌ها را از خود فراری می‌دهد.
- ۲ گیاه آکاسیا پس از آزاد نمودن نوعی ترکیب شیمیایی، مانع حمله زنبورها به مورچه‌ها می‌شود.
- ۳ مورچه‌ها پس از آزاد نمودن نوعی ترکیب شیمیایی، شروع به خوردن برگ‌های درخت آکاسیا می‌کنند.
- ۴ مورچه‌ها با آزاد کردن نوعی ترکیب شیمیایی، توجه زنبورهای گرده‌افشان را به سمت گیاه آکاسیا جلب می‌کنند.

۲ کدام گزینه، عبارت زیر را به طور مناسب کامل می‌کند؟

«نوعی از ترکیبات تنظیم کننده رشد گیاهی که می‌کند، باعث می‌شود.»

- ۱ فرآیندهای مربوط به ریزش برگ درختان را کنترل - تشکیل ساقه از یاخته‌های تمایز نیافته
- ۲ در زمان رسیدن میوه‌ها، مقدار آن افزایش پیدا - عدم رویش دانه‌ها و جوانه‌ها
- ۳ یاخته آلوده به ویروس آن را تولید - راه‌اندازی مرگ برنامه‌ریزی شده یاخته آلوده
- ۴ از جوانه‌زنی دانه‌ها جلوگیری - تولید میوه‌های بدون دانه

۳ کدام یک از موارد زیر در رابطه با هورمونی که سبب رخ دادن شکل مقابل می‌شود، به درستی بیان شده است؟

- ۱ سبب بسته شدن روزنه‌های هوایی می‌شود.
- ۲ مقدار این هورمون با رسیدن میوه افزایش می‌یابد.
- ۳ این هورمون بر خارجی‌ترین لایه آندوسپرم دانه غلات اثر می‌گذارد.
- ۴ پیرشدن اندام‌های هوایی گیاه را به تأخیر می‌اندازد.



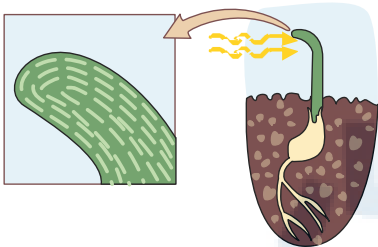
۴ کدام گزینه، عبارت زیر را به‌طور صحیح تکمیل می‌کند؟

«در گیاهان، هورمونی که سبب می‌شود، برخلاف جیبرلین‌ها»

- ۱ ساقه‌زایی در اندام‌های جوان گیاه - در تحریک تقسیم یاخته‌ای نقش دارد.
- ۲ ریشه‌زایی در اندام‌های جوان گیاه - در رشد طولی یاخته‌ها مؤثر است.
- ۳ تشکیل میوه‌های بدون دانه - در درشت کردن میوه‌ها نقش دارد.
- ۴ ریزش برگ‌ها و میوه‌ها - در چیرگی رأسی نقش دارد.

۵ شکل مقابل خم شدن یک گیاه به سمت نور را نشان می‌دهد. در رابطه با عامل اصلی این پدیده، کدام گزینه نادرست است؟

- ۱ این عامل در تشکیل میوه پرتقال نقش دارد.
- ۲ در پاسخ گیاه به محیط همانند رشد گیاه نقش دارد.
- ۳ توسط یاخته‌هایی با سیتوپلاسم کم و هسته درشت تولید می‌شود.
- ۴ در طی رشد، فقط سبب افزایش برگشت‌ناپذیر ابعاد سلول می‌شوند.



۶ هورمونی که باعث تحریک تقسیم سلولی می‌شود،

- ۱ باعث چیرگی رأسی می‌شود.
- ۲ سرعت پیرشدن برخی از اندام‌های گیاهی را کاهش می‌دهد.
- ۳ باعث نورگرایی می‌شود.
- ۴ باعث تجزیه ذخایر رویان غلات و رویش بذر غلات می‌شود.

۷ کدام دو هورمون در امر جوانه‌زنی دانه‌ها عکس یک‌دیگرند؟

- ۱ جیبرلین - هورمونی که سبب بسته شدن روزنه‌های هوایی می‌شود.
- ۲ سیتوکینین - هورمونی که گازی است و منشأ غیرزیستی هم دارد.
- ۳ هورمونی که باعث چیرگی رأسی می‌شود. - جیبرلین
- ۴ هورمونی که گازی است و منشأ غیرزیستی هم دارد. - اتیلن

۸ کدام جمله در مورد هورمون‌های گیاهی نادرست است؟

- ۱ هورمون ساقه‌زایی می‌تواند عبور یاخته از نخستین نقطه واریسی را تحریک کند.
- ۲ هورمون مورد استفاده در تولید میوه‌های بدون دانه، باعث تحریک طویل شدن ساقه نیز می‌شود.
- ۳ جیبرلین برخلاف آبسزیک اسید مانع تشکیل ریشه‌چه از دانه می‌شود.
- ۴ هورمون اکسین، مانع از افزایش هورمون ساقه‌زایی در جوانه‌های جانبی می‌شود.

۹ کدام مورد، عبارت زیر را به درستی تکمیل می‌کند؟

«کاهش نسبت سیتوکینین به اکسین موجب می‌شود.»

- ۱ تولید ساقه در کال
- ۲ تشکیل ریشه در کال
- ۳ افزایش رشد جوانه جانبی
- ۴ تشکیل شاخه جدید

۱۰ کدام عبارت نادرست است؟ «هورمونی که» (باتغییر)

- ۱ نسبت بالای اکسین به آن باعث تحریک ریشه زایی کال می‌شود، به صورت افشانه برای شادابی گل‌ها استفاده می‌شود.
- ۲ بعضی ترکیبات آن سبب از بین رفتن دو لپه‌ای‌ها می‌شود، برای تشکیل میوه‌های بدون دانه کاربرد دارد.
- ۳ اثر خفتگی دانه‌ها و جوانه‌ها را برطرف می‌کند، می‌تواند در درشت کردن میوه‌ی گلایی دخالت داشته باشد.
- ۴ در کشت بافت باعث تبدیل کال به ساقه می‌شود، باعث درشت کردن میوه‌های بدون دانه می‌شود.

۱۱ توزیع اکسین در ساقه در نور یک‌طرفه چگونه است؟

- ۱ در قسمت نور دیده ساقه بیش از قسمت نور ندیده آن است.
- ۲ در قسمت پایین ساقه بیش از قسمت بالای آن است.
- ۳ در قسمت نور ندیده ساقه بیش از قسمت نور دیده آن است.
- ۴ در همی نقاط ساقه به‌طور یک‌نواخت است.

۱۲ در فرایند ریزش برگ، افزایش نسبت هورمون اتیلن به اکسین

- ۱ مستقیماً سبب تشکیل لایه محافظتی در سمت شاخه می‌شود.
- ۲ باعث افزایش اندازه یاخته‌ها در لایه جداکننده نسبت به سایر نقاط اطراف می‌شود.
- ۳ تولید آنزیم‌های نظیر آنزیم تجزیه‌کننده پکتین را به دنبال دارد.
- ۴ در ابتدا باعث بروز یکی از تغییرات دیواره می‌شود که در جلوگیری از ورود عوامل بیماری‌زا نقش دارد.

۱۳ خم شدن دانه‌رست گیاهی از گندمیان در برابر نور یک‌جانبه ممکن نیست

- ۱ حاصل افزایش رشد طولی یاخته‌ها در سمت سایه نسبت به یاخته‌های سمت رو به نور باشد.
- ۲ به دلیل جابه‌جایی اکسین از سمت سایه به سمت نزدیک به نور باشد.
- ۳ نوعی رشد جهت‌دار اندام‌های گیاهی در پاسخ به نور یک‌جانبه باشد.
- ۴ با قرار دادن پوشش شفاف بر روی نوک دانه رست رخ دهد.

۱۴ چند عبارت جمله زیر را به درستی تکمیل می‌کند؟

هر

- الف. ترکیب شیمیایی که در لوله گوارش جانور تجزیه شود، به ماده‌ای تبدیل می‌شود، که برای جانور مضر نیست.
- ب. یاخته گیاهی، با رهاکردن نوعی تنظیم‌کننده رشد، سبب مرگ یاخته‌ای می‌شود.
- پ. ماده شیمیایی که توسط گیاه تولید می‌شود، سبب جلب حشرات می‌شود.
- ت. نوع زنبور وحشی، می‌تواند نوعی ترکیب فرار که توسط گیاه تنباکو تولید می‌شود را ردیابی کند.

- ۱ ۳
- ۲ ۲
- ۳ ۱
- ۴ ۰

۱۵) چند گزینه، عبارت زیر را به درستی کامل می کند؟

اگر گیاه

الف. داوودی را در اوایل تابستان بکاریم و طول شب را با جرقه الکتریکی بشکنیم گل خواهد داد.

ب. گوجه فرنگی را در تابستان بکاریم به دلیل طول نامناسب روز گل نخواهد داد.

پ. شبدر را در تابستان بکاریم نیازی به تغییر مصنوعی طول شب برای گل دادن ندارد.

ت. داوودی را در پاییز بکاریم و طول شب را با یک جرقه الکتریکی بشکنیم، گل خواهد داد.

۴ ۴

۳ ۳

۲ ۲

۱ ۱



مرکز مشاوره تحصیلی

علیرضا افشار

پاسخنامه تشریحی

۱) وقتی گل‌های آکاسیا باز می‌شوند، نوعی ترکیب شیمیایی تولید و منتشر می‌کنند که با فراری دادن مورچه‌ها، مانع از حمله آن‌ها به زنبورهای گرده‌افشان می‌شوند. بررسی سایر گزینه‌ها:

گزینه ۲: نادرست. مورچه‌های نگهبان آکاسیا به زنبورها حمله می‌کنند.

گزینه ۳: نادرست. درخت آکاسیا ترکیب شیمیایی برای فراری دادن مورچه‌ها آزاد می‌کند.

گزینه ۴: نادرست. خود گل آکاسیا عامل جلب زنبورهای گرده‌افشان به سمت گیاه هستند.

۲) ۱ ۲ ۳ ۴

بررسی گزینه‌ها:

گزینه ۱) هورمون سیتوکینین که در فن کشت بافت برای تشکیل ساقه از یاخته‌های تمایز نیافته استفاده می‌شود. در صورتی که اتیلن در ریزش برگ درختان نقش دارد.

گزینه ۲) هورمون اتیلن در مهار رشد دانه‌ها نقش ندارد.

گزینه ۳) سالیسیلیک اسید که از تنظیم‌کننده‌های رشد در گیاهان است، در مرگ یاخته‌ای نقش دارد. یاخته گیاهی آلوده به ویروس، این ترکیب را رها و مرگ یاخته‌ای را القا می‌کند. در مرگ یاخته‌ای، یاخته به وسیله آنزیم‌های خود گوارش می‌شود.

گزینه ۴) هورمونی که باعث خفتگی دانه‌ها و مانع جوانه‌زنی آن‌ها می‌شود آبسیزیک اسید است و هورمون‌هایی که باعث به وجود آمدن میوه‌های درشت بدون دانه می‌شوند، هورمون‌های جیبرلین و اکسین هستند که با یکدیگر متفاوت‌اند.

۳) ۱ ۲ ۳ ۴

بررسی گزینه‌ها:

گزینه ۱: نادرست، شرایط نامساعد محیط مانند خشکی، باعث افزایش آبسیزیک اسید می‌شود، آبسیزیک اسید سبب بسته شدن روزنه‌ها و در نتیجه حفظ آب گیاه می‌شود.

گزینه ۲: نادرست، میوه‌های رسیده اتیلن آزاد می‌کنند و مقدار آن با رسیدن میوه افزایش می‌یابد.

گزینه ۳: درست، رویان غلات در هنگام رویش دانه، مقدار فراوانی جیبرلین می‌سازد که این هورمون بر خارجی‌ترین لایه آندوسپرم (لایه گلوتن دار) اثر می‌گذارد.

گزینه ۴: نادرست، سیتوکینین با تحریک تقسیم یاخته‌ای و در نتیجه ایجاد یاخته‌های جدید، پیرشدن اندام‌های هوایی گیاه را به تأخیر می‌اندازد.

۴) ۱ ۲ ۳ ۴

بررسی گزینه‌ها:

گزینه ۱: سیتوکینین‌ها همانند جیبرلین‌ها در تحریک تقسیم یاخته‌ای نقش دارند.

گزینه ۲: اکسین‌ها در ریشه‌زایی و جیبرلین‌ها در رشد طولی یاخته نقش دارند.

گزینه ۳: اکسین‌ها در تشکیل میوه‌های بدون دانه نقش دارند. این هورمون‌ها همانند جیبرلین‌ها در درشت کردن میوه‌ها نقش دارد.

گزینه ۴: هورمون اتیلن در ریزش برگ و میوه مؤثر است که همانند اکسین‌ها و برخلاف جیبرلین‌ها در چیرگی رأسی نقش دارد.

۵) ۱ ۲ ۳ ۴ عامل خم شدن ساقه به سمت نور، اکسین‌ها می‌باشند که این هورمون‌ها در طی خم شدن ساقه می‌توانند سبب افزایش ابعاد سلول شوند و همچنین در طی ریشه زایی می‌توانند سبب افزایش تعداد سلول‌ها (تقسیم) شوند.

بررسی سایر گزینه‌ها:

گزینه ۱: هورمون اکسین در تشکیل میوه‌های بدون دانه مانند پرتقال نقش دارد.

گزینه ۲: پاسخ به محیط مانند خم شدن ساقه به سمت نور در اثر اکسین‌ها صورت می‌گیرد.

گزینه ۳: این هورمون توسط جوانه رأسی (یاخته‌های سرلادی) ساخته می‌شود.

۶) ۱ ۲ ۳ ۴ سیتوکینین هورمونی است که باعث تحریک تقسیم سلولی می‌شود. این هورمون سرعت پیرشدن برخی از اندام‌های گیاهی را کاهش می‌دهد. بررسی سایر گزینه‌ها:

گزینه ۱: اکسین باعث چیرگی رأسی می‌شود.

گزینه ۳: رشد جهت‌دار اندام‌های گیاه در پاسخ به نور یک جانبه را نورگرایی می‌نامند که در اثر تجمع اکسین در سمت سایه است.

گزینه ۴: جیبرلین‌ها سبب تولید و رها شدن آنزیم‌های گوارشی در دانه می‌شود.

۷) ۱ ۲ ۳ ۴ جیبرلین باعث جوانه زنی و آبسیزیک اسید مانع رویش دانه و رشد جوانه می‌شود.

۸) ۱ ۲ ۳ ۴ آبسیزیک اسید برخلاف جیبرلین مانع تشکیل ریشه‌چه از دانه می‌شود.

بررسی موارد در سایر گزینه‌ها:

گزینه ۱: هورمون سیتوکینین محرک ساقه زایی است. این هورمون محرک تقسیم یاخته‌ای است و می‌تواند عبور یاخته از نخستین نقطه واریسی را تحریک کند.

گزینه ۲: هورمون جیبرلین باعث تحریک طویل شدن ساقه می‌شود. از کاربردهای این هورمون تولید میوه بدون دانه است.

گزینه ۴: هورمون اکسین، مقدار هورمون ساقه زایی را در جوانه‌های جانبی کاهش می‌دهد و باعث چیرگی رأسی می‌شود.

۹) ۱ ۲ ۳ ۴ ۱. برای تشکیل ساقه از کال نسبت سیتوکینین به اکسین باید زیاد باشد.

۲. کاهش نسبت سیتوکینین به اکسین سبب ریشه‌زایی می‌شود.

۳. افزایش اکسین مانع رشد جوانه جانبی می‌شود.

۴. بالا بودن میزان سیتوکینین سبب تشکیل شاخه‌های جانبی می‌شود.

۱۰) ۱ ۲ ۳ ۴ هورمونی که سبب تشکیل ساقه از کالوس می‌شود، سیتوکینین است که در درشت کردن میوه‌های بی‌دانه نقش ندارد.

بررسی سایر گزینه‌ها:

- گزینه‌ی (۱): نسبت بالای اکسین به سیتوکینین در کشت بافت باعث تحریک ریشه‌زایی می‌شود و سیتوکینین به صورت افشانه برای شادابی گل‌ها استفاده می‌شود.
- گزینه‌ی (۲): بعضی ترکیبات اکسین سبب از بین رفتن دو لپه‌ای‌ها می‌شود. از اکسین برای تشکیل میوه‌های بدون دانه استفاده می‌شود.
- گزینه‌ی (۳): ژیرلین خفتگی دانه‌ها را برطرف می‌کند و از ژیرلین برای درشت کردن بعضی از میوه‌ها استفاده می‌شود.
- اکسین در سمت تاریک ساقه انباشته می‌شود. **۱ ۲ ۳ ۴ ۱۱**
- ۱ ۲ ۳ ۴ ۱۲**



بررسی گزینه‌ها:

- گزینه (۱): افزایش نسبت اتیلن به اکسین، مستقیماً باعث ریزش برگ می‌شود اما تشکیل لایه محافظتی در سمت شاخه بعد از ریزش برگ انجام می‌شود.
- گزینه (۲): اندازه یاخته‌ها در لایه جداکننده نسبت به سایر نقاط اطراف کم‌تر است.
- گزینه (۳): مشخص شده است که برگ در پاسخ به افزایش نسبت اتیلن به اکسین آنزیم‌های تجزیه‌کننده دیواره را تولید می‌کند. از آنجا که دیواره دارای پکتین، پروتئین و سلولز است، پس آنزیم‌های تجزیه‌کننده این ترکیبات تولید می‌شوند.
- گزینه (۴): افزایش نسبت اتیلن به اکسین، مستقیماً باعث ریزش برگ می‌شود. بعد از ریزش برگ، چوب پنبه‌ای شدن یاخته‌های شاخه، در جلوگیری از ورود عوامل بیماری‌زا نقش دارد.

بررسی گزینه‌ها: **۱ ۲ ۳ ۴ ۱۳**

- گزینه (۱): خم شدن دانه رست، حاصل افزایش رشد طولی یاخته‌ها در سمت سایه نسبت به یاخته‌های سمت رو به نور است.
- گزینه (۲): خم شدن دانه رست در برابر نور یک جانبه به علت جابه‌جایی اکسین از سمت مقابل نور به سمت سایه است.
- گزینه (۳): خم شدن دانه رست، نوعی رشد جهت‌دار اندام‌های گیاهی در پاسخ به نور یک جانبه است.
- گزینه (۴): با قرار دادن پوشش شفاف بر روی نوک دانه رست، خم شدن دانه رست در برابر نور یک جانبه انجام می‌گیرد.



همگی موارد نادرست هستند. **۱ ۲ ۳ ۴ ۱۴**

- الف. برخی ترکیبات شیمیایی که توسط گیاهان تولید می‌شوند، پس از تجزیه در لوله گوارش جانوران به ترکیبات سمی تبدیل می‌شوند.
- ب. یاخته‌های گیاهی آلوده نه هر یاخته‌ای، با رها کردن سالیسیلیک اسید که نوعی تنظیم‌کننده رشد است، سبب مرگ یاخته‌ای می‌شوند.
- پ. نوعی ترکیب شیمیایی توسط گیاه آکاسیا تولید و منتشر می‌شود که مورچه‌ها را فراری می‌دهد.
- ت. نوعی زنبور وحشی نه هر نوع زنبور وحشی می‌تواند ترکیب شیمیایی خاصی را که توسط گیاه تنباکو تولید می‌شود ردیابی کند.
- ۱ ۲ ۳ ۴ ۱۵** الف. (نادرست) داوودی گیاه روز کوتاه است. بنابراین در طول تابستان که شب‌ها کوتاه‌اند، به شرطی گل می‌دهد که طول شب بلندتر شود.
- ب. (نادرست) گوجه فرنگی گیاه بی تفاوت است و در طول تابستان گل می‌دهد.
- پ. (درست) شبدر، گیاه روز بلند است و تابستان زمان مناسبی برای گل دادن آن است.
- ت. (نادرست) داوودی گیاه روز کوتاه است و در پاییز که شب‌ها بلند هستند و طول مناسبی برای گل دادن وجود دارد گل می‌دهد.



مبحث: فصل ۹ زیست یازدهم

سری: شماره ۲

زمان: ۱۵ دقیقه

۱ در فرآیندهای دفاعی گیاهان برای مقابله با قطعاً

- ۱ جانوران گیاهخوار - ترکیباتی نقش دارند که در دستگاه گوارش جانور فعال می‌شوند.
- ۲ عوامل بیماری‌زا - آنزیم‌هایی در ساخت عوامل مربوط به دفاع شیمیایی نقش دارند.
- ۳ عوامل بیماری‌زا - سدی فیزیکی مانع از ورود این عوامل می‌شود.
- ۴ جانوران گیاهخوار - تنظیم‌کننده‌های رشد نقش مستقیم دارند.

۲ در پاسخ‌هایی از جنس دفاع در گیاهان، کدام موارد به یک گروه از پاسخ‌ها تعلق دارند؟

- الف) وجود سیلیس در دیوارهٔ یاخته
- ب) شکل‌گیری سنگواره‌های حشره از ترشحات گیاه
- ج) تولید نیکوتین
- د) شکل‌گیری کرک در برگ تله مانند گیاه گوشتخوار
- ه) رهاسازی سالیسیلیک اسید

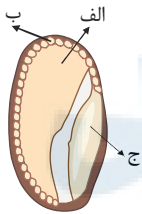
- ۱ ج و ه
- ۲ ب و د
- ۳ الف و ب
- ۴ ب و ه

۳ در گیاهان، هورمونی که می‌تواند برای ، استفاده شود، همانند هر هورمون مؤثر در توانایی را دارد.

- ۱ ایجاد و حفظ اندام‌ها - تغییر فشار اسمزی یاخته‌های نگهبان روزنه - جلوگیری از رشد
- ۲ ساخت سموم کشاورزی - کاهش ذخایر غذایی آندوسپرم - تحریک ریشه‌زایی در قلمه
- ۳ طول‌شدن دانه‌رست - تشکیل لایهٔ جداکننده در قاعدهٔ دم‌برگ - رشد میوه‌های بدون دانه
- ۴ کاهش رشد جوانهٔ جانبی - کاهش رشد دانه‌ها در شرایط نامساعد - فعال کردن آنزیم‌های تجزیه‌کنندهٔ دیواره

۴ با توجه به شکل روبه‌رو کدام گزینه صحیح است؟

- ۱ تعداد کروموزوم‌ها در یاخته‌های بخش «ب» و «ج» مشابه است.
- ۲ جیبرلین در یاخته‌های تشکیل‌دهندهٔ بخش «الف» دارای گیرنده است.
- ۳ آنزیم آمیلاز موجب شکسته شدن مولکول‌های غذایی در بخش‌های «الف» و «ج» می‌شود.
- ۴ نوعی محرک رشد از یاخته‌های بخش «ج» آزاد می‌شود که دارای اثری مخالف با هورمون آبسزینک اسید است.



۵ هر هورمون گیاهی که

- ۱ سبب خروج آب و یون‌های کلر از یاخته‌های نگهبان روزنه می‌شود، می‌تواند از سوخت‌های فسیلی رها شود.
- ۲ در فرآیند ریزش برگ در گیاهان نهان‌دانه نقش دارد، موجب تازه نگه‌داشتن برگ و گل گیاهان می‌شود.
- ۳ سبب تشکیل میوه‌های بدون دانه می‌شود، می‌تواند توسط یاخته‌های گیاهی و یا قارچی تولید شود.
- ۴ در تولید اندام‌های گیاهی از کال در محیطی کاملاً سترون نقش دارد، پیرشدن اندام‌های هوایی گیاه را به تأخیر می‌اندازد.

۶ کدام نادرست است؟ «هورمونی که در گیاهان

- ۱ باعث چیرگی رأسی می‌شود، فرآیند تقسیم سلول‌ها را تشدید می‌کند.
- ۲ سبب رها شدن آنزیم‌های گوارشی از لایه خارجی آندوسپرم می‌شود، می‌تواند سبب درشت کردن میوه‌ها شود.
- ۳ رسیدگی سریع میوه‌ها را ممکن می‌سازد، می‌تواند در واکنش به زخم‌های بافتی افزایش یابد.
- ۴ به کمک آن، جذب آب و املاح برای قلمه‌ها ممکن می‌شود در طول‌شدن ساقه گیاه نیز دخالت دارد.



۷) هورمونی که سبب تجزیه دیواره یاخته و ذخایر آندوسپرم می شود، در نقش دارد.

- ۱) رشد میوه و رویش دانه
- ۲) کاهش سرعت پیر شدن برخی اندامها
- ۳) تشکیل ساقه از سلولهای کال
- ۴) بستن روزنه های هوایی

۸) کدام یک از مطالب زیر در مورد هورمون سیتوکینین صادق نیست؟

- ۱) پیر شدن اندامهای هوایی را تاخیری می اندازد.
- ۲) موجب افزایش تعداد سلولها می شود.
- ۳) در کشت بافت از اکسین کم و سیتوکینین زیاد به منظور تشکیل ساقه از سلولهای تمایز نیافته کال استفاده می شود.
- ۴) در کشاورزی از این هورمون برای ریشه دار کردن قلمه ها استفاده می شود.

۹) کدام عبارت درباره گلدھی گیاهان، نادرست است؟

- ۱) با ایجاد شرایطی، گیاه شبدر در روزهای کوتاه پاییز گل می دهد.
- ۲) گیاه داوودی در تابستان که روزها طولانی هستند، گل می دهد.
- ۳) گل دهی گیاه گوجه فرنگی به طول روز و شب وابسته نیست.
- ۴) نور مصنوعی می تواند همانند نور طبیعی باعث گلدھی گیاهان وابسته به نور شود.

۱۰) در رویش بذر غلات

- ۱) ابتدا آندوسپرم مقادیر فراوانی هورمون جیبرلین می سازد.
- ۲) آنزیمهای تجزیه کننده پکتین، در تجربه یکی از مهم ترین ذخایر آندوسپرم نقش دارند.
- ۳) خروج ریشه رویانی هم زمان با رها شدن آنزیمهای گوارشی در دانه است.
- ۴) لایه گلوتن دار، از گلوکز موجود در خود برای رشد رویان استفاده می کند.

۱۱) می توان گفت

- ۱) نوعی ماده لیپیدی که توسط یاخته های روپوست ساخته می شود، از ورود هر عامل بیماری زا به گیاه جلوگیری می کند.
- ۲) کانی شدن دیواره همانند لیگنینی شدن آن توان فیزیکی دیواره را در ممانعت از ورود عوامل بیماری زا افزایش می دهد.
- ۳) فضای بین یاخته های گیاهی برخلاف منفذ روزنه ها، مانعی در برابر ورود عوامل بیماری زا نیست.
- ۴) بافت چوب پنبه در ساقه های جوان گیاه، مانعی در برابر تبخیر آب محسوب می شود.

۱۲) برای اینکه گیاه گل بدهد لازم است

- ۱) شبدر - فقط در دمای مناسبی قرار گیرد. طول روز نقشی در گل دهی این گیاه ندارد.
- ۲) داوودی - در طول پاییز، شب های بلند برایش شکسته شود.
- ۳) شبدر - در طول پاییز، شب برایش شکسته شود.
- ۴) داوودی - در طول روز و شب مساوی قرار بگیرد.

۱۳) چند مورد از موارد زیر ترکیباتی است که گیاه برای جلوگیری از ورود عوامل بیماری زا ترشح می کند؟

- الف. مواد چسبناک در سطح گیاه
- ب. ترکیباتی که در پاسخ به زخم گیاهان ترشح می شود
- پ. پروتئین موجود در کریچه های بذر جو
- ت. ترکیبات متوقف کننده تنفس سلولی
- ث. مواد لیپیدی ایجاد کننده کوتین

- ۱) ۲
- ۲) ۳
- ۳) ۴
- ۴) ۵

۱۴) مسیر حرکت کدام یک از گزینه های زیر به درستی بیان شده است؟

- ۱) هورمون جیبرلین از رویان به لپه و از لپه به آندوسپرم و از آندوسپرم به لایه گلوتن دار منتقل می شود.
- ۲) هورمون جیبرلین از لایه سطح خارجی پوشش دانه به آندوسپرم منتقل می شود تا سبب تولید آنزیم های تجزیه کننده ذخایر آندوسپرم شود.
- ۳) آنزیم آمیلاز از رویان به لپه و از لپه به آندوسپرم منتقل می شود تا نشاسته تجزیه شود.
- ۴) ذخایر نشاسته از آندوسپرم به لپه و از لپه به رویان منتقل می شود تا رویان با تجزیه نشاسته مواد غذایی برای رشد خود را، فراهم نماید.

۱۵) نمی توان گفت هورمونی که به هنگام رویش دانه غلات، در رویان فراوان می شود

- ① سبب رها شدن آنزیم های گوارشی در دانه می شود.
- ② در تجزیه دیواره یاخته های آندوسپرم نقش دارد.
- ③ با تاثیر در رهاسازی آنزیم آمیلاز، سبب تجزیه گلوکز در دانه می شود.
- ④ اولین بار از قارچ جیبرلا استخراج و شناسایی شد.



مرکز مشاوره تحصیلی

علیرضا افشار

پاسخنامه تشریحی

۱) آلکالوئیدها، ترکیبات سیانیددار و سالیسیلیک اسید ترکیباتی در ارتباط با دفاع شیمیایی هستند که در مقابله با عوامل بیماری‌زای گیاهی نقش دارند. همه این ترکیبات برای ساخته شدن به آنزیم نیاز دارند.

بررسی سایر گزینه‌ها:

گزینه ۱: کرک و خار نیز در دفاع از گیاهان نقش دارند. مثلاً حشره‌های کوچک نمی‌توانند روی برگ‌های کرک‌دار به راحتی حرکت کنند، همچنین اگر گیاه مواد چسبناک ترشح کند، حرکت حشره دشوارتر و گاه غیرممکن می‌شود.

گزینه ۳: آلکالوئیدها در دور کردن گیاهخواران نقش دارند. این ترکیبات نوعی سد شیمیایی محسوب می‌شوند.

گزینه ۴: در مورد کرک و خار صادق نیست.

۲) پاسخ‌هایی از جنس دفاع شامل:

۱) تلاش برای جلوگیری از ورود، ۲) دفاع شیمیایی و ۳) مرگ یاخته‌ای است.

موارد الف، ب و د مربوط به تلاش برای جلوگیری از ورود، مورد ج، مربوط به دفاع شیمیایی و مورد ه، مربوط به مرگ یاخته‌ای است. دقت کنید مورد د، مربوط به پاسخ به تماس در گیاهان گوشتخوار است و جزء پاسخ‌هایی از جنس دفاع محسوب نمی‌شود.

۳) هورمونی که در ایجاد و حفظ اندام‌ها نقش دارد، هورمون محرک رشد نام دارد.

هورمون‌های تحریک‌کننده رشد شامل اکسین‌ها، سیتوکینین‌ها و جیبرلین‌ها هستند. تغییر فشار اسمزی در یاخته‌های نگهبان روزنه، توسط هورمون آبسزیک اسید انجام می‌شود. آبسزیک اسید می‌تواند مانع از رشد جوانه در شرایط نامساعد شود، دقت کنید هورمون‌های تحریک‌کننده نیز تحت شرایط خاص می‌توانند نقش بازدارندگی رشد را داشته باشند، مانند نقش هورمون اکسین در چیرگی رأسی.

بررسی سایر گزینه‌ها:

گزینه ۲: اکسین در ساخت سموم کشاورزی نقش دارد که در تولیدمثل غیرجنسی با استفاده از قلمه، برای ریشه‌زایی استفاده می‌شود. هورمون جیبرلین با به راه انداختن عمل تجزیه ذخایر آندوسپرم، در تغییر میزان این ذخایر نقش دارد. هورمون جیبرلین بر روی ریشه‌زایی در قلمه اثری ندارد.

گزینه ۳: هورمون مؤثر در تشکیل لایه جداکننده در قاعده دمبرگ هورمون اتیلن می‌باشد که در رشد میوه‌های بدون دانه نقشی ندارد.

گزینه ۴: هورمون اکسین در کاهش رشد جوانه‌های جانبی و هورمون اتیلن در ممانعت از رشد جوانه‌های جانبی نقش دارد. رشد دانه‌ها در شرایط نامساعد توسط هورمون آبسزیک اسید کاهش می‌یابد. آبسزیک اسید در فعال کردن آنزیم‌های تجزیه‌کننده دیواره نقشی ندارد.

۴) بخش‌های الف، ب، ج و د، به ترتیب، آندوسپرم، لایه گلوتن دار (لایه خارجی آندوسپرم) و رویان را نشان می‌دهند. هورمون جیبرلین از رویان آزاد شده و بر لایه گلوتن دار اثر می‌گذارد و باعث تولید و آزادسازی آنزیم‌های تجزیه‌کننده، از جمله آمیلاز می‌شود. آمیلاز آزاد شده موجب تجزیه نشاسته در آندوسپرم می‌شود. هورمون جیبرلین موجب رویش دانه می‌شود که مخالف نقش آبسزیک اسید است.

بررسی سایر گزینه‌ها:

گزینه ۱: لایه گلوتن دار بخشی از آندوسپرم (بافت ۳n) است و تعداد کروموزوم‌های آن با رویان (بافت ۲n) متفاوت است.

گزینه ۲: جیبرلین بر لایه گلوتن دار اثر می‌گذارد، نه سایر بخش‌های آندوسپرم.

گزینه ۳: آنزیم آمیلاز، نشاسته ذخیره شده در آندوسپرم را تجزیه می‌کند، اما این موضوع در رابطه با رویان صادق نیست.

۵) از اکسین‌ها و جیبرلین‌ها در تولید میوه‌های بدون دانه استفاده می‌شود. جیبرلین در گیاهان و نیز قارچ جیبرلا تولید می‌شود. اکسین نیز توسط یاخته‌های گیاهی تولید می‌شود.

بررسی سایر گزینه‌ها:

گزینه ۱: آبسزیک اسید موجب بسته شدن روزنه‌ها می‌شود، اما از سوخت فسیلی رها نمی‌شود.

گزینه ۲: در مورد اتیلن صادق نیست.

گزینه ۴: اکسین هم می‌تواند برای تولید ریشه از کال استفاده کند؛ ولی هورمون سیتوکینین در به تأخیر انداختن پیر شدن اندام‌های هوایی گیاه نقش دارد.

۶) هورمونی که در گیاهان باعث چیرگی رأسی می‌شود، اکسین نام دارد که در تقسیم سلولی دخالت ندارد، بلکه باعث رشد طولی می‌شود. گزینه‌های ۳، ۲ و ۴ به ترتیب مربوط به بر هورمون‌های جیبرلین، اتیلن و سیتوکینین هستند.

بررسی سایر گزینه‌ها:

گزینه ۲: هر دو عمل مربوط به هورمون جیبرلین است.

گزینه ۳: هورمون اتیلن باعث رسیدگی سریع میوه‌ها می‌شود. این هورمون از بافت‌های آسیب دیده نیز ترشح می‌شود.

گزینه ۴: هورمون اکسین در فرآیند ریشه‌زایی نقش دارد و با ایجاد ریشه، جذب آب و املاح برای قلمه‌ها را ممکن می‌سازد و همچنین این هورمون باعث افزایش طول ساقه‌ها می‌شود.

۷) هورمون جیبرلین سبب تولید و رها شدن آنزیم‌های گوارشی در دانه می‌شود. این آنزیم‌ها دیواره یاخته‌ها و ذخایر آندوسپرم را تجزیه می‌کنند. این هورمون در رشد میوه و رویش دانه نیز مؤثر است.

بررسی سایر گزینه‌ها:

گزینه ۲: سیتوکینین باعث کاهش سرعت پیر شدن می‌شود.

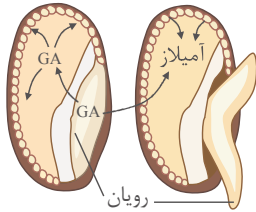
گزینه ۳: سیتوکینین باعث تشکیل ساقه از سلول‌های کال می‌شود.

گزینه ۴: آبسزیک اسید باعث بستن روزنه‌های هوایی می‌گردد.

۸) در کشاورزی از اکسین برای ریشه دار کردن قلمه‌ها استفاده می‌شود نه از سیتوکینین. بررسی گزینه‌ها: ۱ ۲ ۳ ۴ ۹

گزینه (۱): شبدر گیاهی روز بلند است، و اما با ایجاد شرایط نوری مصنوعی می‌تواند در روزهای کوتاه پاییز نیز گل دهد.
گزینه (۲): داوودی گیاهی روز کوتاه است و در روزهای کوتاه پاییز گل می‌دهد.
گزینه (۳): گوجه‌فرنگی از گیاهان بی‌تفاوت به نور است. گل‌دهی گیاهان بی‌تفاوت به نور به طول شب و روز وابسته نیست.
گزینه (۴): نور مصنوعی همانند نور طبیعی می‌تواند باعث گل‌دهی گیاهان وابسته به نور شود.

۱۰) بررسی گزینه‌ها: ۱ ۲ ۳ ۴



گزینه (۱): تولید و ترشح جیبرلین توسط رویان است. (نه آندوسپرم)
گزینه (۲): آنزیم‌های تجزیه‌کننده پکتین، جزء آنزیم‌های تجزیه‌کننده دیواره ساخته‌اند. (نه مؤثر بر ذخایر آندوسپرم)
گزینه (۳): با توجه به شکل ریشه رو، در هنگام خروج ریشه رویانی، آمیلاز از لایه گلوتن دار رها و بر آندوسپرم اثر می‌گذارد.
گزینه (۴): لایه گلوتن دار، آنزیم‌های گوارشی را تولید و رها می‌سازد.

۱۱) بررسی گزینه‌ها: ۱ ۲ ۳ ۴

گزینه ۱. پوستک یک ماده لیپیدی است که توسط یاخته‌های روپوست ساخته می‌شود و تا حدودی از ورود عوامل بیماری‌زا به گیاه جلوگیری می‌کند.
گزینه ۲. سیلیسی شدن که نوعی کانی شدن است، هم چنین چوبی شدن توان فیزیکی دیواره را در ممانعت از ورود عوامل بیماری‌زا افزایش می‌دهد.
گزینه ۳. فضای بین یاخته‌های گیاهی و منفذ روزنه، هردو راهی برای ورود عوامل بیماری‌زا به گیاه هستند.
گزینه ۴. بافت چوب پنبه، در اندام‌های مسن گیاه ساخته می‌شود.

۱۲) ۱. شبدر، گیاه روز بلند است. بنابراین برای تولیدسرلاد زایشی به شب کوتاه احتیاج دارد

رد گزینه‌های ۲ و ۴. داوودی گیاه روز کوتاه است و در طول پاییز که شب‌ها بلند می‌شوند گل می‌دهد.

۳. شبدر گیاه روز بلند و یا شب کوتاه است. بنابراین برای اینکه در شب‌های بلند پاییز گل بدهد باید طول شب بلند شکسته شود.

۱۳) مورد پ صحیح نمی‌باشد. ۱ ۲ ۳ ۴

الف. ترشح مواد چسبناک در گیاه، حرکت حشره را دشوارتر و گاه غیر ممکن می‌کند.

ب. بعضی گیاهان در پاسخ به زخم، ترکیباتی ترشح می‌کنند که در محافظت از آنها نقش دارد.

پ. گلوتن، پروتئین موجود در کریچه‌های گندم و جو است که برای رشد رویان گیاه تولید می‌شود.

ت. ترکیبات سیانید دار که در برخی گیاهان ساخته می‌شود، تنفس یاخته‌ای را قطع می‌کند و سبب مرگ یا بیماری گیاهخواران می‌شود.

ث. پوستک، از ترکیبات لیپیدی مانند کوتین ساخته شده و از ورود و نیش حشرات و عوامل بیماری‌زا به گیاه جلوگیری می‌کند.

۱۴) ۱ ۲ ۳ ۴

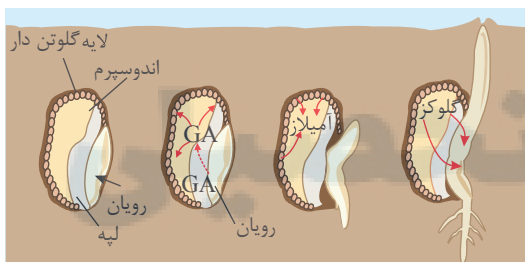
بررسی گزینه‌ها:

گزینه (۱): هورمون جیبرلین توسط رویان ساخته می‌شود سپس این هورمون، توسط لپه به آندوسپرم منتقل می‌شود و سپس بر خارجی‌ترین لایه آندوسپرم (گلوتن ساز) اثر می‌گذارد. طبق شکل روبرو

گزینه (۲): هورمون جیبرلین از رویان به قسمت‌های دیگر دانه منتقل می‌شود.

گزینه (۳): آنزیم‌های گوارشی از لایه گلوتن ساز ساخته و بر آندوسپرم اثر می‌کنند، تا مواد غذایی ذخیره شده از جمله نشاسته را تجزیه کنند.

گزینه (۴): نشاسته ابتدا در آندوسپرم تجزیه و سپس گلوکز از آندوسپرم به لپه و از لپه به رویان منتقل می‌شود.



مربوط به گزینه ۱

۱۵) هورمونی که به هنگام رویش دانه غلات، در رویان فراوان می‌شود جیبرلین است

رد گزینه‌های ۱ و ۲. جیبرلین بر خارجی‌ترین لایه آندوسپرم اثر گذاشته و سبب تولید و رها شدن آنزیم‌های گوارشی در دانه می‌شود. این آنزیم‌ها سبب تجزیه دیواره یاخته‌ها و ذخایر آندوسپرم می‌شوند.

۳. یکی از آنزیم‌های رها شده از لایه گلوتن، آمیلاز است که سبب تجزیه نشاسته به گلوکز می‌شود نه تجزیه گلوکز.

۴. این هورمون اولین بار از قارچ جیبرلا که سبب بیماری دانه رست‌های برنج شده بود، استخراج و شناسایی شد.



مرکز مشاوره تحصیلی
علیرضا افشار

راه‌های ارتباطی مرکز مشاوره

تلگرام

اینستاگرام

وبسایت




AlirezaAfsharOfficial

AlirezaAfsharOriginal

www.AlirezaAfshar.org

رزور مشاوره خصوصی علیرضا افشار

برای رزور مشاوره خصوصی تک جلسه و ماهانه
به شماره ۰۹۳۵۸۹۶۰۵۰۳ در واتساپ  پیام دهید

Afshar.xyz

آدرس تمام رسانه ها :

